



GOVT. OF NCT OF DELHI  
Delhi Subordinate Services Selection Board  
FC-18, Institutional Area, Karkardooma, Delhi – 110092.  
[www.dsssb.delhigovt.nic.in](http://www.dsssb.delhigovt.nic.in)

|                  |   |
|------------------|---|
| Participant Name | RAJAT MISHRA  |
| Test Center Name | Adarsh Pariksha Kendra CENTER B - Gate No 2 - Noida Sector 64 |
| Test Date        | 30/04/2026  |
| Test Time        | 5:00 PM - 7:00 PM   |
| Subject          | Multi Tasking Staff   |

Section : General intelligence and Reasoning Ability

Q.1 सात बक्से A, B, C, D, E, F और G एक के ऊपर एक रखे गए हैं, लेकिन जरूरी नहीं है कि इसी क्रम में रखे गए हों। G के ऊपर केवल छह बक्से रखे गए हैं। E और B के बीच केवल चार बक्से रखे गए हैं। D को नीचे से चौथे स्थान पर रखा गया है। C को F के ठीक ऊपर लेकिन B के नीचे रखा गया है। C के नीचे कितने बक्से रखे गए हैं?

- Ans
- 1. दो
  - 2. पांच
  - 3. चार
  - 4. तीन

Q.2 दिए गए कथनों और निष्कर्षों को ध्यानपूर्वक पढ़ें। आपको दिए गए कथनों को सत्य मानना होगा, भले ही वे सामान्य रूप से ज्ञात तथ्यों से भिन्न प्रतीत हों। आपको यह निर्धारित करना होगा कि दिए गए निष्कर्षों में से कौन-सा निष्कर्ष कथनों तार्किक रूप से अनुसरण करता है।

कथन: कुछ खरगोश, बाघ हैं। सभी बाघ, शेर हैं।  
निष्कर्ष (I): कुछ खरगोश, शेर हैं।  
निष्कर्ष (II): सभी शेर, बाघ हैं।

- Ans
- 1. केवल निष्कर्ष (I) अनुसरण करता है
  - 2. निष्कर्ष (I) और (II) दोनों अनुसरण करते हैं
  - 3. न तो निष्कर्ष (I) और न ही (II) अनुसरण करता है
  - 4. केवल निष्कर्ष (II) अनुसरण करता है

Q.3 एक निश्चित कूट भाषा में,  
A × B का अर्थ है कि 'A, B की पुत्री है'  
A - B का अर्थ है कि 'A, B की पत्नी है'  
A / B का अर्थ है कि 'A, B की बहन है'  
A + B का अर्थ है कि 'A, B का पति है'

उपरोक्त के आधार पर, यदि 'P + Q / R × S - T' है, तो P का T से क्या संबंध है?

- Ans
- 1. बहन का पति
  - 2. पुत्री का पति
  - 3. बहन का पुत्र
  - 4. पुत्री का पुत्र

Q.4 उत्तर की ओर अभिमुख 51 विद्यार्थियों की एक पंक्ति में, OP दाएं छोर से 21वें स्थान पर है। यदि QR, OP के बाएं 11वें स्थान पर है, तो पंक्ति के बाएं छोर से QR का स्थान क्या होगा?

- Ans
- 1. 27
  - 2. 19
  - 3. 17
  - 4. 20

Q.5 एक निश्चित कूट भाषा में, 'BEST' को '7469' के रूप में कूटबद्ध किया जाता है और 'SUNG' को '3715' के रूप में कूटबद्ध किया जाता है। दी गई कूट भाषा में 'S' के लिए कूट क्या है?

- Ans
- 1. 5
  - 2. 3
  - 3. 6
  - 4. 7

Q.6 इस प्रश्न में, एक कथन के बाद दो निष्कर्ष दिए गए हैं, जिन्हें I और II के रूप में क्रमांकित किया गया है। दिए गए कथन के आधार पर ज्ञात कीजिए कि कौन-से निष्कर्ष सत्य हैं।

कथन :  $H < G < U < B > F$

निष्कर्ष:

I.  $F > G$

II.  $H < B$

- Ans
- 1. केवल I सत्य है
  - 2. न तो I और II सत्य है
  - 3. केवल II सत्य है
  - 4. I और II दोनों सत्य हैं

Q.7 शब्द BEHAVIOR में प्रत्येक स्वर को अंग्रेजी वर्णमाला क्रम में उसके ठीक बाद वाले अक्षर से प्रतिस्थापित कर दिया जाता है और प्रत्येक व्यंजन को अंग्रेजी वर्णमाला क्रम में उसके ठीक पहले वाले अक्षर से प्रतिस्थापित कर दिया जाता है। इस प्रकार बने अक्षरों के नए समूह में निम्नलिखित में से कौन-सा अक्षर दाएं से तीसरे स्थान पर आएगा?

- Ans
- 1. J
  - 2. A
  - 3. K
  - 4. M

Q.8 सात व्यक्ति - A, B, C, D, E, F और G, उत्तर की ओर अभिमुख होकर एक पंक्ति में बैठे हैं। B के दाएँ केवल चार व्यक्ति बैठे हैं। E के बाएँ केवल चार व्यक्ति बैठे हैं। F और E का निकटतम पड़ोसी G है। C, A के दाएँ तीसरे स्थान पर बैठा है।

D के दाएँ कितने व्यक्ति बैठे हैं?

- Ans
- 1. तीन
  - 2. पाँच
  - 3. दो
  - 4. चार

Q.9 किसी निश्चित कूट भाषा में,  
A < B का अर्थ है कि 'A, B की पत्नी है',  
A @ B का अर्थ है कि 'A, B की बहन है',  
A ! B का अर्थ है कि 'A, B का पिता है',  
A x B का अर्थ है कि 'A, B का भाई है'।

उपरोक्त के आधार पर, यदि 'H @ A x N < D ! S' है, तो H का S से क्या संबंध है?

- Ans
- 1. माता की माता
  - 2. माता का पति
  - 3. माता का पिता
  - 4. माता की बहन

Q.10 यदि शब्द ZEBRINE के प्रत्येक अक्षर को उल्टे वर्णमाला क्रम में व्यवस्थित किया जाए तो कितने अक्षरों की स्थिति अपरिवर्तित रहेगी?

- Ans
- 1. तीन
  - 2. दो
  - 3. एक
  - 4. चार

Q.11 एक कथन और उसके बाद I और II से क्रमांकित दो निष्कर्ष दिए गए हैं। ज्ञात कीजिए कि दिए गए कथन के आधार पर कौन-से निष्कर्ष सत्य हैं।

कथन:  $T \geq V > D < F \leq S$

निष्कर्ष:

I.  $D < S$

II.  $F < T$

Ans  1. I और II, दोनों सत्य हैं

2. केवल I सत्य है

3. न तो I और न ही II सत्य है

4. केवल II सत्य है

Q.12 निम्नलिखित अक्षर, प्रतीक श्रृंखला का संदर्भ लीजिए और दिए गए प्रश्न का उत्तर दीजिए। गिनती केवल बाएं से दाएं की जानी है।

(बाएं) A % B = C D E K ! @ N / F L P Q \$ \* # S T U (दाएं)

ऐसे कितने अक्षर हैं, जिनमें से प्रत्येक के ठीक पहले एक प्रतीक और ठीक बाद एक अन्य प्रतीक है?

Ans  1. एक

2. एक भी नहीं

3. दो

4. तीन

Q.13 किसी निश्चित कूट भाषा में, 'visit cap world' को 'fz iw tv' के रूप में और 'vet world value' को 'by gv iw' के रूप में कूटबद्ध किया जाता है। दी गई भाषा में 'world' को कैसे कूटबद्ध किया जाएगा?

Ans  1. iw

2. tv

3. by

4. fz

Q.14 निम्नलिखित श्रृंखला का संदर्भ लीजिए और दिए गए प्रश्न का उत्तर दीजिए (सभी संख्याएँ केवल एक-अंकीय संख्याएँ हैं। गिनती बाएं से दाएँ की जानी चाहिए)।

(बाएँ) 3 8 2 3 7 6 4 2 6 9 2 7 2 3 6 1 4 2 3 5 5 7 9 7 2 6 6 (दाएँ)

ऐसी कितनी विषम संख्याएँ हैं, जिनमें से प्रत्येक के ठीक पहले एक विषम संख्या है और ठीक बाद एक सम संख्या है?

Ans  1. 1

2. 2

3. 4

4. 3

Q.15 नीचे दी गई अक्षर-प्रतीक श्रृंखला को देखें और प्रश्न का उत्तर दें। गिनती केवल बाएं से दाएँ ही करनी है।

(बाएँ) S N \$ \$ F \$ G © Y X M \* M G # € \$ & M # Y Y (दाएँ)

ऐसे कितने अक्षर हैं, जिनमें से प्रत्येक के ठीक पहले एक प्रतीक है और ठीक बाद भी एक प्रतीक है?

Ans  1. 2

2. 4

3. 5

4. 3

Q.16 छह व्यक्ति D, E, F, I, J और U एक गोल मेज के परितः उसके केंद्र की ओर अभिमुख होकर बैठे हैं। F, U के दाएं दूसरे स्थान पर बैठा है। J, U और D दोनों का निकटतम पड़ोसी है। I, D का निकटतम पड़ोसी नहीं है। E के ठीक दाएं कौन बैठा है?

Ans  1. F

2. U

3. J

4. D

Q.17 P, Q, R, S, T, U और V में से प्रत्येक की परीक्षा सोमवार से शुरू होकर रविवार को समाप्त होने वाले एक ही सप्ताह के अलग-अलग दिन है। P के बाद केवल पांच व्यक्तियों की परीक्षा है। Q की परीक्षा सोमवार को नहीं है। S की परीक्षा रविवार को नहीं है। T की परीक्षा शनिवार को है। U की परीक्षा R से ठीक पहले लेकिन Q के बाद है। V और U के बीच कितने व्यक्तियों की परीक्षा थी?

- Ans  1. दो  
 2. तीन  
 3. पांच  
 4. एक

Q.18 निम्नलिखित अक्षर, प्रतीक श्रृंखला का संदर्भ लीजिए और दिए गए प्रश्न का उत्तर दीजिए। गिनती केवल बाएं से दाएं की जानी चाहिए।

(बाएं) H ! G A @ Z % D & F J < L U / T ? P + K > E (दाएं)

ऐसे कितने प्रतीक हैं, जिनमें से प्रत्येक के ठीक पहले एक स्वर है और ठीक बाद में एक व्यंजन भी है?

- Ans  1. एक भी नहीं  
 2. दो  
 3. एक  
 4. तीन

Q.19 एक निश्चित कूट भाषा में, 'FLOW' को '8264' के रूप में कूटबद्ध किया जाता है और 'WIRE' को '3587' के रूप में कूटबद्ध किया जाता है। दी गई कूट भाषा में 'W' का कूट क्या है?

- Ans  1. 3  
 2. 5  
 3. 4  
 4. 8

Q.20 D, E, F, G, M, N और O, में से प्रत्येक की परीक्षा सोमवार से शुरू होकर रविवार को समाप्त होने वाले एक ही सप्ताह के अलग-अलग दिन है। E और D के बीच केवल दो व्यक्तियों की परीक्षा है। M और N के बीच केवल दो व्यक्तियों की परीक्षा है। G और N के बीच केवल दो व्यक्तियों की परीक्षा है। G के बाद किसी की परीक्षा नहीं है। F की परीक्षा O से पहले किसी दिन है। D की परीक्षा O के ठीक बाद है। बुधवार को किसकी परीक्षा है?

- Ans  1. M  
 2. D  
 3. E  
 4. O

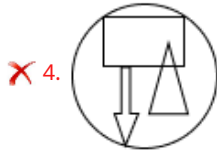
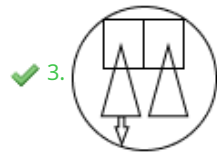
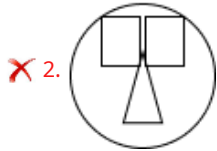
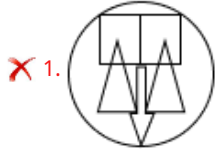
Section : General intelligence and Reasoning Ability1

Q.1 उस विकल्प आकृति का चयन कीजिए, जिसमें दी गई आकृति (X) उसके एक भाग के रूप में अंतर्निहित है (घुमाने की अनुमति नहीं है)।



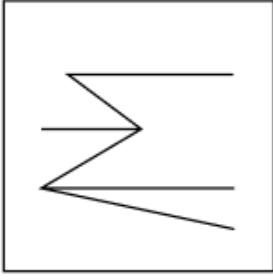
(X)

Ans



Blackbook

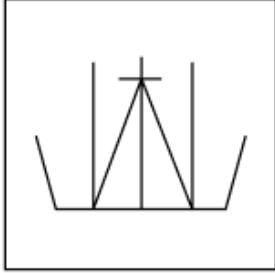
Q.2 उस विकल्प आकृति का चयन कीजिए जिसमें दी गई आकृति (X) उसके भाग के रूप में अंतर्निहित है। (घूर्णन की अनुमति नहीं है।)



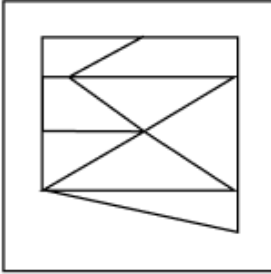
(X)

Ans

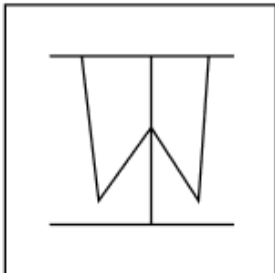
✗ 1.



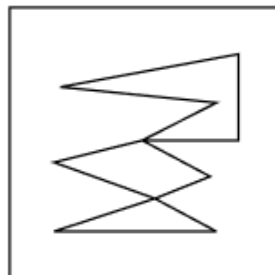
✓ 2.



✗ 3.



✗ 4.



Q.3 दिए गए कथनों और निष्कर्षों का ध्यानपूर्वक अध्ययन कीजिए। आपको दिए गए कथनों को सत्य मानना है, भले ही वे सामान्यतः ज्ञात तथ्यों से भिन्न प्रतीत होते हों। आपको यह निर्धारित करना है कि दिए गए कथनों से कौन-सा/से निष्कर्ष कथनों का तार्किक रूप से अनुसरण करते हैं/हैं।

कथन: सभी चम्मच, कांटे हैं। सभी कटोरे, कांटे हैं।

निष्कर्ष (I): कुछ चम्मच, कटोरे हैं।

निष्कर्ष (II): कुछ कांटे, कटोरे हैं।

Ans ✗ 1. निष्कर्ष (I) और (II) दोनों अनुसरण करते हैं

✗ 2. केवल निष्कर्ष (I) अनुसरण करता है

✓ 3. केवल निष्कर्ष (II) अनुसरण करता है

✗ 4. न तो निष्कर्ष (I) और न ही (II) अनुसरण करता है

Q.4 यदि संख्या 4587139 के प्रत्येक अंक को बाएँ से दाएँ अवरोही क्रम में व्यवस्थित किया जाए, तो मूल संख्या की तुलना में कितने अंकों का स्थान अपरिवर्तित रहेगा?

- Ans
- 1. दो
  - 2. एक
  - 3. तीन
  - 4. एक भी नहीं

Q.5 अंग्रेजी वर्णमाला क्रम के आधार पर, निम्नलिखित चार अक्षर-समूह युग्मों में से तीन एक निश्चित तरीके से एकसमान हैं और इस प्रकार वे एक युग्म बनाते हैं। कौन-सा अक्षर-समूह युग्म उस युग्म से संबंधित नहीं है? (नोट: असंगत अक्षर-समूह युग्म, व्यंजनों/स्वरों की संख्या या उनकी स्थिति पर आधारित नहीं है।)

- Ans
- 1. XT - RN
  - 2. UQ - OK
  - 3. RN - LH
  - 4. PH - LK

Q.6 यदि संख्या 7143586 के प्रत्येक विषम अंक में 2 जोड़ा जाए और प्रत्येक सम अंक में से 3 घटाया जाए, तो इस प्रकार बनी संख्या में सबसे बड़े और सबसे छोटे अंक के बीच अंतर कितना होगा?

- Ans
- 1. 4
  - 2. 2
  - 3. 6
  - 4. 8

Q.7 दी गई श्रृंखला में '?' के स्थान पर क्या आना चाहिए?  
26 42 58 74 90 ?

- Ans
- 1. 109
  - 2. 101
  - 3. 106
  - 4. 103

Q.8 निम्नलिखित समीकरण में '+' और '-' को आपस में बदल देने पर तथा 'x' और '÷' को आपस में बदल देने पर '?' के स्थान पर क्या आएगा?  
 $47 \times 2 \div 2 - 31 + 31 = ?$

- Ans
- 1. 45
  - 2. 48
  - 3. 49
  - 4. 47

Q.9 निम्नलिखित संख्या-युग्मों में, पहली संख्या पर कुछ गणितीय संक्रियाएँ करके दूसरी संख्या प्राप्त की गई है। X और Y को किन संख्याओं द्वारा प्रतिस्थापित किया जाना चाहिए ताकि :: के बाईं ओर की दो संख्याओं द्वारा अनुसरण किया जाने वाला पैटर्न, :: के दाईं ओर की दो संख्याओं द्वारा अनुसरण किए जाने वाले पैटर्न के समान हो?

(नोट: संख्याओं को उनके घटक अंकों में तोड़े बिना, पूर्ण संख्याओं पर संक्रियाएँ की जानी चाहिए। उदाहरण के लिए 13 को लीजिए - 13 पर संक्रियाएँ जैसे कि 13 में जोड़ना/घटाना/गुणा करना आदि 13 पर की जा सकती हैं। 13 को 1 व 3 में तोड़ना और फिर 1 व 3 पर गणितीय संक्रियाएँ करने की अनुमति नहीं है।)

X : 134 :: 21 : Y

- Ans
- 1. X = 18, Y = 155
  - 2. X = 17, Y = 155
  - 3. X = 17, Y = 147
  - 4. X = 18, Y = 147

Q.10 अंग्रेजी वर्णमाला क्रम के आधार पर, निम्नलिखित चार अक्षर-समूह युग्मों में से तीन एक निश्चित तरीके से एकसमान हैं और इस प्रकार वे एक ग्रुप बनाते हैं। कौन-सा अक्षर-समूह युग्म उस ग्रुप से संबंधित नहीं है? (नोट: असंगत अक्षर-समूह युग्म, व्यंजनों/स्वरों की संख्या या उनकी स्थिति पर आधारित नहीं है।)

- Ans
- ✓ 1. GM - OQ
  - ✗ 2. BH - JK
  - ✗ 3. QW - YZ
  - ✗ 4. LR - TU

Q.11 एक निश्चित तरीके से EN 48 का संबंध BK 52 से है। उसी प्रकार, HJ 29 का संबंध EG 33 से है। उसी तर्क का अनुसरण करते हुए, MQ 18 का संबंध निम्नलिखित में से किससे है?

- Ans
- ✗ 1. FN 20
  - ✗ 2. RN 24
  - ✗ 3. KM 10
  - ✓ 4. JN 22

Q.12 अंग्रेजी वर्णमाला क्रम के आधार पर, निम्नलिखित चार अक्षर-समूह युग्मों में से तीन एक निश्चित तरीके से एकसमान हैं और इस प्रकार एक ग्रुप बनाते हैं। कौन-सा अक्षर-समूह युग्म, उस ग्रुप से संबंधित नहीं है? (नोट: असंगत अक्षर-समूह युग्म, व्यंजनों/स्वरों की संख्या या उनकी स्थिति पर आधारित नहीं है।)

- Ans
- ✗ 1. PT - QR
  - ✗ 2. UY - VW
  - ✗ 3. KO - LM
  - ✓ 4. AE - BD

Q.13 निम्नलिखित संख्या-युग्मों में, पहली संख्या पर निश्चित गणितीय संक्रियाएँ करके दूसरी संख्या प्राप्त की जाती है। X और Y को किन संख्याओं से प्रतिस्थापित किया जाना चाहिए ताकि :: के बाईं ओर की दो संख्याओं द्वारा अनुसरण किया गया पैटर्न, :: के दाईं ओर की दो संख्याओं द्वारा अनुसरण किए गए पैटर्न के समान हो जाए? (नोट: संख्याओं को उसके घटक अंकों में तोड़े बिना, केवल पूर्ण संख्याओं पर संक्रियाएँ की जानी हैं। उदाहरण के लिए 13 को लीजिए - 13 पर संक्रियाएँ, जैसे कि 13 में जोड़ना / घटाना / गुणा करना आदि, की जा सकती हैं। 13 को 1 और 3 में तोड़ने और फिर 1 और 3 पर गणितीय संक्रियाएँ करने की अनुमति नहीं है।)

X : 22 :: 171 : Y

- Ans
- ✗ 1. X = 198 , Y = 18
  - ✗ 2. X = 188 , Y = 19
  - ✗ 3. X = 188 , Y = 16
  - ✓ 4. X = 198 , Y = 19

Q.14 उस युग्म का चयन कीजिए जो नीचे दिए गए दो युग्मों द्वारा अनुसरण किए गए पैटर्न के समान पैटर्न का अनुसरण करता है। दोनों युग्म समान पैटर्न का अनुसरण करते हैं।

PNR-SQU  
HFJ-KIM

- Ans
- ✗ 1. URU-XVZ
  - ✗ 2. URU-WUY
  - ✗ 3. USW-WVY
  - ✓ 4. YWA-BZD

Q.15 यदि संख्या 4752138 के प्रत्येक विषम अंक में 2 जोड़ दिया जाए और प्रत्येक सम अंक में से 2 घटा दिया जाए, तो इस प्रकार बनी नई संख्या के सबसे बड़े और सबसे छोटे अंकों का योग कितना होगा? (संख्या में अंकों की स्थिति के आधार पर विषम/सम अंकों का निर्धारण नहीं किया जाना है)

- Ans
- ✓ 1. 9
  - ✗ 2. 6
  - ✗ 3. 8
  - ✗ 4. 7

Q.16 दी गई श्रृंखला में प्रश्न-चिह्न (?) के स्थान पर क्या आना चाहिए?

113, 141, 179, ?, 285, 353

- Ans
- 1. 217
  - 2. 247
  - 3. 237
  - 4. 227

Q.17 उस युग्म का चयन कीजिए जो नीचे दिए गए युग्मों के समान पैटर्न का अनुसरण करता है। दोनों युग्म समान पैटर्न का अनुसरण करते हैं।

GFJ-MLP  
HGK-NMQ

- Ans
- 1. AZD-GFJ
  - 2. AZD-FFI
  - 3. AYB-GFJ
  - 4. AYB-FEI

Q.18 दी गई श्रृंखला में '?' के स्थान पर क्या आना चाहिए?  
10, 30, 150, 450, 2250, ?

- Ans
- 1. 11250
  - 2. 5500
  - 3. 15000
  - 4. 6750

Q.19 निम्नलिखित संख्या-युग्मों में, पहली संख्या पर निश्चित गणितीय संक्रियाएँ करके दूसरी संख्या प्राप्त की जाती है। X और Y को किन संख्याओं से प्रतिस्थापित किया जाना चाहिए ताकि :: के बाएं ओर की दो संख्याओं द्वारा अनुसरण किया गया पैटर्न, :: के दाएं ओर की दो संख्याओं द्वारा अनुसरण किए गए पैटर्न के समान हो जाए? (नोट: संख्याओं को उसके घटक अंकों में तोड़े बिना, केवल पूर्ण संख्याओं पर संक्रियाएँ की जानी हैं। उदाहरण के लिए 13 को लीजिए - 13 पर संक्रियाएँ, जैसे कि 13 में जोड़ना / घटाना / गुणा करना आदि, की जा सकती हैं। 13 को 1 और 3 में तोड़ने और फिर 1 और 3 पर गणितीय संक्रियाएँ करने की अनुमति नहीं है।)  
X : 112 :: 192 : Y

- Ans
- 1. X = 175, Y = 119
  - 2. X = 185, Y = 119
  - 3. X = 165, Y = 129
  - 4. X = 195, Y = 129

Q.20 निम्नलिखित समीकरण में '+' और '-' को आपस में बदल देने पर तथा 'x' और '+' को आपस में बदल देने पर '?' के स्थान पर क्या आएगा?

$75 - 7 \div 64 \times 8 + 12 = ?$

- Ans
- 1. 115
  - 2. 123
  - 3. 127
  - 4. 119

#### Section : General Awareness

Q.1 2026 में पुरुषों की 5 km ओपन वाटर स्विमिंग स्पर्धा में स्वर्ण पदक किसने जीता?

- Ans
- 1. प्रशंस एचएम (Prashans HM)
  - 2. अनुराग सिंह (Anurag Singh)
  - 3. तेजस गौंस (Tejas Gauns)
  - 4. ध्रुपद रामकृष्ण (Dhrupad Ramakrishna)

Q.2 संयुक्त सैन्य अभ्यास 'युद्ध अभ्यास 2026' में, भारत के साथ किस देश ने भाग लिया?

- Ans
- 1. जापान
  - 2. रूस
  - 3. फ्रांस
  - 4. संयुक्त राज्य अमेरिका

Q.3 करेंसी नोटों और सिक्कों को \_\_\_\_\_ कहा जाता है क्योंकि देश के किसी भी नागरिक के द्वारा इसके किसी भी प्रकार के संव्यवहार को अस्वीकार नहीं किया जा सकता है।

- Ans
- 1. बॉन्ड
  - 2. वैध मुद्रा
  - 3. व्यापक मुद्रा
  - 4. तरलता पाश

Q.4 नवंबर 2025 में जारी रिपोर्ट के अनुसार, एशियाई युवा खेलों में भारत द्वारा निम्नलिखित में से कौन-सी उपलब्धि दर्ज की गई थी?

- Ans
- 1. रिकॉर्ड तोड़ पदक तालिका (Record breaking medal tally)
  - 2. पहला मेजबान राष्ट्र (First host nation)
  - 3. पदार्पण पदक तालिका (Debut medal tally)
  - 4. महाद्वीपीय रैंकिंग में हानि (Continental ranking loss)

Q.5 निम्नलिखित में से कौन-सी स्थिति खुली बेरोजगारी (open unemployment) को दर्शाती है?

- Ans
- 1. एक किसान, जो आवश्यकता से अधिक श्रमिकों को काम पर रख रहा है।
  - 2. काम करने का इच्छुक लेकिन नौकरी खोजने में असमर्थ व्यक्ति
  - 3. केवल फसल कटाई के मौसम के दौरान नियोजित एक श्रमिक
  - 4. एक कर्मचारी, जो अपेक्षा से कम घंटे काम कर रहा है

Q.6 स्मृति मंधाना को किस टूर्नामेंट में जीत दिलाने में उनकी भूमिका के लिए BBC इंडियन स्पोर्ट्सवुमन ऑफ द ईयर 2025 का पुरस्कार प्रदान किया गया?

- Ans
- 1. कॉमनवेल्थ गेम्स 2026
  - 2. एशिया कप 2024
  - 3. ICC महिला T20 विश्व कप 2024
  - 4. ICC महिला क्रिकेट विश्व कप 2025

Q.7 निम्नलिखित में से किससे, बड़े पैमाने की किफायतें (economies of scale) प्राप्त होती हैं?

- Ans
- 1. प्रति-इकाई लागत में वृद्धि
  - 2. कुल उत्पादन में कमी
  - 3. प्रति इकाई लागत में कमी के साथ उत्पादन में वृद्धि
  - 4. अस्थायी कर्मचारियों की नियुक्ति

Q.8 आधुनिक भारतीय इतिहास में, भारत में महात्मा गांधी के प्रारंभिक राजनीतिक जीवन के दौरान उनके स्वीकृत राजनीतिक मार्गदर्शक (गुरु) के रूप में किसे जाना जाता है?

- Ans
- 1. बाल गंगाधर तिलक
  - 2. लाला लाजपत राय
  - 3. बिपिन चंद्र पाल
  - 4. गोपाल कृष्ण गोखले

Q.9 2011 में शुरू की गई निम्नलिखित योजनाओं में से किस योजना का लक्ष्य ग्रामीण गरीब महिलाओं को स्वयं सहायता समूहों (SHGs) में संगठित करके और उनकी आय तथा जीवन की गुणवत्ता में सुधार के लिए आर्थिक गतिविधियों में सहायता करके उन्हें सशक्त बनाना है?

- Ans
- 1. दीनदयाल अंत्योदय योजना - राष्ट्रीय ग्रामीण आजीविका मिशन
  - 2. प्रधानमंत्री रोजगार सृजन कार्यक्रम
  - 3. प्रधानमंत्री आवास योजना-ग्रामीण
  - 4. दीन दयाल उपाध्याय ग्रामीण कौशल्य योजना

Q.10 भारत में स्टॉक एक्सचेंजों को कौन-सी संस्था विनियमित करती है?

- Ans
- 1. NABARD
  - 2. RBI
  - 3. IRDAI
  - 4. SEBI

Q.11 धम्मपद जैसे बौद्ध दार्शनिक ग्रंथों में सामान्यतः किस प्राचीन भाषा का उपयोग किया गया था?

- Ans
- 1. अपभ्रंश
  - 2. संस्कृत
  - 3. प्राकृत
  - 4. पालि

Q.12 सर्वाइकल कैंसर के विरुद्ध लड़ाई में, 23 अप्रैल, 2025 को भारत में लॉन्च किए गए HPV परीक्षण किट का क्या महत्व है?

- Ans
- 1. ये केवल HPV के दुर्लभ प्रकारों पर ही केंद्रित हैं।
  - 2. इन्हें केवल शहरी क्षेत्रों में उपयोग के लिए डिज़ाइन किया गया है।
  - 3. ये भारत में विकसित की गई पहली HPV परीक्षण किट हैं।
  - 4. ये सर्वाइकल कैंसर स्क्रीनिंग के लिए लागत प्रभावी और कुशल समाधान प्रदान करती हैं।

Q.13 किसने कहा था कि "मैं हिंदू धर्म में पैदा हुआ था लेकिन मैं एक हिंदू के रूप में नहीं मरूंगा"?

- Ans
- 1. गोपाल बाबा वालंगकर
  - 2. ज्योतिराव फुले
  - 3. डॉ. भीम राव अंबेडकर
  - 4. ईरोड वेंकटप्पा रामासामी

Q.14 निम्नलिखित में से कौन-सा विकल्प, 'अधिदिष्ट मुद्रा (fiat money)' को सर्वोत्तम रूप से परिभाषित करता है?

- Ans
- 1. सोने या अन्य वस्तुओं द्वारा समर्थित मुद्रा
  - 2. सरकार द्वारा जारी कानूनी निविदा जिसका कोई आंतरिक मूल्य नहीं है
  - 3. वह धन जो अपने भौतिक गुणों के कारण आंतरिक मूल्य रखता है
  - 4. वह धन जिसे सदैव विदेशी मुद्रा में परिवर्तित किया जा सकता है

Q.15 ब्रिटिश औपनिवेशिक शासन की आर्थिक आलोचना प्रस्तुत करने वाली पुस्तक 'पॉवर्टी एंड अन-ब्रिटिश रूल इन इंडिया (Poverty and Un-British Rule in India)' किसने लिखी थी?

- Ans
- 1. बाल गंगाधर तिलक
  - 2. दादाभाई नौरोजी
  - 3. सुरेंद्रनाथ बनर्जी
  - 4. बिपिन चंद्र पाल

Q.16 निम्नलिखित में से किस आंदोलन के लिए वल्लभभाई पटेल ने राष्ट्रीय मान्यता प्राप्त की, किसान आंदोलन में महत्वपूर्ण भूमिका निभाई और "सरदार" की उपाधि अर्जित की?

- Ans
- 1. खेड़ा सत्याग्रह
  - 2. व्यक्तिगत सत्याग्रह
  - 3. रॉलेट सत्याग्रह
  - 4. बारडोली सत्याग्रह

Q.17 केंद्रीय जल आयोग (CWC) के अलावा, C-FLOOD पोर्टल के विकास में किन अन्य संगठनों ने मिलकर काम किया?

- Ans
- 1. C-DAC, पुणे और राष्ट्रीय सुदूर संवेदन केंद्र (NRSC)
  - 2. भारतीय उष्णदेशीय मौसम विज्ञान संस्थान और NIT त्रिची
  - 3. DRDO और राष्ट्रीय मध्यम अवधि मौसम पूर्वानुमान केंद्र
  - 4. IIT मद्रास और ISRO

Q.18 निम्नलिखित में से किसने 1857 के विद्रोह के दौरान अंग्रेजों का समर्थन किया, जिसने विद्रोह के दमन में योगदान दिया?

- Ans
- 1. किसान, जमींदार और सिपाही
  - 2. बहादुर शाह जफर, नाना साहब और कुंवर सिंह
  - 3. झांसी की रानी, तात्या टोपे और नाना साहब
  - 4. सिंधिया, होल्कर और निजाम

Q.19 मार्च 2025 में, भारतीय प्रौद्योगिकी संस्थान, मद्रास में स्पेस कूलिंग एंड थर्मल इंजीनियरिंग को बढ़ावा देने के लिए किस केंद्र का उद्घाटन किया गया था?

- Ans
- 1. भारत क्रायोटेक रिसर्च हब (Bharat CryoTech Research Hub)
  - 2. आर्यभट्ट प्रोपल्शन लैब (Aryabhata Propulsion Lab)
  - 3. स्पेस थर्मल इंजीनियरिंग फैसिलिटी (Space Thermal Engineering Facility)
  - 4. श्री एस. रामकृष्णन सेंटर ऑफ एक्सीलेंस (Shri S Ramakrishnan Centre of Excellence)

Q.20 फरवरी 2026 में VoicERA को किस प्रकार के AI स्टैक के रूप में विकसित किया गया है?

- Ans
- 1. ब्लॉकचेन-बेस्ड AI स्टैक (Blockchain-based AI Stack)
  - 2. क्लोस्ड-सोर्स AI स्टैक (Closed-source AI Stack)
  - 3. ओपन-सोर्स AI स्टैक (Open-source AI Stack)
  - 4. प्रोप्राइटरी AI स्टैक (Proprietary AI Stack)

#### Section : General Awareness1

Q.1 निम्नलिखित में से कौन-सा भारत का सबसे बड़ा नदी डेल्टा है?

- Ans
- 1. गोदावरी डेल्टा
  - 2. महानदी डेल्टा
  - 3. सुंदरवन डेल्टा
  - 4. कृष्णा डेल्टा

Q.2 भोजन पकाने की निम्नलिखित में से किस विधि में, बड़े हुए दाब के अधीन 100°C से अधिक तापमान पर भोजन पकाया जाता है?

- Ans
- 1. भापन
  - 2. प्रेशर कुकिंग
  - 3. सिमसिमाना
  - 4. उबालना

Q.3 कक्षा में चर्चा के दौरान, एक विद्यार्थी दावा करता है कि किसी मानव शिशु का जेंडर/लिंग केवल माता द्वारा निर्धारित होता है। मूल आनुवंशिकी की समझ के आधार पर, निम्नलिखित में से कौन-सी व्याख्या इस मिथ्या-धारणा को दूर करती है?

- Ans
- 1. दोनों जनक द्वारा X और Y गुणसूत्रों का समान रूप से योगदान किया जाता है, जो शिशु का जेंडर/लिंग निर्धारण करता है।
  - 2. शिशु का जेंडर/लिंग, गर्भावस्था के दौरान की पर्यावरणीय परिस्थितियों पर निर्भर करता है।
  - 3. शिशु के जेंडर/लिंग निर्धारण में पिता के गुणसूत्र की कोई भूमिका नहीं होती है।
  - 4. पिता द्वारा एक X या एक Y गुणसूत्र का योगदान किया जाता है, जो शिशु के जेंडर/लिंग का निर्धारण करता है।

Q.4 2022-23 में रबर का सबसे बड़ा उत्पादक राज्य कौन-सा था?

- Ans
- 1. केरल
  - 2. आंध्र प्रदेश
  - 3. कर्नाटक
  - 4. ओडिशा

Q.5 भारतीय जनगणना 2011 के अनुसार, भारत के किस राज्य में सबसे अधिक मुस्लिम आबादी है?

- Ans
- 1. बिहार
  - 2. उत्तर प्रदेश
  - 3. पंजाब
  - 4. मणिपुर

Q.6 निम्नलिखित में से कौन-सा, क्षुदांत्र में दीर्घरोम (villi) की भूमिका को सर्वोत्तम रूप से वर्णित करता है?

- Ans
- 1. पाचन एंजाइम का उत्पादन करना
  - 2. भोजन पाचन शुरू करना
  - 3. अवशोषण के लिए सतही क्षेत्रफल को बढ़ाना
  - 4. शरीर में वसा संग्रहीत करना

Q.7 फाह्यान (Faxian) के विवरणों के अनुसार, पेशावर के निकट शाह-जी-की-ढेरी स्थित स्तूप का निर्माण निम्न में से किसने करवाया था?

- Ans
- 1. अशोक
  - 2. चंद्रगुप्त मौर्य
  - 3. खारवेल
  - 4. कनिष्क

Q.8 1978 के 44वें संशोधन द्वारा कौन सा मौलिक अधिकार समाप्त कर दिया गया था?

- Ans
- 1. शिक्षा का अधिकार
  - 2. संपत्ति का अधिकार
  - 3. धर्म का अधिकार
  - 4. समानता का अधिकार

Q.9 संसद के किसी भी सदन के लिए आवश्यक गणपूर्ति (quorum) कितनी है?

- Ans
- 1. कुल सदस्यों का आधा हिस्सा
  - 2. सदस्यों का दसवां हिस्सा
  - 3. सदस्यों का एक-तिहाई हिस्सा
  - 4. सदस्यों का एक-चौथाई हिस्सा

Q.10 निम्नलिखित आयोगों को उनकी स्थापना के वर्ष के सही कालानुक्रम में व्यवस्थित करें।

1. धर आयोग (Dhar Commission)
2. जेवीपी समिति (JVP Committee)
3. फजल अली आयोग (Fazl Ali Commission)

- Ans
- 1. 3-2-1
  - 2. 2-3-1
  - 3. 1-2-3
  - 4. 1-3-2

Q.11 भारतीय संविधान के मौलिक अधिकारों से संपत्ति का अधिकार किस संविधान संशोधन के माध्यम से हटा दिया गया था?

- Ans
- 1. 42वें संशोधन
  - 2. 44वें संशोधन
  - 3. 43वें संशोधन
  - 4. 41वें संशोधन

Q.12 निम्नलिखित में से किसे 2004 में भारत की शास्त्रीय भाषा के रूप में आधिकारिक तौर पर मान्यता दी गई?

- Ans
- 1. हिंदी
  - 2. गुजराती
  - 3. मराठी
  - 4. तमिल

Q.13 किण्वन प्रक्रिया के दौरान गूंथे हुए आटे (dough) में क्या परिवर्तन होता है?

- Ans
- 1. किण्वन के दौरान स्टार्च अपरिवर्तित रहता है।
  - 2. कार्बन डाइऑक्साइड गैस के फंसने से इसका आयतन बढ़ जाता है।
  - 3. आर्द्रता वाष्पित होने से यह शुष्क और भंगुर हो जाता है।
  - 4. एन्जाइमी विघटन के कारण यह द्रव अवस्था में परिवर्तित हो जाता है।

Q.14 भारत के सर्वोच्च न्यायालय के न्यायाधीश के रूप में नियुक्त होने के लिए, किसी व्यक्ति को भारत का नागरिक होना चाहिए और कम से कम कितने वर्षों तक उच्च न्यायालय के न्यायाधीश के रूप में सेवा की होनी चाहिए?

- Ans
- 1. पाँच
  - 2. तीन
  - 3. दस
  - 4. दो

Q.15 उस सही विकल्प का चयन कीजिए जो यह व्याख्या करता है कि प्राकृत भाषा को शास्त्रीय भाषा का दर्जा क्यों प्राप्त है?

- Ans
- 1. इसका एक विशिष्ट ऐतिहासिक साहित्यिक संग्रह है
  - 2. इसके कोई भी ग्रंथ अब उपलब्ध नहीं हैं
  - 3. इसका विकास आधुनिक युग के बाद ही हुआ
  - 4. इसका उपयोग केवल शिलालेखों के लिए किया जाता है

Q.16 निम्नलिखित में से किस क्षेत्रीय त्यौहार को उसके सांस्कृतिक क्षेत्र या राज्य के साथ गलत तरीके से युग्मित किया गया है?

- Ans
- 1. पोंगल - तमिलनाडु
  - 2. माघ बिहू - असम
  - 3. खिचड़ी पर्व - गुजरात
  - 4. शिशुर सेंक्रात - कश्मीर

Q.17 मलयालम कैलेंडर के किस महीने में ओणम उत्सव मनाया जाता है?

- Ans
- 1. वृश्चिक
  - 2. मकर
  - 3. कुंभ
  - 4. चिंगम

Q.18 निम्नलिखित में से किस भारतीय राज्य की भारत की मुख्य भूमि के साथ सबसे लंबी तटरेखा है?

- Ans
- 1. तमिलनाडु
  - 2. गुजरात
  - 3. आंध्र प्रदेश
  - 4. महाराष्ट्र

Q.19 शहरी क्षेत्रों में सभी लोगों के लिए आवास सुनिश्चित करने हेतु अभिकल्पित प्रधानमंत्री आवास योजना (शहरी) भारत में किस वर्ष शुरू की गई थी?

- Ans
- ✓ 1. 2015
  - ✗ 2. 2017
  - ✗ 3. 2014
  - ✗ 4. 2016

Q.20 निम्नलिखित में से किस विटामिन की कमी के कारण रतौंधी और नेत्र शुष्कता (xerophthalmia) होती है?

- Ans
- ✓ 1. विटामिन A
  - ✗ 2. विटामिन D
  - ✗ 3. विटामिन E
  - ✗ 4. विटामिन K

Section : Arithmetical and Numerical Ability

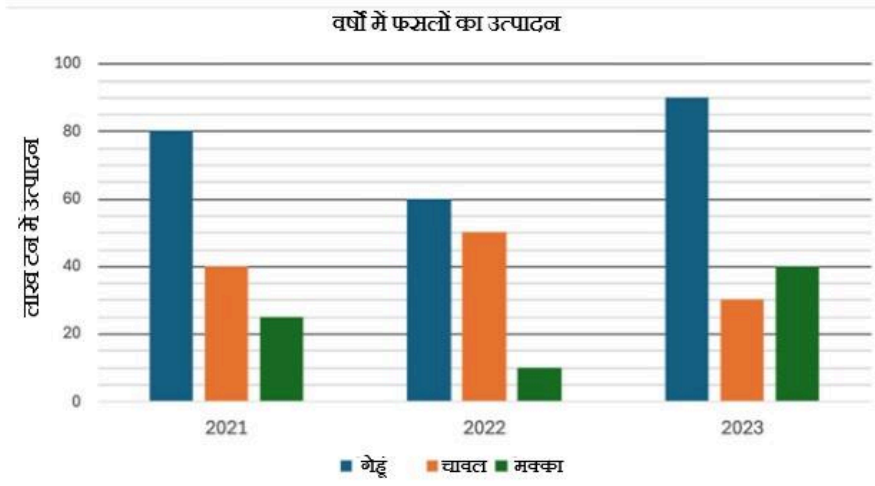
Q.1 किसी संख्या में 4% की कमी करने पर 3480 प्राप्त होता है। वह संख्या ज्ञात कीजिए।

- Ans
- ✗ 1. 10875
  - ✓ 2. 3625
  - ✗ 3. 1812
  - ✗ 4. 7250

Q.2 एक शहर की जनसंख्या 5,000 है। यह प्रति वर्ष 4% की दर से बढ़ती है। 2 वर्ष बाद जनसंख्या कितनी होगी?

- Ans
- ✗ 1. 5,484
  - ✓ 2. 5,408
  - ✗ 3. 5,584
  - ✗ 4. 5,440

Q.3 नीचे एक ग्राफ दिया गया है जो तीन अलग-अलग वर्षों में एक राज्य में विभिन्न फसलों के उत्पादन को दर्शाता है।



तीन वर्षों में सर्वाधिक उत्पादित फसल की कुल मात्रा की (लाख टन में) गणना कीजिए।

- Ans
- ✗ 1. 220
  - ✓ 2. 230
  - ✗ 3. 240
  - ✗ 4. 235

Q.4 वर्ष 2000 के अंत में एक गाँव की जनसंख्या 40,000 थी। वर्ष 2001 में, जनसंख्या में 5% वार्षिक दर से वृद्धि हुई, लेकिन वर्ष 2002 में, जनसंख्या में 2% वार्षिक दर से कमी हुई। वर्ष 2002 के अंत में गाँव की जनसंख्या ज्ञात कीजिए।

- Ans
- 1. 43,260
  - 2. 42,160
  - 3. 42,560
  - 4. 41,160

Q.5 अक्षय के वेतन में पहले 40% की कमी की गई और बाद में 56% की वृद्धि की गई। उसका अंतिम वेतन उसके प्रारंभिक वेतन की तुलना में कितने प्रतिशत कम था?

- Ans
- 1. 6.4%
  - 2. 56%
  - 3. 22.4%
  - 4. 40%

Q.6 ₹1,500 पर 6% प्रति माह की दर से 3 महीने के लिए साधारण ब्याज (₹ में) ज्ञात कीजिए।

- Ans
- 1. 67.50
  - 2. 270
  - 3. 45
  - 4. 22.50

Q.7 श्री दीपक ने ₹20,000 की धनराशि 2 वर्षों के लिए निवेश की। वार्षिक रूप से संयोजित होने वाले चक्रवृद्धि ब्याज की किस दर पर, उसे 2 वर्षों के अंत में कुल धनराशि के रूप में ₹25,088 प्राप्त होंगे?

- Ans
- 1. 10%
  - 2. 15%
  - 3. 12%
  - 4. 13%

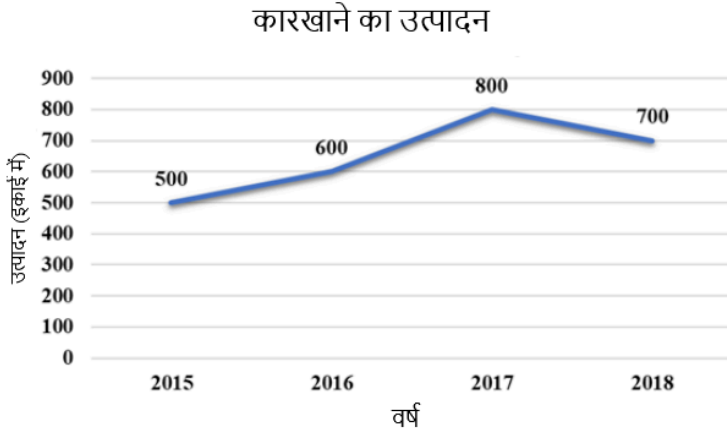
Q.8 एक निर्माता एक उत्पाद को 42% के लाभ पर एक थोक विक्रेता को बेचता है। थोक विक्रेता उसे 60% के लाभ पर एक खुदरा विक्रेता को बेचता है और खुदरा विक्रेता उसे 25% के लाभ पर एक ग्राहक को बेचता है। यदि ग्राहक ₹213 का भुगतान करता है, तो निर्माता के लिए उत्पाद का लागत मूल्य (₹ में) ज्ञात कीजिए।

- Ans
- 1. 73
  - 2. 77
  - 3. 76
  - 4. 75

Q.9 यदि 4 क्रमागत विषम संख्याओं का औसत 36 है, तो उनमें से सबसे बड़ी संख्या और सबसे छोटी संख्या का योगफल कितना है?

- Ans
- 1. 64
  - 2. 74
  - 3. 68
  - 4. 72

Q.10 दिया गया रेखा ग्राफ एक कारखाने के विभिन्न वर्षों के उत्पादन को दर्शाता है। किस वर्ष उत्पादन सबसे अधिक था?



- Ans
- 1. 2016
  - 2. 2018
  - 3. 2015
  - 4. 2017

Q.11 एक शॉपिंग कॉम्प्लेक्स की वर्तमान कीमत ₹1,07,798 है। एक वर्ष बाद, इसकी कीमत बढ़कर ₹1,41,063 हो गई। शॉपिंग कॉम्प्लेक्स की कीमत में प्रतिशत वृद्धि (निकटतम पूर्णांक तक पूर्णांकित) ज्ञात कीजिए।

- Ans
- 1. 38%
  - 2. 25%
  - 3. 31%
  - 4. 40%

Q.12 समूह A में 46 सदस्य, समूह B में 13 सदस्य और समूह C में 83 सदस्य हैं। इन समूहों के सभी सदस्य एक रेस्तरां में गए। समूह A, B और C में प्रति सदस्य खर्च की गई औसत राशि क्रमशः ₹241, ₹120 और ₹236 है। प्रति सदस्य खर्च की गई कुल औसत राशि (₹ में) ज्ञात कीजिए।

- Ans
- 1. 227
  - 2. 225
  - 3. 223
  - 4. 222

Q.13  $\left(\frac{\sqrt{72} + \sqrt{32}}{\sqrt{18} - \sqrt{8}}\right)^2$  को सरल कीजिए।

- Ans
- 1. 64
  - 2. 100
  - 3. 49
  - 4. 81

Q.14 संख्या 7786, निम्नलिखित में से किस संख्या से विभाज्य है?

- Ans
- 1. 7
  - 2. 17
  - 3. 21
  - 4. 26

Q.15 हम 3, 5 और 7 अंकों का उपयोग करके छह अलग-अलग तीन-अंकीय संख्याएं बना सकते हैं, जिनमें से प्रत्येक संख्या में प्रत्येक अंक का ठीक एक बार उपयोग किया जाता है। यदि इन छह संख्याओं का औसत "A" है, तो

$$\sqrt[3]{\frac{11}{5}(A + 50)} \text{ का मान ज्ञात कीजिए।}$$

- Ans
- 1. 1.45
  - 2. 2.23
  - 3. 3.17
  - 4. 4.11

Q.16 वह सबसे बड़ी संख्या ज्ञात कीजिए जिससे 205, 742 और 1185 को विभाजित करने पर शेषफल क्रमशः 31, 46 और 54 प्राप्त हो।

- Ans
- 1. 78
  - 2. 92
  - 3. 64
  - 4. 87

Q.17 आदित्य को जेब खर्च के लिए ₹X मिलते हैं। वह अपनी किताबों पर 35% खर्च करता है, जबकि शेष राशि का 50% अपने निजी खर्चों के लिए आवंटित करता है। यदि वह अपनी जेब खर्च से ₹2,145 बचाता है, तो X का मान ज्ञात कीजिए।

- Ans
- 1. ₹6,700
  - 2. ₹6,525
  - 3. ₹6,600
  - 4. ₹6,695

Q.18 अरविंद ने एक वस्तु ₹x में खरीदी। उसने इसे बीरू को 27% की हानि पर बेच दिया। बीरू ने इसके परिवहन पर ₹119 व्यय किया और इसे मीनू को 45% के लाभ पर बेच दिया। यदि मीनू ने इसे ₹1,972 में खरीदा, तो x का मान ज्ञात कीजिए।

- Ans
- 1. 1,700
  - 2. 1,661
  - 3. 1,681
  - 4. 1,728

Q.19 दो संख्याओं का योग 143 है और उनका लघुत्तम समापवर्त्य (L.C.M.) 396 है। दोनों संख्याएँ ज्ञात कीजिए।

- Ans
- 1. 97, 46
  - 2. 92, 51
  - 3. 104, 39
  - 4. 99, 44

Q.20 प्रथम 94 प्राकृत संख्याओं का औसत ज्ञात कीजिए।

- Ans
- 1. 48.5
  - 2. 48
  - 3. 47
  - 4. 47.5

#### Section : Arithmetical and Numerical Ability1

Q.1 एक लड़की 42 km/h की एक समान चाल से स्कूटर चलाती है। उसके द्वारा 2 घंटे 20 मिनट में तय की गई दूरी ज्ञात कीजिए।

- Ans
- 1. 85 km
  - 2. 93 km
  - 3. 98 km
  - 4. 88 km

Q.2 एक टैंक को दो पाइप, P1 और P2 क्रमशः 15 मिनट और 20 मिनट में भर सकते हैं। यदि दोनों पाइपों का उपयोग एक साथ किया जाए, तो टैंक को भरने में कितना समय लगेगा?

- Ans
- 1.  $6\frac{4}{7}$  मिनट
  - 2.  $8\frac{4}{7}$  मिनट
  - 3.  $6\frac{4}{5}$  मिनट
  - 4.  $8\frac{1}{7}$  मिनट

Q.3 एक टंकी में दो नल हैं जो इसे क्रमशः 9 घंटे और 18 घंटे में भर देंगे। टंकी में एक वेस्ट पाइप भी है। जब तीनों पाइप खोल दिए जाते हैं, तो खाली टंकी 24 घंटे में भर जाती है। वेस्ट पाइप को पूरी टंकी खाली करने में कितना समय (घंटों में) लगेगा?

- Ans
- 1. 6
  - 2. 10
  - 3. 12
  - 4. 8

Q.4 जब कोई व्यक्ति अपने घर से अपने कार्यालय तक 10 km/h की चाल से जाता है, तो उसे 10 मिनट की देरी हो जाती है। जब वह 15 km/h की चाल से जाता है, तो उसे 2 मिनट की देरी होती है। उसके कार्यालय और घर के बीच की दूरी (km में) ज्ञात कीजिए।

- Ans
- 1. 3
  - 2. 8
  - 3. 4
  - 4. 6

Q.5 A ने 8 महीनों के लिए ₹37,500 का निवेश किया। B ने 6 महीनों के लिए ₹40,000 का निवेश किया। यदि कुल लाभ ₹52,500 है, तो B का हिस्सा (दशमलव के ठीक दो स्थानों तक) ज्ञात कीजिए।

- Ans
- 1. ₹23,230.34
  - 2. ₹23,430.34
  - 3. ₹23,333.33
  - 4. ₹23,130.34

Q.6 एक टंकी में दो पाइप हैं। एक पाइप उसे 9 घंटे में जल से भर देता है और दूसरा पाइप उसे 5 घंटे में खाली कर देता है। जब टंकी का  $\frac{4}{5}$  भाग जल से भरा होने पर दोनों पाइप एक साथ खोल दिए जाएं, तो टंकी कितने घंटे में खाली हो जाएगी?

- Ans
- 1. 11 घंटे
  - 2. 10 घंटे
  - 3. 12 घंटे
  - 4. 9 घंटे

Q.7 एक व्यक्ति 22 km की दूरी 5 km/h की चाल से तय करता है, फिर अगले 15 km की दूरी 3 km/h की चाल से और अंतिम 10 km की दूरी 2 km/h की चाल से तय करता है। संपूर्ण यात्रा के लिए उसकी औसत चाल ज्ञात कीजिए।

- Ans
- 1.  $1\frac{19}{72}$  km/h
  - 2.  $3\frac{19}{72}$  km/h
  - 3.  $2\frac{19}{72}$  km/h
  - 4.  $4\frac{19}{72}$  km/h

Q.8 यदि ₹86 को 50 बच्चों में इस प्रकार विभाजित किया जाए कि प्रत्येक लड़की और प्रत्येक लड़के को क्रमशः ₹1 और ₹2 प्राप्त हों, तो कुल कितनी लड़कियां हैं?

- Ans
- 1. 14
  - 2. 18
  - 3. 10
  - 4. 15

Q.9 दो ट्रेनें, जिनकी लंबाई क्रमशः 150 m और 90 m है, एक ही दिशा में चल रही हैं। तेज़ चलने वाली ट्रेन, दूसरी ट्रेन को पूरी तरह से पार करने में एक मिनट का समय लेती है। यदि वे विपरीत दिशाओं में चल रही हों, तो वे एक-दूसरे को 3 सेकंड में पूरी तरह से पार कर लेती हैं। तेज़ चलने वाली ट्रेन की चाल ज्ञात कीजिए।

- Ans
- 1. 44 m/s
  - 2. 48 m/s
  - 3. 38 m/s
  - 4. 42 m/s

Q.10 किसी रेसिपी में, चीनी और आटे का अनुपात 1.5 : 4.5 है। यदि रेसिपी में 3 kg चीनी का उपयोग होता है, तो उपयोग की गई चीनी और आटे की मात्रा के बीच माध्यानुपाती (kg में) ज्ञात कीजिए।

- Ans
- 1. 2.25
  - 2.  $3\sqrt{3}$
  - 3.  $4\sqrt{2}$
  - 4. 7.1

Q.11 7 cm त्रिज्या और 20 cm ऊँचाई वाले एक बेलनाकार पात्र का पूरा पानी 14 cm त्रिज्या वाले एक दूसरे बेलनाकार बर्तन में डाल दिया जाता है। दूसरे बर्तन में पानी की ऊँचाई ज्ञात कीजिए।

- Ans
- 1. 10 cm
  - 2. 14 cm
  - 3. 7 cm
  - 4. 5 cm

Q.12 एक त्रिभुज की भुजाएं 7 cm, 9 cm और 12 cm हैं। त्रिभुज का परिमाप ज्ञात कीजिए।

- Ans
- 1. 26 cm
  - 2. 30 cm
  - 3. 27 cm
  - 4. 28 cm

Q.13 शीत ऋतु में एक दुकानदार ने कंबल का मूल्य ₹1,890 से घटाकर ₹1,640 कर दिया। दुकानदार द्वारा दी गई छूट प्रतिशत दर (दशमलव के दो स्थानों तक पूर्णांकित) ज्ञात कीजिए।

- Ans
- 1. 14.56%
  - 2. 13.23%
  - 3. 12.48%
  - 4. 11.35%

Q.14 उस समचतुर्भुज का क्षेत्रफल ज्ञात कीजिए जिसके विकर्णों की माप 19.5 cm और 24 cm है।

- Ans
- 1. 238 cm<sup>2</sup>
  - 2. 234 cm<sup>2</sup>
  - 3. 236 cm<sup>2</sup>
  - 4. 232 cm<sup>2</sup>

Q.15 यदि  $a : b = 8 : 9$  तथा  $b : c = 3 : 7$  है, तो  $a : c$  ज्ञात कीजिए।

- Ans
- 1. 6 : 17
  - 2. 8 : 21
  - 3. 9 : 23
  - 4. 7 : 19

Q.16 एक फर्नीचर विक्रेता को एक मेज ₹204 में बेचने पर 70% का लाभ तथा एक बेड ₹1,505 में बेचने पर 25% का लाभ होता है। यदि वह मेज को ₹117 में बेचता है, तो उसे बेड को न्यूनतम किस मूल्य पर बेचना चाहिए ताकि संपूर्ण लेन-देन में कोई हानि न हो?

- Ans
- 1. ₹1,209
  - 2. ₹1,204
  - 3. ₹1,207
  - 4. ₹1,208

Q.17 एक वस्तु का अंकित मूल्य ₹800 था, लेकिन दुकानदार ने अंकित मूल्य पर 25% और 5% की दो क्रमिक छूट दी। अंत में उसने वह वस्तु कितने में बेची?

- Ans
- 1. ₹565
  - 2. ₹560
  - 3. ₹570
  - 4. ₹575

Q.18 माया को एक ड्रायर पर 36% की छूट प्राप्त होती है, जिसका अंकित मूल्य ₹6,100 है। क्रेडिट कार्ड से भुगतान करने पर उसे घटी हुई कीमत पर 25% की अतिरिक्त छूट प्राप्त होती है। वह कितना (₹ में) भुगतान करती है?

- Ans
- 1. 2,927
  - 2. 2,929
  - 3. 2,930
  - 4. 2,928

Q.19 एक घनाभ की लंबाई, चौड़ाई और ऊंचाई का अनुपात 5:8:4 है। यदि लंबाई में 100% की वृद्धि, ऊंचाई में 50% की वृद्धि और चौड़ाई में 50% की कमी कर दी जाए, तो घनाभ का आयतन, उसके मूल आयतन का कितना गुना हो जाएगा?

- Ans
- 1. 1.5
  - 2. 3
  - 3. 2.5
  - 4. 2

Q.20 19 पुरुष और 16 महिलाएँ किसी कार्य को 5 दिनों में पूरा कर सकते हैं तथा 14 पुरुष और 8 महिलाएँ उसी कार्य को 7 दिनों में पूरा कर सकते हैं। कितनी महिलाओं का कार्य, एक पुरुष के कार्य के बराबर है?

- Ans
- 1. 9
  - 2. 10
  - 3. 11
  - 4. 8

Section : Test of English Language and Comprehension

**Q.1** Select the most appropriate adjective from the options to correct the given sentence.

Ravi cried, "The instructions for the assignment were too enormous, so I had to ask the teacher for clarification."

- Ans**
- 1. Ravi cried, "The instructions for the assignment were too weak, so I had to ask the teacher for clarification."
  - 2. Ravi cried, "The instructions for the assignment were too vague, so I had to ask the teacher for clarification."
  - 3. Ravi cried, "The instructions for the assignment were too reliable, so I had to ask the teacher for clarification."
  - 4. Ravi cried, "The instructions for the assignment were too flat, so I had to ask the teacher for clarification."

**Q.2** Select the most appropriate option to fill in the blanks.

During \_\_\_ COVID pandemic, a vaccine was developed, where the trials were rigorous, the distribution was complex and the public's response was crucial to \_\_\_ effort.

- Ans**
- 1. a; the
  - 2. the; the
  - 3. the; a
  - 4. the; an

**Q.3** Select the most appropriate option to fill in the blank.

They were awarded \_\_\_ Nobel Prize for their groundbreaking research.

- Ans**
- 1. an
  - 2. a
  - 3. the
  - 4. No article required

**Q.4** Select the most appropriate option to fill in the blank.

The debate team argued \_\_\_\_\_, leaving no doubt about their comprehensive preparation.<sup>674</sup>

- Ans**
- 1. sluggishly
  - 2. anxiously
  - 3. incoherently
  - 4. convincingly

**Q.5** Select the option that can rectify the underlined part of the given sentence to make it grammatically and contextually correct.

The tall mountain loomed over the crowded valley below.

- Ans**
- 1. excited
  - 2. peaceful
  - 3. glamorous
  - 4. elegant

**Q.6** Sentences of a paragraph are given in a jumbled order. Rearrange all the sentences to form a coherent paragraph.

**A.** What's surprising is that this eatery is not run by an Indian, but rather by a Japanese duo!

**B.** Their dedication to delivering authentic South Indian cuisine has caught the attention of netizens.

**C.** In a recent thread on X (formerly known as Twitter), Karthik spoke about his visit to a restaurant in Japan's Kyoto — 'Tadka'.

**D.** They even actively promote eating by hand, in true South Indian style.

- Ans**
- 1. ADCB
  - 2. DABC
  - 3. CABD
  - 4. BDAC

**Q.7** Read the sentence carefully. Identify the most suitable option that completes the sentence meaningfully.

She spoke \_\_\_\_\_ about her experiences, captivating everyone in the room.

- Ans**
- 1. angrily
  - 2. nervously
  - 3. eloquently
  - 4. briefly

**Q.8** The given sentence has an error. Select the option that rectifies the sentence.

She drives very careful in the rain.<sup>875</sup>

- Ans**
- 1. She drives very carefully in the rain.
  - 2. She drives more careful in the rain.
  - 3. She drives very carefully in the rain.
  - 4. She drives very carefull in the rain.

**Q.9** Select the most appropriate option to fill in the blank.

The documentary explored \_\_\_ impact of climate change on polar bears.

- Ans**
- 1. the
  - 2. No article required
  - 3. a
  - 4. an

**Q.10** Rearrange the jumbled segments to form a coherent statement.

(P) encourages innovation

(Q) collaborative learning environments

(R) by promoting exchange of ideas

(S) among diverse groups of learners

- Ans**
- 1. RSQP
  - 2. SQPR
  - 3. PRSQ
  - 4. QPRS

Q.11 Choose the appropriate option that completes the sentence.

They \_\_\_\_\_ football in the park yesterday.

- Ans
- 1. play
  - 2. plays
  - 3. played
  - 4. playing

Q.12 Choose the most appropriate option to fill in the blank.

The new software is more user-friendly; \_\_\_\_\_, it has several additional features that improve productivity.<sup>848</sup>

- Ans
- 1. instead
  - 2. subsequently
  - 3. however
  - 4. moreover

Q.13 Choose the best option to complete the sentence.

I am going to \_\_\_ wedding this weekend at \_\_\_\_\_ countryside venue.<sup>1794</sup>

- Ans
- 1. an; an
  - 2. a; an
  - 3. a; a
  - 4. an; a

Q.14 Select the appropriate option to correct the sentence.

She reminded her son to pay the electricity bill in time.

- Ans
- 1. She reminded her son to pay the electricity bill with time.
  - 2. She reminded her son to pay the electricity bill on time.
  - 3. She reminded her son to pay the electricity bill by time.
  - 4. She reminded her son to pay the electricity bill at time.

Q.15 Choose the most suitable option to complete the sentence.

The scientist explained the theory so \_\_\_\_\_ that even the beginners understood it.

- Ans
- 1. precise
  - 2. precision
  - 3. precise
  - 4. precisely

#### Comprehension:

Read the passage and choose the correct answer to the questions based on it.

The Bhagavad Gita, a 700-verse Sanskrit scripture embedded within the epic Mahabharata, serves as a profound philosophical dialogue between Prince Arjuna and Lord Krishna. Set on the precipice of a fratricidal war, the text transcends its historical context to address the universal human struggle with moral ambiguity. Arjuna's initial despondency and refusal to fight trigger Krishna's discourse on Dharma (duty) and the nature of existence.

Krishna introduces the concept of Nishkama Karma—action performed without attachment to the results—as a means to achieve spiritual liberation. The Gita synthesizes various yogic paths, emphasizing that true wisdom lies in maintaining equanimity amidst the dualities of pleasure and pain, success and failure. By framing the battlefield as a metaphor for the internal conflict between virtue and vice, the scripture offers a timeless template for ethical conduct.

#### SubQuestion No : 16

Q.16 Which title best reflects the passage?

**Comprehension:**

Read the passage and choose the correct answer to the questions based on it.

The Bhagavad Gita, a 700-verse Sanskrit scripture embedded within the epic Mahabharata, serves as a profound philosophical dialogue between Prince Arjuna and Lord Krishna. Set on the precipice of a fratricidal war, the text transcends its historical context to address the universal human struggle with moral ambiguity. Arjuna's initial despondency and refusal to fight trigger Krishna's discourse on Dharma (duty) and the nature of existence.

Krishna introduces the concept of Nishkama Karma—action performed without attachment to the results—as a means to achieve spiritual liberation. The Gita synthesizes various yogic paths, emphasizing that true wisdom lies in maintaining equanimity amidst the dualities of pleasure and pain, success and failure. By framing the battlefield as a metaphor for the internal conflict between virtue and vice, the scripture offers a timeless template for ethical conduct.

**SubQuestion No : 17**

**Q.17** The tone of the passage can be most accurately described as \_\_\_\_\_.

**Comprehension:**

Read the passage and choose the correct answer to the questions based on it.

The Bhagavad Gita, a 700-verse Sanskrit scripture embedded within the epic Mahabharata, serves as a profound philosophical dialogue between Prince Arjuna and Lord Krishna. Set on the precipice of a fratricidal war, the text transcends its historical context to address the universal human struggle with moral ambiguity. Arjuna's initial despondency and refusal to fight trigger Krishna's discourse on Dharma (duty) and the nature of existence.

Krishna introduces the concept of Nishkama Karma—action performed without attachment to the results—as a means to achieve spiritual liberation. The Gita synthesizes various yogic paths, emphasizing that true wisdom lies in maintaining equanimity amidst the dualities of pleasure and pain, success and failure. By framing the battlefield as a metaphor for the internal conflict between virtue and vice, the scripture offers a timeless template for ethical conduct.

**SubQuestion No : 18**

**Q.18** According to the passage, what does the concept of Nishkama Karma entail?

**Comprehension:**

Read the passage and choose the correct answer to the questions based on it.

The Bhagavad Gita, a 700-verse Sanskrit scripture embedded within the epic Mahabharata, serves as a profound philosophical dialogue between Prince Arjuna and Lord Krishna. Set on the precipice of a fratricidal war, the text transcends its historical context to address the universal human struggle with moral ambiguity. Arjuna's initial despondency and refusal to fight trigger Krishna's discourse on Dharma (duty) and the nature of existence.

Krishna introduces the concept of Nishkama Karma—action performed without attachment to the results—as a means to achieve spiritual liberation. The Gita synthesizes various yogic paths, emphasizing that true wisdom lies in maintaining equanimity amidst the dualities of pleasure and pain, success and failure. By framing the battlefield as a metaphor for the internal conflict between virtue and vice, the scripture offers a timeless template for ethical conduct.

**SubQuestion No : 19**

**Q.19** What can be inferred about the "battlefield" mentioned in the final paragraph?

**Comprehension:**

Read the passage and choose the correct answer to the questions based on it.

The Bhagavad Gita, a 700-verse Sanskrit scripture embedded within the epic Mahabharata, serves as a profound philosophical dialogue between Prince Arjuna and Lord Krishna. Set on the precipice of a fratricidal war, the text transcends its historical context to address the universal human struggle with moral ambiguity. Arjuna's initial despondency and refusal to fight trigger Krishna's discourse on Dharma (duty) and the nature of existence.

Krishna introduces the concept of Nishkama Karma—action performed without attachment to the results—as a means to achieve spiritual liberation. The Gita synthesizes various yogic paths, emphasizing that true wisdom lies in maintaining equanimity amidst the dualities of pleasure and pain, success and failure. By framing the battlefield as a metaphor for the internal conflict between virtue and vice, the scripture offers a timeless template for ethical conduct.

**SubQuestion No : 20**

**Q.20** Which word serves as the most appropriate antonym for "Transcend"?

Q.1 Correct the error in the sentence by choosing the correct spelling option.  
The snake looked vicious and was likely to bite.

- Ans
- 1. vicious
  - 2. vicius
  - 3. wicious
  - 4. viciouss

Q.2 Choose the option that best expresses the meaning of the proverb

'a leopard can't/doesn't change its spots'.

- Ans
- 1. A person can't change their inherent nature.
  - 2. A person can change their fundamental nature easily.
  - 3. People often change their habits as they grow older.
  - 4. It's impossible for people to get a makeover and completely change their appearance.

Q.3 Select the most appropriate ANTONYM of the given word.

**Precarious**<sup>54</sup>

- Ans
- 1. Shaky
  - 2. Dubious
  - 3. Stable
  - 4. Hazardous

Q.4 A statement divided into different segments is given. Rearrange all the segments to form a coherent statement.

(P) it also unfolds as part of an unequal social context / (Q) although we tend to think of gaslighting as a / (R) as it feeds off social vulnerabilities and stereotypes / (S) problem between two people in a relationship,

- Ans
- 1. QSPR
  - 2. PRSQ
  - 3. PQRS
  - 4. QRPS

Q.5 Select the correct one-word substitute for the underlined group of words in the given sentence.  
They were deceived by all the furore that was created by the electronic media. It made them look so carelessly naive.

- Ans
- 1. perceptive
  - 2. discerning
  - 3. gullible
  - 4. wise

Q.6 Select the most appropriate option that can substitute the underlined group of words.  
The blogger's articulate and persuasively expressive writing style attracted many followers.<sup>7367</sup>

- Ans
- 1. Casual
  - 2. Colloquial
  - 3. Monotonous
  - 4. Eloquent

**Q.7 Choose the correct option that best expresses the meaning of the given proverb.  
Laughter is the best medicine**

- Ans
- 1. Trying to be happy is a good way to stop worrying
  - 2. Trying to be happy is a bad way to stop worrying
  - 3. Trying not to be happy is a good way to stop worrying
  - 4. Trying not to be happy is a bad way to stop worrying

**Q.8 Select the most appropriate option that can substitute the underlined words in the given sentence.  
The scientific study of the origin and structure of rocks provides crucial information about the Earth's history and geological processes.**6112

- Ans
- 1. geology
  - 2. analogy
  - 3. anthropology
  - 4. petrology

**Q.9 Select the most appropriate synonym of the given word.  
Pervasive**

- Ans
- 1. Flared
  - 2. Widespread
  - 3. Eliminated
  - 4. Infrequent

**Q.10 Correct the error in the sentence by choosing the correct spelling option.  
With a clever manoeuvr, she defeated her opponent in the game of chess.**

- Ans
- 1. manoevre
  - 2. manœuvre
  - 3. mannoeuvre
  - 4. manoeuvre

**Q.11 Choose the suitable proverb for the given expression.  
People with serious responsibilities have a heavy burden -**

- Ans
- 1. Uneasy lies the head that wears a crown
  - 2. Peaceful rests the head that wears no crown
  - 3. Uneasy lies the head that doesn't wear a crown
  - 4. Content lies the head that leads with ease

**Q.12 Choose the option that best expresses the meaning of the proverb.**

**A new broom sweeps clean**

- Ans
- 1. A new task is always easier to complete.
  - 2. A new challenge brings fresh energy.
  - 3. A new person in a job brings a fresh approach and gets rid of old problems.
  - 4. A new opportunity will always be successful.

**Q.13 Choose the most appropriate synonym of the underlined word in the sentence.**

**The protestors voiced their vehement opposition to the policy.**

- Ans
- 1. Adamant
  - 2. Mild
  - 3. Forceful
  - 4. Heroic

**Q.14 Choose the correct synonym of the word given.**

**"Benevolent"**

- Ans**
- 1. Generous
  - 2. Reserved
  - 3. Arrogant
  - 4. Hostile

**Q.15 Select the correct one-word substitute for the underlined group of words in the given sentence.**

**They were deceived by all the widespread uproar that was created by the electronic media.**

- Ans**
- 1. harmony
  - 2. order
  - 3. commotion
  - 4. disruption

**Comprehension:**

Read the given passage carefully and answer the questions that follow.

Failure is often viewed as something to be avoided, especially in academic and professional settings. Yet, many meaningful achievements are shaped by repeated mistakes and careful reflection. When individuals experience failure, they are forced to reassess their methods, assumptions, and expectations. This process, though uncomfortable, encourages deeper learning than success achieved without effort.

Modern education, however, tends to reward correct answers rather than thoughtful risk-taking. As a result, students may become reluctant to experiment or challenge familiar approaches. Creating environments where failure is treated as a natural part of learning can foster resilience and creativity. Over time, those who learn to respond constructively to setbacks are better equipped to adapt to complex and uncertain situations.

**SubQuestion No : 16**

**Q.16 What aspect of modern education is directly criticised in the passage?**

**Comprehension:**

Read the given passage carefully and answer the questions that follow.

Failure is often viewed as something to be avoided, especially in academic and professional settings. Yet, many meaningful achievements are shaped by repeated mistakes and careful reflection. When individuals experience failure, they are forced to reassess their methods, assumptions, and expectations. This process, though uncomfortable, encourages deeper learning than success achieved without effort.

Modern education, however, tends to reward correct answers rather than thoughtful risk-taking. As a result, students may become reluctant to experiment or challenge familiar approaches. Creating environments where failure is treated as a natural part of learning can foster resilience and creativity. Over time, those who learn to respond constructively to setbacks are better equipped to adapt to complex and uncertain situations.

**SubQuestion No : 17**

**Q.17 From the passage, it can be inferred that students who fear failure may \_\_\_\_\_.**

**Comprehension:**

Read the given passage carefully and answer the questions that follow.

Failure is often viewed as something to be avoided, especially in academic and professional settings. Yet, many meaningful achievements are shaped by repeated mistakes and careful reflection. When individuals experience failure, they are forced to reassess their methods, assumptions, and expectations. This process, though uncomfortable, encourages deeper learning than success achieved without effort.

Modern education, however, tends to reward correct answers rather than thoughtful risk-taking. As a result, students may become reluctant to experiment or challenge familiar approaches. Creating environments where failure is treated as a natural part of learning can foster resilience and creativity. Over time, those who learn to respond constructively to setbacks are better equipped to adapt to complex and uncertain situations.

**SubQuestion No : 18**

**Q.18 Select the most appropriate title for the passage.**

### Comprehension:

Read the given passage carefully and answer the questions that follow.

Failure is often viewed as something to be avoided, especially in academic and professional settings. Yet, many meaningful achievements are shaped by repeated mistakes and careful reflection. When individuals experience failure, they are forced to reassess their methods, assumptions, and expectations. This process, though uncomfortable, encourages deeper learning than success achieved without effort.

Modern education, however, tends to reward correct answers rather than thoughtful risk-taking. As a result, students may become reluctant to experiment or challenge familiar approaches. Creating environments where failure is treated as a natural part of learning can foster resilience and creativity. Over time, those who learn to respond constructively to setbacks are better equipped to adapt to complex and uncertain situations.

#### SubQuestion No : 19

Q.19 Which word best describes the tone of the passage?

### Comprehension:

Read the given passage carefully and answer the questions that follow.

Failure is often viewed as something to be avoided, especially in academic and professional settings. Yet, many meaningful achievements are shaped by repeated mistakes and careful reflection. When individuals experience failure, they are forced to reassess their methods, assumptions, and expectations. This process, though uncomfortable, encourages deeper learning than success achieved without effort.

Modern education, however, tends to reward correct answers rather than thoughtful risk-taking. As a result, students may become reluctant to experiment or challenge familiar approaches. Creating environments where failure is treated as a natural part of learning can foster resilience and creativity. Over time, those who learn to respond constructively to setbacks are better equipped to adapt to complex and uncertain situations.

#### SubQuestion No : 20

Q.20 Which of the following best expresses the central theme of the passage?

### Section : Test of Hindi Language and Comprehension

Q.1 निम्नलिखित विकल्पों में से उचित विकल्प का चयन कर वाक्य पूर्ण करें -

'राम .....टेढ़ी चाल चली।'

- Ans
- 1. के लिए
  - 2. ने
  - 3. को
  - 4. से

Q.2 निम्नलिखित वाक्य को शुद्ध करें।  
संभव है कल शायद बर्फ गिरे।

- Ans
- 1. संभव है कल बर्फ गिरें।
  - 2. संभव है कल बर्फ गिरे।
  - 3. संभव: हे कल बरफ गीरे।
  - 4. संभव, हैं कल बर्फ गिरें।

Q.3 'जो अवश्य होने वाला हो' वाक्यांश के लिए सार्थक शब्द है -

- Ans
- 1. निश्चित
  - 2. अवश्यंभावी
  - 3. संभावित
  - 4. निरंकार

Q.4 निम्नलिखित वाक्य को परिमाणवाचक क्रिया-विशेषण द्वारा पूर्ण करें।  
यह दवा लो, इसे \_\_\_ घाव पर लगाना।

- Ans
- 1. यहाँ
  - 2. थोड़ा-थोड़ा
  - 3. अभी
  - 4. कल

Q.5 दिये गये वाक्यों में शुद्ध वाक्य का चयन करें-

- Ans  1. अच्छी संगति करना चाहिए ।  
 2. अच्छी संगत करना चाहिए ।  
 3. अच्छी सगति करना चाहिए ।  
 4. अच्छी संगती करना चाहिए ।

Q.6 निम्नलिखित वाक्यों को ध्यानपूर्वक पढ़कर अतिरिक्त वाक्य का चयन कीजिये जो अन्य वाक्यों से विषय या क्रम में भिन्न हो -

- Ans  1. वह गणित में बहुत अच्छी है।  
 2. वह हर परीक्षा में अच्छे अंक लाती है।  
 3. नेहा रोज़ स्कूल जाती है।  
 4. वह अपनी माँ की बात नहीं मानती।

Q.7 निम्न वाक्य के रिक्त स्थान में क्रिया-विशेषण शब्द का प्रयोग कर वाक्य पूर्ण करें -  
 उमा टमाटर खा रही है ।

- Ans  1. खा  
 2. धीरे- धीरे  
 3. धीरे  
 4. कल

Q.8 निम्नलिखित वाक्य खंड को क्रम में लिखें -  
 महिला सशक्तिकरण  
 आधारशिला स्थापित करता है  
 समाज की प्रगति का सूचक है,  
 जो समानता और विकास की

- Ans  1. 1342  
 2. 4213  
 3. 2314  
 4. 3241

Q.9 दिए गए वाक्य में उचित प्रेरणार्थक क्रिया शब्द का चयन करके रिक्त स्थान की पूर्ति करें -  
 संस्थान ने कर्मचारियों से सांस्कृतिक कार्यक्रमों का आयोजन -----।

- Ans  1. करवाई  
 2. सुझाया  
 3. बनवाया  
 4. करवाया

Q.10 निम्नलिखित वाक्य-खंड के स्थान पर किस एक शब्द का प्रयोग सार्थक है? चयन कीजिए-  
 'गलत इरादे से की जाने वाली मंत्रणा या साजिश'499

- Ans  1. दुरभिसंधि  
 2. दुर्धर्ष  
 3. दुर्निवार  
 4. दुर्लघ्य

Q.11 निम्नलिखित किस विकल्प में 'चोर की दाढ़ी में तिनका' लोकोक्ति का सर्वाधिक उपयुक्त अर्थ है-

- Ans  1. चोरी के आरोप से डरना  
 2. चोरी करके डरना  
 3. दोषी का स्वयं डरना  
 4. चोरी से इनकार करना

Q.12 दिए गए वाक्य में सम्बन्ध कारक का चयन करके रिक्त स्थान की पूर्ति करें -  
दार्शनिकों -----विचारधारा का प्रभाव मानव के चारित्रिक विकास पर पड़ता है।

- Ans
- 1. में
  - 2. पर
  - 3. की
  - 4. ने

Q.13 निम्नलिखित वाक्यों को ध्यानपूर्वक पढ़कर अतिरिक्त वाक्य का चयन कीजिये जो अन्य वाक्यों से विषय या क्रम में भिन्न हो -

- Ans
- 1. सूरज उगते ही पक्षी चहचहाने लगते हैं।
  - 2. बच्चे स्कूल जाने की तैयारी करते हैं।
  - 3. बादलों से बरसात होने लगती है।
  - 4. सब्जीवाले गली में आ जाते हैं।

Q.14 नीचे दिए गए वाक्य खंडों को सही क्रम में व्यवस्थित कीजिए-

1. देखता रह
2. मैं
3. की तरफ
4. जाता हूँ
5. उनके चेहरे

- Ans
- 1. 53142
  - 2. 14253
  - 3. 31425
  - 4. 25314

Q.15 मुहावरे के सही अर्थ का चयन करें-

'आंख रखना'

- Ans
- 1. झपकी आना
  - 2. निगरानी करना
  - 3. लज्जित होना
  - 4. क्रोध से देखना

### Comprehension:

गद्यांश के आधार पर प्रश्न का उत्तर दें।

'मादक औषधियाँ' आज एक बहुचर्चित विषय है। अक्सर हम पढ़ते हैं कि हवाई अड्डों पर सीमा शुल्क अधिकारियों द्वारा मादक औषधियाँ जब्त की गईं। अधिक से अधिक युवा इन औषधियों की गिरफ्त में आते जा रहे हैं। आज हमें औषधियों के अवैध व्यापार और इनके दुरुपयोग की दोहरी समस्या का सामना करना पड़ रहा है। यह समस्या पहले इतनी गंभीर नहीं थी। संसार के सबसे बड़े अवैध व्यापार क्षेत्रों के बीच हमारे देश की भौगोलिक स्थिति के कारण समस्या और गंभीर भी हुई है। दक्षिण पूर्व एशियाई देशों-बर्मा, थाईलैंड और लाओस (जो कि 'सुनहरा त्रिकोण' के रूप में जाने जाते हैं) और निकटवर्ती व मध्य एशियाई देशों-पाकिस्तान, अफगानिस्तान और ईरान (सुनहरा चांद) के बीच फंसे होने से भारत मादक औषधियों की तस्करी के एक बड़े मार्ग के रूप में उभरा है। 'सुनहरा त्रिकोण' और 'सुनहरा चांद' अवैध औषधि व्यापार की दो बड़ी धुरियाँ हैं। इसके अलावा उत्तर में नेपाल है जो कि मादक औषधियों के विश्व बाजार में हशिश और मैरिजुआना की आपूर्ति का सबसे बड़ा स्रोत है। मादक औषधियों के दुष्प्रभावों से बेखबर अधिकांश नवयुवक महज जिज्ञासावश इनका सेवन करते हैं।

### SubQuestion No : 16

Q.16 दिए गए विकल्पों में से गद्यांश के लिए उपयुक्त शीर्षक का चुनाव कीजिए।

### Comprehension:

गद्यांश के आधार पर प्रश्न का उत्तर दें।

'मादक औषधियाँ' आज एक बहुचर्चित विषय है। अक्सर हम पढ़ते हैं कि हवाई अड्डों पर सीमा शुल्क अधिकारियों द्वारा मादक औषधियाँ जब्त की गईं। अधिक से अधिक युवा इन औषधियों की गिरफ्त में आते जा रहे हैं। आज हमें औषधियों के अवैध व्यापार और इनके दुरुपयोग की दोहरी समस्या का सामना करना पड़ रहा है। यह समस्या पहले इतनी गंभीर नहीं थी। संसार के सबसे बड़े अवैध व्यापार क्षेत्रों के बीच हमारे देश की भौगोलिक स्थिति के कारण समस्या और गंभीर भी हुई है। दक्षिण पूर्व एशियाई देशों-बर्मा, थाईलैंड और लाओस (जो कि 'सुनहरा त्रिकोण' के रूप में जाने जाते हैं) और निकटवर्ती व मध्य एशियाई देशों-पाकिस्तान, अफगानिस्तान और ईरान (सुनहरा चांद) के बीच फंसे होने से भारत मादक औषधियों की तस्करी के एक बड़े मार्ग के रूप में उभरा है। 'सुनहरा त्रिकोण' और 'सुनहरा चांद' अवैध औषधि व्यापार की दो बड़ी धुरियाँ हैं। इसके अलावा उत्तर में नेपाल है जो कि मादक औषधियों के विश्व बाजार में हशिश और मैरिजुआना की आपूर्ति का सबसे बड़ा स्रोत है। मादक औषधियों के दुष्प्रभावों से बेखबर अधिकांश नवयुवक महज जिज्ञासावश इनका सेवन करते हैं।

### SubQuestion No : 17

Q.17 'सुनहरे त्रिकोण' में कौन-सा देश शामिल नहीं है?

### Comprehension:

गद्यांश के आधार पर प्रश्न का उत्तर दें।

'मादक औषधियाँ' आज एक बहुचर्चित विषय है। अक्सर हम पढ़ते हैं कि हवाई अड्डों पर सीमा शुल्क अधिकारियों द्वारा मादक औषधियाँ जब्त की गईं। अधिक से अधिक युवा इन औषधियों की गिरफ्त में आते जा रहे हैं। आज हमें औषधियों के अवैध व्यापार और इनके दुरुपयोग की दोहरी समस्या का सामना करना पड़ रहा है। यह समस्या पहले इतनी गंभीर नहीं थी। संसार के सबसे बड़े अवैध व्यापार क्षेत्रों के बीच हमारे देश की भौगोलिक स्थिति के कारण समस्या और गंभीर भी हुई है। दक्षिण पूर्व एशियाई देशों-बर्मा, थाईलैंड और लाओस (जो कि 'सुनहरा त्रिकोण' के रूप में जाने जाते हैं) और निकटवर्ती व मध्य एशियाई देशों-पाकिस्तान, अफगानिस्तान और ईरान (सुनहरा चांद) के बीच फंसे होने से भारत मादक औषधियों की तस्करी के एक बड़े मार्ग के रूप में उभरा है। 'सुनहरा त्रिकोण' और 'सुनहरा चांद' अवैध औषधि व्यापार की दो बड़ी धुरियाँ हैं। इसके अलावा उत्तर में नेपाल है जो कि मादक औषधियों के विश्व बाजार में हथिशा और मैरिजुआना की आपूर्ति का सबसे बड़ा स्रोत है। मादक औषधियों के दुष्प्रभावों से बेखबर अधिकांश नवयुवक महज जिज्ञासावश इनका सेवन करते हैं।

### SubQuestion No : 18

Q.18 गद्यांश में प्रयुक्त 'गंभीर' शब्द का विलोम शब्द होगा -

### Comprehension:

गद्यांश के आधार पर प्रश्न का उत्तर दें।

'मादक औषधियाँ' आज एक बहुचर्चित विषय है। अक्सर हम पढ़ते हैं कि हवाई अड्डों पर सीमा शुल्क अधिकारियों द्वारा मादक औषधियाँ जब्त की गईं। अधिक से अधिक युवा इन औषधियों की गिरफ्त में आते जा रहे हैं। आज हमें औषधियों के अवैध व्यापार और इनके दुरुपयोग की दोहरी समस्या का सामना करना पड़ रहा है। यह समस्या पहले इतनी गंभीर नहीं थी। संसार के सबसे बड़े अवैध व्यापार क्षेत्रों के बीच हमारे देश की भौगोलिक स्थिति के कारण समस्या और गंभीर भी हुई है। दक्षिण पूर्व एशियाई देशों-बर्मा, थाईलैंड और लाओस (जो कि 'सुनहरा त्रिकोण' के रूप में जाने जाते हैं) और निकटवर्ती व मध्य एशियाई देशों-पाकिस्तान, अफगानिस्तान और ईरान (सुनहरा चांद) के बीच फंसे होने से भारत मादक औषधियों की तस्करी के एक बड़े मार्ग के रूप में उभरा है। 'सुनहरा त्रिकोण' और 'सुनहरा चांद' अवैध औषधि व्यापार की दो बड़ी धुरियाँ हैं। इसके अलावा उत्तर में नेपाल है जो कि मादक औषधियों के विश्व बाजार में हथिशा और मैरिजुआना की आपूर्ति का सबसे बड़ा स्रोत है। मादक औषधियों के दुष्प्रभावों से बेखबर अधिकांश नवयुवक महज जिज्ञासावश इनका सेवन करते हैं।

### SubQuestion No : 19

Q.19 दिए गए विकल्पों में से 'तस्करी' शब्द के उचित अर्थ का चयन कीजिए।

### Comprehension:

गद्यांश के आधार पर प्रश्न का उत्तर दें।

'मादक औषधियाँ' आज एक बहुचर्चित विषय है। अक्सर हम पढ़ते हैं कि हवाई अड्डों पर सीमा शुल्क अधिकारियों द्वारा मादक औषधियाँ जब्त की गईं। अधिक से अधिक युवा इन औषधियों की गिरफ्त में आते जा रहे हैं। आज हमें औषधियों के अवैध व्यापार और इनके दुरुपयोग की दोहरी समस्या का सामना करना पड़ रहा है। यह समस्या पहले इतनी गंभीर नहीं थी। संसार के सबसे बड़े अवैध व्यापार क्षेत्रों के बीच हमारे देश की भौगोलिक स्थिति के कारण समस्या और गंभीर भी हुई है। दक्षिण पूर्व एशियाई देशों-बर्मा, थाईलैंड और लाओस (जो कि 'सुनहरा त्रिकोण' के रूप में जाने जाते हैं) और निकटवर्ती व मध्य एशियाई देशों-पाकिस्तान, अफगानिस्तान और ईरान (सुनहरा चांद) के बीच फंसे होने से भारत मादक औषधियों की तस्करी के एक बड़े मार्ग के रूप में उभरा है। 'सुनहरा त्रिकोण' और 'सुनहरा चांद' अवैध औषधि व्यापार की दो बड़ी धुरियाँ हैं। इसके अलावा उत्तर में नेपाल है जो कि मादक औषधियों के विश्व बाजार में हथिशा और मैरिजुआना की आपूर्ति का सबसे बड़ा स्रोत है। मादक औषधियों के दुष्प्रभावों से बेखबर अधिकांश नवयुवक महज जिज्ञासावश इनका सेवन करते हैं।

### SubQuestion No : 20

Q.20 दिए गए निष्कर्षों में से कौन-सा निष्कर्ष गद्यांश में निहित है?

### Section : Test of Hindi Language and Comprehension1

Q.1 'प्रभाकर' किसका पर्यायवाची है-

- Ans
- 1. चंद्रमा
  - 2. नदी
  - 3. सूर्य
  - 4. पृथ्वी

Q.2 निम्न विकल्पों में वाक्य के रेखांकित शब्द में शुद्ध वर्तनी का चयन करें  
भारतीय समाज का पुनरुत्थान शिक्षा से ही संभव है।

- Ans
- 1. पुनरुत्थन
  - 2. पुनूरुत्थान
  - 3. पुनुरुत्थान
  - 4. पुनरुत्थान

Q.3 निम्नलिखित में से तत्सम शब्द पहचानें।

- Ans
- 1. सांझ
  - 2. श्वास
  - 3. साँस
  - 4. सांप

Q.4 'सभ्य' का विलोम शब्द होगा -

- Ans  1. बर्बर  
 2. शिष्ट  
 3. भद्र  
 4. भ्रान्त

Q.5 दिये गये वाक्य के किस भाग में त्रुटि है?  
उनकी आयुष्मति कन्या का विवाह कल होगा।

- Ans  1. उनकी  
 2. कन्या का  
 3. विवाह कल होगा।  
 4. आयुष्मति

Q.6 'न रहेगा बाँस न बजेगी बाँसुरी' लोकोक्ति का सही अर्थ चुनिए।

- Ans  1. कारण रहने पर ही कार्य होता है।  
 2. बाँस रहने पर ही बाँसुरी बनती है।  
 3. न कारण होगा, न कार्य होगा।  
 4. बिना बाँस के बाँसुरी नहीं बजती।

Q.7 'छल' का अर्थ है -

- Ans  1. धोखा  
 2. स्वच्छ  
 3. प्रेम  
 4. स्नेह

Q.8 'अंधकार', 'पाप', 'क्रोध' के लिए अनेकार्थी शब्द है -

- Ans  1. तनु  
 2. तम  
 3. तक्षक  
 4. तात

Q.9 'घिग्घी बँध जाना' मुहावरे का सही अर्थ है-

- Ans  1. सफलता के लक्षण प्रकट होना  
 2. असह्य कष्ट सहते हुए मरना  
 3. भय के कारण आवाज न निकलना  
 4. बहुत बंधन में होना

Q.10 निम्नलिखित में से 'इंद्रु' किस शब्द का अनेकार्थी शब्द है?

- Ans  1. दामिनी  
 2. चंद्रमा  
 3. लक्ष्मी  
 4. बिजली

Q.11 'पूर्ववर्ती' का विलोम शब्द है -

- Ans  1. परवर्ती  
 2. आवृत्ति  
 3. निवृत्ति  
 4. निवर्तमान

Q.12 निम्नलिखित में से किस मुहावरे का अर्थ संगत नहीं है?

- Ans  1. नाक भौं चढ़ाना - जिसका कहीं ठिकाना ना हो  
 2. मन मसोस कर रह जाना - मन के भाव को मन में ही दबा देना  
 3. मैदान साफ होना - कोई रुकवट ना होना  
 4. हौसला पस्त होना - हतोत्साहित होना

Q.13 निम्न वाक्य में से शुद्ध वर्तनी वाले वाक्य की पहचान करें -614

- Ans  1. उसने बहुत पुण्य किए हैं ।  
 2. उसने बहुत पुन्य किए हैं ।  
 3. उसने बहुत पून्य किए हैं ।  
 4. उसने बहुत पुनय किए हैं ।

Q.14 निम्नलिखित में कौन -सा शब्द तत्सम है?

- Ans  1. दिशावर  
 2. चक्रवाक  
 3. दोहिता  
 4. अदरक

Q.15 निम्नलिखित वाक्य में वर्तनी की त्रुटियाँ पहचानें और शुद्ध वाक्य लिखें।  
संध्य के समय तोम व्यायाम कर लिया कारो, इससे नींद अच्छी आती है।

- Ans  1. सांध्या के समय तुम व्यायाम कर लियां करो, इससे नींद अच्छी आती है।  
 2. संध्या के समय तूम व्यायाम कर लिया करो, इससे नींद अच्छी आती हैं।  
 3. संध्या के समय तुम व्यायाम कर लिया करो, इससे नींद अच्छी आती है।  
 4. संध्या की समाय तुम व्यायाम कर लेया करो, ईससे नींद अच्छी आती है।

### Comprehension:

गद्यांश के आधार पर प्रश्न का उत्तर दें।

'राष्ट्रभाषा' से अभिप्राय है, 'राष्ट्र की भाषा' अथवा 'समूचे राष्ट्र में प्रयुक्त होने वाली भाषा'। भाषा का मानक रूप प्रायः विकसित होकर इतना सशक्त हो जाता है कि वह देशी-विदेशी शब्दों को ग्रहण कर आत्मसात् कर लेता है। विकास के इस क्रम में वह अपनी क्षेत्रीय विशेषताओं से मुक्त होकर राष्ट्रीय विशेषताओं को ग्रहण कर लेता है और उसमें राष्ट्र की भावनाओं व विचारों की अभिव्यक्ति होने लगती है। भाषा के इसी सशक्त एवं विकसित रूप को 'राष्ट्रभाषा' कहते हैं। 'राष्ट्रभाषा' शब्द दरअसल राष्ट्र की भावनात्मकता से भी जुड़ा हुआ है। राष्ट्र का निर्माण मात्र 'भूमि' से न होकर उसमें निवास करने वाले 'जन' से होता है। संस्कृत में एक उक्ति है- 'माता भूमिः पुत्रोऽहं पृथिव्याः'। प्राचीन काल से ही देश के लोगों को एक सूत्र में पिरोये रखने के लिए किसी-न-किसी भाषा की आवश्यकता पड़ती रही है। राष्ट्रीय सम्मान की दृष्टि से भी राष्ट्रभाषा की आवश्यकता पड़ती है। यदि एक ही राष्ट्र के निवासी परस्पर किसी विदेशी भाषा के माध्यम से वार्तालाप करें तो यह स्थिति आश्चर्यजनक और असंगत कही जा सकती है। इस दृष्टि से राष्ट्रभाषा एक संप्रभु राष्ट्र के लिए प्रासंगिक और आवश्यक हो जाती है।

### SubQuestion No : 16

Q.16 दिए गए विकल्पों में से गद्यांश के लिए उपयुक्त शीर्षक का चुनाव कीजिए।

### Comprehension:

गद्यांश के आधार पर प्रश्न का उत्तर दें।

'राष्ट्रभाषा' से अभिप्राय है, 'राष्ट्र की भाषा' अथवा 'समूचे राष्ट्र में प्रयुक्त होने वाली भाषा'। भाषा का मानक रूप प्रायः विकसित होकर इतना सशक्त हो जाता है कि वह देशी-विदेशी शब्दों को ग्रहण कर आत्मसात् कर लेता है। विकास के इस क्रम में वह अपनी क्षेत्रीय विशेषताओं से मुक्त होकर राष्ट्रीय विशेषताओं को ग्रहण कर लेता है और उसमें राष्ट्र की भावनाओं व विचारों की अभिव्यक्ति होने लगती है। भाषा के इसी सशक्त एवं विकसित रूप को 'राष्ट्रभाषा' कहते हैं। 'राष्ट्रभाषा' शब्द दरअसल राष्ट्र की भावनात्मकता से भी जुड़ा हुआ है। राष्ट्र का निर्माण मात्र 'भूमि' से न होकर उसमें निवास करने वाले 'जन' से होता है। संस्कृत में एक उक्ति है- 'माता भूमिः पुत्रोऽहं पृथिव्याः'। प्राचीन काल से ही देश के लोगों को एक सूत्र में पिरोये रखने के लिए किसी-न-किसी भाषा की आवश्यकता पड़ती रही है। राष्ट्रीय सम्मान की दृष्टि से भी राष्ट्रभाषा की आवश्यकता पड़ती है। यदि एक ही राष्ट्र के निवासी परस्पर किसी विदेशी भाषा के माध्यम से वार्तालाप करें तो यह स्थिति आश्चर्यजनक और असंगत कही जा सकती है। इस दृष्टि से राष्ट्रभाषा एक संप्रभु राष्ट्र के लिए प्रासंगिक और आवश्यक हो जाती है।

### SubQuestion No : 17

Q.17 गद्यांश के अनुसार राष्ट्रभाषा का मानक रूप किस प्रकार विकसित होता है?

### Comprehension:

गद्यांश के आधार पर प्रश्न का उत्तर दें।

'राष्ट्रभाषा' से अभिप्राय है, 'राष्ट्र की भाषा' अथवा 'समूचे राष्ट्र में प्रयुक्त होने वाली भाषा'। भाषा का मानक रूप प्रायः विकसित होकर इतना सशक्त हो जाता है कि वह देशी-विदेशी शब्दों को ग्रहण कर आत्मसात् कर लेता है। विकास के इस क्रम में वह अपनी क्षेत्रीय विशेषताओं से मुक्त होकर राष्ट्रीय विशेषताओं को ग्रहण कर लेता है और उसमें राष्ट्र की भावनाओं व विचारों की अभिव्यक्ति होने लगती है। भाषा के इसी सशक्त एवं विकसित रूप को 'राष्ट्रभाषा' कहते हैं। 'राष्ट्रभाषा' शब्द दरअसल राष्ट्र की भावनात्मकता से भी जुड़ा हुआ है। राष्ट्र का निर्माण मात्र 'भूमि' से न होकर उसमें निवास करने वाले 'जन' से होता है। संस्कृत में एक उक्ति है- 'माता भूमिः पुत्रोऽहं पृथिव्याः'। प्राचीन काल से ही देश के लोगों को एक सूत्र में पिरोये रखने के लिए किसी-न-किसी भाषा की आवश्यकता पड़ती रही है। राष्ट्रीय सम्मान की दृष्टि से भी राष्ट्रभाषा की आवश्यकता पड़ती है। यदि एक ही राष्ट्र के निवासी परस्पर किसी विदेशी भाषा के माध्यम से वार्तालाप करें तो यह स्थिति आश्चर्यजनक और असंगत कही जा सकती है। इस दृष्टि से राष्ट्रभाषा एक संप्रभु राष्ट्र के लिए प्रासंगिक और आवश्यक हो जाती है।

### SubQuestion No : 18

Q.18 गद्यांश के अनुसार राष्ट्रभाषा की आवश्यकता क्यों है?

**Comprehension:**

गद्यांश के आधार पर प्रश्न का उत्तर दें।

'राष्ट्रभाषा' से अभिप्राय है, 'राष्ट्र की भाषा' अथवा 'समूचे राष्ट्र में प्रयुक्त होने वाली भाषा'। भाषा का मानक रूप प्रायः विकसित होकर इतना सशक्त हो जाता है कि वह देशी-विदेशी शब्दों को ग्रहण कर आत्मसात् कर लेता है। विकास के इस क्रम में वह अपनी क्षेत्रीय विशेषताओं से मुक्त होकर राष्ट्रीय विशेषताओं को ग्रहण कर लेता है और उसमें राष्ट्र की भावनाओं व विचारों की अभिव्यक्ति होने लगती है। भाषा के इसी सशक्त एवं विकसित रूप को 'राष्ट्रभाषा' कहते हैं। 'राष्ट्रभाषा' शब्द दरअसल राष्ट्र की भावनात्मकता से भी जुड़ा हुआ है। राष्ट्र का निर्माण मात्र 'भूमि' से न होकर उसमें निवास करने वाले 'जन' से होता है। संस्कृत में एक उक्ति है- 'माता भूमिः पुत्रोऽहं पृथिव्याः'। प्राचीन काल से ही देश के लोगों को एक सूत्र में पिरोये रखने के लिए किसी-न-किसी भाषा की आवश्यकता पड़ती रही है। राष्ट्रीय सम्मान की दृष्टि से भी राष्ट्रभाषा की आवश्यकता पड़ती है। यदि एक ही राष्ट्र के निवासी परस्पर किसी विदेशी भाषा के माध्यम से वार्तालाप करें तो यह स्थिति आश्चर्यजनक और असंगत कही जा सकती है। इस दृष्टि से राष्ट्रभाषा एक संप्रभु राष्ट्र के लिए प्रासंगिक और आवश्यक हो जाती है।

**SubQuestion No : 19**

**Q.19** दिए गए विकल्पों में से कौन-सा गद्यांश में प्रयुक्त 'सूत्र' शब्द का पर्याय नहीं है?

**Comprehension:**

गद्यांश के आधार पर प्रश्न का उत्तर दें।

'राष्ट्रभाषा' से अभिप्राय है, 'राष्ट्र की भाषा' अथवा 'समूचे राष्ट्र में प्रयुक्त होने वाली भाषा'। भाषा का मानक रूप प्रायः विकसित होकर इतना सशक्त हो जाता है कि वह देशी-विदेशी शब्दों को ग्रहण कर आत्मसात् कर लेता है। विकास के इस क्रम में वह अपनी क्षेत्रीय विशेषताओं से मुक्त होकर राष्ट्रीय विशेषताओं को ग्रहण कर लेता है और उसमें राष्ट्र की भावनाओं व विचारों की अभिव्यक्ति होने लगती है। भाषा के इसी सशक्त एवं विकसित रूप को 'राष्ट्रभाषा' कहते हैं। 'राष्ट्रभाषा' शब्द दरअसल राष्ट्र की भावनात्मकता से भी जुड़ा हुआ है। राष्ट्र का निर्माण मात्र 'भूमि' से न होकर उसमें निवास करने वाले 'जन' से होता है। संस्कृत में एक उक्ति है- 'माता भूमिः पुत्रोऽहं पृथिव्याः'। प्राचीन काल से ही देश के लोगों को एक सूत्र में पिरोये रखने के लिए किसी-न-किसी भाषा की आवश्यकता पड़ती रही है। राष्ट्रीय सम्मान की दृष्टि से भी राष्ट्रभाषा की आवश्यकता पड़ती है। यदि एक ही राष्ट्र के निवासी परस्पर किसी विदेशी भाषा के माध्यम से वार्तालाप करें तो यह स्थिति आश्चर्यजनक और असंगत कही जा सकती है। इस दृष्टि से राष्ट्रभाषा एक संप्रभु राष्ट्र के लिए प्रासंगिक और आवश्यक हो जाती है।

**SubQuestion No : 20**

**Q.20** प्रस्तुत गद्यांश के सारांश का विकल्पों में से चयन कीजिए।