



GOVT. OF NCT OF DELHI
Delhi Subordinate Services Selection Board
FC-18, Institutional Area, Karkardooma, Delhi – 110092.
www.dsssb.delhigovt.nic.in

Participant Name	YASH SHARMA
Test Center Name	Aadarsh Pariksha Kendra CENTER A - Gate No 1 - Noida Sector 64
Test Date	30/03/2026
Test Time	9:00 AM - 11:00 AM
Subject	Multi Tasking Staff

Section : General intelligence and Reasoning Ability

Q.1 In this question, a question is followed by two statements numbered (I) and (II). You have to decide whether the data provided in the statements are sufficient to answer the question. Read both the statements and decide the appropriate answer.

Question:

A, B, C, D, and E have different heights. Who is the tallest?

Statements:

(I) A is taller than D. D is taller than C. C is taller than B. A is taller than E.

(II) E is taller than C. B is taller than D.

- Ans**
- 1. Both statements I and II together (and not statement I alone or statement II alone) are sufficient to answer the question.
 - 2. Both statements I and II together are NOT sufficient to answer the question
 - 3. Data in Statement I alone is sufficient to answer the question while data in statement II is not
 - 4. Data in Statement II alone is sufficient to answer the question while data in statement I is not

Q.2 In this question, a statement is followed by two conclusions. Find out which conclusion is true based on the given statement.

Statement: $S > D < B < Q = L$

Conclusions:

I. $S < B$

II. $L < S$

- Ans**
- 1. Only I is true
 - 2. Neither I nor II is true
 - 3. Both I and II are true
 - 4. Only II is true

Q.3 In a certain code language, 'KEPT' is coded as '5372' and 'PING' is coded as '4631'. What is the code for 'P' in the given code language?

- Ans**
- 1. 1
 - 2. 7
 - 3. 4
 - 4. 3

Q.4 Refer to the following number series and answer the question that follows.
Counting to be done from left to right only. (All numbers are single-digit numbers only.)
(Left) 4 2 3 6 9 5 1 5 2 5 8 6 3 9 8 7 4 1 5 2 3 6 2 5 9 8 7 5 1 5 6 3 2 1 5 9 8 7 5 1 5 2 3 6
(Right)
How many such even digits are there each of which is immediately preceded by an even digit and immediately followed by an odd digit?³⁶⁵⁴

- Ans 1. 1
 2. 3
 3. 2
 4. 4

Q.5 Seven boxes S, T, U, V, D, E and F are kept one over the other but not necessarily in the same order. Only three boxes are kept above D. Only one box is kept between F and D. Only three boxes are kept between F and V. V is kept at some place above D. T is kept immediately below V. S is kept at one of the places above E. U is not kept immediately above or below F. Which box is kept at the lowermost position?

- Ans 1. E
 2. V
 3. F
 4. S

Q.6 Refer to the following series and answer the question
(Left)
K U H S H A L T U P E E C H E H O L E K Y A H T U P G A L
T O (Right)
How many letters are there in the English alphabetical order between the letter which is third from the left end and the letter which is sixth from the right end of the series?¹⁵⁷⁵³

- Ans 1. FIVE
 2. SIX
 3. EIGHT
 4. SEVEN

Q.7 A, B, C, D, E and F live on six different floors of the same building. The lowermost floor in the building is numbered 1, the floor above it, number 2 and so on till the topmost floor is numbered 6. The product of floors on which D and C live is 10. A lives immediately above F. The sum of floors on which E and D live is 11. How many people live below C?

- Ans 1. 3
 2. 2
 3. 1
 4. 4

Q.8 Select the option that represents the correct order of the given words as they would appear in an English dictionary.
1. Pilgrim
2. Painted
3. Producer
4. Partners
5. Practice

- Ans 1. 3, 5, 4, 1, 2
 2. 2, 4, 1, 5, 3
 3. 3, 5, 2, 4, 1
 4. 5, 3, 2, 4, 1

Q.9 H, I, J, M, N, O and P are sitting in a straight line, facing north. Only two people sit to the left of H. Only three people sit between H and M. N sits second to the right of H. Only two people sit between N and P. J sits at some place to the right of I but at some place to the left of O. How many people sit to the right of J?

- Ans
- 1. One
 - 2. Three
 - 3. Four
 - 4. Two

Q.10 E, F, G, H, Q, R and S are sitting around a circular table facing the centre of the table. S sits to the immediate left of G. H sits to the immediate left of F. F sits second to the left of Q. E sits third to the left of G. Who sits third to the right of R?

- Ans
- 1. Q
 - 2. S
 - 3. E
 - 4. H

Q.11 In this question, a statement is followed by two conclusions. Find out which conclusion is true based on the given statement.

Statement: $Q > L \leq B > S = D$

Conclusions:

I. $B < Q$

II. $D < B$

- Ans
- 1. Neither I nor II is true
 - 2. Only I is true
 - 3. Both I and II are true
 - 4. Only II is true

Q.12 Read the given statements and conclusions carefully. You have to take the given statements to be true even if they seem to be at variance from commonly known facts. You have to decide which conclusion/s logically follow/s from the given statements

Statements: Some monsoons are umbrellas. Some umbrellas are rains.

Conclusion (I) : Some monsoons are rains

Conclusion (II) : All rains are umbrellas

- Ans
- 1. Only conclusion (II) follows
 - 2. Neither conclusion (I) nor (II) follows
 - 3. Both conclusions (I) and (II) follow
 - 4. Only conclusion (I) follows

Q.13 Refer to the following letter, symbol series and answer the question. Counting to be done from left to right only.

(Left) I A & @ @ # X % A N * @ W U # P \$ U X & K Y (Right)

How many such symbols are there, each of which is immediately preceded by a letter and also immediately followed by a symbol?

- Ans
- 1. 1
 - 2. 4
 - 3. 3
 - 4. 2

Q.14 Joy is the father of Ken. Pat is the brother of Lily. Ken is the son of Lily. Tim is the father of Lily. How is Pat related to Joy?

- Ans 1. Wife's brother
 2. Mother's father
 3. Sister's husband
 4. Wife's father

Q.15 Refer to the following letter series and answer the question that follows.

(Left) E N H V T J Q F K G C L H W M D R K P B A (Right)

How many letters are there in the English alphabetical order between the letter that is third from the left end and the letter that is fourth from the right end of the series?

- Ans 1. Three
 2. One
 3. Two
 4. Four

Q.16 In a certain code language, 'MANS' is coded as '0367' and 'ANTS' is coded as '6053'. What is the code for 'T' in the given code language?729

- Ans 1. 6
 2. 3
 3. 5
 4. 0

Q.17 In a row of certain number of students facing the north, if Meena is 3rd from the left end and 18th from the right end of the row, how many students are there in the row?

- Ans 1. 22
 2. 19
 3. 21
 4. 20

Q.18 Refer to the following letter series and answer the question that follows (counting to be done from left to right only).

(Left) Q W C V B N M K O L P Y G B V F T R E D C X D F V G M K L P E W (Right)

How many such consonants are there, each of which is immediately preceded by a vowel and also immediately followed by a consonant?

- Ans 1. 4
 2. 3
 3. 2
 4. 1

Q.19 Seven boxes S, T, U, V, D, E and F are kept one over the other but not necessarily in the same order. U is kept immediately above E. F is kept immediately above V. Only S is kept above D. Only two boxes are kept above U. F is not kept at third position from the bottom. How many boxes are kept between T and S?

- Ans 1. Two
 2. Four
 3. One
 4. Three

Q.20 In a certain code language, 'technology fuels growth' is coded as 'az ty rq' and 'fuels the future' is coded as 'cf az mo'. How is 'fuels' coded in the given language?

- Ans**
- 1. mo
 - 2. rq
 - 3. az
 - 4. ty

Section : General intelligence and Reasoning Ability1

Q.1 Select the set in which the numbers are related in the same way as are the numbers of the following sets.

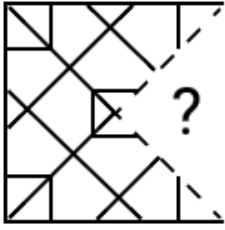
(NOTE: Operations should be performed on the whole numbers, without breaking down the numbers into their constituent digits. E.g. 13 - Operations on 13 such as adding / subtracting / multiplying, etc. to 13 can be performed. Breaking down 13 into 1 and 3 and then performing mathematical operations on 1 and 3 is not allowed.)

(60,20,10)

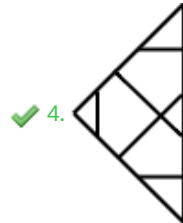
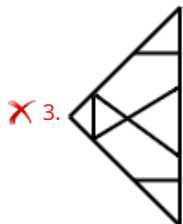
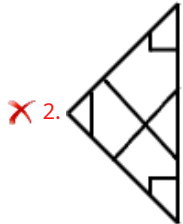
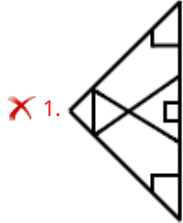
(58,15,14)

- Ans**
- 1. (52,19,7)
 - 2. (8,17,7)
 - 3. (6,16,12)
 - 4. (6,19,14)

Q.2 Select the option figure that will replace the question mark (?) in the figure given below to complete the pattern.



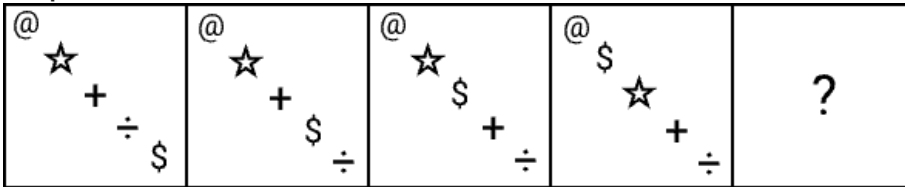
Ans



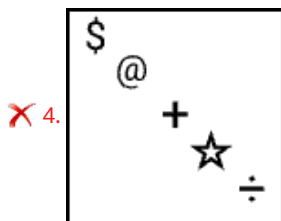
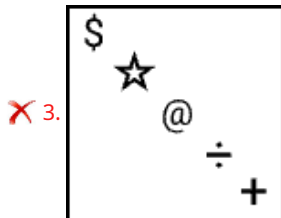
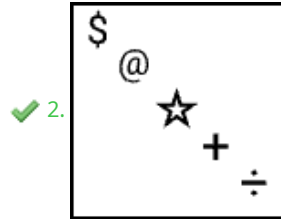
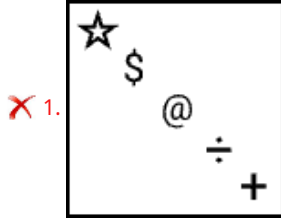
Q.3 If 'P' stands for '.', 'Q' stands for '×', 'C' stands for '÷' and 'D' stands for '+', what will come in place of the question mark '?' in the following equation?
 $6 D 8 C 4 Q 12 P 31 = ?$

- Ans
- ✗ 1. -6
 - ✗ 2. 9
 - ✗ 3. -4
 - ✓ 4. -1

Q.4 Identify the figure given in the options which when put in place of ? will logically complete the series.



Ans



Q.5 Select the pair which follows the same pattern as that followed by the two pairs given below. Both pairs follow the same pattern.

CDF:DFI

PRU:QTX

Ans ✓ 1. MNR:NPU

✗ 2. DJH:FHK

✗ 3. ORV:PSZ

✗ 4. GHW:HJA

Q.6 Select the set in which the numbers are related in the same way as are the numbers of the following sets.

(NOTE : Operations should be performed on the whole numbers, without breaking down the numbers into its constituent digits. E.g. 13 - Operations on 13 such as adding /deleting /multiplying etc. to 13 can be performed. Breaking down 13 into 1 and 3 and then performing mathematical operations on 1 and 3 is not allowed)
(94,90,736)
(59,94,612)

- Ans
- 1. (76,3,660)
 - 2. (53,51,416)
 - 3. (13,33,84)
 - 4. (68,89,68)

Q.7 Select the set in which the numbers are related in the same way as are the numbers of the following sets.

(NOTE : Operations should be performed on the whole numbers, without breaking down the numbers into its constituent digits. E.g. 13 - Operations on 13 such as adding /subtracting /multiplying etc. to 13 can be performed. Breaking down 13 into 1 and 3 and then performing mathematical operations on 1 and 3 is not allowed)

(99,46,580)
(42,7,196)

- Ans
- 1. (8,35,92)
 - 2. (63,98,64)
 - 3. (92,3,380)
 - 4. (24,35,36)

Q.8 If + means \times , \times means \div , - means +, and \div means -, then what will come in place of the question mark (?) in the following equation?

$$75 \times 15 - 10 \div 8 + 5 = ?$$

- Ans
- 1. - 54
 - 2. - 25
 - 3. - 26
 - 4. - 48

Q.9 CZWA is related to DAXB in a certain way based on the English alphabetical order. In the same way, XURV is related to YVSW. To which of the following is BYVZ related, following the same logic?15657

- Ans
- 1. CAVE
 - 2. CZWA
 - 3. CZVA
 - 4. CYVA

Q.10 Based on the English alphabetical order, three of the following four letter-cluster pairs are alike in a certain way and thus form a group. Which is the one that does not belong to that group?

(Note: The odd one out is not based on the number of consonants/vowels or their position in the letter cluster.)

- Ans
- 1. RU - LJ
 - 2. TW - UX
 - 3. OR - PS
 - 4. QT - RU

Q.11 FISH is related to ISHF in a certain way based on the English alphabetical order. In the same way, DESK is related to ESKD. To which of the given options is ROAD related, following the same logic?2255

- Ans
- 1. RDOA
 - 2. DORA
 - 3. AODR
 - 4. OADR

Q.12 Based on the English alphabetical order, three of the following four letter-cluster pairs are alike in a certain way and thus form a group. Which is the one that does not belong to that group?

(Note: The odd one out is not based on the number of consonants/vowels or their position in the letter cluster.)

- Ans
- 1. XW - ZY
 - 2. GH - PQ
 - 3. JI - LK
 - 4. BA - DC

Q.13 If 2 is subtracted from each odd digit and 1 is added to each even digit in the number 5378462, what will be the sum of the digits which are second from the left and second from the right in the new number thus formed?

- Ans
- 1. 10
 - 2. 11
 - 3. 8
 - 4. 12

Q.14 Based on the English alphabetical order, three of the following four are alike in a certain way and thus form a group. Which is the one that does not belong to that group? (Note: The odd one out is not based on the number of consonants/vowels or their position in the letter-cluster.)

- Ans
- 1. GKI
 - 2. WAY
 - 3. KOM
 - 4. EJG

Q.15 Read the given statements and conclusions carefully. You have to take the given statements to be true even if they seem to be at variance from commonly known facts. You have to decide which conclusion/s logically follow/s from the given statements

Statements: Some trees are heads. No head is a cream.

Conclusions (I) : Some trees are creams

Conclusions (II) : Some heads are trees

- Ans
- 1. Both conclusions (I) and (II) follow
 - 2. Only conclusion (I) follows
 - 3. Neither conclusion (I) nor (II) follows
 - 4. Only conclusion (II) follows

Q.16 What should come in place of '?' in the given series?

32 64 96 128 160 ?

- Ans
- 1. 191
 - 2. 193
 - 3. 192
 - 4. 190

Q.17 Each of the digits in the number 5376148 is arranged in ascending order from left to right. What will be the sum of the digits which are second from the left and second from the right in the new number thus formed?

- Ans
- 1. 7
 - 2. 9
 - 3. 8
 - 4. 10

Q.18 What should come in place of ? in the given series?

52 53 55 59 67 ?

- Ans
- 1. 84
 - 2. 83
 - 3. 82
 - 4. 81

Q.19 What should come in place of '?' in the given series?

23 24 27 32 39 ?

- Ans
- 1. 48
 - 2. 46
 - 3. 45
 - 4. 47

Q.20 If 'S' stands for '-', 'T' stands for 'x', 'U' stands for '+' and 'V' stands for '+', what will be come in place of the question mark '?' in the following equation?

7 U 1 V 9 S 8 T 2 = ?

- Ans
- 1. 1
 - 2. 3
 - 3. 2
 - 4. 0

Section : General Awareness

Q.1 In October 2025, Prime Minister Narendra Modi inaugurated India's largest greenfield airport located in which city?

- Ans
- 1. Hyderabad
 - 2. Bengaluru
 - 3. Navi Mumbai
 - 4. New Delhi

Q.2 In IPL 2025, Virat Kohli broke whose record to become the player with the most fifty-plus scores in Indian Premier League history?

- Ans
- 1. Rohit Sharma
 - 2. AB de Villiers
 - 3. David Warner
 - 4. Chris Gayle

Q.3 Arrange the following in the chronology of the time sequence in Indian Political History.

- Split of the Indian National Congress into Moderates and Radicals
- Partition of Bengal
- Formation of the All India Muslim League
- Formation of the Indian National Congress

Ans 1. 1, 2, 3, 4

2. 4, 2, 3, 1

3. 4, 3, 2, 1

4. 2, 4, 3, 1

Q.4 Which of these space sector activities had authorisations granted by IN-SPACe in 2026?

Ans 1. Nuclear propulsion R&D

2. Establishment of space hotel

3. Mars colonisation missions

4. Amateur satellite operations

Q.5 In February 2025, ISRO, along with which institute, developed an indigenous semiconductor chip for space-based applications?

Ans 1. IIT Kanpur

2. BITS Pilani

3. IIT Madras

4. IISc Bengaluru

Q.6 In which of the following years did Mahatma Gandhi return to India from South Africa?

Ans 1. 1907

2. 1899

3. 1915

4. 1911

Q.7 The slogan "Swaraj is my birthright and I shall have it" reflected the ideological shift in the Indian National Movement from Moderate constitutional methods to assertive nationalism. Which leader gave this slogan during the Extremist Phase (1905-1919)?

Ans 1. Bal Gangadhar Tilak

2. Bipin Chandra Pal

3. Dadabhai Naoroji

4. Lala Lajpat Rai

Q.8 What is India's first state-of-the-art train under the Delhi-Meerut RRTS corridor called?

Ans 1. Vande Rapid

2. Namo Bharat

3. Bharat Express

4. RapidX Train

Q.9 Which apex financial institution is responsible for promoting and financing agricultural and rural development activities in India?

Ans 1. RBI

2. SEBI

3. SIDBI

4. NABARD

Q.10 Where was the 2025 season of ASMITA league, a part of Khelo India's gender neutrality mission, inaugurated?

- Ans**
- 1. Modinagar, Uttar Pradesh
 - 2. Kolkata, West Bengal
 - 3. Nagpur, Maharashtra
 - 4. Gurugram, Haryana

Q.11 Who was the founder of the Young Bengal Movement, a movement deeply influenced by the principles of the French Revolution?

- Ans**
- 1. Rabindranath Tagore
 - 2. Dayanand Saraswati
 - 3. Sarat Chandra Chatterjee
 - 4. Henry Louis Vivian Derozio

Q.12 What are the two main/primary factors of production in economics?

- Ans**
- 1. Land and labor
 - 2. Imports and exports
 - 3. Demand and supply
 - 4. Banks and loans

Q.13 Which bank specializes in providing agricultural credit and development assistance?

- Ans**
- 1. SEBI
 - 2. NABARD
 - 3. RBI
 - 4. ICICI

Q.14 What is the objective of the SagarMala scheme?

- Ans**
- 1. Development of inland waterways and port connectivity
 - 2. Development of digital infrastructure
 - 3. Development of green energy parks
 - 4. Development of new airports

Q.15 How many seats did the Bharatiya Janata Party (BJP) secure in Delhi Assembly Elections 2025?

- Ans**
- 1. 70
 - 2. 48
 - 3. 22
 - 4. 68

Q.16 In April 2025, Vaibhav Suryavanshi became the youngest IPL player by debuting for which team?

- Ans**
- 1. Delhi Capitals
 - 2. Gujarat Titans
 - 3. Chennai Super Kings
 - 4. Rajasthan Royals

Q.17 Which of the following would cause an increase in GDP using the expenditure approach?

- Ans**
- 1. An increase in government spending
 - 2. A decrease in consumer spending
 - 3. An increase in national savings
 - 4. A reduction in exports

Q.18 In which year did Gandhiji launch a nationwide non-violent protest against the Rowlatt Act?

- Ans
- 1. 1932
 - 2. 1919
 - 3. 1930
 - 4. 1920

Q.19 In 2025, marking Bhupen Hazarika's birth centenary, which national honour was announced?

- Ans
- 1. Issue of a ₹100 coin
 - 2. National cultural festival in his name
 - 3. Institution of a music lifetime award
 - 4. Renaming of a national auditorium

Q.20 The ancient Buddhist University of Nalanda was located in which state of India?

- Ans
- 1. West Bengal
 - 2. Jharkhand
 - 3. Maharashtra
 - 4. Bihar

Section : General Awareness1

Q.1 स्तूप के परितः बने परिक्रमा पथ (प्रदक्षिणा पथ) को घेरने वाली पत्थर की रेलिंग को _____ कहा जाता है।

- Ans
- 1. अंडा (Anda)
 - 2. तोरण (Torana)
 - 3. वेदिका (Vedika)
 - 4. हर्मिका (Harmika)

Q.2 Which of the following Indian festivals is also known as the "Festival of Colors"?

- Ans
- 1. Diwali
 - 2. Navratri
 - 3. Holi
 - 4. Baisakhi

Q.3 प्रधानमंत्री रोजगार प्रोत्साहन योजना किस मंत्रालय द्वारा प्रारंभ की गई थी?

- Ans
- 1. कॉर्पोरेट कार्य मंत्रालय
 - 2. ग्रामीण विकास मंत्रालय
 - 3. श्रम एवं रोजगार मंत्रालय
 - 4. वित्त मंत्रालय

Q.4 The Lotus Temple is a place of worship for which faith?

- Ans
- 1. Bahai
 - 2. Islam
 - 3. Buddhism
 - 4. Hinduism

Q.5 Which state is NOT a major producer of rabi crops like wheat and mustard?

- Ans
- 1. Haryana
 - 2. Kerala
 - 3. Punjab
 - 4. Himachal Pradesh

Q.6 A visible or functional characteristic of an organism, such as flower colour or seed shape, is referred to as which of the following?

- Ans
- 1. Zygote
 - 2. Locus
 - 3. Genotype
 - 4. Trait

Q.7 Which of the following are small, colourless, disk-shaped cell fragments produced in the bone marrow of humans that are essential for blood clotting and stopping bleeding?

- Ans
- 1. White Blood Cells
 - 2. Platelets
 - 3. Plasma
 - 4. Red Blood Cells

Q.8 As per Right Against Exploitation, Section 67 of the Factories Act, 1948, prohibits employment of children below which age in any factory?

- Ans
- 1. 14 years
 - 2. 10 years
 - 3. 8 years
 - 4. 11 years

Q.9 Which of the following is a distinguishing feature of the Malabar Coast?

- Ans
- 1. Kayals
 - 2. Mountain passes
 - 3. Salt lakes
 - 4. Desert dunes

Q.10 The upward movement of water in plants is carried out by which tissue?

- Ans
- 1. Epidermis
 - 2. Phloem
 - 3. Cambium
 - 4. Xylem

Q.11 Which mountain range is a UNESCO World Heritage Site for its biodiversity?

- Ans
- 1. Aravalli Range
 - 2. Western Ghats
 - 3. Eastern Ghats
 - 4. Himalayas

Q.12 In Bhavnagar district of Gujarat, which ancient site with about 30 rock-cut caves, Jain and Buddhist influences, and the unique 'Ebhal Mandapa' is believed to date before the 1st century CE?

- Ans
- 1. Talaja Caves
 - 2. Sanchi, with its famous stupa
 - 3. Ajanta, with its cave art
 - 4. Ellora, with its temples

Q.13 The real executive power of the Union of India is vested in the:

- Ans
- 1. Parliament
 - 2. President of India
 - 3. Speaker of the Lok Sabha
 - 4. Prime Minister of India

Q.14 Which slippery material coats the inner wall of the stomach?

- Ans
- 1. Bile
 - 2. Mucus
 - 3. Pepsin
 - 4. Saliva

Q.15 As of October 2024, which state in India has the highest installed renewable energy capacity?

- Ans
- 1. Karnataka
 - 2. Rajasthan
 - 3. Tamil Nadu
 - 4. Gujarat

Q.16 Which of the following is a right available to every citizen under Article 21?

- Ans
- 1. Right to life and personal liberty
 - 2. Right to property
 - 3. Right to equality
 - 4. Right to vote

Q.17 Which of the following correctly describes the composition of Parliament under Article 79 of the Constitution of India?

- Ans
- 1. President, Rajya Sabha and Lok Sabha
 - 2. Lok Sabha and Rajya Sabha only
 - 3. President and Lok Sabha only
 - 4. Prime Minister, Lok Sabha and Rajya Sabha

Q.18 Which of the following Articles of the Indian Constitution states 'Every Judge of a High Court shall be appointed by the President'?

- Ans
- 1. Article 88
 - 2. Article 168
 - 3. Article 217
 - 4. Article 125

Q.19 What is the primary religious focus of the Kumbh Mela?

- Ans
- 1. Dance and Music
 - 2. Agricultural Celebration
 - 3. Pilgrimage and Ritual Bath
 - 4. Commemoration of a Historical Event

Q.20 Who is known as the father of genetics for his experiments on pea plants?

- Ans
- 1. James Watson
 - 2. Charles Darwin
 - 3. Gregor Mendel
 - 4. Louis Pasteur

Section : **Arithmetical and Numerical Ability**

Q.1 Find the average of 311, 129, 96, 46, 125 and 103.

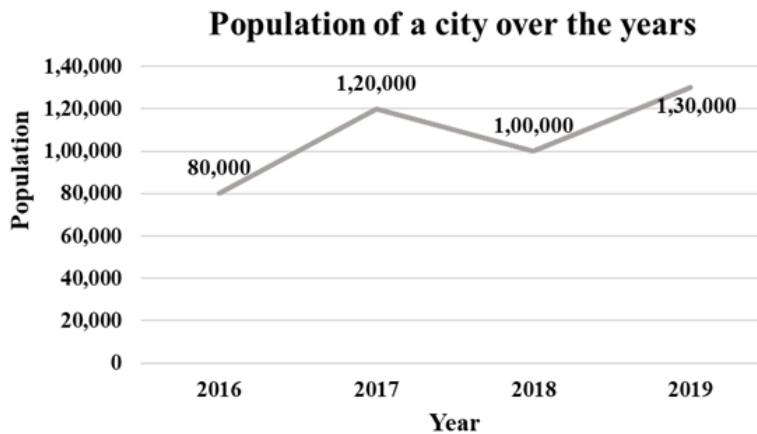
- Ans
- 1. 136
 - 2. 134
 - 3. 135
 - 4. 137

Q.2 Anuj and Rahul each invest ₹10,000 for a period of 4 years at an interest rate of 2% per annum. Anuj invests the amount at compound interest, compounded annually, while Rahul invests at simple interest. Calculate by how much value will Anuj be in profit over Rahul?

Given - $(1.02)^4 = 1.0824$

- Ans
- 1. ₹24
 - 2. ₹18
 - 3. ₹10
 - 4. ₹12

Q.3 The line graph shows the population of a city over the years. What was the population in the year 2018?



- Ans
- 1. 1,00,000
 - 2. 1,30,000
 - 3. 80,000
 - 4. 1,20,000

Q.4 Rakesh bought 51 books for ₹1,150 from one shop and 49 books for ₹920 from another. What is the average price (in ₹) did he pay per book?

- Ans
- 1. 21.7
 - 2. 23.7
 - 3. 22.7
 - 4. 20.7

Q.5 एक विक्रेता ने रुपये में 26 नींबू की दर से नींबू खरीदे। 100% का लाभ अर्जित करने के लिए उसे एक रुपये में कितने नींबू बेचने होंगे?

- Ans
- 1. 17
 - 2. 15
 - 3. 14
 - 4. 13

Q.6 A factory produces defective items at a rate of 6 for every 47 good items. If the total production in a day is 10,706 items, what is the total production of defective items from the factory in 3 days?

- Ans
- 1. 3,672
 - 2. 3,618
 - 3. 3,636
 - 4. 3,654

Q.7 In a cricket match, a batsman scored 80 runs, which included 6 fours and 4 sixes. What percentage of his total score did he make by running between the wickets?

- Ans
- 1. 61%
 - 2. 41%
 - 3. 60%
 - 4. 40%

Q.8 A number is successively increased by 10% and 15%. Now, the number is 31625. The original number before increments was ____.

- Ans
- 1. 22500
 - 2. 20000
 - 3. 25000
 - 4. 27500

Q.9 A vendor sold 30 chocolates for a rupee, thereby gaining 20%. How many did he buy for a rupee?

- Ans
- 1. 40
 - 2. 38
 - 3. 36
 - 4. 42

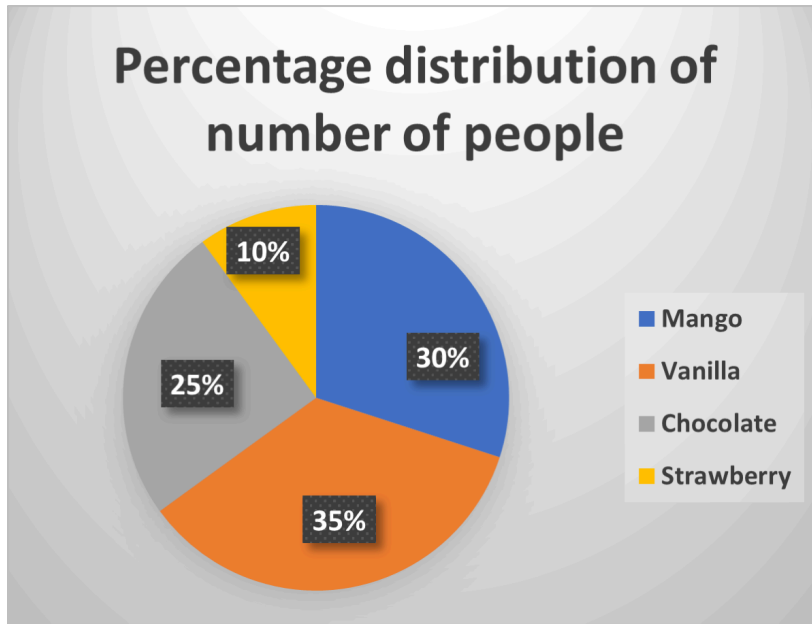
Q.10 Saurav deposited a certain sum of money at 20% per annum, compounded annually. At the end of 2 years, the total amount received was ₹62,352. Find the sum of money deposited by Saurav.

- Ans
- 1. ₹43156
 - 2. ₹43084
 - 3. ₹43300
 - 4. ₹43684

Q.11 The value of the expression $\sqrt{9x^2} \times (x^2)^2 \times (\sqrt{x^8})^{0.5}$ is ____.

- Ans
- 1. $3x^7$
 - 2. $3x^3$
 - 3. $3x^4$
 - 4. $3x^2$

Q.12 In summer season, a survey was conducted among 120 people about their favorite ice-cream. The following pie chart shows the distribution.



What is the difference between the number of people who like Vanilla ice-cream and those who like Chocolate ice-cream?

- Ans
- 1. 12
 - 2. 10
 - 3. 11
 - 4. 8

Q.13 A quantity is increased by 20%. To make it the same quantity again, it should be decreased by ___%.

- Ans
- 1. $\frac{70}{3}$
 - 2. $\frac{50}{3}$
 - 3. 21
 - 4. 20

Q.14 An officer spends 10% of his salary on house rent. From the remaining amount, he spends 40% on conveyance, 20% of the rest on income tax, and 10% of the balance on clothes. He is left with ₹19,440. What was his total salary?

- Ans
- 1. ₹40,000
 - 2. ₹70,000
 - 3. ₹50,000
 - 4. ₹60,000

Q.15 Find the difference between compound interest, compounded annually and half-yearly for ₹12,000 at 10% per annum over 1½ years.

- Ans
- 1. ₹37.20
 - 2. ₹31.50
 - 3. ₹30.25
 - 4. ₹40.25

Q.16 What is the L.C.M of 0.726, 31.68 and 0.8712?

- Ans
- 1. 258.94
 - 2. 348.48
 - 3. 376.94
 - 4. 445.83

Q.17 At what rate (in percentage) of interest per year will a sum of money double itself in 5 years on simple interest?

- Ans
- 1. 20
 - 2. 22
 - 3. 40
 - 4. 18

Q.18 A student's marks were incorrectly entered as 49 instead of 56. Due to

What is the number of students in the class?

- Ans
- 1. 1
 - 2. 4
 - 3. 6
 - 4. 2

Q.19 32 workers can complete a piece of work in 16 days. In how many days can 8 workers complete the same work?

- Ans
- 1. 64
 - 2. 32
 - 3. 8
 - 4. 16

Q.20 The captain of a football team of 18 members (11 field players + 7 substitutes) is 28 years old and the goal keeper is 4 years older than him. If these two players are excluded, the average age of the team reduces by 1 year. The average age (in years) of the whole team is:

- Ans
- 1. 21
 - 2. 22
 - 3. 24
 - 4. 18

Section : Arithmetical and Numerical Ability1

Q.1 A and B can dig a pond in 13 days and 22 days, respectively. After finishing that work together, they receive an amount of ₹9,275. What is the share of A (in ₹) in that amount?

- Ans
- 1. 5,680
 - 2. 5,270
 - 3. 5,830
 - 4. 5,490

Q.2 The cost price of 18 articles is equal to the selling price of 12 articles.

3028



- Ans
- 1. 30% loss
 - 2. 50% loss
 - 3. 50% profit
 - 4. 30% profit

Q.3 In a college, the ratio of boys to girls is 5 : 2 and the ratio of girls to professors is 9 : 4. The ratio of students to professors is:

- Ans
- 1. 63 : 4
 - 2. 63 : 8
 - 3. 9 : 4
 - 4. 45 : 8

Q.4 Two trains on parallel tracks travel in the same direction. Train P is 180 m long moving at 90 km/h, and Train Q is 120 m long moving at 54 km/h. How long will P take to completely overtake Q?

- Ans
- 1. 12 seconds
 - 2. 20 seconds
 - 3. 30 seconds
 - 4. 5 seconds

Q.5 Three pipes A, B and C can fill a tank in 12, 18 and 36 minutes, respectively. If all three pipes are opened together, how long will it take to fill the tank?

- Ans
- 1. 6 minutes
 - 2. 4 minutes
 - 3. 8 minutes
 - 4. 9 minutes

Q.6 Vipul buys mangoes at the rate of 3 kg for ₹15 and sells them at 5 kg for ₹50. To earn ₹100 as profit, how many kilograms of mangoes must he sell?

- Ans
- 1. 22
 - 2. 23
 - 3. 20
 - 4. 21

Q.7 Two pipes X and Y can fill a tank in 72 minutes and 90 minutes, respectively. If both the pipes are opened simultaneously, how much time (in minutes)



- Ans
- 1. 30
 - 2. 35
 - 3. 45
 - 4. 40

Q.8 The volume (in m^3) of a cube, each of whose edges is 37 m, is:

- Ans
- 1. 50686
 - 2. 50776
 - 3. 50653
 - 4. 50530

Q.9 A bus travels from city A to B, B to C, and C to D. The distance between A and B is 30 km less, and the distance between C and D is 24 km more than the distance between B and C. Find the difference in the speeds (in km/h) at which the bus travelled between A and B and between C and D. The times taken from A to B, B to C, and C to D form an arithmetic progression with a common difference of 1 hour. The total time taken to travel from A to D is 12 hours, and the average speed for the whole journey is 37 km/h.

- Ans
- 1. 2.2
 - 2. 4.3
 - 3. 2.7
 - 4. 5.2

Q.10 A and B started a business with a certain capital. A contributed one-ninth of the capital for 12 months, and B received sixteen-nineteenths of the profit. For how many months was B's money invested?

- Ans
- 1. 9
 - 2. 7
 - 3. 8
 - 4. 6

Q.11 A product is marked at ₹1,370 and a discount of 12% is offered on the marked price. Find the selling price of the product.

- Ans
- 1. ₹1,245.15
 - 2. ₹1,265.70
 - 3. ₹1,205.60
 - 4. ₹1,285.35

Q.12 A pipe can fill a tank in 12 hours, but due to a leak, it takes 15 hours. How long will the leak take to empty the full tank?

- Ans
- 1. 50 hours
 - 2. 60 hours
 - 3. 40 hours
 - 4. 45 hours

Q.13 Two trains of equal length take 18 seconds and 30 seconds, respectively, to cross a pole. If the trains are running in the same direction, how long (in seconds) will they take to cross each other?

- Ans
- 1. 96
 - 2. 93
 - 3. 100
 - 4. 90

Q.14 Which of the following ratios is the greatest?

- Ans
- 1. 3 : 5
 - 2. 4 : 7
 - 3. 7 : 9
 - 4. 9 : 11

Q.15 If $\frac{a}{b} = \frac{3}{5}$, then find the value of $\frac{7a - 3b}{5a + 3b}$.

- Ans
- 1. 5 : 2
 - 2. 1 : 5
 - 3. 2 : 5
 - 4. 5 : 3

Q.16 Calculate the surface area of a sphere having a diameter of 28 cm.

(Take $\pi = \frac{22}{7}$)

- Ans
- 1. 2424 cm²
 - 2. 2436 cm²
 - 3. 2496 cm²
 - 4. 2464 cm²

Q.17 The outer dimensions of a wooden box are 10 cm × 8 cm × P cm. The cost to make the box is ₹6400 at the rate of ₹20 per cm³. The value of P

- Ans
- 1. 7
 - 2. 7.5
 - 3. 8
 - 4. 6.5

Q.18 A man completes a journey in 15 hours. He travels the first half of the distance at a rate of 24 km/h and the second half at a rate of 21 km/h. Find the total distance of the journey.

- Ans
- 1. 336 km
 - 2. 300 km
 - 3. 330 km
 - 4. 340 km

Q.19 A trader sells two different products with different marked prices and discount strategies. He offers a 25% discount on the marked price of the first product and a 20% discount on the marked price of the second product. The total selling price of both products is ₹14,850. If the ratio of the marked price of the first product to that of the second product is 4 : 3, what is the marked price of the first product?

- Ans
- 1. ₹11,000
 - 2. ₹13,000
 - 3. ₹12,750
 - 4. ₹10,380

Q.20 The perimeter of a rhombus ABCD with base AB is 48 cm, and the area of the rhombus is:

- Ans
- 1. $72\sqrt{3} \text{ cm}^2$
 - 2. $\frac{75\sqrt{3}}{4} \text{ cm}^2$
 - 3. $76\sqrt{3} \text{ cm}^2$
 - 4. $\frac{226}{\sqrt{3}} \text{ cm}^2$

Section : Test of English Language and Comprehension

Q.1 Select the most appropriate option to rectify the given sentence.

The movie was the most interesting than the one we watched last week.

- Ans
- 1. The movie was very more interesting than the one we watched last week.
 - 2. The movie was too much interesting than the one we watched last week.
 - 3. The movie was much more interesting than the one we watched last week.
 - 4. The movie was much most interesting than the one we watched last week.

Q.2 Choose the grammatically correct sentence from the given options.

- Ans
- 1. A house they live in modern.
 - 2. A house modern they live in.
 - 3. They live in a modern house.
 - 4. They live in a house modern.

Q.3 Choose the most appropriate option to complete the sentence.

She played the guitar _____.

145

- Ans
- 1. worse
 - 2. best
 - 3. better
 - 4. well

Q.4 Complete the following sentence by selecting the correct option.

Mind your _____ business.4437

- Ans
- 1. many
 - 2. own
 - 3. such
 - 4. very

Q.5 Correct the following sentence by replacing the underlined word from the options.

If your house is smaller to Rohit's, you live next door to him.

- Ans
- 1. shorter
 - 2. spacious
 - 3. congested
 - 4. adjacent

Q.6 Choose the word that best completes the sentence.

The aircraft left London _____ three o'clock.4494

- Ans
- 1. at
 - 2. between
 - 3. for
 - 4. above

Q.7 Complete the sentence with the most appropriate article.
____ Amazon River is the second longest river in the world.

1479

- Ans
- 1. No article required
 - 2. An
 - 3. A
 - 4. The

Q.8 Parts of a sentence are given below in jumbled order. Arrange the parts in the correct order to form a meaningful sentence.

- P. the rain stopped and the clouds drifted away
- Q. with incredible moonlight
- R. so that the sky was lighted
- S. towards early morning

- Ans
- 1. QRSP
 - 2. PQRS
 - 3. SPRQ
 - 4. RQPS

Q.9 Identify the adjective that best describes the noun "sandstone amphitheater" in the sentence.

The event was held in the ____ sandstone amphitheater, creating a stunning backdrop.

- Ans
- 1. blurry
 - 2. lovely
 - 3. humid
 - 4. fragile

Q.10 Identify and choose the sentence which has an error of adverb.1421

- Ans
- 1. She spoke eloquently during the presentation.
 - 2. The dog barked loudly.
 - 3. His reaction to the criticism was fairly unjustified
 - 4. He runs incredibly fast.

Q.11 The given sentences, when properly sequenced, form a coherent paragraph. Each sentence is labelled with a letter. Choose the most logical order of the sentences from among the four given choices to construct a coherent paragraph keeping 1 and 6 as the first and the last statements respectively.

- 1.The Raman Effect stands as a landmark achievement in the field of physics, significantly advancing the understanding of light-matter interaction.
- A) As a result of this discovery, he was awarded the Nobel Prize in Physics.
 - B) This phenomenon was discovered by C. V. Raman in 1928, marking a major scientific breakthrough.
 - C) It explains the change in the wavelength of light when it passes through a material and interacts with its molecules.
 - D) Over time, the effect has been widely applied in various scientific and industrial fields.
- 6.Consequently, it continues to remain a vital tool in modern research and technology.

- Ans
- 1. DBAC
 - 2. DACB
 - 3. ABCD
 - 4. CBAD

Q.12 Complete the sentence with the appropriate article.

____ Eiffel Tower is one of the most famous landmarks in the world.

1488

- Ans
- 1. An
 - 2. The
 - 3. A
 - 4. No article needed

Q.13 Complete the sentence given below with the most suitable option.
Rita gifted ____ umbrella to her best friend.

1334

- Ans**
- 1. No article needed
 - 2. a
 - 3. an
 - 4. the

Q.14 Which is the correct sentence in the given options?

- Ans**
- 1. Mahatma Gandhi was born for 2nd October.
 - 2. Mahatma Gandhi was born at 2nd October.
 - 3. Mahatma Gandhi was born on 2nd October.
 - 4. Mahatma Gandhi was born in 2nd October.

Q.15 Complete the following sentence choosing the appropriate option relating to the use of articles.

It is always ____ honour and ____ privilege to be associated with ____ organization that deeply cares for the environment.1347

- Ans**
- 1. a, a, a
 - 2. an, an, an
 - 3. a, an, a
 - 4. an, a, an

Comprehension:

Read the given passage carefully and answer the questions that follow.

Bumblebees are large, fuzzy insects that have black and yellow stripes on their bodies. They are bigger and rounder than honeybees and fly in a slow, gentle way. Bumblebees are very important for nature because they help in pollination. When they sit on flowers to drink nectar, pollen sticks to their hairy bodies. As they move from one flower to another, they spread the pollen and help plants grow fruits and seeds. Many fruits and vegetables depend on bumblebees. Bumblebees live in small groups called colonies. A queen bee lays eggs, and the worker bees collect food and protect the nest. They usually build their nests in the ground or in thick grass. Bumblebees are not aggressive and sting only when they feel threatened. These small insects play a big role in keeping the environment balanced. Without bumblebees, many plants would not grow well and food production would decrease greatly.

SubQuestion No : 16

Q.16 How is the passage mainly organized?

Comprehension:

Read the given passage carefully and answer the questions that follow.

Bumblebees are large, fuzzy insects that have black and yellow stripes on their bodies. They are bigger and rounder than honeybees and fly in a slow, gentle way. Bumblebees are very important for nature because they help in pollination. When they sit on flowers to drink nectar, pollen sticks to their hairy bodies. As they move from one flower to another, they spread the pollen and help plants grow fruits and seeds. Many fruits and vegetables depend on bumblebees. Bumblebees live in small groups called colonies. A queen bee lays eggs, and the worker bees collect food and protect the nest. They usually build their nests in the ground or in thick grass. Bumblebees are not aggressive and sting only when they feel threatened. These small insects play a big role in keeping the environment balanced. Without bumblebees, many plants would not grow well and food production would decrease greatly.

SubQuestion No : 17

Q.17 What is the main idea of the passage?

Comprehension:

Read the given passage carefully and answer the questions that follow.

Bumblebees are large, fuzzy insects that have black and yellow stripes on their bodies. They are bigger and rounder than honeybees and fly in a slow, gentle way. Bumblebees are very important for nature because they help in pollination. When they sit on flowers to drink nectar, pollen sticks to their hairy bodies. As they move from one flower to another, they spread the pollen and help plants grow fruits and seeds. Many fruits and vegetables depend on bumblebees. Bumblebees live in small groups called colonies. A queen bee lays eggs, and the worker bees collect food and protect the nest. They usually build their nests in the ground or in thick grass. Bumblebees are not aggressive and sting only when they feel threatened. These small insects play a big role in keeping the environment balanced. Without bumblebees, many plants would not grow well and food production would decrease greatly.

SubQuestion No : 18

Q.18 What is the tone of the passage?

Comprehension:

Read the given passage carefully and answer the questions that follow.

Bumblebees are large, fuzzy insects that have black and yellow stripes on their bodies. They are bigger and rounder than honeybees and fly in a slow, gentle way. Bumblebees are very important for nature because they help in pollination. When they sit on flowers to drink nectar, pollen sticks to their hairy bodies. As they move from one flower to another, they spread the pollen and help plants grow fruits and seeds. Many fruits and vegetables depend on bumblebees. Bumblebees live in small groups called colonies. A queen bee lays eggs, and the worker bees collect food and protect the nest. They usually build their nests in the ground or in thick grass. Bumblebees are not aggressive and sting only when they feel threatened. These small insects play a big role in keeping the environment balanced. Without bumblebees, many plants would not grow well and food production would decrease greatly.

SubQuestion No : 19

Q.19 Which statement is mentioned in the passage?

Comprehension:

Read the given passage carefully and answer the questions that follow.

Bumblebees are large, fuzzy insects that have black and yellow stripes on their bodies. They are bigger and rounder than honeybees and fly in a slow, gentle way. Bumblebees are very important for nature because they help in pollination. When they sit on flowers to drink nectar, pollen sticks to their hairy bodies. As they move from one flower to another, they spread the pollen and help plants grow fruits and seeds. Many fruits and vegetables depend on bumblebees. Bumblebees live in small groups called colonies. A queen bee lays eggs, and the worker bees collect food and protect the nest. They usually build their nests in the ground or in thick grass. Bumblebees are not aggressive and sting only when they feel threatened. These small insects play a big role in keeping the environment balanced. Without bumblebees, many plants would not grow well and food production would decrease greatly.

SubQuestion No : 20

Q.20 What is the opposite of the word "aggressive" as used in the passage?

Section : Test of English Language and Comprehension1

**Q.1 Select the most appropriate meaning of the proverb:
Strike while the iron is hot**

- Ans**
- 1. Always be ready in defence against critical situations, or you may suffer.
 - 2. Take advantage of opportunities when they arise lest they should go away.
 - 3. Mould yourself and act according to the demand of the situation.
 - 4. Work quickly when using iron tools as iron cools down fast.

Q.2 Choose the antonym of the given word.

Censure

- Ans**
- 1. Condemn
 - 2. Denounce
 - 3. Compliment
 - 4. Rebuke

Q.3 Find out the antonym of " Sophisticated".

- Ans
- 1. boorish
 - 2. skillful
 - 3. fancy
 - 4. cool

**Q.4 In the sentence below, identify the misspelled word.
His irresistible charm and persuasive arguments made him a formidable proponent of the new policy.**

- Ans
- 1. persuasive
 - 2. proponent
 - 3. formidable
 - 4. irresistible

Q.5 Choose the suitable proverb for the given expression.

One who regularly makes angry or threatening statements rarely acts upon them

- Ans
- 1. A Bird in the Hand is Worth Two in the Bush
 - 2. A Bad Penny Always Turns Up
 - 3. A Stitch in Time Saves Nine
 - 4. A Barking Dog Seldom Bites

Q.6 Arrange the following segments to form the most syntactically accurate and coherent complex sentence. Choose the correct sequence.

**Fixed Segment: Although the debate continued late into the evening,
A. participants presented increasingly nuanced arguments,
B. tempers occasionally flared amongst the crowd,
C. the moderator guided the discussion with careful precision,
D. new perspectives emerged from unexpected sources.**

- Ans
- 1. ACDB
 - 2. CBAD
 - 3. DCBA
 - 4. BDAC

Q.7 Choose the correct one-word substitution for the given sentence.

A disease affecting many persons at the same place and time

- Ans
- 1. Endemic
 - 2. Sporadic
 - 3. Pandemic
 - 4. Epidemic

Q.8 Select the option that best explains the meaning of the given proverb.

Cowards die many times before their deaths.

- Ans
- 1. Fear makes people suffer repeatedly before any real danger occurs
 - 2. Caution helps people avoid risks and live a longer life
 - 3. Success belongs only to those who plan every step carefully
 - 4. Death comes suddenly and spares neither the rich nor the poor

Q.9 Identify the sentence that contains an INCORRECTLY spelt word.

- Ans
- 1. Customers enjoyed the lively atmosphere.
 - 2. The waiter recomended the special dish of the day.
 - 3. The restaurant offered a wide selection of dishes.
 - 4. The food was delicious and well-presented.

Q.10 Choose the appropriate option that best expresses the meaning of the proverb 'while the cat's away, the mice will play'.

- Ans
- 1. when the boss is around, everyone hardly works
 - 2. when the authority figure is absent, others may take advantage of a situation and behave freely
 - 3. when the leader is absent, everyone follows rules
 - 4. when there is supervision, no one misbehaves

Q.11 Choose the word that is most similar in meaning to 'Adept'.

- Ans
- 1. unskilled
 - 2. doubtful
 - 3. proficient
 - 4. hesitant

Q.12 Choose the correct option.

One who is present everywhere at the same time is _____.

- Ans
- 1. omnipresent
 - 2. omnipotent
 - 3. omnivorous
 - 4. omniscient

Q.13 Replace the highlighted text with the correct one-word substitute given in the options.

During the festival, a noisy crowd of people can be observed in the town.

- Ans
- 1. horde
 - 2. swat
 - 3. pagan
 - 4. chasm

Q.14 Select the most appropriate option that could be the meaning of the given word.

Trepidation

- Ans
- 1. Intense curiosity
 - 2. Fear or anxiety about something
 - 3. Passive acceptance
 - 4. Bold enthusiasm

Q.15 Choose the correct option.

A person with a long experience of any occupation is a/an _____.

- Ans
- 1. novice
 - 2. mentor
 - 3. veteran
 - 4. expert

Comprehension:

Read the given passage and answer the questions that follow.

Public libraries continue to play an essential role in modern society despite rapid technological advancements. They provide free access to books, newspapers, and digital resources for people from diverse economic backgrounds. Libraries also function as community spaces where individuals can study, attend workshops, or participate in cultural programs. In many regions, libraries help bridge the digital divide by offering internet access and basic computer training. Critics argue that online platforms have reduced the relevance of physical libraries. However, studies suggest that libraries have adapted by expanding digital collections and offering skill-based learning opportunities. Their role has shifted from mere book lending to knowledge facilitation. By promoting lifelong learning and informed citizenship, libraries contribute to social development. Ensuring adequate funding and public support is, therefore, necessary to maintain their relevance. In an increasingly information-driven world, libraries remain valuable institutions that encourage education, inclusion, and community engagement.

SubQuestion No : 16

Q.16 Which of the following titles is most suitable for the passage?

Comprehension:

Read the given passage and answer the questions that follow.

Public libraries continue to play an essential role in modern society despite rapid technological advancements. They provide free access to books, newspapers, and digital resources for people from diverse economic backgrounds. Libraries also function as community spaces where individuals can study, attend workshops, or participate in cultural programs. In many regions, libraries help bridge the digital divide by offering internet access and basic computer training. Critics argue that online platforms have reduced the relevance of physical libraries. However, studies suggest that libraries have adapted by expanding digital collections and offering skill-based learning opportunities. Their role has shifted from mere book lending to knowledge facilitation. By promoting lifelong learning and informed citizenship, libraries contribute to social development. Ensuring adequate funding and public support is, therefore, necessary to maintain their relevance. In an increasingly information-driven world, libraries remain valuable institutions that encourage education, inclusion, and community engagement.

SubQuestion No : 17

Q.17 The central theme of the passage is the:

Comprehension:

Read the given passage and answer the questions that follow.

Public libraries continue to play an essential role in modern society despite rapid technological advancements. They provide free access to books, newspapers, and digital resources for people from diverse economic backgrounds. Libraries also function as community spaces where individuals can study, attend workshops, or participate in cultural programs. In many regions, libraries help bridge the digital divide by offering internet access and basic computer training. Critics argue that online platforms have reduced the relevance of physical libraries. However, studies suggest that libraries have adapted by expanding digital collections and offering skill-based learning opportunities. Their role has shifted from mere book lending to knowledge facilitation. By promoting lifelong learning and informed citizenship, libraries contribute to social development. Ensuring adequate funding and public support is, therefore, necessary to maintain their relevance. In an increasingly information-driven world, libraries remain valuable institutions that encourage education, inclusion, and community engagement.

SubQuestion No : 18

Q.18 Which of the following statements is a fact mentioned in the passage?

Comprehension:

Read the given passage and answer the questions that follow.

Public libraries continue to play an essential role in modern society despite rapid technological advancements. They provide free access to books, newspapers, and digital resources for people from diverse economic backgrounds. Libraries also function as community spaces where individuals can study, attend workshops, or participate in cultural programs. In many regions, libraries help bridge the digital divide by offering internet access and basic computer training. Critics argue that online platforms have reduced the relevance of physical libraries. However, studies suggest that libraries have adapted by expanding digital collections and offering skill-based learning opportunities. Their role has shifted from mere book lending to knowledge facilitation. By promoting lifelong learning and informed citizenship, libraries contribute to social development. Ensuring adequate funding and public support is, therefore, necessary to maintain their relevance. In an increasingly information-driven world, libraries remain valuable institutions that encourage education, inclusion, and community engagement.

SubQuestion No : 19

Q.19 Which option best summarizes the passage?

Comprehension:

Read the given passage and answer the questions that follow.

Public libraries continue to play an essential role in modern society despite rapid technological advancements. They provide free access to books, newspapers, and digital resources for people from diverse economic backgrounds. Libraries also function as community spaces where individuals can study, attend workshops, or participate in cultural programs. In many regions, libraries help bridge the digital divide by offering internet access and basic computer training. Critics argue that online platforms have reduced the relevance of physical libraries. However, studies suggest that libraries have adapted by expanding digital collections and offering skill-based learning opportunities. Their role has shifted from mere book lending to knowledge facilitation. By promoting lifelong learning and informed citizenship, libraries contribute to social development. Ensuring adequate funding and public support is, therefore, necessary to maintain their relevance. In an increasingly information-driven world, libraries remain valuable institutions that encourage education, inclusion, and community engagement.

SubQuestion No : 20

Q.20 Choose the option that is closest in meaning to the word *facilitation* as used in the passage.

Section : Test of Hindi Language and Comprehension

Q.1 दिए गए वाक्यों में से शुद्ध वाक्य का चयन कीजिए।

- Ans**
- 1. सैकड़ों मल्लाह तूफान की चपेट में आ गए।
 - 2. सैकड़ों मल्लाह तूफान की चपेट में आ गए।
 - 3. सैकड़ा मल्लाह तूफान कि चपेट में आ गए।
 - 4. सैकड़ों मल्लाह तूफान की चपेट में आ गए।

Q.2 निम्नलिखित वाक्य के रिक्त स्थान में विशेषण शब्द का प्रयोग करें -
'कल बच्चों की परीक्षा है।'

- Ans**
- 1. लाल
 - 2. दस
 - 3. स्वस्थ
 - 4. लिखित

Q.3 'अनावश्यक दखल देने वाला' अर्थ के लिए सही लोकोक्ति क्या है?

- Ans**
- 1. दाल भात में मूसलचंद
 - 2. घर की मुर्गी दाल बराबर
 - 3. जीती मक्खी नहीं निगली जाती
 - 4. उधार का खाना फूस का तापना

Q.4 निम्नलिखित में कौन-सा वाक्य अतिरिक्त है?

- Ans**
- 1. भाषा समाज की चेतना को आकार देती है।
 - 2. एक स्वस्थ शरीर के लिए नियमित व्यायाम आवश्यक है।
 - 3. हर शब्द के पीछे एक भावना और एक सोच छिपी होती है।
 - 4. भाषा एक संस्कार की तरह मन में उतरती है।

Q.5 निम्नलिखित वाक्यांश के लिए सार्थक शब्द चुनिए
बच्चा जनने वाली स्त्री

- Ans**
- 1. प्रवीर
 - 2. परंतुक
 - 3. प्रसूता
 - 4. पाक्षिक

Q.14 निम्नलिखित वाक्य के रिक्त स्थान में क्रिया-विशेषण शब्द का प्रयोग करें -
'मुझे इस परीक्षा में सफलता मिलेगी।'

- Ans
- 1. एक-एक
 - 2. इतना
 - 3. केवल
 - 4. अवश्य

Q.15 करण कारक के प्रयोग से वाक्य को पूर्ण कीजिए।
राम कलम लिखता है।

- Ans
- 1. से
 - 2. को
 - 3. के लिए
 - 4. में

Comprehension:

निम्नलिखित गद्यांश को ध्यानपूर्वक पढ़ें और उससे सम्बंधित प्रश्नों के उत्तर दें -

आज मिस्टर शामनाथ के घर चीफ की दावत थी। शामनाथ और उनकी धर्मपत्नी को पसीना पोंछने की फुर्सत न थी। पत्नी ड्रेसिंग गाउन पहने, उलझे हुए बालों का जूड़ा बनाये, मुँह पर फैली हुई सुर्खी और पाउडर को मले और मिस्टर शामनाथ सिगरेट-पर-सिगरेट फूंकते हुए, चीजों की फेहरिस्त हाथ में थामे, एक कमरे से दूसरे कमरे में आ-जा रहे थे। आखिर पाँच बजते-बजते तैयारी मुकम्मल होने लगी। कुर्सियाँ, मेज, तिपाइयाँ, नैपकिन, फूल सब बरामदे में पहुँच गये ड्रिंक का इन्तजाम बैठक में कर दिया गया। अब घर का फालतू सामान आलमारियों के पीछे और पलंगों के नीचे छुपाया जाने लगा। मिस्टर शामनाथ श्रीमती की ओर घूमकर अंग्रेजी में बोले...माँ का क्या होगा? श्रीमती काम करते-करते ठहर गयीं, और थोड़ी देर तक सोचने के बाद बोली। इन्हें पिछवाड़े इनकी सहेली के घर भेज दो। रात भर बेशक वहीं रहें। कल आ जायें। शामनाथ सिगरेट मुँह में रखे, सिकुड़ी आँखों से श्रीमती के चेहरे की ओर देखते हुए पल-भर सोचते रहें, फिर सिर हिलाकर बोले... नहीं, मैं नहीं चाहता कि उस बुढ़िया का आना-जाना यहाँ फिर से शुरू हो। पहले ही बड़ी मुश्किल से बन्द किया था। माँ से कहें कि जल्दी से खाना खाकर शाम को ही अपनी कोठरी में चली जाय मेहमान कहीं आठ बजे आयेंगे। इससे पहले ही अपने काम से निपट लें

SubQuestion No : 16

Q.16 प्रस्तुत गद्यांश का शीर्षक क्या है?

Comprehension:

निम्नलिखित गद्यांश को ध्यानपूर्वक पढ़ें और उससे सम्बंधित प्रश्नों के उत्तर दें -

आज मिस्टर शामनाथ के घर चीफ की दावत थी। शामनाथ और उनकी धर्मपत्नी को पसीना पोंछने की फुर्सत न थी। पत्नी ड्रेसिंग गाउन पहने, उलझे हुए बालों का जूड़ा बनाये, मुँह पर फैली हुई सुर्खी और पाउडर को मले और मिस्टर शामनाथ सिगरेट-पर-सिगरेट फूंकते हुए, चीजों की फेहरिस्त हाथ में थामे, एक कमरे से दूसरे कमरे में आ-जा रहे थे। आखिर पाँच बजते-बजते तैयारी मुकम्मल होने लगी। कुर्सियाँ, मेज, तिपाइयाँ, नैपकिन, फूल सब बरामदे में पहुँच गये ड्रिंक का इन्तजाम बैठक में कर दिया गया। अब घर का फालतू सामान आलमारियों के पीछे और पलंगों के नीचे छुपाया जाने लगा। मिस्टर शामनाथ श्रीमती की ओर घूमकर अंग्रेजी में बोले...माँ का क्या होगा? श्रीमती काम करते-करते ठहर गयीं, और थोड़ी देर तक सोचने के बाद बोली। इन्हें पिछवाड़े इनकी सहेली के घर भेज दो। रात भर बेशक वहीं रहें। कल आ जायें। शामनाथ सिगरेट मुँह में रखे, सिकुड़ी आँखों से श्रीमती के चेहरे की ओर देखते हुए पल-भर सोचते रहें, फिर सिर हिलाकर बोले... नहीं, मैं नहीं चाहता कि उस बुढ़िया का आना-जाना यहाँ फिर से शुरू हो। पहले ही बड़ी मुश्किल से बन्द किया था। माँ से कहें कि जल्दी से खाना खाकर शाम को ही अपनी कोठरी में चली जाय मेहमान कहीं आठ बजे आयेंगे। इससे पहले ही अपने काम से निपट लें

SubQuestion No : 17

Q.17 घर का फालतू सामान कहाँ छुपाया जाने लगा ?

Comprehension:

निम्नलिखित गद्यांश को ध्यानपूर्वक पढ़ें और उससे सम्बंधित प्रश्नों के उत्तर दें -

आज मिस्टर शामनाथ के घर चीफ की दावत थी। शामनाथ और उनकी धर्मपत्नी को पसीना पोंछने की फुर्सत न थी। पत्नी ड्रेसिंग गाउन पहने, उलझे हुए बालों का जूड़ा बनाये, मुँह पर फैली हुई सुर्खी और पाउडर को मले और मिस्टर शामनाथ सिगरेट-पर-सिगरेट फूंकते हुए, चीजों की फेहरिस्त हाथ में थामे, एक कमरे से दूसरे कमरे में आ-जा रहे थे। आखिर पाँच बजते-बजते तैयारी मुकम्मल होने लगी। कुर्सियाँ, मेज, तिपाइयाँ, नैपकिन, फूल सब बरामदे में पहुँच गये ड्रिंक का इन्तजाम बैठक में कर दिया गया। अब घर का फालतू सामान आलमारियों के पीछे और पलंगों के नीचे छुपाया जाने लगा। मिस्टर शामनाथ श्रीमती की ओर घूमकर अंग्रेजी में बोले...माँ का क्या होगा? श्रीमती काम करते-करते ठहर गयीं, और थोड़ी देर तक सोचने के बाद बोली। इन्हें पिछवाड़े इनकी सहेली के घर भेज दो। रात भर बेशक वहीं रहें। कल आ जायें। शामनाथ सिगरेट मुँह में रखे, सिकुड़ी आँखों से श्रीमती के चेहरे की ओर देखते हुए पल-भर सोचते रहें, फिर सिर हिलाकर बोले... नहीं, मैं नहीं चाहता कि उस बुढ़िया का आना-जाना यहाँ फिर से शुरू हो। पहले ही बड़ी मुश्किल से बन्द किया था। माँ से कहें कि जल्दी से खाना खाकर शाम को ही अपनी कोठरी में चली जाय मेहमान कहीं आठ बजे आयेंगे। इससे पहले ही अपने काम से निपट लें

SubQuestion No : 18

Q.18 'मुश्किल' का विलोम शब्द है-

Comprehension:

निम्नलिखित गद्यांश को ध्यानपूर्वक पढ़ें और उससे सम्बंधित प्रश्नों के उत्तर दें -

आज मिस्टर शामनाथ के घर चीफ की दावत थी। शामनाथ और उनकी धर्मपत्नी को पसीना पोंछने की फुर्सत न थी। पत्नी ड्रेसिंग गाउन पहने, उलझे हुए बालों का जूड़ा बनाये, मुँह पर फैली हुई सुर्खी और पाउडर को मले और मिस्टर शामनाथ सिगरेट-पर-सिगरेट फूंकते हुए, चीजों की फेहरिस्त हाथ में थामे, एक कमरे से दूसरे कमरे में आ-जा रहे थे। आखिर पाँच बजते-बजते तैयारी मुकम्मल होने लगी। कुर्सियाँ, मेज, तिपाइयाँ, नैपकिन, फूल सब बरामदे में पहुँच गये ड्रिंक का इन्तजाम बैठक में कर दिया गया। अब घर का फालतू सामान आलमारियों के पीछे और पलंगों के नीचे छुपाया जाने लगा। मिस्टर शामनाथ श्रीमती की ओर घूमकर अंग्रेजी में बोले...माँ का क्या होगा? श्रीमती काम करते-करते ठहर गयीं, और थोड़ी देर तक सोचने के बाद बोली। इन्हें पिछवाड़े इनकी सहेली के घर भेज दो। रात भर बेशक वहीं रहें। कल आ जायें। शामनाथ सिगरेट मुँह में रखे, सिकुड़ी आँखों से श्रीमती के चेहरे की ओर देखते हुए पल-भर सोचते रहें, फिर सिर हिलाकर बोले... नहीं, मैं नहीं चाहता कि उस बुढ़िया का आना-जाना यहाँ फिर से शुरू हो। पहले ही बड़ी मुश्किल से बन्द किया था। माँ से कहें कि जल्दी से खाना खाकर शाम को ही अपनी कोठरी में चली जाय मेहमान कहीं आठ बजे आयेंगे। इससे पहले ही अपने काम से निपट लें

SubQuestion No : 19

Q.19 ' इंतजाम ' का अर्थ है -

Comprehension:

निम्नलिखित गद्यांश को ध्यानपूर्वक पढ़ें और उससे सम्बंधित प्रश्नों के उत्तर दें -

आज मिस्टर शामनाथ के घर चीफ की दावत थी। शामनाथ और उनकी धर्मपत्नी को पसीना पोंछने की फुर्सत न थी। पत्नी ड्रेसिंग गाउन पहने, उलझे हुए बालों का जूड़ा बनाये, मुँह पर फैली हुई सुर्खी और पाउडर को मले और मिस्टर शामनाथ सिगरेट-पर-सिगरेट फूंकते हुए, चीजों की फेहरिस्त हाथ में थामे, एक कमरे से दूसरे कमरे में आ-जा रहे थे। आखिर पाँच बजते-बजते तैयारी मुकम्मल होने लगी। कुर्सियाँ, मेज, तिपाइयाँ, नैपकिन, फूल सब बरामदे में पहुँच गये ड्रिंक का इन्तजाम बैठक में कर दिया गया। अब घर का फालतू सामान आलमारियों के पीछे और पलंगों के नीचे छुपाया जाने लगा। मिस्टर शामनाथ श्रीमती की ओर घूमकर अंग्रेजी में बोले...माँ का क्या होगा? श्रीमती काम करते-करते ठहर गयीं, और थोड़ी देर तक सोचने के बाद बोली। इन्हें पिछवाड़े इनकी सहेली के घर भेज दो। रात भर बेशक वहीं रहें। कल आ जायें। शामनाथ सिगरेट मुँह में रखे, सिकुड़ी आँखों से श्रीमती के चेहरे की ओर देखते हुए पल-भर सोचते रहें, फिर सिर हिलाकर बोले... नहीं, मैं नहीं चाहता कि उस बुढ़िया का आना-जाना यहाँ फिर से शुरू हो। पहले ही बड़ी मुश्किल से बन्द किया था। माँ से कहें कि जल्दी से खाना खाकर शाम को ही अपनी कोठरी में चली जाय मेहमान कहीं आठ बजे आयेंगे। इससे पहले ही अपने काम से निपट लें

SubQuestion No : 20

Q.20 ' धर्मपत्नी ' का पर्यायवाची है -

Section : Test of Hindi Language and Comprehension1

Q.1 दिए गए विकल्पों में से कौन-सा तत्सम शब्द नहीं है?

Ans 1. अखरोट

2. आम्र

3. अक्षोट

4. अष्ट

Q.2 नीचे दिए गए वाक्य के किस भाग में वर्तनी संबंधी अशुद्धि है ?
दिल्ली जमना के किनारे पर बसी हुई है ।

Ans 1. जमना

2. बसी हुई है

3. के किनारे पर

4. दिल्ली

Q.3 निम्नलिखित में से शुद्ध वर्तनी वाला वाक्य कौन सा है?

Ans 1. नरेश के जीवन में स्थायितव्य अभी तक नहीं आया है ।

2. नरेश के जीवन में स्थायित्व अभी नहीं आया है ।

3. नरेश के जीवन में स्थायीत्व अभी तक नहीं आया है ।

4. नरेश के जीवन में स्थायितब अभी तक नहीं आया है ।

Q.4 'जटिल' का पर्याय निम्न में से नहीं है--

Ans 1. क्लिष्ट

2. दुर्बोध

3. दुरूह

4. जंगम

Q.5 'निन्नानबे का फेर' मुहावरे का अर्थ है -

- Ans
- ✓ 1. धन जोड़ने का बुरा लालच
 - ✗ 2. घाटे में डूबना
 - ✗ 3. मौके पर घबराना
 - ✗ 4. मौके पर काम बिगड़ना

Q.6 अनेकार्थी शब्द- "कर" के अर्थों का सही विकल्प चुनिए-

- Ans
- ✗ 1. पैर, सूर्य
 - ✗ 2. माया, हाथ
 - ✗ 3. किरण, सर्प
 - ✓ 4. हाथ, सूँड़

Q.7 निम्नलिखित लोकोक्ति का अर्थ बताएं -
'अंधा पीसे, कुत्ता खाए'

- Ans
- ✗ 1. अपने परिजनों को खिलाना-पिलाना खलता नहीं
 - ✗ 2. आवश्यक वस्तु का अनायास मिल जाना
 - ✓ 3. मूर्खों की कमाई व्यर्थ चली जाती है
 - ✗ 4. वह विपत्ति जो आजीवन बनी रहे

Q.8 'रात्रि' का पर्यायवाची शब्द है -

- Ans
- ✗ 1. धवल
 - ✓ 2. निशा
 - ✗ 3. एकत्व
 - ✗ 4. चमू

Q.9 सही विलोम युग्म चुनें-

- Ans
- ✓ 1. चिरंतन - नश्वर
 - ✗ 2. जाति - जागरण
 - ✗ 3. ग्राम्य - ग्राह्य
 - ✗ 4. छली - छिछला

Q.10 सही विलोम युग्म चुनें-

- Ans
- ✗ 1. कर्ता - कर्मण्य
 - ✗ 2. कसा - कहा
 - ✗ 3. कल्पनीय - कल्पित
 - ✓ 4. एकत्र - विकीर्ण

Q.11 निम्न में से 'तद्भव' शब्द पहचानें--

- Ans
- ✓ 1. गाभिन
 - ✗ 2. ग्राम
 - ✗ 3. गो
 - ✗ 4. गर्गर

Q.12 वर्तनी के आधार पर शुद्ध वाक्य अंकित कीजिए।

- Ans
- ✓ 1. हमें पर्यावरण की सुरक्षा करनी चाहिए।
 - ✗ 2. हमें पर्यावरण की सूरक्षा करनी चाहिए।
 - ✗ 3. हमें पर्यावरण की सुरक्षा करने चाहिए।
 - ✗ 4. हमें पर्यावरण की सुरक्षा करना चाहिए।

Q.13 दिये गये वाक्य के किस भाग में त्रुटि है?
चाँदनी चौक में सांस्कृतिक कार्यक्रम होते रहते हैं।

- Ans
- 1. चाँदनी चौक में
 - 2. कार्यक्रम
 - 3. होते रहते हैं।
 - 4. सांस्कृतिक

Q.14 निम्नलिखित वाक्य में से अनेकार्थी शब्द पहचानें।
यह गिलास बिलकुल अधर रखा है, इसे छूना नहीं।

- Ans
- 1. अधर
 - 2. छूना
 - 3. इसे
 - 4. गिलास

Q.15 निम्नलिखित लोकोक्ति के सही अर्थ की पहचान कीजिए-
'खोदेगा सो गिरेगा, बोवेगा सो काटेगा'

- Ans
- 1. किसी कार्य को जिद्द के साथ करना।
 - 2. कठिन कार्य का प्रेत होना।
 - 3. कार्य को जिम्मेदारी के साथ करना।
 - 4. जैसा करना वैसा पाना।

Comprehension:

गद्यांश के आधार पर प्रश्न का उत्तर दें।

'हमें ईमानदारी से अपने विचारों के साथ आगे बढ़ना चाहिए। इस प्रकार हम अपनी आकांक्षाओं को पूरा कर सकते हैं। सच्चे और महान विचार ही संसार को नियंत्रित करते हैं। यदि तुम्हारे मन में डर नहीं है तो तुम कभी दुविधा में नहीं पड़ोगे। मन में विश्वास होना चाहिए कि हर रात की सुबह होती है, फिर कोई भी असफलता इतनी लम्बी नहीं होती कि खत्म न हो। तैयार रहो, कोशिश करो, लड़ते रहो - तुम जीतोगे। लक्ष्य प्राप्त करने के लिए अथक परिश्रम करना होगा। सुख-सुविधाओं का त्याग करना होगा। हमें सफलता प्राप्त करने से पहले युद्ध से गुजरना पड़ता है। कर्मयुद्ध होता है, जिसमें प्रत्यक्ष तथा परोक्ष, अनेक चुनौतियाँ राह रोके खड़ी रहती हैं। सफलता कभी भी भाग्य और घटनाओं का विषय नहीं होती। यह तो सशक्त विचारशक्ति और कठिन परिश्रम पर निर्भर करती है। इसलिए हमें जीवन में लक्ष्य के प्रति आशान्वित रहना चाहिए और सही निर्णय करना चाहिए। यह व्यक्ति की चारित्रिक दृढ़ता को भी दिखाता है। हमारी सोचने की शक्ति, आदतें, सहनशीलता, कार्यशक्ति तथा साहस, सभी कुछ हमारी कर्तव्य-परायणता से लक्षित होता है। जो वक्त को जीते, वह मनुष्य होता है, जो अपनी इन्द्रियों को जीते वह जितेंद्रिय होता है और जो सफलता प्राप्त करे वही विजयी होता है। किसी को सफलता जल्दी मिलती है, किसी को देर से मिलती है। हमें अपने मन में इस सूत्र को बराबर दोहराना चाहिए कि 'ऐसा क्या है जो मैं नहीं कर सकता।' इससे हमें आत्मबल और साहस की अनुभूति होती है।

पराजय, असफलता और दुःख के चरम क्षणों का सामना विजेता हँसते हुए कर लेते हैं और सदैव आगे बढ़ने का प्रयास करते हैं। इनके पीछे होती है उनके मन की शक्ति। प्रत्येक मनुष्य में तीन शक्तियाँ होती हैं - शारीरिक, मानसिक और आत्मिक। ये तीनों ही शक्तियाँ मन से चालित होती हैं। महापुरुषों ने भी इसी शक्ति के बल पर असंभव को संभव करके दिखलाया। मन के हारने से मनुष्य की हिम्मत टूट जाती है, शरीर निष्क्रिय हो जाता है और तब उसकी हार निश्चित होती है।

SubQuestion No : 16

Q.16 उपर्युक्त गद्यांश में आये शब्द 'त्याग' के पर्यायवाची का चयन कीजिए-

Comprehension:

गद्यांश के आधार पर प्रश्न का उत्तर दें।

'हमें ईमानदारी से अपने विचारों के साथ आगे बढ़ना चाहिए। इस प्रकार हम अपनी आकांक्षाओं को पूरा कर सकते हैं। सच्चे और महान विचार ही संसार को नियंत्रित करते हैं। यदि तुम्हारे मन में डर नहीं है तो तुम कभी दुविधा में नहीं पड़ोगे। मन में विश्वास होना चाहिए कि हर रात की सुबह होती है, फिर कोई भी असफलता इतनी लम्बी नहीं होती कि खत्म न हो। तैयार रहो, कोशिश करो, लड़ते रहो - तुम जीतोगे। लक्ष्य प्राप्त करने के लिए अथक परिश्रम करना होगा। सुख-सुविधाओं का त्याग करना होगा। हमें सफलता प्राप्त करने से पहले युद्ध से गुजरना पड़ता है। कर्मयुद्ध होता है, जिसमें प्रत्यक्ष तथा परोक्ष, अनेक चुनौतियाँ राह रोके खड़ी रहती हैं। सफलता कभी भी भाग्य और घटनाओं का विषय नहीं होती। यह तो सशक्त विचारशक्ति और कठिन परिश्रम पर निर्भर करती है। इसलिए हमें जीवन में लक्ष्य के प्रति आशान्वित रहना चाहिए और सही निर्णय करना चाहिए। यह व्यक्ति की चारित्रिक दृढ़ता को भी दिखाता है। हमारी सोचने की शक्ति, आदतें, सहनशीलता, कार्यशक्ति तथा साहस, सभी कुछ हमारी कर्तव्य-परायणता से लक्षित होता है। जो वक्त को जीते, वह मनुष्य होता है, जो अपनी इन्द्रियों को जीते वह जितेंद्रिय होता है और जो सफलता प्राप्त करे वही विजयी होता है। किसी को सफलता जल्दी मिलती है, किसी को देर से मिलती है। हमें अपने मन में इस सूत्र को बराबर दोहराना चाहिए कि 'ऐसा क्या है जो मैं नहीं कर सकता।' इससे हमें आत्मबल और साहस की अनुभूति होती है।

पराजय, असफलता और दुःख के चरम क्षणों का सामना विजेता हँसते हुए कर लेते हैं और सदैव आगे बढ़ने का प्रयास करते हैं। इनके पीछे होती है उनके मन की शक्ति। प्रत्येक मनुष्य में तीन शक्तियाँ होती हैं - शारीरिक, मानसिक और आत्मिक। ये तीनों ही शक्तियाँ मन से चालित होती हैं। महापुरुषों ने भी इसी शक्ति के बल पर असंभव को संभव करके दिखलाया। मन के हारने से मनुष्य की हिम्मत टूट जाती है, शरीर निष्क्रिय हो जाता है और तब उसकी हार निश्चित होती है।

SubQuestion No : 17

Q.17 गद्यांश के अनुसार, अपनी आकांक्षाओं को पूरा करने के लिए किस प्रकार के विचारों का होना आवश्यक है?

Comprehension:

गद्यांश के आधार पर प्रश्न का उत्तर दें।

'हमें ईमानदारी से अपने विचारों के साथ आगे बढ़ना चाहिए। इस प्रकार हम अपनी आकांक्षाओं को पूरा कर सकते हैं। सच्चे और महान विचार ही संसार को नियंत्रित करते हैं। यदि तुम्हारे मन में डर नहीं है तो तुम कभी दुविधा में नहीं पड़ोगे। मन में विश्वास होना चाहिए कि हर रात की सुबह होती है, फिर कोई भी असफलता इतनी लम्बी नहीं होती कि खत्म न हो। तैयार रहो, कोशिश करो, लड़ते रहो – तुम जीतोगे। लक्ष्य प्राप्त करने के लिए अथक परिश्रम करना होगा। सुख-सुविधाओं का त्याग करना होगा। हमें सफलता प्राप्त करने से पहले युद्ध से गुजरना पड़ता है। कर्मयुद्ध होता है, जिसमें प्रत्यक्ष तथा परोक्ष, अनेक चुनौतियाँ राह रोके खड़ी रहती हैं। सफलता कभी भी भाग्य और घटनाओं का विषय नहीं होती। यह तो सशक्त विचारशक्ति और कठिन परिश्रम पर निर्भर करती है। इसलिए हमें जीवन में लक्ष्य के प्रति आशान्वित रहना चाहिए और सही निर्णय करना चाहिए। यह व्यक्ति की चारित्रिक दृढ़ता को भी दिखाता है। हमारी सोचने की शक्ति, आदतें, सहनशीलता, कार्यशक्ति तथा साहस, सभी कुछ हमारी कर्तव्य-परायणता से लक्षित होता है। जो वक्त को जीते, वह मनुष्य होता है, जो अपनी इन्द्रियों को जीते वह जितेंद्रिय होता है और जो सफलता प्राप्त करे वही विजयी होता है। किसी को सफलता जल्दी मिलती है, किसी को देर से मिलती है। हमें अपने मन में इस सूत्र को बराबर दोहराना चाहिए कि 'ऐसा क्या है जो मैं नहीं कर सकता।' इससे हमें आत्मबल और साहस की अनुभूति होती है।

पराजय, असफलता और दुःख के चरम क्षणों का सामना विजेता हँसते हुए कर लेते हैं और सदैव आगे बढ़ने का प्रयास करते हैं। इनके पीछे होती है उनके मन की शक्ति। प्रत्येक मनुष्य में तीन शक्तियाँ होती हैं – शारीरिक, मानसिक और आत्मिक। ये तीनों ही शक्तियाँ मन से चालित होती हैं। महापुरुषों ने भी इसी शक्ति के बल पर असंभव को संभव करके दिखलाया। मन के हारने से मनुष्य की हिम्मत टूट जाती है, शरीर निष्क्रिय हो जाता है और तब उसकी हार निश्चित होती है।

SubQuestion No : 18

Q.18 यह गद्यांश मुख्यतः किस विषय की जानकारी देता है?

Comprehension:

गद्यांश के आधार पर प्रश्न का उत्तर दें।

'हमें ईमानदारी से अपने विचारों के साथ आगे बढ़ना चाहिए। इस प्रकार हम अपनी आकांक्षाओं को पूरा कर सकते हैं। सच्चे और महान विचार ही संसार को नियंत्रित करते हैं। यदि तुम्हारे मन में डर नहीं है तो तुम कभी दुविधा में नहीं पड़ोगे। मन में विश्वास होना चाहिए कि हर रात की सुबह होती है, फिर कोई भी असफलता इतनी लम्बी नहीं होती कि खत्म न हो। तैयार रहो, कोशिश करो, लड़ते रहो – तुम जीतोगे। लक्ष्य प्राप्त करने के लिए अथक परिश्रम करना होगा। सुख-सुविधाओं का त्याग करना होगा। हमें सफलता प्राप्त करने से पहले युद्ध से गुजरना पड़ता है। कर्मयुद्ध होता है, जिसमें प्रत्यक्ष तथा परोक्ष, अनेक चुनौतियाँ राह रोके खड़ी रहती हैं। सफलता कभी भी भाग्य और घटनाओं का विषय नहीं होती। यह तो सशक्त विचारशक्ति और कठिन परिश्रम पर निर्भर करती है। इसलिए हमें जीवन में लक्ष्य के प्रति आशान्वित रहना चाहिए और सही निर्णय करना चाहिए। यह व्यक्ति की चारित्रिक दृढ़ता को भी दिखाता है। हमारी सोचने की शक्ति, आदतें, सहनशीलता, कार्यशक्ति तथा साहस, सभी कुछ हमारी कर्तव्य-परायणता से लक्षित होता है। जो वक्त को जीते, वह मनुष्य होता है, जो अपनी इन्द्रियों को जीते वह जितेंद्रिय होता है और जो सफलता प्राप्त करे वही विजयी होता है। किसी को सफलता जल्दी मिलती है, किसी को देर से मिलती है। हमें अपने मन में इस सूत्र को बराबर दोहराना चाहिए कि 'ऐसा क्या है जो मैं नहीं कर सकता।' इससे हमें आत्मबल और साहस की अनुभूति होती है।

पराजय, असफलता और दुःख के चरम क्षणों का सामना विजेता हँसते हुए कर लेते हैं और सदैव आगे बढ़ने का प्रयास करते हैं। इनके पीछे होती है उनके मन की शक्ति। प्रत्येक मनुष्य में तीन शक्तियाँ होती हैं – शारीरिक, मानसिक और आत्मिक। ये तीनों ही शक्तियाँ मन से चालित होती हैं। महापुरुषों ने भी इसी शक्ति के बल पर असंभव को संभव करके दिखलाया। मन के हारने से मनुष्य की हिम्मत टूट जाती है, शरीर निष्क्रिय हो जाता है और तब उसकी हार निश्चित होती है।

SubQuestion No : 19

Q.19 गद्यांश के अनुसार, जीवन में किसी भी लक्ष्य की प्राप्ति के लिए, मनुष्य में किन गुणों का होना आवश्यक है?
सर्वाधिक उचित विकल्प का चयन कीजिए-

Comprehension:

गद्यांश के आधार पर प्रश्न का उत्तर दें।

'हमें ईमानदारी से अपने विचारों के साथ आगे बढ़ना चाहिए। इस प्रकार हम अपनी आकांक्षाओं को पूरा कर सकते हैं। सच्चे और महान विचार ही संसार को नियंत्रित करते हैं। यदि तुम्हारे मन में डर नहीं है तो तुम कभी दुविधा में नहीं पड़ोगे। मन में विश्वास होना चाहिए कि हर रात की सुबह होती है, फिर कोई भी असफलता इतनी लम्बी नहीं होती कि खत्म न हो। तैयार रहो, कोशिश करो, लड़ते रहो – तुम जीतोगे। लक्ष्य प्राप्त करने के लिए अथक परिश्रम करना होगा। सुख-सुविधाओं का त्याग करना होगा। हमें सफलता प्राप्त करने से पहले युद्ध से गुजरना पड़ता है। कर्मयुद्ध होता है, जिसमें प्रत्यक्ष तथा परोक्ष, अनेक चुनौतियाँ राह रोके खड़ी रहती हैं। सफलता कभी भी भाग्य और घटनाओं का विषय नहीं होती। यह तो सशक्त विचारशक्ति और कठिन परिश्रम पर निर्भर करती है। इसलिए हमें जीवन में लक्ष्य के प्रति आशान्वित रहना चाहिए और सही निर्णय करना चाहिए। यह व्यक्ति की चारित्रिक दृढ़ता को भी दिखाता है। हमारी सोचने की शक्ति, आदतें, सहनशीलता, कार्यशक्ति तथा साहस, सभी कुछ हमारी कर्तव्य-परायणता से लक्षित होता है। जो वक्त को जीते, वह मनुष्य होता है, जो अपनी इन्द्रियों को जीते वह जितेंद्रिय होता है और जो सफलता प्राप्त करे वही विजयी होता है। किसी को सफलता जल्दी मिलती है, किसी को देर से मिलती है। हमें अपने मन में इस सूत्र को बराबर दोहराना चाहिए कि 'ऐसा क्या है जो मैं नहीं कर सकता।' इससे हमें आत्मबल और साहस की अनुभूति होती है।

पराजय, असफलता और दुःख के चरम क्षणों का सामना विजेता हँसते हुए कर लेते हैं और सदैव आगे बढ़ने का प्रयास करते हैं। इनके पीछे होती है उनके मन की शक्ति। प्रत्येक मनुष्य में तीन शक्तियाँ होती हैं – शारीरिक, मानसिक और आत्मिक। ये तीनों ही शक्तियाँ मन से चालित होती हैं। महापुरुषों ने भी इसी शक्ति के बल पर असंभव को संभव करके दिखलाया। मन के हारने से मनुष्य की हिम्मत टूट जाती है, शरीर निष्क्रिय हो जाता है और तब उसकी हार निश्चित होती है।

SubQuestion No : 20

Q.20 गद्यांश के अनुसार, लक्ष्य में सफलता, सदैव किसका विषय होती है?