



GOVT. OF NCT OF DELHI  
Delhi Subordinate Services Selection Board  
FC-18, Institutional Area, Karkardooma, Delhi – 110092.  
[www.dsssb.delhigovt.nic.in](http://www.dsssb.delhigovt.nic.in)

Participant Name	RINKU MEENA
Test Center Name	Aadarsh Pariksha Kendra CENTER B - Gate No 2 - Noida Sector 64
Test Date	28/03/2026
Test Time	5:00 PM - 7:00 PM
Subject	Multi Tasking Staff

Section : General intelligence and Reasoning Ability

Q.1 दिए गए कथनों और निष्कर्षों को ध्यानपूर्वक पढ़िए। कथनों में दी गई जानकारी को सत्य मानते हुए, भले ही यह सामान्य रूप से ज्ञात तथ्यों से भिन्न प्रतीत होते हो, तब कीजिए कि दिए गए निष्कर्षों में से कौन-सा/से निष्कर्ष कथन का तार्किक रूप से अनुसरण करता/करते है/हैं।

कथन: सभी संतरे, कीवी हैं। सभी कीवी, केले हैं।

निष्कर्ष (I) : सभी संतरे, केले हैं।

निष्कर्ष (II) : कुछ केले, कीवी हैं।

- Ans  1. निष्कर्ष (I) और (II) दोनों अनुसरण करते हैं  
 2. न तो निष्कर्ष (I), न ही निष्कर्ष (II) अनुसरण करता है  
 3. केवल निष्कर्ष (I) अनुसरण करता है  
 4. केवल निष्कर्ष (II) अनुसरण करता है

Q.2 इस प्रश्न में, एक कथन के बाद दो निष्कर्ष दिए गए हैं। निम्नलिखित कथन के आधार पर यह ज्ञात कीजिए कि कौन-से निष्कर्ष सत्य हैं।

कथन:  $S < Y > W = R > T$

निष्कर्ष:

I.  $T < Y$

II.  $S \leq R$

- Ans  1. केवल I सत्य है।  
 2. I और II दोनों सत्य हैं।  
 3. केवल II सत्य है।  
 4. न तो I और न ही II सत्य है।

Q.3 निम्नलिखित अक्षर शृंखला का संदर्भ लीजिए और नीचे दिए गए प्रश्न का उत्तर दीजिए।

(बाएं) Z X C F D S A B G H N M M J K L K H J Y T Y E E W E W U I F D S (दाएं)

उक्त शृंखला के बाएं छोर से तीसरे अक्षर और दाएं छोर से सातवें अक्षर के बीच अंग्रेजी वर्णमाला क्रम में कितने अक्षर हैं?

- Ans  1. कोई नहीं  
 2. एक  
 3. दो  
 4. तीन

Q.4 B, C की पत्नी है। C, Q का पिता है। M, Q की पत्नी है। K, M की पुत्री है। T, K की बहन है। B का T से क्या संबंध है?

- Ans  1. बहन  
 2. पिता की माता  
 3. बहन की पुत्री  
 4. माता की माता

Q.5 नीचे दी गई अक्षर श्रृंखला का संदर्भ लीजिए और प्रश्न का उत्तर दीजिए। (गिनती केवल बाएं से दाएं ही करनी है)।

(बाएं) G U K S D B Z F C X Q T Y H I M R E O W A (दाएं)

ऐसे कितने व्यंजन हैं, जिनके ठीक पहले एक स्वर और उसके ठीक बाद में भी एक स्वर है?

- Ans
- 1. 0
  - 2. 1
  - 3. 2
  - 4. 3

Q.6 एक निश्चित कूट भाषा में, 'queen rice bat' को 'zq uu qi' के रूप में और 'juice bat map' को 'uu xc kb' के रूप में कूटबद्ध किया जाता है। दी गई भाषा में 'bat' को किस प्रकार कूटबद्ध किया जाएगा? (सभी कूट दो-अक्षर वाले कूट हैं)

- Ans
- 1. uu
  - 2. qi
  - 3. xc
  - 4. zq

Q.7 इस प्रश्न में, कथन के बाद दो निष्कर्ष दिए गए हैं। निम्नलिखित कथन के आधार पर कौन-से निष्कर्ष सत्य हैं।

कथन:  $R < C > V > B \leq F$

निष्कर्ष:

I.  $F < C$

II.  $R < B$

- Ans
- 1. I और II दोनों सत्य हैं।
  - 2. केवल II सत्य है।
  - 3. केवल I सत्य है।
  - 4. न तो I और न ही II सत्य है।

Q.8 निम्नलिखित अक्षर, प्रतीक श्रृंखला का संदर्भ लें और नीचे दिए गए प्रश्न का उत्तर दें। गिनती केवल बाएं से दाएं की जानी है।

(बाएं) Q U & A Y \* % \$ F O D @ J P # K € D O \$ A \$ (दाएं)

ऐसे कितने प्रतीक हैं, जिनमें से प्रत्येक के ठीक पहले एक अक्षर और ठीक बाद में भी एक अक्षर है?

- Ans
- 1. 7
  - 2. 4
  - 3. 5
  - 4. 6

Q.9 एक निश्चित कूट भाषा में, 'GIFT' को '7542' के रूप में कूटबद्ध किया जाता है और 'TERM' को '1436' के रूप में कूटबद्ध किया जाता है। दी गई कूट भाषा में 'T' का कूट क्या है?

- Ans
- 1. 1
  - 2. 4
  - 3. 2
  - 4. 3

Q.10 एक निश्चित कूट भाषा में, 'BAGS' को '3152' के रूप में और 'GAPS' को '9513' के रूप में कूटबद्ध किया जाता है। दी गई कूट भाषा में 'P' का कूट क्या होगा?

- Ans
- 1. 3
  - 2. 9
  - 3. 5
  - 4. 1

Q.11 सात डिब्बे W, X, Y, Z, G, H और I, एक के ऊपर एक रखे गए हैं, लेकिन आवश्यक नहीं कि वे इसी क्रम में रखे गए हों। केवल W को Z के नीचे रखा गया है। केवल H को Y के ऊपर रखा गया है। Y और X के बीच केवल I को रखा गया है। G और W के बीच कितने डिब्बे रखे गए हैं?

- Ans
- 1. चार
  - 2. तीन
  - 3. दो
  - 4. एक

Q.12 दी गई अक्षर-प्रतीक श्रृंखला का संदर्भ लीजिए और नीचे दिए गए प्रश्न का उत्तर दीजिए। गणना केवल बाएँ से दाएँ की जानी है।

(बाएँ) \$ # Z N @ V G P O = ^ & K S F H Z # W S @ (दाएँ)

ऐसे कितने प्रतीक हैं, जिनमें से प्रत्येक के ठीक पहले एक अक्षर और ठीक बाद में भी एक अक्षर है?

- Ans
- 1. तीन
  - 2. दो
  - 3. एक
  - 4. एक भी नहीं

Q.13 E, F, G, H, Q, R और S, एक गोल मेज के परितः उसके केंद्र की ओर अभिमुख होकर बैठे हैं। G और H के बीच केवल F बैठा है। H, S के बाएँ तीसरे स्थान पर बैठा है। E, S के ठीक बाएँ पड़ोस में बैठा है। Q, H का निकटतम पड़ोसी नहीं है। R के बाएँ तीसरे स्थान पर कौन बैठा है?

- Ans
- 1. Q
  - 2. G
  - 3. S
  - 4. F

Q.14 निम्नलिखित श्रृंखला का संदर्भ लीजिए और प्रश्न का उत्तर दीजिए।

(बाएँ) J D M A M A K D M B A R I E I K A M A L A U V (दाएँ)

श्रृंखला के दाएं छोर से सातवें और बाएं छोर से तीसरे अक्षर के बीच अंग्रेजी वर्णमाला क्रम में कितने अक्षर हैं?

- Ans
- 1. ग्यारह
  - 2. दस
  - 3. तेरह
  - 4. बारह

Q.15 सात डिब्बे W, X, Y, Z, G, H और I, एक के ऊपर एक रखे गए हैं, लेकिन आवश्यक नहीं कि वे इसी क्रम में रखे गए हों। W को G के ठीक ऊपर रखा गया है। I के नीचे केवल दो डिब्बे रखे गए हैं। X के ऊपर केवल एक डिब्बा रखा गया है। X और Y के बीच केवल एक डिब्बा रखा गया है। H को Z के नीचे किसी स्थान पर रखा गया है। Z और W के बीच कितने डिब्बे रखे गए हैं?

- Ans
- 1. दो
  - 2. एक
  - 3. तीन
  - 4. चार

Q.16 50 व्यक्ति एक पंक्ति में उत्तर की ओर अभिमुख होकर खड़े हैं। ताशी दाएं छोर से 20वें स्थान पर है, जबकि विशाल बाएं छोर से 34वें स्थान पर है। ताशी और विशाल के बीच कितने व्यक्ति हैं?

- Ans
- 1. 1
  - 2. 3
  - 3. 2
  - 4. 4

Q.17 दिए गए कथनों और निष्कर्षों को ध्यानपूर्वक पढ़ें। यह मानते हुए कि कथनों में दी गई जानकारी सत्य है, भले ही वह सामान्य रूप से ज्ञात तथ्यों से भिन्न प्रतीत हो, यह तय करें कि दिए गए निष्कर्षों में से कौन-से निष्कर्ष कथनों का तार्किक रूप से अनुसरण करते हैं?

कथन: सभी जीप, वैन हैं। सभी बाउंसर्स, वैन हैं।

निष्कर्ष (I): कुछ जीप, बाउंसर्स हैं।

निष्कर्ष (II): कुछ वैन, बाउंसर्स हैं।

- Ans
- 1. केवल निष्कर्ष (II) अनुसरण करता है
  - 2. न तो निष्कर्ष (I) और न ही (II) अनुसरण करता है
  - 3. केवल निष्कर्ष (I) अनुसरण करता है
  - 4. निष्कर्ष (I) और (II) दोनों अनुसरण करते हैं

Q.18 सात व्यक्ति, E, F, G, S, T, U और V, एक पंक्ति में उत्तर दिशा की ओर अभिमुख होकर बैठे हैं। E और U के बीच केवल तीन व्यक्ति बैठे हैं। S, U के ठीक बाएं पड़ोस में बैठा है। V के दाएं कोई नहीं बैठा है। V और S के बीच केवल दो व्यक्ति बैठे हैं। G, T के ठीक दाएं पड़ोस में बैठा है। F और G के बीच कितने व्यक्ति बैठे हैं?

- Ans
- 1. दो
  - 2. एक
  - 3. तीन
  - 4. चार

Q.19 D, E, F, H, I और J, एक ही इमारत के छह अलग-अलग तलों पर रहते हैं। इमारत के सबसे निचले तल का क्रमांक 1 है, उसके ठीक ऊपर वाले तल का क्रमांक 2 है और इसी प्रकार, सबसे ऊपरी तल का क्रमांक 6 है। J, D के ठीक ऊपर रहता है। H और D के बीच केवल दो लोग रहते हैं। H एक विषम क्रमांक वाले तल पर रहता है। E, F के ठीक नीचे रहता है। I और F के बीच कितने लोग रहते हैं?

- Ans
- 1. तीन
  - 2. चार
  - 3. एक
  - 4. दो

Q.20 निम्नलिखित अक्षर और प्रतीक श्रृंखला का संदर्भ लें और प्रश्न का उत्तर दें।

(बाएं) U % T ? \$ Q + & R @ P A ± J μ U = Y T % ≠ P K = H E Q (दाएं)

यदि श्रृंखला से सभी व्यंजनों को हटा दिया जाए, तो निम्नलिखित में से कौन-सा दाईं ओर से छठा होगा?

- Ans
- 1. μ
  - 2. +
  - 3. U
  - 4. =

#### Section : General intelligence and Reasoning Ability1

Q.1 अंग्रेजी वर्णमाला क्रम के आधार पर, निम्नलिखित चार अक्षर-समूह युग्मों में से तीन किसी निश्चित तरीके से एकसमान हैं और इस प्रकार वे एक गुप बनाते हैं। कौन-सा अक्षर-समूह युग्म, उस गुप से संबंधित नहीं है? (नोट: असंगत अक्षर-समूह युग्म, व्यंजनों/स्वरों की संख्या या उनकी स्थिति पर आधारित नहीं है।)

- Ans
- 1. LO - MP
  - 2. QT - RU
  - 3. JM - KN
  - 4. MP - HU

Q.2 यदि 'M' का अर्थ '+' है, 'N' का अर्थ 'x' है, 'O' का अर्थ '+' है और 'P' का अर्थ '-' है, तो निम्नलिखित समीकरण में प्रश्न-चिह्न '?' के स्थान पर क्या आएगा?

$$24N2P6M3O7 = ?$$

Ans  1. 53

2. 37

3. 27

4. 35

Q.3 यदि 'x' और '+' को परस्पर बदल दिया जाए, तो निम्नलिखित समीकरण में '?' के स्थान पर क्या आएगा?

$$7 \times 5 + 6 - 4 = ?$$

Ans  1. 33

2. 41

3. 37

4. 39

Q.4 निम्नलिखित समीकरण में '+' और '-' को आपस में बदल देने पर तथा 'x' और '+' को आपस में बदल देने पर '?' के स्थान पर क्या आएगा?

$$12 \div 4 + 16 \times 2 - 3 = ?$$

Ans  1. 49

2. 55

3. 43

4. 45

Q.5 उस समुच्चय का चयन कीजिए जिसमें संख्याएं उसी प्रकार संबंधित हैं जिस प्रकार निम्नलिखित समुच्चयों की संख्याएं संबंधित हैं।

(नोट: गणितीय संक्रियाएं, संख्याओं को उनके घटक अंकों में तोड़े बिना, पूर्ण संख्याओं पर की जानी चाहिए। उदाहरण के लिए 13 को लीजिए - 13 पर गणितीय संक्रियाएं जैसे कि 13 को जोड़ना/घटाना/गुणा करना, आदि किया जा सकता है। 13 को 1 और 3 में तोड़ना और फिर 1 और 3 पर गणितीय संक्रियाएं करने की अनुमति नहीं है।)

(30,82,115)

(96,21,120)

Ans  1. (31,22,55)

2. (47,90,15)

3. (62,7,72)

4. (18,15,76)

Q.6 अंग्रेजी वर्णमाला क्रम के आधार पर, निम्नलिखित चार अक्षर-समूह युग्मों में से तीन किसी निश्चित तरीके से एकसमान हैं और इस प्रकार वे एक गुप बनाते हैं। कौन-सा अक्षर-समूह युग्म, उस गुप से संबंधित नहीं है?

(नोट: असंगत अक्षर-समूह युग्म, व्यंजनों/स्वरों की संख्या या उनकी स्थिति पर आधारित नहीं है।)

Ans  1. WX - YZ

2. ST - UV

3. FG - HI

4. OP - IJ

Q.7 दी गई श्रृंखला में '?' के स्थान पर क्या आएगा?

$$19 \ 21 \ 25 \ 31 \ 39 \ ?$$

Ans  1. 51

2. 53

3. 48

4. 49

Q.8 यदि 'P' का अर्थ 'x' है, 'Q' का अर्थ '+' है, 'R' का अर्थ '-' है और 'S' का अर्थ '+' है, तो निम्नलिखित समीकरण में प्रश्न-चिह्न '?' के स्थान पर क्या आएगा?

(6 Q 2) P 11 S 42 R 5 P 3 S (49 Q 7) P 3 =?

- Ans
- 1. 81
  - 2. 99
  - 3. 62
  - 4. 74

Q.9 उस विकल्प आकृति का चयन कीजिए, जिसे नीचे दी गई आकृति में प्रश्न-चिह्न (?) के स्थान पर रखे जाने पर पैटर्न पूर्ण हो जाएगा।



Ans

- 1.
- 2.
- 3.
- 4.

Q.10 अंग्रेजी वर्णमाला के क्रम के आधार पर, एक निश्चित तरीके से WAVE का संबंध EAVW से है। उसी प्रकार, KING का संबंध GINK से है। समान तर्क का अनुसरण करते हुए, SONG का संबंध निम्नलिखित में से किससे है?

- Ans
- 1. GOSN
  - 2. GONS
  - 3. GONO
  - 4. NOOG

Q.11 उस सेट का चयन कीजिए जिसमें संख्याएं उसी प्रकार संबंधित हैं जिस प्रकार निम्नलिखित सेटों की संख्याएं संबंधित हैं।

(नोट: संख्याओं को उनके घटक अंकों में तोड़े बिना संक्रियाएं केवल पूर्ण संख्याओं पर की जानी चाहिए। उदाहरण के लिए, 13 लीजिए - 13 पर संक्रियाएं, जैसे 13 में जोड़ना/घटाना/गुणा करना, की जा सकती हैं। 13 को 1 और 3 में तोड़ना तथा फिर 1 और 3 पर गणितीय संक्रियाएं करने की अनुमति नहीं है।)

(23,35,8)

(52,104,48)

- Ans
- 1. (99,97,3)
  - 2. (20,94,60)
  - 3. (27,95,62)
  - 4. (61,98,33)

Q.12 उस समुच्चय का चयन कीजिए, जिसमें संख्याएं उसी प्रकार संबंधित हों, जिस प्रकार निम्न समुच्चयों की संख्याएं हैं।

(नोट: संख्याओं को उनके घटक अंकों में तोड़े बिना, संक्रियाएं पूर्ण संख्याओं पर की जानी चाहिए। उदाहरण के लिए, 13 लीजिए - 13 पर संक्रियाएं, जैसे जोड़ना/घटाना/गुणा करना आदि, की जा सकती हैं। 13 को 1 और 3 में तोड़ना तथा फिर 1 और 3 पर गणितीय संक्रियाएं करने की अनुमति नहीं है।)

(10,50,110)

(25,91,207)

Ans  1. (85,97,79)

2. (89,22,133)

3. (69,75,99)

4. (70,98,46)

Q.13 यदि '+' और '-' को परस्पर बदल दिया जाए तथा 'x' और '+' को परस्पर बदल दिया जाए, निम्नलिखित समीकरण में '?' के स्थान पर क्या आएगा?

$$8 \div 7 + 45 \times 3 - 21 = ?$$

Ans  1. 60

2. 62

3. 66

4. 64

Q.14 दी गई श्रृंखला में '?' के स्थान पर क्या आना चाहिए?

50, 53, 56, 59, ?, 65

Ans  1. 62

2. 63

3. 61

4. 64

Q.15 दी गई श्रृंखला में '?' के स्थान पर क्या आना चाहिए?

2 4 12 48 ? 1440

Ans  1. 220

2. 240

3. 250

4. 230

Q.16 उस युग्म का चयन कीजिए, जो नीचे दिए गए दोनों युग्मों के सेटों के समान पैटर्न का अनुसरण करता है। दोनों युग्म समान पैटर्न का अनुसरण करते हैं।

QSV : RTW

CEH : DFI

Ans  1. VXA : VYA

2. RTW : SUX

3. VWY : VXA

4. VWY : WYB

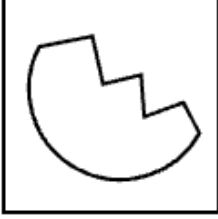
Q.17 उस विकल्प आकृति का चयन कीजिए, जिसमें दी गई आकृति (X) उसके भाग के रूप में अंतर्निहित है (घूर्णन की अनुमति नहीं है)।



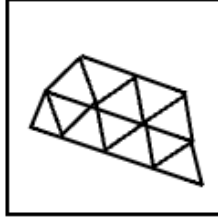
(X)

Ans


✗ 1.



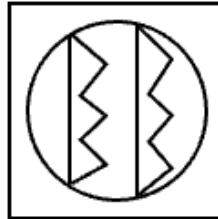
✗ 2.



✗ 3.



✓ 4.



Q.18 उस युग्म का चयन कीजिए जो नीचे दिए गए युग्मों के समान पैटर्न का अनुसरण करता है। दोनों युग्म समान पैटर्न का अनुसरण करते हैं।

JHI : HFG

CAB : AYZ

Ans

✗ 1. XUJ : VTU

✗ 2. XUJ : UST

✓ 3. BZA : ZXY

✗ 4. XWV : UTT

Q.19 दिए गए कथनों और निष्कर्षों को ध्यानपूर्वक पढ़िए। यह मानते हुए कि कथनों में दी गई जानकारी सत्य है, भले ही वह सामान्यतः ज्ञात तथ्यों से भिन्न प्रतीत होती हो, तब कीजिए कि दिए गए निष्कर्षों में से कौन-से निष्कर्ष कथनों का तार्किक रूप से अनुसरण करते हैं।

कथन: कुछ मोर, कौवे हैं। कोई कौआ, चमगादड़ नहीं है।

निष्कर्ष (I): कुछ मोर, चमगादड़ हैं।

निष्कर्ष (II): कुछ कौवे, मोर हैं।

Ans

✗ 1. न तो निष्कर्ष (I) और न ही (II) अनुसरण करता है।

✗ 2. केवल निष्कर्ष (I) अनुसरण करता है।

✓ 3. केवल निष्कर्ष (II) अनुसरण करता है।

✗ 4. निष्कर्ष (I) और (II) दोनों अनुसरण करते हैं।

Q.20 अंग्रेजी वर्णमाला क्रम पर आधारित, निम्नलिखित चार अक्षर-समूह युग्मों में से तीन एक निश्चित तरीके से एकसमान हैं और इस प्रकार एक ग्रुप बनाते हैं। कौन-सा अक्षर-समूह युग्म उस ग्रुप से संबंधित नहीं है? (नोट: असंगत अक्षर-समूह युग्म, व्यंजनों/स्वरों की संख्या या उनकी स्थिति पर आधारित नहीं है।)

- Ans
- 1. KO-IL
  - 2. OS-MP
  - 3. IM-GJ
  - 4. MQ-KO

Section : General Awareness

Q.1 प्रच्छन्न बेरोजगारी किस क्षेत्र में सर्वाधिक पाई जाती है?

- Ans
- 1. IT क्षेत्र
  - 2. कृषि
  - 3. विनिर्माण
  - 4. निर्माण

Q.2 भारत सरकार ने राष्ट्रीय ब्रॉडबैंड मिशन 2.0 कब शुरू किया?

- Ans
- 1. मई 2025
  - 2. मार्च 2025
  - 3. दिसंबर 2024
  - 4. जनवरी 2025

Q.3 अक्टूबर 2024 में हुए हरियाणा विधानसभा चुनाव में निम्नलिखित में से किस राजनीतिक दल ने सर्वाधिक सीटें जीतकर बहुमत हासिल की?

- Ans
- 1. भारतीय राष्ट्रीय कांग्रेस (INC)
  - 2. भारतीय जनता पार्टी (BJP)
  - 3. जननायक जनता पार्टी (JJJP)
  - 4. इंडियन नेशनल लोक दल (INLD)

Q.4 कौन-सा बैंकिंग इंस्ट्रूमेंट, मोबाइल ऐप का उपयोग करके तत्काल इंटरबैंक भुगतान की सुविधा प्रदान करता है?

- Ans
- 1. RTGS
  - 2. IMPS
  - 3. चेक
  - 4. UPI

Q.5 निम्नलिखित में से किसे 'भारतीय अशांति का जनक (Father of Indian Unrest)' के रूप में जाना जाता है?

- Ans
- 1. बाल गंगाधर तिलक
  - 2. राजेंद्र प्रसाद
  - 3. मोतीलाल नेहरू
  - 4. लाला लाजपत राय

Q.6 भगवान विष्णु को समर्पित केरल का कौन-सा मंदिर, ऊँचे गोपुरम (gopuram) के स्थान पर ढलान छत वाली एक साधारण द्रविड़ शैली का अनुसरण करता है?

- Ans
- 1. अपनी तीर्थयात्रा के लिए प्रसिद्ध सबरीमाला मंदिर
  - 2. अपने तहरखाने के लिए प्रसिद्ध पद्मनाभस्वामी मंदिर
  - 3. समुद्र के किनारे के दृश्य के लिए प्रसिद्ध शोर मंदिर
  - 4. अपने मीनारों के लिए प्रसिद्ध मीनाक्षी मंदिर

Q.7 1856 में, किस राज्य को अंग्रेजों ने "कुशासन" के आधार पर अपने राज्य में मिला लिया था और उसके शासक वाजिद अली शाह को पद से हटाने के बाद यह क्षेत्र 1857 के विद्रोह का एक प्रमुख केंद्र बना था?

- Ans
- 1. अवध
  - 2. सतारा
  - 3. कानपुर
  - 4. झांसी

Q.8 आर्थिक गतिविधियों में गिरावट/मंदी (downturn) के कारण किस प्रकार की बेरोजगारी होती है?

- Ans
- 1. संरचनात्मक (Structural)
  - 2. चक्रीय (Cyclical)
  - 3. छद्म (Disguised)
  - 4. मौसमी (Seasonal)

Q.9 निम्नलिखित में से किसने नवंबर 2024 में आयोजित सैयद मोदी इंटरनेशनल 2024 बैडमिंटन टूर्नामेंट में वू लूओ यू (Wu Luo Yu) को हराकर BWF वर्ल्ड टूर का खिताब जीता?

- Ans
- 1. पी.वी. सिंधु
  - 2. साक्षी मलिक
  - 3. मनु भाकर
  - 4. लवलीना बोरगोहेन

Q.10 भारत के महेंद्र गुर्जर (Mahendra Gurjar) ने स्विट्जरलैंड में आयोजित विश्व पैरा एथलेटिक्स ग्रैंड प्रिक्स (World Para Athletics Grand Prix) में, निम्नलिखित में से किस स्पर्धा और किस खेल में विश्व रिकॉर्ड बनाया?

- Ans
- 1. पुरुषों का F42 डिस्कस थ्रो (Men's F42 discus throw)
  - 2. पुरुषों का F42 शॉटपुट (Men's F42 shot put)
  - 3. पुरुषों का F42 भाला फेंक (Men's F42 javelin throw)
  - 4. पुरुषों की F42 लंबी कूद (Men's F42 long jump)

Q.11 2025 में, आनंदकुमार वेलकुमार किस खेल में इतिहास रचते हुए विश्व खिताब जीतने वाले पहले भारतीय बने?

- Ans
- 1. साइकिलिंग (Cycling)
  - 2. ट्रैक स्प्रिंटिंग (Track Sprinting)
  - 3. रोलर हॉकी (Roller Hockey)
  - 4. स्पीड स्केटिंग (Speed Skating)

Q.12 निम्नलिखित में से किसने 1925 ईस्वी में आत्मसम्मान आंदोलन (Self-Respect movement) की शुरुआत की थी?

- Ans
- 1. हरिचंद ठाकुर
  - 2. नारायण गुरु
  - 3. ई.वी. रामास्वामी नायकर
  - 4. भीमराव रामजी अंबेडकर

Q.13 2025 में, भारत ने तेल अवीव में रक्षा सहयोग पर 17वीं संयुक्त कार्य समूह की बैठक में किस देश के साथ रक्षा प्रौद्योगिकी और औद्योगिक साझेदारी का विस्तार करने के लिए एक नए रक्षा समझौता ज्ञापन (MoU) पर हस्ताक्षर किए?

- Ans
- 1. चीन
  - 2. संयुक्त राज्य अमेरिका
  - 3. जापान
  - 4. इजराइल

Q.14 वह अधिकतम राशि कितनी है जिसके लिए एक एकल लेनदेन में ₹1 के सिक्कों को वैध मुद्रा के रूप उपयोग किया जा सकता है?

- Ans
- 1. ₹500
  - 2. ₹50
  - 3. ₹1000
  - 4. ₹100

Q.15 निम्नलिखित में से कौन इतिहास में वह उल्लेखनीय व्यक्ति है जिसने स्वतंत्रता और न्याय के महत्व पर बल देते हुए "स्वतंत्रता हमारा जन्मसिद्ध अधिकार है, और हम इसे लेकर रहेंगे" का नारा दिया था?

- Ans
- 1. भगत सिंह
  - 2. सुभाष चंद्र बोस
  - 3. उधम सिंह
  - 4. बाल गंगाधर तिलक

Q.16 वाणिज्यिक बैंकों को भारतीय रिज़र्व बैंक के पास नकदी के रूप में कुल जमा राशि का न्यूनतम कितना प्रतिशत बनाए रखना आवश्यक है, इसे क्या कहते हैं?

- Ans
- 1. रेपो दर
  - 2. नकद आरक्षित अनुपात (CRR)
  - 3. सांविधिक तरलता अनुपात (SLR)
  - 4. सीमांत स्थायी सुविधा (MSF)

Q.17 सांसद आदर्श ग्राम योजना (SAGY) के अंतर्गत, किसी गाँव की विकास योजना \_\_\_\_\_ के नेतृत्व में तैयार की जाती है।

- Ans
- 1. ग्राम पंचायत सचिव
  - 2. संसद सदस्य
  - 3. जिला कलेक्टर
  - 4. मुख्यमंत्री

Q.18 1922 में असहयोग आंदोलन का निलंबन किस घटना के कारण हुआ था?

- Ans
- 1. चोरी-चौरा कांड
  - 2. क्रिप्स मिशन
  - 3. जलियाँवाला बाग हत्याकांड
  - 4. दांडी मार्च

Q.19 इंडिया सेमीकंडक्टर मिशन 2.0 के तहत, वित्त वर्ष 2026-27 के लिए सेमीकंडक्टर इकोसिस्टम के विकास को बढ़ावा देने हेतु कितना बजट प्रावधान किया गया था?

- Ans
- 1. ₹100 करोड़
  - 2. ₹1,000 करोड़
  - 3. ₹500 करोड़
  - 4. ₹10,000 करोड़

Q.20 मई 2025 में, रक्षा अनुसंधान एवं विकास संगठन ने किस शहर में भारत के समर्पित क्वांटम प्रौद्योगिकी अनुसंधान केंद्र का उद्घाटन किया?

- Ans
- 1. हैदराबाद
  - 2. नई दिल्ली
  - 3. बेंगलुरु
  - 4. मुंबई

Q.1 निम्नलिखित में से कौन-सा शहर विशाल भारतीय मैदान (Great Indian Plains) के अंतर्गत आता है?

- Ans
- 1. बेंगलोर
  - 2. हैदराबाद
  - 3. पटना
  - 4. शिलांग

Q.2 भारत में भारी और बड़े सामानों को लंबी दूरी तक वहन के लिए परिवहन का कौन-सा साधन सर्वाधिक उपयुक्त होता है?

- Ans
- 1. रेल मार्ग
  - 2. वायु मार्ग
  - 3. सड़क मार्ग
  - 4. जल मार्ग

Q.3 जून 2025 तक की स्थिति के अनुसार, निम्नलिखित में से किन भारतीय राज्यों ने पूर्ण कार्यात्मक साक्षरता (Full Functional Literacy) प्राप्त कर ली है?

- Ans
- 1. बिहार, केरल और पश्चिम बंगाल
  - 2. मिजोरम, गोवा और त्रिपुरा
  - 3. राजस्थान, पंजाब और उत्तर प्रदेश
  - 4. गुजरात, अरुणाचल प्रदेश और उत्तर प्रदेश

Q.4 फोलिक अम्ल, एक ऐसा विटामिन है जो रक्त निर्माण में सहायक होता है और लाल रक्त कोशिकाओं की वृद्धि और विकास के लिए आवश्यक है। इस विटामिन की कमी के परिणामस्वरूप निम्नलिखित में से कौन-सी स्थिति उत्पन्न होती है?

- Ans
- 1. अस्थिमृदुता (Osteomalacia)
  - 2. शुष्काक्षिपाक (Xerophthalmia)
  - 3. मेगालोब्लास्टिक रक्ताल्पता (Megaloblastic anaemia)
  - 4. गण्डमाला (Goitre)

Q.5 भारत के संविधान के अनुसार, किस सांविधानिक प्राधिकारी की सिफारिश से ही लोकसभा में धन विधेयक पुरःस्थापित या प्रस्तावित किया जा सकता है, अन्यथा नहीं?

- Ans
- 1. भारत के प्रधानमंत्री
  - 2. लोकसभा अध्यक्ष
  - 3. भारत के वित्त मंत्री
  - 4. भारत के राष्ट्रपति

Q.6 मानव में अस्थियों को मजबूत बनाए रखने के लिए कौन-से दो पोषक तत्व मिलकर कार्य करते हैं?

- Ans
- 1. प्रोटीन और कार्बोहाइड्रेट
  - 2. कैल्शियम और विटामिन D
  - 3. वसा और फाइबर
  - 4. आयरन और विटामिन C

Q.7 कौन-सा आनुवंशिक विकार रक्त के थक्के जमने वाले कारक की अनुपस्थिति के कारण होता है, जिससे अत्यधिक रक्तस्राव होता है?

- Ans
- 1. हीमोफीलिया (Haemophilia)
  - 2. दात्र कोशिका अरक्तता (Sickle cell anemia)
  - 3. वर्णन्धता (Colour blindness)
  - 4. थैलेसीमिया (Thalassemia)

Q.8 बिहू उत्सव निम्नलिखित में से किस भारतीय राज्य से संबंधित है?

- Ans
- 1. असम
  - 2. त्रिपुरा
  - 3. ओडिशा
  - 4. पश्चिम बंगाल

Q.9 यह मुगल बादशाहों द्वारा निर्मित वास्तुकला के अजूबों में से एक है, तथा आगरा में यमुना नदी के तट पर स्थित है और अपनी सफेद संगमरमर की निर्मिति तथा जटिल पच्चीकारी कार्य (Inlay work) के लिए प्रसिद्ध है। यहाँ किस स्मारक का वर्णन किया गया है?

- Ans
- 1. ताजमहल
  - 2. लाल किला
  - 3. चारमीनार
  - 4. कुतुब मीनार

Q.10 निम्नलिखित में से कौन-सी संसदीय समिति सरकार की लेखापरीक्षा रिपोर्ट्स का परीक्षण करती है?

- Ans
- 1. लोक लेखा समिति (Public Accounts Committee)
  - 2. नियम समिति (Rules Committee)
  - 3. प्राक्कलन समिति (Estimates Committee)
  - 4. व्यापार सलाहकार समिति (Business Advisory Committee)

Q.11 देश के विभिन्न भागों में कर्तन और दहन कृषि को भिन्न-भिन्न नामों से जाना जाता है। स्थानीय नामों (सूची I) को उनके क्षेत्रों (सूची II) से सुमेलित कीजिए।

सूची I (स्थानीय नाम) सूची II (क्षेत्र)

1. झूम i) हिमालयी बेल्ट
2. कुमारी ii) आंध्र प्रदेश
3. खिल iii) पश्चिमी घाट
4. पेंडा iv) पूर्वोत्तर भारत

- Ans
- 1. 1(iv), 2(iii), 3(ii), 4(i)
  - 2. 1(iv), 2(iii), 3(i), 4(ii)
  - 3. 1(iii), 2(iv), 3(ii), 4(i)
  - 4. 1(i), 2(iii), 3(ii), 4(iv)

Q.12 स्वायत्त शैक्षणिक संस्थान 'केंद्रीय हिंदी संस्थान' का मुख्यालय भारत के किस राज्य में स्थित है?

- Ans
- 1. उत्तर प्रदेश
  - 2. मध्य प्रदेश
  - 3. पंजाब
  - 4. उत्तराखंड

Q.13 सांची का विशाल स्तूप, जिसका निर्माण तीसरी शताब्दी BCE में मूल रूप से सम्राट अशोक के शासनकाल में करवाया गया था, वर्तमान में भारत के किस राज्य में स्थित है?

- Ans
- 1. मध्य प्रदेश
  - 2. बिहार
  - 3. उत्तर प्रदेश
  - 4. महाराष्ट्र

Q.14 पोंगल निम्नलिखित में से किस भारतीय राज्य में मनाया जाने वाला एक प्रमुख उत्सव है?

- Ans
- 1. गुजरात
  - 2. असम
  - 3. बिहार
  - 4. तमिलनाडु

Q.15 संवैधानिक उपचारों का अधिकार भारतीय संविधान के किस अनुच्छेद के तहत प्रदान किया गया है?

- Ans
- 1. अनुच्छेद 21
  - 2. अनुच्छेद 18
  - 3. अनुच्छेद 32
  - 4. अनुच्छेद 19

Q.16 किसी तने या शाखा पर पत्तियों की व्यवस्था के पैटर्न को क्या कहते हैं?

- Ans
- 1. पत्ती शिरा-विन्यास (Leaf Venation)
  - 2. पत्ती निवेशन (Leaf Insertion)
  - 3. पर्णविन्यास (Phyllotaxy)
  - 4. क्लोरोफिल (Chlorophyll)

Q.17 बघेलखंड पठार मुख्यतः निम्नलिखित में से किस राज्य में स्थित है?

- Ans
- 1. बिहार
  - 2. मध्य प्रदेश
  - 3. झारखंड
  - 4. ओडिशा

Q.18 किस संशोधन अधिनियम के माध्यम से भारतीय संविधान में नागरिकों के लिए अप्रवर्तनीय दायित्वों और कर्तव्यों की सूची शामिल की गई?

- Ans
- 1. 58वां संविधान संशोधन
  - 2. 42वां संविधान संशोधन
  - 3. 48वां संविधान संशोधन
  - 4. 51वां संविधान संशोधन

Q.19 भारत में, पद 'पंचायती राज' से क्या अभिप्राय है?

- Ans
- 1. केंद्र सरकार प्रशासन
  - 2. शहरी स्थानीय स्वशासन
  - 3. ग्रामीण स्थानीय स्वशासन
  - 4. राज्य सरकार प्रशासन

Q.20 कार्बन और इसके यौगिक जीवन के मूल घटक होते हैं। कार्बन की संयोजकता कितनी होती है?

- Ans
- 1. 8
  - 2. 4
  - 3. 6
  - 4. 2

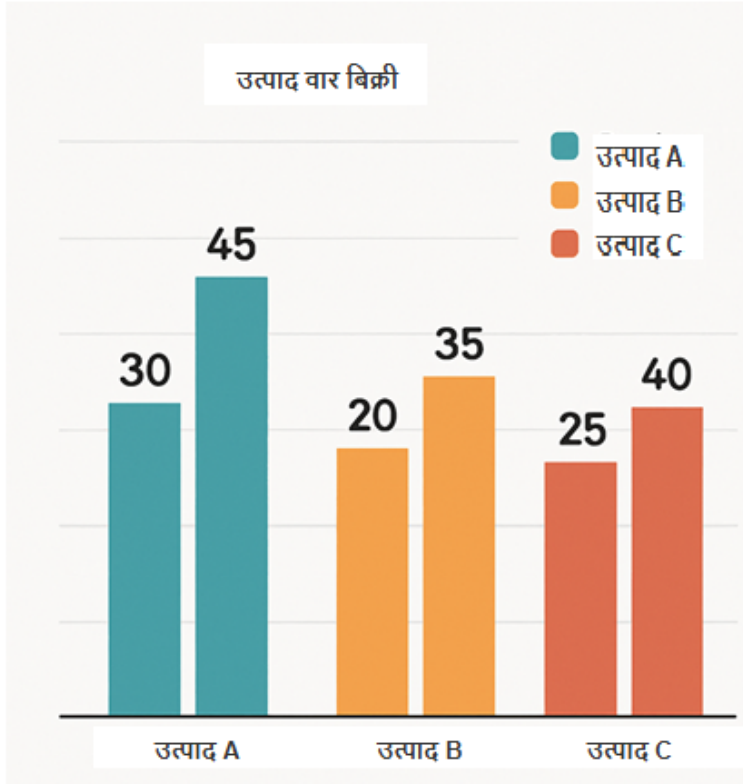
#### Section : Arithmetical and Numerical Ability

Q.1 520-लीटर के एक मिश्रण में दूध और जल का अनुपात 8:5 है। मिश्रण में थोड़ा और दूध मिलाने के बाद, अनुपात 12:7 हो जाता है। मिलाए गए दूध की मात्रा ज्ञात कीजिए। (उत्तर को दशमलव के दो स्थानों तक पूर्णांकित)

- Ans
- 1. 22.86 लीटर
  - 2. 21.24 लीटर
  - 3. 24.18 लीटर
  - 4. 23.73 लीटर

Q.2 निम्न ग्राफ का अध्ययन कीजिए और दिए गए प्रश्न का उत्तर दीजिए।

ग्राफ में तीन उत्पादों (उत्पाद A, उत्पाद B, उत्पाद C) की दो वर्ष (वर्ष 1 और वर्ष 2) की बिक्री दर्शाई गई है; उत्पाद का पहला बार, वर्ष 1 को और दूसरा बार, वर्ष 2 को दर्शाता है।



वर्ष 1 से वर्ष 2 तक, उत्पाद A की बिक्री में कितने प्रतिशत की वृद्धि हुई?

- Ans
- 1. 45%
  - 2. 30%
  - 3. 40%
  - 4. 50%

Q.3  $12 \div 4 \times 3$  of  $24 - 48 - (19 - 20)$  का मान ज्ञात कीजिए।  
 $13$  of  $13 \div 13 \times 13$

- Ans
- 1. 31
  - 2. 13
  - 3. -1
  - 4. 1

Q.4 रूपेश के वेतन में पहले 38% की कमी की गई और बाद में 15% की वृद्धि की गई। उसका अंतिम वेतन उसके प्रारंभिक वेतन की तुलना में कितने प्रतिशत कम था?

- Ans
- 1. 28.7%
  - 2. 5.7%
  - 3. 38%
  - 4. 15%

- Q.5 एक निश्चित राशि 48% वार्षिक दर से 2 वर्ष में ₹55,191 हो जाती है, जहां ब्याज की गणना 8-मासिक चक्रवृद्धि आधार पर होती है। यदि ब्याज की गणना वार्षिक चक्रवृद्धि आधार पर हो, तो उसी राशि पर समान दर और समान समय में देय मिश्रधन (₹ में, निकटतम रुपये तक पूर्णांकित) कितना होगा?
- Ans  1. 52,204  
 2. 53,310  
 3. 52,562  
 4. 52,789
- Q.6 एक विक्रेता ने एक रुपये में 24 की दर से नींबू खरीदे। 50% का लाभ प्राप्त करने के लिए उसे एक रुपये में कितने नींबू बेचने होंगे?
- Ans  1. 16  
 2. 20  
 3. 18  
 4. 17
- Q.7 अमन की सैलरी में 40% की वृद्धि की जाती है और फिर 30% की कमी की जाती है। उसकी सैलरी में नेट प्रतिशत परिवर्तन कितना होगा?
- Ans  1. 10% की वृद्धि  
 2. 10% की कमी  
 3. 2% की कमी  
 4. 4% की कमी
- Q.8 एक विद्यार्थी के अंक गलती से 65 के स्थान पर 59 दर्ज कर दिए गए। इसके कारण, कक्षा के औसत अंकों में  $\frac{3}{2}$  की कमी हो गई। कक्षा में विद्यार्थियों की संख्या कितनी है?
- Ans  1. 5  
 2. 4  
 3. 13  
 4. 2
- Q.9 मुकुंद ने एक दुकान से ₹1,150 में 51 पुस्तकें खरीदीं और दूसरी दुकान से ₹900 में 49 पुस्तकें खरीदीं। उसके द्वारा प्रत्येक पुस्तक के भुगतान किया गया औसत मूल्य (₹ में) ज्ञात कीजिए।
- Ans  1. 21.5  
 2. 22.5  
 3. 23.5  
 4. 20.5
- Q.10 एक संख्या में 36% की वृद्धि की जाती है और फिर बढ़ी हुई संख्या में 28% की कमी की जाती है। संख्या में नेट वृद्धि या कमी प्रतिशत ज्ञात कीजिए।
- Ans  1. 1.03% की कमी  
 2. 1.03% की वृद्धि  
 3. 2.08% की कमी  
 4. 2.08% की वृद्धि
- Q.11 किस वार्षिक ब्याज दर (प्रतिशत में) पर, कोई धनराशि साधारण ब्याज पर 4 वर्षों में स्वयं की 3 गुनी हो जाएगी?
- Ans  1. 100  
 2. 52  
 3. 50  
 4. 48

Q.12 एक निश्चित धनराशि 18% की वार्षिक ब्याज दर से 2 वर्षों में ₹76,789 हो जाती है, जहां ब्याज 8-मासिक रूप से संयोजित होता है। यदि ब्याज वार्षिक रूप से संयोजित होता है, तो समान धनराशि पर समान अवधि और समान दर पर देय धनराशि (₹ में, निकटतम रुपये तक पूर्णांकित) ज्ञात कीजिए।

- Ans
- 1. 75569
  - 2. 75791
  - 3. 76104
  - 4. 75302

Q.13 एक विक्रेता ने एक रुपये में 24 की दर से नींबू खरीदे। 100% का लाभ प्राप्त करने के लिए उसे एक रुपये में कितने नींबू बेचने होंगे?

- Ans
- 1. 14
  - 2. 13
  - 3. 12
  - 4. 16

Q.14 ₹5,200 की राशि पर 25% वार्षिक चक्रवृद्धि ब्याज की दर से 2 वर्षों का चक्रवृद्धि ब्याज ज्ञात कीजिए।

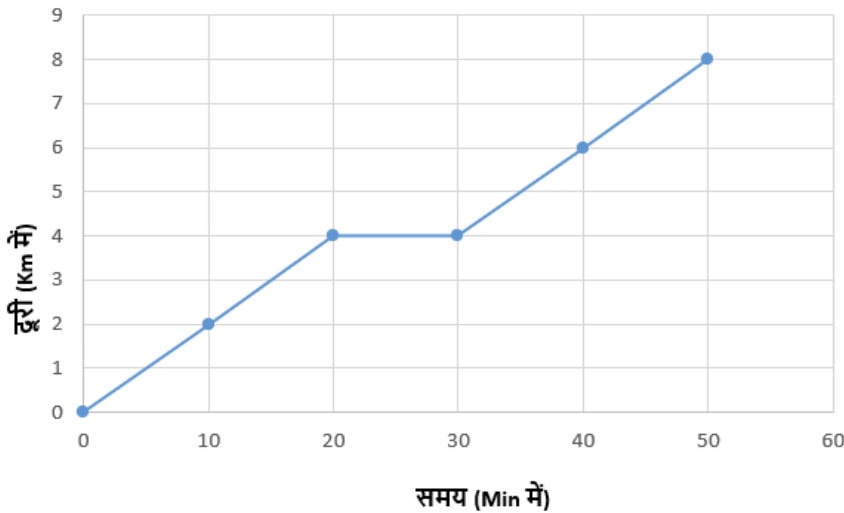
- Ans
- 1. ₹3,025
  - 2. ₹2,325
  - 3. ₹3,225
  - 4. ₹2,925

Q.15 यदि  $5^{x+y} = 3125$  और  $3^{3x-y} = 2187$  है, तो  $47x - 34y$  का मान ज्ञात कीजिए।

- Ans
- 1. 73
  - 2. 71
  - 3. 75
  - 4. 77

Q.16 नीचे दिया गया रेखा ग्राफ एक निश्चित बिंदु से एक निश्चित समयावधि में साइकिल चालक द्वारा तय की गई दूरी को दर्शाता है।

ग्राफ के आधार पर, किस समय अंतराल के दौरान साइकिल चालक विराम की स्थिति में था?



- Ans
- 1. 20-30 मिनट
  - 2. 10-20 मिनट
  - 3. 40-50 मिनट
  - 4. 0-10 मिनट

Q.17 एक परीक्षा में 12 छात्रों द्वारा प्राप्त अंकों का औसत 65 था और उसी परीक्षा में अन्य 28 छात्रों द्वारा प्राप्त अंकों का औसत 70 था। सभी 40 छात्रों के अंकों का औसत ज्ञात कीजिए।

- Ans
- 1. 64.4
  - 2. 68.5
  - 3. 66.7
  - 4. 62.3

Q.18 एक व्यक्ति 25 मिनट में 2 km चलता है, तो वह 2 घंटे 30 मिनट में कितनी दूरी तय करेगा?

- Ans
- 1. 9 km
  - 2. 15 km
  - 3. 6 km
  - 4. 12 km

Q.19 एक अधिकारी के वेतन में से, मकान किराया के रूप में 10% की कटौती की जाती है। शेष धनराशि में से, वह 20% परिवहन पर खर्च करता है, उसके बाद शेष धनराशि का 20% आयकर पर खर्च करता है, उसके बाद शेष धनराशि का 10% कपड़ों पर खर्च करता है। उसके पास ₹10,368 बचते हैं, तो उसका कुल वेतन ज्ञात कीजिए।

- Ans
- 1. ₹20,000
  - 2. ₹40,000
  - 3. ₹15,000
  - 4. ₹30,000

Q.20 पांच अंकीय एक संख्या 72 से विभाज्य है। यदि उसके सभी अंकों के क्रम को पुनर्व्यवस्थित कर दिया जाए, तो नई संख्या किस संख्या से सदैव विभाज्य होगी?

- Ans
- 1. 4
  - 2. 2
  - 3. 6
  - 4. 3

#### Section : Arithmetical and Numerical Ability1

Q.1 नितिन ने दो वस्तुएँ ₹5,169 प्रति वस्तु की दर से बेचीं, जहां उसे न कोई लाभ हुआ और न कोई हानि हुई। यदि एक वस्तु 50% लाभ पर बेची गई, तो दूसरी वस्तु कितने प्रतिशत हानि पर बेची गई?

- Ans
- 1. 26%
  - 2. 22%
  - 3. 25%
  - 4. 24%

Q.2 X और Y क्रमशः ₹30,000 और ₹50,000 का निवेश करके कोई व्यवसाय शुरू करते हैं। यदि वर्ष के अंत में कुल लाभ ₹40,000 है, तो लाभ में X का हिस्सा कितना है?

- Ans
- 1. ₹12,000
  - 2. ₹20,000
  - 3. ₹15,000
  - 4. ₹18,000

Q.3 एक कार 55 km/h की चाल से 3 घंटे तक चलती है। फिर वह अपनी चाल में 40% की वृद्धि करती है और अगले 5 घंटे तक चलती है। उसके बाद, वह अपनी चाल में 12 km/h की कमी करके t घंटे तक चलती है। यदि संपूर्ण यात्रा की औसत चाल 68 km/h है, तो पहले 3 घंटों में तय की गई दूरी और अंतिम t घंटों में तय की गई दूरी के बीच का अंतर (km में) ज्ञात कीजिए।

- Ans
- 1. 30
  - 2. 32
  - 3. 35
  - 4. 38

Q.4 अमन को एक कार्य का  $\frac{1}{3}$  भाग पूरा करने में 4 घंटे लगते हैं, मोहित को उसी कार्य का  $\frac{1}{6}$  भाग पूरा करने में 3 घंटे लगते हैं और कुणाल को कार्य का  $\frac{1}{2}$  भाग पूरा करने में 5 घंटे लगते हैं। यदि वे सभी मिलकर 3 घंटे तक कार्य करते हैं तथा फिर अमन और कुणाल कार्य छोड़ देते हैं, तो मोहित को शेष कार्य पूरा करने में कितना समय लगेगा?

Ans  1. 5.1 घंटे

2. 5.5 घंटे

3. 4.8 घंटे

4. 5.9 घंटे

Q.5 तीन पाइप, A, B और C, मिलकर एक टंकी को 8 घंटे में भर सकते हैं। 2 घंटे तक एक साथ कार्य करने के बाद, पाइप C को बंद कर दिया जाता है, तथा पाइप A और B को टंकी का शेष भाग भरने में 12 घंटे का अतिरिक्त समय लगता है। पाइप C को अकेले खाली टंकी को भरने में कितने घंटे लगेंगे?

Ans  1. 17

2. 14

3. 16

4. 15

Q.6 यदि किसी घन का आयतन  $6859 \text{ cm}^3$  है, तो घन का संपूर्ण पृष्ठीय क्षेत्रफल ( $\text{cm}^2$  में) ज्ञात कीजिए।

Ans  1. 2077

2. 2166

3. 2336

4. 2244

Q.7 एक व्यक्ति ₹10,000 की कुल लागत पर दो कलाई घड़ियाँ P और Q खरीदता है। वह कलाई घड़ी P को 20% के लाभ पर और कलाई घड़ी Q को 20% की हानि पर बेचता है और दोनों घड़ियों के लिए समान विक्रय मूल्य प्राप्त करता है। दोनों घड़ियों की बिक्री पर उसका समग्र लाभ या हानि प्रतिशत ज्ञात कीजिए।

Ans  1. हानि 5%

2. हानि 4%

3. लाभ 5%

4. लाभ 4%

Q.8 एक व्यक्ति शहर A से शहर B तक  $40 \text{ km/h}$  की चाल से एक निश्चित दूरी तय करता है और उसी मार्ग से  $60 \text{ km/h}$  की चाल से वापस लौट आता है। यदि आने-जाने की यात्रा में कुल समय 10 घंटे लगते हैं, तो A और B के बीच की दूरी ज्ञात कीजिए।

Ans  1. 275 km

2. 240 km

3. 180 km

4. 120 km

Q.9 एक साइकिल चालक  $15 \text{ km/hr}$  की चाल से 45 किलोमीटर की दूरी तय करता है। उसके बाद, साइकिल चालक अपनी चाल को बढ़ाकर  $18 \text{ km/hr}$  कर देता है और अन्य 54 किलोमीटर की दूरी तय करता है। सम्पूर्ण यात्रा में लगने वाला कुल समय ज्ञात कीजिए।

Ans  1. 6 घंटे

2. 5 घंटे

3. 8 घंटे

4. 7 घंटे

Q.10 यदि किसी घन का आयतन  $10648 \text{ cm}^3$  है, तो उसका कुल पृष्ठीय क्षेत्रफल ( $\text{cm}^2$  में) ज्ञात कीजिए।

Ans  1. 2763

2. 2321

3. 2904

4. 2576

Q.11 A और B मिलकर किसी कार्य को 12 दिनों में पूरा कर सकते हैं, जबकि A अकेले उसी कार्य को 30 दिनों में पूरा करता है। B अकेले उस कार्य को कितने दिनों में पूरा करेगा?

- Ans
- 1. 10 दिन
  - 2. 22 दिन
  - 3. 20 दिन
  - 4. 15 दिन

Q.12 29.60 cm व्यास वाले गोले के पृष्ठीय क्षेत्रफल ( $\text{cm}^2$  में) की गणना कीजिए। [ $\pi = 3.14$  का उपयोग कीजिए]

- Ans
- 1. 2728.24
  - 2. 2712.24
  - 3. 2751.14
  - 4. 2778.72

Q.13 एक दुकानदार ने त्योहारों के अवसर पर एक विशेष ऑफर की घोषणा की: "3 शर्ट खरीदें, 2 का भुगतान करें"। प्रत्येक शर्ट की कीमत ₹1,200 है। एक ग्राहक ने इस ऑफर के तहत 9 शर्ट खरीदीं। इसके बाद दुकानदार अंतिम राशि पर 10% की अतिरिक्त छूट प्रदान करता है। ग्राहक को कुल कितनी राशि का भुगतान करना होगा?

- Ans
- 1. ₹6,380
  - 2. ₹6,580
  - 3. ₹6,680
  - 4. ₹6,480

Q.14 अंकित मूल्य ₹1000 वाली एक वस्तु को दुकानदार द्वारा 20%, 10% और 5% की क्रमिक छूट देने के बाद भी 50% के लाभ पर बेचा जाता है। समान क्रय मूल्य वाली वस्तु को 60% के लाभ पर बेचने पर विक्रय मूल्य कितना होगा?

- Ans
- 1. ₹ 629.6
  - 2. ₹ 729.6
  - 3. ₹ 829.6
  - 4. ₹ 929.6

Q.15 राम और रवि दो मित्र हैं जो क्रमशः ₹36,000 और ₹48,000 के निवेश के साथ साझेदारी करते हैं। यदि कुल अर्जित लाभ ₹23,954 है, तो रवि का हिस्सा ज्ञात कीजिए।

- Ans
- 1. ₹13,688
  - 2. ₹13,168
  - 3. ₹13,238
  - 4. ₹13,458

Q.16 A, B और C ने क्रमशः ₹2,75,000, ₹2,00,000 और ₹1,75,000 के निवेश के साथ एक व्यवसाय प्रारंभ किया। 4 महीने बाद, C ने व्यवसाय छोड़ दिया। C के व्यवसाय छोड़ने के 4 महीने बाद, B ने भी व्यवसाय छोड़ दिया। B और C ने अपना निवेश वापस ले लिया। वर्ष के अंत में, C को लाभ के हिस्से के रूप में ₹1,344 प्राप्त हुए। वार्षिक लाभ में A और C का कुल हिस्सा (₹ में) कितना है?

- Ans
- 1. 7,090
  - 2. 7,235
  - 3. 7,680
  - 4. 6,745

Q.17 मन्त्रत और आयुष किसी कार्य को क्रमशः 30 मिनट और 45 मिनट में पूरा कर सकते हैं। यदि वे 5 मिनट तक साथ मिलकर कार्य करें, तो कितना कार्य शेष रह जाएगा?

- Ans
- 1.  $\frac{5}{18}$
  - 2.  $\frac{1}{16}$
  - 3.  $\frac{15}{16}$
  - 4.  $\frac{13}{18}$

Q.18 एक घनाभ वस्तु की लंबाई, चौड़ाई और ऊंचाई का अनुपात 4:3:2 है। यदि लंबाई और चौड़ाई प्रत्येक में 200% की वृद्धि की जाए और ऊंचाई में 100% की वृद्धि की जाए, तो घनाभ वस्तु का आयतन, उसके मूल आयतन का कितने गुना हो जाएगा?

- Ans
- 1. 17
  - 2. 18
  - 3. 20
  - 4. 19

Q.19 एक दुकान में, गणित और विज्ञान की पुस्तकों का अनुपात 4 : 5 था तथा गणित की पुस्तकों की कुल संख्या 2456 थी। जब कुछ और गणित की पुस्तकें खरीदी गईं, तो अनुपात 6 : 5 हो गया। बाद में खरीदी गई गणित की पुस्तकों की संख्या ज्ञात कीजिए।

- Ans
- 1. 12,280
  - 2. 3070
  - 3. 1228
  - 4. 6410

Q.20 राजेश कार द्वारा एक निश्चित दूरी 84 km/hr की चाल से तय करता है और 56 km/hr की चाल से प्रारंभिक बिंदु पर वापस आ जाता है। संपूर्ण यात्रा की औसत चाल ज्ञात कीजिए।

- Ans
- 1. 68.2 km/hr
  - 2. 70 km/hr
  - 3. 67.2 km/hr
  - 4. 69.2 km/hr

Section : Test of English Language and Comprehension

Q.1 Rectify the sentence by selecting the correct option to replace the underlined word from the options given below.

Atul is responsible of organizing the event. 3764

- Ans
- 1. for
  - 2. at
  - 3. in
  - 4. because

Q.2 Parts of a sentence are given below in jumbled order. Arrange the parts in the correct order to form a meaningful sentence.

- P- teach Tamil to their
- Q- the parents could not
- R- were in Russia for five years
- S- two children while they

- Ans
- 1. SQPR
  - 2. QRSP
  - 3. QPSR
  - 4. SPRQ

Q.3 Correct the following sentence by replacing the underlined segment with the correct option:

Please stop making so much noise or I report you to the supervisor.2501

- Ans
- 1. may have report
  - 2. have reported
  - 3. will be report
  - 4. will report

Q.4 Complete the following sentence by choosing the correct option.  
My friend ..... to come.4484

- Ans
- 1. were
  - 2. was
  - 3. have been
  - 4. have

Q.5 A grammatical error has been highlighted in the given sentence. Correct the sentence by choosing the right adverb to fix the error.

The new social media app, despite its lack of innovative features, noisily gained popularity among teenagers.

- Ans
- 1. visually
  - 2. eternally
  - 3. promptly
  - 4. permanently

Q.6 Complete the sentence with the correct option given below.

The scientist explained the theory \_\_\_\_\_ and answered the students' questions \_\_\_\_\_.

- Ans
- 1. clearly, polite
  - 2. clearly, politely
  - 3. very clear, polite
  - 4. very clear, politely

Q.7 Choose the word that best completes the sentence.  
The painting was hung \_\_\_ the fireplace.

- Ans
- 1. at
  - 2. on
  - 3. above
  - 4. in

Q.8 Rearrange the following segments to form a meaningful sentence.

- A. was the hypothesis
- B. widely accepted
- C. only after extensive methodological scrutiny
- D. within the academic community

- Ans
- 1. BACD
  - 2. ABCD
  - 3. ACBD
  - 4. CABD

Q.9 Complete the following sentence by using the correct option.  
This happened before my ..... eyes.4440

- Ans
- 1. same
  - 2. very
  - 3. self same
  - 4. the very

Q.10 Select the most appropriate option to fill in the blank.

We look forward to \_\_\_\_ from you soon.

- Ans
- 1. hears
  - 2. having heard
  - 3. hearing
  - 4. hear

Q.11 Select the most appropriate option to fill in the blank.

At various times in history, \_\_\_\_ White House has been known as the 'President's Palace'.

- Ans
- 1. an
  - 2. the
  - 3. a
  - 4. no article required

Q.12 Select the most appropriate option to fill in the blank.

They are going to a park to have \_\_\_\_ picnic.  
1231

- Ans
- 1. a
  - 2. no article
  - 3. an
  - 4. the

Q.13 Select the most appropriate article to fill in the blank. If no article is required, select 'No article required'.

\_\_\_\_\_ place where the minister meets the people should be safe and convenient to reach.

- Ans
- 1. A
  - 2. The
  - 3. No article required
  - 4. An

**Q.14** Select the most appropriate article to fill in the blank. If no article is needed, select 'No article required'.\

\_\_\_ deer is a gentle animal.

- Ans
- 1. An
  - 2. The
  - 3. No article required
  - 4. A

**Q.15** Select the most appropriate option that can replace the underlined word in the given sentence.

It is raining heavy.1264

- Ans
- 1. well
  - 2. heavily
  - 3. few
  - 4. lot of

**Comprehension:**

Read the following passage and answer the questions:

One of the most powerful incidents that changed Mahatma Gandhi occurred in 1893 in South Africa. Gandhi had a valid first-class train ticket while traveling from Durban to Pretoria. However, a white passenger objected to sharing the compartment with him because of his race. Despite showing his ticket, Gandhi was ordered to move to a lower-class compartment. When he refused, he was forcibly thrown off the train at Pietermaritzburg station on a cold night.

Shivering in the waiting room, humiliated and angry, Gandhi deeply reflected on the injustice he had faced. Instead of reacting with violence, he decided that such discrimination must be resisted through dignity and courage. That night marked a turning point in his life. It awakened in him a determination to fight racial oppression and injustice. This experience eventually shaped his philosophy of nonviolent resistance and inspired his leadership in India's struggle for independence.

**SubQuestion No : 16**

**Q.16** What does Gandhi's reaction to being thrown off the train reveal about his inner strength?

**Comprehension:**

Read the following passage and answer the questions:

One of the most powerful incidents that changed Mahatma Gandhi occurred in 1893 in South Africa. Gandhi had a valid first-class train ticket while traveling from Durban to Pretoria. However, a white passenger objected to sharing the compartment with him because of his race. Despite showing his ticket, Gandhi was ordered to move to a lower-class compartment. When he refused, he was forcibly thrown off the train at Pietermaritzburg station on a cold night.

Shivering in the waiting room, humiliated and angry, Gandhi deeply reflected on the injustice he had faced. Instead of reacting with violence, he decided that such discrimination must be resisted through dignity and courage. That night marked a turning point in his life. It awakened in him a determination to fight racial oppression and injustice. This experience eventually shaped his philosophy of nonviolent resistance and inspired his leadership in India's struggle for independence.

**SubQuestion No : 17**

**Q.17** How did the Pietermaritzburg incident contribute to Gandhi's later role in India's freedom struggle?

**Comprehension:**

Read the following passage and answer the questions:

One of the most powerful incidents that changed Mahatma Gandhi occurred in 1893 in South Africa. Gandhi had a valid first-class train ticket while traveling from Durban to Pretoria. However, a white passenger objected to sharing the compartment with him because of his race. Despite showing his ticket, Gandhi was ordered to move to a lower-class compartment. When he refused, he was forcibly thrown off the train at Pietermaritzburg station on a cold night.

Shivering in the waiting room, humiliated and angry, Gandhi deeply reflected on the injustice he had faced. Instead of reacting with violence, he decided that such discrimination must be resisted through dignity and courage. That night marked a turning point in his life. It awakened in him a determination to fight racial oppression and injustice. This experience eventually shaped his philosophy of nonviolent resistance and inspired his leadership in India's struggle for independence.

**SubQuestion No : 18**

**Q.18** What was Gandhi's immediate action after being ordered to move from the first-class compartment?

**Comprehension:**

Read the following passage and answer the questions:

One of the most powerful incidents that changed Mahatma Gandhi occurred in 1893 in South Africa. Gandhi had a valid first-class train ticket while traveling from Durban to Pretoria. However, a white passenger objected to sharing the compartment with him because of his race. Despite showing his ticket, Gandhi was ordered to move to a lower-class compartment. When he refused, he was forcibly thrown off the train at Pietermaritzburg station on a cold night.

Shivering in the waiting room, humiliated and angry, Gandhi deeply reflected on the injustice he had faced. Instead of reacting with violence, he decided that such discrimination must be resisted through dignity and courage. That night marked a turning point in his life. It awakened in him a determination to fight racial oppression and injustice. This experience eventually shaped his philosophy of nonviolent resistance and inspired his leadership in India's struggle for independence.

**SubQuestion No : 19**

**Q.19 The incident demonstrates that systemic discrimination can best be challenged through:**

**Comprehension:**

Read the following passage and answer the questions:

One of the most powerful incidents that changed Mahatma Gandhi occurred in 1893 in South Africa. Gandhi had a valid first-class train ticket while traveling from Durban to Pretoria. However, a white passenger objected to sharing the compartment with him because of his race. Despite showing his ticket, Gandhi was ordered to move to a lower-class compartment. When he refused, he was forcibly thrown off the train at Pietermaritzburg station on a cold night.

Shivering in the waiting room, humiliated and angry, Gandhi deeply reflected on the injustice he had faced. Instead of reacting with violence, he decided that such discrimination must be resisted through dignity and courage. That night marked a turning point in his life. It awakened in him a determination to fight racial oppression and injustice. This experience eventually shaped his philosophy of nonviolent resistance and inspired his leadership in India's struggle for independence.

**SubQuestion No : 20**

**Q.20 Why is this single event often highlighted in Gandhi's life story?**

**Section : Test of English Language and Comprehension1**

**Q.1 Identify the antonym of the given word.**

**Deride**

- Ans**
- 1. ridicule
  - 2. curb
  - 3. mitigate
  - 4. applaud

**Q.2 Choose the correct option.**

**One who is new to a profession is a/an \_\_\_\_\_**

- Ans**
- 1. mentor
  - 2. expert
  - 3. novice
  - 4. veteran

**Q.3 Choose from the options the word which correctly substitutes the word segment given below.**

**Dominance of one country/organization over others**

- Ans**
- 1. impotence
  - 2. hegemony
  - 3. ineptitude
  - 4. docile

Q.4 A sentence is divided into the following different segments. Rearrange all the segments to form a coherent sentence.

leadership requires vision and adaptability (A) / individuals, and navigate challenges in (B) / an ever-changing environment (C) / to guide teams effectively, motivate (D)

- Ans
- 1. CADB
  - 2. DCAB
  - 3. BCDA
  - 4. ADBC

Q.5 Select the most appropriate ANTONYM of the given word.

Inspid

- Ans
- 1. Dull
  - 2. Bland
  - 3. Weak
  - 4. Flavourful

Q.6 Select the most appropriate synonym of the word given below.

Effervescent

- Ans
- 1. Dull
  - 2. Lively
  - 3. Uninteresting
  - 4. Boring

Q.7 Choose the option to correctly substitute the words highlighted in bold.

The manager expressed his **shared feelings of sympathy and distress** with the employees after the company's closure.

- Ans
- 1. negotiation
  - 2. condemnation
  - 3. complacence
  - 4. commiseration

Q.8 Select the most appropriate meaning of the given proverb.

Honesty is the best policy

- Ans
- 1. Telling the truth is always the right choice
  - 2. The best policy is the one that benefits you the most
  - 3. Honesty can sometimes be harmful
  - 4. Being polite is more important than being honest

Q.9 Find out the antonym of "pretentious".

- Ans
- 1. artificial
  - 2. terrible
  - 3. humble
  - 4. permanent

Q.10 Select the correct spelling of the underlined word from the given options  
The beurocratic system slowed down the process

- Ans
- 1. Buraucratic
  - 2. Bureucratic
  - 3. Bureaucratic
  - 4. Bureauretic

Q.11 Select the option that best explains the meaning of the given proverb:  
When the going gets tough, the tough get going

- Ans
- 1. Difficult tasks should be avoided until conditions improve
  - 2. Success depends mainly on careful planning rather than effort
  - 3. Strong people become more active and determined during hardships
  - 4. Tough situations always lead to failure and disappointment

Q.12 Replace the highlighted text with the correct one-word substitute given in the options.

I walk at a relaxed speed on the terrace every morning.

- Ans
- 1. amble
  - 2. soporific
  - 3. epicure
  - 4. dumb

Q.13 Select the most appropriate meaning of the given proverb.

Look before you leap

- Ans
- 1. Jump at every opportunity
  - 2. Act quickly without thinking
  - 3. Consider consequences before acting
  - 4. Ignore advice and take chances

Q.14 Select the option that rectifies the INCORRECTLY spelt word in the given sentence.

The sudden drop in sales was an abberation, surprising the forecasters who had envisaged consistent growth based on preceding performance trends.

- Ans
- 1. preceeding
  - 2. forecasters
  - 3. aberration
  - 4. envissaged

Q.15 Choose the correct meaning of the given proverb.  
Empty vessels make the most sound

- Ans
- 1. Fools are always talked about
  - 2. People without knowledge easily achieve success
  - 3. Empty boxes make noise when they are lifted
  - 4. Those who boast most often know least

**Comprehension:**

Read the given passage carefully and answer the questions that follow.

Modern democracies rely on more than just voting; they need citizens to stay involved through meetings and local projects. These actions are meant to connect the government with the people's needs. However, simply speaking up doesn't always lead to change. Many people stop participating when they feel their ideas are ignored or used just for show.

The media also has a big impact. When the news covers protests or debates, the government is more likely to react. On the other hand, the problems of smaller or poorer communities often go unreported. This creates a system where some voices are loud while others are hidden.

Education helps prepare students for this. When students learn how to debate and think critically, they can challenge authority in a helpful way. Without these skills, public discussions can turn into loud arguments instead of helpful conversations.

For this to work, there must be trust. If a government is not honest, people become skeptical. True engagement requires the government to actually act on what they hear. Democracy is not just about how often people speak, but whether their voices actually change how decisions are made. A system that listens without responding will eventually lose the support of its citizens.

**SubQuestion No : 16**

**Q.16 What is the central idea of the passage?**

**Comprehension:**

Read the given passage carefully and answer the questions that follow.

Modern democracies rely on more than just voting; they need citizens to stay involved through meetings and local projects. These actions are meant to connect the government with the people's needs. However, simply speaking up doesn't always lead to change. Many people stop participating when they feel their ideas are ignored or used just for show.

The media also has a big impact. When the news covers protests or debates, the government is more likely to react. On the other hand, the problems of smaller or poorer communities often go unreported. This creates a system where some voices are loud while others are hidden.

Education helps prepare students for this. When students learn how to debate and think critically, they can challenge authority in a helpful way. Without these skills, public discussions can turn into loud arguments instead of helpful conversations.

For this to work, there must be trust. If a government is not honest, people become skeptical. True engagement requires the government to actually act on what they hear. Democracy is not just about how often people speak, but whether their voices actually change how decisions are made. A system that listens without responding will eventually lose the support of its citizens.

**SubQuestion No : 17**

**Q.17 According to the passage, why do people stop participating in community meetings?**

**Comprehension:**

Read the given passage carefully and answer the questions that follow.

Modern democracies rely on more than just voting; they need citizens to stay involved through meetings and local projects. These actions are meant to connect the government with the people's needs. However, simply speaking up doesn't always lead to change. Many people stop participating when they feel their ideas are ignored or used just for show.

The media also has a big impact. When the news covers protests or debates, the government is more likely to react. On the other hand, the problems of smaller or poorer communities often go unreported. This creates a system where some voices are loud while others are hidden.

Education helps prepare students for this. When students learn how to debate and think critically, they can challenge authority in a helpful way. Without these skills, public discussions can turn into loud arguments instead of helpful conversations.

For this to work, there must be trust. If a government is not honest, people become skeptical. True engagement requires the government to actually act on what they hear. Democracy is not just about how often people speak, but whether their voices actually change how decisions are made. A system that listens without responding will eventually lose the support of its citizens.

**SubQuestion No : 18**

**Q.18 What inference can be drawn about media representation?**

### Comprehension:

Read the given passage carefully and answer the questions that follow.

Modern democracies rely on more than just voting; they need citizens to stay involved through meetings and local projects. These actions are meant to connect the government with the people's needs. However, simply speaking up doesn't always lead to change. Many people stop participating when they feel their ideas are ignored or used just for show.

The media also has a big impact. When the news covers protests or debates, the government is more likely to react. On the other hand, the problems of smaller or poorer communities often go unreported. This creates a system where some voices are loud while others are hidden.

Education helps prepare students for this. When students learn how to debate and think critically, they can challenge authority in a helpful way. Without these skills, public discussions can turn into loud arguments instead of helpful conversations.

For this to work, there must be trust. If a government is not honest, people become skeptical. True engagement requires the government to actually act on what they hear. Democracy is not just about how often people speak, but whether their voices actually change how decisions are made. A system that listens without responding will eventually lose the support of its citizens.

#### SubQuestion No : 19

Q.19 How does the author structure the argument?

### Comprehension:

Read the given passage carefully and answer the questions that follow.

Modern democracies rely on more than just voting; they need citizens to stay involved through meetings and local projects. These actions are meant to connect the government with the people's needs. However, simply speaking up doesn't always lead to change. Many people stop participating when they feel their ideas are ignored or used just for show.

The media also has a big impact. When the news covers protests or debates, the government is more likely to react. On the other hand, the problems of smaller or poorer communities often go unreported. This creates a system where some voices are loud while others are hidden.

Education helps prepare students for this. When students learn how to debate and think critically, they can challenge authority in a helpful way. Without these skills, public discussions can turn into loud arguments instead of helpful conversations.

For this to work, there must be trust. If a government is not honest, people become skeptical. True engagement requires the government to actually act on what they hear. Democracy is not just about how often people speak, but whether their voices actually change how decisions are made. A system that listens without responding will eventually lose the support of its citizens.

#### SubQuestion No : 20

Q.20 Which word best captures the tone of the passage?

### Section : Test of Hindi Language and Comprehension

Q.1 दिए गए वाक्यों में अतिरिक्त वाक्य का चुनाव करें-

- Ans
- 1. आज के समय में तुरंत प्रतिक्रिया देना साहस समझ लिया गया है।
  - 2. समस्या के समाधान के लिए बड़े-बड़े उपाय करने लगते हैं।
  - 3. हम समस्या को देखते ही उसके समाधान खोजने की हड़बड़ी में पड़ जाते हैं।
  - 4. जबकि समाधान अक्सर समस्या के भीतर ही छिपा रहता है।

Q.2 दिए गए वाक्यों में से अतिरिक्त वाक्य का चयन कीजिए।

- Ans
- 1. समय का आदर करना ही उसका सदुपयोग करना है।
  - 2. जो व्यक्ति समय की सही कीमत जान लेता है,
  - 3. वही जीवन में सफलता प्राप्त करता है।
  - 4. प्रत्येक क्षण अपने अस्तित्व के सम्बन्ध में शंकाग्रस्त है।

Q.3 जंगल की आग- वाक्यांश के लिए एक शब्द क्या होगा?

- Ans
- 1. विभीषिका
  - 2. दावानल
  - 3. संहार
  - 4. जठराग्नि

Q.4 नीचे दिए गए वाक्य को ध्यानपूर्वक पढ़कर रिक्त स्थान की पूर्ति उचित क्रिया से करें-  
“सीता स्कूल जा \_\_\_ है।”

- Ans
- 1. रहेगी
  - 2. रहा
  - 3. रही
  - 4. रहे

Q.5 “पेट की आग”- वाक्यांश के लिए एक शब्द क्या होगा?

- Ans
- 1. वडवानल
  - 2. प्रत्यागत
  - 3. जठरानल
  - 4. दावानल

Q.6 दिए गए विकल्पों में से सही क्रिया-विशेषण वाला विकल्प चुन कर वाक्य पूर्ण करें -  
राधिका बहुत ..... चलती है

- Ans
- 1. धीरे-धीरे
  - 2. मोटी
  - 3. सुन्दर
  - 4. गिरते हुए

Q.7 निम्नलिखित विकल्पों में से शुद्ध वाक्य का चयन कीजिए-

- Ans
- 1. चित्र के प्रारम्भिक नमूने गुफ़ाओं में मिलती हैं।
  - 2. चित्र के प्रारम्भिक नमूने गुफ़ाओं में मिलते हैं।
  - 3. चित्र के प्रारम्भीक नमूने गुफ़ाओं में मिलती हैं।
  - 4. चित्र की प्रारम्भिक नमूना गुफ़ाओं में मिलते हैं।

Q.8 निम्न लोकोक्ति का सही अर्थ अंकित कीजिए।

उगते सूरज को नमस्कार-

- Ans
- 1. उसने कभी किसी की उपलब्धि को स्वीकार नहीं किया।
  - 2. वह दूसरों की सफलता से जलता है।
  - 3. वह हमेशा दूसरों की तरक्की को नजरअंदाज करता है।
  - 4. किसी की भी सफलता का सम्मान करना।

Q.9 रिक्त स्थान में प्रेरणार्थक क्रिया के प्रयोग से वाक्य पूर्ण करें।  
मोहन स्टेशन मास्टर से टिकट ..... रहा है।

- Ans
- 1. काट
  - 2. कटवा
  - 3. ले
  - 4. खरीद

Q.10 दिए गए वाक्य में उचित परिमाणवाचक विशेषण शब्द का चयन करके रिक्त स्थान की पूर्ति करें -  
साँची दुग्ध उत्पादन केंद्र में ----- दूध ग्रामीण क्षेत्रों से आता है।

- Ans
- 1. हजारों लीटर
  - 2. गुणकारी
  - 3. ताजा
  - 4. चिकना

Q.11 सर्वोचित क्रिया विशेषण शब्द से दिए गए वाक्य का रिक्त स्थान पूर्ण करें—  
बारिश में भीगने के डर से सब लोग ..... चले आए।

- Ans
- 1. बराबर
  - 2. अवश्य
  - 3. भीतर
  - 4. लगभग

Q.12 दिए गए वाक्यों के लिखने का सही क्रम चुनें-  
(1) दुकान इतनी दूर तो नहीं है।  
(2) जितनी देर किशन ने लगा दी है।  
(3) उसे यहां से गए हुए एक घंटा हो चुका है।  
(4) अब मुझे चिन्ता होने लगी है।

- Ans
- 1. 2134
  - 2. 1234
  - 3. 3412
  - 4. 3214

Q.13 नीचे एक अशुद्ध वाक्य दिया गया है, उसका शुद्ध रूप दिए गए विकल्पों में से चुनिए-  
झूट बोलना पाप है।

- Ans
- 1. झूट बोलना पाप है।
  - 2. झूट बोलना पाप हैं।
  - 3. झूटा बोलना पाप है।
  - 4. झूठ बोलना पाप है।

Q.14 'अंगारों पर पैर रखना' मुहावरे का अर्थ है -

- Ans
- 1. व्यापार में हानि होना
  - 2. अच्छी सलाह न मानना
  - 3. दिखावा करना
  - 4. जानबूझकर हानिकारक कार्य करना

Q.15 वाक्य-विन्यास की दृष्टि से दिये गये वाक्य का शुद्ध रूप चुनें--  
फूलों की खुशबू बहुत शांति और प्रसन्नता देती है मन को।

- Ans
- 1. फूलों की खुशबू मन को बहुत शांति और प्रसन्नता देती है।
  - 2. मन को बहुत शांति और प्रसन्नता देती है खुशबू फूलों की।
  - 3. खुशबू मन को फूलों की बहुत शांति और प्रसन्नता देती है।
  - 4. फूलों की खुशबू मन को शांति बहुत और प्रसन्नता है देती।

#### Comprehension:

गद्यांश के आधार पर प्रश्न का उत्तर दें

राष्ट्रीयता के विकास के लिए भाषा एक महत्वपूर्ण तत्व है भाषा ही एक ऐसा साधन है, जिसके द्वारा मनुष्य और मानव समुदाय अपने भावों को एक - दूसरे के सामने प्रकट करते हैं जिस प्रकार पहाड़, नदी तथा समुद्र के आपस में मिलने - जुलने में रुकावट पैदा करते हैं, वैसा ही भाषा की भिन्नता मनुष्यों में पारस्परिक संबंध स्थापित करने में बाधक होती है मनुष्य के विभिन्न समुदायों के अपने - अपने आदर्श, विचार और अपनी - अपनी भावनाएँ होती हैं जिनकी अभिव्यक्ति भाषा द्वारा होती है संगीत और साहित्य की अभिव्यक्ति का साधन भी भाषा ही है भाषा एक ऐसा साधन है, जिससे मनुष्य एक दूसरे के समीप आ जाते हैं, उनमें घनिष्ठता स्थापित हो जाती है यही कारण है कि एक भाषा बोलने वाले लोग परस्पर सहानुभूति रखते हैं राष्ट्रीयता की भावना के लिए भाषा तत्व परम आवश्यक है

#### SubQuestion No : 16

Q.16 गद्यांश का उचित शीर्षक निम्न विकल्पों में से क्या होगा-

#### Comprehension:

गद्यांश के आधार पर प्रश्न का उत्तर दें

राष्ट्रीयता के विकास के लिए भाषा एक महत्वपूर्ण तत्व है भाषा ही एक ऐसा साधन है, जिसके द्वारा मनुष्य और मानव समुदाय अपने भावों को एक - दूसरे के सामने प्रकट करते हैं जिस प्रकार पहाड़, नदी तथा समुद्र के आपस में मिलने - जुलने में रुकावट पैदा करते हैं, वैसा ही भाषा की भिन्नता मनुष्यों में पारस्परिक संबंध स्थापित करने में बाधक होती है मनुष्य के विभिन्न समुदायों के अपने - अपने आदर्श, विचार और अपनी - अपनी भावनाएँ होती हैं जिनकी अभिव्यक्ति भाषा द्वारा होती है संगीत और साहित्य की अभिव्यक्ति का साधन भी भाषा ही है भाषा एक ऐसा साधन है, जिससे मनुष्य एक दूसरे के समीप आ जाते हैं, उनमें घनिष्ठता स्थापित हो जाती है यही कारण है कि एक भाषा बोलने वाले लोग परस्पर सहानुभूति रखते हैं राष्ट्रीयता की भावना के लिए भाषा तत्व परम आवश्यक है

#### SubQuestion No : 17

Q.17 गद्यांश में दिए गए 'अभिव्यक्ति' शब्द का उचित अर्थ है-

### Comprehension:

गद्यांश के आधार पर प्रश्न का उत्तर दें

राष्ट्रीयता के विकास के लिए भाषा एक महत्वपूर्ण तत्व है भाषा ही एक ऐसा साधन है, जिसके द्वारा मनुष्य और मानव समुदाय अपने भावों को एक - दूसरे के सामने प्रकट करते हैं जिस प्रकार पहाड़, नदी तथा समुद्र के आपस में मिलने - जुलने में रुकावट पैदा करते हैं, वैसा ही भाषा की भिन्नता मनुष्यों में पारस्परिक संबंध स्थापित करने में बाधक होती है मनुष्य के विभिन्न समुदायों के अपने - अपने आदर्श, विचार और अपनी - अपनी भावनाएँ होती हैं जिनकी अभिव्यक्ति भाषा द्वारा होती है संगीत और साहित्य की अभिव्यक्ति का साधन भी भाषा ही है भाषा एक ऐसा साधन है, जिससे मनुष्य एक दूसरे के समीप आ जाते हैं, उनमें घनिष्ठता स्थापित हो जाती है यही कारण है कि एक भाषा बोलने वाले लोग परस्पर सहानुभूति रखते हैं राष्ट्रीयता की भावना के लिए भाषा तत्व परम आवश्यक है

### SubQuestion No : 18

Q.18 गद्यांश में दिए गए 'प्रकट' शब्द का उचित विलोम है-

### Comprehension:

गद्यांश के आधार पर प्रश्न का उत्तर दें

राष्ट्रीयता के विकास के लिए भाषा एक महत्वपूर्ण तत्व है भाषा ही एक ऐसा साधन है, जिसके द्वारा मनुष्य और मानव समुदाय अपने भावों को एक - दूसरे के सामने प्रकट करते हैं जिस प्रकार पहाड़, नदी तथा समुद्र के आपस में मिलने - जुलने में रुकावट पैदा करते हैं, वैसा ही भाषा की भिन्नता मनुष्यों में पारस्परिक संबंध स्थापित करने में बाधक होती है मनुष्य के विभिन्न समुदायों के अपने - अपने आदर्श, विचार और अपनी - अपनी भावनाएँ होती हैं जिनकी अभिव्यक्ति भाषा द्वारा होती है संगीत और साहित्य की अभिव्यक्ति का साधन भी भाषा ही है भाषा एक ऐसा साधन है, जिससे मनुष्य एक दूसरे के समीप आ जाते हैं, उनमें घनिष्ठता स्थापित हो जाती है यही कारण है कि एक भाषा बोलने वाले लोग परस्पर सहानुभूति रखते हैं राष्ट्रीयता की भावना के लिए भाषा तत्व परम आवश्यक है

### SubQuestion No : 19

Q.19 गद्यांश में दिए गए 'पहाड़' शब्द का पर्यायवाची नहीं है-

### Comprehension:

गद्यांश के आधार पर प्रश्न का उत्तर दें

राष्ट्रीयता के विकास के लिए भाषा एक महत्वपूर्ण तत्व है भाषा ही एक ऐसा साधन है, जिसके द्वारा मनुष्य और मानव समुदाय अपने भावों को एक - दूसरे के सामने प्रकट करते हैं जिस प्रकार पहाड़, नदी तथा समुद्र के आपस में मिलने - जुलने में रुकावट पैदा करते हैं, वैसा ही भाषा की भिन्नता मनुष्यों में पारस्परिक संबंध स्थापित करने में बाधक होती है मनुष्य के विभिन्न समुदायों के अपने - अपने आदर्श, विचार और अपनी - अपनी भावनाएँ होती हैं जिनकी अभिव्यक्ति भाषा द्वारा होती है संगीत और साहित्य की अभिव्यक्ति का साधन भी भाषा ही है भाषा एक ऐसा साधन है, जिससे मनुष्य एक दूसरे के समीप आ जाते हैं, उनमें घनिष्ठता स्थापित हो जाती है यही कारण है कि एक भाषा बोलने वाले लोग परस्पर सहानुभूति रखते हैं राष्ट्रीयता की भावना के लिए भाषा तत्व परम आवश्यक है

### SubQuestion No : 20

Q.20 गद्यांश का आशय निम्न विकल्पों में से क्या होगा-

### Section : Test of Hindi Language and Comprehension1

Q.1 दिए गए वाक्य में वर्तनी सम्बंधी अशुद्धि किस अंश में है?

फिल्म एक ऐसा माध्यम है, जिसे सभी कला विधाओं का सन्नाम माना जाता है।

Ans  1. सभी कला विधाओं का

2. फिल्म एक ऐसा

3. माध्यम है, जिसे

4. सन्नाम माना जाता है।

Q.2 निम्नलिखित लोकोक्ति के सही अर्थ की पहचान कीजिए-

'गज भर न फाड़े, चाहे थान भर हारे'

Ans  1. यथार्थ को अस्वीकार करना

2. भूत और भविष्य के बीच सामंजस्य बैठाना

3. प्रत्यक्ष में कुछ न देना लेकिन परोक्ष में अत्यधिक नुकसान कर जाना

4. बुद्धिमानी का लोहा मनवाना

Q.3 'प्रारब्ध' का पर्यायवाची शब्द नहीं है-

Ans  1. नसीब

2. किस्मत

3. आदि

4. अदृष्ट

Q.4 'वृक्ष' का पर्यायवाची शब्द है-

- Ans
- 1. उरग
  - 2. उपल
  - 3. द्रुम
  - 4. विपिन

Q.5 निम्नलिखित मुहावरे के सही अर्थ की पहचान कीजिए-  
'कौवे की नज़र रखना'

- Ans
- 1. तेज़ दृष्टि रखना।
  - 2. एकपक्षीय देखना।
  - 3. दृष्टिदोष होना।
  - 4. अंधा होना।

Q.6 निम्नलिखित वाक्य में अशुद्ध शब्द की पहचान कीजिए-  
चाँदनी रात में वह अपनी प्रेयसि के साथ हरित पार्क में टहल रहा था।

- Ans
- 1. प्रेयसि
  - 2. टहल
  - 3. हरित
  - 4. चाँदनी

Q.7 निम्न शब्द का तद्भव शब्द चुनिए।  
क्षेत्र

- Ans
- 1. खेत
  - 2. कूप
  - 3. आम्र
  - 4. आश्रय

Q.8 'सेर को सवा सेर' लोकोक्ति का अर्थ क्या है?

- Ans
- 1. एक से बढ़कर दूसरा।
  - 2. भरपेट खाना चाहिए।
  - 3. सदा एक सी दशा।
  - 4. असंभव बात।

Q.9 नीचे दिए वाक्य में किसी एक शब्द की वर्तनी अशुद्ध है। दिए गए विकल्पों में से शुद्ध वर्तनी वाला वाक्य चुनें-  
वीर सावरकर को जेल में शारिरिक प्रताड़ना दी गई।

- Ans
- 1. वीर सावरकर को जेल में शारीरिक प्रताड़ना दी गई।
  - 2. वीर सावरकर को जेल में शारिरिक प्रताड़ना दि गई।
  - 3. विर सावरकर को जेल में शारिरिक प्रताड़ना दी गई।
  - 4. वीर सावरकर को जेल में शारिरिक प्रतड़ना दी गई।

Q.10 निम्नलिखित में से कौन-सा विकल्प अनेकार्थक शब्द 'धवल' का अर्थ नहीं है?

- Ans
- 1. सफेद
  - 2. निष्कलंक
  - 3. उजला
  - 4. कौआ

Q.11 'मूक' का विलोम शब्द होगा -

- Ans
- 1. वचाल
  - 2. वाचा
  - 3. वाचल
  - 4. वाचल

Q.12 नीचे दिए गए वाक्य के किस भाग में वर्तनी संबंधी अशुद्धि है ?

आज मेरा सोमवार का ब्रत है ।

Ans

- ✓ 1. ब्रत
- ✗ 2. आज मेरा
- ✗ 3. सोमवार का
- ✗ 4. है

Q.13 'इंद्रधनुष' का पर्यायवाची क्या है?

Ans

- ✓ 1. शक्रचाप
- ✗ 2. सूत्रपात
- ✗ 3. अशुचि
- ✗ 4. अनित्य

Q.14 नीचे दिए गए विकल्पों में से 'तत्सम शब्द' का चयन कीजिए।

Ans

- ✗ 1. आटा
- ✓ 2. मित्र
- ✗ 3. कपड़ा
- ✗ 4. पैसा

Q.15 'तीर' का अनेकार्थी शब्द है-

Ans

- ✓ 1. किनारा
- ✗ 2. राजा
- ✗ 3. सूर्य
- ✗ 4. जल

### Comprehension:

गद्यांश को पढ़कर दिये गये प्रश्नों का उत्तर दीजिए-

भारतीय परंपरा में नाटक को 'पंचमवेद' कहा गया है। यह दृश्य काव्य के अंतर्गत आता है, जो रंगमंच का विषय है। अभिनय कला के माध्यम से समाज एवं व्यक्ति के चरित्रों का प्रदर्शन ही 'नाटक' है। इसका उद्देश्य शिक्षण और मनोरंजन के साथ-साथ मानवीय संवेदना, समस्या एवं समाज के यथार्थ का चित्रण करना है। इसमें कथातत्व की प्रधानता होती है। आधुनिक काल में कल्पित कथानक का प्रचालन ज्यादा है। परंपरागत रूप से नाटक कम से कम पाँच अंकों का होना चाहिए, जिसमें आरम्भ, विकास, चरम एवं अंत दिखाया जाता है। हिंदी में नाटक लिखने की परंपरा भारतेंदु युग से मानी जाती है। भारतेंदु हरिश्चंद्र का 'अंधेर नगरी'; प्रसाद का 'चन्द्रगुप्त', 'स्कंदगुप्त', 'ध्रुवस्वामिनी' आदि की लोकप्रियता उल्लेखनीय है। जयशंकर प्रसाद, वृन्दावन लाल वर्मा, हरिकृष्ण प्रेमी, उपेन्द्रनाथ अशक, उदय शंकर भट्ट, लक्ष्मीनारायण लाल आदि ने नाट्य जगत में काफी प्रसिद्धि पायी। वर्तमान समय में नाटक रंगमंच तक ही सीमित नहीं रहा। वह रंगमंच से फिल्मों, नुक्कड़ नाटकों, रेडियो-नाटकों और दूरदर्शन पर धारावाहिक के रूप में दृष्टिगत हो रहा है।

### SubQuestion No : 16

Q.16 दिये गये गद्यांश का उपयुक्त शीर्षक होगा -

### Comprehension:

गद्यांश को पढ़कर दिये गये प्रश्नों का उत्तर दीजिए-

भारतीय परंपरा में नाटक को 'पंचमवेद' कहा गया है। यह दृश्य काव्य के अंतर्गत आता है, जो रंगमंच का विषय है। अभिनय कला के माध्यम से समाज एवं व्यक्ति के चरित्रों का प्रदर्शन ही 'नाटक' है। इसका उद्देश्य शिक्षण और मनोरंजन के साथ-साथ मानवीय संवेदना, समस्या एवं समाज के यथार्थ का चित्रण करना है। इसमें कथातत्व की प्रधानता होती है। आधुनिक काल में कल्पित कथानक का प्रचालन ज्यादा है। परंपरागत रूप से नाटक कम से कम पाँच अंकों का होना चाहिए, जिसमें आरम्भ, विकास, चरम एवं अंत दिखाया जाता है। हिंदी में नाटक लिखने की परंपरा भारतेंदु युग से मानी जाती है। भारतेंदु हरिश्चंद्र का 'अंधेर नगरी'; प्रसाद का 'चन्द्रगुप्त', 'स्कंदगुप्त', 'ध्रुवस्वामिनी' आदि की लोकप्रियता उल्लेखनीय है। जयशंकर प्रसाद, वृन्दावन लाल वर्मा, हरिकृष्ण प्रेमी, उपेन्द्रनाथ अशक, उदय शंकर भट्ट, लक्ष्मीनारायण लाल आदि ने नाट्य जगत में काफी प्रसिद्धि पायी। वर्तमान समय में नाटक रंगमंच तक ही सीमित नहीं रहा। वह रंगमंच से फिल्मों, नुक्कड़ नाटकों, रेडियो-नाटकों और दूरदर्शन पर धारावाहिक के रूप में दृष्टिगत हो रहा है।

### SubQuestion No : 17

Q.17 उक्त गद्यांश में किसके विषय में बात हो रही है?

### Comprehension:

गद्यांश को पढ़कर दिये गये प्रश्नों का उत्तर दीजिए-

भारतीय परंपरा में नाटक को 'पंचमवेद' कहा गया है। यह दृश्य काव्य के अंतर्गत आता है, जो रंगमंच का विषय है। अभिनय कला के माध्यम से समाज एवं व्यक्ति के चरित्रों का प्रदर्शन ही 'नाटक' है। इसका उद्देश्य शिक्षण और मनोरंजन के साथ-साथ मानवीय संवेदना, समस्या एवं समाज के यथार्थ का चित्रण करना है। इसमें कथातत्व की प्रधानता होती है। आधुनिक काल में कल्पित कथानक का प्रचालन ज्यादा है। परंपरागत रूप से नाटक कम से कम पाँच अंकों का होना चाहिए, जिसमें आरम्भ, विकास, चरम एवं अंत दिखाया जाता है। हिंदी में नाटक लिखने की परंपरा भारतेंदु युग से मानी जाती है। भारतेंदु हरिश्चंद्र का 'अंधेर नगरी'; प्रसाद का 'चन्द्रगुप्त', 'स्कंदगुप्त', 'ध्रुवस्वामिनी' आदि की लोकप्रियता उल्लेखनीय है। जयशंकर प्रसाद, वृन्दावन लाल वर्मा, हरिकृष्ण प्रेमी, उपेन्द्रनाथ अशक, उदय शंकर भट्ट, लक्ष्मीनारायण लाल आदि ने नाट्य जगत में काफी प्रसिद्धि पायी। वर्तमान समय में नाटक रंगमंच तक ही सीमित नहीं रहा। वह रंगमंच से फिल्मों, नुक्कड़ नाटकों, रेडियो-नाटकों और दूरदर्शन पर धारावाहिक के रूप में दृष्टिगत हो रहा है।

### SubQuestion No : 18

Q.18 भारतीय परंपरा में नाटक को क्या कहा गया ?

**Comprehension:**

गद्यांश को पढ़कर दिये गये प्रश्नों का उत्तर दीजिए-

भारतीय परंपरा में नाटक को 'पंचमवेद' कहा गया है। यह दृश्य काव्य के अंतर्गत आता है, जो रंगमंच का विषय है। अभिनय कला के माध्यम से समाज एवं व्यक्ति के चरित्रों का प्रदर्शन ही 'नाटक' है। इसका उद्देश्य शिक्षण और मनोरंजन के साथ-साथ मानवीय संवेदना, समस्या एवं समाज के यथार्थ का चित्रण करना है। इसमें कथातत्व की प्रधानता होती है। आधुनिक काल में कल्पित कथानक का प्रचालन ज्यादा है। परंपरागत रूप से नाटक कम से कम पाँच अंकों का होना चाहिए, जिसमें आरम्भ, विकास, चरम एवं अंत दिखाया जाता है। हिंदी में नाटक लिखने की परंपरा भारतेंदु युग से मानी जाती है। भारतेंदु हरिश्चंद्र का 'अंधेर नगरी'; प्रसाद का 'चन्द्रगुप्त', 'स्कंदगुप्त', 'ध्रुवस्वामिनी' आदि की लोकप्रियता उल्लेखनीय है। जयशंकर प्रसाद, वृन्दावन लाल वर्मा, हरिकृष्ण प्रेमी, उपेन्द्रनाथ अशक, उदय शंकर भट्ट, लक्ष्मीनारायण लाल आदि ने नाट्य जगत में काफी प्रसिद्धि पायी। वर्तमान समय में नाटक रंगमंच तक ही सीमित नहीं रहा। वह रंगमंच से फिल्मों, नुक्कड़ नाटकों, रेडियो-नाटकों और दूरदर्शन पर धारावाहिक के रूप में दृष्टिगत हो रहा है।

**SubQuestion No : 19**

**Q.19** हिंदी में नाटक लिखने की परम्परा कब से मानी जाती है ?

**Comprehension:**

गद्यांश को पढ़कर दिये गये प्रश्नों का उत्तर दीजिए-

भारतीय परंपरा में नाटक को 'पंचमवेद' कहा गया है। यह दृश्य काव्य के अंतर्गत आता है, जो रंगमंच का विषय है। अभिनय कला के माध्यम से समाज एवं व्यक्ति के चरित्रों का प्रदर्शन ही 'नाटक' है। इसका उद्देश्य शिक्षण और मनोरंजन के साथ-साथ मानवीय संवेदना, समस्या एवं समाज के यथार्थ का चित्रण करना है। इसमें कथातत्व की प्रधानता होती है। आधुनिक काल में कल्पित कथानक का प्रचालन ज्यादा है। परंपरागत रूप से नाटक कम से कम पाँच अंकों का होना चाहिए, जिसमें आरम्भ, विकास, चरम एवं अंत दिखाया जाता है। हिंदी में नाटक लिखने की परंपरा भारतेंदु युग से मानी जाती है। भारतेंदु हरिश्चंद्र का 'अंधेर नगरी'; प्रसाद का 'चन्द्रगुप्त', 'स्कंदगुप्त', 'ध्रुवस्वामिनी' आदि की लोकप्रियता उल्लेखनीय है। जयशंकर प्रसाद, वृन्दावन लाल वर्मा, हरिकृष्ण प्रेमी, उपेन्द्रनाथ अशक, उदय शंकर भट्ट, लक्ष्मीनारायण लाल आदि ने नाट्य जगत में काफी प्रसिद्धि पायी। वर्तमान समय में नाटक रंगमंच तक ही सीमित नहीं रहा। वह रंगमंच से फिल्मों, नुक्कड़ नाटकों, रेडियो-नाटकों और दूरदर्शन पर धारावाहिक के रूप में दृष्टिगत हो रहा है।

**SubQuestion No : 20**

**Q.20** गद्यांश में प्रयुक्त 'मनोरंजन' का पर्यायवाची शब्द होगा -