



GOVT. OF NCT OF DELHI
Delhi Subordinate Services Selection Board
FC-18, Institutional Area, Karkardooma, Delhi – 110092.
www.dsssb.delhigovt.nic.in

Participant Name	AKASH UPADHYAY
Test Center Name	Aadarsh Pariksha Kendra CENTER B - Gate No 2 - Noida Sector 64
Test Date	27/03/2026
Test Time	5:00 PM - 7:00 PM
Subject	Multi Tasking Staff

Section : General intelligence and Reasoning Ability

Q.1 निम्नलिखित श्रृंखला का संदर्भ लें और प्रश्न का उत्तर दें।
(बाएं) I A Y E I A H O Y E O H E Y B O B D I B D O A K H H H F D S D (दाएं)
श्रृंखला के दाएं छोर से पाँचवें अक्षर और बाएं छोर से तीसरे अक्षर के बीच, अंग्रेजी वर्णमाला क्रम में कितने अक्षर हैं?

- Ans
- 1. 15
 - 2. 13
 - 3. 14
 - 4. 16

Q.2 कुछ व्यक्ति उत्तर की ओर अभिमुख होकर एक पंक्ति में खड़े हैं। यदि नेहा पंक्ति के बाएँ छोर से 15वें और दाएँ छोर से 11वें स्थान पर है, तो पंक्ति में कुल कितने व्यक्ति हैं?

- Ans
- 1. 27
 - 2. 26
 - 3. 24
 - 4. 25

Q.3 निम्नलिखित संख्या श्रृंखला का संदर्भ लीजिए और उसके बाद दिए गए प्रश्न का उत्तर दीजिए। गिनती केवल बाएं से दाएं की जानी है। (सभी संख्याएं केवल एक-अंकीय संख्याएं हैं।)

(बाएं) 2 3 6 2 5 6 2 1 5 9 4 5 6 3 2 1 5 9 8 7 5 3 6 2 1 5 9 8 7 4 5 1 6 2 3 9 5 4 1 5 6 2 3 6 (दाएं)

ऐसे कितने सम अंक हैं, जिनमें से प्रत्येक के ठीक पहले एक सम अंक है और ठीक बाद में एक विषम अंक है?

- Ans
- 1. 3
 - 2. 6
 - 3. 5
 - 4. 7

Q.4 उस विकल्प का चयन करें जो दिए गए शब्दों के सही क्रम को दर्शाता है, जैसे कि वे अंग्रेजी शब्दकोश में दिखाई देते हैं।

1. Spending
2. Spectral
3. Specimen
4. Safeguard
5. Stardust

- Ans
- 1. 3, 5, 1, 4, 2
 - 2. 3, 5, 2, 1, 4
 - 3. 5, 2, 1, 3, 4
 - 4. 4, 3, 2, 1, 5

Q.5 दिए गए कथनों और निष्कर्षों का ध्यानपूर्वक अध्ययन कीजिए। यह मानते हुए कि कथनों में दी गई जानकारी सत्य है, भले ही वह सामान्यतः ज्ञात तथ्यों से भिन्न प्रतीत होती हो, तय कीजिए कि दिए गए निष्कर्षों में से कौन-सा/से निष्कर्ष, कथनों का तार्किक रूप से अनुसरण करता है/करते हैं।

कथन:

कोई ड्रम, रिंग नहीं है।

कोई लॉग, रिंग नहीं है।

निष्कर्ष:

(I): कोई लॉग, ड्रम नहीं है।

(II): कुछ ड्रम, लॉग हैं।

- Ans
- 1. न तो निष्कर्ष (I) और न ही (II) अनुसरण करता है
 - 2. केवल निष्कर्ष (II) अनुसरण करता है
 - 3. निष्कर्ष (I) और (II) दोनों अनुसरण करते हैं
 - 4. केवल निष्कर्ष (I) अनुसरण करता है

Q.6 उस विकल्प का चयन कीजिए, जो दिए गए शब्दों के उस सही क्रम को दर्शाता है जिस क्रम में वे अंग्रेजी शब्दकोश में आते हैं।

1. Ephemeral
2. Escaping
3. Established
4. Employer
5. Elective

- Ans
- 1. 2, 1, 3, 5, 4
 - 2. 1, 2, 3, 5, 4
 - 3. 2, 3, 5, 1, 4
 - 4. 5, 4, 1, 2, 3

Q.7 इस प्रश्न में, एक कथन के बाद दो निष्कर्ष दिए गए हैं। दिए गए कथन के आधार पर कौन-से निष्कर्ष सत्य है।

कथन: $S > W > T < R \leq Y$

निष्कर्ष:

I. $T < Y$

II. $R < S$

- Ans
- 1. केवल II सत्य है
 - 2. केवल I सत्य है
 - 3. I और II दोनों सत्य हैं
 - 4. न तो I और न ही II सत्य है

Q.8 दीपा अपनी कक्षा में ऊपर से 13वें और नीचे से 7वें स्थान पर है। उसकी कक्षा में कुल कितने विद्यार्थी हैं?

- Ans
- 1. 21
 - 2. 19
 - 3. 20
 - 4. 18

Q.9 एक निश्चित कूट भाषा में, 'LATE' को '3517' और 'TURN' को '6438' के रूप में कूटबद्ध किया जाता है। दी गई कूट भाषा में 'T' के लिए कूट क्या होगा?

- Ans
- 1. 3
 - 2. 6
 - 3. 8
 - 4. 1

Q.10 निम्नलिखित अक्षर श्रृंखला का संदर्भ लीजिए और दिए गए प्रश्न का उत्तर दीजिए।
(बाएं) E F R T G B H N J M K L O P Y T R F C D E R F S X V M K L P L E R (दाएं)
श्रृंखला के दाएं छोर से तीसरे अक्षर और बाएं छोर से तीसरे अक्षर के बीच, अंग्रेजी वर्णमाला श्रृंखला में कितने अक्षर हैं?

- Ans 1. 5
 2. 7
 3. 4
 4. 6

Q.11 सात बॉक्स W, X, Y, Z, G, H और I को एक के ऊपर एक करके रखा गया है, लेकिन जरूरी नहीं कि वे इसी क्रम में रखे गए हों। X को Y के ठीक ऊपर रखा गया है। G के ऊपर कोई बॉक्स नहीं रखा गया है। G और Y के बीच केवल तीन बॉक्स रखे गए हैं। I और X के बीच केवल एक बॉक्स रखा गया है। I और W के बीच केवल चार बॉक्स रखे गए हैं। Z को H के ऊपर किसी स्थान पर रखा गया है। Z के नीचे दूसरे स्थान पर किस बॉक्स को रखा गया है?

- Ans 1. I
 2. W
 3. X
 4. Y

Q.12 यदि शब्द BACKGROUND के प्रत्येक अक्षर को अंग्रेजी वर्णमाला क्रम में उसके ठीक बाद वाले अक्षर से बदल दिया जाए, तो इस प्रकार बने नए अक्षर समूह में बाईं ओर से दूसरे और दाईं ओर से दूसरे अक्षर के बीच अंग्रेजी वर्णमाला क्रम में कितने अक्षर होते हैं?

- Ans 1. 10
 2. 11
 3. 12
 4. 13

Q.13 P, Q, R, S, X, Y और Z में से प्रत्येक की परीक्षा एक ही सप्ताह के सोमवार से शुरू होकर रविवार तक अलग-अलग दिनों में है।
X से पहले केवल दो लोगों की परीक्षा है। P के बाद केवल एक व्यक्ति की परीक्षा है। X और S के बीच केवल तीन लोगों की परीक्षा है। Y और R के बीच केवल एक व्यक्ति की परीक्षा है। Q की परीक्षा Y से ठीक पहले है।
Z और Y के बीच कितने लोगों की परीक्षा है?

- Ans 1. दो
 2. एक
 3. तीन
 4. चार

Q.14 F, G का पुत्र है। G, R की पुत्री है। R, S का पिता है। S, T का भाई है। F का T से क्या संबंध है?

- Ans 1. पुत्र
 2. पिता
 3. भाई
 4. बहन का पुत्र

Q.15 N, T का पिता है। L, Q की पुत्री है। R, Q की पत्नी है। T, R का भाई है। N का L से क्या संबंध है?

- Ans 1. पुत्री का पति
 2. पत्नी का पिता
 3. माता का पिता
 4. पिता का पिता

Q.16 इस प्रश्न में, एक कथन के बाद दो निष्कर्ष दिए गए हैं। दिए गए कथन के आधार पर यह ज्ञात कीजिए कि कौन-सा/से निष्कर्ष सत्य है/हैं।

कथन: $A = B < C \leq D < E$

निष्कर्ष:

I. $A < D$

II. $B < E$

- Ans
- 1. केवल II सत्य है
 - 2. न तो I और न ही II सत्य है
 - 3. केवल I सत्य है
 - 4. I और II दोनों सत्य हैं

Q.17 A, B, C, D, E, F और G एक गोल मेज के परितः केंद्र की ओर मुख करके बैठे हैं। E के दाईं ओर से गिनने पर E और F के बीच केवल एक व्यक्ति बैठा है। F और B के बीच केवल एक व्यक्ति बैठा है। E और C के बीच केवल एक व्यक्ति बैठा है। G और B के बीच केवल दो व्यक्ति बैठे हैं। D और C के बीच केवल एक व्यक्ति बैठा है। E के दाईं ओर से गिनने पर A और E के बीच कितने व्यक्ति बैठे हैं?

- Ans
- 1. 3
 - 2. 0
 - 3. 5
 - 4. 2

Q.18 एक निश्चित कूट भाषा में, 'her white shirt' को 'yr op hz' के रूप में और 'white looks clean' को 'tf ae yr' के रूप में कूटबद्ध किया जाता है। दी गई भाषा में 'white' को किस रूप में कूटबद्ध किया जाएगा?

- Ans
- 1. yr
 - 2. ae
 - 3. op
 - 4. tf

Q.19 A, B, C, J, K, L और I एक गोल मेज के परितः मेज के केंद्र की ओर अभिमुख होकर बैठे हैं। L के दाईं ओर से गणना करने पर L और A के बीच केवल एक व्यक्ति बैठा है। C के बाईं ओर से गणना करने पर A और C के बीच केवल एक व्यक्ति बैठा है। K के दाईं ओर से गणना करने पर L और K के बीच केवल एक व्यक्ति बैठा है। C के बाईं ओर से गणना करने पर I और C के बीच केवल दो व्यक्ति बैठे हैं। K के बाईं ओर से गणना करने पर J और K के बीच केवल एक व्यक्ति बैठा है। B के दाईं ओर तीसरे स्थान पर कौन बैठा है?

- Ans
- 1. L
 - 2. A
 - 3. C
 - 4. J

Q.20 किसी निश्चित कूट भाषा में, 'KIND' को '42' के रूप में कूटबद्ध किया जाता है और 'FORM' को '56' के रूप में कूटबद्ध किया जाता है। दी गई कूट भाषा में 'ONTO' का कूट क्या होगा?

- Ans
- 1. 68
 - 2. 62
 - 3. 64
 - 4. 60

Section : General intelligence and Reasoning Ability1

Q.1 निम्नलिखित समीकरण में '+' और '-' को आपस में बदल देने पर तथा 'x' और '÷' को आपस में बदल देने पर '?' के स्थान पर क्या आएगा?

$$32 + 18 \div 4 \times 6 - 3 = ?$$

- Ans
- 1. 23
 - 2. 22
 - 3. 21
 - 4. 25

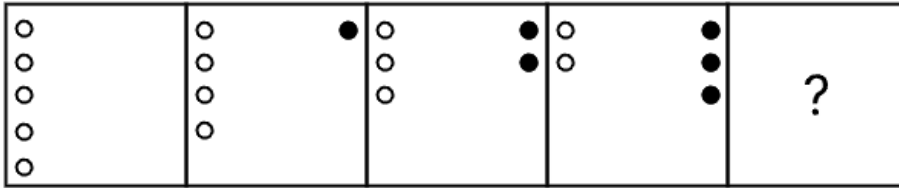
Q.2 उस समुच्चय का चयन कीजिए जिसमें संख्याएँ उसी प्रकार संबंधित हैं जिस प्रकार निम्नलिखित समुच्चय की संख्याएँ संबंधित हैं।
(नोट: संख्याओं को उनके घटक अंकों में तोड़े बिना, पूर्ण संख्याओं पर संक्रियाएँ की जानी चाहिए। उदाहरण के लिए 13 को लीजिए - 13 पर संक्रियाएँ जैसे कि 13 में जोड़ना/घटाना/गुणा करना आदि 13 पर की जा सकती हैं। 13 को 1 व 3 में तोड़ना और फिर 1 व 3 पर गणितीय संक्रियाएँ करने की अनुमति नहीं है।)

(21,17,46)

(20,16,44)

- Ans
- 1. (9,12,5)
 - 2. (15,18,37)
 - 3. (2,10,4)
 - 4. (18,10,36)

Q.3 दिए गए विकल्पों में से उस विकल्प आकृति की पहचान कीजिए जिसे दी गई आकृति में ? के स्थान पर रखने से शृंखला तार्किक रूप से पूर्ण हो जाएगी।



Ans

- 1.
- 2.
- 3.
- 4.

Q.4 यदि '+' और '-' को परस्पर बदल दिया जाए, तो निम्नलिखित समीकरण में '?' के स्थान पर क्या आएगा?

$$15 + 6 - 8 \times 2 = ?$$

- Ans
- 1. 25
 - 2. 28
 - 3. 35
 - 4. 18

Q.5 अंग्रेजी वर्णमाला क्रम पर आधारित, निम्नलिखित चार अक्षर-समूह युग्मों में से तीन किसी निश्चित तरीके से एक समान हैं तथा इस प्रकार एक ग्रुप का निर्माण करते हैं। निम्नलिखित में से कौन-सा अक्षर-समूह युग्म, उस ग्रुप से संबंधित नहीं है?

(नोट: असंगत अक्षर-समूह युग्म, व्यंजनों/स्वरों की संख्या या उनकी स्थिति पर आधारित नहीं है।)

- Ans
- 1. AG-XW
 - 2. HN-ED
 - 3. QW-NM
 - 4. CJ-ZY

Q.6 अंग्रेजी वर्णमाला क्रम के आधार पर, निम्नलिखित चार अक्षर-समूह युग्मों में से तीन किसी निश्चित तरीके से एकसमान हैं और इस प्रकार वे एक ग्रुप बनाते हैं। कौन-सा अक्षर-समूह युग्म, उस ग्रुप से संबंधित नहीं है?

(नोट: असंगत अक्षर-समूह युग्म, व्यंजनों/स्वरों की संख्या या उनकी स्थिति पर आधारित नहीं है।)

- Ans
- 1. NW - DA
 - 2. WG - NK
 - 3. CM - TQ
 - 4. ZJ - QN

Q.7 उस समुच्चय का चयन कीजिए, जिसमें संख्याएं उसी प्रकार से संबंधित हैं जिस प्रकार निम्नलिखित समुच्चयों की संख्याएं संबंधित हैं।

(नोट: संख्याओं को उनके घटक अंकों में तोड़े बिना संक्रियाएं केवल पूर्ण संख्याओं पर की जानी चाहिए। उदाहरण के लिए, 13 लीजिए - 13 पर संक्रियाएं, जैसे 13 में जोड़ना/घटाना/गुणा करना, की जा सकती हैं। 13 को 1 और 3 में तोड़ना तथा फिर 1 और 3 पर गणितीय संक्रियाएं करने की अनुमति नहीं है।)

(30,62,154)

(88,66,220)

- Ans
- 1. (23,17,67)
 - 2. (70,14,98)
 - 3. (77,55,87)
 - 4. (48,35,98)

Q.8 यदि L का अर्थ + है, M का अर्थ \times है, N का अर्थ + है, और O का अर्थ - है, तो निम्नलिखित समीकरण में प्रश्न-चिह्न (?) के स्थान पर क्या आएगा?

$$12 M 4 N 20 L 5 O 10 = ?$$

- Ans
- 1. 42
 - 2. 51
 - 3. 40
 - 4. 45

Q.9 दी गई श्रृंखला में '?' के स्थान पर क्या आएगा?

$$56 \ 46 \ 38 \ 32 \ 28 \ ?$$

- Ans
- 1. 24
 - 2. 28
 - 3. 30
 - 4. 26

Q.10 उस समुच्चय का चयन कीजिए जिसमें संख्याएं उसी प्रकार संबंधित हैं जिस प्रकार निम्नलिखित समुच्चयों की संख्याएं संबंधित हैं।
 (नोट: गणितीय संक्रियाएं, संख्याओं को उनके घटक अंकों में तोड़े बिना, पूर्ण संख्याओं पर की जानी चाहिए। उदाहरण के लिए 13 को लीजिए - 13 पर गणितीय संक्रियाएं जैसे कि 13 को जोड़ना/घटाना/गुणा करना, आदि किया जा सकता है। 13 को 1 और 3 में तोड़ना और फिर 1 और 3 पर गणितीय संक्रियाएं करने की अनुमति नहीं है।)
 (85, 76, 165)
 (20, 40, 64)

- Ans
- ✓ 1. (70, 83, 157)
 - ✗ 2. (78, 38, 98)
 - ✗ 3. (53, 11, 88)
 - ✗ 4. (76, 39, 99)

Q.11 विकल्पों में दी गई उस विकल्प-आकृति का चयन कीजिए, जिसे प्रश्न-चिन्ह (?) के स्थान पर रखने से श्रृंखला तार्किक रूप से पूर्ण हो जाएगी।

← ↑	↑ @	↑ @	↑ @	?
+	@	← @	↑ +	
+	@	+	← +	

Ans

- ✗ 1.

+	@
↑	←
- ✗ 2.

↑	@
+	→
- ✗ 3.

↑	←
@	+
- ✓ 4.

@	+
↑	←

Q.12 अंग्रेजी वर्णानुक्रम के आधार पर, किसी प्रकार SWXY का संबंध WABC से है। उसी प्रकार, HLMN का संबंध LPQR से है। समान तर्क का अनुसरण करते हुए, NRST का संबंध निम्नलिखित में से किससे है?

- Ans
- ✗ 1. RWVB
 - ✗ 2. RUVX
 - ✓ 3. RVWX
 - ✗ 4. RVVX

Q.13 दिए गए कथनों और निष्कर्षों को ध्यान से पढ़िए। यह मानते हुए कि कथनों में दी गई जानकारी सत्य है, भले ही यह सामान्यतः ज्ञात तथ्यों से भिन्न प्रतीत होती हो, तय कीजिए कि दिए गए निष्कर्षों में से कौन-से निष्कर्ष, दिए गए कथनों का तार्किक रूप से अनुसरण करते हैं।

कथन:

कोई हेलीकॉप्टर, शिप नहीं है।

सभी शिप, स्केटबोर्ड हैं।

निष्कर्ष:

I) कोई स्केटबोर्ड, हेलीकॉप्टर नहीं है।

II) कुछ हेलीकॉप्टर, स्केटबोर्ड हैं।

- Ans
- 1. केवल निष्कर्ष (II) अनुसरण करता है।
 - 2. न तो निष्कर्ष (I) और न ही (II) अनुसरण करता है।
 - 3. निष्कर्ष (I) और (II) दोनों अनुसरण करते हैं।
 - 4. केवल निष्कर्ष (I) अनुसरण करता है।

Q.14 निम्नलिखित समीकरण में '+' और '-' को आपस में बदल देने पर तथा 'x' और '+' को आपस में बदल देने पर '?' के स्थान पर क्या आएगा?
 $30 \div 3 + 8 \times 2 - 4 = ?$

- Ans
- 1. 93
 - 2. 90
 - 3. 75
 - 4. 83

Q.15 अंग्रेज़ी वर्णमाला क्रम पर आधारित, निम्नलिखित चार अक्षर-समूह युग्मों में से तीन एक निश्चित प्रकार से समान हैं और इस प्रकार वे एक ग्रुप बनाते हैं। कौन-सा अक्षर-समूह युग्म, उस ग्रुप से संबंधित नहीं है?
(नोट: असंगत अक्षर-समूह युग्म, उसमें व्यंजनों/स्वरों की संख्या या उनकी स्थिति पर आधारित नहीं है।)

- Ans
- 1. KS - RL
 - 2. QV - UZ
 - 3. CH - GL
 - 4. JO - NS

Q.16 उस युग्म का चयन कीजिए, जो नीचे दिए गए दोनों युग्मों के समान पैटर्न का अनुसरण करता हो। दोनों युग्म समान पैटर्न का अनुसरण करते हैं।
IKG : FHD
BDZ : YAW

- Ans
- 1. STO : PRN
 - 2. TVR : QSO
 - 3. STO : OQM
 - 4. SUQ : ORM

Q.17 दी गई श्रृंखला में '?' के स्थान पर क्या आएगा?
1, 3, 7, 13, 21, ?

- Ans
- 1. 32
 - 2. 31
 - 3. 33
 - 4. 30

Q.18 अंग्रेज़ी वर्णमाला क्रम पर आधारित एक निश्चित तरीके से CFGM का संबंध FIJP से है। उसी प्रकार, SBKT का संबंध VENW से है। समान तर्क का अनुसरण करते हुए, RIJL का संबंध निम्नलिखित में से किस विकल्प से है?

- Ans
- 1. TJNM
 - 2. UJNM
 - 3. SLMO
 - 4. ULMO

Q.19 दी गई श्रृंखला में '?' के स्थान पर क्या आना चाहिए?

150, 153, 156, 159, ?, 165

- Ans
- 1. 164
 - 2. 161
 - 3. 162
 - 4. 163

Q.20 संख्या 7854316 के प्रत्येक अंक को बाएं से दाएं आरोही क्रम में व्यवस्थित किया जाता है। इस प्रकार बनी गई संख्या में बाएं से दूसरे और दाएं से दूसरे अंक का योग कितना होगा?

- Ans
- 1. 7
 - 2. 8
 - 3. 9
 - 4. 10

Section : General Awareness

Q.1 ऋग्वेद और उपनिषदों जैसे वैदिक ग्रंथों में पारंपरिक रूप से किस भाषा का उपयोग किया गया है?

- Ans
- 1. तमिल
 - 2. संस्कृत
 - 3. पालि
 - 4. प्राकृत

Q.2 पद "राष्ट्रीय आय" से क्या तात्पर्य है?

- Ans
- 1. किसी वित्तीय वर्ष के दौरान उत्पादन में प्रयुक्त मध्यवर्ती वस्तुओं का कुल मौद्रिक मूल्य
 - 2. विदेशियों सहित, किसी देश की भौगोलिक सीमाओं के अंतर्गत उत्पादित वस्तुओं और सेवाओं का कुल मूल्य
 - 3. किसी देश की एक वित्तीय वर्ष में अंतरराष्ट्रीय व्यापार (निर्यात माइनस आयात) से होने वाली कुल आय
 - 4. किसी देश के सामान्य निवासियों द्वारा एक वित्तीय वर्ष में उत्पादित सभी अंतिम वस्तुओं और सेवाओं का कुल मौद्रिक मूल्य

Q.3 किसी बैंक के लिए अपनी कुल जमा राशि का एक निश्चित प्रतिशत केंद्रीय बैंक के पास आरक्षित नकदी (Cash reserves) के रूप में रखना अनिवार्य होता है, इस प्रक्रिया को क्या कहा जाता है?

- Ans
- 1. बैंक दर (Bank Rate)
 - 2. सांविधिक चलनिधि अनुपात (Statutory Liquidity Ratio)
 - 3. आरक्षित नकदी निधि अनुपात (Cash Reserve Ratio)
 - 4. पुनः खरीद दर (Repo Rate)

Q.4 जुलाई 2025 में, भारतीय नौसेना द्वारा समुद्री कमान बढ़ाने के लिए निम्नलिखित में से किसे कमीशन किया गया था?

- Ans
- 1. INS त्रिकंद
 - 2. INS विक्रान्त
 - 3. INS कलवरी
 - 4. INS तमाल

Q.5 समष्टि अर्थशास्त्र में, किसी निश्चित अवधि के दौरान किसी देश के सामान्य निवासियों द्वारा अर्जित मजदूरी, किराया, ब्याज और लाभ के कुल योगफल को क्या कहा जाता है?

- Ans
- 1. निजी आय
 - 2. प्रयोज्य आय
 - 3. राष्ट्रीय आय
 - 4. व्यक्तिगत आय

Q.6 निम्नलिखित में से किस नेता ने 1916 में भारत के लिए स्वशासन की मांग करने हेतु ऑल इंडिया होम रूल लीग (All-India Home Rule League) की स्थापना की थी?

- Ans
- 1. सी. राजगोपालाचारी
 - 2. जवाहरलाल नेहरू
 - 3. सुभाष चंद्र बोस
 - 4. एनी बेसेंट

Q.7 समष्टि आर्थिक विश्लेषण में, उस स्थिति को क्या कहते हैं जिसमें समग्र उत्पादन बढ़ता है, जबकि रोजगार में आनुपातिक वृद्धि नहीं होती है?

- Ans
- 1. पूर्ण रोजगार
 - 2. श्रम विस्तार
 - 3. अल्प-रोजगार
 - 4. रोजगारहीन विकास

Q.8 नमक मार्च, जिसे दांडी मार्च के नाम से भी जाना जाता है, का नेतृत्व 1930 में किसके द्वारा किया गया था?

- Ans
- 1. प्यारेलाल नय्यर
 - 2. जवाहरलाल नेहरू
 - 3. महात्मा गांधी
 - 4. राजेंद्र प्रसाद

Q.9 भारतीयों को स्वतंत्रता के लिए लड़ने हेतु प्रेरित करने वाले निम्नलिखित नारे किसने दिए?

1. "जय हिंद" (भारत की जीत)
2. "दिल्ली चलो" (चलो दिल्ली की ओर मार्च करें)

- Ans
- 1. सुभाष चंद्र बोस
 - 2. अशफाकउल्लाह खान
 - 3. राम प्रसाद बिस्मिल
 - 4. वीडी सावरकर

Q.10 भारत सरकार द्वारा फरवरी 2026 में किस प्रमुख रक्षा खरीद पैकेज (लगभग ₹3.6 लाख करोड़) को मंजूरी दी गई थी?

- Ans
- 1. बेसिक इन्फेंट्री गियर आधुनिकीकरण
 - 2. 114 राफेल जेट
 - 3. नई परमाणु पनडुब्बी
 - 4. INS विक्रांत का अद्यतन

Q.11 स्वदेशी आंदोलन, ब्रिटिश भारतीय सरकार की निम्नलिखित में से किस कार्रवाई की प्रतिक्रिया के रूप में शुरू हुआ था?

- Ans
- 1. बंगाल का विभाजन
 - 2. रॉलेट एक्ट की शुरुआत
 - 3. जलियांवाला बाग हत्याकांड
 - 4. हंटर कमीशन रिपोर्ट

Q.12 बालकों का वह विशिष्ट आयु वर्ग क्या है जिसके लिए शिक्षा का अधिकार अधिनियम (2009) निःशुल्क और अनिवार्य शिक्षा का अधिदेश देता है?

- Ans
- 1. 3 से 10 वर्ष की आयु के बालक
 - 2. 6 से 14 वर्ष की आयु के बालक
 - 3. 6 से 18 वर्ष की आयु के बालक
 - 4. 5 से 15 वर्ष की आयु के बालक

Q.13 'भारतमाला परियोजना' किस क्षेत्र से संबंधित है?

- Ans
- 1. संचार
 - 2. राजमार्ग
 - 3. स्कूली शिक्षा
 - 4. रेलवे

Q.14 2025 में कम फसल-उत्पादकता वाले कितने जिलों में 'प्रधानमंत्री धन-धान्य कृषि योजना' प्रारंभ की गई?

- Ans
- 1. 50
 - 2. 25
 - 3. 75
 - 4. 100

Q.15 खेलो इंडिया वाटर स्पोर्ट्स फेस्टिवल 2025 का आयोजन निम्नलिखित में से किस शहर में किया गया था?

- Ans
- 1. गुवाहाटी
 - 2. जयपुर
 - 3. पटना
 - 4. श्रीनगर

Q.16 चुनाव कैलेंडर के अनुसार, 2026 में किस केंद्र शासित प्रदेश में चुनाव होने हैं?

- Ans
- 1. पुडुचेरी
 - 2. दमन और दीव
 - 3. चंडीगढ़
 - 4. लक्षद्वीप

Q.17 विकसित भारत-रोजगार और आजीविका के लिए गारंटी मिशन (ग्रामीण) विधेयक, 2025 मुख्यतः निम्नलिखित में से किसकी गारंटी प्रदान करता है?

- Ans
- 1. रोजगार सृजन करने के लिए कृषि प्रौद्योगिकी स्टार्टअप को सब्सिडी
 - 2. प्रत्येक शहरी परिवार के मुखिया के लिए रोजगार
 - 3. ग्रामीण परिवारों के लिए 125 दिनों का वेतनभोगी रोजगार
 - 4. सभी ग्रामीण नागरिकों के लिए निःशुल्क स्वास्थ्य सेवा और रोजगार

Q.18 2025-26 की पांचवीं सॉफ्ट हॉकी राष्ट्रीय चैम्पियनशिप के सीनियर मेन्स फाइनल में किस टीम ने स्वर्ण पदक जीता?

- Ans
- 1. बिहार
 - 2. महाराष्ट्र
 - 3. राजस्थान
 - 4. पंजाब

Q.19 2025 स्पोर्ट्सटार एसेस अवार्ड्स में 'स्पोर्ट्सटार ऑफ द ईयर (पुरुष)' का पुरस्कार किसने जीता?

- Ans
- 1. नीरज चोपड़ा
 - 2. स्वप्निल कुसाले
 - 3. जय शाह
 - 4. पी. आर. श्रीजेश

Q.20 सरदार वल्लभभाई पटेल को _____ भी कहा जाता है।

- Ans
- 1. सर पटेल
 - 2. भारत का वयोवृद्ध पुरुष
 - 3. भारत का लौह पुरुष
 - 4. चाचा पटेल

Section : General Awareness1

Q.1 निम्नलिखित में से क्या, हिंदू मंदिर वास्तुकला की विशिष्ट विशेषता नहीं है?

- Ans
- 1. गर्भगृह
 - 2. मंडप
 - 3. शिखर
 - 4. गुंबद

Q.2 निम्नलिखित में से किन शासकों ने खजुराहो स्मारक समूह का निर्माण करवाया था?

- Ans
- 1. चंदेल
 - 2. पल्लव
 - 3. चालुक्य
 - 4. बुंदेला

Q.3 मौलिक अधिकार एवं मौलिक कर्तव्य एक साथ किस प्रकार कार्य करते हैं?

- Ans
- 1. मौलिक कर्तव्य नागरिकों को अपने अधिकारों का उपयोग जिम्मेदारी के साथ करने के लिए मार्गदर्शन करते हैं
 - 2. मौलिक अधिकारों को नजरअंदाज किया जा सकता है, लेकिन कर्तव्यों का पालन किया जाना चाहिए
 - 3. मौलिक कर्तव्य केवल सरकारी अधिकारियों पर लागू होते हैं
 - 4. बच्चों को मौलिक अधिकार दिए जाते हैं, कर्तव्य वरिष्ठ नागरिकों के लिए होते हैं

Q.4 दंत क्षरण के दौरान, जीवाणु किस पदार्थ को विघटित करके ऐसे अम्ल बनाते हैं जो दांतों को नुकसान पहुंचाते हैं?

- Ans
- 1. वसा
 - 2. स्टार्च
 - 3. प्रोटीन
 - 4. शर्करा

Q.5 निम्नलिखित में से कौन-सा परमाणु ऊर्जा स्टेशन (atomic power station), महाराष्ट्र में अरब सागर तट के निकट स्थित है?

- Ans
- 1. रावतभाटा (Rawatbhata)
 - 2. तारापुर (Tarapur)
 - 3. कलपक्कम (Kalpakkam)
 - 4. नरोरा (Narora)

Q.6 2011 की जनगणना के अनुसार, 2011 में भारत की कितने प्रतिशत जनसंख्या बौद्ध धर्मानुयायी थी?

- Ans
- 1. 0.4%
 - 2. 0.7%
 - 3. 1.2%
 - 4. 2.0%

Q.7 1330 दोहों से युक्त एक शास्त्रीय तमिल नैतिक ग्रंथ तिरुक्कुरल, जिसे तमिल को एक शास्त्रीय भाषा के रूप में मान्यता दिलाने में एक मूलभूत योगदान माना जाता है, का श्रेय पारंपरिक रूप से किस प्राचीन तमिल कवि को दिया जाता है?

- Ans
- 1. तिरुवल्लुवर
 - 2. कंबर
 - 3. सुब्रमण्यम भारती
 - 4. इलांगो अडिगल

Q.8 निम्नलिखित में से किसे, जीवित जीवों में कार्बोहाइड्रेट के रूप में वर्गीकृत किया जाता है?

- Ans
- 1. अमीनो अम्ल
 - 2. ग्लूकोज़
 - 3. कोलेस्टेरॉल
 - 4. एन्जाइम

Q.9 कौन-सी नदी प्रायद्वीपीय पठार से नहीं निकलती है?

- Ans
- 1. गंगा
 - 2. गोदावरी
 - 3. नर्मदा
 - 4. कृष्णा

Q.10 कौन-सा पोषक तत्व, शरीर के ऊतकों के विकास और मरम्मत में सहायक होता है?

- Ans
- 1. जल
 - 2. प्रोटीन
 - 3. वसा
 - 4. कार्बोहाइड्रेट

Q.11 दिए गए विकल्पों में से कौन-सा, भारत का तटीय राज्य नहीं है?

- Ans
- 1. केरल
 - 2. गुजरात
 - 3. मध्य प्रदेश
 - 4. तमिलनाडु

Q.12 कौन-सा अनुच्छेद राज्य को कानून बनाते समय नीति निर्देशक सिद्धांतों को लागू करने के लिए बाध्य करता है?

- Ans
- 1. अनुच्छेद 35
 - 2. अनुच्छेद 27
 - 3. अनुच्छेद 37
 - 4. अनुच्छेद 31

Q.13 मानव पाचन तंत्र का कौन-सा अंग मुख्यतः पोषक तत्वों के अवशोषण के लिए उत्तरदायी होता है?

- Ans
- 1. क्षुद्रांत्र
 - 2. आमाशय
 - 3. ग्रासनली
 - 4. बृहदांत्र

Q.14 अतिरिक्त गुणसूत्र 21 की उपस्थिति के परिणामस्वरूप कौन-सी स्थिति उत्पन्न होती है?

- Ans
- 1. हीमोफीलिया (Haemophilia)
 - 2. डाउन संलक्षण (Down syndrome)
 - 3. दान्त्री कोशिका अरक्तता (Sickle cell anemia)
 - 4. वर्णांधता (Colour blindness)

Q.15 संसदीय समितियों का मुख्य उद्देश्य क्या होता है?

- Ans
- 1. लोकसभा को भंग करने की अनुशंसा करना
 - 2. सभी कानूनों को पेश किए जाने से पहले उनका अनुमोदन करना
 - 3. संसद पर विधायी कार्यों का बोझ कम करना
 - 4. न्यायिक नियुक्तियों का पर्यवेक्षण करना

Q.16 कोणार्क स्थित सूर्य मंदिर की कौन-सी वास्तु-विशेषता सूर्य देवता के विशाल पत्थर के रथ के रूप में इसके अभिकल्प को दर्शाती है?

- Ans
- 1. वृत्ताकार भूतल नक्शा को अपनाना
 - 2. लकड़ी के संरचनात्मक अवयवों का उपयोग
 - 3. पत्थर के चौबीस विशाल पहियों का समावेशन
 - 4. बाह्य मूर्तिकला अलंकरण का अभाव

Q.17 यदि भारत के प्रधानमंत्री पद त्याग दें, तो क्या होता है?

- Ans
- 1. राष्ट्रपति शासन जारी रखता है
 - 2. तुरंत चुनाव आयोजित किए जाते हैं
 - 3. उच्चतम न्यायालय, पदभार संभालता है
 - 4. पूरी मंत्रिपरिषद को पद त्याग दे देना चाहिए

Q.18 ऊर्जा अवसंरचना विकास से संबंधित प्रस्तावों और योजनाओं के मूल्यांकन के लिए निम्नलिखित में से कौन-सा एक महत्वपूर्ण विचार है?

- Ans
- 1. केवल आर्थिक लाभ
 - 2. विशिष्ट हितधारकों तक सीमित
 - 3. जन भागीदारी की अनदेखी
 - 4. पर्यावरणीय प्रभाव और लोक कल्याण

Q.19 भारत में पंचायती राज संस्थाओं (PRI) के प्रत्येक स्तर पर महिलाओं के लिए आरक्षित सीटों का न्यूनतम प्रतिशत कितना है?

- Ans
- 1. 66.66%
 - 2. 33.33%
 - 3. 25%
 - 4. 50.33%

Q.20 हैदराबाद का एक किला अपनी ध्वनिक विशेषताओं, विशाल द्वारों और कुतुब शाही राजवंश के साथ ऐतिहासिक संबंध के लिए जाना जाता है। यह कौन-सा किला है?

- Ans
- 1. चित्तौड़गढ़ किला
 - 2. दौलताबाद किला
 - 3. मेहरानगढ़ किला
 - 4. गोलकोंडा किला

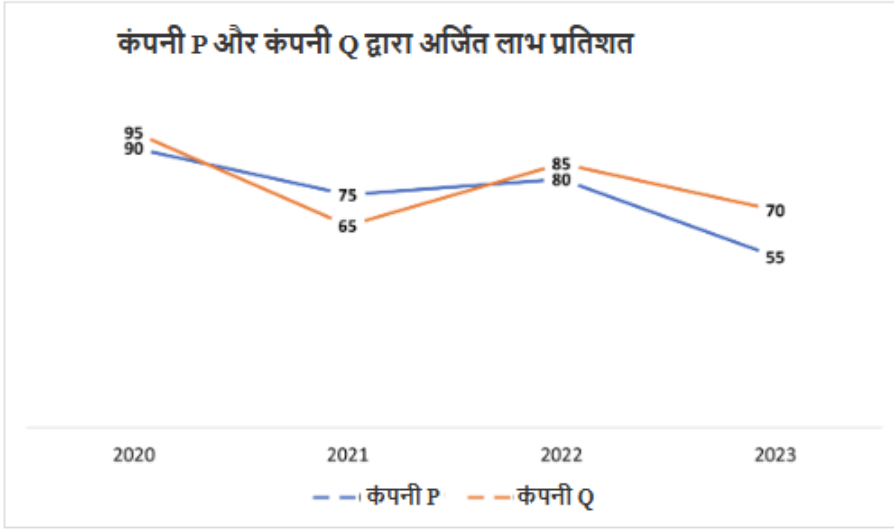
Section : Arithmetical and Numerical Ability

Q.1 0.000081 का वर्गमूल ज्ञात कीजिए।

- Ans
- 1. 0.006
 - 2. 0.003
 - 3. 0.081
 - 4. 0.009

Q.2 दिए गए ग्राफ का अध्ययन कीजिए और दिए गए प्रश्न का उत्तर दीजिए।

निम्नलिखित रेखा ग्राफ, कंपनी P और कंपनी Q द्वारा अपने निवेश पर अर्जित लाभ प्रतिशत को दर्शाता है।



कंपनी Q के लिए, निवेश और लाभ का अनुपात किस वर्ष में अधिकतम है?

- Ans
- 1. 2020
 - 2. 2021
 - 3. 2023
 - 4. 2022

Q.3 हरभजन ने एक निश्चित राशि 20% वार्षिक चक्रवृद्धि ब्याज दर पर जमा की, जहाँ ब्याज वार्षिक रूप से संयोजित होता है। 2 वर्ष के अंत में, उसे कुल ₹26,244 प्राप्त हुए। हरभजन द्वारा जमा की गई राशि ज्ञात कीजिए।

- Ans
- 1. ₹18,065
 - 2. ₹18,191
 - 3. ₹18,440
 - 4. ₹18,225

Q.4 यदि p और q अभाज्य संख्याएं हैं और $p^2 + q^2 = 74$ है, तो p + q का मान कितना होगा?

- Ans
- 1. 9
 - 2. 10
 - 3. 12
 - 4. 8

Q.5 ₹5,000 की राशि पर 25% वार्षिक दर से 2 वर्षों के बाद कितना चक्रवृद्धि ब्याज प्राप्त होगा?

- Ans
- 1. ₹2,612.5
 - 2. ₹2,712.5
 - 3. ₹2,912.5
 - 4. ₹2,812.5

Q.6 एक क्लब में 60% सदस्य पुरुष और 40% सदस्य महिलाएं हैं। यदि पुरुषों की औसत आयु 30 वर्ष और महिलाओं की औसत आयु 35 वर्ष है, तो सभी सदस्यों की औसत आयु (वर्षों में) ज्ञात कीजिए।

- Ans
- 1. 31
 - 2. 33
 - 3. 34
 - 4. 32

Q.7 ₹9,600 पर 3% वार्षिक ब्याज दर से कितने वर्षों में साधारण ब्याज के रूप में ₹1,080 प्राप्त होगा?

- Ans 1. 3.75
 2. 2.75
 3. 7.5
 4. 4.75

Q.8 लकड़ी की एक छड़ी की लंबाई में पहले 10% की कमी की जाती है और फिर परिणामी लंबाई में 40% की कमी की जाती है। लकड़ी की छड़ी की लंबाई में कुल प्रतिशत परिवर्तन कितना होगा?

- Ans 1. 42%, कमी
 2. 46%, वृद्धि
 3. 46%, कमी
 4. 42%, वृद्धि

Q.9 यदि $\frac{2^3 \times 4^5}{(0.2)^3} = 2^x \times 10^3$ है, तो x का मान ज्ञात कीजिए।

- Ans 1. 14
 2. 10
 3. -10
 4. 12

Q.10 रोहित ने किसी निश्चित धनराशि को 20% वार्षिक चक्रवृद्धि ब्याज दर पर जमा किया जबकि ब्याज वार्षिक रूप से संयोजित होता है। 2 वर्ष के अंत में, उसे कुल ₹13,824 प्राप्त हुए। रोहित द्वारा जमा की गई धनराशि ज्ञात कीजिए।

- Ans 1. ₹9,600
 2. ₹9,603
 3. ₹9,404
 4. ₹9,248

Q.11 एक विक्रेता ने एक रुपये में 21 नींबू की दर से नींबू खरीदे। 50% लाभ अर्जित करने के लिए उसे एक रुपये में कितने नींबू बेचने होंगे?

- Ans 1. 18
 2. 15
 3. 16
 4. 14

Q.12 एक विद्यार्थी के अंक गलती से 79 के स्थान पर 29 दर्ज कर दिए गए। इसके कारण, कक्षा के औसत अंक में $\frac{5}{4}$ की कमी हो गई। कक्षा में विद्यार्थियों की संख्या कितनी है?

- Ans 1. 41
 2. 40
 3. 47
 4. 31

Q.13 तीन वर्ष पहले एक शहर की जनसंख्या 1,80,000 थी। पिछले तीन वर्षों में इसमें 2.5%, 3% और 5% की वृद्धि हुई। शहर की वर्तमान जनसंख्या (निकटतम पूर्णांक तक पूर्णांकित) ज्ञात कीजिए।

- Ans 1. 1,99,537
 2. 1,99,357
 3. 1,98,357
 4. 1,97,890

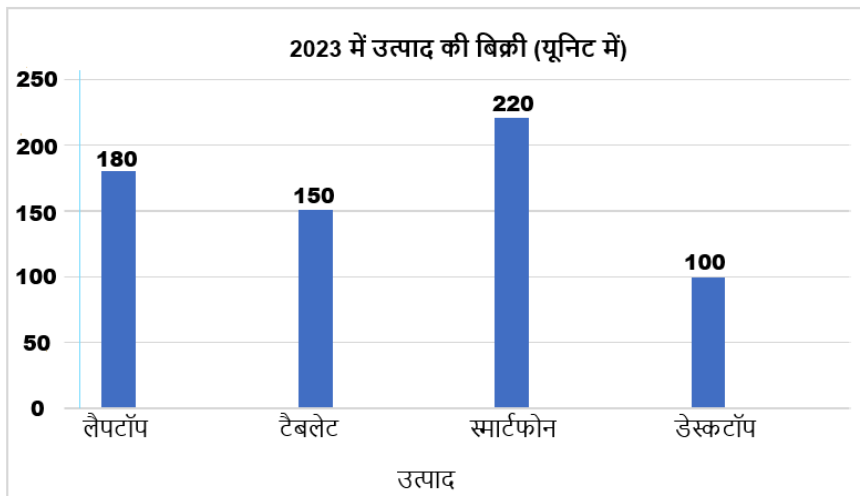
Q.14 एक कारखाने का उत्पादन 2009 में 55,600 था। 2010 में उत्पादन में 13% की वृद्धि हुई। 2010 में कारखाने का उत्पादन कितना था?

- Ans
- 1. 62,419
 - 2. 62,735
 - 3. 62,516
 - 4. 62,828

Q.15 यदि $0.03 \times x = \frac{121}{0.121} \times 0.21$ है, तो x का मान ज्ञात कीजिए।

- Ans
- 1. 70
 - 2. 700
 - 3. 70000
 - 4. 7000

Q.16 दिया गया दंड आलेख 2023 में उत्पाद की बिक्री को दर्शाता है।



अधिकतम और न्यूनतम बिक्री (यूनिट में) के बीच कितना अंतर है?

- Ans
- 1. 200
 - 2. 150
 - 3. 120
 - 4. 100

Q.17 एक क्रिकेटर का 53 पारियों में औसत स्कोर था। 54 पारी में वह शून्य पर आउट हो गया, जिससे उसका औसत 5 रन कम हो गया। 54 पारियों के बाद उसका नया औसत (रन में) ज्ञात कीजिए।

- Ans
- 1. 260
 - 2. 275
 - 3. 265
 - 4. 270

Q.18 A एक वस्तु को 20% के लाभ पर B को बेचता है। B उसके रखरखाव पर ₹400 खर्च करता है और वस्तु को 10% की हानि पर C को बेच देता है। इसके बाद, C उस वस्तु को 25% के लाभ पर D को बेच देता है। यदि D ने C को ₹34,200 का भुगतान किया, तो A को प्राप्त होने वाली राशि ज्ञात कीजिए।

- Ans
- 1. ₹27,000
 - 2. ₹32,000
 - 3. ₹30,000
 - 4. ₹25,000

Q.19 एक पेड़ की ऊंचाई प्रति वर्ष 20% की दर से बढ़ती है। यदि वर्तमान में इसकी ऊंचाई 25 फीट है, तो 2 वर्ष बाद इसकी ऊंचाई (फीट में) कितनी होगी?

- Ans
- 1. 34
 - 2. 32
 - 3. 30
 - 4. 36

Q.20 30 और 66 के बीच की सभी अभाज्य संख्याओं का औसत ज्ञात कीजिए।

- Ans
- 1. 48
 - 2. 48.6
 - 3. 47
 - 4. 46.5

Section : Arithmetical and Numerical Ability1

Q.1 कोई टंकी 30% भरी हुई है। नल X खाली टंकी को 28 मिनट में भर सकता है, जबकि नल Y भरी हुई टंकी को 20 मिनट में खाली कर सकता है। यदि दोनों नलों को एक साथ खोला जाए, तो टंकी कितने समय में खाली हो जाएगी?

- Ans
- 1. 21 मिनट
 - 2. 15 मिनट
 - 3. 18 मिनट
 - 4. 20 मिनट

Q.2 एक दूध वितरक तीन दूधवालों से 4 : 7 : 10 के अनुपात में दूध खरीदता है। तीनों दूधवाले अपने दूध में पानी मिलाते हैं। तीनों दूधवालों द्वारा आपूर्ति किए गए दूध में पानी और दूध का अनुपात क्रमशः 1 : 3, 2 : 5 और 3 : 7 है। इस प्रकार आपूर्ति किए गए दूध को वितरक द्वारा मिलाया जाता है और आगे बेचा जाता है। दूध और पानी के ऐसे मिश्रण के 105 लीटर में दूध की मात्रा कितनी (लीटर में) है?

- Ans
- 1. 72
 - 2. 75
 - 3. 82
 - 4. 84

Q.3 मुकेश ₹3,19,20 से एक व्यवसाय शुरू करता है और 8 महीने बाद नितिन, मुकेश के साथ साझेदार के रूप में व्यवसाय में शामिल हो जाता है। एक वर्ष बाद, लाभ को 7 : 11 के अनुपात में बांटा गया है। व्यवसाय में नितिन ने कितनी धनराशि का निवेश किया?

- Ans
- 1. ₹1,50,480
 - 2. ₹3,50,480
 - 3. ₹2,50,480
 - 4. ₹4,50,480

Q.4 एक व्यक्ति 8 घंटे में धारा की विपरीत दिशा में 56 km और 9 घंटे में धारा की दिशा में 99 km की दूरी तय करता है। शांत जल में उस व्यक्ति की चाल (km/h में) कितनी है?

- Ans
- 1. 11
 - 2. 8
 - 3. 9
 - 4. 10

Q.5 अमित ₹15 में 3 kg की दर से आम खरीदता है और उन्हें ₹50 में 5 kg की दर से बेचता है। ₹105 का लाभ कमाने के लिए उसे कितने किलोग्राम आम बेचने होंगे?

- Ans
- 1. 24
 - 2. 23
 - 3. 21
 - 4. 22

Q.6 300 m लंबी एक ट्रेन पीछे से आकर समान दिशा में चल रही (300 - x) m लंबी दूसरी ट्रेन को 30 सेकंड में ओवरटेक कर लेती है। यदि धीमी ट्रेन की चाल 54 km/hr और तेज ट्रेन की चाल 114 km/hr है, तो x का मान क्या है?

- Ans
- 1. 100
 - 2. 150
 - 3. 200
 - 4. 50

Q.7 एक दुकान में "5 kg चावल खरीदें और 1 kg सुप्रत पाएं" का ऑफ़र दिया जा रहा है। यदि चावल का मूल्य ₹60 प्रति kg है, तो एक ग्राहक को 12 kg चावल के लिए कितनी धनराशि का भुगतान करना पड़ेगा?

- Ans
- 1. ₹660
 - 2. ₹650
 - 3. ₹600
 - 4. ₹680

Q.8 A एक दीवार को 12 दिनों में बना सकता है, जबकि B उसे 18 दिनों में बना सकता है। वे 4 दिनों तक एकसाथ काम करते हैं, फिर B काम छोड़कर चला जाता है। शेष काम को A अकेले कितने दिनों में पूरा कर सकता है?

- Ans
- 1. $6\frac{1}{3}$
 - 2. $5\frac{2}{3}$
 - 3. $5\frac{1}{3}$
 - 4. $6\frac{2}{3}$

Q.9 सीमा और मनीषा की वर्तमान आयु का अनुपात 5 : 7 है। 4 वर्ष बाद, उनकी आयु का अनुपात 7 : 9 हो जाएगा। सीमा की वर्तमान आयु ज्ञात कीजिए।

- Ans
- 1. 10 वर्ष
 - 2. 15 वर्ष
 - 3. 5 वर्ष
 - 4. 20 वर्ष

Q.10 दो पाइप, P और Q, जब प्रत्येक अकेले काम कर रहे हों, एक खाली टंकी को क्रमशः 36 घंटे और 45 घंटे में भर सकते हैं। एक अपशिष्ट पाइप, R, पूर्ण रूप से भरी हुई टंकी को 30 घंटे में खाली कर सकता है। प्रारंभ में केवल पाइप P और Q को खोला जाता है। 10 घंटे के बाद, R को भी खोल दिया जाता है। प्रारंभ से कितने समय में टंकी भर जाएगी?

- Ans
- 1. 35 घंटे
 - 2. 45 घंटे
 - 3. 40 घंटे
 - 4. 30 घंटे

Q.11 कोई दुकानदार किसी वस्तु पर क्रय मूल्य से 25% अधिक मूल्य अंकित करता है। त्यौहारी सेल के दौरान, वह अंकित मूल्य पर 20% की छूट देता है। यदि अंतिम विक्रय मूल्य ₹960 है, तो वस्तु का क्रय मूल्य ज्ञात कीजिए।

- Ans
- 1. ₹1,020
 - 2. ₹980
 - 3. ₹960
 - 4. ₹1,050

Q.12 दो ट्रेनें एक ही स्टेशन से एक ही समय पर चलना शुरू करती हैं, एक पूर्व दिशा की ओर और दूसरी उत्तर दिशा की ओर जाती है। पूर्व दिशा की ओर जाने वाली ट्रेन की चाल 54 km/hr है और उत्तर दिशा की ओर जाने वाली ट्रेन की चाल 72 km/hr है। कितने समय बाद वे 300 km की दूरी पर होंगी?

- Ans
- 1. 4 घंटे
 - 2. 3 घंटे
 - 3. 3 घंटे 40 मिनट
 - 4. 3 घंटे 20 मिनट

Q.13 4.3 m त्रिज्या वाला एक कुआँ 63 m गहरा खोदा जाता है। कुएँ से निकाली गई मिट्टी का आयतन (m^3 में) ज्ञात कीजिए। ($\pi = 22/7$ का उपयोग कीजिए)

- Ans
- 1. 3212.14
 - 2. 3661.02
 - 3. 3344.07
 - 4. 3836.97

Q.14 120 m और 180 m लंबाई की दो ट्रेनें विपरीत दिशाओं में क्रमशः 45 km/h और 63 km/h की चाल से चल रही हैं। उन्हें एक-दूसरे को पार करने में कितना समय लगेगा?

- Ans
- 1. 12 सेकंड
 - 2. 10 सेकंड
 - 3. 8 सेकंड
 - 4. 6 सेकंड

Q.15 एक ठोस बेलन को खोखला करके एक शंकु बनाया जाता है, दोनों के आधार की त्रिज्या और ऊँचाई समान है। बेलन की ऊँचाई 28 cm और त्रिज्या 7 cm है। शेष ठोस को पिघलाकर समान त्रिज्या (7 cm) वाली ठोस गोलाकार गेंदें बनाई जाती हैं और इस प्रक्रिया में कोई अपव्यय नहीं होता है। यदि प्रत्येक गेंद को ₹125 में बेचा जाता है और मूल बेलन की लागत ₹175 है, तो गोलाकार गेंदों को बेचकर कितना लाभ (प्रतिशत में) अर्जित किया गया है?

- Ans
- 1. $44\frac{5}{7}\%$
 - 2. $42\frac{6}{7}\%$
 - 3. $42\frac{5}{7}\%$
 - 4. $44\frac{4}{7}\%$

Q.16 एक निश्चित धनराशि आनंद, भास्कर और सुंदर के बीच वितरित की गई। उसमें से क्रमशः ₹260, ₹280 और ₹320 का कमीशन काटने के बाद, उनकी धनराशि का अनुपात 9 : 13 : 8 है। यदि आनंद के पास ₹63,260 की धनराशि है, तो उन सभी को वितरित की गई कुल धनराशि कितनी है?

- Ans
- 1. ₹2,10,860
 - 2. ₹2,10,680
 - 3. ₹2,01,860
 - 4. ₹2,10,806

Q.17 A और B मिलकर किसी कार्य को 18 दिनों में कर सकते हैं, B और C मिलकर उसे 24 दिनों में तथा C और A मिलकर उसे 54 दिनों में कर सकते हैं। वे मिलकर उस कार्य को कितने दिनों में पूरा करेंगे?

- Ans
- 1. $19\frac{8}{21}$
 - 2. $17\frac{7}{25}$
 - 3. $15\frac{4}{23}$
 - 4. $20\frac{3}{14}$

Q.18 यदि रमन ने अपनी साइकिल ₹546 अधिक में बेची होती, तो उसे 10% हानि के बजाय 4% लाभ होता। लाभ के रूप में 15% प्राप्त करने के लिए साइकिल का विक्रय मूल्य ज्ञात कीजिए।

- Ans
- 1. ₹4485
 - 2. ₹4245
 - 3. ₹4050
 - 4. ₹3600

Q.19 46 m की प्रत्येक कोर वाले घन का आयतन (m^3 में) ज्ञात कीजिए।

- Ans
- 1. 97336
 - 2. 97421
 - 3. 97327
 - 4. 97185

Q.20 6 cm त्रिज्या वाले एक ठोस धातु के गोले को पिघलाकर 8 cm ऊँचाई वाले एक बेलन में ढाला जाता है। बेलन की त्रिज्या कितनी होगी?

- Ans
- 1. 8 cm
 - 2. 5 cm
 - 3. 6 cm
 - 4. 7 cm

Section : Test of English Language and Comprehension

Q.1 Select the appropriate verb to complete the sentence.

The company is _____ the launch of its new product until the market conditions improve.5106

- Ans
- 1. postponing
 - 2. accelerating
 - 3. considering
 - 4. approving

Q.2 Identify the error in the following sentence and choose the correct revision from the given options.

He was accused on stealing the documents from the office.

- Ans
- 1. He was accused by stealing the documents from the office.
 - 2. He was accused at stealing the documents from the office.
 - 3. He was accused for stealing the documents from the office.
 - 4. He was accused of stealing the documents from the office.

Q.3 Select the most appropriate adverb to fill in the blank.

She was ____ pleased by the compliments received last evening.

- Ans
- 1. often
 - 2. much
 - 3. usually
 - 4. early

Q.4 Fill in the blank with the suitable article.

We had Indian summer last year, very warm until October.1432

- Ans
- 1. No article
 - 2. the
 - 3. an
 - 4. a

Q.5 Choose the most appropriate option to fill in the blank.

Yesterday, the Prime minister with all his ministers ____ present at the meeting.

- Ans
- 1. are
 - 2. is
 - 3. was
 - 4. were

Q.6 Select the most appropriate option to fill in the blanks.

____ Taj Mahal stands on ____ banks of the Yamuna.

- Ans
- 1. The, the
 - 2. The, a
 - 3. A, an
 - 4. A, no article required

Q.7 Correct the following sentence by replacing the underlined word from the options in order to correct the sentence:

Ghana had to increase food imports to meet the needs of a speedy growing population.

- Ans
- 1. long
 - 2. hurried
 - 3. slow
 - 4. fast

Q.8 Rectify the given sentence by choosing the correct option.

Properly speaking, older, people are less able to speak up for their rights.2923

- Ans
- 1. Loudly speaking, older, people are less able to speak up for their rights.
 - 2. Generally speaking, older, people are less able to speak up for their rights.
 - 3. Quietly speaking, older, people are less able to speak up for their rights.
 - 4. Carefully speaking, older, people are less able to speak up for their rights.

Q.9 Identify the most suitable word to complete the sentence.

They ____ to the store every Saturday.

- Ans
- 1. go
 - 2. went
 - 3. going
 - 4. goes

Q.10 Choose the most appropriate option to substitute the underlined word segment in the given sentence to correct it.

Meera found all the yoga poses in the class manageable and enjoyable, except in the challenging headstand.4092

- Ans
- 1. except for the challenging
 - 2. except from the challenging
 - 3. except to the challenging
 - 4. except that the challenging

Q.11 Select the proper arrangement of the following to make a meaningful and coherent sentence.

A. the artist completed B. after weeks of hard work C. her masterpiece D. and exhibited it at the gallery

- Ans
- 1. B A C D
 - 2. A B D C
 - 3. C A D B
 - 4. A C B D

Q.12 Complete the following sentence choosing the appropriate option relating to the use of articles.

_____ hour's treatment at _____ prestigious hospital costs one _____ fortune.1353

- Ans
- 1. a, a, a
 - 2. an, a, a
 - 3. an, an, a
 - 4. a, an, a

Q.13 A sentence with a grammatical error is given below. Identify the error and select the sentence which is error-free and grammatically correct.

Charlie jumped under the car when he suddenly saw a huge pit before him. 4119

- Ans
- 1. Charlie jumped at the car when he suddenly saw a pit before him.
 - 2. Charlie jumped off the car when he suddenly saw a pit before him.
 - 3. Charlie jumped above the car when he suddenly saw a huge pit before him.
 - 4. Charlie jumped under the car when he suddenly saw a pit before him.

Q.14 Select the most appropriate article for the blank in the sentence given below.

He went for an adventurous ride in _____ night. 1506

- Ans
- 1. an
 - 2. a
 - 3. the
 - 4. No article required

Q.15 In the given question, a sentence divided into different segments is given. The first segment is fixed, rearrange the other segments to form a coherent statement.

Written with a tea garden as the backdrop, the novel 'Dawor Aru Nai' by Jogesh Das (1955)/ on the society and the economy of Assam at (A)/ life of the tea labourers in the given scenario (B)/ the same time also looking into the struggling (C)/ dwelt largely on the impact of the Second World War (D)

- Ans
- 1. DCAB
 - 2. DACB
 - 3. BADC
 - 4. BDAC

Comprehension:

Read the given passage carefully and answer the questions that follow.

Inflation is often discussed using numbers, but its effects are deeply personal. When prices rise, households are affected in different ways. While general statistics might show a stable economy, individual experiences tell a different story. For low- and middle-income families, essential costs like food and housing take up a larger portion of their paycheck, making them more vulnerable. Many people view inflation as a temporary problem caused by outside events. However, internal factors like supply chain issues and government policy also matter. When wages do not grow as fast as prices, purchasing power erodes. This leads to more debt and higher stress, affecting social wellbeing.

Governments often try to control inflation by changing interest rates. While this can slow down rising prices, it can also make it harder for people to find jobs or get loans. If leaders only look at the "big picture" of the economy, they may ignore how their choices increase inequality. Understanding inflation requires more than just looking at math; it requires looking at how wealth is distributed and how policies affect everyday life.

SubQuestion No : 16

Q.16 What is the central theme of the passage?

Comprehension:

Read the given passage carefully and answer the questions that follow.

Inflation is often discussed using numbers, but its effects are deeply personal. When prices rise, households are affected in different ways. While general statistics might show a stable economy, individual experiences tell a different story. For low- and middle-income families, essential costs like food and housing take up a larger portion of their paycheck, making them more vulnerable. Many people view inflation as a temporary problem caused by outside events. However, internal factors like supply chain issues and government policy also matter. When wages do not grow as fast as prices, purchasing power erodes. This leads to more debt and higher stress, affecting social wellbeing.

Governments often try to control inflation by changing interest rates. While this can slow down rising prices, it can also make it harder for people to find jobs or get loans. If leaders only look at the "big picture" of the economy, they may ignore how their choices increase inequality. Understanding inflation requires more than just looking at math; it requires looking at how wealth is distributed and how policies affect everyday life.

SubQuestion No : 17

Q.17 Which fact is explicitly stated in the passage?

Comprehension:

Read the given passage carefully and answer the questions that follow.

Inflation is often discussed using numbers, but its effects are deeply personal. When prices rise, households are affected in different ways. While general statistics might show a stable economy, individual experiences tell a different story. For low- and middle-income families, essential costs like food and housing take up a larger portion of their paycheck, making them more vulnerable. Many people view inflation as a temporary problem caused by outside events. However, internal factors like supply chain issues and government policy also matter. When wages do not grow as fast as prices, purchasing power erodes. This leads to more debt and higher stress, affecting social wellbeing.

Governments often try to control inflation by changing interest rates. While this can slow down rising prices, it can also make it harder for people to find jobs or get loans. If leaders only look at the "big picture" of the economy, they may ignore how their choices increase inequality. Understanding inflation requires more than just looking at math; it requires looking at how wealth is distributed and how policies affect everyday life.

SubQuestion No : 18

Q.18 What inference can be drawn about policy responses?

Comprehension:

Read the given passage carefully and answer the questions that follow.

Inflation is often discussed using numbers, but its effects are deeply personal. When prices rise, households are affected in different ways. While general statistics might show a stable economy, individual experiences tell a different story. For low- and middle-income families, essential costs like food and housing take up a larger portion of their paycheck, making them more vulnerable.

Many people view inflation as a temporary problem caused by outside events. However, internal factors like supply chain issues and government policy also matter. When wages do not grow as fast as prices, purchasing power erodes. This leads to more debt and higher stress, affecting social wellbeing.

Governments often try to control inflation by changing interest rates. While this can slow down rising prices, it can also make it harder for people to find jobs or get loans. If leaders only look at the "big picture" of the economy, they may ignore how their choices increase inequality. Understanding inflation requires more than just looking at math; it requires looking at how wealth is distributed and how policies affect everyday life.

SubQuestion No : 19

Q.19 How does the author connect economics to society?

Comprehension:

Read the given passage carefully and answer the questions that follow.

Inflation is often discussed using numbers, but its effects are deeply personal. When prices rise, households are affected in different ways. While general statistics might show a stable economy, individual experiences tell a different story. For low- and middle-income families, essential costs like food and housing take up a larger portion of their paycheck, making them more vulnerable.

Many people view inflation as a temporary problem caused by outside events. However, internal factors like supply chain issues and government policy also matter. When wages do not grow as fast as prices, purchasing power erodes. This leads to more debt and higher stress, affecting social wellbeing.

Governments often try to control inflation by changing interest rates. While this can slow down rising prices, it can also make it harder for people to find jobs or get loans. If leaders only look at the "big picture" of the economy, they may ignore how their choices increase inequality. Understanding inflation requires more than just looking at math; it requires looking at how wealth is distributed and how policies affect everyday life.

SubQuestion No : 20

Q.20 The word "erosion" most nearly means:

Section : Test of English Language and Comprehension1

Q.1 Find out the antonym of "rebellious".

- Ans**
- 1. obedient
 - 2. skillful
 - 3. aggressive
 - 4. forgiven

Q.2 Find out the antonym of "intermediate".

- Ans**
- 1. Temporary
 - 2. Impartial
 - 3. Normal
 - 4. Extreme

Q.3 Select the most appropriate synonym of the given word.

Persistent

- Ans**
- 1. Changeable
 - 2. Corporal
 - 3. Continuous
 - 4. Composed

Q.4 Rearrange the following segments to form a coherent and meaningful statement.
Raising serious concerns among experts and researchers (A) / Rapid growth in artificial intelligence (B) / has changed many industries and services (C) / while creating questions about data safety and job loss (D) /

- Ans
- 1. D - A - C - B
 - 2. B - C - D - A
 - 3. A - B - C - D
 - 4. C - B - A - D

Q.5 Select the INCORRECTLY spelt word in the given sentence.

The accomodation looked clean, but the restaurant charged an unnecessary fee for separate service.

- Ans
- 1. separate
 - 2. restaurant
 - 3. unnecessary
 - 4. accomodation

Q.6 Select the most appropriate meaning of the proverb:
Always put your best foot forward.

- Ans
- 1. Always lead others with your best foot when walking.
 - 2. Always walk confidently and smartly to make an impression.
 - 3. Work hard and present yourself in the best possible way.
 - 4. Make sure you are always in your most comfortable shoes and dress.

Q.7 Replace the highlighted text with the correct one-word substitution given in the options.

Rajesh has an **unreasonable fear of open spaces**.

- Ans
- 1. Atelophobia
 - 2. Agoraphobia
 - 3. Astraphobia
 - 4. Anglophobia

Q.8 Choose the appropriate option that best expresses the meaning of the proverb 'pride comes before a fall'.

- Ans
- 1. Being proud always leads to good things
 - 2. Confidence assures that everything will go well
 - 3. People like to be full of pride before they can fall
 - 4. Being too proud can lead to mistakes and problems

Q.9 Which of the following is a one-word substitute for 'A statement that appears contradictory but reveals a truth'?

- Ans
- 1. Oxymoron
 - 2. Euphemism
 - 3. Paradox
 - 4. Axiom

Q.10 Choose the correct option.

One who collects coins is a/an _____.

- Ans
- 1. cartographer
 - 2. philatelist
 - 3. archivist
 - 4. numismatist

Q.11 Rectify the sentence by selecting the correct spelling of the highlighted word from the options.

The festival was filled with effervesence and excitement.

- Ans**
- 1. Effarvescence
 - 2. Effervescence
 - 3. Effervesance
 - 4. Effervescance

Q.12 Choose the appropriate option that best expresses the meaning of the proverb 'it takes a thief to catch a thief'.

- Ans**
- 1. A law-abiding citizen is best at catching wrongdoers
 - 2. Anyone with dedication can solve a crime
 - 3. Only a similar expert can catch another thief
 - 4. A person with a clear conscience can apprehend a criminal

Q.13 Select the word that is the most appropriate antonym of "meandering".

- Ans**
- 1. Leisurely
 - 2. Winding
 - 3. Direct
 - 4. Wandering

Q.14 Select the option that best explains the given proverb.

A feather in your cap

- Ans**
- 1. A hidden advantage for success
 - 2. An achievement to be proud of
 - 3. An embarrassing mistake to be avoided
 - 4. A difficult task to be accomplished

Q.15 Which of the following words is the correct substitute for the word segment given below?

Stubborn and uncooperative

- Ans**
- 1. amiable
 - 2. cantankerous
 - 3. amicable
 - 4. affable

Comprehension:

Read the given passage carefully and answer the following questions.

Mobile phones have become an integral part of modern childhood, with many children using them at a very early age. Since most households rely on mobile devices for daily communication, children naturally gain access to these devices. Beyond making calls, children use phones for entertainment, such as playing games, listening to music, and watching videos.

While mobile phones help parents stay connected and ensure their child's safety, experts warn that unrestricted use can have harmful effects. Excessive screen time may reduce focus on schoolwork, limit physical activity, and disturb sleep patterns. These devices can also shorten attention spans and weaken real-life social skills.

For this reason, parental supervision is essential. Parents should establish clear boundaries, regularly monitor their children's online activities, and encourage responsible use of technology. By offering guidance and support, families can ensure that mobile phones serve as valuable resources instead of distractions.

SubQuestion No : 16

Q.16 Which option best describes the overall tone of the passage?

Comprehension:

Read the given passage carefully and answer the following questions.

Mobile phones have become an integral part of modern childhood, with many children using them at a very early age. Since most households rely on mobile devices for daily communication, children naturally gain access to these devices. Beyond making calls, children use phones for entertainment, such as playing games, listening to music, and watching videos.

While mobile phones help parents stay connected and ensure their child's safety, experts warn that unrestricted use can have harmful effects. Excessive screen time may reduce focus on schoolwork, limit physical activity, and disturb sleep patterns. These devices can also shorten attention spans and weaken real-life social skills.

For this reason, parental supervision is essential. Parents should establish clear boundaries, regularly monitor their children's online activities, and encourage responsible use of technology. By offering guidance and support, families can ensure that mobile phones serve as valuable resources instead of distractions.

SubQuestion No : 17

Q.17 Identify the central theme of the passage from the options.

Comprehension:

Read the given passage carefully and answer the following questions.

Mobile phones have become an integral part of modern childhood, with many children using them at a very early age. Since most households rely on mobile devices for daily communication, children naturally gain access to these devices. Beyond making calls, children use phones for entertainment, such as playing games, listening to music, and watching videos.

While mobile phones help parents stay connected and ensure their child's safety, experts warn that unrestricted use can have harmful effects. Excessive screen time may reduce focus on schoolwork, limit physical activity, and disturb sleep patterns. These devices can also shorten attention spans and weaken real-life social skills.

For this reason, parental supervision is essential. Parents should establish clear boundaries, regularly monitor their children's online activities, and encourage responsible use of technology. By offering guidance and support, families can ensure that mobile phones serve as valuable resources instead of distractions.

SubQuestion No : 18

Q.18 Which option describes the correct structure of the passage?

Comprehension:

Read the given passage carefully and answer the following questions.

Mobile phones have become an integral part of modern childhood, with many children using them at a very early age. Since most households rely on mobile devices for daily communication, children naturally gain access to these devices. Beyond making calls, children use phones for entertainment, such as playing games, listening to music, and watching videos.

While mobile phones help parents stay connected and ensure their child's safety, experts warn that unrestricted use can have harmful effects. Excessive screen time may reduce focus on schoolwork, limit physical activity, and disturb sleep patterns. These devices can also shorten attention spans and weaken real-life social skills.

For this reason, parental supervision is essential. Parents should establish clear boundaries, regularly monitor their children's online activities, and encourage responsible use of technology. By offering guidance and support, families can ensure that mobile phones serve as valuable resources instead of distractions.

SubQuestion No : 19

Q.19 Which of the following is not mentioned as an effect of excessive screen time?

Comprehension:

Read the given passage carefully and answer the following questions.

Mobile phones have become an integral part of modern childhood, with many children using them at a very early age. Since most households rely on mobile devices for daily communication, children naturally gain access to these devices. Beyond making calls, children use phones for entertainment, such as playing games, listening to music, and watching videos.

While mobile phones help parents stay connected and ensure their child's safety, experts warn that unrestricted use can have harmful effects. Excessive screen time may reduce focus on schoolwork, limit physical activity, and disturb sleep patterns. These devices can also shorten attention spans and weaken real-life social skills.

For this reason, parental supervision is essential. Parents should establish clear boundaries, regularly monitor their children's online activities, and encourage responsible use of technology. By offering guidance and support, families can ensure that mobile phones serve as valuable resources instead of distractions.

SubQuestion No : 20

Q.20 What does the author imply about the role of parents in the digital age?

Section : Test of Hindi Language and Comprehension

Q.1 निम्नलिखित वाक्यांश के लिए सार्थक शब्द बताएं -
'युद्ध करने की प्रबल इच्छा'

- Ans
- 1. युयुत्सा
 - 2. याक्षुष
 - 3. यायावर
 - 4. युद्धपोत

Q.2 निम्नलिखित में से कौन सा वाक्य शुद्ध है?

- Ans
- 1. उनकी पराजय हुआ।
 - 2. उनका पराजय हुआ।
 - 3. उनकी पराजय हुई।
 - 4. उनके पराजय हुए।

Q.3 कोमल स्नानरही है।

उपर्युक्त वाक्य में रिक्त स्थान की पूर्ति के लिए उचित क्रिया शब्द का चयन करें-

- Ans
- 1. कर
 - 2. बर्बाद
 - 3. बहस करना
 - 4. नहा

Q.4 मोहन.....बाहर आकर देखा।

उपर्युक्त वाक्य में रिक्त स्थान की पूर्ति के लिए उचित कारक शब्द का चयन करें-

- Ans
- 1. ने
 - 2. पर
 - 3. का
 - 4. से

Q.5 निम्नलिखित वाक्य को ध्यानपूर्वक पढ़ें और वाक्य में त्रुटि की पहचान कर वाक्य शुद्ध करें।

सोचने किसी समस्या के भी बारे में अधिक से हल समस्या नहीं हो जाती।

- Ans
- 1. किसी भी हल नहीं समस्या के बारे में अधिक सोचने से हो जाती।
 - 2. समस्या के बारे में अधिक किसी भी सोचने से समस्या नहीं हो जाती।
 - 3. किसी भी समस्या के हो जाती बारे में अधिक सोचने से समस्या हल नहीं।
 - 4. किसी भी समस्या के बारे में अधिक सोचने से समस्या हल नहीं हो जाती।

- Q.6 दिए गए वाक्यों के लिखने का सही क्रम चुनें-
(1)मानस में पात्रों का चरित्र-विन्यास सटीक है और उसमें आए
(2)पात्रों का चरित्र-विन्यास मनोविज्ञान की दृष्टि से भी स्वाभाविक है
(3)उसमें व्यक्तिगत तथा समुदायगत पात्रों के चरित्र-विन्यास का भी अपूर्व चित्रण है
(4)इसके साथ ही मानस में संतुलन एवं समरसता की स्थापना भी साथ-साथ हुई है

- Ans 1. 3412
 2. 3124
 3. 3241
 4. 1234

- Q.7 राधा चाकू.....सब्जी काट रही है ।
उपर्युक्त वाक्य में रिक्त स्थान की पूर्ति के लिए उचित कारक शब्द का चयन करें-

- Ans 1. ने
 2. की
 3. से
 4. के

- Q.8 निम्नलिखित वाक्यों में से अतिरिक्त वाक्य का चयन करें -

- Ans 1. यदि हम विज्ञान का प्रयोग केवल लाभ कमाने और शक्ति बढ़ाने के लिए करेंगे, तो इससे मानवता को नुकसान हो सकता है।
 2. प्रत्येक व्यक्ति का कर्तव्य है कि वह पौधे लगाए, पानी की बर्बादी न करे और प्रदूषण कम करने के प्रयास करे।
 3. यदि हम आज कदम नहीं उठाएंगे, तो आने वाली पीढ़ियों के लिए शुद्ध पर्यावरण एक सपना बन जाएगा।
 4. पेड़ों की कटाई और प्रदूषण ने हमारे पर्यावरण को गंभीर संकट में डाल दिया है।

- Q.9 निम्न विकल्पों में अतिरिक्त वाक्य अंकित कीजिए।

- Ans 1. जल, ठोस, द्रव और गैस — तीनों रूपों में पाया जाता है।
 2. सूर्य से प्रकाश और ऊष्मा प्राप्त होती है।
 3. ध्वनि एक तरंग है जो माध्यम में कंपन से उत्पन्न होती है।
 4. कविता भावनाओं की सुंदर अभिव्यक्ति होती है।

- Q.10 निम्नलिखित विकल्पों में से उपयुक्त क्रिया का चयन कर वाक्य को पूर्ण कीजिए-
'वह लड़की किसी भी विपदा से अत्यधिक _____ है।'

- Ans 1. बुझाती
 2. लुटाती
 3. घबराती
 4. लुभाती

- Q.11 'युद्ध करने की प्रबल इच्छा'
उपर्युक्त वाक्यांश के लिए एक सार्थक शब्द चुनें-

- Ans 1. प्रतिपक्षी
 2. प्रतिवादी
 3. युयुत्सा
 4. युयुत्सु

- Q.12 निम्नलिखित में से शुद्ध वाक्य का चयन कीजिए-

- Ans 1. उड़्ड था मैंने बचपन में।
 2. मैं बचपन में बहुत उड़्ड था।
 3. उड़्ड था मैं बचपन में।
 4. मैंने उड़्ड था बचपन में।

Q.13 'खिसियानी बिल्ली खंभा नोचे' लोकोक्ति का सही अर्थ क्या होगा?

- Ans
- 1. एक की मजबूरी से दूसरे को लाभ मिल जाता है
 - 2. शर्म के मारे क्रोध करने लगना
 - 3. अकेला व्यक्ति कोई बड़ा काम नहीं कर सकता
 - 4. अनायास कोई वस्तु मिल जाना

Q.14 'बढ़ा-चढ़ाकर कहना' किस मुहावरे का अर्थ है?

- Ans
- 1. नमक-मिर्च लगाना
 - 2. नब्ज पहचानना
 - 3. नाच नचाना
 - 4. नाक का बाल होना

Q.15 उपयुक्त क्रिया-विशेषण का चयनकर दिए गए वाक्य को पूर्ण कीजिए।
सुभाष से बोलता है।

- Ans
- 1. दायें
 - 2. जोर-जोर
 - 3. आज
 - 4. यहाँ

Comprehension:

दिए गए गद्यांश को पढ़कर पूछे गए प्रश्नों के उत्तर दीजिए:

23 अक्टूबर, 1938 ई. को हजारों की संख्या में सफ़ेद खादी के वस्त्र और टोपी पहने प्रदर्शनकारियों का एक समूह जेल में डाले गए नेताओं को रिहा कराने की माँग को लेकर त्रावणकोर के कोडियार महल की तरफ मार्च कर रहा था। उसे रोकने के लिए ब्रिटिश पुलिस अफसर ने जवानों को उन सब पर गोली चलाने का आदेश दिया। यह आदेश सुनते ही एक खुली जीप से एक महिला ने उतरकर अफसर को ललकारते हुए कहा, "मैं इनकी नेता हूँ। दूसरों को गोली मारने से पहले मुझे गोली मारो।" इतनी दिलेरी। पुलिस प्रशासन शायद इसके लिए तैयार न था, उसे अपना आदेश वापस लेना पड़ा और इतना बड़ा नरसंहार टल गया। यह वीरांगना थी- अक्कम्मा चेरियन। देश भर में उनके साहस की धूम मच गई और गांधी जी ने उन्हें 'त्रावणकोर की झाँसी की रानी' की उपाधि दी। भारत को स्वतंत्र देखने की इच्छा मन में सँजोए अक्कम्मा ने एक दिन अपनी प्रतिष्ठित नौकरी छोड़ दी और वर्ष 1938 में 'आवणकोर राज्य काँग्रेस' की सक्रिय सदस्य बन गईं। अक्कम्मा ने महिला स्वयंसेवी समूह 'देशसेविका संभ' की स्थापना की और महिलाओं को स्वतंत्रता आंदोलन में शामिल होने के लिए प्रेरित करना शुरू किया। अपनी आत्मकथा 'जीविथम ओरू समारम' (जीवन एक संघर्ष) की भूमिका में वे लिखती हैं- 'मेरे लिए यह जीवन, जो अन्यायपूर्ण और बेईमान है, उसके विरुद्ध संघर्ष है।'

SubQuestion No : 16

Q.16 प्रदर्शनकारियों का समूह किस महल की ओर मार्च कर रहा था?

Comprehension:

दिए गए गद्यांश को पढ़कर पूछे गए प्रश्नों के उत्तर दीजिए:

23 अक्टूबर, 1938 ई. को हजारों की संख्या में सफ़ेद खादी के वस्त्र और टोपी पहने प्रदर्शनकारियों का एक समूह जेल में डाले गए नेताओं को रिहा कराने की माँग को लेकर त्रावणकोर के कोडियार महल की तरफ मार्च कर रहा था। उसे रोकने के लिए ब्रिटिश पुलिस अफसर ने जवानों को उन सब पर गोली चलाने का आदेश दिया। यह आदेश सुनते ही एक खुली जीप से एक महिला ने उतरकर अफसर को ललकारते हुए कहा, "मैं इनकी नेता हूँ। दूसरों को गोली मारने से पहले मुझे गोली मारो।" इतनी दिलेरी। पुलिस प्रशासन शायद इसके लिए तैयार न था, उसे अपना आदेश वापस लेना पड़ा और इतना बड़ा नरसंहार टल गया। यह वीरांगना थी- अक्कम्मा चेरियन। देश भर में उनके साहस की धूम मच गई और गांधी जी ने उन्हें 'त्रावणकोर की झाँसी की रानी' की उपाधि दी। भारत को स्वतंत्र देखने की इच्छा मन में सँजोए अक्कम्मा ने एक दिन अपनी प्रतिष्ठित नौकरी छोड़ दी और वर्ष 1938 में 'आवणकोर राज्य काँग्रेस' की सक्रिय सदस्य बन गईं। अक्कम्मा ने महिला स्वयंसेवी समूह 'देशसेविका संभ' की स्थापना की और महिलाओं को स्वतंत्रता आंदोलन में शामिल होने के लिए प्रेरित करना शुरू किया। अपनी आत्मकथा 'जीविथम ओरू समारम' (जीवन एक संघर्ष) की भूमिका में वे लिखती हैं- 'मेरे लिए यह जीवन, जो अन्यायपूर्ण और बेईमान है, उसके विरुद्ध संघर्ष है।'

SubQuestion No : 17

Q.17 अक्कम्मा चेरियन ने क्या कहा था?

Comprehension:

दिए गए गद्यांश को पढ़कर पूछे गए प्रश्नों के उत्तर दीजिए:

23 अक्टूबर, 1938 ई. को हजारों की संख्या में सफ़ेद खादी के वस्त्र और टोपी पहने प्रदर्शनकारियों का एक समूह जेल में डाले गए नेताओं को रिहा कराने की माँग को लेकर त्रावणकोर के कोडियार महल की तरफ मार्च कर रहा था। उसे रोकने के लिए ब्रिटिश पुलिस अफसर ने जवानों को उन सब पर गोली चलाने का आदेश दिया। यह आदेश सुनते ही एक खुली जीप से एक महिला ने उतरकर अफसर को ललकारते हुए कहा, "मैं इनकी नेता हूँ। दूसरों को गोली मारने से पहले मुझे गोली मारो।" इतनी दिलेरी। पुलिस प्रशासन शायद इसके लिए तैयार न था, उसे अपना आदेश वापस लेना पड़ा और इतना बड़ा नरसंहार टल गया। यह वीरांगना थी- अक्कम्मा चेरियन। देश भर में उनके साहस की धूम मच गई और गांधी जी ने उन्हें 'त्रावणकोर की झाँसी की रानी' की उपाधि दी। भारत को स्वतंत्र देखने की इच्छा मन में सँजोए अक्कम्मा ने एक दिन अपनी प्रतिष्ठित नौकरी छोड़ दी और वर्ष 1938 में 'आवणकोर राज्य काँग्रेस' की सक्रिय सदस्य बन गईं। अक्कम्मा ने महिला स्वयंसेवी समूह 'देशसेविका संभ' की स्थापना की और महिलाओं को स्वतंत्रता आंदोलन में शामिल होने के लिए प्रेरित करना शुरू किया। अपनी आत्मकथा 'जीविथम ओरू समारम' (जीवन एक संघर्ष) की भूमिका में वे लिखती हैं- 'मेरे लिए यह जीवन, जो अन्यायपूर्ण और बेईमान है, उसके विरुद्ध संघर्ष है।'

SubQuestion No : 18

Q.18 'त्रावणकोर की झाँसी की रानी' अक्कम्मा चेरियन को किसने कहा था?

Comprehension:

दिए गए गद्यांश को पढ़कर पूछे गए प्रश्नों के उत्तर दीजिए:

23 अक्टूबर, 1938 ई. को हजारों की संख्या में सफ़ेद खादी के वस्त्र और टोपी पहने प्रदर्शनकारियों का एक समूह जेल में डाले गए नेताओं को रिहा कराने की माँग को लेकर त्रावणकोर के कोडियार महल की तरफ मार्च कर रहा था। उसे रोकने के लिए ब्रिटिश पुलिस अफसर ने जवानों को उन सब पर गोली चलाने का आदेश दिया। यह आदेश सुनते ही एक खुली जीप से एक महिला ने उतरकर अफसर को ललकारते हुए कहा, "मैं इनकी नेता हूँ। दूसरों को गोली मारने से पहले मुझे गोली मारो।" इतनी दिलेरी। पुलिस प्रशासन शायद इसके लिए तैयार न था, उसे अपना आदेश वापस लेना पड़ा और इतना बड़ा नरसंहार टल गया। यह वीरांगना थी- अक्कम्मा चेरियन। देश भर में उनके साहस की धूम मच गई और गांधी जी ने उन्हें 'त्रावणकोर की झाँसी की रानी' की उपाधि दी। भारत को स्वतंत्र देखने की इच्छा मन में सँजोए अक्कम्मा ने एक दिन अपनी प्रतिष्ठित नौकरी छोड़ दी और वर्ष 1938 में 'आवणकोर राज्य काँग्रेस' की सक्रिय सदस्य बन गईं। अक्कम्मा ने महिला स्वयंसेवी समूह 'देशसेविका संभ' की स्थापना की और महिलाओं को स्वतंत्रता आंदोलन में शामिल होने के लिए प्रेरित करना शुरू किया। अपनी आत्मकथा 'जीविथम ओरू समारम' (जीवन एक संघर्ष) की भूमिका में वे लिखती हैं- 'मेरे लिए यह जीवन, जो अन्यायपूर्ण और बेईमान है, उसके विरुद्ध संघर्ष है।'

SubQuestion No : 19

Q.19 गद्यांश में प्रयुक्त 'दिलेरी' का विलोम क्या होता है?

Comprehension:

दिए गए गद्यांश को पढ़कर पूछे गए प्रश्नों के उत्तर दीजिए:

23 अक्टूबर, 1938 ई. को हजारों की संख्या में सफ़ेद खादी के वस्त्र और टोपी पहने प्रदर्शनकारियों का एक समूह जेल में डाले गए नेताओं को रिहा कराने की माँग को लेकर त्रावणकोर के कोडियार महल की तरफ मार्च कर रहा था। उसे रोकने के लिए ब्रिटिश पुलिस अफसर ने जवानों को उन सब पर गोली चलाने का आदेश दिया। यह आदेश सुनते ही एक खुली जीप से एक महिला ने उतरकर अफसर को ललकारते हुए कहा, "मैं इनकी नेता हूँ। दूसरों को गोली मारने से पहले मुझे गोली मारो।" इतनी दिलेरी। पुलिस प्रशासन शायद इसके लिए तैयार न था, उसे अपना आदेश वापस लेना पड़ा और इतना बड़ा नरसंहार टल गया। यह वीरांगना थी- अक्कम्मा चेरियन। देश भर में उनके साहस की धूम मच गई और गांधी जी ने उन्हें 'त्रावणकोर की झाँसी की रानी' की उपाधि दी। भारत को स्वतंत्र देखने की इच्छा मन में सँजोए अक्कम्मा ने एक दिन अपनी प्रतिष्ठित नौकरी छोड़ दी और वर्ष 1938 में 'आवणकोर राज्य काँग्रेस' की सक्रिय सदस्य बन गईं। अक्कम्मा ने महिला स्वयंसेवी समूह 'देशसेविका संभ' की स्थापना की और महिलाओं को स्वतंत्रता आंदोलन में शामिल होने के लिए प्रेरित करना शुरू किया। अपनी आत्मकथा 'जीविथम ओरू समारम' (जीवन एक संघर्ष) की भूमिका में वे लिखती हैं- 'मेरे लिए यह जीवन, जो अन्यायपूर्ण और बेईमान है, उसके विरुद्ध संघर्ष है।'

SubQuestion No : 20

Q.20 गद्यांश में प्रयुक्त 'स्वतंत्रता' शब्द का पर्याय क्या नहीं होता है?

Section : Test of Hindi Language and Comprehension1

Q.1 'सृजन' का विलोम शब्द क्या है?

- Ans
- 1. सौम्य
 - 2. संस्कार
 - 3. संहार
 - 4. सुलभ

Q.2 दिए गए वाक्य में वर्तनी सम्बंधी अशुद्धि किस अंश में है?
पूर्ण स्वस्थ के लिए शुद्ध आहार-विहार आवश्यक है।

- Ans
- 1. आवश्यक है।
 - 2. पूर्ण स्वस्थ के
 - 3. लिए शुद्ध
 - 4. आहार-विहार

Q.3 'सक्रिय' शब्द का उचित विलोम शब्द पहचानें।

- Ans
- 1. निष्क्रिय
 - 2. काया
 - 3. कर्तव्य
 - 4. क्रियात्मक

Q.4 दिए गए वाक्य में वर्तनी सम्बंधी अशुद्धि किस अंश में है?
अपने बल-बूटे पर खड़े होने वाले लोग जीवन में सफल होते हैं।

- Ans
- 1. सफल होते हैं।
 - 2. लोग जीवन में
 - 3. खड़े होने वाले
 - 4. अपने बल-बूटे पर

Q.5 'वज्र' का पर्यायवाची शब्द होगा-

- Ans
- 1. कैवल्य
 - 2. वृष्टि
 - 3. कालकूट
 - 4. कुलिश

Q.6 निम्नलिखित मुहावरे का अर्थ बताएं -
'बासी कढ़ी में उबाल आना'

- Ans
- 1. नुकसान न पहुँचा सकना
 - 2. वृद्धावस्था में यौवन का आभास
 - 3. गुप्त बात प्रकट होना
 - 4. जो स्थिर न हो

Q.7 निम्नलिखित मुहावरे का अर्थ बताएं -
'बालू की भीत होना'

- Ans
- 1. बहुत चालाक होना
 - 2. क्षणभंगुर होना
 - 3. बर्बाद करना
 - 4. सलाह देना

Q.8 निम्नलिखित विकल्पों में से ग्रंथि का तद्भव शब्द पहचानें।

- Ans
- 1. गति
 - 2. गोता
 - 3. गांठ
 - 4. कोमल

Q.9 निम्नलिखित वाक्य के किस शब्द में वर्तनी से संबंधित त्रुटि है?
'इस कमी की पूर्ती कैसे हो सकती है?'

- Ans
- 1. कैसे
 - 2. सकती
 - 3. पूर्ती
 - 4. कमी

Q.10 मनीषी का पर्यायवाची शब्द नहीं होगा -

- Ans
- 1. विचारक
 - 2. विद्वान
 - 3. पंडित
 - 4. राजा

Q.11 निम्नलिखित विकल्पों में 'अवस्था' का अनेकार्थी शब्द नहीं है-

- Ans
- 1. स्थिति
 - 2. दशा
 - 3. उम्र
 - 4. स्थान

Q.12 'चार' का तत्सम रूप क्या है?

- Ans
- 1. चतुर्दश
 - 2. चौरिका
 - 3. चत्वारि
 - 4. षष्ठ

Q.13 निम्न में से कौन-सा शब्द अनेकार्थी है?

- Ans 1. अंत
 2. नहर
 3. ध्रुवतारा
 4. थकान

Q.14 'दोनों तरफ रहना' किस मुहावरे का अर्थ है?

- Ans 1. दो नावों में पैर रखना
 2. धूप में बाल सफेद करना
 3. दूध का धुला होना
 4. नहले पर दहला मारना

Q.15 निम्नलिखित वाक्यों में त्रुटि पहचानकर शुद्ध वाक्य का चयन करें-

- Ans 1. सूफी-मत प्रेमाख्यानक काव्य को दार्शनिक आधार प्रदान करता है।
 2. सूफी-मत प्रेमाख्यानक काव्य को दार्शनिक आधार प्रदान करता है।
 3. सूफी-मत प्रेमाख्यानक काव्य को दार्शनिक आधार प्रदान करता है।
 4. सूफी-मत प्रेमाख्यानक काव्य को दार्शनिक आधार प्रदान करता है।

Comprehension:

दिए गए गद्यांश को पढ़कर पूछे गए प्रश्नों के उत्तर दीजिए:

हमारे देश में हजारों एकनिष्ठ और त्यागी साधु हैं, जो धर्म की शिक्षा देते फिरते हैं। यदि उनमें से कुछ लोगों को सांसारिक विषयों के शिक्षकों के रूप में भी संगठित किया जा सके तो गाँव-गाँव, दरवाजे दरवाजे पर जाकर वे केवल धर्मशिक्षा ही नहीं देंगे, बल्कि ऐहिक शिक्षा भी दिया करेंगे। कल्पना कीजिए कि इनमें से दो व्यक्ति शाम को साथ में मैजिक लैटर्स (वर्णमाला), एक ग्लोब और कुछ नक्शे आदि लेकर किसी गाँव में जाते हैं। वे अनपढ़ लोगों को गणित, ज्योतिष और भूगोल की बहुत कुछ शिक्षा दे सकते हैं। वे गरीब पुस्तकों से जीवन भर में जितनी जानकारी न पा सकेंगे, उससे सौगुनी अधिक वे उन्हें बातचीत के माध्यम से विभिन्न देशों के बारे में कहानियाँ सुनाकर दे सकते हैं। इसके लिए एक संगठन की आवश्यकता है, जो पुनः धन पर निर्भर करता है। इस योजना को कार्यरूप में परिणत करने के लिए भारत में मनुष्य तो बहुत है, पर हाय! वे निर्धन हैं। एक चक्र को चलाना बड़ा कठिन काम है, पर अगर एक बार वह गतिशील हुआ कि क्रमशः अधिकाधिक वेग से चलने लगता है। अपने देश में सहायता पाने का प्रयत्न करने के बाद जब मैंने धनिकों से कुछ भी सहानुभूति न पाई तब मैं महाराज आपकी सहायता से इस देश में आ गया। अमेरिकावासियों को इस बात की कुछ भी परवाह नहीं कि भारत के गरीब जियें या मरें। भला वे परवाह भी क्यों करने लगे।

SubQuestion No : 16

Q.16 गद्यांश में प्रयुक्त 'देते फिरते हैं' का अर्थ क्या होता है?

Comprehension:

दिए गए गद्यांश को पढ़कर पूछे गए प्रश्नों के उत्तर दीजिए:

हमारे देश में हजारों एकनिष्ठ और त्यागी साधु हैं, जो धर्म की शिक्षा देते फिरते हैं। यदि उनमें से कुछ लोगों को सांसारिक विषयों के शिक्षकों के रूप में भी संगठित किया जा सके तो गाँव-गाँव, दरवाजे दरवाजे पर जाकर वे केवल धर्मशिक्षा ही नहीं देंगे, बल्कि ऐहिक शिक्षा भी दिया करेंगे। कल्पना कीजिए कि इनमें से दो व्यक्ति शाम को साथ में मैजिक लैटर्स (वर्णमाला), एक ग्लोब और कुछ नक्शे आदि लेकर किसी गाँव में जाते हैं। वे अनपढ़ लोगों को गणित, ज्योतिष और भूगोल की बहुत कुछ शिक्षा दे सकते हैं। वे गरीब पुस्तकों से जीवन भर में जितनी जानकारी न पा सकेंगे, उससे सौगुनी अधिक वे उन्हें बातचीत के माध्यम से विभिन्न देशों के बारे में कहानियाँ सुनाकर दे सकते हैं। इसके लिए एक संगठन की आवश्यकता है, जो पुनः धन पर निर्भर करता है। इस योजना को कार्यरूप में परिणत करने के लिए भारत में मनुष्य तो बहुत है, पर हाय! वे निर्धन हैं। एक चक्र को चलाना बड़ा कठिन काम है, पर अगर एक बार वह गतिशील हुआ कि क्रमशः अधिकाधिक वेग से चलने लगता है। अपने देश में सहायता पाने का प्रयत्न करने के बाद जब मैंने धनिकों से कुछ भी सहानुभूति न पाई तब मैं महाराज आपकी सहायता से इस देश में आ गया। अमेरिकावासियों को इस बात की कुछ भी परवाह नहीं कि भारत के गरीब जियें या मरें। भला वे परवाह भी क्यों करने लगे।

SubQuestion No : 17

Q.17 गद्यांश में 'ऐहिक शिक्षा' का प्रयोग किस संदर्भ में किया गया है?

Comprehension:

दिए गए गद्यांश को पढ़कर पूछे गए प्रश्नों के उत्तर दीजिए:

हमारे देश में हजारों एकनिष्ठ और त्यागी साधु हैं, जो धर्म की शिक्षा देते फिरते हैं। यदि उनमें से कुछ लोगों को सांसारिक विषयों के शिक्षकों के रूप में भी संगठित किया जा सके तो गाँव-गाँव, दरवाजे दरवाजे पर जाकर वे केवल धर्मशिक्षा ही नहीं देंगे, बल्कि ऐहिक शिक्षा भी दिया करेंगे। कल्पना कीजिए कि इनमें से दो व्यक्ति शाम को साथ में मैजिक लैटर्स (वर्णमाला), एक ग्लोब और कुछ नक्शे आदि लेकर किसी गाँव में जाते हैं। वे अनपढ़ लोगों को गणित, ज्योतिष और भूगोल की बहुत कुछ शिक्षा दे सकते हैं। वे गरीब पुस्तकों से जीवन भर में जितनी जानकारी न पा सकेंगे, उससे सौगुनी अधिक वे उन्हें बातचीत के माध्यम से विभिन्न देशों के बारे में कहानियाँ सुनाकर दे सकते हैं। इसके लिए एक संगठन की आवश्यकता है, जो पुनः धन पर निर्भर करता है। इस योजना को कार्यरूप में परिणत करने के लिए भारत में मनुष्य तो बहुत है, पर हाय! वे निर्धन हैं। एक चक्र को चलाना बड़ा कठिन काम है, पर अगर एक बार वह गतिशील हुआ कि क्रमशः अधिकाधिक वेग से चलने लगता है। अपने देश में सहायता पाने का प्रयत्न करने के बाद जब मैंने धनिकों से कुछ भी सहानुभूति न पाई तब मैं महाराज आपकी सहायता से इस देश में आ गया। अमेरिकावासियों को इस बात की कुछ भी परवाह नहीं कि भारत के गरीब जियें या मरें। भला वे परवाह भी क्यों करने लगे।

SubQuestion No : 18

Q.18 शिक्षकों द्वारा अनपढ़ लोगों को किन विषयों की शिक्षा देने की बात कही गई है?

Comprehension:

दिए गए गद्यांश को पढ़कर पूछे गए प्रश्नों के उत्तर दीजिए:

हमारे देश में हजारों एकनिष्ठ और त्यागी साधु हैं, जो धर्म की शिक्षा देते फिरते हैं। यदि उनमें से कुछ लोगों को सांसारिक विषयों के शिक्षकों के रूप में भी संगठित किया जा सके तो गाँव-गाँव, दरवाजे दरवाजे पर जाकर वे केवल धर्मशिक्षा ही नहीं देंगे, बल्कि ऐहिक शिक्षा भी दिया करेंगे। कल्पना कीजिए कि इनमें से दो व्यक्ति शाम को साथ में मैजिक लैटर्स (वर्णमाला), एक ग्लोब और कुछ नक्शे आदि लेकर किसी गाँव में जाते हैं। वे अनपढ़ लोगों को गणित, ज्योतिष और भूगोल की बहुत कुछ शिक्षा दे सकते हैं। वे गरीब पुस्तकों से जीवन भर में जितनी जानकारी न पा सकेंगे, उससे सौगुनी अधिक वे उन्हें बातचीत के माध्यम से विभिन्न देशों के बारे में कहानियाँ सुनाकर दे सकते हैं। इसके लिए एक संगठन की आवश्यकता है, जो पुनः धन पर निर्भर करता है। इस योजना को कार्यरूप में परिणत करने के लिए भारत में मनुष्य तो बहुत है, पर हाय! वे निर्धन हैं। एक चक्र को चलाना बड़ा कठिन काम है, पर अगर एक बार वह गतिशील हुआ कि क्रमशः अधिकाधिक वेग से चलने लगता है। अपने देश में सहायता पाने का प्रयत्न करने के बाद जब मैंने धनिकों से कुछ भी सहानुभूति न पाई तब मैं महाराज आपकी सहायता से इस देश में आ गया। अमेरिकावासियों को इस बात की कुछ भी परवाह नहीं कि भारत के गरीब जियें या मरें। भला वे परवाह भी क्यों करने लगे।

SubQuestion No : 19

Q.19 इनमें से कौन-सा शब्द 'निर्धन' का पर्याय नहीं है?

Comprehension:

दिए गए गद्यांश को पढ़कर पूछे गए प्रश्नों के उत्तर दीजिए:

हमारे देश में हजारों एकनिष्ठ और त्यागी साधु हैं, जो धर्म की शिक्षा देते फिरते हैं। यदि उनमें से कुछ लोगों को सांसारिक विषयों के शिक्षकों के रूप में भी संगठित किया जा सके तो गाँव-गाँव, दरवाजे दरवाजे पर जाकर वे केवल धर्मशिक्षा ही नहीं देंगे, बल्कि ऐहिक शिक्षा भी दिया करेंगे। कल्पना कीजिए कि इनमें से दो व्यक्ति शाम को साथ में मैजिक लैटर्स (वर्णमाला), एक ग्लोब और कुछ नक्शे आदि लेकर किसी गाँव में जाते हैं। वे अनपढ़ लोगों को गणित, ज्योतिष और भूगोल की बहुत कुछ शिक्षा दे सकते हैं। वे गरीब पुस्तकों से जीवन भर में जितनी जानकारी न पा सकेंगे, उससे सौगुनी अधिक वे उन्हें बातचीत के माध्यम से विभिन्न देशों के बारे में कहानियाँ सुनाकर दे सकते हैं। इसके लिए एक संगठन की आवश्यकता है, जो पुनः धन पर निर्भर करता है। इस योजना को कार्यरूप में परिणत करने के लिए भारत में मनुष्य तो बहुत है, पर हाय! वे निर्धन हैं। एक चक्र को चलाना बड़ा कठिन काम है, पर अगर एक बार वह गतिशील हुआ कि क्रमशः अधिकाधिक वेग से चलने लगता है। अपने देश में सहायता पाने का प्रयत्न करने के बाद जब मैंने धनिकों से कुछ भी सहानुभूति न पाई तब मैं महाराज आपकी सहायता से इस देश में आ गया। अमेरिकावासियों को इस बात की कुछ भी परवाह नहीं कि भारत के गरीब जियें या मरें। भला वे परवाह भी क्यों करने लगे।

SubQuestion No : 20

Q.20 गद्यांश में प्रयुक्त 'सांसारिक' शब्द का विलोम क्या होता है?