



GOVT. OF NCT OF DELHI
Delhi Subordinate Services Selection Board
FC-18, Institutional Area, Karkardooma, Delhi – 110092.
www.dsssb.delhigovt.nic.in

| | |
|------------------|--|
| Participant Name | MITHLESH KUMAR |
| Test Center Name | Aadarsh Pariksha Kendra CENTER A - Gate No 1 - Noida Sector 64 |
| Test Date | 27/02/2026 |
| Test Time | 1:00 PM - 3:00 PM |
| Subject | Multi Tasking Staff |

Section : General intelligence and Reasoning Ability

Q.1 निम्नलिखित अक्षर श्रृंखला का संदर्भ लीजिए और प्रश्न का उत्तर दीजिए। गिनती बाएँ से दाएँ की जानी चाहिए।
(बाएँ) Y V E T I C G E N X Y E Q Q G L A I I O C S (दाएँ)
ऐसे कितने स्वर हैं जिनमें से प्रत्येक के ठीक पहले एक व्यंजन है और ठीक बाद में भी एक व्यंजन है?

- Ans 1. 2
 2. 4
 3. 3
 4. 5

Q.2 एक निश्चित कूट भाषा में, 'give his share' को 'dg po ck' के रूप में कूट किया जाता है और 'time to give' को 'po ty hv' के रूप में कूट किया जाता है। दी गई भाषा में 'give' को कैसे कूट किया जाएगा? (सभी कूट दो अक्षरों के कूट हैं।)

- Ans 1. hv
 2. po
 3. ty
 4. dg

Q.3 इस प्रश्न में, एक कथन और उसके बाद दो निष्कर्ष I और II दिए गए हैं। दिए गए कथन के आधार पर पहचान कीजिए कि कौन-से निष्कर्ष सत्य हैं।

$$L \leq T > E < N = P$$

$$(I) L \geq N$$

$$(II) T = P$$

- Ans 1. केवल I सत्य है।
 2. न तो I और न ही II सत्य है।
 3. I और II दोनों सत्य हैं।
 4. केवल II सत्य है।

Q.4 P, Q, R, S, T और U एक ही इमारत के छह अलग-अलग तलों पर रहते हैं। इमारत में सबसे नीचे वाले तल का क्रमांक 1 है, उसके ठीक ऊपर वाले तल का क्रमांक 2 है और इसी प्रकार सबसे ऊपर वाले तल का क्रमांक 6 है। R एक विषम क्रमांक वाले तल पर रहता है, लेकिन सबसे नीचे वाले तल पर नहीं रहता है। R और S के बीच केवल दो व्यक्ति रहते हैं। S और P के बीच केवल एक व्यक्ति रहता है। Q, P के ठीक ऊपर वाले तल पर रहता है। T, U के ठीक ऊपर रहता है, लेकिन T सबसे ऊपर वाले तल पर नहीं रहता है। Q किस तल क्रमांक पर रहता है?

- Ans 1. तल क्रमांक 6
 2. तल क्रमांक 5
 3. तल क्रमांक 2
 4. तल क्रमांक 4

Q.5 इस प्रश्न में, एक कथन और उसके बाद दो निष्कर्ष I और II दिए गए हैं। दिए गए कथन के आधार पर पहचान कीजिए कि कौन-से निष्कर्ष सत्य हैं।

$$V = U < S < K = P$$

$$(I) P > V$$

$$(II) K > U$$

Ans 1. I और II दोनों सत्य हैं।

2. केवल II सत्य है।

3. न तो I और न ही II सत्य है।

4. केवल I सत्य है।

Q.6 निम्नलिखित अक्षर श्रृंखला के आधार पर प्रश्न का उत्तर दीजिए।

(बाएँ) L I K U B O P Q R W E Z V Y T C J A H G M (दाएँ)

दाएँ छोर से चौथे अक्षर और बाएँ छोर से चौथे अक्षर के बीच अंग्रेजी वर्णमाला श्रृंखला में कुल कितने अक्षर हैं?

Ans 1. पाँच

2. उन्नीस

3. पंद्रह

4. बारह

Q.7 निम्नलिखित संख्या श्रृंखला का संदर्भ लें और नीचे दिए गए प्रश्न का उत्तर दें। सभी संख्याएँ केवल एकल अंकीय संख्याएँ हैं। (गिनती केवल बाएँ से दाएँ की जानी है।)

(बाएँ) 7 9 3 5 1 8 4 6 4 3 6 2 1 5 7 3 7 8 4 3 6 9 7 4 5 2 4 2 3 (दाएँ)

ऐसे कितने सम अंक हैं, जिनमें से प्रत्येक के ठीक पहले एक पूर्ण वर्ग है और ठीक बाद में एक विषम अंक भी है?

(नोट: 1 भी पूर्ण वर्ग है।)

Ans 1. दो

2. तीन

3. एक

4. तीन से अधिक

Q.8 दिए गए कथनों और निष्कर्षों का ध्यानपूर्वक अध्ययन करें। यह मानते हुए कि कथनों में दी गई जानकारी सत्य है, भले ही वह सामान्यतः ज्ञात तथ्यों से भिन्न प्रतीत होती हो, तय करें कि दिए गए निष्कर्षों में से कौन-से निष्कर्ष, कथनों का तार्किक रूप से अनुसरण करते हैं।

कथन: सभी कोण, खिड़की हैं। कोई भी खिड़की, रेखा नहीं है।

निष्कर्ष (I): कुछ कोण, रेखा हैं।

निष्कर्ष (II): कोई भी रेखा, कोण नहीं है।

Ans 1. केवल निष्कर्ष (II) अनुसरण करता है

2. निष्कर्ष (I) और (II) दोनों अनुसरण करते हैं

3. केवल निष्कर्ष (I) अनुसरण करता है

4. न तो निष्कर्ष (I) और न ही निष्कर्ष (II) अनुसरण करता है

Q.9 P, Q, R, S, T, U और V में से प्रत्येक की परीक्षा सोमवार से शुरू होकर रविवार को समाप्त होने वाले एक ही सप्ताह के अलग-अलग दिन है। T की परीक्षा बुधवार को है। U के बाद केवल तीन व्यक्तियों की परीक्षा है। R और T के बीच केवल दो व्यक्तियों की परीक्षा है। P की परीक्षा S के ठीक बाद है। Q की परीक्षा शुक्रवार को नहीं है। V और S के बीच कितने व्यक्तियों की परीक्षा है?

Ans 1. चार

2. दो

3. तीन

4. एक

Q.10 एक निश्चित कूट भाषा में, 'POLE' को '5109' के रूप में कूटबद्ध किया जाता है और 'HELP' को '1085' के रूप में कूटबद्ध किया जाता है। उसी भाषा में 'H' के लिए कूट क्या है?

- Ans
- 1. 0
 - 2. 8
 - 3. 5
 - 4. 1

Q.11 एक निश्चित कूट भाषा में,
A# B का अर्थ है कि 'A, B की पुत्री है'
A \$ B का अर्थ है कि 'A, B का पिता है'
A & B का अर्थ है कि 'A, B का पुत्र है'
A % B का अर्थ है कि 'A, B की बहन है'
उपरोक्त के आधार पर, यदि 'G%U#N\$J&Y' है, तो G का Y से क्या संबंध है?

- Ans
- 1. माता
 - 2. बहन
 - 3. पत्नी
 - 4. पुत्री

Q.12 एक निश्चित कूट भाषा में, 'stars shine bright' को 'ad zx fg' के रूप में कूटबद्ध किया जाता है और 'count stars tonight' को 'zx jn vb' के रूप में कूटबद्ध किया जाता है। दी गई भाषा में 'stars' को किस प्रकार कूटबद्ध किया जाएगा? (सभी कूट केवल दो अक्षर वाले कूट हैं।)

- Ans
- 1. jn
 - 2. zx
 - 3. vb
 - 4. ad

Q.13 सात व्यक्ति, J, R, U, H, C, I और K, उत्तर की ओर अभिमुख होकर एक पंक्ति में बैठे हैं। C के दोनों तरफ बराबर संख्या में लोग बैठे हैं। I, J के बाईं ओर बैठा है। I, C के दाईं ओर बैठा है। U और H के बीच केवल R बैठा है। K, J के दाईं ओर ठीक पड़ोस में बैठा है। U, C के बाईं ओर ठीक पड़ोस में बैठा है। पंक्ति के बाएं छोर पर कौन बैठा है?

- Ans
- 1. U
 - 2. J
 - 3. H
 - 4. R

Q.14 निम्नलिखित अक्षर शृंखला का संदर्भ लीजिए और दिए गए प्रश्न का उत्तर दीजिए। गिनती केवल बाएँ से दाएँ की जानी चाहिए।

(बाएँ) E Q I F T U C Z O W D X H G M R Y B K A S (दाएँ)

ऐसे कितने स्वर हैं, जिनमें से प्रत्येक के ठीक पहले एक स्वर है और ठीक बाद में एक व्यंजन है?

- Ans
- 1. 3
 - 2. 0
 - 3. 1
 - 4. 2

Q.15 किसी निश्चित कूट भाषा में,
A @ B का अर्थ है 'A, B की पुत्री है'
A # B का अर्थ है 'A, B का भाई है'
A \$ B का अर्थ है 'A, B की पत्नी है'
A % B का अर्थ है 'A, B का पिता है'
उपरोक्त के आधार पर, यदि 'M \$ A # R @ S % K' है, तो M का K से क्या संबंध है?

Ans 1. भाई की पुत्री
 2. भाई की पत्नी
 3. बहन की पुत्री
 4. पुत्री

Q.16 L, M, N, R, S, T और U में से प्रत्येक की परीक्षा सोमवार से शुरू होकर रविवार को समाप्त होने वाले उसी सप्ताह के अलग-अलग दिनों में है। L के बाद किसी की परीक्षा नहीं है। S और R के बीच केवल दो व्यक्तियों की परीक्षा है। T और M के बीच केवल दो व्यक्तियों की परीक्षा है। L और M के बीच केवल दो व्यक्तियों की परीक्षा है। N की परीक्षा, U से पहले किसी एक दिन है। R की परीक्षा U के ठीक बाद है। R और N के बीच कितने व्यक्तियों की परीक्षा है?

Ans 1. चार
 2. दो
 3. तीन
 4. एक

Q.17 शब्द COIGNED के प्रत्येक स्वर को अंग्रेजी वर्णमाला क्रम में उसके ठीक बाद आने वाले अक्षर से और प्रत्येक व्यंजन को अंग्रेजी वर्णमाला क्रम में उसके ठीक पहले आने वाले अक्षर से बदल दिया जाता है। इस प्रकार बने अक्षरों के समूह में कितने अक्षर ठीक दो बार आएंगे?

Ans 1. दो
 2. तीन
 3. एक भी नहीं
 4. एक

Q.18 छह व्यक्ति L, M, N, R, S और T एक गोल मेज के परितः उसके केंद्र की ओर अभिमुख होकर बैठे हैं। N के दाएं से गिनने पर N और M के बीच केवल दो व्यक्ति बैठे हैं। T के दाएं से गिनने पर L और T के बीच केवल दो व्यक्ति बैठे हैं। M, T के ठीक दाएं पड़ोस में बैठा है। S, M के ठीक दाएं पड़ोस में बैठा है। R के दाएं से गिनने पर, R और S के बीच कितने व्यक्ति बैठे हैं?

Ans 1. एक
 2. चार
 3. तीन
 4. दो

Q.19 निम्नलिखित संख्या, प्रतीक श्रृंखला का संदर्भ लें और नीचे दिए गए प्रश्न का उत्तर दें। गिनती केवल बाएँ से दाएँ की जानी है। (सभी संख्याएँ केवल एकल अंकीय संख्याएँ हैं।)

(बाएँ) 5 \$ 7 £ £ 4 9 © \$ © & 8 & \$ 3 1 7 © 4 7 \$ @ (दाएँ)

ऐसी कितनी संख्याएँ हैं, जिनमें से प्रत्येक के ठीक पहले एक संख्या है और ठीक बाद में एक प्रतीक भी है?

Ans 1. तीन
 2. पाँच
 3. दो
 4. चार

Q.20 A, B, C, D, E, F और G एक गोल मेज के परितः उसके केंद्र की ओर अभिमुख होकर बैठे हैं। D, A के ठीक बाईं ओर पड़ोस में बैठा है। B और D का निकटतम पड़ोसी G है। C, G के बाईं ओर तीसरे स्थान पर बैठा है। E, B का निकटतम पड़ोसी नहीं है।
F के बाईं ओर से गिनने पर, F और D के बीच कितने व्यक्ति बैठे हैं?

- Ans
- 1. दो
 - 2. तीन
 - 3. एक
 - 4. चार

Section : General intelligence and Reasoning Ability1

Q.1 निम्नलिखित संख्या-युग्मों में, पहली संख्या पर निश्चित गणितीय संक्रियाएं करके दूसरी संख्या प्राप्त की जाती है। उस समुच्चय का चयन कीजिए जिसमें संख्याएं उसी प्रकार संबंधित हैं जिस प्रकार निम्नलिखित समुच्चयों की संख्याएं संबंधित हैं।
(नोट: संख्याओं को उनके घटक अंकों में तोड़े बिना, संक्रियाएं पूर्ण संख्याओं पर की जानी चाहिए। उदाहरण के लिए 13 को लीजिए - 13 पर गणितीय संक्रियाएं जैसे कि 13 में जोड़ना/घटाना/गुणा करना, आदि किया जा सकता है। 13 को 1 और 3 में तोड़ना और फिर 1 और 3 पर गणितीय संक्रियाएं करने की अनुमति नहीं है।)

4, 19
7, 34

- Ans
- 1. 9, 43
 - 2. 9, 44
 - 3. 10, 44
 - 4. 10, 43

Q.2 उस समुच्चय का चयन करें जिसमें संख्याएँ उसी प्रकार से संबंधित हैं जिस प्रकार निम्नलिखित समुच्चयों की संख्याएँ संबंधित हैं।
(नोट: संख्याओं को उनके घटक अंकों में तोड़े बिना, पूर्ण संख्याओं पर संक्रियाएँ की जानी चाहिए। उदाहरण के लिए 13 लीजिए, 13 पर संक्रियाएँ, जैसे कि 13 में जोड़ना/घटाना/गुणा करना आदि, की जा सकती हैं। 13 को 1 और 3 में तोड़ने तथा फिर 1 और 3 पर गणितीय संक्रियाएँ करने की अनुमति नहीं है।)

(135, 9, 15)
(143, 11, 13)

- Ans
- 1. (158, 21, 8)
 - 2. (176, 14, 12)
 - 3. (175, 8, 25)
 - 4. (133, 7, 19)

Q.3 अंग्रेजी वर्णमाला क्रम के आधार पर, निम्नलिखित चार अक्षर-समूह युग्मों में से तीन एक निश्चित तरीके से एकसमान हैं और इस प्रकार वे एक गुप बनाते हैं। कौन-सा अक्षर-समूह युग्म उस गुप से संबंधित नहीं है?
(नोट: असंगत अक्षर-समूह युग्म, व्यंजनों/स्वरों की संख्या या उनकी स्थिति पर आधारित नहीं है।)

- Ans
- 1. TX - SW
 - 2. BF - AE
 - 3. LP - KO
 - 4. GK - FL

Q.4 उस समुच्चय का चयन करें जिसमें संख्याएँ उसी प्रकार से संबंधित हैं जिस प्रकार निम्नलिखित समुच्चयों की संख्याएँ संबंधित हैं।
(नोट: संख्याओं को उनके घटक अंकों में तोड़े बिना, पूर्ण संख्याओं पर संक्रियाएँ की जानी चाहिए। उदाहरण के लिए 13 लीजिए, 13 पर संक्रियाएँ, जैसे कि 13 में जोड़ना/घटाना/गुणा करना आदि, की जा सकती हैं। 13 को 1 और 3 में तोड़ने तथा फिर 1 और 3 पर गणितीय संक्रियाएँ करने की अनुमति नहीं है।)

(38, 83)

(17, 41)

- Ans
- 1. (27, 65)
 - 2. (31, 73)
 - 3. (23, 55)
 - 4. (41, 89)

Q.5 यदि '+' का अर्थ '-' है, '-' का अर्थ 'x' है, 'x' का अर्थ '+' है, '+' का अर्थ '+' है, तो निम्नलिखित समीकरण में प्रश्न-चिह्न (?) के स्थान पर क्या आएगा?

$$73 \div 120 \times 6 + 14 - 5 = ?$$

- Ans
- 1. 23
 - 2. 20
 - 3. 22
 - 4. 21

Q.6 दी गई श्रृंखला में '?' के स्थान पर क्या आना चाहिए?

65 70 80 95 115 ?

- Ans
- 1. 140
 - 2. 145
 - 3. 135
 - 4. 150

Q.7 यदि संख्या 9632584 के प्रत्येक सम अंक में 1 जोड़ दिया जाए और प्रत्येक विषम अंक से 2 घटा दिया जाए, तो इस प्रकार बनी नई संख्या में सबसे बड़े अंक और सबसे छोटे अंक के बीच कितना अंतर होगा?

- Ans
- 1. 4
 - 2. 6
 - 3. 5
 - 4. 8

Q.8 दी गई श्रृंखला में '?' के स्थान पर क्या आना चाहिए?

200, 201, 205, 214, 230, 255, ?

- Ans
- 1. 292
 - 2. 287
 - 3. 291
 - 4. 293

Q.9 किसी निश्चित तर्क के अनुसार OS 19 का संबंध SR 7 से है। इसी प्रकार, UY 24 का संबंध YX 12 से है। समान तर्क का अनुसरण करते हुए KZ 27 का संबंध निम्नलिखित में से किससे है?

- Ans
- 1. TT 10
 - 2. YT 13
 - 3. OT 11
 - 4. OY 15

Q.10 अंग्रेजी वर्णानुक्रम के आधार पर, निम्नलिखित चार अक्षर-समूह युग्मों में से तीन एक निश्चित तरीके से समान हैं और इस प्रकार वे एक ग्रुप बनाते हैं। कौन-सा अक्षर-समूह युग्म उस ग्रुप से संबंधित नहीं है?
(नोट: असंगत अक्षर-समूह युग्म, उसमें व्यंजनों/स्वरों की संख्या या उनकी स्थिति पर आधारित नहीं है।)

- Ans
- 1. GJ-NH
 - 2. DG-KF
 - 3. JM-QL
 - 4. MP-TO

Q.11 निम्नलिखित समीकरण में यदि '+' और '-' को परस्पर बदल दिया जाए और 'x' और '+' को परस्पर बदल दिया जाए, तो प्रश्न-चिह्न (?) के स्थान पर क्या आएगा?
 $33 \times 3 - 16 \div 2 + 2 = ?$

- Ans
- 1. 14
 - 2. 33
 - 3. 62
 - 4. 41

Q.12 दिए गए कथनों और निष्कर्षों को ध्यानपूर्वक पढ़ें। यह मानते हुए कि कथनों में दी गई जानकारी सत्य है, भले ही वह सामान्य रूप से ज्ञात तथ्यों से भिन्न प्रतीत हो, यह तय करें कि दिए गए निष्कर्षों में से कौन-से निष्कर्ष, कथनों का तार्किक रूप से अनुसरण करते हैं।
कथन: सभी आड़ू, भूरे हैं। कोई भूरा, सफेद नहीं है।
निष्कर्ष (I): कोई सफेद, आड़ू नहीं है।
निष्कर्ष (II): कुछ सफेद, आड़ू हैं।

- Ans
- 1. केवल निष्कर्ष (I) अनुसरण करता है
 - 2. निष्कर्ष (I) और (II) दोनों अनुसरण करते हैं
 - 3. न तो निष्कर्ष (I) और न ही (II) अनुसरण करता है
 - 4. केवल निष्कर्ष (II) अनुसरण करता है

Q.13 किसी निश्चित तर्क के अनुसार NM 18 का संबंध PJ 2 से है। इसी प्रकार, LJ 30 का संबंध NG 14 से है। समान तर्क का अनुसरण करते हुए PO 20 का संबंध निम्नलिखित में से किससे है?

- Ans
- 1. PT 3
 - 2. PR 5
 - 3. PP 2
 - 4. RL 4

Q.14 दी गई श्रृंखला में '?' के स्थान पर क्या आना चाहिए?
12 17 25 39 62 ?

- Ans
- 1. 105
 - 2. 97
 - 3. 101
 - 4. 95

Q.15 यदि 'A' का अर्थ '+' है, 'B' का अर्थ 'x' है, 'C' का अर्थ '+' है और 'D' का अर्थ '-' है, तो निम्नलिखित समीकरण में प्रश्न चिह्न (?) के स्थान पर क्या आएगा?

$$11 C 30 A 5 B 102 D 3 = ?$$

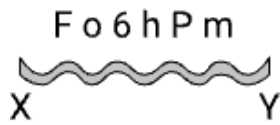
- Ans
- 1. 151
 - 2. 111
 - 3. 153
 - 4. 620

Q.16 यदि '+' और '-' को परस्पर बदल दिया जाए तथा 'x' और '+' को परस्पर बदल दिया जाए, तो निम्नलिखित समीकरण में प्रश्न-चिह्न (?) के स्थान पर क्या आएगा?

$$135 - 22 \div 6 + 78 \times 6 - 13 + 2 = ?$$

- Ans
- 1. 270
 - 2. 265
 - 3. 260
 - 4. 275

Q.17 यदि जल स्रोत को चित्र में दर्शाए गए अनुसार X-Y के अनुदिश रखा जाए, तो दिए गए विकल्पों में से कौन-सा विकल्प दिए गए चित्र का जल प्रतिबिंब होगा?



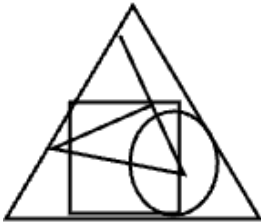
- Ans
- 1. F0ePpW
 - 2. F0ePpW
 - 3. 90fPpW
 - 4. F0ePpM

Q.18 उस विकल्प आकृति का चयन कीजिए, जिसमें दी गई आकृति (X) उसके भाग के रूप में अंतर्निहित है। (आकृति को घमाने की अनुमति नहीं है)



Ans


1.




2.



3.



4.



Q.19 अंग्रेजी वर्णमाला क्रम के आधार पर एक निश्चित तर्क के अनुसार, HUNT का संबंध GTOU से है। इसी प्रकार, DOOR का संबंध CNPS से है। समान तर्क का अनुसरण करते हुए TRIP का संबंध निम्नलिखित में से किससे है?

- Ans
- 1. SQJQ
 - 2. UOKR
 - 3. SQKR
 - 4. SQLS

Q.20 अंग्रेजी वर्णानुक्रम के आधार पर, निम्नलिखित चार अक्षर समूह युग्मों में से तीन एक निश्चित तरीके से समान हैं और इस प्रकार एक गुप बनाते हैं। दिए गए विकल्पों में से कौन-सा अक्षर समूह युग्म उस गुप से संबंधित नहीं है? (नोट: असंगत का चयन व्यंजनों/स्वरों की संख्या या अक्षर समूह में उनकी स्थिति पर आधारित नहीं है)

- Ans
- 1. DM - GQ
 - 2. GS - JV
 - 3. KP - NS
 - 4. CX - FA

Section : General Awareness

Q.1 निम्नलिखित में से कौन-सा, भारतीय रेलवे के विद्युतीकरण दृष्टिकोण का अभिप्रेत परिणाम नहीं है?

- Ans
- 1. तेज परिवहन
 - 2. डीजल इंजन का बढ़ा हुआ उपयोग
 - 3. ऊर्जा कुशल परिवहन
 - 4. पर्यावरण के अनुकूल परिवहन

Q.2 निम्नलिखित में से कौन-सा, बाजार मूल्य पर GDP में शामिल है, लेकिन कारक लागत पर GDP में शामिल नहीं है?

- Ans
- 1. जमीन पर किराया
 - 2. श्रमिकों का वेतन
 - 3. अप्रत्यक्ष कर
 - 4. बैंकों को ब्याज

Q.3 उत्पाद की एक अतिरिक्त इकाई के उत्पादन की लागत को क्या कहा जाता है?

- Ans
- 1. सीमांत लागत
 - 2. औसत लागत
 - 3. नियत लागत
 - 4. कुल लागत

Q.4 जुलाई 2025 में, भारतीय प्रौद्योगिकी संस्थान गुवाहाटी (IIT-G) के शोधकर्ताओं ने जैवनिम्नीकरणीय बहुलक के साथ बांस की किस प्रजाति को मिलाकर प्लास्टिक का एक स्थायी विकल्प विकसित किया?

- Ans
- 1. बेम्बूसा वल्गेरिस (Bambusa vulgaris)
 - 2. बेम्बूसा टुल्डा (Bambusa tulda)
 - 3. थायरसोस्टैचिस सियामेंसिस (Thyrsostachys siamensis)
 - 4. डेंड्रोकैलेमस गिगेंटस (Dendrocalamus giganteus)

Q.5 भारतीय आर्थिक सर्वेक्षण 2024-2025 के अनुसार, भारत के निम्नलिखित राज्यों में से कौन-सा राज्य भारत में मृंगफली का सबसे बड़ा उत्पादक है?

- Ans
- 1. गुजरात
 - 2. केरल
 - 3. राजस्थान
 - 4. तमिलनाडु

Q.6 1917 में भारतीय राष्ट्रीय कांग्रेस का अध्यक्ष निम्नलिखित में से किसे चुना गया था?

- Ans
- 1. एनी बेसेंट
 - 2. मैडम भीकाजी कामा
 - 3. सरोजिनी नायडू
 - 4. विजयलक्ष्मी पंडित

Q.7 2025 में आयोजित 68वीं राष्ट्रीय शूटिंग चैंपियनशिप में पुरुषों की 10m एयर राइफल फाइनल में स्वर्ण पदक किसने जीता?

- Ans
- 1. दिव्यांश सिंह पंवार
 - 2. किरण अंकुश जाधव
 - 3. सौरभ चौधरी
 - 4. अभिषेक वर्मा

Q.8 सितंबर 2025 में, नई दिल्ली में किस प्रमुख अंतरराष्ट्रीय खेल आयोजन का आधिकारिक रूप से आरंभ हुआ?

- Ans
- 1. समर यूनिवर्सियाड 2025
 - 2. एशियन पैरा गेम्स 2025
 - 3. वर्ल्ड पैरा एथलेटिक्स चैंपियनशिप 2025
 - 4. साउथ एशियन गेम्स 2025

Q.9 सभी ग्रामीण परिवारों को सुरक्षित और पर्याप्त पेयजल उपलब्ध कराने के लिए जल जीवन मिशन कब शुरू किया गया था?

- Ans
- 1. 2022
 - 2. 2021
 - 3. 2020
 - 4. 2019

Q.10 2024 में हुए अद्यतन के बाद भारत में कुल कितनी शास्त्रीय भाषाएँ हैं?

- Ans
- 1. चार
 - 2. ग्यारह
 - 3. आठ
 - 4. तेरह

Q.11 मार्च 2025 में, निम्नलिखित में से किसे भारतीय प्रतिभूति और विनिमय बोर्ड (SEBI) के अध्यक्ष के रूप में नियुक्त किया गया था?

- Ans
- 1. यू. के. सिन्हा
 - 2. माधवी पुरी बुच
 - 3. तुहिन कांत पांडे
 - 4. अजय त्यागी

Q.12 मई 2025 में, शंघाई में आयोजित तीरंदाजी विश्व कप चरण 2 में व्यक्तिगत रिकर्व स्पर्धाओं में भारत के लिए कांस्य पदक किसने जीते?

- Ans
- 1. अतानु दास और अंकिता भक्त
 - 2. दीपिका कुमारी और पार्थ सालुंखे
 - 3. धीरज बोम्मदेवरा और सिमरनजीत कौर
 - 4. तरुणदीप राय और भजन कौर

Q.13 2025 में जीएसटी (GST) युक्तिकरण संबंधी चर्चाओं में मुख्य रूप से निम्नलिखित में से किस संकेतक को बेहतर बनाने के लिए स्लैबों को विलय करने की मांग की गई थी?

- Ans
- 1. कृषि उत्पादकता
 - 2. साक्षरता दर
 - 3. रक्षा निर्यात
 - 4. व्यवसाय करने में आसानी

Q.14 भारत के गवर्नर-जनरल जिन्हें "दयालुता (Clemency)" का विशेषण प्राप्त हुआ, _____ थे।

- Ans
- 1. लॉर्ड कैनिंग
 - 2. लॉर्ड कॉर्नवालिस
 - 3. लॉर्ड डलहौजी
 - 4. विलियम बेंटिक

Q.15 भारत के आर्थिक सर्वेक्षण 2024-2025 के अनुसार, भारत के निम्नलिखित राज्यों में से कौन-सा राज्य भारत में सूरजमुखी का सबसे बड़ा उत्पादक है?

- Ans
- 1. कर्नाटक
 - 2. महाराष्ट्र
 - 3. पंजाब
 - 4. हरियाणा

Q.16 दिल्ली स्थित कॉमनवेल्थ गेम्स (CWG) खेल परिसर में वार्षिक खेल सप्ताह 2026 का उद्घाटन किसने किया और प्रतिभागियों को किसने संबोधित किया?

- Ans
- 1. श्री सुनील अरोड़ा
 - 2. श्री राजीव कुमार
 - 3. श्री ज्ञानेश कुमार
 - 4. श्री सुशील चंद्र

Q.17 निम्नलिखित में से कौन-सा कथन भारत में उग्रवादी चरण (1905-1919) के दौरान हुए वैचारिक परिवर्तन को सर्वोत्तम तरीके से दर्शाता है?

- Ans
- 1. हिंदू राष्ट्रवाद से धर्मनिरपेक्ष राजनीति की ओर
 - 2. भारतीय एकता से धार्मिक धुवीकरण की ओर
 - 3. ब्रिटिश सुधारों में आस्था से जनशक्ति में विश्वास की ओर
 - 4. असहयोग से हिंसक विद्रोह की ओर

Q.18 निम्नलिखित में से किसने, 1905 में सर्वेंट्स ऑफ इंडिया सोसाइटी (Servants of India Society) की स्थापना की थी?

- Ans
- 1. बिपिन चंद्र पाल
 - 2. बाल गंगाधर तिलक
 - 3. दादाभाई नौरोजी
 - 4. गोपाल कृष्ण गोखले

Q.19 भारत का पहला स्वदेशी निर्मित ध्रुवीय अनुसंधान पोत (PRV) किन संस्थाओं के बीच रणनीतिक साझेदारी के माध्यम से विकसित किया जा रहा है?

- Ans
- 1. मझगांव डॉक शिपबिल्डर्स लिमिटेड और फिनकैंटियरी (Fincantieri)
 - 2. भारती डिफेंस एंड इंफ्रास्ट्रक्चर लिमिटेड और सीमेंस
 - 3. गार्डन रीच शिपबिल्डर्स एंड इंजीनियर्स लिमिटेड (GRSE) और नॉर्वे का कांग्सबर्ग
 - 4. कोचीन शिपयार्ड लिमिटेड और लॉकहीड मार्टिन

Q.20 1857 के विद्रोह का तात्कालिक कारण क्या था?

- Ans
- 1. उच्च कराधान नीतियाँ
 - 2. अंग्रेजों द्वारा किए गए भूमि सुधार
 - 3. अंग्रेजी शिक्षा की शुरुआत
 - 4. एनफील्ड राइफलों में ग्रीस (चर्बी) लगे कारतूसों का उपयोग

Q.1 सिखों के कौन-से त्योहार में सिख धर्म के संस्थापक गुरु नानक के जन्म का उत्सव प्रार्थनाओं और जुलूसों के साथ मनाया जाता है?

- Ans
- 1. होला मोहल्ला, वीरता का त्यौहार
 - 2. बैसाखी, फसल कटाई का त्योहार
 - 3. गुरुपर्व, गुरु की वार्षिकोत्सव जयंती
 - 4. लोहड़ी, सर्दियों का उत्सव

Q.2 मानव शरीर के अंतःस्रावी तंत्र में अधिवृक्क ग्रंथि की भूमिका निम्नलिखित में से कौन-सी है?

- Ans
- 1. लाल रक्त कणिकाओं का संश्लेषण
 - 2. दबाव की प्रतिक्रिया में एड्रिनलिन का साव
 - 3. इन्सुलिन का उत्पादन
 - 4. रक्त शर्करा के स्तर का नियमन

Q.3 मानव तंत्रिका तंत्र में, निम्नलिखित में से कौन-सा तंत्रिप्रेषी (neurotransmitters) का कार्य है?

- Ans
- 1. रक्तदाब को नियंत्रित करना
 - 2. न्यूरोन्स के बीच संकेत संचारित करना
 - 3. पेशियों के संकुचन को शुरू करना
 - 4. तंत्रिका-कोशिका के तंत्रिकाक्ष में विद्युत आवेगों का संचालन करना

Q.4 सुंदरबन मैंग्रोव वन, जो रॉयल बंगाल टाइगर का घर है, मुख्य रूप से निम्नलिखित में से किस भारतीय राज्य में पाए जाते हैं?

- Ans
- 1. केरल
 - 2. ओडिशा
 - 3. पश्चिम बंगाल
 - 4. महाराष्ट्र

Q.5 निम्नलिखित में से कौन-सा संचार का माध्यम नहीं है?

- Ans
- 1. पाइपलाइन
 - 2. इलेक्ट्रॉनिक मेल
 - 3. दूरसंचार
 - 4. सेलुलर फोन

Q.6 2011 की जनगणना के अनुसार, निम्नलिखित में से किस राज्य में उस राज्य की कुल जनसंख्या में ईसाई जनसंख्या का प्रतिशत सबसे अधिक है?

- Ans
- 1. नागालैंड
 - 2. अरुणाचल प्रदेश
 - 3. त्रिपुरा
 - 4. मेघालय

Q.7 चूँकि कवक में शैवाल की तरह हरितलवक नहीं होते हैं, इसलिए वे ____ का कार्य नहीं कर सकते हैं।

- Ans
- 1. प्रकाश संश्लेषण
 - 2. कोशिका विभाजन
 - 3. प्रजनन
 - 4. श्वसन

Q.8 मूल अधिकारों पर प्रतिबंध उचित है या नहीं, यह तय करने का अंतिम प्राधिकार किसके पास होता है?

- Ans
- 1. न्यायपालिका
 - 2. प्रधानमंत्री
 - 3. संसद
 - 4. राष्ट्रपति

Q.9 कौन-सा रोग, विटामिन D की कमी के कारण होता है?

- Ans 1. रिकेट्स
 2. गलगंड
 3. मलेरिया
 4. क्वाशियोरकॉर

Q.10 भारतीय संविधान का निम्नलिखित में से कौन-सा अनुच्छेद भारत के राष्ट्रपति पर महाभियोग की प्रक्रिया से संबंधित है?

- Ans 1. अनुच्छेद 63
 2. अनुच्छेद 61
 3. अनुच्छेद 64
 4. अनुच्छेद 62

Q.11 गोमतेश्वर की प्रतिमा भारत के किस राज्य में स्थित है?

- Ans 1. कर्नाटक
 2. तमिलनाडु
 3. आंध्र प्रदेश
 4. राजस्थान

Q.12 वर्ष 2024-25 के लिए भारत के केंद्रीय बजट में पत्तन, पोत परिवहन और जलमार्ग मंत्रालय को कुल कितनी प्रारंभिक वित्तीय राशि आवंटित की गई थी?

- Ans 1. ₹2,377.49 करोड़
 2. ₹2,827.56 करोड़
 3. ₹1,537.89 करोड़
 4. ₹3,097.78 करोड़

Q.13 संसद में शून्यकाल किस अवधि के ठीक बाद शुरू होता है?

- Ans 1. प्रश्नकाल
 2. लंच ब्रेक
 3. चाय ब्रेक
 4. कार्य समय

Q.14 निम्नलिखित में से कौन-सा भारत में शास्त्रीय भाषा का दर्जा देने का मानदंड नहीं है?

- Ans 1. प्राचीन ग्रंथों की पुरातनता (1500-2000 वर्ष)
 2. विरासत के रूप में मान्यता प्राप्त प्राचीन साहित्य का संग्रह
 3. अभिलेखीय और शिलालेख संबंधी साक्ष्य
 4. विश्व भर में व्यापक आधुनिक उपयोग

Q.15 उच्चतम न्यायालय ने माना कि ध्वनि प्रदूषण प्राण और शांतिपूर्ण जीवन के संवैधानिक अधिकार का उल्लंघन करता है और स्पष्ट किया कि लाउडस्पीकर का उपयोग मूल अधिकार नहीं है। यह संरक्षण भारतीय संविधान के किस अनुच्छेद से प्राप्त होता है?

- Ans 1. अनुच्छेद 19(1)(a)
 2. अनुच्छेद 32
 3. अनुच्छेद 27
 4. अनुच्छेद 21

Q.16 भारत में सामुदायिक विकास कार्यक्रम निम्नलिखित में से किस वर्ष प्रारंभ किया गया था?

- Ans 1. 1955
 2. 1952
 3. 1953
 4. 1954

Q.17 पूर्वोत्तर भारत के निम्नलिखित में से किस राज्य में "चापचर कुट (Chapchar Kut)" उत्सव मनाया जाता है?

- Ans
- 1. मिजोरम
 - 2. मणिपुर
 - 3. सिक्किम
 - 4. नागालैंड

Q.18 पादपों में कार्बोहाइड्रेट, आंतरिक ऊर्जा भंडार के रूप में बने रहते हैं, जिनका उपयोग पादप द्वारा आवश्यकतानुसार _____ के रूप में किया जाता है।

- Ans
- 1. ATP
 - 2. वसा
 - 3. ग्लाइकोजन
 - 4. स्टार्च

Q.19 निम्नलिखित में से कौन-सी नदी अमरकंटक पठार से निकलकर गंगा नदी के दाएं किनारे पर मिलने वाली सहायक नदी है?

- Ans
- 1. केन नदी
 - 2. बेतवा नदी
 - 3. सोन नदी
 - 4. घाघरा नदी

Q.20 गोवा कार्निवल (Goa Carnival) मूल रूप से किस औपनिवेशिक काल से संबंधित है?

- Ans
- 1. फ्रांसीसी
 - 2. ब्रिटिश
 - 3. डच
 - 4. पुर्तगाली

Section : Arithmetical and Numerical Ability

Q.1 वह अनुपात ज्ञात कीजिए जिसमें ₹65/kg मूल्य के चावल को ₹98/kg मूल्य के चावल के साथ मिलाया जाए ताकि ₹80/kg मूल्य का मिश्रण प्राप्त हो।

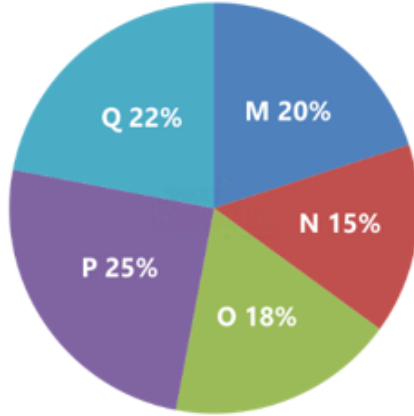
- Ans
- 1. 5 : 4
 - 2. 2 : 1
 - 3. 3 : 2
 - 4. 6 : 5

Q.2 एक विद्यार्थी के अंक गलती से 78 के स्थान पर 22 दर्ज कर दिए गए। इसके कारण कक्षा के औसत अंक में $\frac{8}{7}$ की कमी हुई। कक्षा में विद्यार्थियों की संख्या कितनी है?

- Ans
- 1. 50
 - 2. 41
 - 3. 51
 - 4. 49

Q.3 नीचे दिए गए ग्राफ का अध्ययन करें और उसके बाद दिए गए प्रश्न का उत्तर दें।

नीचे दिया गया ग्राफ 5 अलग-अलग कारखानों M, N, O, P और Q द्वारा चीनी के उत्पादन के बंटन को दर्शाता है। इन कारखानों का कुल उत्पादन 6000 kg है।



कारखाना M और N द्वारा उत्पादित कुल चीनी की मात्रा और कारखानों O और Q द्वारा उत्पादित कुल चीनी की मात्रा का अनुपात ज्ञात कीजिए।

- Ans
- 1. 8 : 7
 - 2. 7 : 8
 - 3. 10 : 9
 - 4. 9 : 10

Q.4 डेविड के वेतन में पहले 30% की कमी की गई और उसके बाद में 20% की वृद्धि की गई। उसका अंतिम वेतन, उसके प्रारंभिक वेतन से कितने प्रतिशत कम है?

- Ans
- 1. 18%
 - 2. 16%
 - 3. 14%
 - 4. 6%

Q.5 एक बेईमान दुकानदार अपना माल, लागत मूल्य पर बेचता है लेकिन 1 kg बाट के स्थान पर 840 gm बाट का उपयोग करता है। उसका लाभ प्रतिशत ज्ञात कीजिए। (दशमलव के दो स्थान तक पूर्णांकित करें)

- Ans
- 1. 23.70%
 - 2. 23.07%
 - 3. 19.05%
 - 4. 19.50%

Q.6 यदि ब्याज अर्धवार्षिक रूप से संयोजित होता है, तो ₹4,096 की राशि को $\frac{25}{2}\%$ वार्षिक दर से 1.5 वर्ष के लिए निवेश करने पर प्राप्त मिश्रधन कितना होगा?

- Ans
- 1. ₹4,913
 - 2. ₹4,911
 - 3. ₹4,912
 - 4. ₹4,914

Q.7 एक विक्रेता एक रुपये में 24 चॉकलेट बेचता है और 25% का लाभ अर्जित करता है। उसने मूल रूप से एक रुपये में कितनी चॉकलेट खरीदी थीं?

- Ans
- 1. 34
 - 2. 32
 - 3. 30
 - 4. 36

Q.8 एक दुकानदार बिस्कुट के पैकेटों को व्यवस्थित कर रहा है। जब वह उन्हें 6, 8 या 12 पैकेटों के चट्टे में लगाने की कोशिश करता है, तो उसके पास सदैव 5 पैकेट बच जाते हैं। उसके पास बिस्कुट के पैकेटों की न्यूनतम संभव संख्या क्या हो सकती है? (यह मानते हुए कि उसके द्वारा बनाए गए चट्टों की संख्या एक प्राकृत संख्या है)

- Ans 1. 29
 2. 24
 3. 34
 4. 53

Q.9 एक फ़ोन की कीमत में पहले 15% की वृद्धि की जाती है और फिर 10% की कमी की जाती है। फ़ोन की कीमत में कुल प्रतिशत परिवर्तन क्या है?

- Ans 1. 3.5% की वृद्धि
 2. 4.5% की वृद्धि
 3. 5% की वृद्धि
 4. 2.5% की वृद्धि

Q.10 यदि सात क्रमागत आरोही विषम संख्याओं A, B, C, D, E, F और G का औसत 53 है, तो E और B का अंतर ज्ञात कीजिए।

- Ans 1. 6
 2. 8
 3. 4
 4. 10

Q.11 $6^2 - 2^5 + \left(\frac{120}{2}\right)^2 - 15 + 7 \times 10$ को सरल कीजिए।

- Ans 1. 3659
 2. 3654
 3. 3658
 4. 3655

Q.12 ऋषि के पास ₹1,716 थे। वह इस धनराशि को अपने पुत्रों, शान और पीयूष के बीच विभाजित करता है और उन्हें अपने हिस्सों को 8% वार्षिक चक्रवृद्धि ब्याज दर पर निवेश करने को कहा जहां ब्याज वार्षिक रूप से संयोजित होता है। यह पाया गया कि शान और पीयूष को क्रमशः 16 वर्ष और 17 वर्ष के बाद समान धनराशि प्राप्त होती है। ऋषि ने शान को कितनी धनराशि (₹ में) दी थी?

- Ans 1. 925
 2. 741
 3. 825
 4. 891

Q.13 निम्नलिखित में से कौन-सी संख्या, 835677 को पूर्णतया विभाजित करती है?

- Ans 1. 7
 2. 6
 3. 4
 4. 9

Q.14 ₹4800 पर 4% वार्षिक ब्याज दर से कितनी अवधि (वर्षों में) में ₹480 साधारण ब्याज प्राप्त होगा?

- Ans 1. 3.5
 2. 2.5
 3. 5
 4. 1.5

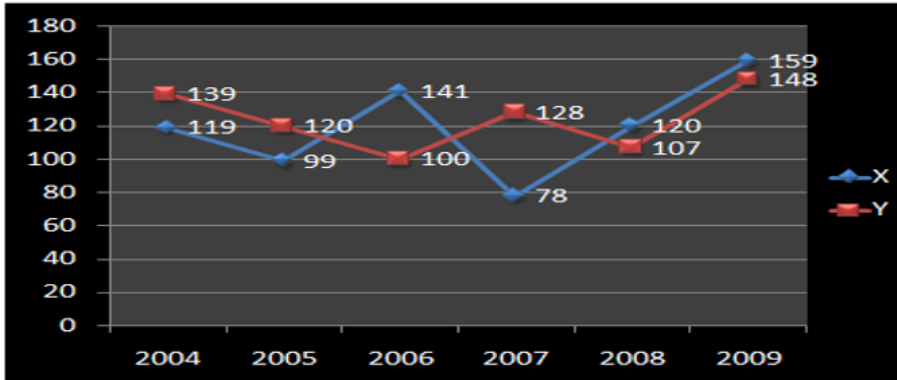
Q.15 एक क्षेत्र की जनसंख्या 3,56,000 है, जिसमें से 1,78,000 पुरुष हैं। जनसंख्या का 41% भाग साक्षर है। यदि 64% पुरुष साक्षर हैं, तो महिलाओं का साक्षरता प्रतिशत ज्ञात कीजिए।

- Ans
- 1. 19%
 - 2. 16%
 - 3. 20%
 - 4. 18%

Q.16 जब पेट्रोल की कीमत में 17% की वृद्धि हुई, तो अंशु ने इसकी खपत में 5% की कमी कर दी। उसके पेट्रोल पर होने वाले कुल व्यय में प्रतिशत परिवर्तन ज्ञात कीजिए।

- Ans
- 1. 11.15% कमी
 - 2. 11.05% वृद्धि
 - 3. 11.15% वृद्धि
 - 4. 10.15% वृद्धि

Q.17 निम्न रेखा ग्राफ का अध्ययन करें और निम्नलिखित प्रश्न का उत्तर दें। दिए गए ग्राफ में, वर्ष 2004 से 2009 तक दो अलग-अलग कंपनियों, X और Y द्वारा निर्मित कारों की संख्या दी गई है।



वर्ष 2005 से 2009 तक कार Y के उत्पादन में कितने प्रतिशत की वृद्धि हुई?

- Ans
- 1. 21%
 - 2. $23\frac{1}{3}\%$
 - 3. $28\frac{2}{3}\%$
 - 4. 23%

Q.18 एक कक्षा में दो अनुभाग: A और B हैं, जिनमें क्रमशः 22 और 50 विद्यार्थी हैं। यदि अनुभाग A के विद्यार्थियों का औसत वजन 42 kg और अनुभाग B के विद्यार्थियों का औसत वजन 38 kg है, तो पूरी कक्षा के विद्यार्थियों का औसत वजन (kg में, दो दशमलव स्थानों तक पूर्णांकित) ज्ञात कीजिए।

- Ans
- 1. 38.72
 - 2. 40.22
 - 3. 39.72
 - 4. 39.22

Q.19 दो बैंक 8% वार्षिक दर से ब्याज देते हैं। बैंक A साधारण ब्याज देता है, जबकि बैंक B चक्रवृद्धि ब्याज (वार्षिक रूप से संयोजित) देता है। कितने समय में दोनों बैंक ₹37,000 पर समान कुल ब्याज देंगे?

- Ans
- 1. 1 वर्ष
 - 2. 4 वर्ष
 - 3. 3 वर्ष
 - 4. 2 वर्ष

Q.20 निम्नलिखित को सरल कीजिए।

$$\frac{5 - [4 \div 2 - 3(4 - (7 - 4))]}{3 + 3\{7 - 5(4 - (6 \div 2 + 1))\}}$$

Ans

1. $\frac{3}{5}$
 2. $\frac{3}{4}$
 3. $\frac{1}{4}$
 4. $\frac{3}{7}$

Section : Arithmetical and Numerical Ability1

Q.1 दो संख्याओं का अनुपात 4 : 7 है और उनका योगफल 88 है। दोनों संख्याओं में से बड़ी संख्या ज्ञात कीजिए।

- Ans 1. 56
 2. 50
 3. 54
 4. 52

Q.2 A और B मिलकर एक काम को 12 दिनों में पूरा कर सकते हैं। उन्होंने 4 दिन तक मिलकर काम किया, और फिर B ने काम छोड़ दिया। A ने अकेले शेष काम को 8 और दिनों में पूरा किया। A को अकेले उस काम को पूरा करने में कितना समय लगेगा?

- Ans 1. 12 दिन
 2. 18 दिन
 3. 16 दिन
 4. 20 दिन

Q.3 एक दुकानदार ने 40% लाभ अर्जित करने के लिए एक वस्तु का अंकित मूल्य निर्धारित किया। यदि वह अंकित मूल्य पर 25% की छूट देता है, तो वास्तविक लाभ प्रतिशत ज्ञात कीजिए।

- Ans 1. 4.5%
 2. 5%
 3. 6.4%
 4. 8%

Q.4 श्रीधर और उसके पिता की वर्तमान आयु का अनुपात 2 : 9 है। श्रीधर के जन्म के समय पिता की आयु 28 वर्ष थी। पिता की वर्तमान आयु ज्ञात कीजिए।

- Ans 1. 42 वर्ष
 2. 45 वर्ष
 3. 35 वर्ष
 4. 36 वर्ष

Q.5 एक नहर 120 km/hr की चाल से बह रही है। नहर में जल की चौड़ाई 50 डेसीमीटर और गहराई 28 डेसीमीटर है। यदि क्षेत्र में 9 cm अप्रवाही जल की आवश्यकता हो, तो यह 45 मिनट में कितने क्षेत्रफल की सिंचाई करेगी?

- Ans 1. 1,37,00,000 m²
 2. 1,40,04,000 m²
 3. 1,39,00,000 m²
 4. 1,40,00,000 m²

Q.6 यदि 90 पुरुष प्रतिदिन 6 घंटे काम करके किसी कार्य को 10 दिनों में पूरा कर सकते हैं, तो 75 पुरुष प्रतिदिन 8 घंटे काम करके उसी कार्य का कितना भाग 8 दिनों में पूरा करेंगे?

- Ans
- 1. $\frac{5}{9}$
 - 2. $\frac{2}{9}$
 - 3. $\frac{8}{9}$
 - 4. $\frac{7}{9}$

Q.7 एक कार 49 km/h की चाल से गतिमान है। यदि इसकी चाल में 46% की कमी की जाए, तो कार की नई चाल (km/h में) कितनी होगी?

- Ans
- 1. 24.45
 - 2. 27.56
 - 3. 26.46
 - 4. 27.68

Q.8 एक आयत की लंबाई 14 cm और चौड़ाई 8 cm है। इसकी एक लंबी भुजा (14 cm) पर, उसी भुजा को व्यास मानकर एक अर्धवृत्त बनाया जाता है। परिणामी आकृति का क्षेत्रफल ज्ञात कीजिए। ($\pi = \frac{22}{7}$ का उपयोग कीजिए)

- Ans
- 1. 198 cm²
 - 2. 193 cm²
 - 3. 181 cm²
 - 4. 189 cm²

Q.9 यदि $(a - b)$ और $(a^3 - a^2b)$ का माथ्यानुपाती x है, तो x^2 ज्ञात कीजिए।

- Ans
- 1. $a^2(a - b)^2$
 - 2. $a^2(a - b)$
 - 3. $a(a + b)^2$
 - 4. $a^2(a + b)$

Q.10 पाइप A एक टंकी को 3 घंटे में भर सकता है, पाइप B उसे 6 घंटे में भर सकता है, लेकिन पाइप C उसे 5 घंटे में खाली कर सकता है। यदि तीनों पाइप एक साथ खोल दिए जाएं, तो टंकी को भरने में कितना समय लगेगा?

- Ans
- 1. $6\frac{2}{3}$ घंटे
 - 2. $3\frac{1}{3}$ घंटे
 - 3. $1\frac{2}{3}$ घंटे
 - 4. $2\frac{2}{3}$ घंटे

Q.11 एक लंब वृत्तीय शंकु की तिर्यक ऊँचाई उसकी त्रिज्या से 4 cm अधिक है। यदि शंकु का वक्र पृष्ठीय क्षेत्रफल 192π cm² है, तो शंकु की त्रिज्या ज्ञात कीजिए।

- Ans
- 1. 11.2 cm
 - 2. 12.8 cm
 - 3. 10.5 cm
 - 4. 12 cm

Q.12 युवी, तनीशा और पार्थ ने क्रमशः ₹1,20,000, ₹2,00,000 और ₹1,80,000 का निवेश करके एक व्यवसाय शुरू किया। युवी प्रबंधक के रूप में काम कर रही है और लाभ का 10% वेतन के रूप में ले रही है। शेष लाभ में से, तीनों ने निवेशित पूंजी के अनुपात में लाभ को आपस में बांटने का निर्णय लिया। यदि कुल अर्जित लाभ ₹1,75,000 है, तो पार्थ का लाभ में हिस्सा कितना होगा?

- Ans
- 1. युवी के हिस्से से ₹2,000 अधिक
 - 2. तनीशा के हिस्से से ₹6,300 कम
 - 3. ₹55,750
 - 4. ₹56,500

Q.13 एक नाव धारा की दिशा में 42 km की दूरी 3 घंटे में तय करती है और धारा की विपरीत दिशा में समान दूरी 6 घंटे में तय करके वापस आती है। कुछ समय बाद, धारा की चाल में 2 km/hr की वृद्धि हो जाती है। यदि नाव नई प्रभावी चाल से धारा की दिशा में 42 km की दूरी पुनः तय करे, तो उसे कितना समय लगेगा?

- Ans
- 1. 2.265 घंटे
 - 2. 2.625 घंटे
 - 3. 2.652 घंटे
 - 4. 2.526 घंटे

Q.14 उस गोले का पृष्ठीय क्षेत्रफल ज्ञात कीजिए जिसका आयतन $268\frac{4}{21} \text{ cm}^3$ है। ($\pi = \frac{22}{7}$ का उपयोग कीजिए)

- Ans
- 1. $248\frac{3}{7} \text{ cm}^2$
 - 2. $201\frac{1}{7} \text{ cm}^2$
 - 3. $168\frac{2}{7} \text{ cm}^2$
 - 4. $189\frac{5}{7} \text{ cm}^2$

Q.15 एक दुकानदार ने एक वस्तु पर 30% का लाभ प्राप्त करने हेतु उसका अंकित मूल्य तय किया। उसने 15% की छूट और ₹250 की नकद छूट दी। यदि उसका वास्तविक लाभ 8% है, तो वस्तु का क्रय मूल्य कितना है?

- Ans
- 1. ₹11,800
 - 2. ₹10,000
 - 3. ₹12,600
 - 4. ₹9,850

Q.16 एक धावक 9 km/hr की चाल से दौड़ता है और एक निश्चित दूरी को 4 घंटे में तय करता है। यदि धावक अपनी चाल को बढ़ाकर 12 km/hr कर दे, तो समान दूरी को तय करने में उसे कितना समय लगेगा?

- Ans
- 1. 3 घंटे
 - 2. 2.5 घंटे
 - 3. 1.5 घंटे
 - 4. 2 घंटे

Q.17 एक पाइप किसी टंकी को 6 घंटे में भर सकता है। एक अन्य पाइप भरी हुई टंकी को 42 घंटे में खाली कर सकता है। यदि दोनों पाइपों को एक साथ खोला जाए, तो टंकी को भरने में कितना समय (घंटों में) लगेगा?

- Ans
- 1. 9
 - 2. 7
 - 3. 8
 - 4. 10

Q.18 श्री अयोध्या सिंह द्वारा प्रत्येक दूरी को 6 kmph, 5 kmph, 4 kmph और 3 kmph की चाल से तय करने पर कुल 4.75 घंटे का समय लगा। उन्होंने कुल कितनी दूरी (km में) तय की?

- Ans
- 1. 1.5
 - 2. 2.20
 - 3. 3.4
 - 4. 4.80

Q.19 एक व्यक्ति एक मोबाइल फोन को ₹600 में बेचता है और उसे कुछ हानि होती है। यदि उसने इसे ₹1,170 में बेचा होता, तो उसका लाभ पूर्व की हानि का दोगुना होता। मोबाइल फोन का क्रय मूल्य (₹ में) ज्ञात कीजिए।

- Ans
- 1. 800
 - 2. 790
 - 3. 810
 - 4. 780

Q.20 यदि किसी वस्तु को उसके वास्तविक अंकित मूल्य के $\frac{3}{4}$ पर बेचा जाता है, तो हितेश को 10% की हानि होती है। यदि वह वस्तु को उसके वास्तविक अंकित मूल्य के 89% पर बेचता है, तो उसका लाभ प्रतिशत ज्ञात कीजिए।

- Ans
- 1. 5.8%
 - 2. 8.7%
 - 3. 6.8%
 - 4. 9.8%

Section : Test of English Language and Comprehension

Q.1 Identify the error in the sentence and select the best correction.

The committee have reviews the proposal thoroughly.

2235

- Ans
- 1. The committee has reviewed the proposal thoroughly.
 - 2. The committee have review the proposal thoroughly.
 - 3. The committee having reviewed the proposal thoroughly.
 - 4. The committee has review the proposal thoroughly.

Q.2 A sentence with a grammatical error is given. Identify the error and then from the given options, select the sentence which is error-free and grammatically correct.
Joseph sailed from the Maldives on Friday and arriving here on Sunday.4225

- Ans
- 1. Joseph sail from the Maldives on Friday and had arrive here on Sunday.
 - 2. Joseph sailed from the Maldives on Friday and arrived here on Sunday.
 - 3. Joseph sailed from the Maldives on Friday and arrive here on Sunday.
 - 4. Joseph sailed from the Maldives on Friday and had been arriving here on Sunday.

Q.3 Choose the most appropriate option that fits grammatically and contextually.

In _____ north-east, huge mountains of clouds could be seen approaching.

2344

- Ans
- 1. a
 - 2. as
 - 3. an
 - 4. the

Q.4 Identify the error in the sentence and select the best correction.

She worked hardly to complete her thesis before the deadline. 2289

- Ans
- 1. She worked harder to complete her thesis before the deadline.
 - 2. No correction required
 - 3. She worked hard to complete her thesis before the deadline.
 - 4. She worked hardest to complete her thesis before the deadline.

Q.5 Parts of a sentence are given below in jumbled order. Arrange the parts in the correct order to form a meaningful sentence.

were conducted (A) / in several phases (B) / to ensure accuracy (C) / the experiments (D)

- Ans
- 1. DABC
 - 2. CABD
 - 3. ABDC
 - 4. DCBA

Q.6 Rectify the given sentence by replacing the underlined word with the most appropriate option.

Close to the mountain, there was just an eminent expanse of grey mud.

- Ans
- 1. immense
 - 2. exclusive
 - 3. inarticulate
 - 4. interesting

Q.7 Fill in the blank with the most appropriate option.

They completed the project _____ despite the tight deadline.

- Ans
- 1. efficiently
 - 2. angrily
 - 3. lazily
 - 4. seldom

Q.8 Complete the sentence with the appropriate option.

She spoke ____ during the debate, persuading many of her well-reasoned points.

2214

- Ans
- 1. convincingly
 - 2. timidly
 - 3. nervously
 - 4. hesitantly

Q.9 Choose the most appropriate option that fits grammatically and contextually.

For ____ hour the hail rained on the house, the garden, the hillside, the cornfield, on the whole valley.

2338

- Ans
- 1. a
 - 2. in
 - 3. an
 - 4. the

Q.10 Complete the sentence with the most appropriate option.

Although the sculpture appeared simple at first glance, its design revealed a _____ complexity upon closer examination.

- Ans
- 1. surprised
 - 2. puzzling
 - 3. confusing
 - 4. surprising

Q.11 Select the correct option to replace the underlined word in the sentence.

The speaker memorized his point with strong evidence to convince the audience.

- Ans
- 1. repeated
 - 2. recited
 - 3. dismissed
 - 4. supported

Q.12 Select the most appropriate option to fill in the blanks.

She gave me ___ useful suggestion and ___ honest reply.

- Ans
- 1. a, an
 - 2. an, a
 - 3. the, a
 - 4. an, no article required

Q.13 Fill in the blank with a Suitable Article from the given alternatives:

The cyclone was formed in ___ east. 1658

- Ans
- 1. the
 - 2. a
 - 3. No article
 - 4. an

Q.14 Complete the following sentence with an appropriate adjective.

Danny is tall, but not _____ than his brother.

- Ans
- 1. more tall
 - 2. taller
 - 3. enough tall
 - 4. tallest

Q.15 A statement divided into different segments is given. Rearrange all the segments to form a coherent statement.

- (O) an ordinary man
- (P) in the life of
- (Q) an ordinary day
- (R) our own civilization is to examine
- (S) the best way of understanding

- Ans
- 1. SRQPO
 - 2. SQPOR
 - 3. ORSQP
 - 4. SQROP

Comprehension:

Read the passage given below and answer the questions that follow.

These days, it's common to see preteens and teens constantly on their phones, texting or browsing social media. While social media has benefits like connecting people across distances, it also poses risks for today's youth. Many can't imagine life without the internet, and by age ten, most kids already have cell phones; nearly 40% have social media accounts by eleven. Teens often crave likes and comments on their posts, comparing themselves to unrealistic standards online. This can lead to body image issues, risky behaviours, and a need for validation. Research shows excessive social media use can cause depression, anxiety, and low self-esteem, while also hindering social and communication skills. Kids spend more time online than interacting in person, missing opportunities to read body language and social cues. It can also affect sleep and academics if technology use goes unchecked. Parents can help by researching popular apps, setting technology-free zones and times, and collecting devices before bed. It's important to remember that social media is often a highlight reel. Parents should check in with their children regularly and create a supportive environment where kids feel safe sharing their true feelings.

SubQuestion No : 16

Q.16 Identify the most suitable title for the passage.

Comprehension:

Read the passage given below and answer the questions that follow.

These days, it's common to see preteens and teens constantly on their phones, texting or browsing social media. While social media has benefits like connecting people across distances, it also poses risks for today's youth. Many can't imagine life without the internet, and by age ten, most kids already have cell phones; nearly 40% have social media accounts by eleven. Teens often crave likes and comments on their posts, comparing themselves to unrealistic standards online. This can lead to body image issues, risky behaviours, and a need for validation. Research shows excessive social media use can cause depression, anxiety, and low self-esteem, while also hindering social and communication skills. Kids spend more time online than interacting in person, missing opportunities to read body language and social cues. It can also affect sleep and academics if technology use goes unchecked. Parents can help by researching popular apps, setting technology-free zones and times, and collecting devices before bed. It's important to remember that social media is often a highlight reel. Parents should check in with their children regularly and create a supportive environment where kids feel safe sharing their true feelings.

SubQuestion No : 17

Q.17 Identify the central theme of the passage.

Comprehension:

Read the passage given below and answer the questions that follow.

These days, it's common to see preteens and teens constantly on their phones, texting or browsing social media. While social media has benefits like connecting people across distances, it also poses risks for today's youth. Many can't imagine life without the internet, and by age ten, most kids already have cell phones; nearly 40% have social media accounts by eleven. Teens often crave likes and comments on their posts, comparing themselves to unrealistic standards online. This can lead to body image issues, risky behaviours, and a need for validation. Research shows excessive social media use can cause depression, anxiety, and low self-esteem, while also hindering social and communication skills. Kids spend more time online than interacting in person, missing opportunities to read body language and social cues. It can also affect sleep and academics if technology use goes unchecked. Parents can help by researching popular apps, setting technology-free zones and times, and collecting devices before bed. It's important to remember that social media is often a highlight reel. Parents should check in with their children regularly and create a supportive environment where kids feel safe sharing their true feelings.

SubQuestion No : 18

Q.18 Identify the inference drawn from the passage.

Comprehension:

Read the passage given below and answer the questions that follow.

These days, it's common to see preteens and teens constantly on their phones, texting or browsing social media. While social media has benefits like connecting people across distances, it also poses risks for today's youth. Many can't imagine life without the internet, and by age ten, most kids already have cell phones; nearly 40% have social media accounts by eleven. Teens often crave likes and comments on their posts, comparing themselves to unrealistic standards online. This can lead to body image issues, risky behaviours, and a need for validation. Research shows excessive social media use can cause depression, anxiety, and low self-esteem, while also hindering social and communication skills. Kids spend more time online than interacting in person, missing opportunities to read body language and social cues. It can also affect sleep and academics if technology use goes unchecked. Parents can help by researching popular apps, setting technology-free zones and times, and collecting devices before bed. It's important to remember that social media is often a highlight reel. Parents should check in with their children regularly and create a supportive environment where kids feel safe sharing their true feelings.

SubQuestion No : 19

Q.19 Identify the tone of the passage.

Comprehension:

Read the passage given below and answer the questions that follow.

These days, it's common to see preteens and teens constantly on their phones, texting or browsing social media. While social media has benefits like connecting people across distances, it also poses risks for today's youth. Many can't imagine life without the internet, and by age ten, most kids already have cell phones; nearly 40% have social media accounts by eleven. Teens often crave likes and comments on their posts, comparing themselves to unrealistic standards online. This can lead to body image issues, risky behaviours, and a need for validation. Research shows excessive social media use can cause depression, anxiety, and low self-esteem, while also hindering social and communication skills. Kids spend more time online than interacting in person, missing opportunities to read body language and social cues. It can also affect sleep and academics if technology use goes unchecked. Parents can help by researching popular apps, setting technology-free zones and times, and collecting devices before bed. It's important to remember that social media is often a highlight reel. Parents should check in with their children regularly and create a supportive environment where kids feel safe sharing their true feelings.

SubQuestion No : 20

Q.20 Identify the antonym of the word 'excessive' (used in the passage).

Section : Test of English Language and Comprehension1

Q.1 Select the option that provides the correct meaning of the given proverb.

Where there's a will, there's a way

- Ans**
- 1. Only if you are strong can you be successful in life
 - 2. Luck is the key to success
 - 3. If you are determined, you can overcome difficulties
 - 4. Money can solve any problem

Q.2 Select the most appropriate antonym of 'enthraling'.

- Ans**
- 1. spirited
 - 2. tedious
 - 3. rejoice
 - 4. calm

Q.3 In extreme old age, some men may exhibit foolish behaviour, often forgetting the wisdom they once possessed and succumbing to whims that surprise their loved ones.

What is the term for 'extreme old age, especially with some loss of mental ability'?

- Ans**
- 1. dotage
 - 2. imbecility
 - 3. superannuation
 - 4. saliency

Q.4 Rectify the sentence by selecting the correct spelling of the underlined word from the options.

Subsequent to the meeting, he wrote a letter to the manager.

- Ans**
- 1. Subseequent
 - 2. Subsequent
 - 3. Subseequant
 - 4. Subseaquent

Q.5 Select the most appropriate meaning of the given proverb.

All roads lead to Rome

- Ans
- 1. Patience is always rewarded.
 - 2. Everything becomes easier with practice.
 - 3. There are different ways to reach one objective.
 - 4. Appearances can be deceptive.

Q.6 Choose the most appropriate meaning of the given proverb.

An empty vessel makes much noise.

- Ans
- 1. Fools and persons with knowledge often don't talk.
 - 2. Fools and persons with shallow knowledge often talk a lot.
 - 3. Fools and persons with shallow knowledge often don't talk.
 - 4. Fools and persons with knowledge often talk a lot.

Q.7 Select the option that rectifies the INCORRECTLY spelt word in the given sentence.

He took great privilege in mentoring his colleague, whose dedication and discipline were evident in every recomendation he wrote.

- Ans
- 1. mantoring
 - 2. priviledge
 - 3. descipline
 - 4. recommendation

Q.8 Which of the following words is the correct substitute of the given word segment?
Intended to impress others

- Ans
- 1. ostentatious
 - 2. restraint
 - 3. unassuming
 - 4. unpretentious

Q.9 Identify the word opposite in meaning to the underlined word in the given sentence.

It ends in a menacing snout.

- Ans
- 1. intimidating
 - 2. baleful
 - 3. minatory
 - 4. safe

Q.10 Choose the most appropriate option to substitute the underlined words in the given sentence.

With remarkable ability to/of anticipate the future and plan actions based on that knowledge, she invested in the technology that would later revolutionize the industry.⁶⁰⁷²

- Ans
- 1. oversight
 - 2. backsight
 - 3. foresight
 - 4. hindsight

Q.11 Select the most appropriate synonym of the given word.
Magnanimous

- Ans**
- 1. Imminent
 - 2. Beneficent
 - 3. Efficient
 - 4. Competent

Q.12 Select the appropriate term (one word) for the given expression.

That which can not be effaced

- Ans**
- 1. Eligible
 - 2. Affable
 - 3. Illegible
 - 4. Indelible

Q.13 Select the most appropriate meaning of the given proverb.
Too many cooks spoil the broth

- Ans**
- 1. Too many people working on the same task can ruin it
 - 2. Cooking is best done by a single person
 - 3. Broth tastes better with multiple ingredients
 - 4. Everyone should learn cooking

Q.14 In the given question, a statement divided into different segments is given. Rearrange all the segments to form a coherent statement.
activities throughout the year(A)/ influences mood, shaping people's emotions,(B)/ energy levels, and daily (C)/ season changes with the weather and significantly (D)

- Ans**
- 1. DBCA
 - 2. DCAB
 - 3. CADB
 - 4. BCDA

Q.15 Select the most appropriate antonym of 'whimsical'.

- Ans**
- 1. eccentric
 - 2. dramatic
 - 3. ideal
 - 4. real

Comprehension:

Read the following passage and answer the questions given below.

Homework plays a vital role in a child's overall development, helping to build essential life skills that support academic and future career success. Regular homework improves discipline, time management, communication, and independent learning — all of which contribute to better grades and long-term achievements.

Repetition through homework deepens understanding and prepares students for practical, vocational tasks. It also builds time management, as students learn to meet deadlines, prioritize tasks, and solve problems on their own. Moreover, homework creates a bridge between teachers, students, and parents, offering insights into a child's learning style and progress.

Completing assignments at home allows children to work in a familiar, stress-free environment, enhancing focus and retention. Homework also encourages the use of learning resources such as libraries and the internet, helping students build research and analytical skills.

Establishing a regular homework routine builds a revision habit, making exam preparation more effective and less stressful. For children who learn at a slower pace, homework offers extra time to grasp difficult concepts. This additional support at home can greatly boost understanding and performance in tests.

Ultimately, homework is not just a task — it's an investment in a child's academic journey and future success.

SubQuestion No : 16

Q.16 Identify the most suitable title for the passage.

Comprehension:

Read the following passage and answer the questions given below.

Homework plays a vital role in a child's overall development, helping to build essential life skills that support academic and future career success. Regular homework improves discipline, time management, communication, and independent learning — all of which contribute to better grades and long-term achievements.

Repetition through homework deepens understanding and prepares students for practical, vocational tasks. It also builds time management, as students learn to meet deadlines, prioritize tasks, and solve problems on their own. Moreover, homework creates a bridge between teachers, students, and parents, offering insights into a child's learning style and progress.

Completing assignments at home allows children to work in a familiar, stress-free environment, enhancing focus and retention.

Homework also encourages the use of learning resources such as libraries and the internet, helping students build research and analytical skills.

Establishing a regular homework routine builds a revision habit, making exam preparation more effective and less stressful. For children who learn at a slower pace, homework offers extra time to grasp difficult concepts. This additional support at home can greatly boost understanding and performance in tests.

Ultimately, homework is not just a task — it's an investment in a child's academic journey and future success.

SubQuestion No : 17

Q.17 Identify the central theme of the passage.

Comprehension:

Read the following passage and answer the questions given below.

Homework plays a vital role in a child's overall development, helping to build essential life skills that support academic and future career success. Regular homework improves discipline, time management, communication, and independent learning — all of which contribute to better grades and long-term achievements.

Repetition through homework deepens understanding and prepares students for practical, vocational tasks. It also builds time management, as students learn to meet deadlines, prioritize tasks, and solve problems on their own. Moreover, homework creates a bridge between teachers, students, and parents, offering insights into a child's learning style and progress.

Completing assignments at home allows children to work in a familiar, stress-free environment, enhancing focus and retention.

Homework also encourages the use of learning resources such as libraries and the internet, helping students build research and analytical skills.

Establishing a regular homework routine builds a revision habit, making exam preparation more effective and less stressful. For children who learn at a slower pace, homework offers extra time to grasp difficult concepts. This additional support at home can greatly boost understanding and performance in tests.

Ultimately, homework is not just a task — it's an investment in a child's academic journey and future success.

SubQuestion No : 18

Q.18 Identify the inference drawn from the passage.

Comprehension:

Read the following passage and answer the questions given below.

Homework plays a vital role in a child's overall development, helping to build essential life skills that support academic and future career success. Regular homework improves discipline, time management, communication, and independent learning — all of which contribute to better grades and long-term achievements.

Repetition through homework deepens understanding and prepares students for practical, vocational tasks. It also builds time management, as students learn to meet deadlines, prioritize tasks, and solve problems on their own. Moreover, homework creates a bridge between teachers, students, and parents, offering insights into a child's learning style and progress.

Completing assignments at home allows children to work in a familiar, stress-free environment, enhancing focus and retention.

Homework also encourages the use of learning resources such as libraries and the internet, helping students build research and analytical skills.

Establishing a regular homework routine builds a revision habit, making exam preparation more effective and less stressful. For children who learn at a slower pace, homework offers extra time to grasp difficult concepts. This additional support at home can greatly boost understanding and performance in tests.

Ultimately, homework is not just a task — it's an investment in a child's academic journey and future success.

SubQuestion No : 19

Q.19 Identify the tone of the passage.

Comprehension:

Read the following passage and answer the questions given below.

Homework plays a vital role in a child's overall development, helping to build essential life skills that support academic and future career success. Regular homework improves discipline, time management, communication, and independent learning — all of which contribute to better grades and long-term achievements.

Repetition through homework deepens understanding and prepares students for practical, vocational tasks. It also builds time management, as students learn to meet deadlines, prioritize tasks, and solve problems on their own. Moreover, homework creates a bridge between teachers, students, and parents, offering insights into a child's learning style and progress.

Completing assignments at home allows children to work in a familiar, stress-free environment, enhancing focus and retention.

Homework also encourages the use of learning resources such as libraries and the internet, helping students build research and analytical skills.

Establishing a regular homework routine builds a revision habit, making exam preparation more effective and less stressful. For children who learn at a slower pace, homework offers extra time to grasp difficult concepts. This additional support at home can greatly boost understanding and performance in tests.

Ultimately, homework is not just a task — it's an investment in a child's academic journey and future success.

SubQuestion No : 20

Q.20 Identify the antonym of the word 'prioritize' (as used in the passage).

Section : Test of Hindi Language and Comprehension

Q.1 नीचे दिए गए वाक्यों में से अतिरिक्त वाक्य का चयन करें-

- Ans**
- 1. अहिंसा परम धर्म है
 - 2. किसी प्राणी को कष्ट न देना ही अहिंसा है।
 - 3. बुद्ध के अनुसार सबसे बड़ा धर्म अहिंसा है।
 - 4. भिक्षु और भिक्षुणी बनाकर भेजा।

Q.2 यह बालकवर्ष का है।

उपर्युक्त वाक्य में रिक्त स्थान की पूर्ति के लिए विशेषण शब्द का चयन करें

- Ans**
- 1. बचपन
 - 2. स्वादिष्ट
 - 3. खट्टा
 - 4. दस

Q.3 दिए गए वाक्य को उचित क्रम में लिखें -

1. यह सार्वभौमिक
2. आत्माभिव्यक्ति के
3. लिये लिखता है
4. सत्य है कि लेखक

- Ans**
- 1. 1,2,3,4
 - 2. 4,3,2,1
 - 3. 3,2,1,4
 - 4. 1,4,2,3

Q.4 सोहन सब्जी खरीदी।

उपर्युक्त वाक्य में रिक्त स्थान की पूर्ति के लिए उचित कारक शब्द का चयन करें -

- Ans**
- 1. ने
 - 2. में
 - 3. पर
 - 4. की

Q.5 वाक्यांश "वह कन्या जिसके विवाह का वचन दिया जा चुका हो" के लिए सार्थक शब्द है -

- Ans
- 1. विवाहिता
 - 2. वाग्दत्ता
 - 3. अनूढ़ा
 - 4. नवागत

Q.6 निम्नलिखित में से शुद्ध वाक्य का चयन कीजिए।

- Ans
- 1. पानी में उबालकर पीना चाहिए।
 - 2. सत्य में सर्वोच्च धर्म है।
 - 3. वे लोग आ रहे हैं कल।
 - 4. धन्यवाद देने से मन शांत होता है।

Q.7 निम्नलिखित वाक्य के रिक्त स्थान को उचित कारक चिह्न से पूर्ण करें -
'पुस्तकालय पुस्तक लेकर पढ़ो ।'

- Ans
- 1. से
 - 2. पर
 - 3. ने
 - 4. के

Q.8 'मीरा -----रोटी खाई' वाक्य में रिक्त स्थान में कौन-सी विभक्ति का प्रयोग होगा?

- Ans
- 1. ने
 - 2. के
 - 3. से
 - 4. का

Q.9 दिए गए वाक्यों में से शुद्ध वाक्य का चयन कीजिए।

- Ans
- 1. फूल तोड़ना मना है।
 - 2. फुल तोड़ना मना है।
 - 3. फूल तोड़ना मना है।
 - 4. फूल तोड़ना माना है।

Q.10 दिए गए वाक्यों में से अतिरिक्त वाक्य का चयन कीजिए।

- Ans
- 1. एक और अति सूक्ष्म भावना का आदर्श है, तो दूसरी ओर घोर यथार्थ आत्म-बलिदान का परामर्श ।
 - 2. वैदिक संस्कृत से आधुनिक युग में भारतीय भाषाओं तक क्रमशः कई चरणों में संस्कृत ,पालि-प्राकृत ,अपभ्रंश विकसित हुई।
 - 3. भारत- यूरोपीय भाषा परिवार की इस महत्त्वपूर्ण शाखा का प्राचीनतम रूप वैदिक संस्कृत में सुरक्षित है।
 - 4. भारत-यूरोपीय भाषा परिवार की जो भाषाएँ भारत में बोली जाती हैं वे भारतीय आर्य भाषाएँ कही जाती हैं।

Q.11 नीचे दिए मुहावरे का अर्थ दिए गए विकल्पों में से चुनिए-
उलटी माला फेरना

- Ans
- 1. प्रतीक्षा करना
 - 2. मूर्खता करना
 - 3. यथायोग्य व्यवहार न करना
 - 4. अहित सोचना

Q.12 'अंगार उगलना' -मुहावरे का उचित अर्थ क्या है?

- Ans
- 1. समाप्त होना
 - 2. तुरंत काम करना
 - 3. व्यर्थ बकवास
 - 4. क्रोधित होना

Q.13 निम्नलिखित वाक्यांश के लिए सार्थक शब्द दिए गए विकल्पों में से चुनिए-
जहाँ तक सध सके

- Ans 1. यथासाध्य
 2. साधना
 3. साधन
 4. साध्य

Q.14 दिए गए वाक्य को उचित क्रम में लिखें -

1. देवता बसते हैं
2. होती है वहाँ
3. जहाँ नारियों
4. की पूजा

- Ans 1. 4,3,2,1
 2. 1,2,3,4
 3. 3,4,2,1
 4. 1,3,2,4

Q.15 उचित विशेषण का प्रयोग कर वाक्य पूर्ण करें-
बगीचे में फूल खिले है।

- Ans 1. मुग्धा
 2. सुगंधित
 3. भूला
 4. तरुण

Comprehension:

दिए गए गद्यांश को ध्यानपूर्वक पढ़कर पूछे गए प्रश्नों के सर्वाधिक उपयुक्त उत्तर वाले विकल्प को चुनिए -

आधुनिक दृष्टि अनिवार्यतः बौद्धिक है। स्वविवेक की कसौटी पर कसे बिना वह मान्यताओं को स्वीकार नहीं करती है। आधुनिकता एक प्रश्नाकूल मानसिकता है जो हर बंधी-बधाई व्यवस्था, मर्यादा या धारण को तोड़ती है। युगबोध एवं सामसायिकता को आधुनिकता से अनिवार्यतः सम्बद्ध किया जाता है क्योंकि आधुनिकता वस्तुतः समसामयिक मूल्यों का प्रतिफलन है। युगबोध भी आधुनिकता का प्रमुख लक्षण है, क्योंकि युग से असहमत होकर कोई भी व्यक्ति आधुनिक होने का दावा नहीं कर सकता। अपने अस्तित्व के प्रति सजग चेतना भी आधुनिकता का एक लक्षण है। मूल्यों, मान्यताओं, आशाओं एवं आकांक्षाओं के प्रति मोहभंग व्यक्ति को संत्रास एवं अलगाव से भर देता है। स्वतंत्रता के उपरांत मूल्यों का विघटन तेजी से हुआ है। आधुनिक भावबोध हमें पुराने मूल्यों का त्याग करने एवं नवीन मूल्यों को ग्रहण करने को विवश करता है। वस्तुतः सभी प्रकार के अतिवाद से बचते हुए जिज्ञासा को जीवित रखना ही आधुनिकता को पहचानने का सही मार्ग है।

SubQuestion No : 16

Q.16 उक्त अवतरण का उचित शीर्षक क्या होगा ?

Comprehension:

दिए गए गद्यांश को ध्यानपूर्वक पढ़कर पूछे गए प्रश्नों के सर्वाधिक उपयुक्त उत्तर वाले विकल्प को चुनिए -

आधुनिक दृष्टि अनिवार्यतः बौद्धिक है। स्वविवेक की कसौटी पर कसे बिना वह मान्यताओं को स्वीकार नहीं करती है। आधुनिकता एक प्रश्नाकूल मानसिकता है जो हर बंधी-बधाई व्यवस्था, मर्यादा या धारण को तोड़ती है। युगबोध एवं सामसायिकता को आधुनिकता से अनिवार्यतः सम्बद्ध किया जाता है क्योंकि आधुनिकता वस्तुतः समसामयिक मूल्यों का प्रतिफलन है। युगबोध भी आधुनिकता का प्रमुख लक्षण है, क्योंकि युग से असहमत होकर कोई भी व्यक्ति आधुनिक होने का दावा नहीं कर सकता। अपने अस्तित्व के प्रति सजग चेतना भी आधुनिकता का एक लक्षण है। मूल्यों, मान्यताओं, आशाओं एवं आकांक्षाओं के प्रति मोहभंग व्यक्ति को संत्रास एवं अलगाव से भर देता है। स्वतंत्रता के उपरांत मूल्यों का विघटन तेजी से हुआ है। आधुनिक भावबोध हमें पुराने मूल्यों का त्याग करने एवं नवीन मूल्यों को ग्रहण करने को विवश करता है। वस्तुतः सभी प्रकार के अतिवाद से बचते हुए जिज्ञासा को जीवित रखना ही आधुनिकता को पहचानने का सही मार्ग है।

SubQuestion No : 17

Q.17 उक्त अवतरण में किस शैली का प्रयोग हुआ है?

Comprehension:

दिए गए गद्यांश को ध्यानपूर्वक पढ़कर पूछे गए प्रश्नों के सर्वाधिक उपयुक्त उत्तर वाले विकल्प को चुनिए -

आधुनिक दृष्टि अनिवार्यतः बौद्धिक है। स्वविवेक की कसौटी पर कसे बिना वह मान्यताओं को स्वीकार नहीं करती है। आधुनिकता एक प्रश्नाकूल मानसिकता है जो हर बंधी-बधाई व्यवस्था, मर्यादा या धारण को तोड़ती है। युगबोध एवं सामसायिकता को आधुनिकता से अनिवार्यतः सम्बद्ध किया जाता है क्योंकि आधुनिकता वस्तुतः समसामयिक मूल्यों का प्रतिफलन है। युगबोध भी आधुनिकता का प्रमुख लक्षण है, क्योंकि युग से असहमत होकर कोई भी व्यक्ति आधुनिक होने का दावा नहीं कर सकता। अपने अस्तित्व के प्रति सजग चेतना भी आधुनिकता का एक लक्षण है। मूल्यों, मान्यताओं, आशाओं एवं आकांक्षाओं के प्रति मोहभंग व्यक्ति को संत्रास एवं अलगाव से भर देता है। स्वतंत्रता के उपरांत मूल्यों का विघटन तेजी से हुआ है। आधुनिक भावबोध हमें पुराने मूल्यों का त्याग करने एवं नवीन मूल्यों को ग्रहण करने को विवश करता है। वस्तुतः सभी प्रकार के अतिवाद से बचते हुए जिज्ञासा को जीवित रखना ही आधुनिकता को पहचानने का सही मार्ग है।

SubQuestion No : 18

Q.18 आधुनिकता के लिए क्या आवश्यक है ?

Comprehension:

दिए गए गद्यांश को ध्यानपूर्वक पढ़कर पूछे गए प्रश्नों के सर्वाधिक उपयुक्त उत्तर वाले विकल्प को चुनिए -

आधुनिक दृष्टि अनिवार्यतः बौद्धिक है। स्वविवेक की कसौटी पर कसे बिना वह मान्यताओं को स्वीकार नहीं करती है। आधुनिकता एक प्रश्नाकूल मानसिकता है जो हर बंधी-बधाई व्यवस्था, मर्यादा या धारण को तोड़ती है। युगबोध एवं सामसायिकता को आधुनिकता से अनिवार्यतः सम्बद्ध किया जाता है क्योंकि आधुनिकता वस्तुतः समसामयिक मूल्यों का प्रतिफलन है। युगबोध भी आधुनिकता का प्रमुख लक्षण है, क्योंकि युग से असहमत होकर कोई भी व्यक्ति आधुनिक होने का दावा नहीं कर सकता। अपने अस्तित्व के प्रति सजग चेतना भी आधुनिकता का एक लक्षण है। मूल्यों, मान्यताओं, आशाओं एवं आकांक्षाओं के प्रति मोहभंग व्यक्ति को संत्रास एवं अलगाव से भर देता है। स्वतंत्रता के उपरांत मूल्यों का विघटन तेजी से हुआ है। आधुनिक भावबोध हमें पुराने मूल्यों का त्याग करने एवं नवीन मूल्यों को ग्रहण करने को विवश करता है। वस्तुतः सभी प्रकार के अतिवाद से बचते हुए जिज्ञासा को जीवित रखना ही आधुनिकता को पहचानने का सही मार्ग है।

SubQuestion No : 19

Q.19 निम्नलिखित में से आधुनिकता का एक लक्षण कौन-सा है ?

Comprehension:

दिए गए गद्यांश को ध्यानपूर्वक पढ़कर पूछे गए प्रश्नों के सर्वाधिक उपयुक्त उत्तर वाले विकल्प को चुनिए -

आधुनिक दृष्टि अनिवार्यतः बौद्धिक है। स्वविवेक की कसौटी पर कसे बिना वह मान्यताओं को स्वीकार नहीं करती है। आधुनिकता एक प्रश्नाकूल मानसिकता है जो हर बंधी-बधाई व्यवस्था, मर्यादा या धारण को तोड़ती है। युगबोध एवं सामसायिकता को आधुनिकता से अनिवार्यतः सम्बद्ध किया जाता है क्योंकि आधुनिकता वस्तुतः समसामयिक मूल्यों का प्रतिफलन है। युगबोध भी आधुनिकता का प्रमुख लक्षण है, क्योंकि युग से असहमत होकर कोई भी व्यक्ति आधुनिक होने का दावा नहीं कर सकता। अपने अस्तित्व के प्रति सजग चेतना भी आधुनिकता का एक लक्षण है। मूल्यों, मान्यताओं, आशाओं एवं आकांक्षाओं के प्रति मोहभंग व्यक्ति को संत्रास एवं अलगाव से भर देता है। स्वतंत्रता के उपरांत मूल्यों का विघटन तेजी से हुआ है। आधुनिक भावबोध हमें पुराने मूल्यों का त्याग करने एवं नवीन मूल्यों को ग्रहण करने को विवश करता है। वस्तुतः सभी प्रकार के अतिवाद से बचते हुए जिज्ञासा को जीवित रखना ही आधुनिकता को पहचानने का सही मार्ग है।

SubQuestion No : 20

Q.20 आधुनिक भावबोध हमें किसके लिए विवश करता है ?

Section : Test of Hindi Language and Comprehension1

Q.1 'केकड़ा' का तत्सम शब्द होगा-

- Ans**
- 1. कर्कट
 - 2. कवल
 - 3. कार्तिक
 - 4. कुँवर

Q.2 निम्न में से कौन-सा मुहावरा अपने अर्थ से असुमेलित है?

- Ans**
- 1. दिमाग आसमान पर चढ़ना - बहुत अमीर होना
 - 2. दाँत पीसकर रह जाना - क्रोध रोक लेना
 - 3. दाँत खट्टे करना - हरा देना
 - 4. दाँतों तले उँगली दबाना - आश्चर्यचकित होना

Q.3 'जैसे नागनाथ वैसे साँपनाथ' लोकोक्ति का अर्थ है-

- Ans**
- 1. दोनों एक से।
 - 2. धीरज से काम करो।
 - 3. ठीक मेल है।
 - 4. जैसा दोगे वैसा पाओगे।

Q.4 'अभिज्ञता' का विलोम शब्द होगा -

- Ans**
- 1. अमावस्या
 - 2. अनभिप्रेत
 - 3. अभ्यस्त
 - 4. अनभिज्ञता

Q.5 निम्नलिखित वाक्य में त्रुटि पहचान कर उसके शुद्ध रूप का चयन कीजिए।

अज्ञान या भ्रम के कारण कुछ लोग शब्दों के उच्चारण या अर्थ ग्रहण में गलती करते हैं।

- Ans
- 1. अज्ञान या भ्रम के कारण कुछ लोग शब्दों के उच्चारण या अर्थ ग्रहण में गलती करते हैं।
 - 2. अज्ञान या भ्रम के कारण कुछ लोग शब्दों के उच्चारण या अर्थ ग्रहण में गलती करते हैं।
 - 3. अज्ञान या भ्रम के कारण कुछ लोग शब्दों के उच्चारण या अर्थ ग्रहण में गलती करते हैं।
 - 4. अज्ञान या भ्रम के कारण कुछ लोग शब्दों के उच्चारण या अर्थ ग्रहण में गलती करते हैं।

Q.6 धृष्ट के विलोमार्थी शब्द की पहचान कीजिए।¹⁹³⁰

- Ans
- 1. सुलभ
 - 2. सुकार
 - 3. विनीत
 - 4. आगत

Q.7 दिए गए वाक्यों में से वर्तनी की दृष्टि से शुद्ध वाक्य का चयन कीजिए।

- Ans
- 1. आगल चुनाव कब है?
 - 2. अगला चुनाव कब है?
 - 3. अगला चुनाव कब है?
 - 4. अगला चुनाव कब है?

Q.8 निम्नलिखित में से अनेकार्थी शब्द 'अरुण' का अर्थ चुनिए।

- Ans
- 1. पेड़
 - 2. उपवन
 - 3. अलमारी
 - 4. लाल

Q.9 निम्न में से तत्सम शब्द पहचानें--

- Ans
- 1. अँधेरा
 - 2. एकल
 - 3. अटारी
 - 4. अचरज

Q.10 निम्नलिखित वाक्य में अशुद्ध वर्तनी वाले शब्द की पहचान कीजिए।
अनुशंधान शब्द का अर्थ नई वस्तु या प्रक्रिया का निर्माण या खोज करना है।

- Ans
- 1. अनुशंधान
 - 2. प्रक्रिया
 - 3. वस्तु
 - 4. निर्माण

Q.11 निम्न में से अनेकार्थी शब्द 'वृत्त' का अर्थ कौन-सा नहीं है ?

- Ans
- 1. गूंगा
 - 2. वृत्तान्त
 - 3. गोल घेरा
 - 4. चरित्र

Q.12 निम्नलिखित विकल्पों में से 'अनुलोम' का विलोम शब्द कौन-सा है ?

- Ans
- 1. प्रतिकूल
 - 2. प्रतिलोम
 - 3. अधूरा
 - 4. अनुराग

Q.13 निम्नलिखित विकल्पों में से किस वाक्य में वर्तनी से सम्बन्धित त्रुटि नहीं है?

- Ans
- 1. इस क्षेत्र में अकाल पड़ गया।
 - 2. इस क्षेत्र में अकाल पड़ गया।
 - 3. इस क्षेत्र में आकाल पड़ गया।
 - 4. इस क्षेत्र में अकाल पड़ गया।

Q.14 "नौ दिन चले अढ़ाई कोस" लोकोक्ति का अर्थ क्या है ?

- Ans
- 1. आराम करना
 - 2. नौ कोस जाना
 - 3. धीमी गति से चलना
 - 4. दौड़ना

Q.15 'स्फूर्ति' शब्द का विलोम निम्न में से कौन-सा है ?

- Ans
- 1. उत्साह
 - 2. शिथिलता
 - 3. वेग
 - 4. चपलता

Comprehension:

निम्नलिखित गद्यांश को ध्यानपूर्वक पढ़कर पूछे गये प्रश्नों के सही उत्तर दीजिए।

आधुनिक काल में उपभोक्तावाद का बढ़ता प्रभाव मानव जीवन को पूर्णतः आक्रांत कर रहा है। विज्ञापनों की चमक-दमक और सामाजिक संचार माध्यमों के प्रलोभनों ने वास्तविक आवश्यकता को भ्रांत इच्छा में बदल दिया है। व्यक्ति निरंतर नई वस्तुओं की अधिपति में दौड़ लगाता है, फलस्वरूप ऋण का बोझ, पारिवारिक कलह तथा मानसिक विक्रोभ बढ़ रहे हैं। पर्यावरण पर यह प्रहार विध्वंसकारी है, कचरा संकट, वनों का विनाश, जल संकट तथा ऋतु परिवर्तन इसके स्पष्ट प्रमाण हैं। सामाजिक रूप से यह असमानता को गहरा करता है, जहाँ धनवान वर्ग भोग-विलास में लीन है वहीं निर्धन उपेक्षित। उपभोक्तावाद नैतिक मूल्यों को नष्ट करता है स्वार्थ, ईर्ष्या तथा हिंसा को बढ़ावा देकर करुणा और संयम को समाप्त कर देता है। हमारी प्राचीन संयमपूर्ण संस्कृति इस भोगवादी प्रवृत्ति से संकटग्रस्त है। समाधान के उपाय हैं विवेकपूर्ण उपभोग, पुनरुत्पादन की प्रथा, सरकारी नियंत्रण तथा शिक्षा द्वारा जागृति। संयमयुक्त जीवन ही सतत विकास का आधार बनेगा।

SubQuestion No : 16

Q.16 उपभोक्तावाद नैतिक मूल्यों को किस प्रकार नष्ट करता?

Comprehension:

निम्नलिखित गद्यांश को ध्यानपूर्वक पढ़कर पूछे गये प्रश्नों के सही उत्तर दीजिए।

आधुनिक काल में उपभोक्तावाद का बढ़ता प्रभाव मानव जीवन को पूर्णतः आक्रांत कर रहा है। विज्ञापनों की चमक-दमक और सामाजिक संचार माध्यमों के प्रलोभनों ने वास्तविक आवश्यकता को भ्रांत इच्छा में बदल दिया है। व्यक्ति निरंतर नई वस्तुओं की अधिपति में दौड़ लगाता है, फलस्वरूप ऋण का बोझ, पारिवारिक कलह तथा मानसिक विक्रोभ बढ़ रहे हैं। पर्यावरण पर यह प्रहार विध्वंसकारी है, कचरा संकट, वनों का विनाश, जल संकट तथा ऋतु परिवर्तन इसके स्पष्ट प्रमाण हैं। सामाजिक रूप से यह असमानता को गहरा करता है, जहाँ धनवान वर्ग भोग-विलास में लीन है वहीं निर्धन उपेक्षित। उपभोक्तावाद नैतिक मूल्यों को नष्ट करता है स्वार्थ, ईर्ष्या तथा हिंसा को बढ़ावा देकर करुणा और संयम को समाप्त कर देता है। हमारी प्राचीन संयमपूर्ण संस्कृति इस भोगवादी प्रवृत्ति से संकटग्रस्त है। समाधान के उपाय हैं विवेकपूर्ण उपभोग, पुनरुत्पादन की प्रथा, सरकारी नियंत्रण तथा शिक्षा द्वारा जागृति। संयमयुक्त जीवन ही सतत विकास का आधार बनेगा।

SubQuestion No : 17

Q.17 हमारी प्राचीन संयमपूर्ण संस्कृति किससे संकटग्रस्त है?

Comprehension:

निम्नलिखित गद्यांश को ध्यानपूर्वक पढ़कर पूछे गये प्रश्नों के सही उत्तर दीजिए।

आधुनिक काल में उपभोक्तावाद का बढ़ता प्रभाव मानव जीवन को पूर्णतः आक्रांत कर रहा है। विज्ञापनों की चमक-दमक और सामाजिक संचार माध्यमों के प्रलोभनों ने वास्तविक आवश्यकता को भ्रांत इच्छा में बदल दिया है। व्यक्ति निरंतर नई वस्तुओं की अधिपति में दौड़ लगाता है, फलस्वरूप ऋण का बोझ, पारिवारिक कलह तथा मानसिक विक्रोभ बढ़ रहे हैं। पर्यावरण पर यह प्रहार विध्वंसकारी है, कचरा संकट, वनों का विनाश, जल संकट तथा ऋतु परिवर्तन इसके स्पष्ट प्रमाण हैं। सामाजिक रूप से यह असमानता को गहरा करता है, जहाँ धनवान वर्ग भोग-विलास में लीन है वहीं निर्धन उपेक्षित। उपभोक्तावाद नैतिक मूल्यों को नष्ट करता है स्वार्थ, ईर्ष्या तथा हिंसा को बढ़ावा देकर करुणा और संयम को समाप्त कर देता है। हमारी प्राचीन संयमपूर्ण संस्कृति इस भोगवादी प्रवृत्ति से संकटग्रस्त है। समाधान के उपाय हैं विवेकपूर्ण उपभोग, पुनरुत्पादन की प्रथा, सरकारी नियंत्रण तथा शिक्षा द्वारा जागृति। संयमयुक्त जीवन ही सतत विकास का आधार बनेगा।

SubQuestion No : 18

Q.18 गद्यांश के अनुसार सतत विकास का आधार किसे माना गया है?

Comprehension:

निम्नलिखित गद्यांश को ध्यानपूर्वक पढ़कर पूछे गये प्रश्नों के सही उत्तर दीजिए।

आधुनिक काल में उपभोक्तावाद का बढ़ता प्रभाव मानव जीवन को पूर्णतः आक्रांत कर रहा है। विज्ञापनों की चमक-दमक और सामाजिक संचार माध्यमों के प्रलोभनों ने वास्तविक आवश्यकता को भ्रांत इच्छा में बदल दिया है। व्यक्ति निरंतर नई वस्तुओं की अधिपति में दौड़ लगाता है, फलस्वरूप ऋण का बोझ, पारिवारिक कलह तथा मानसिक विकोप बढ़ रहे हैं। पर्यावरण पर यह प्रहार विध्वंसकारी है, कचरा संकट, वनों का विनाश, जल संकट तथा ऋतु परिवर्तन इसके स्पष्ट प्रमाण हैं। सामाजिक रूप से यह असमानता को गहरा करता है, जहाँ धनवान वर्ग भोग-विलास में लीन है वहीं निर्धन उपेक्षित। उपभोक्तावाद नैतिक मूल्यों को नष्ट करता है स्वार्थ, ईर्ष्या तथा हिंसा को बढ़ावा देकर करुणा और संयम को समाप्त कर देता है। हमारी प्राचीन संयमपूर्ण संस्कृति इस भोगवादी प्रवृत्ति से संकटग्रस्त है। समाधान के उपाय हैं विवेकपूर्ण उपभोग, पुनरुत्पादन की प्रथा, सरकारी नियंत्रण तथा शिक्षा द्वारा जागृति। संयमयुक्त जीवन ही सतत विकास का आधार बनेगा।

SubQuestion No : 19

Q.19 गद्यांश में सामाजिक संचार माध्यमों को क्या कहा गया है?

Comprehension:

निम्नलिखित गद्यांश को ध्यानपूर्वक पढ़कर पूछे गये प्रश्नों के सही उत्तर दीजिए।

आधुनिक काल में उपभोक्तावाद का बढ़ता प्रभाव मानव जीवन को पूर्णतः आक्रांत कर रहा है। विज्ञापनों की चमक-दमक और सामाजिक संचार माध्यमों के प्रलोभनों ने वास्तविक आवश्यकता को भ्रांत इच्छा में बदल दिया है। व्यक्ति निरंतर नई वस्तुओं की अधिपति में दौड़ लगाता है, फलस्वरूप ऋण का बोझ, पारिवारिक कलह तथा मानसिक विकोप बढ़ रहे हैं। पर्यावरण पर यह प्रहार विध्वंसकारी है, कचरा संकट, वनों का विनाश, जल संकट तथा ऋतु परिवर्तन इसके स्पष्ट प्रमाण हैं। सामाजिक रूप से यह असमानता को गहरा करता है, जहाँ धनवान वर्ग भोग-विलास में लीन है वहीं निर्धन उपेक्षित। उपभोक्तावाद नैतिक मूल्यों को नष्ट करता है स्वार्थ, ईर्ष्या तथा हिंसा को बढ़ावा देकर करुणा और संयम को समाप्त कर देता है। हमारी प्राचीन संयमपूर्ण संस्कृति इस भोगवादी प्रवृत्ति से संकटग्रस्त है। समाधान के उपाय हैं विवेकपूर्ण उपभोग, पुनरुत्पादन की प्रथा, सरकारी नियंत्रण तथा शिक्षा द्वारा जागृति। संयमयुक्त जीवन ही सतत विकास का आधार बनेगा।

SubQuestion No : 20

Q.20 विज्ञापनों की चमक-दमक ने वास्तविक आवश्यकता को किसमें बदल दिया है?