



GOVT. OF NCT OF DELHI
Delhi Subordinate Services Selection Board
FC-18, Institutional Area, Karkardooma, Delhi – 110092.
www.dsssb.delhigovt.nic.in

Participant Name	JITENDRA KUMAR
Test Center Name	Aadarsh Pariksha Kendra CENTER C - Gate No 2 - Noida Sector 64
Test Date	26/02/2026
Test Time	5:00 PM - 7:00 PM
Subject	Multi Tasking Staff

Section : General intelligence and Reasoning Ability

Q.1 किसी निश्चित कूट भाषा में, 'music bring peace' को 'rp fg sd' के रूप में कूटबद्ध किया जाता है और 'he loves music' को 'fg ty vb' के रूप में कूटबद्ध किया जाता है। दी गई भाषा में 'music' को कैसे कूटबद्ध किया जाएगा? (सभी कूट केवल दो अक्षरों के होने चाहिए)।

- Ans
- 1. rp
 - 2. fg
 - 3. sd
 - 4. vb

Q.2 निम्नलिखित श्रृंखला का संदर्भ लें और प्रश्न का उत्तर दें (सभी संख्याएँ केवल एकल अंकीय संख्याएँ हैं)। गिनती बाएँ से दाएँ की जानी है।

(बाएँ) 1 6 2 8 5 8 8 3 3 9 3 9 7 4 1 3 8 9 8 6 9 7 2 (दाएँ)

ऐसे कितने विषम अंक हैं, जिनमें से प्रत्येक के ठीक पहले एक सम अंक है और ठीक बाद में एक विषम अंक भी है?

- Ans
- 1. दो
 - 2. चार
 - 3. एक
 - 4. तीन

Q.3 इस प्रश्न में, एक कथन के बाद दो निष्कर्ष दिए गए हैं, जिन्हें I और II के रूप में क्रमांकित किया गया है। दिए गए कथनों के आधार पर ज्ञात करें कि कौन-सा निष्कर्ष सत्य है।

$$Q \geq M \leq S = L \leq G$$

$$(I) Q = L$$

$$(II) M \geq G$$

- Ans
- 1. केवल II सत्य है।
 - 2. न तो I और न ही II सत्य है।
 - 3. केवल I सत्य है।
 - 4. I और II दोनों सत्य हैं।

Q.4 सात व्यक्ति H, I, J, K, O, P और Q एक गोल मेज के परितः उसके केंद्र की ओर अभिमुख होकर बैठे हैं। J, Q के ठीक दाईं ओर पड़ोस में बैठा है। J के बाईं ओर से गिनने पर, J और O के बीच केवल तीन व्यक्ति बैठे हैं। Q के बाईं ओर से गिनने पर, Q और K के बीच केवल तीन व्यक्ति बैठे हैं। P, H के ठीक दाईं ओर पड़ोस में बैठा है। H के बाईं ओर से गिनने पर, I और H के बीच कितने व्यक्ति बैठे हैं?

- Ans
- 1. दो
 - 2. तीन
 - 3. एक
 - 4. चार

Q.5 शब्द COLLECT में प्रत्येक स्वर को अंग्रेजी वर्णमाला के क्रम में उसके बाद वाले अक्षर से और प्रत्येक व्यंजन को अंग्रेजी वर्णमाला के क्रम में उसके पहले वाले अक्षर से बदल दिया जाता है। तो इस प्रकार बने अक्षरों के नए समूह में बाईं ओर से पाँचवाँ अक्षर निम्नलिखित में से कौन-सा होगा?

- Ans
- 1. K
 - 2. E
 - 3. F
 - 4. S

Q.6 छह बक्से B, C, D, E, O और P एक के ऊपर एक रखे हैं, लेकिन जरूरी नहीं कि इसी क्रम में रखे हों। E, P के ठीक ऊपर रखा है। O, C के ठीक नीचे रखा है। D के ऊपर केवल B रखा है। E के ऊपर केवल दो बक्से रखे हैं। C और B के बीच कितने बक्से रखे हैं?

- Ans
- 1. तीन
 - 2. चार
 - 3. दो
 - 4. एक

Q.7 दिए गए कथनों और निष्कर्षों को ध्यानपूर्वक पढ़ें। यह मानते हुए कि कथनों में दी गई जानकारी सत्य है, भले ही वह सामान्य रूप से ज्ञात तथ्यों से भिन्न प्रतीत हो, यह तय करें कि दिए गए निष्कर्षों में से कौन-से निष्कर्ष कथनों का तार्किक रूप से अनुसरण करते हैं?

कथन: सभी त्रिभुज, पत्थर हैं। कोई भी त्रिभुज, रोबोट नहीं है।

निष्कर्ष (I): कुछ पत्थर, रोबोट नहीं हैं।

निष्कर्ष (II): कुछ रोबोट, पत्थर हैं।

- Ans
- 1. निष्कर्ष (I) और (II) दोनों अनुसरण करते हैं।
 - 2. न तो निष्कर्ष (I) और न ही (II) अनुसरण करता है।
 - 3. केवल निष्कर्ष (I) अनुसरण करता है।
 - 4. केवल निष्कर्ष (II) अनुसरण करता है।

Q.8 इस प्रश्न में, एक कथन के बाद I और II से क्रमांकित दो निष्कर्ष दिए गए हैं। दिए गए कथन के आधार पर यह ज्ञात कीजिए कि कौन-सा/से निष्कर्ष सत्य है/हैं।

कथन: $W < X > Y = Z > D$

निष्कर्ष:

I. $D < X$

II. $W \leq Z$

- Ans
- 1. केवल II सत्य है
 - 2. केवल I सत्य है
 - 3. I और II दोनों सत्य हैं
 - 4. न तो I और न ही II सत्य है

Q.9 निम्नलिखित संख्या श्रृंखला के आधार पर प्रश्न का उत्तर दीजिए। (सभी संख्याएँ केवल एक अंक की हैं। गणना केवल बाएँ से दाएँ की जानी है।)

(बाएँ) 7 1 6 7 9 6 3 7 9 8 7 4 4 4 8 9 3 6 9 8 8 6 1 1 8 7 3 (दाएँ)

ऐसी कितनी सम संख्याएँ हैं, जिनमें से प्रत्येक के ठीक पहले एक विषम संख्या आती है और ठीक बाद में एक विषम संख्या आती है?

- Ans
- 1. 4
 - 2. 5
 - 3. 7
 - 4. 6

Q.10 निम्नलिखित अक्षर श्रृंखला का संदर्भ लीजिए और दिए गए प्रश्न का उत्तर दीजिए। (गिनती केवल बाएँ से दाएँ की जानी चाहिए।)

(बाएँ) M Q T E S F H G U B R D C X K Y Z W A I O (दाएँ)

ऐसे कितने स्वर हैं जिनमें से प्रत्येक के ठीक पहले एक व्यंजन है और ठीक बाद में भी एक व्यंजन है?

- Ans
- 1. 2
 - 2. 4
 - 3. 7
 - 4. 6

Q.11 किसी निश्चित कूट भाषा में, 'OLIV' को '2187' के रूप में कूटबद्ध किया जाता है और 'LIVE' को '6178' के रूप में कूटबद्ध किया जाता है। दी गई कूट भाषा में 'E' का कूट क्या होगा?

- Ans
- 1. 7
 - 2. 8
 - 3. 1
 - 4. 6

Q.12 शब्द OCTUPLICATED के प्रत्येक स्वर को अंग्रेजी वर्णमाला क्रम में उसके ठीक पहले आने वाले अक्षर से बदल दिया जाता है तथा प्रत्येक व्यंजन को अंग्रेजी वर्णमाला क्रम में उसके ठीक बाद आने वाले अक्षर से बदल दिया जाता है। इस प्रकार बने अक्षरों के समूह में निम्नलिखित में से कौन-सा अक्षर दो से अधिक बार आएगा?

- Ans
- 1. U
 - 2. Z
 - 3. Q
 - 4. D

Q.13 ग्यारह मित्र, H, Q, F, W, J, V, Z, N, X, M और D, एक कॉन्सर्ट हॉल की पहली पंक्ति में बैठकर एक नाटक देख रहे हैं। N, W के ठीक बाईं ओर पड़ोस में बैठा है। N, X के दाईं ओर तीसरे स्थान पर बैठा है। H और Q का निकटतम पड़ोसी M है। M, Z के बाईं ओर तीसरे स्थान पर बैठा है। H, J के दाईं ओर दूसरे स्थान पर बैठा है। J किसी एक छोर पर बैठा है। V, W के ठीक दाईं ओर पड़ोस में बैठा है। W, F के दाईं ओर दूसरे स्थान पर बैठा है। दाएँ छोर से छठे स्थान पर कौन बैठा है?

- Ans
- 1. Q
 - 2. X
 - 3. Z
 - 4. M

Q.14 D, R की माता है। R, G की बहन है। O, N का पिता है। N, G का पति है। N का D से क्या संबंध है?

- Ans
- 1. पुत्री का पति
 - 2. पुत्री का पुत्र
 - 3. भाई
 - 4. पिता

Q.15 A, B, C, Q, R, S और T में से प्रत्येक का मैच सोमवार से शुरू होकर रविवार को सप्ताह होने वाले एक ही सप्ताह के अलग-अलग दिन है। Q का मैच सप्ताह के दूसरे दिन है। Q और A के बीच केवल दो व्यक्तियों का मैच है। S और Q के बीच केवल चार व्यक्तियों का मैच है। T का मैच, B के मैच के ठीक बाद वाले दिन है। C का मैच सोमवार को नहीं है। C और R के बीच कितने व्यक्तियों का मैच है?

- Ans
- 1. एक
 - 2. चार
 - 3. तीन
 - 4. दो

Q.16 L, M, N, R, S, T और U में से प्रत्येक की परीक्षा सोमवार से शुरू होकर रविवार को समाप्त होने वाले एक ही सप्ताह के अलग-अलग दिन है। M और U के बीच केवल तीन व्यक्तियों की परीक्षा है। T और R के बीच केवल तीन व्यक्तियों की परीक्षा है। L की परीक्षा, U की परीक्षा से पहले किसी एक दिन और N की परीक्षा के बाद किसी एक दिन है। केवल S की परीक्षा, R की परीक्षा से पहले है। M के बाद कितने व्यक्तियों की परीक्षा है?

- Ans
- 1. पाँच
 - 2. तीन
 - 3. चार
 - 4. दो

Q.17 C, D, E, F, L, M और N में से प्रत्येक की परीक्षा सोमवार से शुरू होकर और रविवार को समाप्त होने वाले एक ही सप्ताह के अलग-अलग दिन है। C की परीक्षा शुक्रवार को है। L और C के बीच केवल दो लोगों की परीक्षा है। D और L के बीच केवल चार लोगों की परीक्षा है। M की परीक्षा E के ठीक बाद है। N की परीक्षा सोमवार को नहीं है। N और F के बीच कितने लोगों की परीक्षा है?

- Ans
- 1. दो
 - 2. एक
 - 3. चार
 - 4. तीन

Q.18 एक निश्चित कूट भाषा में, 'TEAL' को '5723' के रूप में कूटबद्ध किया जाता है और 'SAND' को '7098' के रूप में कूटबद्ध किया जाता है। उसी भाषा में 'A' के लिए कूट क्या है?

- Ans
- 1. 5
 - 2. 7
 - 3. 8
 - 4. 9

Q.19 निम्नलिखित अक्षर और प्रतीक शृंखला के आधार पर प्रश्न का उत्तर दीजिए। गणना केवल बाएँ से दाएँ की जानी है।

(बाएँ) # FFXLF * ^ H ^ Z & F + KC \ \$ O A # (दाएँ)

ऐसे कितने प्रतीक हैं, जिनमें से प्रत्येक के ठीक पहले एक प्रतीक और ठीक बाद में एक अक्षर आता है?

- Ans
- 1. दो
 - 2. एक
 - 3. चार
 - 4. तीन

Q.20 किसी निश्चित कूट भाषा में,
'A # B' का अर्थ है कि 'A, B की पुत्री है',
'A \$ B' का अर्थ है कि 'A, B की माता है',
'A & B' का अर्थ है कि 'A, B की पत्नी है', और
'A % B' का अर्थ है कि 'A, B का पिता है'।

यदि 'F \$ T # O % Q & Z' है, तो उपरोक्त जानकारी के आधार पर F का Z से क्या संबंध है?

- Ans
- 1. पत्नी
 - 2. माता
 - 3. पत्नी की माता
 - 4. पत्नी की बहन

Q.1 उस समुच्चय का चयन करें जिसमें संख्याएँ उसी प्रकार से संबंधित हैं जैसे निम्नलिखित समुच्चयों की संख्याएँ संबंधित हैं।
(नोट: संख्याओं को उनके घटक अंकों में तोड़े बिना, पूर्ण संख्याओं पर संक्रियाएँ की जानी चाहिए। उदाहरण के लिए 13 लीजिए, 13 पर संक्रियाएँ, जैसे कि 13 में जोड़ना/घटाना/गुणा करना आदि, की जा सकती है। 13 को 1 और 3 में तोड़ना तथा फिर 1 और 3 पर गणितीय संक्रियाएँ करने की अनुमति नहीं है।)

(118, 51, 67)
(106, 47, 59)

- Ans 1. (102, 63, 29)
 2. (95, 48, 47)
 3. (133, 57, 74)
 4. (113, 42, 61)

Q.2 अंग्रेजी वर्णानुक्रम पर आधारित निम्नलिखित चार अक्षर-समूह युग्मों में से तीन अक्षर-समूह युग्म किसी निश्चित तरीके से समान हैं और इसलिए एक ग्रुप बनाते हैं। निम्नलिखित में से कौन-सा अक्षर-समूह युग्म, उस ग्रुप से संबंधित नहीं है?
(नोट: असंगत अक्षर-समूह युग्म, अक्षर-समूह में व्यंजनों/स्वरों की संख्या या उनकी स्थिति पर आधारित नहीं है।)

- Ans 1. CW - ZB
 2. DF - BK
 3. WG - TL
 4. IM - FR

Q.3 निम्नलिखित संख्या-युग्मों में, पहली संख्या पर निश्चित गणितीय संक्रियाएं करके दूसरी संख्या प्राप्त की जाती है। उस समुच्चय का चयन कीजिए जिसमें संख्याएं उसी प्रकार संबंधित हैं जिस प्रकार निम्नलिखित समुच्चयों की संख्याएं संबंधित हैं।
(नोट: संख्याओं को उनके घटक अंकों में तोड़े बिना, संक्रियाएं पूर्ण संख्याओं पर की जानी चाहिए। उदाहरण के लिए 13 को लीजिए - 13 पर गणितीय संक्रियाएं जैसे कि 13 को जोड़ना/घटाना/गुणा करना, आदि किया जा सकता है। 13 को 1 और 3 में तोड़ना और फिर 1 और 3 पर गणितीय संक्रियाएं करने की अनुमति नहीं है।)

7, 27
10, 39

- Ans 1. 14, 50
 2. 14, 51
 3. 13, 51
 4. 13, 50

Q.4 किसी निश्चित तर्क के अनुसार EE 16 का संबंध HC 5 से है। इसी प्रकार, PW 20 का संबंध SU 9 से है। समान तर्क का अनुसरण करते हुए LP 23 का संबंध निम्नलिखित में से किससे है?

- Ans 1. OI 13
 2. ON 12
 3. OO 14
 4. OP 11

Q.5 अंग्रेजी वर्णमाला क्रम के आधार पर, निम्नलिखित चार अक्षर-समूहों में से तीन एक निश्चित तरीके से समान हैं और इस प्रकार एक ग्रुप बनाते हैं। कौन-सा अक्षर-समूह उस ग्रुप से संबंधित नहीं है?
(नोट: असंगत अक्षर-समूह, व्यंजनों/स्वरों की संख्या या उनकी स्थिति पर आधारित नहीं है।)

- Ans 1. UYB
 2. DGJ
 3. HKN
 4. YBE

Q.6 उस युग्म का चयन कीजिए जो नीचे दिए गए युग्मों के दो समुच्चयों द्वारा अनुसरण किए गए पैटर्न के समान पैटर्न का अनुसरण करता है। दोनों युग्म समान पैटर्न का अनुसरण करते हैं।

MLK-IHG

NML-JIH

Ans 1. TSR-PON

2. TRP-ONM

3. TSR-OOM

4. TRP-PON

Q.7 यदि '+' और '-' को परस्पर बदल दिया जाए तथा 'x' और '+' को परस्पर बदल दिया जाए, तो निम्नलिखित समीकरण में '?' के स्थान पर क्या आएगा?

$$40 + 16 \times 4 - 9 \div 3 = ?$$

Ans 1. 63

2. 64

3. 61

4. 62

Q.8 यदि 'A' का अर्थ '+' है, 'B' का अर्थ 'x' है, 'C' का अर्थ '-' है और 'D' का अर्थ '/' है, तो निम्नलिखित समीकरण में प्रश्न चिह्न '?' के स्थान पर क्या आएगा?

$$82 D 17 B 5 C 225 A 5 = ?$$

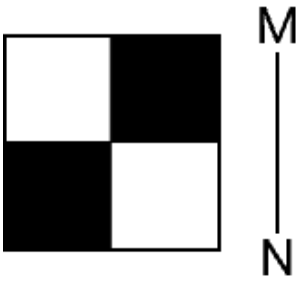
Ans 1. 36

2. 40

3. 39


4. 42

Q.9 नीचे दर्शाए अनुसार दर्पण को MN पर रखने पर दी गई आकृति के सही दर्पण प्रतिबिंब का चयन कीजिए।




Ans

1.




2.



3.



4.



Q.10 अंग्रेजी वर्णमाला क्रम के आधार पर, निम्नलिखित चार अक्षर-समूहों में से तीन एक निश्चित तरीके से एकसमान हैं और इस प्रकार वे एक गुप बनाते हैं। कौन-सा अक्षर-समूह उस गुप से संबंधित नहीं है?
(नोट: असंगत अक्षर-समूह, व्यंजनों/स्वरो की संख्या या उनकी स्थिति पर आधारित नहीं है।)

Ans

1. JPM

2. QWU

3. NTQ

4. GMJ

Q.11 दी गई श्रृंखला में प्रश्न चिह्न (?) के स्थान पर क्या आना चाहिए?

2 3 10 39 ? 1175

Ans

1. 199

2. 196

3. 190

4. 192

Q.12 यदि 'A' का अर्थ '+' है, 'B' का अर्थ 'x' है, 'C' का अर्थ '+' है और 'D' का अर्थ '-' है, तो निम्नलिखित समीकरण में प्रश्न-चिह्न (?) के स्थान पर क्या आएगा?

$$56 A 8 D 63 C 10 B 7 = ?$$

- Ans
- 1. 14
 - 2. 18
 - 3. 16
 - 4. 12

Q.13 यदि 'A' का अर्थ '+' है, 'B' का अर्थ 'x' है, 'C' का अर्थ '+' है और 'D' का अर्थ '-' है, तो निम्नलिखित समीकरण में प्रश्न चिह्न '?' के स्थान पर क्या आएगा?

$$10 B 2 D 24 A 4 C 6 = ?$$

- Ans
- 1. 14
 - 2. 20
 - 3. 16
 - 4. 18

Q.14 उस समुच्चय का चयन कीजिए जिसमें संख्याएं उसी प्रकार संबंधित हैं जिस प्रकार निम्नलिखित समुच्चयों की संख्याएं संबंधित हैं।

(नोट: संख्याओं को उनके घटक अंकों में तोड़े बिना, संक्रियाएं पूर्ण संख्याओं पर की जानी चाहिए। उदाहरण के लिए 13 को लीजिए - 13 पर गणितीय संक्रियाएं जैसे कि 13 में जोड़ना/घटाना/गुणा करना, आदि किया जा सकता है। 13 को 1 और 3 में तोड़ना और फिर 1 और 3 पर गणितीय संक्रियाएं करने की अनुमति नहीं है।)

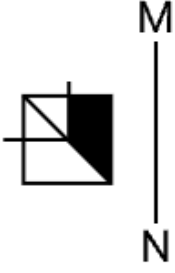
(25, 62, 37)
(17, 68, 51)

- Ans
- 1. (28, 79, 41)
 - 2. (31, 66, 33)
 - 3. (36, 95, 59)
 - 4. (19, 74, 45)

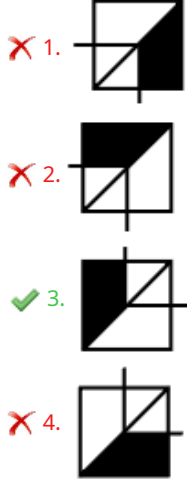
Q.15 अंग्रेजी वर्णमाला क्रम के आधार पर एक निश्चित तर्क के अनुसार, DRUM का संबंध CQTL से है। इसी प्रकार, GRIN का संबंध FQHM से है। समान तर्क का अनुसरण करते हुए TRIM का संबंध निम्नलिखित में से किससे है?

- Ans
- 1. USHL
 - 2. SQJN
 - 3. SQHL
 - 4. USJN

Q.16 नीचे दिए गए चित्रानुसार, दर्पण को MN पर रखे जाने पर दी गई आकृति के सही दर्पण प्रतिबिंब का चयन करें।



Ans



Q.17 यदि '+' और '-' को परस्पर बदल दिया जाए तथा 'x' और '÷' को परस्पर बदल दिया जाए, तो निम्नलिखित समीकरण में प्रश्न-चिह्न (?) के स्थान पर क्या आएगा?

$$49 \times 7 - 18 \div 3 + 150 \times 15 - 10 = ?$$

Ans

1. 58
2. 61
3. 60
4. 59

Q.18 दिए गए कथनों और निष्कर्षों को ध्यानपूर्वक पढ़ें। यह मानते हुए कि कथनों में दी गई जानकारी सत्य है, भले ही वह सामान्यतः ज्ञात तथ्यों से भिन्न प्रतीत होती हो, तय करें कि दिए गए निष्कर्षों में से कौन-से निष्कर्ष, कथनों का तार्किक रूप से अनुसरण करते हैं।

कथन: सभी बटेर, घोड़े हैं। सभी घोड़े, बकरियां हैं।

निष्कर्ष (I): कोई भी बकरी, बटेर नहीं है।

निष्कर्ष (II): कुछ बकरियां, बटेर हैं।

Ans

1. न तो निष्कर्ष (I) और न ही निष्कर्ष (II) अनुसरण करता है
2. केवल निष्कर्ष (II) अनुसरण करता है
3. निष्कर्ष (I) और (II) दोनों अनुसरण करते हैं
4. केवल निष्कर्ष (I) अनुसरण करता है

Q.19 दी गई श्रृंखला में '?' के स्थान पर क्या आना चाहिए?

3, ?, 21, 58, 167, 492

Ans

1. 19
2. 12
3. 8
4. 5

Q.20 दी गई श्रृंखला में '?' के स्थान पर क्या आना चाहिए?
8, 19, 31, 44, 58, ?

- Ans
- 1. 71
 - 2. 75
 - 3. 76
 - 4. 73

Section : General Awareness

Q.1 उत्तरी क्षेत्र में 19 मार्च, 2025 को आर्थिक विकास को संवर्धित करने और नियामक प्रक्रियाओं को सरल करने के लिए कौन-सा विधायी उपाय अधिनियमित किया गया था?

- Ans
- 1. मुक्त व्यापार समझौतों की शुरुआत करना
 - 2. नए शोध संस्थानों की स्थापना करना
 - 3. क्षेत्र समन्वयक विधेयक को पारित करना
 - 4. नए कर प्रोत्साहनों को कार्यान्वित करना

Q.2 आर.सी. देसाई के अनुमान के अनुसार, वर्ष 1930-31 में भारत की प्रति व्यक्ति आय कितनी थी?

- Ans
- 1. ₹20
 - 2. ₹80
 - 3. ₹78
 - 4. ₹72

Q.3 निम्नलिखित में से कौन-सा, भारत सरकार की भारतमाला परियोजना का एक प्रमुख घटक नहीं है?

- Ans
- 1. आर्थिक कॉरिडोर का विकास
 - 2. तटीय और बंदरगाह संपर्क सड़कें
 - 3. इंटर-कॉरिडोर और फीडर मार्गों का विकास
 - 4. नए महानगरों का विकास

Q.4 2026 की शुरुआत में होने वाले असम विधानसभा चुनाव में कितने सदस्यों का चुनाव होने की उम्मीद है?

- Ans
- 1. 293
 - 2. 126
 - 3. 70
 - 4. 80

Q.5 जुलाई 2025 में, हंगरी के बुडापेस्ट में आयोजित 2025 पोलाक इमरे एवं वर्गा जानोस मेमोरियल (Polyak Imre & Varga Janos Memorial) टूर्नामेंट में 65kg पुरुष फ्रीस्टाइल कैटेगरी में स्वर्ण पदक किसने जीता?

- Ans
- 1. सुशील कुमार (Sushil Kumar)
 - 2. सुजीत कलकल (Sujeet Kalkal)
 - 3. खशाबा दादासाहेब जाधव (Khashaba Dadasaheb Jadhav)
 - 4. साक्षी मलिक (Sakshi Malik)

Q.6 कौन-सा आधिकारिक शुभंकर, द्वितीय खेलो इंडिया पैरा गेम्स 2025 से संबंधित था?

- Ans
- 1. उज्ज्वला (Ujjwala)
 - 2. मोर (Peacock)
 - 3. सनबर्ड (Sunbird)
 - 4. बाघ (Tiger)

Q.7 अक्टूबर 2025 में, सतत विकास प्रौद्योगिकियों पर केंद्रित क्षेत्रीय विज्ञान कांग्रेस 2025 की मेजबानी किस भारतीय शहर ने की थी?

- Ans
- 1. कोलकाता
 - 2. पटना
 - 3. मुंबई
 - 4. बेंगलुरु

Q.8 निम्नलिखित में से कौन-सा स्मारक भारत का पहला स्मारक था, जिसे UNESCO विश्व धरोहर स्थल के रूप में घोषित किया गया था?

- Ans
- 1. आगरा का किला
 - 2. अजंता की गुफाएँ
 - 3. काजीरंगा राष्ट्रीय उद्यान
 - 4. लाल किला

Q.9 हाल ही में, ताशकंद में आयोजित उज़्बेक कप मास्टर्स 2025 (UzChess Cup Masters 2025) जीतने के बाद भारत के शीर्ष श्रेणी के शतरंज खिलाड़ी कौन बने?

- Ans
- 1. अर्जुन एरिगैसी (Arjun Erigaisi)
 - 2. अरविंद चितांबरम (Aravindh Chithambaram)
 - 3. निहाल सरिन (Nihal Sarin)
 - 4. आर. प्रज्ञानंद (R. Praggnanandhaa)

Q.10 1867 में, महाराष्ट्र में निम्नलिखित में से कौन-सा संगठनात्मक आंदोलन भक्ति की परंपरा का पालन करता था और सभी जातियों की आध्यात्मिक समानता में विश्वास रखता था?

- Ans
- 1. आर्य समाज
 - 2. सत्यशोधक समाज
 - 3. साधारण ब्रह्म समाज
 - 4. प्रार्थना समाज

Q.11 सुभाष चंद्र बोस ने निम्नलिखित में से किस वर्ष में फॉरवर्ड ब्लॉक की स्थापना की थी?

- Ans
- 1. 1935
 - 2. 1942
 - 3. 1928
 - 4. 1939

Q.12 1857 के सिपाही विद्रोह के बाद आत्मसमर्पण करने वाले विद्रोहियों की सुरक्षा के लिए अंग्रेजों ने क्या शर्त रखी थी?

- Ans
- 1. उन्हें भारत छोड़ना होगा।
 - 2. उन्हें किसी भी श्वेत व्यक्ति को नहीं मारना चाहिए।
 - 3. उन्हें ब्रिटिश सेना में शामिल होना होगा।
 - 4. उन्हें जुर्माना देना पड़ेगा।

Q.13 केंद्र सरकार की वह कौन-सी पहल है, जो इलेक्ट्रॉनिक्स और फार्मास्युटिकल जैसे प्रमुख उद्योगों में क्षेत्र-विशिष्ट उत्पादन प्रोत्साहन प्रदान करने और बड़े पैमाने पर विनिर्माण को प्रोत्साहित करने के लिए शुरू की गई है, जिसका उद्देश्य भारत के घरेलू औद्योगिक आधार और रोजगार सृजन को बढ़ावा देना है?

- Ans
- 1. स्टार्ट-अप इंडिया कार्य योजना
 - 2. मेक इन इंडिया पहल
 - 3. उत्पादन-आधारित प्रोत्साहन (PLI) योजना
 - 4. PM गतिशक्ति राष्ट्रीय मास्टर प्लान

Q.14 नरम दल और गरम दल कांग्रेस के लखनऊ अधिवेशन में _____ में एक साथ आए थे।

- Ans 1. 1916
 2. 1914
 3. 1908
 4. 1910

Q.15 भारत में किस मंत्रालय ने हाल ही में "आदि कर्मयोगी" कार्यक्रम शुरू किया है?

- Ans 1. कार्मिक, लोक शिकायत और पेंशन मंत्रालय
 2. सामाजिक न्याय और अधिकारिता मंत्रालय
 3. जनजातीय कार्य मंत्रालय
 4. ग्रामीण विकास मंत्रालय

Q.16 जुलाई 2025 में, भारतीय रेलवे द्वारा लॉन्च किए गए रेलवन ऐप (RailOne app) का मुख्य उद्देश्य क्या है?

- Ans 1. यात्री इंटरफेस बढ़ाना
 2. कर्मचारी पेंशन को मैनेज करना
 3. कोच विनिर्माण स्लॉट आरक्षित करना
 4. माल ढुलाई की आवाजाही को ट्रैक करना

Q.17 भारत में, निम्नलिखित में से कौन-से औपचारिक क्षेत्र का प्रमुख नियोजक है?

- Ans 1. देश भर की निजी कंपनियां और उद्योग
 2. सहकारी समितियां और लघु उद्यम
 3. केंद्र, राज्य और स्थानीय स्तर पर सरकार
 4. राष्ट्रीय स्तर पर कार्यरत गैर-सरकारी संगठन (NGO)

Q.18 भारतीय सेना द्वारा शुरू किए गए 'ऑपरेशन शिवा 2025' का प्राथमिक उद्देश्य क्या है?

- Ans 1. बाढ़ प्रभावित क्षेत्रों में आपदा राहत प्रदान करना।
 2. पश्चिमी सीमा पर सीमा सुरक्षा की निगरानी करना।
 3. श्री अमरनाथ यात्रा का सुरक्षित और सुचारू संचालन सुनिश्चित करना।
 4. नई भर्तियों के लिए उच्च तीव्रता वाले युद्ध प्रशिक्षण का संचालन करना।

Q.19 भारत में मुद्रा किसके द्वारा जारी और प्रबंधित की जाती है?

- Ans 1. वित्त मंत्रालय
 2. नीति आयोग
 3. भारतीय स्टेट बैंक
 4. भारतीय रिज़र्व बैंक

Q.20 भारतीय राष्ट्रीय कांग्रेस के ग्यारहवें अधिवेशन में प्रतिनिधियों की संख्या कितनी थी?

- Ans 1. 1584
 2. 1384
 3. 1284
 4. 1484

Section : General Awareness1

Q.1 भारत के किस द्वीपसमूह में संवहनी वर्षा होती है और वह सघन भूमध्यरेखीय वनस्पति को सपोर्ट करता है?

- Ans 1. अगाती
 2. रीची द्वीपसमूह
 3. लक्षद्वीप
 4. अंडमान और निकोबार

Q.2 निम्नलिखित ऐतिहासिक व्यक्तित्वों में से कौन, तिब्बती बौद्ध धर्म में मठवासी नृत्य की शुरुआत से संबंधित है?

Ans 1. गुरु पद्मसंभव (Guru Padmasambhava)

2. मिलारेपा (Milarepa)

3. दलाई लामा (Dalai Lama)

4. त्सोंगखापा (Tsongkhapa)

Q.3 पाचन तंत्र में क्षुद्रांत्र का प्राथमिक कार्य निम्नलिखित में से कौन-सा है?

Ans 1. पोषक तत्वों का अवशोषण

2. भोजन का यांत्रिक पाचन

3. पित्त का भंडारण

4. पाचन एंजाइमों का संश्लेषण

Q.4 भारतीय संविधान के अनुच्छेद 15(1) के अनुसार, राज्य किसी भी नागरिक के साथ केवल _____ के आधार पर भेदभाव नहीं करेगा।

Ans 1. भाषा, निवास स्थान या आर्थिक स्थिति

2. धर्म, भाषा, धन या सामाजिक स्थिति

3. शिक्षा, संपत्ति या व्यवसाय

4. धर्म, जाति, नस्ल, लिंग या जन्म स्थान

Q.5 स्वतंत्रता के बाद भारत में भारत के उच्चतम न्यायालय का उद्घाटन कब किया गया था?

Ans 1. 1949

2. 1950

3. 1948

4. 1947

Q.6 नागर और द्रविड़ तत्वों को मिलाकर बनाई गई वास्तुकला शैली को क्या कहा जाता है?

Ans 1. वलभी

2. पंचायतन

3. फमसाना

4. वेसर

Q.7 निम्नलिखित में से कौन-सा नाइट्रोजनयुक्त क्षार है, जो थायमिन के बजाये RNA न्यूक्लियोटाइड में मौजूद होता है?

Ans 1. एडेनिन (A)

2. राइबोज़

3. डीऑक्सीराइबोज़

4. यूरेसिल (U)

Q.8 पादप ऊतकों में ऐसी कौन-सी व्यवस्था होती है जो प्रत्येक कोशिका को वायु के संपर्क में आने देती है?

Ans 1. उपत्वचा परत

2. बड़े अंतर-कोशिकीय स्थान

3. मोटी कोशिका भित्तियां

4. संवहनी बंडल

Q.9 इस्पात मंत्रालय के अनुसार, वर्ष 2021-22 में भारत में सबसे बड़ा इस्पात उत्पादक राज्य कौन-सा था?

Ans 1. झारखंड

2. मध्य प्रदेश

3. छत्तीसगढ़

4. ओडिशा

Q.10 चापचर कुट महोत्सव निम्नलिखित में से किस राज्य में मनाया जाता है?

- Ans
- 1. मिजोरम
 - 2. गोवा
 - 3. नागालैंड
 - 4. बिहार

Q.11 प्राक्कलन समिति में कितने सदस्य होते हैं और उनका चयन किस प्रकार किया जाता है?

- Ans
- 1. अध्यक्ष द्वारा मनोनीत 22 सदस्य
 - 2. राष्ट्रपति द्वारा मनोनीत 30 सदस्य
 - 3. लोकसभा द्वारा निर्वाचित 30 सदस्य
 - 4. दोनों सदनों द्वारा निर्वाचित 15 सदस्य

Q.12 निम्नलिखित में से किसके पास भारत की केंद्र सरकार में मंत्रिपरिषद के विभागों को आवंटित करने और उनमें फेरबदल करने का अधिकार होता है?

- Ans
- 1. लोकसभा के अध्यक्ष
 - 2. भारत सरकार के मुख्य सचिव
 - 3. भारत के राष्ट्रपति
 - 4. भारत के प्रधानमंत्री

Q.13 कोलकाता मेट्रो ने किस वर्ष परिचालन शुरू किया था?

- Ans
- 1. 2002
 - 2. 2010
 - 3. 1984
 - 4. 1995

Q.14 जंग-प्रतिरोधकता के लिए प्रसिद्ध दिल्ली में स्थित "लौह स्तंभ" का निर्माण किस राजा के शासनकाल में हुआ था?

- Ans
- 1. हर्षवर्धन
 - 2. समुद्रगुप्त
 - 3. अशोक
 - 4. चंद्रगुप्त द्वितीय

Q.15 NSSO के 61वें दौर के सर्वेक्षण (2004-05) के अनुसार, भारत की जनसंख्या में अन्य पिछड़ा वर्ग (OBC) का अनुमानित हिस्सा कितना था?

- Ans
- 1. 41%
 - 2. 30%
 - 3. 21%
 - 4. 29%

Q.16 अपचित भोजन के साथ अर्ध-तरल पाचक रस आमाशय में एक अम्लीय सूप बनाता है जिसे _____ के नाम से जाना जाता है।

- Ans
- 1. बोलस (Bolus)
 - 2. काइम (Chyme)
 - 3. पित्त (Bile)
 - 4. मिसेल (Micelle)

Q.17 निम्नलिखित में से किस प्रकार की कोशिका गोलीय नहीं होती है?

- Ans
- 1. वसा कोशिका
 - 2. रुधिर कोशिका
 - 3. तंत्रिका कोशिका
 - 4. अंडाणु कोशिका

Q.18 केवलादेव राष्ट्रीय उद्यान निम्नलिखित में से किस राज्य में स्थित है?

- Ans
- 1. राजस्थान
 - 2. मध्य प्रदेश
 - 3. उत्तर प्रदेश
 - 4. उत्तराखंड

Q.19 कर्नाटक में शैल-कृत वास्तुकला बनाने की परंपरा को किन गुफाओं ने जारी रखा?

- Ans
- 1. एलोरा और अजंता
 - 2. भजा और बेदासा
 - 3. बादामी और ऐहोली
 - 4. कार्ला और कन्हेंरी

Q.20 भारतीय संविधान के किस अनुच्छेद में भारतीय नागरिकों को प्रिंट, डिजिटल मीडिया और प्रेस के माध्यम से अभिव्यक्ति सहित वाक् और अभिव्यक्ति स्वातंत्र्य का मौलिक अधिकार प्रदान करने वाली संवैधानिक गारंटी निहित है?

- Ans
- 1. अनुच्छेद 19(1)(a)
 - 2. अनुच्छेद 25
 - 3. अनुच्छेद 32
 - 4. अनुच्छेद 21

Section : Arithmetical and Numerical Ability

Q.1 रूपेश के वेतन में पहले 30% हास हुआ और बाद में 15% की वृद्धि हुई। उसका अंतिम वेतन, उसके प्रारंभिक वेतन से कितने प्रतिशत कम है?

- Ans
- 1. 19.5%
 - 2. 20.5%
 - 3. 14%
 - 4. 15%

Q.2 निम्नलिखित को सरल कीजिए:

$$\frac{\sqrt{324} + \sqrt{676}}{\sqrt{81} - \sqrt{9} - \sqrt{4}}$$

- Ans
- 1. 11
 - 2. 13
 - 3. 9
 - 4. 15

Q.3 किसी वस्तु के मूल्य में 10% और 20% की क्रमिक कमी होती है। उसके मूल्य में कुल प्रतिशत कमी ज्ञात कीजिए।

- Ans
- 1. 28%
 - 2. 32%
 - 3. 30%
 - 4. 25%

Q.4 दीया ₹1,200 प्रति स्कोर की दर से अनानास खरीदती है और उन्हें ₹1,500 प्रति दर्जन की दर से बेचती है। लाभ या हानि प्रतिशत ज्ञात कीजिए।

- Ans
- 1. $125\frac{1}{3}\%$ हानि
 - 2. $105\frac{1}{2}\%$ लाभ
 - 3. $108\frac{1}{3}\%$ लाभ
 - 4. $120\frac{1}{3}\%$ हानि

Q.5 निम्नलिखित में से कौन-सी संख्या 9 से विभाज्य है?

- Ans
- 1. 1452
 - 2. 2148
 - 3. 3456
 - 4. 4274

Q.6 ₹20,000 पर 16% वार्षिक दर से 1.5 वर्ष का चक्रवृद्धि ब्याज ज्ञात कीजिए, जहां ब्याज अर्धवार्षिक रूप से संयोजित होता है।

- Ans
- 1. ₹6,482.80
 - 2. ₹7,492.80
 - 3. ₹6,492.80
 - 4. ₹5,194.24

Q.7 नीचे दी गई तालिका में कंपनी A और कंपनी B के क्रमागत पांच महीनों की अवधि के मासिक बिक्री आंकड़े (हजार ₹ में) प्रदर्शित किए गए हैं।

महीना	कंपनी A	कंपनी B
जनवरी	120	100
फरवरी	150	130
मार्च	180	160
अप्रैल	170	190
मई	200	220

5 महीनों की अवधि में कंपनी A और कंपनी B की औसत मासिक बिक्री में अंतर ज्ञात कीजिए।

- Ans
- 1. ₹3,500
 - 2. ₹4,000
 - 3. ₹3,000
 - 4. ₹2,500

Q.8 ₹40,300 की धनराशि पर 6% वार्षिक ब्याज दर से 2 वर्ष के लिए चक्रवृद्धि ब्याज (वार्षिक रूप से संयोजित) और साधारण ब्याज के बीच का अंतर ज्ञात कीजिए।

- Ans
- 1. ₹152.7
 - 2. ₹146
 - 3. ₹153.5
 - 4. ₹145.08

Q.9 एक दिवसीय अंतरराष्ट्रीय क्रिकेट की पिछली 10 पारियों में एक बल्लेबाज के स्कोर क्रमशः 52, 73, 12, 25, 105, 10, 64, 115, 76, 57 हैं। इन दस पारियों का औसत स्कोर ज्ञात कीजिए।

- Ans
- 1. 56.2
 - 2. 59.4
 - 3. 58.9
 - 4. 48.9

Q.10 एक जग में 200 ml शर्करा सिरप है और एक गिलास में 100 ml लेमन जूस है। गिलास से 50 ml लेमन जूस जग में डाला जाता है और अच्छी तरह मिलाया जाता है। अब, जग से 50 ml मिश्रण गिलास में डाला जाता है। दो पुनरावृत्तियों के बाद जग में लेमन जूस और गिलास में लेमन जूस का अनुपात ज्ञात कीजिए।

- Ans
- 1. 4:1
 - 2. 2:3
 - 3. 3:5
 - 4. 1:6

Q.11 कितने वर्षों में ₹3,600 पर 5% वार्षिक ब्याज दर से ₹1,080 साधारण ब्याज प्राप्त होगा?

- Ans
- 1. 6
 - 2. 5
 - 3. 7
 - 4. 12

Q.12 22 संख्याओं का औसत 31 है। यदि सभी संख्याओं में 3 की वृद्धि कर दी जाए, तो नया औसत ज्ञात कीजिए।

- Ans
- 1. 53
 - 2. 34
 - 3. 31
 - 4. 28

Q.13 एक विक्रेता एक रुपये में 24 चॉकलेट बेचता है और 100% लाभ अर्जित करता है। उसने प्रारंभ में एक रुपये में कितनी चॉकलेट खरीदी थीं?

- Ans
- 1. 54
 - 2. 50
 - 3. 48
 - 4. 52

Q.14 336 और 344 के बीच स्थित अभाज्य संख्याओं की संख्या (दोनों संख्याओं को शामिल करते हुए) ज्ञात कीजिए।

- Ans
- 1. 3
 - 2. 1
 - 3. 2
 - 4. 4

Q.15 10 लड़कों और 15 लड़कियों की औसत आयु क्रमशः 11 और 6 वर्ष है। सभी लड़कों और लड़कियों की औसत आयु (वर्ष में) क्या है?

- Ans
- 1. 7
 - 2. 9
 - 3. 8
 - 4. 10

Q.16 यदि गेहूँ की कीमत में 25% की वृद्धि हो जाती है, तो किसी व्यक्ति को गेहूँ की अपनी खपत में कितने प्रतिशत की कमी करनी चाहिए ताकि उसका व्यय समान रहे?

- Ans
- 1. 25%
 - 2. 20%
 - 3. 15%
 - 4. 10%

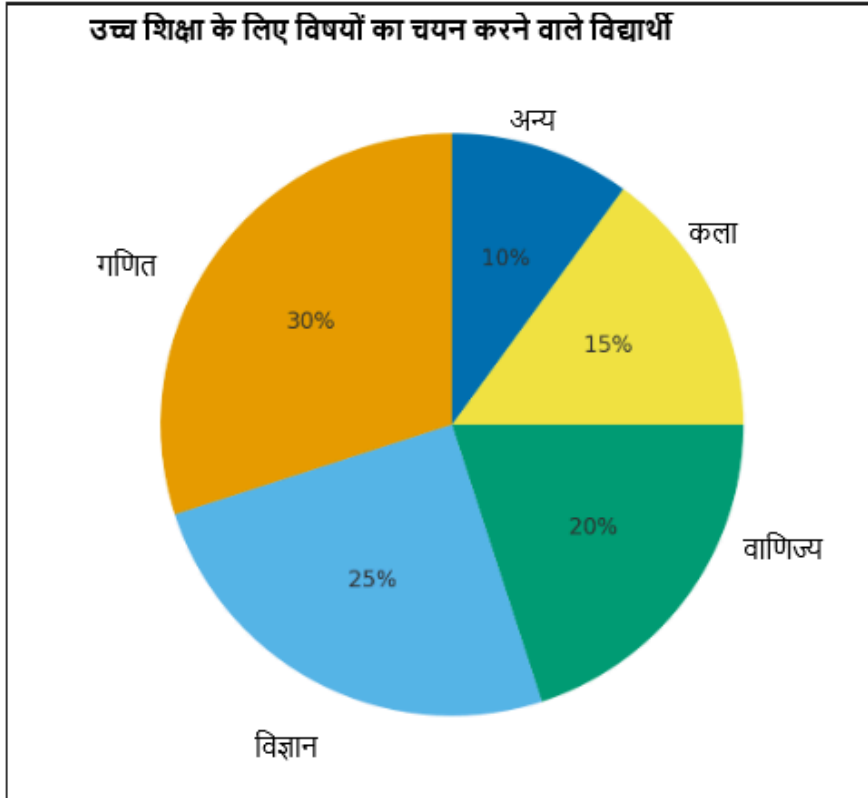
Q.17 किसी वस्तु की कीमत में 7% और 14% की क्रमिक वृद्धि की जाती है। यदि वस्तु की बढ़ी हुई कीमत ₹10,600 है, तो उसकी प्रारंभिक कीमत ज्ञात कीजिए। (अपने उत्तर को निकटतम रुपये तक पूर्णांकित करें।)

- Ans
- 1. ₹8,600
 - 2. ₹8,590
 - 3. ₹8,490
 - 4. ₹8,690

Q.18 334 और 347 (दोनों संख्याओं सहित) के बीच स्थित अभाज्य संख्याओं की संख्या _____ है।

- Ans
- 1. 3
 - 2. 5
 - 3. 4
 - 4. 2

Q.19 निम्नलिखित पाई चार्ट एक विद्यालय में उच्च शिक्षा के लिए विभिन्न विषयों का चयन करने वाले विद्यार्थियों का प्रतिशत दर्शाता है।



यदि विद्यार्थियों की कुल संख्या 600 है, तो कितने विद्यार्थियों ने विज्ञान विषय का चयन किया?

- Ans
- 1. 125
 - 2. 180
 - 3. 100
 - 4. 150

Q.20 हार्दिक ने ₹52,850 की धनराशि 20% वार्षिक चक्रवृद्धि ब्याज दर पर जमा की जबकि ब्याज वार्षिक रूप से संयोजित किया जाता है। 2 वर्ष बाद हार्दिक को कुल कितनी धनराशि प्राप्त होगी?

- Ans
- 1. ₹76,104
 - 2. ₹75,907
 - 3. ₹76,368
 - 4. ₹76,462

Section : Arithmetical and Numerical Ability1

Q.1 एक दुकानदार चीनी के मूल्य को इस प्रकार अंकित करता है कि उसे 25% का लाभ अर्जित हो सके। वजन में त्रुटि के कारण, वह 1 kg के बजाय केवल 900 g चीनी देता है। इस त्रुटि की भरपाई करने के लिए, वह अंकित मूल्य पर 10% की छूट देता है। दुकानदार का वास्तविक लाभ प्रतिशत ज्ञात कीजिए।

- Ans
- 1. 25%
 - 2. 20%
 - 3. 15%
 - 4. 10%

Q.2 512 और 2048 का माध्यानुपाती ज्ञात कीजिए।

- Ans
- 1. 2048
 - 2. 1024
 - 3. 1000
 - 4. 512

Q.3 किसी वस्तु का अंकित मूल्य ₹4,375 है। दुकानदार 7% और x% की दो क्रमिक छूट देता है, जिसके बाद वह वस्तु ₹3,906 में उपलब्ध होती है। x का मान ज्ञात कीजिए।

- Ans
- 1. 2
 - 2. 4
 - 3. 5
 - 4. 3

Q.4 एक दुकानदार एक साइकिल को ₹10,500 में बेचकर लागत मूल्य के 25% के बराबर लाभ अर्जित करता है। यदि साइकिल ₹11,760 में बेची जाती है, तो लाभ प्रतिशत कितना होगा?

- Ans
- 1. 30%
 - 2. 40%
 - 3. 42%
 - 4. 38%

Q.5 रीना को एक निश्चित दूरी की दो तिहाई दूरी 5 kmph की चाल से और शेष दूरी 4 kmph की चाल से तय करने में कुल 1 घंटा 16 मिनट का समय लगता है। रीना द्वारा तय की गई कुल दूरी ज्ञात कीजिए। (उत्तर को निकटतम पूर्णांक तक पूर्णांकित कीजिए।)

- Ans
- 1. 3 km
 - 2. 4 km
 - 3. 6 km
 - 4. 5 km

Q.6 एक शंकवाकार तम्बू के आधार का व्यास 19.6 m है और इसके शीर्ष की ऊँचाई 20 m है। तम्बू का आयतन ज्ञात कीजिए।

(अपना उत्तर दशमलव के दो स्थानों तक पूर्णांकित कीजिए और $\pi = 3.14$ का उपयोग कीजिए।)

- Ans
- 1. 2090.44 m³
 - 2. 2110.44 m³
 - 3. 2010.44 m³
 - 4. 2000.44 m³

Q.7 पाइप A किसी टंकी को 8 घंटे में भर सकता है, पाइप B उसे 9 घंटे में भर सकता है, लेकिन पाइप C उसे 6 घंटे में खाली कर सकता है। यदि तीनों पाइप एक साथ खोल दिए जाएं, तो टंकी को भरने में कितना समय लगेगा?

- Ans
- 1. 13.4 घंटे
 - 2. 14.8 घंटे
 - 3. 14.4 घंटे
 - 4. 24.4 घंटे

Q.8 एक दुकानदार ने अंकित मूल्य पर 18% और 10% की दो क्रमिक छूट देने के बाद एक किताब को ₹369 में बेचा। किताब का अंकित मूल्य ज्ञात कीजिए।

- Ans
- 1. ₹490
 - 2. ₹500
 - 3. ₹460
 - 4. ₹520

Q.9 एक बेलनाकार जार की त्रिज्या 10 cm और ऊँचाई 30 cm है। इसका आयतन ज्ञात कीजिए। ($\pi = 3.14$ का उपयोग कीजिए)

- Ans
- 1. 9,420 cm³
 - 2. 9,402 cm³
 - 3. 9,204 cm³
 - 4. 9,240 cm³

Q.10 P और Q मिलकर एक टंकी को 30 घंटे में पानी से भर सकते हैं। यदि P अकेले टंकी को 80 घंटे में पानी से भर सकता है, तो Q अकेले टंकी के आधे भाग को पानी से कितने घंटे में भरेगा?

- Ans
- 1. 48
 - 2. 24
 - 3. 49
 - 4. 25

Q.11 उस बेलन का संपूर्ण पृष्ठीय क्षेत्रफल ज्ञात कीजिए जिसका वक्र पृष्ठीय क्षेत्रफल 55,660 cm² और ऊँचाई 110 cm है।

$$\left(\pi = \frac{22}{7} \text{ का उपयोग कीजिए}\right)$$

- Ans
- 1. 96,393 cm²
 - 2. 96,939 cm²
 - 3. 86,339 cm²
 - 4. 96,339 cm²

Q.12 180 m लंबी एक ट्रेन प्लेटफार्म पर खड़े एक व्यक्ति को 9 सेकंड में पार कर जाती है। ट्रेन की चाल (km/hr में) कितनी है और 270 m लंबे प्लेटफार्म को पार करने में उसे कितना समय लगेगा?

- Ans
- 1. 60 km/hr, 27 सेकंड
 - 2. 80 km/hr, 20 सेकंड
 - 3. 90 km/hr, 18 सेकंड
 - 4. 72 km/hr, 22.5 सेकंड

Q.13 उस घन का आयतन (m³ में) ज्ञात कीजिए, जिसकी प्रत्येक कोर 15 m है।

- Ans
- 1. 3375
 - 2. 3427
 - 3. 3181
 - 4. 3292

Q.14 150 मीटर लंबी एक ट्रेन 54 km/hr की चाल से चलती है। पटरी के पास खड़े एक व्यक्ति को पार करने में उसे कितना समय लगेगा?

- Ans
- 1. 12 सेकंड
 - 2. 15 सेकंड
 - 3. 10 सेकंड
 - 4. 7 सेकंड

Q.15 पाइप A किसी टंकी को 5 घंटे में भर सकता है और पाइप B समान टंकी को 6 घंटे में भर सकता है। यदि दोनों पाइपों को एक साथ खोला जाए और पाइप B को 2 घंटे बाद बंद कर दिया जाए, तो टंकी कुल कितने समय में भरेगी?

- Ans
- 1. 3 घंटे 10 मिनट
 - 2. 3 घंटे
 - 3. 3 घंटे 20 मिनट
 - 4. 3 घंटे 25 मिनट

Q.16 एक व्यवसाय में, P, Q और R, 3 : 2 : 5 के अनुपात में निवेश करते हैं और व्यवसाय में अर्जित कुल लाभ ₹1,50,000 है। P को Q से कितनी अधिक धनराशि (₹ में) प्राप्त होगी?

- Ans
- 1. 20,000
 - 2. 15,000
 - 3. 30,000
 - 4. 25,000

Q.17 एक ट्रेन $(x + 40)$ m लंबी है, जो एक खंभे को 10 सेकंड में पार करती है और एक पुल $(x - 10)$ m लंबा है, जिसे 15 सेकंड में पार करती है। x का मान ज्ञात कीजिए।

- Ans
- 1. 65
 - 2. 60
 - 3. 50
 - 4. 55

Q.18 A और B एक साझेदारी व्यवसाय में 3 : 4 के अनुपात में निवेश करते हैं। 6 महीने बाद, A अपने निवेश का 50% निकाल लेता है। यदि एक वर्ष के अंत में लाभ ₹5600 है, तो A को कितना लाभ प्राप्त होगा?

- Ans
- 1. ₹2016
 - 2. ₹2018
 - 3. ₹2020
 - 4. ₹2014

Q.19 $\sqrt{5 + 2\sqrt{6}}$ और $(20 - 4\sqrt{24})^{-\frac{1}{2}}$ माथ्यानुपात ज्ञात कीजिए।

- Ans
- 1. $\frac{1}{2} + \sqrt{2}$
 - 2. $\frac{\sqrt{3} + \sqrt{2}}{2}$
 - 3. $\frac{\sqrt{6} + \sqrt{2}}{2}$
 - 4. $1 + \frac{\sqrt{6}}{2}$

Q.20 किसी कार्य को पूरा करने में P की दक्षता, Q की दक्षता का तीन गुना है, इसलिए उसे इसी कार्य को पूरा करने में Q से 44 दिन कम लगते हैं। P और Q क्रमशः उसी कार्य को अलग-अलग कितने समय में पूरा कर सकते हैं।

- Ans
- 1. 24 दिन और 72 दिन
 - 2. 23 दिन और 69 दिन
 - 3. 21 दिन और 63 दिन
 - 4. 22 दिन और 66 दिन

Section : Test of English Language and Comprehension

Q.1 Select the correct option to replace the underlined word in the sentence.

She foolishly calculated every step before making a perfectly reasoned decision.

- Ans
- 1. carelessly
 - 2. blindly
 - 3. thoughtfully
 - 4. recklessly

Q.2 Select the most appropriate option to rectify the given sentence.

This is the most funniest joke I have ever heard.

- Ans
- 1. This is the most funnier joke I have ever heard.
 - 2. This is the most funny joke I have ever heard.
 - 3. This is the funnier joke I have ever heard.
 - 4. This is the funniest joke I have ever heard.

Q.3 Fill in the blank with the correct article:

Tom is ___ honest man.

- Ans
- 1. a
 - 2. an
 - 3. No article
 - 4. the

Q.4 Select the most appropriate option to fill in the blank.

I can _____ believe he said that!

- Ans
- 1. hardly
 - 2. harder
 - 3. rarely
 - 4. yet

Q.5 Rectify the sentence by selecting the correct one from the options.

She wore a dress which was elegant looking and attracted all attention at the party.

- Ans
- 1. She wore a dress which was elegantly looking and attracted all attention at the party.
 - 2. She wore a dress which was elegant looking and attracted all the attention at the party.
 - 3. She wore a dress which was elegant looking and attractive all attention at the party.
 - 4. She wore a dress which was elegantly looking and attracted all the attention at the party.

Q.6 Select the grammatically correct version of the sentence.

Neither of the students were present in the class.

- Ans
- 1. Neither of the students have been present in the class.
 - 2. Neither of the student were present in the class.
 - 3. Neither of the students was present in the class.
 - 4. Neither of the students is present in the class.

Q.7 Complete the sentence with the correct verb.

We must ___ the room before the guests arrive.

- Ans
- 1. construct
 - 2. clean
 - 3. measure
 - 4. build

Q.8 Choose the most appropriate option that fits the given sentence grammatically and contextually.

It was ___ site of a rainbow gathering of different colours.

- Ans
- 1. No article required
 - 2. a
 - 3. the
 - 4. an

Q.9 A sentence is divided into the following different segments. The first segment is fixed. Rearrange the other segments to form a coherent sentence.

By learning to recognise the early signs and / quickly and protecting against future (A) / responding proactively, you have a (B) / much better chance of halting symptoms (C) / negative effects on your life (D)

- Ans
- 1. CBAD
 - 2. BADC
 - 3. BCAD
 - 4. CDAB

Q.10 Select the most appropriate option to fill in the blank.

I'm a ___ fan of soya foods but urge you to choose them wisely.

- Ans
- 1. bigger
 - 2. biggest
 - 3. big
 - 4. smallest

Q.11 Fill in the blanks with the correct words to complete the sentence.

___ tulips in the backyard are blooming beautifully, adding to ___ archaic castle's timeless charm.

- Ans
- 1. A, an
 - 2. The, the
 - 3. The, an
 - 4. A, a

Q.12 Identify the error in the given sentence and select the best correction.

The data has been analyzed and the results is conclusive.

- Ans**
- 1. The data has been analyzed and the results was conclusive.
 - 2. The data has been analyzed and the results are conclusive.
 - 3. The data has been analyzing and the results is conclusive.
 - 4. The data have been analyzed and the results is conclusive.

Q.13 Rectify the sentence by selecting the correct one from the options.

He was accused for stealing confidential documents from the office.

- Ans**
- 1. He was accused in stealing confidential documents from the office.
 - 2. He was accused with stealing confidential documents from the office.
 - 3. He was accused of stealing confidential documents from the office.
 - 4. He was accused about stealing confidential documents from the office.

Q.14 In the given question, a statement divided into different segments is given. Rearrange all the segments to form a coherent statement.

- A) restore energy, reduce stress,
- B) maintaining productivity, as it helps
- C) relaxing after long hours is essential for
- D) and improve focus

- Ans**
- 1. CBAD
 - 2. DCAB
 - 3. BDCA
 - 4. ABDC

Q.15 Choose the correct option to fill in the blank.

She is ____ incorrigible liar.

- Ans**
- 1. an
 - 2. a
 - 3. the
 - 4. no article needed

Comprehension:

Read the passage given below and answer the questions that follow.

History helps us grasp how the world changes. By studying historical transitions, we learn what shaped our current society and what could influence future developments. The American civil rights movement, for instance, shows how people can unite to challenge oppression, while the fall of Rome reminds us that even powerful societies can collapse under certain pressures. History also teaches us to learn from past mistakes. Examining wars reveals how conflicts escalate and what decisions by leaders lead to positive or negative outcomes. Patterns in history, like signs of genocide or failures to address crises, can help us recognize and prevent similar disasters today, making us more informed and responsible citizens. Additionally, history gives us context for our own experiences. When COVID-19 struck, few remembered the 1918 flu pandemic, yet historians quickly drew parallels to warn about the dangers of a second wave and the importance of precautions. By understanding the struggles and triumphs of those before us, we see repeating patterns and find comfort in knowing that humanity has faced—and overcome—similar challenges before. In essence, history equips us with the insight to understand change, learn from errors, and navigate our present with a deeper awareness of the human experience.

SubQuestion No : 16

Q.16 Identify the most suitable title for the passage.

Comprehension:

Read the passage given below and answer the questions that follow.

History helps us grasp how the world changes. By studying historical transitions, we learn what shaped our current society and what could influence future developments. The American civil rights movement, for instance, shows how people can unite to challenge oppression, while the fall of Rome reminds us that even powerful societies can collapse under certain pressures. History also teaches us to learn from past mistakes. Examining wars reveals how conflicts escalate and what decisions by leaders lead to positive or negative outcomes. Patterns in history, like signs of genocide or failures to address crises, can help us recognize and prevent similar disasters today, making us more informed and responsible citizens. Additionally, history gives us context for our own experiences. When COVID-19 struck, few remembered the 1918 flu pandemic, yet historians quickly drew parallels to warn about the dangers of a second wave and the importance of precautions. By understanding the struggles and triumphs of those before us, we see repeating patterns and find comfort in knowing that humanity has faced—and overcome—similar challenges before. In essence, history equips us with the insight to understand change, learn from errors, and navigate our present with a deeper awareness of the human experience.

SubQuestion No : 17

Q.17 Identify the central theme of the passage.

Comprehension:

Read the passage given below and answer the questions that follow.

History helps us grasp how the world changes. By studying historical transitions, we learn what shaped our current society and what could influence future developments. The American civil rights movement, for instance, shows how people can unite to challenge oppression, while the fall of Rome reminds us that even powerful societies can collapse under certain pressures. History also teaches us to learn from past mistakes. Examining wars reveals how conflicts escalate and what decisions by leaders lead to positive or negative outcomes. Patterns in history, like signs of genocide or failures to address crises, can help us recognize and prevent similar disasters today, making us more informed and responsible citizens. Additionally, history gives us context for our own experiences. When COVID-19 struck, few remembered the 1918 flu pandemic, yet historians quickly drew parallels to warn about the dangers of a second wave and the importance of precautions. By understanding the struggles and triumphs of those before us, we see repeating patterns and find comfort in knowing that humanity has faced—and overcome—similar challenges before. In essence, history equips us with the insight to understand change, learn from errors, and navigate our present with a deeper awareness of the human experience.

SubQuestion No : 18

Q.18 Identify the inference drawn from the passage.

Comprehension:

Read the passage given below and answer the questions that follow.

History helps us grasp how the world changes. By studying historical transitions, we learn what shaped our current society and what could influence future developments. The American civil rights movement, for instance, shows how people can unite to challenge oppression, while the fall of Rome reminds us that even powerful societies can collapse under certain pressures. History also teaches us to learn from past mistakes. Examining wars reveals how conflicts escalate and what decisions by leaders lead to positive or negative outcomes. Patterns in history, like signs of genocide or failures to address crises, can help us recognize and prevent similar disasters today, making us more informed and responsible citizens. Additionally, history gives us context for our own experiences. When COVID-19 struck, few remembered the 1918 flu pandemic, yet historians quickly drew parallels to warn about the dangers of a second wave and the importance of precautions. By understanding the struggles and triumphs of those before us, we see repeating patterns and find comfort in knowing that humanity has faced—and overcome—similar challenges before. In essence, history equips us with the insight to understand change, learn from errors, and navigate our present with a deeper awareness of the human experience.

SubQuestion No : 19

Q.19 Identify the tone of the passage.

Comprehension:

Read the passage given below and answer the questions that follow.

History helps us grasp how the world changes. By studying historical transitions, we learn what shaped our current society and what could influence future developments. The American civil rights movement, for instance, shows how people can unite to challenge oppression, while the fall of Rome reminds us that even powerful societies can collapse under certain pressures. History also teaches us to learn from past mistakes. Examining wars reveals how conflicts escalate and what decisions by leaders lead to positive or negative outcomes. Patterns in history, like signs of genocide or failures to address crises, can help us recognize and prevent similar disasters today, making us more informed and responsible citizens. Additionally, history gives us context for our own experiences. When COVID-19 struck, few remembered the 1918 flu pandemic, yet historians quickly drew parallels to warn about the dangers of a second wave and the importance of precautions. By understanding the struggles and triumphs of those before us, we see repeating patterns and find comfort in knowing that humanity has faced—and overcome—similar challenges before. In essence, history equips us with the insight to understand change, learn from errors, and navigate our present with a deeper awareness of the human experience.

SubQuestion No : 20

Q.20 Identify the antonym of the word 'prevent' (used in the passage).

Q.1 Identify the one-word substitute to the following.

A place where animals are slaughtered

- Ans
- 1. Dairy
 - 2. Aquarium
 - 3. Aviary
 - 4. Abattoir

Q.2 Select the option that rectifies the INCORRECTLY spelt word in the given sentence.

The maintenance crew arrived early, submitted the license papers, followed necessary protocols, and resolved the equipment issue with great efficiency.

- Ans
- 1. licence
 - 2. efficiency
 - 3. maintenance
 - 4. equipement

Q.3 Select the most appropriate one-word substitute for the underlined segment in the sentence given below.

After numerous attempts to change his reckless behavior, it became clear to everyone that he is beyond reform.

- Ans
- 1. indigent
 - 2. incorrigible
 - 3. redeemable
 - 4. sluggish

Q.4 Select the most appropriate synonym of the given word.

Pious

- Ans
- 1. Wicked
 - 2. Devout
 - 3. Healthy
 - 4. Afraid

Q.5 Select the option which best represents the meaning of the given proverb.

A creaking door hangs long on its hinges.

- Ans
- 1. Those who are frail or often ailing quite often live a long life.
 - 2. Noisy, annoying things are often the first to be replaced.
 - 3. It is important to fix small problems before they get worse.
 - 4. A faulty mechanism will invariably lead to a larger problem.

Q.6 Choose the closest meaning of the word given below.

Reinforcement

- Ans
- 1. PREVENTION
 - 2. INTERFERENCE
 - 3. ENCUMBRANCE
 - 4. BUTTRESS

Q.7 Select the option that can be used as a one-word substitute for the phrase in brackets in the given sentence.

Watching the feats of the acrobat, who was a/an (expert at walking on a thin wire) suspended high above the circus arena, was a thrilling experience for spectators.1553

- Ans
- 1. funambulist
 - 2. somniloquist
 - 3. noctambulist
 - 4. chiropodist

Q.8 Rectify the sentence by selecting the correct spelling of the highlighted word from the given options.

The astronomer carefully and sincerely observed the **aphelon** of the orbit of the planet, keeping a note of the distance of the planet from the Sun during its journey through space.

- Ans
- 1. apheloin
 - 2. aphilon
 - 3. apheelion
 - 4. aphelion

Q.9 Identify the word opposite in meaning of the underlined word in the given sentence.

Ambition should be made of sterner stuff.

- Ans
- 1. modern
 - 2. tough
 - 3. softer
 - 4. hard-hearted

Q.10 Choose the appropriate word from the options given below to substitute the given group of words.

To decide a political question by the direct vote of the whole electorate

- Ans
- 1. Referendum
 - 2. Regent
 - 3. Stratocracy
 - 4. Absolutist

Q.11 Parts of a sentence are given below in jumbled order. Arrange the parts in the correct order to form a meaningful sentence.

- A. and led to new forms of
- B. the fall of the Berlin Wall
- C. governance and economic change
- D. of communist rule in Eastern Europe
- E. in 1989 marked the end

- Ans
- 1. BADEC
 - 2. ACEDB
 - 3. DECAB
 - 4. BEDAC

Q.12 Select the most appropriate meaning of the given proverb.

Actions speak louder than words.³⁴

- Ans**
- 1. What people do is more important than what they say.
 - 2. Silence is golden and indirectly speaks a lot.
 - 3. Words have the power to change lives if given attention.
 - 4. Speaking softly gets more attention from the audience.

Q.13 Choose the most appropriate meaning of the given proverb.

A stitch in time saves nine

- Ans**
- 1. Sewing should be done early
 - 2. Don't delay finishing work
 - 3. Repairs should always involve nine stitches
 - 4. Timely action prevents bigger problems

Q.14 Choose the correct meaning of the proverb 'All that glitters is not gold'.

- Ans**
- 1. Everything shiny is expensive.
 - 2. Appearances can be deceptive.
 - 3. Gold is the most precious metal.
 - 4. Valuable things are always shiny.

Q.15 Select the most appropriate antonym of the given word.

Mighty

- Ans**
- 1. Feeble
 - 2. Haughty
 - 3. Robust
 - 4. Tough

Comprehension:

Read the given passage and answer questions that follow.

For a long time, people have wondered if we truly have free will—the power to make our own choices. It feels natural to believe we choose freely, but new research in brain science questions this idea. Some experiments show that our brain may start preparing for a decision even before we are aware of making it. This makes us ask: Are our actions already decided by our brain before we know it? Not everyone agrees with this view. Some say it makes the idea of free will too simple. They believe that even if the brain starts the process, we can still think, reflect, and change our minds. Also, our society, laws, and ideas of right and wrong are based on the belief that people choose their actions and are responsible for them. So, the question is still open. Free will might be real or just an illusion, but it remains a big part of who we are.

SubQuestion No : 16

Q.16 According to the passage, what have some brain experiments shown?

Comprehension:

Read the given passage and answer questions that follow.

For a long time, people have wondered if we truly have free will—the power to make our own choices. It feels natural to believe we choose freely, but new research in brain science questions this idea. Some experiments show that our brain may start preparing for a decision even before we are aware of making it. This makes us ask: Are our actions already decided by our brain before we know it? Not everyone agrees with this view. Some say it makes the idea of free will too simple. They believe that even if the brain starts the process, we can still think, reflect, and change our minds. Also, our society, laws, and ideas of right and wrong are based on the belief that people choose their actions and are responsible for them. So, the question is still open. Free will might be real or just an illusion, but it remains a big part of who we are.

SubQuestion No : 17

Q.17 What is the overall tone of the passage?

Comprehension:

Read the given passage and answer questions that follow.

For a long time, people have wondered if we truly have free will—the power to make our own choices. It feels natural to believe we choose freely, but new research in brain science questions this idea. Some experiments show that our brain may start preparing for a decision even before we are aware of making it. This makes us ask: Are our actions already decided by our brain before we know it? Not everyone agrees with this view. Some say it makes the idea of free will too simple. They believe that even if the brain starts the process, we can still think, reflect, and change our minds. Also, our society, laws, and ideas of right and wrong are based on the belief that people choose their actions and are responsible for them. So, the question is still open. Free will might be real or just an illusion, but it remains a big part of who we are.

SubQuestion No : 18

Q.18 What is the main theme of the passage?

Comprehension:

Read the given passage and answer questions that follow.

For a long time, people have wondered if we truly have free will—the power to make our own choices. It feels natural to believe we choose freely, but new research in brain science questions this idea. Some experiments show that our brain may start preparing for a decision even before we are aware of making it. This makes us ask: Are our actions already decided by our brain before we know it? Not everyone agrees with this view. Some say it makes the idea of free will too simple. They believe that even if the brain starts the process, we can still think, reflect, and change our minds. Also, our society, laws, and ideas of right and wrong are based on the belief that people choose their actions and are responsible for them. So, the question is still open. Free will might be real or just an illusion, but it remains a big part of who we are.

SubQuestion No : 19

Q.19 Choose the antonym of 'illusion' as used in the passage.

Comprehension:

Read the given passage and answer questions that follow.

For a long time, people have wondered if we truly have free will—the power to make our own choices. It feels natural to believe we choose freely, but new research in brain science questions this idea. Some experiments show that our brain may start preparing for a decision even before we are aware of making it. This makes us ask: Are our actions already decided by our brain before we know it? Not everyone agrees with this view. Some say it makes the idea of free will too simple. They believe that even if the brain starts the process, we can still think, reflect, and change our minds. Also, our society, laws, and ideas of right and wrong are based on the belief that people choose their actions and are responsible for them. So, the question is still open. Free will might be real or just an illusion, but it remains a big part of who we are.

SubQuestion No : 20

Q.20 Which of the following would be the most appropriate title for the passage?

Section : Test of Hindi Language and Comprehension

**Q.1 नीचे दिए गए वाक्य के किस भाग में अशुद्धि है ?
अपने वचन पर स्थायी रहो ।**

- Ans**
- 1. रहो ।
 - 2. स्थायी
 - 3. अपने
 - 4. वचन पर

**Q.2 नीचे दिए गए विकल्पों में से सटीक कारक चिह्न चुनकर वाक्य पूर्ण कीजिए।
आधुनिक युग की विभिन्न जटिलताओं _____ उबरने के लिए मानसिक शांति और आध्यात्मिक चिंतन की परम आवश्यकता है।**

- Ans**
- 1. को
 - 2. से
 - 3. में
 - 4. पर

Q.3 दिये गये वाक्य का रिक्त स्थान सर्वोचित विशेषण शब्द से पूर्ण करें-

हमने बाज़ार से ताज़ी सब्ज़ियाँ खरीदीं जो बहुत स्वादिष्ट थीं।

- Ans
- 1. कैसी
 - 2. दूनी
 - 3. कुछ
 - 4. कोई

Q.4 'आस्तीन का साँप' -मुहावरे का उचित अर्थ क्या है?761

- Ans
- 1. विश्वासघाती मित्र
 - 2. अनहोनी बात
 - 3. अजीब दास्तों
 - 4. धड़कन बढ़ाना

Q.5 उचित विशेषण का प्रयोग कर वाक्य पूर्ण करें-
बच्चे को मनाना आसान नहीं होता।

- Ans
- 1. गाढ़ा
 - 2. साप्ताहिक
 - 3. नखरैल
 - 4. प्रौढ़

Q.6 नीचे दिए गए प्रश्न में, AE अंकित पांच कथन हैं। एक को छोड़कर सभी कथन एक ही संदर्भ से संबंधित हैं। दिए गए विकल्पों में से बेजोड़ को ढूँढें और सही उत्तर को चिह्नित करें।

- (A) आदिवासी समाज के लोगों को जीने के लिए मुख्य रूप से तीन चीजों की आवश्यकता होती है।
- (B) काफी समय से जीवन व्यतीत कर रहे आदिवासी लोग अब तक जंगल में निवास करते आ रहे हैं।
- (C) 'काश्मीर सुषमा' की भाषा सरस तथा माधुर्य गुण से परिपूर्ण है।
- (D) जीवन जीने के तरीके को सभी आदिवासी लोगों ने युगों-युगों से संगठन के रूप में संजोकर रखा है।
- (E) आदिवासी समाज आदिवासी लोगों की अस्मिता के नाम और परिभाषा दोनों से गहरा संबंध बनाता है।

- Ans
- 1. C
 - 2. A
 - 3. E
 - 4. D

Q.7 निम्न वाक्य के रिक्त स्थान में सही कारक चिह्न का प्रयोग कर वाक्य पूर्ण करें -
'वह अभी तक हैदराबाद नहीं लौटा है।'

- Ans
- 1. के लिए
 - 2. से
 - 3. का
 - 4. ने

Q.8 निम्नलिखित वाक्यांश के लिए सार्थक शब्द चुनिए -
जो कम बोलता हो

- Ans
- 1. मूर्ख
 - 2. मितभाषी
 - 3. आधा-अधूरा
 - 4. अज्ञानी

Q.9 निम्न वाक्यों में से अतिरिक्त वाक्य चुनिए -

- Ans
- 1. रेलगाड़ी समय पर स्टेशन पहुँची।
 - 2. सीता खाना खा रही है।
 - 3. यात्रियों ने सामान उतारा।
 - 4. सभी यात्री अपने गंतव्य को खाना हो गए।

Q.10 दिए गए वाक्य को उचित क्रम में लिखें-

1. प्रायः सब वस्तुओं की
2. चाहें उसे घर लेती है
3. जब खरीदार बिना किसी
4. लक्ष्य के बाजार में जाता है तो

Ans 1. 3,4,1,2

2. 3,2,4,1

3. 1,2,3,4

4. 4,3,2,1

Q.11 निम्नलिखित वाक्य में अशुद्धि को पहचान कर सही वाक्य वाले विकल्प का चयन कीजिए-
महोदय ! तुझे ऐसा नहीं करना चाहिए।

Ans 1. महोदय ! आपको ऐसा नहीं करना चाहिए।

2. महोदय ! आपको ऐसा नहीं करना चाहिए।

3. महोदय ! आपको ऐसा नहीं करना चाहिए।

4. महोदय ! आपसे ऐसा नहीं करना चाहिए।

Q.12 "बंदर क्या जाने अदरक का स्वाद" लोकोक्ति का अर्थ क्या है -

Ans 1. अदरक खाना

2. अयोग्य व्यक्ति उत्तम वस्तु की कद्र नहीं कर सकता

3. स्वाद लेना

4. बंदर पालना

Q.13 'जंगल में लगने वाली आग'- वाक्यांश के लिए एक सार्थक शब्द क्या होगा?

Ans 1. दावानल

2. बड़वानल

3. विद्युताग्नि

4. जठरानल

Q.14 निम्नलिखित वाक्य के रिक्त स्थान में कारक चिह्न का प्रयोग करें -
'रश्मि गाजर का हलवा पसंद है।'

Ans 1. को

2. पर

3. में

4. से

Q.15 दिए गए वाक्यों में से पूर्ण रूप से शुद्ध वाक्य का चयन कीजिए।

Ans 1. भारत में सभी प्रादेशिक भाषाएँ है।

2. भारत में कई प्रादेशिक भाषाएँ हैं।

3. भारत में कइयों प्रादेशिक भाषाएँ हैं।

4. भारत में कई प्रादेशिक भाषाएँ हैं।

Comprehension:

दिए गए गद्यांश को ध्यानपूर्वक पढ़कर पूछे गए प्रश्नों के सर्वाधिक उपयुक्त उत्तर वाले विकल्प को चुनिए -

रीतिबद्ध कवियों का प्रेम-चित्रण रसिकता एवं कामुकता से ओतप्रोत है, किन्तु रीतिमुक्त कवियों के प्रेम-चित्रण में अकृत्रिमता, स्वच्छंदता एवं उदात्तता है। उनका प्रेम-निरूपण हृदय की अनुभूति से उद्भूत है, अतः उसमें रंचमात्र भी बनावट दिखाई नहीं पड़ती है। प्रेम व्यापारों के चित्रण में इन कवियों ने कृत्रिमता को त्यागकर अनुभूतिपरकता को महत्व दिया है। प्रणय विभोर मन की ऐसी कोई वृत्ति नहीं है जिसका सहज स्वाभाविक चित्रण घननांद ने न किया हो। अनुभूति की तीव्रता, अभिव्यंजना की सशक्तता एवं प्रभाव की तीक्ष्णता की दृष्टि से घननांद रीतिमुक्त धारा के सर्वश्रेष्ठ कवि हैं। आचार्य रामचन्द्र शुक्ल ने उनकी प्रशंसा करते हुए लिखा है - प्रेममार्ग का ऐसा प्रवीण और धीर पथिक तथा जवांदानी का ऐसा दावा करने वाला ब्रजभाषा का दूसरा कवि नहीं हुआ।" रीतिमुक्त कवियों ने अभिव्यक्ति को प्रमुखता देते हुए वैयक्तिक जीवन की अनुभूतियों को काव्य में अभिव्यक्त किया है। वे किराए के आंसुओं से नहीं अपितु अपने आंसुओं से रो रहे हैं।

SubQuestion No : 16

Q.16 उक्त अवतरण की विषय-वस्तु इनमें से क्या है ?

Comprehension:

दिए गए गद्यांश को ध्यानपूर्वक पढ़कर पूछे गए प्रश्नों के सर्वाधिक उपयुक्त उत्तर वाले विकल्प को चुनिए -

रीतिबद्ध कवियों का प्रेम-चित्रण रसिकता एवं कामुकता से ओतप्रोत है, किन्तु रीतिमुक्त कवियों के प्रेम-चित्रण में अकृत्रिमता, स्वच्छंदता एवं उदात्तता है। उनका प्रेम-निरूपण हृदय की अनुभूति से उद्भूत है, अतः उसमें रंचमात्र भी बनावट दिखाई नहीं पड़ती है। प्रेम व्यापारों के चित्रण में इन कवियों ने कृत्रिमता को त्यागकर अनुभूतिपरकता को महत्व दिया है। प्रणय विभोर मन की ऐसी कोई वृत्ति नहीं है जिसका सहज स्वाभाविक चित्रण घननांद ने न किया हो। अनुभूति की तीव्रता, अभिव्यंजना की सशक्तता एवं प्रभाव की तीक्ष्णता की दृष्टि से घननांद रीतिमुक्त धारा के सर्वश्रेष्ठ कवि हैं। आचार्य रामचन्द्र शुक्ल ने उनकी प्रशंसा करते हुए लिखा है - प्रेममार्ग का ऐसा प्रवीण और धीर पथिक तथा जवांदानी का ऐसा दावा करने वाला ब्रजभाषा का दूसरा कवि नहीं हुआ। रीतिमुक्त कवियों ने अभिव्यक्ति को प्रमुखता देते हुए वैयक्तिक जीवन की अनुभूतियों को काव्य में अभिव्यक्त किया है। वे किराए के आंसुओं से नहीं अपितु अपने आंसुओं से रो रहे हैं।

SubQuestion No : 17

Q.17 प्रेम मार्ग का प्रवीण एवं धीर पथिक आचार्य शुक्ल ने किस कवि को कहा है ?

Comprehension:

दिए गए गद्यांश को ध्यानपूर्वक पढ़कर पूछे गए प्रश्नों के सर्वाधिक उपयुक्त उत्तर वाले विकल्प को चुनिए -

रीतिबद्ध कवियों का प्रेम-चित्रण रसिकता एवं कामुकता से ओतप्रोत है, किन्तु रीतिमुक्त कवियों के प्रेम-चित्रण में अकृत्रिमता, स्वच्छंदता एवं उदात्तता है। उनका प्रेम-निरूपण हृदय की अनुभूति से उद्भूत है, अतः उसमें रंचमात्र भी बनावट दिखाई नहीं पड़ती है। प्रेम व्यापारों के चित्रण में इन कवियों ने कृत्रिमता को त्यागकर अनुभूतिपरकता को महत्व दिया है। प्रणय विभोर मन की ऐसी कोई वृत्ति नहीं है जिसका सहज स्वाभाविक चित्रण घननांद ने न किया हो। अनुभूति की तीव्रता, अभिव्यंजना की सशक्तता एवं प्रभाव की तीक्ष्णता की दृष्टि से घननांद रीतिमुक्त धारा के सर्वश्रेष्ठ कवि हैं। आचार्य रामचन्द्र शुक्ल ने उनकी प्रशंसा करते हुए लिखा है - प्रेममार्ग का ऐसा प्रवीण और धीर पथिक तथा जवांदानी का ऐसा दावा करने वाला ब्रजभाषा का दूसरा कवि नहीं हुआ। रीतिमुक्त कवियों ने अभिव्यक्ति को प्रमुखता देते हुए वैयक्तिक जीवन की अनुभूतियों को काव्य में अभिव्यक्त किया है। वे किराए के आंसुओं से नहीं अपितु अपने आंसुओं से रो रहे हैं।

SubQuestion No : 18

Q.18 किन कवियों के प्रेम चित्रण में अकृत्रिमता एवं उदात्तता है ?

Comprehension:

दिए गए गद्यांश को ध्यानपूर्वक पढ़कर पूछे गए प्रश्नों के सर्वाधिक उपयुक्त उत्तर वाले विकल्प को चुनिए -

रीतिबद्ध कवियों का प्रेम-चित्रण रसिकता एवं कामुकता से ओतप्रोत है, किन्तु रीतिमुक्त कवियों के प्रेम-चित्रण में अकृत्रिमता, स्वच्छंदता एवं उदात्तता है। उनका प्रेम-निरूपण हृदय की अनुभूति से उद्भूत है, अतः उसमें रंचमात्र भी बनावट दिखाई नहीं पड़ती है। प्रेम व्यापारों के चित्रण में इन कवियों ने कृत्रिमता को त्यागकर अनुभूतिपरकता को महत्व दिया है। प्रणय विभोर मन की ऐसी कोई वृत्ति नहीं है जिसका सहज स्वाभाविक चित्रण घननांद ने न किया हो। अनुभूति की तीव्रता, अभिव्यंजना की सशक्तता एवं प्रभाव की तीक्ष्णता की दृष्टि से घननांद रीतिमुक्त धारा के सर्वश्रेष्ठ कवि हैं। आचार्य रामचन्द्र शुक्ल ने उनकी प्रशंसा करते हुए लिखा है - प्रेममार्ग का ऐसा प्रवीण और धीर पथिक तथा जवांदानी का ऐसा दावा करने वाला ब्रजभाषा का दूसरा कवि नहीं हुआ। रीतिमुक्त कवियों ने अभिव्यक्ति को प्रमुखता देते हुए वैयक्तिक जीवन की अनुभूतियों को काव्य में अभिव्यक्त किया है। वे किराए के आंसुओं से नहीं अपितु अपने आंसुओं से रो रहे हैं।

SubQuestion No : 19

Q.19 "वे किराए के आंसुओं से नहीं अपने आंसुओं से रो रहे हैं" का वास्तविक अभिप्राय है -

Comprehension:

दिए गए गद्यांश को ध्यानपूर्वक पढ़कर पूछे गए प्रश्नों के सर्वाधिक उपयुक्त उत्तर वाले विकल्प को चुनिए -

रीतिबद्ध कवियों का प्रेम-चित्रण रसिकता एवं कामुकता से ओतप्रोत है, किन्तु रीतिमुक्त कवियों के प्रेम-चित्रण में अकृत्रिमता, स्वच्छंदता एवं उदात्तता है। उनका प्रेम-निरूपण हृदय की अनुभूति से उद्भूत है, अतः उसमें रंचमात्र भी बनावट दिखाई नहीं पड़ती है। प्रेम व्यापारों के चित्रण में इन कवियों ने कृत्रिमता को त्यागकर अनुभूतिपरकता को महत्व दिया है। प्रणय विभोर मन की ऐसी कोई वृत्ति नहीं है जिसका सहज स्वाभाविक चित्रण घननांद ने न किया हो। अनुभूति की तीव्रता, अभिव्यंजना की सशक्तता एवं प्रभाव की तीक्ष्णता की दृष्टि से घननांद रीतिमुक्त धारा के सर्वश्रेष्ठ कवि हैं। आचार्य रामचन्द्र शुक्ल ने उनकी प्रशंसा करते हुए लिखा है - प्रेममार्ग का ऐसा प्रवीण और धीर पथिक तथा जवांदानी का ऐसा दावा करने वाला ब्रजभाषा का दूसरा कवि नहीं हुआ। रीतिमुक्त कवियों ने अभिव्यक्ति को प्रमुखता देते हुए वैयक्तिक जीवन की अनुभूतियों को काव्य में अभिव्यक्त किया है। वे किराए के आंसुओं से नहीं अपितु अपने आंसुओं से रो रहे हैं।

SubQuestion No : 20

Q.20 उपर्युक्त अवतरण का उपयुक्त शीर्षक होगा -

Section : Test of Hindi Language and Comprehension1

Q.1 निम्न में से 'गठरी बाँधना' मुहावरे का सही अर्थ कौन-सा है ?

Ans ✓ 1. जाने को तैयार होना

✗ 2. हाथ पैर तोड़ना

✗ 3. निंदनीय काम करना

✗ 4. कष्ट में पड़ना

Q.2 'चंडाल चौकड़ी' मुहावरे का सही अर्थ क्या होगा?

- Ans
- 1. निंदा करना
 - 2. संकट में डालना
 - 3. डाह से कुढ़ना
 - 4. निकम्मे बदमाश लोग

Q.3 निम्नलिखित विकल्पों में से अनेकार्थी शब्द 'विषम' का एक अर्थ नहीं है?

- Ans
- 1. विचार
 - 2. असमान
 - 3. बहुत कठिन
 - 4. भीषण

Q.4 निम्नलिखित में से कौन-सा शब्द 'साधारण' का विलोम नहीं है?

- Ans
- 1. कुरूप
 - 2. भद्दा
 - 3. पारलौकिक
 - 4. भोंडा

Q.5 निम्नलिखित में से कौन-सा शब्द 'सम्मानित' का विलोम नहीं है?

- Ans
- 1. सीमित
 - 2. अपमानित
 - 3. असम्मानित
 - 4. उपेक्षित

Q.6 'अनुयायी' का पर्यायवाची शब्द क्या होगा?

- Ans
- 1. अनुगामी
 - 2. विख्यात
 - 3. उपास्य
 - 4. परम

Q.7 वर्तनी के आधार पर दिए गए वाक्य के किस भाग में त्रुटि है?
कविता में भावों की अभिव्यक्ति नैसर्गिक होनी चाहिए।

- Ans
- 1. कविता में
 - 2. नैसर्गिक होनी चाहिए
 - 3. भावों की
 - 4. अभिव्यक्ति

Q.8 'मातृ' का तद्भव रूप निम्न में से चुनिए -

- Ans
- 1. मात
 - 2. माँ
 - 3. माय्
 - 4. माता

Q.9 'चौरिका' के तद्भव शब्द की पहचान कीजिए-

- Ans
- 1. चैत
 - 2. चौकोर
 - 3. चोरी
 - 4. चौक

Q.10 निम्न में से 'अंधे की लकड़ी' मुहावरे का सही अर्थ कौन-सा है ?

- Ans
- 1. परवाह न करना
 - 2. एक मात्र सहारा
 - 3. बिना मेहनत सफलता पाना
 - 4. अपव्यय करना

Q.11 निम्न में से 'आशय' का पर्याय है--

- Ans
- 1. कौतुक
 - 2. आर्थिक
 - 3. सहारा
 - 4. अभिप्राय

Q.12 वर्तनी की दृष्टि से दिये गये वाक्य के किस अंश में त्रुटि है?
निरंतर पर्यास के बिना असाधारण सफलता प्राप्त नहीं होती।

- Ans
- 1. पर्यास
 - 2. सफलता
 - 3. असाधारण
 - 4. निरंतर

Q.13 'ठेस' के अनेकार्थक शब्द हैं -

- Ans
- 1. चोट, आघात
 - 2. समय, मौत
 - 3. वेद, रंग
 - 4. घड़ा, कलश

Q.14 निम्नलिखित वाक्य में त्रुटि पहचान कर उसके शुद्ध रूप का चयन कीजिए।
'राज्य की गतिविधियों के बतौर भी सैकुलरवाद अव्यावहारिक है।'

- Ans
- 1. राज्य की गतिविधियों के बतौर भी सैकुलरवाद अव्यावहारिक है।
 - 2. राज्य की गतिविधियों के बतौर भी सैकुलरवाद अव्यावहारिक है।
 - 3. राज्य की गतिविधियों के बतौर भी सैकुलरवाद अव्यावहारिक है।
 - 4. राज्य की गतिविधियों के बतौर भी सैकुलरवाद अव्यावहारिक है।

Q.15 निम्नलिखित में से शुद्ध वर्तनी वाला वाक्य कौन सा है?

- Ans
- 1. भारत में पर्यटन की बहुत संभावनाएं हैं ।
 - 2. भारत में पर्यतन की बहुत संभावनाएं हैं ।
 - 3. भारत में परीतान की बहुत संभावनाएं हैं ।
 - 4. भारत में परीटन बहुत संभावनाएं हैं ।

Comprehension:

निम्नलिखित गद्यांश को ध्यानपूर्वक पढ़कर पूछे गये प्रश्नों के सही उत्तर दीजिए।

मानव जीवन में संतुलन एक अनिवार्य आवश्यकता है। आधुनिक युग की तीव्र गति में व्यक्ति भौतिक सुख, पारिवारिक जीवन, स्वास्थ्य संवर्धन एवं आत्मिक उन्नति के मध्य संतुलन खोजता रहता है। किसी एक पक्ष का प्राधान्य अन्य को दबा देता है, जिससे मानसिक अशांति, शारीरिक दुर्बलता एवं भावनात्मक शोषण उत्पन्न होता है। संतुलित जीवन ही सच्ची प्रगति का मार्ग प्रशस्त करता है। संतुलन का तात्पर्य है शारीरिक, मानसिक, सामाजिक एवं आध्यात्मिक घटकों का समावेशी समन्वय। प्राचीन ग्रंथों में इसे 'समत्व योग' कहा गया है, जहाँ सुख-दुख, लाभ-हानि में समान भाव रहता है। विवेक हृदय को नियंत्रित करता है, कर्म बुद्धि को संचालित करता है तथा त्याग इच्छाओं को वश में करता है। इनका विपरीत असंतुलन विनाश का कारण बनता है। प्रतिदिन ध्यान-अभ्यास, कार्य-विश्राम का विधान, सात्विक भोजन एवं नैतिक मूल्यों का पालन संतुलन लाता है। धैर्य, संयम एवं करुणा से युक्त जीवन ही पूर्णता प्राप्त करता है। अन्ततः संतुलन जीवन का मूलमंत्र है।

SubQuestion No : 16

Q.16 गद्यांश के अनुसार संतुलन के लिए कौन-सा तत्व हृदय को नियंत्रित करता है?

