



GOVT. OF NCT OF DELHI
Delhi Subordinate Services Selection Board
FC-18, Institutional Area, Karkardooma, Delhi – 110092.
www.dsssb.delhigovt.nic.in

Participant Name	Amrit gupt
Test Center Name	Adarsh Pariksha Kendra CENTER B - Gate No 2 - Noida Sector 64
Test Date	26/02/2026
Test Time	1:00 PM - 3:00 PM
Subject	Multi Tasking Staff

Section : General intelligence and Reasoning Ability

Q.1 56 व्यक्ति उत्तर दिशा की ओर अभिमुख होकर एक पंक्ति में खड़े हैं। पैम्स बाएँ छोड़ से 14वें स्थान पर है जबकि सैम्स दाएँ छोड़ से 25वें स्थान पर है। पैम्स और सैम्स के बीच कितने व्यक्ति हैं?

- Ans
- 1. 14
 - 2. 15
 - 3. 17
 - 4. 16

Q.2 C, D, E, F, L, M और N में से प्रत्येक की परीक्षा सोमवार से शुरू होकर रविवार को समाप्त होने वाले उसी सप्ताह के अलग-अलग दिन है। F और N के बीच केवल तीन व्यक्तियों की परीक्षा है। N की परीक्षा सप्ताह के अंतिम दिन है। C और L के बीच केवल एक व्यक्ति की परीक्षा है। E की परीक्षा, M से ठीक एक दिन पहले है। D की परीक्षा शुक्रवार को नहीं है। C की परीक्षा L से पहले है। D और E के बीच कितने व्यक्तियों की परीक्षा है?

- Ans
- 1. तीन
 - 2. एक
 - 3. दो
 - 4. चार

Q.3 एक निश्चित कूट भाषा में, 'second to none' को 'zh bg sp' के रूप में कूटबद्ध किया जाता है और 'she came second' को 'km sp cy' के रूप में कूटबद्ध किया जाता है। दी गई भाषा में 'second' को कैसे कूटबद्ध किया जाएगा? (सभी कूट दो अक्षरीय कूट हैं)

- Ans
- 1. cy
 - 2. zh
 - 3. sp
 - 4. bg

Q.4 A, B, C, D, E, F और G उत्तर की ओर अभिमुख होकर एक सीधी पंक्ति में बैठे हैं। G और C के बीच केवल पाँच व्यक्ति बैठे हैं। F, C के ठीक बाईं ओर पड़ोस में बैठा है। F और A के बीच केवल एक व्यक्ति बैठा है। D, E के बाईं ओर किसी स्थान पर और B के दाईं ओर किसी स्थान पर बैठा है। D के दाईं ओर कितने व्यक्ति बैठे हैं?

- Ans
- 1. 3
 - 2. 4
 - 3. 1
 - 4. 2

Q.5 एक निश्चित कूट भाषा में, 'smoking is not good habit' को 'pk by mn qj az' के रूप में और 'you are not bad boy' को 'dh az gt ol cx' के रूप में कूटबद्ध किया जाता है। दी गई भाषा में 'not' को कैसे कूटबद्ध किया गया है?

- Ans
- 1. gt
 - 2. az
 - 3. ol
 - 4. qj

Q.6 यदि शब्द PANTHER के प्रत्येक अक्षर को अंग्रेजी वर्णमाला क्रम में व्यवस्थित किया जाए, तो कितने अक्षरों की स्थिति अपरिवर्तित रहेगी?

- Ans
- 1. 1
 - 2. 2
 - 3. 3
 - 4. 0

Q.7 दी गई अक्षर श्रृंखला का संदर्भ लीजिए और दिए गए प्रश्न का उत्तर दीजिए। गिनती केवल बाएँ से दाएँ की जानी चाहिए।

(बाएँ) X K Y Z W A M Q T E H G U B R D C S F I O (दाएँ)

ऐसे कितने स्वर हैं, जिनमें से प्रत्येक के ठीक पहले एक स्वर है और ठीक बाद में भी एक स्वर है?

- Ans
- 1. 0
 - 2. 3
 - 3. 2
 - 4. 1

Q.8 D, R की माता है। R, G की बहन है। O, N का पिता है। N, G का पुत्र है। D का N से क्या संबंध है?

- Ans
- 1. माता की बहन
 - 2. माता की माता
 - 3. माता
 - 4. बहन

Q.9 एक निश्चित कूट भाषा में, 'FAIL' को '6027' के रूप में कूटबद्ध किया जाता है और 'LIFE' को '2096' के रूप में कूटबद्ध किया जाता है। उसी भाषा में 'E' के लिए कूट क्या है?

- Ans
- 1. 6
 - 2. 2
 - 3. 9
 - 4. 0

Q.10 निम्नलिखित अक्षर श्रृंखला का संदर्भ लीजिए और दिए गए प्रश्न का उत्तर दीजिए। (गिनती केवल बाएँ से दाएँ की जानी चाहिए)

(बाएँ) F C X Q T Y H I M R G U K S D B Z E O W A (दाएँ)

ऐसे कितने व्यंजन हैं, जिनमें से प्रत्येक के ठीक पहले एक स्वर है और ठीक बाद में भी एक स्वर है?

- Ans
- 1. 1
 - 2. 0
 - 3. 3
 - 4. 2

Q.11 इस प्रश्न में, एक कथन के बाद दो निष्कर्ष दिए गए हैं। दिए गए कथन के आधार पर पता लगाइए कि कौन-सा निष्कर्ष सत्य है।

कथन: $P < G \geq C = K \leq R$

निष्कर्ष:

I. $K < G$

II. $R \geq P$

- Ans
- 1. केवल I सत्य है
 - 2. न तो I और न ही II सत्य है
 - 3. I और II दोनों सत्य हैं
 - 4. केवल II सत्य है

Q.12 महेश अपनी कक्षा में ऊपर से 15वें और नीचे से 19वें स्थान पर है। कक्षा में कुल कितने विद्यार्थी हैं?

- Ans
- 1. 34
 - 2. 33
 - 3. 35
 - 4. 32

Q.13 शब्द CLIMATE के प्रत्येक स्वर को अंग्रेजी वर्णमाला के क्रम में उसके बाद वाले अक्षर से और प्रत्येक व्यंजन को अंग्रेजी वर्णमाला के क्रम में उसके पहले वाले अक्षर से बदल दिया जाता है। इस प्रकार बने नए अक्षर-समूह में बाईं ओर से चौथा अक्षर निम्नलिखित में से कौन-सा होगा?

- Ans
- 1. M
 - 2. N
 - 3. L
 - 4. K

Q.14 दिए गए कथनों और निष्कर्षों को ध्यानपूर्वक पढ़ें। यह मानते हुए कि कथनों में दी गई जानकारी सत्य है, भले ही वह सामान्य रूप से ज्ञात तथ्यों से भिन्न प्रतीत हो, यह तय करें कि दिए गए निष्कर्षों में से कौन-से निष्कर्ष कथनों का तार्किक रूप से अनुसरण करते हैं?

कथन: सभी मिट्टी, कीचड़ हैं। कोई भी मिट्टी, खिलौना नहीं है।

निष्कर्ष (I): कुछ खिलौने, कीचड़ हैं।

निष्कर्ष (II): सभी कीचड़, खिलौने हैं।

- Ans
- 1. न तो निष्कर्ष (I) और न ही (II) अनुसरण करता है।
 - 2. केवल निष्कर्ष (II) अनुसरण करता है।
 - 3. केवल निष्कर्ष (I) अनुसरण करता है।
 - 4. दोनों निष्कर्ष (I) और (II) अनुसरण करते हैं।

Q.15 सात व्यक्ति J, K, L, M, P, Q और R उत्तर दिशा की ओर अभिमुख होकर एक सीधी पंक्ति में बैठे हैं। J के दाईं ओर केवल चार व्यक्ति बैठे हैं। L, J के दाईं ओर दूसरे स्थान पर बैठा है। L और K के बीच केवल एक व्यक्ति बैठा है। L और P के बीच केवल दो व्यक्ति बैठे हैं। R, M के दाईं ओर लेकिन Q के बाईं ओर किसी एक स्थान पर बैठा है। R के दाईं ओर कितने व्यक्ति बैठे हैं?

- Ans
- 1. तीन
 - 2. चार
 - 3. दो
 - 4. एक

Q.16 निम्नलिखित संख्या श्रृंखला का संदर्भ लें और नीचे दिए गए प्रश्न का उत्तर दें। सभी संख्याएँ केवल एकल अंकीय संख्याएँ हैं। (गिनती केवल बाएँ से दाएँ की जानी है।)

(बाएँ) 5 9 7 3 8 2 4 1 9 2 6 4 5 3 6 1 2 4 9 8 6 5 2 1 4 3 3 (दाएँ)

ऐसी कितनी सम संख्याएँ हैं, जिनमें से प्रत्येक के ठीक पहले एक विषम संख्या है और ठीक बाद में भी एक विषम संख्या है?

- Ans
- 1. तीन
 - 2. पाँच
 - 3. दो
 - 4. चार

Q.17 एक निश्चित कूट भाषा में,
A @ B का अर्थ है कि 'A, B का पिता है',
A > B का अर्थ है कि 'A, B की बहन है',
A ∈ B का अर्थ है कि 'A, B की पुत्री है',
A ¥ B का अर्थ है कि 'A, B का पुत्र है'।

उपरोक्त के आधार पर, यदि 'F ¥ G ∈ R @ S > T' है, तो F का T से क्या संबंध है?

- Ans
- 1. बहन का पुत्र
 - 2. पिता की माता
 - 3. पत्नी के पिता
 - 4. माता के पिता

Q.18 निम्नलिखित अक्षर, प्रतीक श्रृंखला का संदर्भ लीजिए और प्रश्न का उत्तर दीजिए।

(बाएँ) & P Z £ D Z Q D R % Y & F £ A £ K \$ δ # Ω (दाएँ)

यदि श्रृंखला से सभी प्रतीकों को निकाल दिया जाए, तो निम्नलिखित में से कौन-सा अक्षर दाएँ से नौवें स्थान पर होगा?

- Ans
- 1. D
 - 2. R
 - 3. Q
 - 4. Y

Q.19 नीचे एक कथन और उसके बाद दो निष्कर्ष, I और II, दिए गए हैं। दिए गए कथन के आधार पर पहचान कीजिए कि इनमें से कौन-से निष्कर्ष सत्य हैं।

कथन:

$$P = Q < R \leq S = T$$

निष्कर्ष:

I. $P < S$

II. $Q = T$

- Ans
- 1. केवल II सत्य है
 - 2. I और II दोनों सत्य हैं
 - 3. न तो I और न ही II सत्य है
 - 4. केवल I सत्य है

Q.20 छह बक्से B, C, D, E, O और P एक के ऊपर एक रखे हैं, लेकिन जरूरी नहीं कि इसी क्रम में रखे हों। C के ऊपर कोई बक्सा नहीं रखा है। C और O के बीच केवल दो बक्से रखे हैं। D और O के बीच केवल एक बक्सा रखा है। E, O के ठीक ऊपर रखा है। E और B के बीच केवल दो बक्से रखे हैं। P के नीचे कितने बक्से रखे हैं?

- Ans
- 1. तीन
 - 2. एक
 - 3. एक भी नहीं
 - 4. दो

Section : General intelligence and Reasoning Ability1

Q.1 दिए गए कथनों और निष्कर्षों को ध्यानपूर्वक पढ़िए। यह मानते हुए कि कथनों में दी गई जानकारी सत्य है, भले ही वह सामान्य रूप से ज्ञात तथ्यों से भिन्न प्रतीत हो, यह निर्धारित कीजिए कि दिए गए निष्कर्षों में से कौन-से निष्कर्ष कथनों का तार्किक रूप अनुसरण करते हैं।

कथन:

सभी द्वार, बटन हैं।

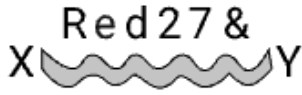
सभी मग, बटन हैं।

निष्कर्ष (I): कुछ द्वार, मग हैं।

निष्कर्ष (II): सभी मग, द्वार हैं।

- Ans
- 1. केवल निष्कर्ष (I) अनुसरण करता है
 - 2. निष्कर्ष (I) और (II) दोनों अनुसरण करते हैं
 - 3. न तो निष्कर्ष (I) और न ही (II) अनुसरण करता है
 - 4. केवल निष्कर्ष (II) अनुसरण करता है

Q.2 यदि जल स्रोत को चित्रानुसार X-Y के अनुदिश रखा जाए, तो दिए गए विकल्पों में से कौन-सा विकल्प दिए गए चित्र का जल प्रतिबिंब होगा?



- Ans
- 1. B 6 q 2 7 8
 - 2. R 6 q 5 1 8
 - 3. B 6 q 5 1 8
 - 4. p 6 8 5 1 8

Q.3 यदि संख्या 458767385423 के प्रत्येक सम अंक में से 1 घटाया जाए तथा प्रत्येक विषम अंक में 1 जोड़ा जाए, तो इस प्रकार बनी नई संख्या में बाईं ओर से दूसरे और दाईं ओर से तीसरे अंकों का योगफल कितना होगा?

- Ans
- 1. 8
 - 2. 7
 - 3. 10
 - 4. 9

Q.4 यदि 'A' का अर्थ '+' है, 'B' का अर्थ 'x' है, 'C' का अर्थ '+' है और 'D' का अर्थ '-' है, तो निम्नलिखित समीकरण में प्रश्न-चिह्न '?' के स्थान पर क्या आएगा?

$$4 B 84 A 12 C 10 D 21 = ?$$

- Ans
- 1. 16
 - 2. 15
 - 3. 17
 - 4. 18

Q.5 अंग्रेज़ी वर्णमाला क्रम पर आधारित, निम्नलिखित चार अक्षर-समूहों में से तीन एक निश्चित प्रकार से समान हैं और इस प्रकार एक गुप बनाते हैं। कौन-सा, उस गुप से संबंधित नहीं है?

(नोट: असंगत अक्षर-समूह, व्यंजनों/स्वरों की संख्या या उनकी स्थिति पर आधारित नहीं है।)

- Ans
- 1. AJD
 - 2. DMF
 - 3. GPI
 - 4. JSL

Q.6 उस त्रिक का चयन कीजिए, जो नीचे दिए गए दो त्रिकों द्वारा अनुसरण किए गए पैटर्न के समान पैटर्न का अनुसरण करता है। दोनों त्रिक समान पैटर्न का अनुसरण करते हैं।

GP-IR-LN
IR-KT-NP

- Ans
- 1. KU-NX-QR
 - 2. LU-NW-QR
 - 3. KU-NW-QR
 - 4. LU-NW-QS

Q.7 निम्नलिखित संख्या-युग्मों में, पहली संख्या पर कुछ गणितीय संक्रियाएँ करने से दूसरी संख्या प्राप्त होती है। X और Y को किन संख्याओं द्वारा प्रतिस्थापित किया जाना चाहिए ताकि :: के बाईं ओर की दो संख्याओं द्वारा अनुसरण किए गए पैटर्न, :: के दाईं ओर की दो संख्याओं द्वारा अनुसरण किए गए पैटर्न के समान हो? (नोट: संख्याओं को उसके घटक अंकों में तोड़े बिना, पूर्ण संख्याओं पर संक्रियाएँ की जानी चाहिए। उदाहरण के लिए 13 लीजिए - 13 पर संक्रियाएँ, जैसे कि 13 में जोड़ना/घटाना/गुणा करना आदि, की जा सकती है। 13 को 1 और 3 में तोड़ना तथा फिर 1 और 3 पर गणितीय संक्रियाएँ करने की अनुमति नहीं है)

X : 60 :: 40 : Y

- Ans
- 1. X = 90; Y = 30
 - 2. X = 80; Y = 20
 - 3. X = 75; Y = 45
 - 4. X = 80; Y = 30

Q.8 दी गई श्रृंखला में '?' के स्थान पर क्या आना चाहिए?

67 65 62 57 50 ?

- Ans
- 1. 41
 - 2. 43
 - 3. 39
 - 4. 37

Q.9 दी गई श्रृंखला में '?' के स्थान पर क्या आना चाहिए?

65 60 54 47 39 ?

- Ans
- 1. 32
 - 2. 26
 - 3. 30
 - 4. 28

Q.10 अंग्रेज़ी वर्णमाला क्रम पर आधारित, निम्नलिखित चार अक्षर-समूह युग्मों में से तीन एक निश्चित प्रकार से समान हैं और इस प्रकार एक ग्रुप बनाते हैं। कौन-सा, उस ग्रुप से संबंधित नहीं है?

(नोट: असंगत अक्षर-समूह युग्म, व्यंजनों/स्वरों की संख्या या उनकी स्थिति पर आधारित नहीं है।)

- Ans
- 1. YK - AM
 - 2. ZJ - BL
 - 3. PE - RH
 - 4. DL - FN

Q.11 एक निश्चित तरीके से UN 12 का संबंध XM -2 से है। इसी प्रकार, HG 16 का संबंध KF 2 से है। इसी तर्क का पालन करते हुए, PK 23 का संबंध निम्नलिखित में से किससे है?

- Ans
- 1. SS 6
 - 2. SG 4
 - 3. SJ 9
 - 4. SL 7

Q.12 उस समुच्चय का चयन करें, जिसमें संख्याएं उसी प्रकार से संबंधित हैं जिस प्रकार से निम्नलिखित समुच्चयों की संख्याएं संबंधित हैं।
(नोट: संख्याओं को उनके घटक अंकों में तोड़े बिना, संक्रियाएँ पूर्ण संख्याओं पर की जानी चाहिए। उदाहरण के लिए 13 को लीजिए - 13 पर संक्रियाएँ, जैसे कि 13 में जोड़ना / घटाना / गुणा करना आदि 13 पर ही, की जा सकती हैं। 13 को 1 और 3 में तोड़ने तथा फिर 1 और 3 पर गणितीय संक्रियाएँ करने की अनुमति नहीं है।)
(45,130)
(19,52)

- Ans
- 1. (26, 78)
 - 2. (37, 109)
 - 3. (58, 169)
 - 4. (41, 121)

Q.13 अंग्रेज़ी वर्णमाला क्रम पर आधारित, निम्नलिखित चार अक्षर-समूह युग्मों में से तीन एक निश्चित प्रकार से समान हैं और इस प्रकार वे एक युग्म बनाते हैं। कौन-सा अक्षर-समूह युग्म, उस युग्म से संबंधित नहीं है?
(नोट: असंगत अक्षर-समूह युग्म, उसमें व्यंजनों/स्वरों की संख्या या उनकी स्थिति पर आधारित नहीं है।)

- Ans
- 1. RN-ON
 - 2. YU-WS
 - 3. TP-RN
 - 4. LH-JF

Q.14 यदि संख्या 4251377 के प्रत्येक विषम अंक में 1 जोड़ा जाए और प्रत्येक सम अंक में से 2 घटाया जाए, तो इस प्रकार बनी नई संख्या में बाईं ओर से दूसरे अंक तथा दाईं ओर से दूसरे अंक का योगफल कितना होगा?

- Ans
- 1. 3
 - 2. 7
 - 3. 8
 - 4. 1

Q.15 यदि संख्या 5682137 के प्रत्येक विषम अंक में 1 जोड़ दिया जाए और प्रत्येक सम अंक से 2 घटा दिया जाए, तो इस प्रकार बनी नई संख्या में कितने अंक एक से अधिक बार आएंगे?

- Ans
- 1. दो
 - 2. एक भी नहीं
 - 3. तीन
 - 4. एक

Q.16 दी गई श्रृंखला में '?' के स्थान पर क्या आना चाहिए?

9 16 30 51 79 ?

- Ans
- 1. 105
 - 2. 103
 - 3. 114
 - 4. 106

Q.17 निम्नलिखित त्रिक में, अक्षरों का प्रत्येक समूह एक निश्चित तर्क के अनुसार अगले समूह से संबंधित है। दिए गए विकल्पों में से उस विकल्प का चयन कीजिए, जो समान तर्क का अनुसरण करता है।

CUBE - UCBE - CUEB
FOXY - OFXY - FOYX

- Ans
- 1. HAZY - HZAY - ZAYH
 - 2. GASP - AGSP - GAPS
 - 3. JIVE - VIEJ - EVIJ
 - 4. KNIT - TINK - KINT


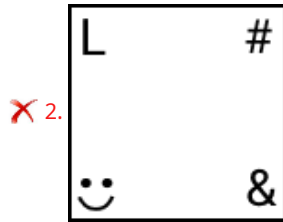

Q.18 उस समुच्चय का चयन कीजिए, जिसमें संख्याएं उसी प्रकार संबंधित हैं, जिस प्रकार निम्नलिखित समुच्चयों की संख्याएं संबंधित हैं।
 (नोट: संख्याओं को उनके घटक अंकों में तोड़े बिना संक्रियाएं केवल पूर्ण संख्याओं पर की जानी चाहिए। उदाहरण के लिए, 13 लीजिए - 13 पर संक्रियाएं, जैसे 13 में जोड़ना/घटाना/गुणा करना आदि किया जा सकता है। 13 को 1 और 3 में तोड़ना तथा फिर 1 और 3 पर गणितीय संक्रियाएं करने की अनुमति नहीं है।)
 (109, 23)
 (69, 15)

- Ans
- 1. (134, 27)
 - 2. (87, 19)
 - 3. (116, 24)
 - 4. (159, 33)

Q.19 विकल्पों में दी गई उस आकृति की पहचान कीजिए जिसे ? के स्थान पर रखने पर शृंखला तार्किक रूप से पूरी हो जाएगी।

Q	%	☺	Q#	☺	&	#	
@	R	R	%	%	Q	Q	☺
							?

Ans



Q.20 यदि संख्या 4218637 के प्रत्येक विषम अंक में 1 जोड़ा जाए और प्रत्येक सम अंक में से 2 घटाया जाए, तो इस प्रकार बनी नई संख्या में बाईं ओर से पहले अंक तथा दाईं ओर से पहले अंक का योगफल कितना होगा?

- Ans
- 1. 12
 - 2. 7
 - 3. 10
 - 4. 13

Section : General Awareness

Q.1 मार्च 2025 में, गुरिंदरवीर सिंह ने किस स्पर्धा में 10.20 सेकंड में 100 m का नया राष्ट्रीय रिकॉर्ड बनाया था?

- Ans
- 1. नेशनल ओपन एथलेटिक्स चैंपियनशिप
 - 2. एशियन एथलेटिक्स चैंपियनशिप
 - 3. इंडियन ग्रांड प्रिक्स 1
 - 4. फेडरेशन कप

Q.2 भारत के आर्थिक सर्वेक्षण 2024-2025 के अनुसार, निम्नलिखित में से कौन-सा राज्य भारत में गन्ने का सबसे बड़ा उत्पादक है?

- Ans
- 1. बिहार
 - 2. तेलंगाना
 - 3. उत्तर प्रदेश
 - 4. तमिलनाडु

Q.3 जून 2025 में गुजरात के विसावदर विधानसभा उपचुनाव में आम आदमी पार्टी के किस उम्मीदवार ने जीत हासिल की?

- Ans
- 1. राजेंद्र चावड़ा
 - 2. रमेशभाई चावड़ा
 - 3. गोपाल इटालिया
 - 4. संजीव अरोड़ा

Q.4 कन्नड़ को किस वर्ष शास्त्रीय भाषा घोषित किया गया था?

- Ans
- 1. 2008
 - 2. 2012
 - 3. 2006
 - 4. 2010

Q.5 जुलाई 2025 में, भारतीय खगोलविदों ने किस टेलीस्कोप का उपयोग करके अंतरतारकीय धूमकेतु C/2025 N1 (ATLAS) की तस्वीरें खींचीं?

- Ans
- 1. हिमालयन चंद्र टेलीस्कोप (HCT)
 - 2. वेणु बापू टेलीस्कोप (VBT)
 - 3. आर्यभट्ट रिसर्च इंस्टीट्यूट टेलीस्कोप (ARIES)
 - 4. जायंट मीटरवेव रेडियो टेलीस्कोप (GMRT)

Q.6 2025 में केंद्रीय मंत्री डॉ. जितेंद्र सिंह द्वारा भारतजेन शिखर सम्मेलन (BharatGen Summit) में लॉन्च किया गया कौन-सा AI मॉडल, भारतीय भाषाओं के लिए भारत का पहला स्वदेशी रूप से विकसित, सरकारी वित्त पोषित मल्टीमॉडल लार्ज लैंग्वेज मॉडल (LLM) है?

- Ans
- 1. संस्कृति AI (Sanskriti AI)
 - 2. इंडिकजीपीटी (IndicGPT)
 - 3. भारत जेन (Bharat Gen)
 - 4. वाणी LLM (Vani LLM)

Q.7 1857 के विद्रोह के दौरान, निम्नलिखित में से किस ने स्वयं को "भारत का सम्राट" घोषित किया था?

- Ans
- 1. बहादुर शाह द्वितीय
 - 2. तात्या टोपे
 - 3. कुंवर सिंह
 - 4. नाना साहब

Q.8 जनवरी 2025 में, जनरल (डॉ.) वी. के. सिंह ने किस भारतीय राज्य में राज्यपाल का पदभार ग्रहण किया?

- Ans
- 1. मिजोरम
 - 2. झारखंड
 - 3. त्रिपुरा
 - 4. नागालैंड

Q.9 भारत के निम्नलिखित में से किस क्षेत्र में घासीदास द्वारा कठोर हिंदू जाति व्यवस्था और उसके पदानुक्रम को चुनौती देने के लिए सतनामी आंदोलन की स्थापना की गई थी?

- Ans
- 1. केंद्रीय क्षेत्र
 - 2. उत्तरी क्षेत्र
 - 3. दक्षिणी क्षेत्र
 - 4. पश्चिमी क्षेत्र

Q.10 प्रत्येक वर्ष मानव विकास रिपोर्ट (HDI) जारी करने के लिए कौन-सा अंतर्राष्ट्रीय संगठन जिम्मेदार है?

- Ans
- 1. संयुक्त राष्ट्र विकास कार्यक्रम
 - 2. विश्व स्वास्थ्य संगठन
 - 3. विश्व बैंक
 - 4. अंतर्राष्ट्रीय मुद्रा कोष

Q.11 जनवरी 2025 से प्रभावी, निम्नलिखित में से किसे भारत सरकार द्वारा मुख्य आर्थिक सलाहकार के रूप में नियुक्त किया गया है?

- Ans
- 1. संजीव सिंह
 - 2. डॉ. वी. अनंत नागेश्वरन
 - 3. घनश्याम साहू
 - 4. डॉ. अनुराधा गुरु

Q.12 7 सितंबर, 2025 को, निम्नलिखित में से किस टीम को हराकर भारतीय पुरुष हॉकी टीम ने बिहार में आयोजित एशिया कप जीता था?

- Ans
- 1. पाकिस्तान
 - 2. जापान
 - 3. मलेशिया
 - 4. दक्षिण कोरिया

Q.13 2001 में, किस संस्था ने भारत सरकार को केवल खाद्यान्न वितरित करने के बजाय "पका हुआ (cooked)" मध्याह्न भोजन देने करने का निर्देश दिया था?

- Ans
- 1. शिक्षा मंत्रालय
 - 2. भारत का सर्वोच्च न्यायालय
 - 3. नीति (NITI) आयोग
 - 4. भारत की संसद

Q.14 आर्थिक सर्वेक्षण 2024-25 के अनुसार, प्रथम संशोधित अनुमानों के आधार पर वित्तीय वर्ष 2022-23 के दौरान स्थिर कीमतों पर भारत की प्रति व्यक्ति निवल राष्ट्रीय आय कितनी थी?

- Ans
- 1. ₹98,200
 - 2. ₹80,050
 - 3. ₹1,00,500
 - 4. ₹99,404

Q.15 जून 1858 में, रानी लक्ष्मीबाई और तांतिया टोपे ने मध्य भारत के किस रणनीतिक शहर पर सफलतापूर्वक कब्जा कर लिया था?

- Ans
- 1. फैजाबाद
 - 2. ग्वालियर
 - 3. आरा
 - 4. बरेली

Q.16 निम्नलिखित में से कौन, भारत में मुसलमानों के लिए आधुनिक शिक्षा की मांग करने वाले अलीगढ़ आंदोलन से संबंधित था?

- Ans
- 1. अब्दुल गफ्फार खान
 - 2. सर सैयद अहमद खान
 - 3. अब्दुल कलाम आजाद
 - 4. मौलाना शिबली नोमानी

Q.17 पांचवीं भारतीय ओपन थ्रो प्रतियोगिता 2026 का आयोजन कहाँ होने वाला था?

- Ans
- 1. पटियाला, पंजाब
 - 2. रांची, झारखंड
 - 3. भुवनेश्वर, ओडिशा
 - 4. बेंगलुरु, कर्नाटक

Q.18 निम्नलिखित में से किस प्रकार का रोजगार निश्चित नियोजक की अनुपस्थिति और आय सुरक्षा के अभाव से निकटता से जुड़ा हुआ है?

- Ans
- 1. अनौपचारिक क्षेत्र में स्व-रोजगार
 - 2. शिक्षता-आधारित रोजगार
 - 3. आकस्मिक वेतन रोजगार
 - 4. नियमित वेतनभोगी रोजगार

Q.19 निम्नलिखित में से कौन-सा आंदोलन आर्य समाज के संस्थापक स्वामी दयानंद सरस्वती द्वारा 20वीं शताब्दी में शुरू किया गया था?

- Ans
- 1. आत्म-सम्मान आंदोलन
 - 2. शुद्धि आंदोलन
 - 3. देव समाज आंदोलन
 - 4. युवा बंगाल आंदोलन

Q.20 निम्नलिखित में से कौन-सा विकल्प, बाजार मूल्य पर सकल घरेलू उत्पाद (GDP) से कारक लागत पर निवल राष्ट्रीय उत्पाद (NNP) तक पहुंचने के लिए आवश्यक समायोजन को सही तरह से निरूपित करता है?

- Ans
- 1. विदेश से प्राप्त निवल कारक आय घटाएँ, मूल्यहास जोड़ें और सब्सिडी जोड़ें
 - 2. निवल निर्यात घटाएँ, फिर मूल्यहास जोड़ें, फिर अप्रत्यक्ष कर घटाएँ
 - 3. मूल्यहास घटाएँ, विदेश से प्राप्त निवल कारक आय जोड़ें, फिर निवल अप्रत्यक्ष कर घटाएँ
 - 4. निवल निर्यात जोड़ें, व्यक्तिगत आय घटाएँ, फिर मूल्यहास घटाएँ

Section : General Awareness 1

Q.1 मॉस में, बीजाणु _____ के माध्यम से उत्पन्न होते हैं।

- Ans
- 1. द्वि-खंडन (Binary fission)
 - 2. सूत्रीविभाजन (Mitosis)
 - 3. मुकुलन (Budding)
 - 4. अर्धसूत्री विभाजन (Meiosis)

Q.2 किस संविधान संशोधन द्वारा भारतीय नागरिकों के लिए मौलिक कर्तव्यों को शामिल किया गया?

- Ans
- 1. 40वें संशोधन
 - 2. 52वें संशोधन
 - 3. 44वें संशोधन
 - 4. 42वें संशोधन

Q.3 पूर्व-आधुनिक असमिया लिपि का सबसे पहला उदाहरण निम्नलिखित में से किस कृति में पाया जाता है?

- Ans
- 1. महाभारत
 - 2. विनयपिटक
 - 3. भागवत पुराण
 - 4. चर्यापद

Q.4 निम्नलिखित में से किस सांविधानिक संशोधन अधिनियम ने भारत में पंचायती राज संस्थाओं को सांविधानिक दर्जा प्रदान किया?

- Ans
- 1. 42वां संशोधन अधिनियम, 1976
 - 2. 44वां संशोधन अधिनियम, 1978
 - 3. 73वां संशोधन अधिनियम, 1992
 - 4. 86वां संशोधन अधिनियम, 2002

Q.5 मुंबई में निम्नलिखित में से कौन-सा भारतीय-मुस्लिम वास्तुकला शैली का उदाहरण है?

- Ans
- 1. बांद्रा-वर्ली सी लिक
 - 2. एंटीलिया टावर
 - 3. छत्रपति शिवाजी महाराज टर्मिनस
 - 4. बॉम्बे हाई कोर्ट

Q.6 निम्नलिखित में से कौन-सा भारत में किसी भाषा को शास्त्रीय भाषा घोषित करने का मानदंड नहीं है?

- Ans
- 1. ज्ञान ग्रंथ, विशेष रूप से कविता के अलावा गद्य ग्रंथ, पुरालेखीय और शिलालेखीय साक्ष्य
 - 2. शास्त्रीय भाषा पूर्ण रूप से विलुप्त होनी चाहिए और आधुनिक शाखाओं द्वारा प्रतिस्थापित होनी चाहिए
 - 3. प्राचीन साहित्य/ग्रंथों का एक निकाय, जिसे वक्ताओं की पीढ़ियों द्वारा विरासत माना जाता है
 - 4. 1500-2000 वर्षों की अवधि में इसके प्रारंभिक ग्रंथों/अभिलिखित इतिहास की उच्च प्राचीनता

Q.7 निम्नलिखित में से किसे भारत में 'स्थानीय स्वशासन का जनक' भी कहा जाता है?

- Ans
- 1. लॉर्ड वेवेल
 - 2. लॉर्ड विलिंगडन
 - 3. लॉर्ड रिपन
 - 4. लॉर्ड कैनिंग

Q.8 पेप्सिन के निष्क्रिय प्रोएन्जाइम रूप को _____ के नाम से जाना जाता है।

- Ans
- 1. ट्रिप्सिन
 - 2. लैक्टोस
 - 3. एमिलेस
 - 4. पेप्सिनोजन

Q.9 2024 तक की स्थिति के अनुसार, प्राक्कलन समिति में केवल लोकसभा से सदस्यों की कुल संख्या कितनी है?

- Ans
- 1. 15
 - 2. 18
 - 3. 30
 - 4. 32

Q.10 दक्कन पठार की काली मृदा _____ की उपज के लिए सर्वोत्तम है।

- Ans
- 1. कपास
 - 2. केसर
 - 3. चाय
 - 4. चावल

Q.11 बौद्ध स्तूप के गोल गुंबद के ऊपर स्थित वर्गाकार रेलिंग का नाम क्या है?

- Ans
- 1. हार्मिका
 - 2. मेधी
 - 3. तोरण
 - 4. अंडा

Q.12 विशाल भारतीय मैदानों का पश्चिमी भाग, जो शुष्क और अर्ध-शुष्क है, _____ के नाम से जाना जाता है।

- Ans
- 1. खादर
 - 2. तराई
 - 3. भाबर
 - 4. राजस्थान का मैदान

Q.13 भारतीय संविधान के _____ में मौलिक अधिकारों का उल्लेख किया गया है।

- Ans
- 1. भाग II
 - 2. भाग I
 - 3. भाग IV
 - 4. भाग III

Q.14 निम्नलिखित में से कौन-सा शहरी अवसंरचना का हिस्सा नहीं है?

- Ans
- 1. कृषि भूमि
 - 2. ऊँची इमारतें
 - 3. अभियंत्रित जल आपूर्ति प्रणालियां
 - 4. आवास समितियां

Q.15 निम्न में से कौन-सा बौद्ध त्योहार भगवान बुद्ध के जन्म, प्रबोधन और मृत्यु की स्मरण में मनाया जाता है, जो प्रायः लालटेन जलाकर मनाया जाता है?

- Ans
- 1. कैथिना, चीवर दान (Kathina, the robe offering)
 - 2. असाल्हा पूजा, धर्मोपदेश दिवस (Asalha Puja, the sermon day)
 - 3. वैशाख, पूर्णिमा का त्योहार (Vesak, the full moon festival)
 - 4. माघ पूजा, सभा का दिन (Magha Puja, the gathering day)

Q.16 2011 की जनगणना के अनुसार, पंजाब की कुल जनसंख्या में सिख जनसंख्या का प्रतिशत लगभग कितना था?

- Ans
- 1. 57.69%
 - 2. 89.23%
 - 3. 79.83%
 - 4. 64.21%

Q.17 मानव परिसंचारी तंत्र में, पट्टिकाणुओं (platelets) का क्या कार्य है?

- Ans
- 1. पोषक तत्वों का अवशोषण
 - 2. रुधिर स्कंदन
 - 3. प्रतिरक्षा प्रतिक्रिया
 - 4. ऑक्सीजन का परिवहन

Q.18 सतपुड़ा पर्वतमाला किन दो नदियों के बीच स्थित है?

- Ans
- 1. गंगा और यमुना
 - 2. ब्रह्मपुत्र और सुबनसिरी
 - 3. गोदावरी और कृष्णा
 - 4. नर्मदा और ताप्ती

Q.19 मानव आहार नाल में, हाइड्रोक्लोरिक अम्ल एक अम्लीय माध्यम बनाता है जो _____ एंजाइम की क्रिया को सुगम बनाता है।

- Ans
- 1. रेनिन
 - 2. पेप्सिन
 - 3. एमिलेज
 - 4. ट्रिप्सिन

Q.20 किस ग्रह को "लाल ग्रह" के नाम से जाना जाता है?

- Ans
- 1. शुक्र
 - 2. मंगल
 - 3. शनि
 - 4. बृहस्पति

Section : Arithmetical and Numerical Ability

Q.1 $0.\overline{5839}$ को साधारण भिन्न के रूप में व्यक्त कीजिए।

- Ans
- 1. $\frac{5839}{10000}$
 - 2. $\frac{2917}{4995}$
 - 3. $\frac{1927}{3300}$
 - 4. $\frac{73}{125}$

Q.2 यदि $25x + 25y = 150$ है, तो x और y का माध्य ज्ञात कीजिए।

- Ans
- 1. 6
 - 2. 4
 - 3. 3
 - 4. 5

Q.3 $\frac{4}{27}, \frac{7}{9}, \frac{11}{36}, \frac{5}{18}, \frac{2}{45}$ का LCM ज्ञात कीजिए।

- Ans
- 1. $\frac{77}{127}$
 - 2. 171
 - 3. $\frac{1540}{9}$
 - 4. 150

Q.4 एक विक्रेता एक रुपये में 24 चॉकलेट बेचता है और 75% का लाभ अर्जित करता है। उसने मूल रूप से एक रुपये में कितनी चॉकलेट खरीदी थीं?

- Ans
- 1. 44
 - 2. 48
 - 3. 42
 - 4. 46

Q.5 पांच क्रमागत संख्याओं का औसत 47 है। सबसे छोटी संख्या और सबसे बड़ी संख्या का गुणनफल ज्ञात कीजिए।

- Ans
- 1. 2205
 - 2. 2250
 - 3. 2455
 - 4. 2025

Q.6 एक खुदरा विक्रेता ₹800 में एक वस्तु खरीदता है और उसे 15% लाभ पर बेचता है। वस्तु का विक्रय मूल्य कितना होगा?

- Ans
- 1. ₹930
 - 2. ₹920
 - 3. ₹940
 - 4. ₹950

Q.7 एक कक्षा में 50 विद्यार्थियों की औसत आयु 20 वर्ष है। इनमें से 10 विद्यार्थियों की औसत आयु 16 वर्ष है। शेष विद्यार्थियों की औसत आयु ज्ञात कीजिए।

- Ans
- 1. 23 वर्ष
 - 2. 22 वर्ष
 - 3. 20 वर्ष
 - 4. 21 वर्ष

Q.8 निम्नलिखित को सरल कीजिए।

$$\frac{0.53^2 - 0.05^2}{0.24}$$

- Ans
- 1. 0.96
 - 2. 1.02
 - 3. 0.50
 - 4. 1.16

Q.9 एक दुकानदार किसी वस्तु का मूल्य उसके लागत मूल्य से 20% अधिक अंकित करता है। यदि वस्तु का लागत मूल्य ₹1,000 है और वह उसे ₹1,000 में बेचता है, तो वह ग्राहक को कितने प्रतिशत की छूट देता है?

- Ans
- 1. $17\frac{2}{3}\%$
 - 2. $15\frac{1}{3}\%$
 - 3. $16\frac{2}{3}\%$
 - 4. $26\frac{1}{3}\%$

Q.10 एक विद्यार्थी के अंक गलती से 89 के बजाय 59 दर्ज कर दिए गए। इसके कारण कक्षा के औसत अंक $\frac{3}{2}$ कम हो

गए। कक्षा में विद्यार्थियों की संख्या कितनी है?

- Ans 1. 20
 2. 30
 3. 14
 4. 17

Q.11 कितनी अवधि (वर्ष में) में ₹4,200 पर 5% वार्षिक ब्याज दर से साधारण ब्याज के रूप में ₹840 प्राप्त होंगे?

- Ans 1. 5
 2. 4
 3. 8
 4. 3

Q.12 राज के पास ₹1,716 हैं। वह इस राशि को अपने पुत्रों वरुण और आशीष के बीच बांटता है और उन्हें अपने-अपने हिस्से को 8% वार्षिक चक्रवृद्धि ब्याज दर पर निवेश करने के लिए कहता है, जहाँ ब्याज वार्षिक रूप से संयोजित होता है। यह देखा जाता है कि वरुण और आशीष को क्रमशः 12 वर्ष और 13 वर्ष बाद बराबर राशि प्राप्त होती है। राज द्वारा वरुण को दी जाने वाली राशि (₹ में) ज्ञात कीजिए।

- Ans 1. 891
 2. 825
 3. 741
 4. 925

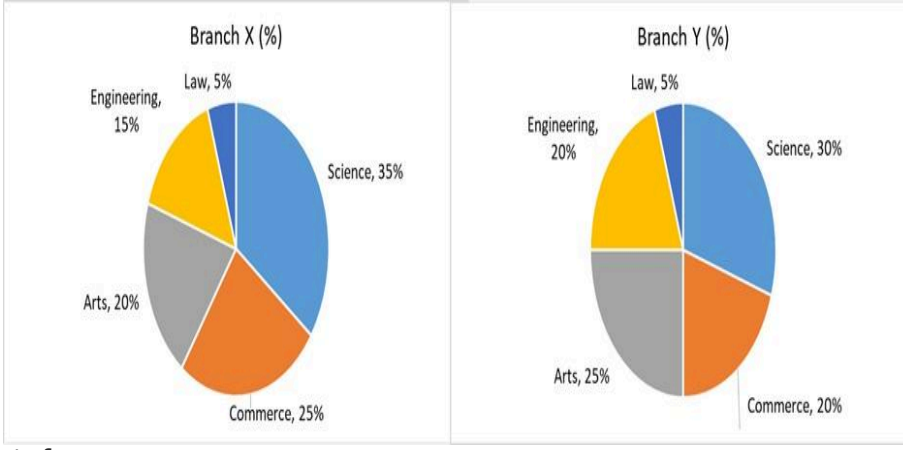
Q.13 अक्षय के वेतन में पहले 30% की कमी की गई और बाद में 16% की वृद्धि की गई। उसका अंतिम वेतन उसके प्रारंभिक वेतन से कितने प्रतिशत कम है?

- Ans 1. 16%
 2. 14.8%
 3. 18.8%
 4. 14%

Q.14 एक निश्चित राशि पर, नेहा को 2 वर्षों में ₹308 का चक्रवृद्धि ब्याज (वार्षिक रूप से संयोजित ब्याज) प्राप्त हुआ। समान राशि पर उसे समान अवधि के लिए ₹280 का साधारण ब्याज प्राप्त हुआ। प्रति वर्ष ब्याज दर क्या है?

- Ans 1. 16%
 2. 12%
 3. 18%
 4. 20%

Q.15 निम्नलिखित पाई चार्ट किसी कॉलेज की दो शाखाओं में विद्यार्थियों के वितरण को दर्शाते हैं।



संदर्भ:

Branch = शाखा

Engineering = इंजीनियरिंग

Law = लॉ

Science = विज्ञान

Arts = कला

Commerce = वाणिज्य

यदि शाखा X और Y में विद्यार्थियों की कुल संख्या क्रमशः 600 और 400 है, तो शाखा Y की तुलना में शाखा X में विज्ञान के कितने अधिक विद्यार्थी हैं?

- Ans
- 1. 75
 - 2. 85
 - 3. 90
 - 4. 80

Q.16 दी गई तालिका में चार महीनों में चार उत्पादों A, B, C और D की मासिक बिक्री (₹ में) को दर्शाया गया है। तालिका का अध्ययन करें और निम्नलिखित प्रश्न का उत्तर दें।

उत्पाद	जनवरी	फरवरी	मार्च	अप्रैल
A	120	150	130	170
B	100	120	110	130
C	80	90	100	120
D	150	140	160	180

यदि उत्पाद A की प्रत्येक इकाई ₹50 में और उत्पाद B की प्रत्येक इकाई ₹40 में बेची जाती है, तो फरवरी महीने में उत्पाद A और B से प्राप्त कुल राजस्व की गणना कीजिए।

- Ans
- 1. ₹12,500
 - 2. ₹12,330
 - 3. ₹11,300
 - 4. ₹12,300

Q.17 निम्नलिखित में से कौन-सा कथन सही नहीं है?

- Ans
- 1. यदि कोई संख्या दो विषम अभाज्य संख्याओं का योग है, तो वह संख्या भाज्य संख्या होती है।
 - 2. एक सम संख्या हमेशा एक भाज्य संख्या होती है।
 - 3. एक धनात्मक भाज्य संख्या को दो या दो से अधिक अभाज्य संख्याओं के गुणनफल के रूप में लिखा जा सकता है।
 - 4. एक धनात्मक पूर्णांक अभाज्य होता है यदि उसके केवल दो धनात्मक पूर्णांक भाजक हों।

Q.18 एक वाटर प्यूरीफायर की कीमत में पहले 20% की वृद्धि की जाती है और फिर 25% की कमी की जाती है। मूल कीमत से समय प्रतिशत परिवर्तन कितना है?

- Ans
- 1. 10% की कमी
 - 2. 5% की कमी
 - 3. 5% की वृद्धि
 - 4. 10% की वृद्धि

Q.19 अक्षय के वेतन में पहले 30% का हास हुआ और बाद में 14% की वृद्धि हुई। उसका अंतिम वेतन, उसके प्रारंभिक वेतन से कितने प्रतिशत कम है?

- Ans
- 1. 13%
 - 2. 20.2%
 - 3. 24.2%
 - 4. 14%

Q.20 किसी स्थान की जनसंख्या वर्ष 2023 में 5% प्रति वर्ष की दर से बढ़कर 66,150 हो गई। वर्ष 2021 की जनसंख्या ज्ञात कीजिए।

- Ans
- 1. 70,000
 - 2. 50,000
 - 3. 80,000
 - 4. 60,000

Section : Arithmetical and Numerical Ability1

Q.1 A ने ₹7 लाख का निवेश करके सीमेंट का व्यापार शुरू किया। तीन महीने बाद, B, ₹12 लाख का निवेश करके व्यवसाय में शामिल हो गया, और अगले तीन महीने बाद, C, ₹22 लाख का निवेश करके व्यवसाय में शामिल हो गया। एक वर्ष के बाद, उन्हें ₹4,18,500 का लाभ हुआ। लाभ में B का हिस्सा (₹ में) कितना है?

- Ans
- 1. 1,45,680
 - 2. 1,84,200
 - 3. 1,22,590
 - 4. 1,39,500

Q.2 एक सेल के दौरान, किसी वस्तु के 30% को 37% के लाभ पर बेचा जाता है, शेष वस्तु के 40% को 35% के लाभ पर बेचा जाता है और शेष वस्तु को 10% की हानि पर बेचा जाता है। यदि समग्र लाभ x% है, तो x का मान ज्ञात कीजिए।

- Ans
- 1. 37
 - 2. 16.7
 - 3. 24
 - 4. 35.5

Q.3 12 cm × 10 cm × 5 cm विमा वाले एक ठोस घनाभ को पिघलाकर 12 cm ऊँचाई और 5 cm आधार त्रिज्या वाले एक ठोस शंकु में ढाला जाता है। इस प्रक्रिया में मूल पदार्थ का कितना प्रतिशत नष्ट हो जाता है? ($\pi = 22/7$ का प्रयोग करें, अपने उत्तर को निकटतम पूर्णांक तक पूर्णांकित करें)

- Ans
- 1. 50%
 - 2. 40%
 - 3. 44%
 - 4. 48%

Q.4 अंकुर अकेले एक कार्य को 12 दिनों में पूरा कर सकता है और बिभु अकेले समान कार्य को 18 दिनों में पूरा कर सकता है। अंकुर और बिभु ने ₹10800 में यह कार्य करने का ठेका लिया। ध्रुव की मदद से उन्होंने यह कार्य 4 दिनों में पूरा कर लिया। ध्रुव के योगदान के आधार पर उसका एक दिन का भुगतान कितना होगा?

- Ans
- 1. ₹1250
 - 2. ₹1240
 - 3. ₹1200
 - 4. ₹1300

Q.5 चांदी का एक घनाभाकार ब्लॉक 18 cm लंबा, 8 cm चौड़ा और 7 cm ऊंचा है। इससे 1.5 cm^3 आयतन के मनके बनाये जाते हैं। उस ब्लॉक से बनाए जा सकने वाले मनकों की संख्या ज्ञात कीजिए।

- Ans
- 1. 512
 - 2. 784
 - 3. 664
 - 4. 672

Q.6 किसी वस्तु को उसके वास्तविक अंकित मूल्य के $\frac{2}{7}$ पर बेचने पर शरद को 15% की हानि होती है। यदि वह उस वस्तु को उसके वास्तविक अंकित मूल्य के 60% पर बेचता है, तो लाभ प्रतिशत ज्ञात कीजिए।

- Ans
- 1. 78.5%
 - 2. 76.8%
 - 3. 80.9%
 - 4. 80.7%

Q.7 शुभम 79 km/h, x km/h और 10 km/h की चाल से क्रमशः 7,900 km, 1,500 km और 250 km की दूरी तय करता है। यदि संपूर्ण यात्रा के लिए उसकी औसत चाल $35\frac{1}{11}$ km/h है, तो x का मान कितना है?

- Ans
- 1. 10
 - 2. 13
 - 3. 15
 - 4. 20

Q.8 किसी वस्तु का अंकित मूल्य उसके क्रय मूल्य का 1.5 गुना है। अंकित मूल्य पर प्रत्येक 10% की दो क्रमिक छूट दी जाती हैं। लाभ प्रतिशत, ____% होगा।

- Ans
- 1. 21.5
 - 2. 25
 - 3. 20
 - 4. 22.5

Q.9 एक ट्रेन 3 घंटे में 180 km की दूरी तय करती है। उसी चाल से 4.5 घंटे में वह कितनी दूरी (km में) तय करेगी?

- Ans
- 1. 270
 - 2. 260
 - 3. 220
 - 4. 245

Q.10 एक टैंक में छिद्र है जिससे पूरा टैंक 12 घंटे में खाली हो जाता है। एक पाइप टैंक को 8 घंटे में भर देता है। यदि टैंक शुरू में खाली है तथा पाइप और छिद्र दोनों खुले हुए/सक्रिय हैं, तो टैंक को भरने में कितना समय (घंटों में) लगेगा?

- Ans
- 1. 22
 - 2. 24
 - 3. 20
 - 4. 23

Q.11 एक फुटबॉल एक गोले की आकृति की है जिसकी त्रिज्या 7 cm है। इसका पृष्ठीय क्षेत्रफल ज्ञात कीजिए। ($\pi = 22/7$ का उपयोग कीजिए)

- Ans
- 1. 636 cm²
 - 2. 642 cm²
 - 3. 616 cm²
 - 4. 604 cm²

Q.12 125 cm × 80 cm × 16 cm विमाओं वाले धातु के एक ब्लॉक को पिघलाकर, समान आकार के धातु के दो घन बनाए जाते हैं। धातु के घन की कोर ज्ञात कीजिए।

- Ans
- 1. 2 m
 - 2. 150 cm
 - 3. 5 m
 - 4. 100 cm

Q.13 यदि कोई दुकानदार किसी वस्तु को अंकित मूल्य पर 24% की छूट पर बेचकर 14% लाभ अर्जित करता है, तो लागत मूल्य और अंकित मूल्य का अनुपात ज्ञात कीजिए।

- Ans
- 1. 2 : 3
 - 2. 4 : 5
 - 3. 5 : 6
 - 4. 3 : 5

Q.14 कक्षा A में लड़कों और लड़कियों का अनुपात 7 : 5 है। कक्षा B में लड़कों और लड़कियों का अनुपात 9 : 7 है। कक्षा C में लड़कों और लड़कियों का अनुपात 9 : 5 है। किस कक्षा में लड़कों का भाग अधिक है?

- Ans
- 1. सभी कक्षाओं में लड़कों की संख्या समान
 - 2. B
 - 3. C
 - 4. A

Q.15 A, B और C ने एक व्यवसाय शुरू किया और प्रत्येक ने ₹8800 का निवेश किया। 2 महीने बाद, A और C ने क्रमशः ₹740 और ₹570 का और निवेश किया, तथा B ने ₹4500 निकाल लिए। वर्ष के अंत में, ₹9768 का कुल लाभ अर्जित हुआ। C का शेयर (₹ में) कितना है?

- Ans
- 1. 3816
 - 2. 3768
 - 3. 3754
 - 4. 3664

Q.16 मेदिता, चैतन्य से तीन गुना कार्यकुशल है। वे दोनों मिलकर एक काम को 20 दिनों में पूरा कर सकते हैं। चैतन्य अकेले उस काम को कितने दिनों में पूरा कर सकता है?

- Ans
- 1. 85 दिन
 - 2. 80 दिन
 - 3. 70 दिन
 - 4. 75 दिन

Q.17 एक व्यक्ति M से N तक की दूरी 30 km/hr की चाल से 30 मिनट में तय करता है, और फिर N से O तक की दूरी 40 km/hr की चाल से 30 मिनट में तय करता है। संपूर्ण यात्रा के दौरान उसकी औसत चाल ज्ञात कीजिए।

- Ans
- 1. 34 km/hr
 - 2. 36 km/hr
 - 3. 35 km/hr
 - 4. 37 km/hr

Q.18 एक ट्रेन A से B तक 48 km/h की चाल से जाती है और B से A तक उसी मार्ग से 96 km/h की चाल से लौटती है। दोतरफा यात्रा के दौरान ट्रेन की औसत चाल (km/h में) कितनी है?

- Ans
- 1. 61
 - 2. 64
 - 3. 62
 - 4. 66

Q.19 A एक कार्य को 10 दिनों में पूरा कर सकता है और B उसे 15 दिनों में पूरा कर सकता है। वे पहले 3 दिन एकसाथ कार्य करते हैं। फिर B कार्य छोड़कर चला जाता है और A अकेले ही कार्य पूरा होने तक कार्य करता है। कार्य पूरा होने में कुल कितने दिन लगेंगे?

- Ans
- 1. 16
 - 2. 10
 - 3. 5
 - 4. 8

Q.20 220 मीटर लंबी एक ट्रेन 72 km/h की चाल से चलती है। ट्रैक के निकट खड़े एक व्यक्ति को पार करने में उसे कितना समय लगेगा?

- Ans
- 1. 11 सेकंड
 - 2. 12 सेकंड
 - 3. 9 सेकंड
 - 4. 22 सेकंड

Section : Test of English Language and Comprehension

Q.1 Choose the correct option to complete the sentence.

We live in an apartment next to ____ church where all the town meetings are held.

- Ans
- 1. a
 - 2. the
 - 3. No article
 - 4. an

Q.2 The lawyer presented a **weak** argument, persuading the jury with strong evidence. Which adjective correctly replaces the wrong one?

- Ans
- 1. feeble
 - 2. convincing
 - 3. poor
 - 4. fragile

Q.3 Determine the error in the sentence and select the best revision that accurately conveys the intended meaning.
He is very good in playing tennis.

- Ans
- 1. He is very good playing tennis.
 - 2. He is very good at playing tennis.
 - 3. He is very good for playing tennis.
 - 4. He is very good to play tennis.

Q.4 Select the correct option to complete the sentence.

The teacher praised Maya for her ____ answer during the discussion.

- Ans
- 1. noisy
 - 2. thoughtful
 - 3. dusty
 - 4. slippery

Q.5 Select the most appropriate verb/tense to fill in the blank.

Alfred said, "Look! The child _____."

- Ans
- 1. has cried
 - 2. cried
 - 3. cries
 - 4. is crying

Q.6 Choose the most appropriate option that fits grammatically and contextually.

The following Sunday Radha came ____ bit earlier than usual.

2336

- Ans
- 1. a
 - 2. in
 - 3. an
 - 4. the

Q.7 Rectify the sentence by selecting the correct option to replace the underlined word.

Everyone congratulated Akira over winning the award.

- Ans
- 1. with
 - 2. about
 - 3. to
 - 4. on

Q.8 Which sentence uses the preposition correctly?

- Ans
- 1. I arrived at my friends place to the morning.
 - 2. I arrived at my friends place from the morning.
 - 3. I arrived at my friends place at the morning.
 - 4. I arrived at my place in the morning.

Q.9 Choose the most appropriate option that fits the given sentence grammatically and contextually.

____ air was fresh and sweet.

- Ans
- 1. A
 - 2. An
 - 3. The
 - 4. So

Q.10 Select the most appropriate preposition to fill in the blank.

They were accused _____ violating the company's code of conduct.

- Ans
- 1. for
 - 2. by
 - 3. of
 - 4. about

Q.11 Rearrange all the segments to form a coherent statement.

in the study (A) / which were unexpected (B) / revealed several patterns (C) / the data analysis (D)

- Ans
- 1. DACB
 - 2. DCAB
 - 3. ABDC
 - 4. CDAB

Q.12 A statement divided into different segments is given. Rearrange all the segments to form a coherent statement.

(O) with intellectual processes similar to humans,
(P) the term Artificial Intelligence often
(Q) generalising, or learning from past experiences
(R) such as reasoning, discovering meaning,
(S) relates to efforts to develop systems

- Ans
- 1. PSORQ
 - 2. OPSQR
 - 3. QPOSR
 - 4. ROPQS

Q.13 Select the most appropriate option to rectify the given sentence.

The experiment resulted with a significant increase in efficiency.

- Ans
- 1. The experiment resulted from a significant increase in efficiency.
 - 2. The experiment resulted on a significant increase in efficiency.
 - 3. The experiment resulted to a significant increase in efficiency.
 - 4. The experiment resulted in a significant increase in efficiency.

Q.14 Rectify the following sentence by selecting the option that can correct the word highlighted in bold.

She is interested **on** learning new languages.

- Ans
- 1. in
 - 2. of
 - 3. at
 - 4. about

Q.15 Select the most appropriate option to fill in the blank.
Mexico City is the most populous city in ____ world.

- Ans
- 1. the
 - 2. No article required
 - 3. a
 - 4. an

Comprehension:

Read the given passage carefully and answer the questions that follows.

Among the greatest unresolved mysteries of early human civilization is the undeciphered script of the Indus Valley, a Bronze Age society that flourished around 2600 BCE in what is now Pakistan and northwestern India. Despite the discovery of over 4,000 inscribed objects—from seals to pottery fragments—the symbols remain resistant to interpretation. Unlike Mesopotamian cuneiform or Egyptian hieroglyphs, which benefited from bilingual inscriptions like the Rosetta Stone, the Indus script has no known linguistic parallel or translation key. The brevity of the inscriptions, often consisting of fewer than five characters, further complicates efforts. Some scholars even question whether the symbols constitute a fully developed writing system or are instead proto-literate markers denoting clan, trade, or ritual information. The civilization's sudden decline, coupled with its script's silence, leaves historians with tantalizing fragments of a lost world—organized, technologically advanced, yet enigmatic in voice. Until a breakthrough occurs, the Indus script stands as both a symbol of human ingenuity and the limits of our understanding.

SubQuestion No : 16

Q.16 Which feature of the Indus script most hinders its decipherment, according to the passage?

Comprehension:

Read the given passage carefully and answer the questions that follows.

Among the greatest unresolved mysteries of early human civilization is the undeciphered script of the Indus Valley, a Bronze Age society that flourished around 2600 BCE in what is now Pakistan and northwestern India. Despite the discovery of over 4,000 inscribed objects—from seals to pottery fragments—the symbols remain resistant to interpretation. Unlike Mesopotamian cuneiform or Egyptian hieroglyphs, which benefited from bilingual inscriptions like the Rosetta Stone, the Indus script has no known linguistic parallel or translation key. The brevity of the inscriptions, often consisting of fewer than five characters, further complicates efforts. Some scholars even question whether the symbols constitute a fully developed writing system or are instead proto-literate markers denoting clan, trade, or ritual information. The civilization's sudden decline, coupled with its script's silence, leaves historians with tantalizing fragments of a lost world—organized, technologically advanced, yet enigmatic in voice. Until a breakthrough occurs, the Indus script stands as both a symbol of human ingenuity and the limits of our understanding.

SubQuestion No : 17

Q.17 How does the Indus script differ from Egyptian hieroglyphs and cuneiform, as stated in the text?

Comprehension:

Read the given passage carefully and answer the questions that follows.

Among the greatest unresolved mysteries of early human civilization is the undeciphered script of the Indus Valley, a Bronze Age society that flourished around 2600 BCE in what is now Pakistan and northwestern India. Despite the discovery of over 4,000 inscribed objects—from seals to pottery fragments—the symbols remain resistant to interpretation. Unlike Mesopotamian cuneiform or Egyptian hieroglyphs, which benefited from bilingual inscriptions like the Rosetta Stone, the Indus script has no known linguistic parallel or translation key. The brevity of the inscriptions, often consisting of fewer than five characters, further complicates efforts. Some scholars even question whether the symbols constitute a fully developed writing system or are instead proto-literate markers denoting clan, trade, or ritual information. The civilization's sudden decline, coupled with its script's silence, leaves historians with tantalizing fragments of a lost world—organized, technologically advanced, yet enigmatic in voice. Until a breakthrough occurs, the Indus script stands as both a symbol of human ingenuity and the limits of our understanding.

SubQuestion No : 18

Q.18 What can be reasonably inferred about the scholarly debate surrounding the Indus script?

Comprehension:

Read the given passage carefully and answer the questions that follows.

Among the greatest unresolved mysteries of early human civilization is the undeciphered script of the Indus Valley, a Bronze Age society that flourished around 2600 BCE in what is now Pakistan and northwestern India. Despite the discovery of over 4,000 inscribed objects—from seals to pottery fragments—the symbols remain resistant to interpretation. Unlike Mesopotamian cuneiform or Egyptian hieroglyphs, which benefited from bilingual inscriptions like the Rosetta Stone, the Indus script has no known linguistic parallel or translation key. The brevity of the inscriptions, often consisting of fewer than five characters, further complicates efforts. Some scholars even question whether the symbols constitute a fully developed writing system or are instead proto-literate markers denoting clan, trade, or ritual information. The civilization's sudden decline, coupled with its script's silence, leaves historians with tantalizing fragments of a lost world—organized, technologically advanced, yet enigmatic in voice. Until a breakthrough occurs, the Indus script stands as both a symbol of human ingenuity and the limits of our understanding.

SubQuestion No : 19

Q.19 Choose the antonym of 'brevity' as used in the passage.

Comprehension:

Read the given passage carefully and answer the questions that follows.

Among the greatest unresolved mysteries of early human civilization is the undeciphered script of the Indus Valley, a Bronze Age society that flourished around 2600 BCE in what is now Pakistan and northwestern India. Despite the discovery of over 4,000 inscribed objects—from seals to pottery fragments—the symbols remain resistant to interpretation. Unlike Mesopotamian cuneiform or Egyptian hieroglyphs, which benefited from bilingual inscriptions like the Rosetta Stone, the Indus script has no known linguistic parallel or translation key. The brevity of the inscriptions, often consisting of fewer than five characters, further complicates efforts. Some scholars even question whether the symbols constitute a fully developed writing system or are instead proto-literate markers denoting clan, trade, or ritual information. The civilization's sudden decline, coupled with its script's silence, leaves historians with tantalizing fragments of a lost world—organized, technologically advanced, yet enigmatic in voice. Until a breakthrough occurs, the Indus script stands as both a symbol of human ingenuity and the limits of our understanding.

SubQuestion No : 20

Q.20 What best describes the tone of the passage?

Section : Test of English Language and Comprehension1

Q.1 Identify the antonym of "meticulous".

- Ans
- 1. Broaden
 - 2. Clear
 - 3. Skillful
 - 4. Careless

Q.2 Identify and correct the incorrectly spelt word in the given sentence.

Though the speaker tried to be conciliatory, his remarks seemed sarcastic, even malevolent, in tone and sincerity.

- Ans
- 1. conciliatory
 - 2. malevolent
 - 3. sincarity
 - 4. sarrcastic

Q.3 Choose the most suitable proverb for the given expression.

Enquiring into others' work can be dangerous. One should mind own business.

- Ans
- 1. Curiosity killed the eagle.
 - 2. Curiosity killed the fox.
 - 3. Curiosity killed the mouse.
 - 4. Curiosity killed the cat.

Q.4 Choose the most suitable meaning of the given proverb.

An idle brain is the devil's workshop.

- Ans
- 1. If you've something to do, you'll likely think of mischief.
 - 2. If you've something to do, you'll likely think of values.
 - 3. If you've nothing to do, you'll likely think of mischief.
 - 4. If you've nothing to do, you'll likely think of values.

Q.5 The parts of a sentence have been jumbled and labeled A, B, C, and D. Choose the option that correctly rearranges these parts into a meaningful and grammatically correct sentence.

- (A) to explore the world,
- (B) because Peter wanted
- (C) in the same city for more than three days
- (D) he chose a life of travel and never stayed

- Ans**
- 1. CBDA
 - 2. BADC
 - 3. DCBA
 - 4. ABCD

Q.6 Select the option that can be used as a one-word substitute for the given group of words.

A thing no longer in use

- Ans**
- 1. Potable
 - 2. Elegy
 - 3. Stoic
 - 4. Obsolete

Q.7 Identify the meaning of the word "perpetual".

- Ans**
- 1. continuous
 - 2. seasonal
 - 3. serial
 - 4. heavy

Q.8 Select the option that can be used as a one-word substitute for the given group of words.

To hide your real feelings, character or intentions

- Ans**
- 1. Dissimilate
 - 2. Dissimulate
 - 3. Dissociate
 - 4. Disseminate

Q.9 Select the option which is closest in meaning to the word "Prudent".

- Ans**
- 1. Sensible
 - 2. Shy
 - 3. Bold
 - 4. Reckless

Q.10 Select the most appropriate meaning of the given proverb.

The pen is mightier than the sword

- Ans**
- 1. It is better to deceive the enemy than to fight
 - 2. Words influence more than violence
 - 3. Silence is more powerful than words
 - 4. Education is more necessary than political power

Q.11 Choose the correct option which can be used as a one-word substitute for the following.

A person who boasts about their achievements

6366

- Ans**
- 1. Reserved
 - 2. Modest
 - 3. Humble
 - 4. Braggart

Q.12 Choose the correct option that best expresses the meaning of the given proverb.

The cobbler's children have no shoes

- Ans**
- 1. Those who work hard always prioritize their family's comfort.
 - 2. People who serve others usually benefit more from their own skills.
 - 3. Parents always ensure their children have the best of everything.
 - 4. Skilled people often neglect their own needs while helping others.

Q.13 Identify the one-word substitute to the following.

Speech delivered without preparation

- Ans**
- 1. Dialogue
 - 2. Extempore
 - 3. Manuscript
 - 4. Debate

Q.14 Read the sentence carefully and identify the incorrectly spelt word.

Although the restaurant was recommendable, the ambience was dissappointing.

- Ans**
- 1. dissappointing
 - 2. recommendable
 - 3. ambience
 - 4. Although

Q.15 Select the most appropriate ANTONYM of the given word.

Candid

- Ans**
- 1. Sensitive
 - 2. Deceptive
 - 3. Open
 - 4. Forthright

Comprehension:

Read the following passage carefully and answer the questions given below.

Occasional shopping can be healthy, but overspending on items outside your budget, especially on credit, may have long-term consequences despite the immediate mood boost. Compulsive shopping can affect even those with disposable income, creating conflicts with personal values, relationships, and leading to lingering sadness. Retail therapy, or compulsive shopping (oniomania), is not actual mental health treatment but can become a psychological dependence. People may shop to relieve feelings of anxiety, depression, or shame, and the act of making purchases can give a false sense of control. Although shopping may offer temporary pleasure, it can fuel an unhealthy cycle. To reduce compulsive spending, it's important to recognize your triggers and moods that prompt shopping urges. For example, if boredom leads to online shopping, try low-cost hobbies like journaling or reading, which have proven mental health benefits. If you shop to improve your mood after a bad day, consider alternatives like going for a walk, dancing, or exercising to boost dopamine levels in a healthier way. Identifying and replacing unhealthy spending habits with positive activities can help you manage emotions without financial consequences.

SubQuestion No : 16

Q.16 Identify the most suitable title for the passage.

Comprehension:

Read the following passage carefully and answer the questions given below.

Occasional shopping can be healthy, but overspending on items outside your budget, especially on credit, may have long-term consequences despite the immediate mood boost. Compulsive shopping can affect even those with disposable income, creating conflicts with personal values, relationships, and leading to lingering sadness. Retail therapy, or compulsive shopping (oniomania), is not actual mental health treatment but can become a psychological dependence. People may shop to relieve feelings of anxiety, depression, or shame, and the act of making purchases can give a false sense of control. Although shopping may offer temporary pleasure, it can fuel an unhealthy cycle. To reduce compulsive spending, it's important to recognize your triggers and moods that prompt shopping urges. For example, if boredom leads to online shopping, try low-cost hobbies like journaling or reading, which have proven mental health benefits. If you shop to improve your mood after a bad day, consider alternatives like going for a walk, dancing, or exercising to boost dopamine levels in a healthier way. Identifying and replacing unhealthy spending habits with positive activities can help you manage emotions without financial consequences.

SubQuestion No : 17

Q.17 Identify the central theme of the passage.

Comprehension:

Read the following passage carefully and answer the questions given below.

Occasional shopping can be healthy, but overspending on items outside your budget, especially on credit, may have long-term consequences despite the immediate mood boost. Compulsive shopping can affect even those with disposable income, creating conflicts with personal values, relationships, and leading to lingering sadness. Retail therapy, or compulsive shopping (oniomania), is not actual mental health treatment but can become a psychological dependence. People may shop to relieve feelings of anxiety, depression, or shame, and the act of making purchases can give a false sense of control. Although shopping may offer temporary pleasure, it can fuel an unhealthy cycle. To reduce compulsive spending, it's important to recognize your triggers and moods that prompt shopping urges. For example, if boredom leads to online shopping, try low-cost hobbies like journaling or reading, which have proven mental health benefits. If you shop to improve your mood after a bad day, consider alternatives like going for a walk, dancing, or exercising to boost dopamine levels in a healthier way. Identifying and replacing unhealthy spending habits with positive activities can help you manage emotions without financial consequences.

SubQuestion No : 18

Q.18 Identify the inferences drawn from the passage.

Comprehension:

Read the following passage carefully and answer the questions given below.

Occasional shopping can be healthy, but overspending on items outside your budget, especially on credit, may have long-term consequences despite the immediate mood boost. Compulsive shopping can affect even those with disposable income, creating conflicts with personal values, relationships, and leading to lingering sadness. Retail therapy, or compulsive shopping (oniomania), is not actual mental health treatment but can become a psychological dependence. People may shop to relieve feelings of anxiety, depression, or shame, and the act of making purchases can give a false sense of control. Although shopping may offer temporary pleasure, it can fuel an unhealthy cycle. To reduce compulsive spending, it's important to recognize your triggers and moods that prompt shopping urges. For example, if boredom leads to online shopping, try low-cost hobbies like journaling or reading, which have proven mental health benefits. If you shop to improve your mood after a bad day, consider alternatives like going for a walk, dancing, or exercising to boost dopamine levels in a healthier way. Identifying and replacing unhealthy spending habits with positive activities can help you manage emotions without financial consequences.

SubQuestion No : 19

Q.19 Identify the tone of the passage.

Comprehension:

Read the following passage carefully and answer the questions given below.

Occasional shopping can be healthy, but overspending on items outside your budget, especially on credit, may have long-term consequences despite the immediate mood boost. Compulsive shopping can affect even those with disposable income, creating conflicts with personal values, relationships, and leading to lingering sadness. Retail therapy, or compulsive shopping (oniomania), is not actual mental health treatment but can become a psychological dependence. People may shop to relieve feelings of anxiety, depression, or shame, and the act of making purchases can give a false sense of control. Although shopping may offer temporary pleasure, it can fuel an unhealthy cycle. To reduce compulsive spending, it's important to recognize your triggers and moods that prompt shopping urges. For example, if boredom leads to online shopping, try low-cost hobbies like journaling or reading, which have proven mental health benefits. If you shop to improve your mood after a bad day, consider alternatives like going for a walk, dancing, or exercising to boost dopamine levels in a healthier way. Identifying and replacing unhealthy spending habits with positive activities can help you manage emotions without financial consequences.

SubQuestion No : 20

Q.20 Identify the antonym of the word disposable (as used in the passage).

Section : Test of Hindi Language and Comprehension

Q.1 नीचे दिए गए विकल्पों में से अतिरिक्त वाक्य का चयन कीजिए -

- Ans
- 1. मंगल ग्रह पर लाल मिट्टी और लौह आयनों की उपस्थिति इसे "लाल ग्रह" के रूप में दर्शाती है।
 - 2. चंद्रमा पृथ्वी का प्राकृतिक उपग्रह है और इसकी सतह पर कोई वायुमंडल नहीं है।
 - 3. शनि के वलय बर्फ और धूल के कणों से बने हैं और इसका व्यापक पारंपरिक रूप बनाते हैं।
 - 4. बृहस्पति ग्रह का द्रव्यमान सौरमंडल के सभी ग्रहों का कुल द्रव्यमान मिलाकर भी उससे कम है।

Q.2 'अत्याचारपूर्ण और बुरा राज्य' वाक्यांश के लिए सार्थक शब्द होगा -

- Ans
- 1. दुराचार
 - 2. दुराग्रह
 - 3. दुराज
 - 4. दुरवस्था

Q.3 दिए गए वाक्यों में से पूर्ण रूप से शुद्ध वाक्य का चयन कीजिए।

- Ans
- 1. वह तुमसे अवश्य नाराज़ है।
 - 2. वह तुममें अवश्य नाराज़ है।
 - 3. वह तुमसे जरूरी नाराज़ है।
 - 4. वह तुमसे अवश्य नाराच है।

Q.4 दिए गए वाक्यों के लिखने का सही क्रम चुनें-

- (1) भोजन करते ही विष का असर होने लगा।
- (2) उसने भीम के भोजन में चुपके से विष मिला दिया।
- (3) एक दिन दुर्योधन ने पांडवों को जलक्रीड़ा के लिए आमंत्रित किया।
- (4) भीम अचेत हो गए।

- Ans
- 1. 2341
 - 2. 1324
 - 3. 3214
 - 4. 2143

Q.5 "हाथों के तोते उड़ जाना" का अर्थ क्या है ?

- Ans
- 1. होश उड़ जाना
 - 2. पक्षी पालना
 - 3. मेहनत करना
 - 4. खुशी से उछल पड़ना

Q.6 निम्नलिखित वाक्य को पूर्ण करने के लिए उचित कारक चिह्न का चयन करें-
विज्ञान हमारे जीवन ___ आसान और सुरक्षित बनाता है।

- Ans
- 1. पर
 - 2. में
 - 3. के लिए
 - 4. को

Q.7 निम्नलिखित वाक्य में सही विशेषण शब्द का चयन कर वाक्य पूरा करें
_____ कपड़े गर्मी में राहत देते हैं।

- Ans
- 1. आंगिक
 - 2. वाचिक
 - 3. सफेद
 - 4. यथावत

Q.8 निम्नलिखित में से शुद्ध वाक्य का चयन कीजिए।

- Ans
- 1. मैं कलम के साथ लिखता हूँ।
 - 2. सूर्य पूर्व दिशा में उदय होता है।
 - 3. शिष्य गुरु से आदर करता है।
 - 4. प्रेम परिचय से प्रारंभ होता है।

Q.9 निम्नलिखित विकल्पों में से भिन्न (अतिरिक्त) वाक्य का चयन कीजिए-

- Ans
- 1. भारत में टेलीविजन की शुरुआत के साथ ही टेलीविजन के माध्यम से समाचारों के प्रसारण की शुरुआत हो गई थी।
 - 2. डिजिटल साक्षरता परंपरागत अक्षर ज्ञान हासिल करने के बाद ही हासिल की जा सकती है।
 - 3. 1980 ई. के दशक में जब दूरदर्शन के प्रसारण का विस्तार आरंभ हुआ, तब समाचारों के प्रसारण का भी विस्तार होने लगा।
 - 4. बिना दृश्यों के वाचक द्वारा समाचार का पढ़ा जाना वैसा ही है जैसा रेडियो पर समाचार सुनना।

Q.10 निम्नलिखित वाक्य के रिक्त स्थान की पूर्ति कीजिए।

संज्ञा अथवा सर्वनाम के जिस रूप से किसी को पुकारने या उसे सम्बोधित करने का बोध हो, उसे _____कारक कहते हैं।

- Ans
- 1. अपादान
 - 2. सम्बन्ध
 - 3. अधिकरण
 - 4. संबोधन

Q.11 'जिसके लिए कोई बाधा या रोक-टोक न हो' वाक्यांश के लिए सार्थक शब्द है-

- Ans
- 1. अबाध
 - 2. अपूर्व
 - 3. आक्रान्त
 - 4. अपकृत

Q.12 'वह कुल्हाड़ी ----वृक्ष काटता है' वाक्य में रिक्त स्थान की उचित कारक का प्रयोग करके वाक्य पूर्ण कीजिए

- Ans
- 1. के लिए
 - 2. पर
 - 3. से
 - 4. को

Q.13 उपयुक्त कारक चिह्न का चयन कर दिए गए वाक्य को पूर्ण कीजिए।

'रोहन डंडेआम तोड़ रहा है।'

- Ans
- 1. को
 - 2. के
 - 3. से
 - 4. पर

Q.14 'एक थाली के चट्टे-बट्टे' लोकोक्ति का सही अर्थ चुनें-

- Ans
- 1. सब एक साथ खाना खाते हैं।
 - 2. सब एक जैसे हैं।
 - 3. एक ही थाली में खाना मजबूरी है।
 - 4. खाने के शौकीन हैं।

Q.15 नीचे दिए गए वाक्य के किस भाग में अशुद्धि है?

चावल का भाव बढ़ गया है।

- Ans
- 1. गया है।
 - 2. बढ़
 - 3. का भाव
 - 4. चावल

Comprehension:

निम्नलिखित गद्यांश को ध्यानपूर्वक पढ़कर पूछे गये प्रश्नों के सही उत्तर दीजिए।

राष्ट्र धर्म और नागरिक कर्तव्य एक सिक्के के दो पहलू हैं। राष्ट्र की उन्नति उस देश के नागरिकों के कर्तव्यबोध पर अवलंबित है।

राष्ट्र केवल भौगोलिक सीमाओं तक सीमित नहीं, अपितु 'सम-धर्म-भाव' की व्यापक संकल्पना है, जो समानता की भावना पर आधारित है। यह भावना विश्व को एक सूत्र में बांधती है और राष्ट्रों की सीमाओं को मिटा देती है।

वास्तविक राष्ट्रवाद विश्व के सभी राष्ट्रों द्वारा एक-दूसरे के नागरिकों एवं संस्कृति का समान आदर करना है।

कर्तव्य चेतना के अभाव में राष्ट्र महत्वाकांक्षाओं के टकराव में उलझ जाते हैं। अधिकारों की अंधी दौड़ युद्धों का कारण बनती है, जैसा कि इतिहास गवाह है। द्वितीय विश्व युद्ध जैसी विभीषिकाएँ इसी कर्तव्य विमुखता का परिणाम हैं।

आज आवश्यकता है समग्र मानवता के प्रति कर्तव्यनिष्ठा की।

जब प्रत्येक नागरिक अपने राष्ट्र के साथ विश्व मानवता के प्रति उत्तरदायी बनेगा, तभी सच्ची शांति स्थापित होगी। राष्ट्र धर्म का पालन व्यक्तिगत कर्तव्य से प्रारंभ होता है, जो वैश्विक एकता की ओर ले जाता है। इस भावना से ही विश्व एक परिवार बन सकता है।

SubQuestion No : 16

Q.16 राष्ट्र की उन्नति किस पर टिकी है?

Comprehension:

निम्नलिखित गद्यांश को ध्यानपूर्वक पढ़कर पूछे गये प्रश्नों के सही उत्तर दीजिए।

राष्ट्र धर्म और नागरिक कर्तव्य एक सिक्के के दो पहलू हैं। राष्ट्र की उन्नति उस देश के नागरिकों के कर्तव्यबोध पर अवलंबित है।

राष्ट्र केवल भौगोलिक सीमाओं तक सीमित नहीं, अपितु 'सम-धर्म-भाव' की व्यापक संकल्पना है, जो समानता की भावना पर आधारित है। यह भावना विश्व को एक सूत्र में बांधती है और राष्ट्रों की सीमाओं को मिटा देती है।

वास्तविक राष्ट्रवाद विश्व के सभी राष्ट्रों द्वारा एक-दूसरे के नागरिकों एवं संस्कृति का समान आदर करना है।

कर्तव्य चेतना के अभाव में राष्ट्र महत्वाकांक्षाओं के टकराव में उलझ जाते हैं। अधिकारों की अंधी दौड़ युद्धों का कारण बनती है, जैसा कि इतिहास गवाह है। द्वितीय विश्व युद्ध जैसी विभीषिकाएँ इसी कर्तव्य विमुखता का परिणाम हैं।

आज आवश्यकता है समग्र मानवता के प्रति कर्तव्यनिष्ठा की।

जब प्रत्येक नागरिक अपने राष्ट्र के साथ विश्व मानवता के प्रति उत्तरदायी बनेगा, तभी सच्ची शांति स्थापित होगी। राष्ट्र धर्म का पालन व्यक्तिगत कर्तव्य से प्रारंभ होता है, जो वैश्विक एकता की ओर ले जाता है। इस भावना से ही विश्व एक परिवार बन सकता है।

SubQuestion No : 17

Q.17 गद्यांश के अनुसार राष्ट्र शब्द के मूल में क्या निहित है?

Comprehension:

निम्नलिखित गद्यांश को ध्यानपूर्वक पढ़कर पूछे गये प्रश्नों के सही उत्तर दीजिए।

राष्ट्र धर्म और नागरिक कर्तव्य एक सिक्के के दो पहलू हैं। राष्ट्र की उन्नति उस देश के नागरिकों के कर्तव्यबोध पर अवलंबित है।

राष्ट्र केवल भौगोलिक सीमाओं तक सीमित नहीं, अपितु 'सम-धर्म-भाव' की व्यापक संकल्पना है, जो समानता की भावना पर आधारित है। यह भावना विश्व को एक सूत्र में बांधती है और राष्ट्रों की सीमाओं को मिटा देती है।

वास्तविक राष्ट्रवाद विश्व के सभी राष्ट्रों द्वारा एक-दूसरे के नागरिकों एवं संस्कृति का समान आदर करना है।

कर्तव्य चेतना के अभाव में राष्ट्र महत्वाकांक्षाओं के टकराव में उलझ जाते हैं। अधिकारों की अंधी दौड़ युद्धों का कारण बनती है, जैसा कि इतिहास गवाह है। द्वितीय विश्व युद्ध जैसी विभीषिकाएँ इसी कर्तव्य विमुखता का परिणाम हैं।

आज आवश्यकता है समग्र मानवता के प्रति कर्तव्यनिष्ठा की।

जब प्रत्येक नागरिक अपने राष्ट्र के साथ विश्व मानवता के प्रति उत्तरदायी बनेगा, तभी सच्ची शांति स्थापित होगी। राष्ट्र धर्म का पालन व्यक्तिगत कर्तव्य से प्रारंभ होता है, जो वैश्विक एकता की ओर ले जाता है। इस भावना से ही विश्व एक परिवार बन सकता है।

SubQuestion No : 18

Q.18 समानता की भावना का परिणाम क्या होता है?

Comprehension:

निम्नलिखित गद्यांश को ध्यानपूर्वक पढ़कर पूछे गये प्रश्नों के सही उत्तर दीजिए।

राष्ट्र धर्म और नागरिक कर्तव्य एक सिक्के के दो पहलू हैं। राष्ट्र की उन्नति उस देश के नागरिकों के कर्तव्यबोध पर अवलंबित है।

राष्ट्र केवल भौगोलिक सीमाओं तक सीमित नहीं, अपितु 'सम-धर्म-भाव' की व्यापक संकल्पना है, जो समानता की भावना पर आधारित है। यह भावना विश्व को एक सूत्र में बांधती है और राष्ट्रों की सीमाओं को मिटा देती है।

वास्तविक राष्ट्रवाद विश्व के सभी राष्ट्रों द्वारा एक-दूसरे के नागरिकों एवं संस्कृति का समान आदर करना है।

कर्तव्य चेतना के अभाव में राष्ट्र महत्वाकांक्षाओं के टकराव में उलझ जाते हैं। अधिकारों की अंधी दौड़ युद्धों का कारण बनती है, जैसा कि इतिहास गवाह है। द्वितीय विश्व युद्ध जैसी विभीषिकाएँ इसी कर्तव्य विमुखता का परिणाम हैं।

आज आवश्यकता है समग्र मानवता के प्रति कर्तव्यनिष्ठा की।

जब प्रत्येक नागरिक अपने राष्ट्र के साथ विश्व मानवता के प्रति उत्तरदायी बनेगा, तभी सच्ची शांति स्थापित होगी। राष्ट्र धर्म का पालन व्यक्तिगत कर्तव्य से प्रारंभ होता है, जो वैश्विक एकता की ओर ले जाता है। इस भावना से ही विश्व एक परिवार बन सकता है।

SubQuestion No : 19

Q.19 अधिकार प्राप्ति की चेष्टा का परिणाम क्या हुआ?

Comprehension:

निम्नलिखित गद्यांश को ध्यानपूर्वक पढ़कर पूछे गये प्रश्नों के सही उत्तर दीजिए।

राष्ट्र धर्म और नागरिक कर्तव्य एक सिक्के के दो पहलू हैं। राष्ट्र की उन्नति उस देश के नागरिकों के कर्तव्यबोध पर अवलंबित है।

राष्ट्र केवल भौगोलिक सीमाओं तक सीमित नहीं, अपितु 'सम-धर्म-भाव' की व्यापक संकल्पना है, जो समानता की भावना पर आधारित है। यह भावना विश्व को एक सूत्र में बांधती है और राष्ट्रों की सीमाओं को मिटा देती है।

वास्तविक राष्ट्रवाद विश्व के सभी राष्ट्रों द्वारा एक-दूसरे के नागरिकों एवं संस्कृति का समान आदर करना है।

कर्तव्य चेतना के अभाव में राष्ट्र महत्वाकांक्षाओं के टकराव में उलझ जाते हैं। अधिकारों की अंधी दौड़ युद्धों का कारण बनती है, जैसा कि इतिहास गवाह है। द्वितीय विश्व युद्ध जैसी विभीषिकाएँ इसी कर्तव्य विमुखता का परिणाम हैं।

आज आवश्यकता है समग्र मानवता के प्रति कर्तव्यनिष्ठा की।

जब प्रत्येक नागरिक अपने राष्ट्र के साथ विश्व मानवता के प्रति उत्तरदायी बनेगा, तभी सच्ची शांति स्थापित होगी। राष्ट्र धर्म का पालन व्यक्तिगत कर्तव्य से प्रारंभ होता है, जो वैश्विक एकता की ओर ले जाता है। इस भावना से ही विश्व एक परिवार बन सकता है।

SubQuestion No : 20

Q.20 गद्यांश के अनुसार सम-धर्म-भाव का मुख्य कार्य क्या है?

Section : Test of Hindi Language and Comprehension1

Q.1 निम्न में से 'मरता क्या न करता?' लोकोक्ति का सही अर्थ कौन-सा है ?

- Ans
- 1. मात्र कल्पना से कार्य सिद्ध नहीं होते
 - 2. जीवन के लिए सब कुछ करना पड़ता है
 - 3. हिम्मत हारने से काम बिगड़ जाता है
 - 4. काम करने से ही आता है

Q.2 दिए गए वाक्यों में से वर्तनी की दृष्टि से शुद्ध वाक्य का चयन कीजिए।

- Ans
- 1. वे बौद्धर्म के अनुयाई थे।
 - 2. वे बौद्धधर्म के अनुयाई थे।
 - 3. वे बोद्धधर्म के अनुयाई थे।
 - 4. वे बौद्धधर्म के अनुयायी थे।

Q.3 "उंगली पर नचाना" मुहावरे से क्या तात्पर्य है ?

- Ans
- 1. नदी में स्नान करना
 - 2. गंदा होना
 - 3. बहुत पानी पीना
 - 4. वश में कर लेना

Q.4 निम्नलिखित वाक्य के किस शब्द में वर्तनी से सम्बन्धित त्रुटि है?

'मैं इन बातों का अभ्यसत हूँ।'

- Ans
- 1. मैं
 - 2. इन
 - 3. अभ्यसत
 - 4. बातों

Q.5 निम्नलिखित वाक्य में अशुद्ध वर्तनी वाले शब्द की पहचान कीजिए।

'व्यवहारिक शब्द उपयोगितावादी दृष्टि को संदर्भित करता है, जो सिद्धांतों से अधिक वास्तविक अनुप्रयोग पर जोर देता है।'

- Ans
- 1. व्यवहारिक
 - 2. संदर्भित
 - 3. उपयोगितावादी
 - 4. सिद्धांतों

Q.6 निम्नलिखित में से कौन सा शब्द तद्भव नहीं है?

- Ans
- 1. सांकल
 - 2. रोम
 - 3. माँ
 - 4. सूंड

Q.7 निम्न में से 'दरिद्र' का पर्याय नहीं है--

- Ans
- 1. अकिंचन
 - 2. कंकाल
 - 3. गरीब
 - 4. निर्धन

Q.8 निम्नलिखित में से 'अक्षि' का तद्भव रूप बताइए -

- Ans
- 1. किसान
 - 2. कान की पट्टी
 - 3. कांस की पट्टी
 - 4. आँख

Q.9 निम्न में से कौन-सा विलोम युग्म असुमेलित है?

- Ans
- 1. सुयश - अपयश
 - 2. सुलभ - अलाभ
 - 3. सूक्ष्म - स्थूल
 - 4. सृजन - नाश

Q.10 'पक्षपात' शब्द का विलोम चुनिए -

- Ans
- 1. निष्पक्षता
 - 2. शिथिल
 - 3. निष्क्रिय
 - 4. उदास

Q.11 निम्न में से 'अकाल' का अनेकार्थी शब्द कौन-सा नहीं है ?

- Ans
- 1. दुर्भिक्ष
 - 2. अभाव
 - 3. असमय
 - 4. आँख

Q.12 निम्न में से 'पानी' का अर्थ कौन-सा नहीं है?

- Ans
- 1. जल
 - 2. चमक
 - 3. इज्जत
 - 4. सोना

Q.13 'जीवन ही सब कुछ है' किस लोकोक्ति का अर्थ है?

- Ans
- 1. जिसकी लाठी उसकी भैंस
 - 2. जान है तो जहान है
 - 3. जितने मुँह उतनी बातें
 - 4. जितनी डफली उतने राग

Q.14 नीचे दिए गए वाक्यों में से वर्तनी की दृष्टि से शुद्ध वाक्य का चयन कीजिए।

- Ans
- 1. विषयों से क्षणिक सुख मिलता है।
 - 2. विषयों से क्षणिक सुख मिलता है।
 - 3. विषयों से क्षणिक सूख मिलता है।
 - 4. विषयो से क्षणिक सुख मिलता है।

Q.15 निम्न में से 'उदय' का विलोम शब्द कौन-सा है ?

- Ans
- 1. अस्त
 - 2. मस्त
 - 3. नष्ट
 - 4. पस्त

Comprehension:

दिए गए गद्यांश को ध्यानपूर्वक पढ़कर पूछे गए प्रश्नों के सर्वाधिक उपयुक्त उत्तर वाले विकल्प को चुनिए -

प्रेमचंदयुगीन कथाकारों में जयशंकर प्रसाद का नाम बड़े आदर से लिया जाता है। उनके पाँच कहानी संग्रह प्रकाशित हुए हैं - छाया, प्रतिध्वनि, आंधी, आकाशदीप और इन्द्रजाल। कुल मिलाकर 69 कहानियाँ इनमें संकलित हैं। प्रसाद जी की कहानियों में अनुभूति की तीव्रता, काव्यात्मकता, प्रेम का उदात्त स्वरूप, प्रकृति निरूपण एवं कल्पना की प्रचुरता विद्यमान है। उनकी कुछ कहानियों में ऐतिहासिक देशकाल एवं वातावरण की सफल प्रस्तुति की गई है। अतीत गौरव, स्वप्निल भावुकता एवं कल्पना की ऊंची उड़ान उनकी कहानियों की विशेषता मानी जाती है। प्रसाद ने उच्चकोटि की नारी चरित्र अपनी कहानियों में प्रस्तुत किए हैं। प्रेम, करुणा, त्याग, बलिदान और देशप्रेम से भरे हुए उनके निश्चल चरित्र पाठकों पर अपनी अमिट छाप छोड़ते हैं। मन की गहरी परतों को खोलने का उद्देश्य लेकर चलने वाली कहानियों की शुरुआत वस्तुतः हिन्दी में प्रसाद की कहानियों से होती है। प्रसाद की उल्लेखनीय कहानियाँ हैं - पुरस्कार, इन्द्रजाल, आकाशदीप, ममता, देवरथ, मधुआ, बेदी, प्रतिध्वनि, आंधी तथा सालवती आदि।

SubQuestion No : 16

Q.16 प्रस्तुत अवतरण का उचित शीर्षक क्या होगा ?

Comprehension:

दिए गए गद्यांश को ध्यानपूर्वक पढ़कर पूछे गए प्रश्नों के सर्वाधिक उपयुक्त उत्तर वाले विकल्प को चुनिए -

प्रेमचंदयुगीन कथाकारों में जयशंकर प्रसाद का नाम बड़े आदर से लिया जाता है। उनके पाँच कहानी संग्रह प्रकाशित हुए हैं - छाया, प्रतिध्वनि, आंधी, आकाशदीप और इन्द्रजाल। कुल मिलाकर 69 कहानियाँ इनमें संकलित हैं। प्रसाद जी की कहानियों में अनुभूति की तीव्रता, काव्यात्मकता, प्रेम का उदात्त स्वरूप, प्रकृति निरूपण एवं कल्पना की प्रचुरता विद्यमान है। उनकी कुछ कहानियों में ऐतिहासिक देशकाल एवं वातावरण की सफल प्रस्तुति की गई है। अतीत गौरव, स्वप्निल भावुकता एवं कल्पना की ऊंची उड़ान उनकी कहानियों की विशेषता मानी जाती है। प्रसाद ने उच्चकोटि की नारी चरित्र अपनी कहानियों में प्रस्तुत किए हैं। प्रेम, करुणा, त्याग, बलिदान और देशप्रेम से भरे हुए उनके निश्चल चरित्र पाठकों पर अपनी अमिट छाप छोड़ते हैं। मन की गहरी परतों को खोलने का उद्देश्य लेकर चलने वाली कहानियों की शुरुआत वस्तुतः हिन्दी में प्रसाद की कहानियों से होती है। प्रसाद की उल्लेखनीय कहानियाँ हैं - पुरस्कार, इन्द्रजाल, आकाशदीप, ममता, देवरथ, मधुआ, बेदी, प्रतिध्वनि, आंधी तथा सालवती आदि।

SubQuestion No : 17

Q.17 उक्त अवतरण की शैली किस प्रकार की है?

Comprehension:

दिए गए गद्यांश को ध्यानपूर्वक पढ़कर पूछे गए प्रश्नों के सर्वाधिक उपयुक्त उत्तर वाले विकल्प को चुनिए -

प्रेमचंदयुगीन कथाकारों में जयशंकर प्रसाद का नाम बड़े आदर से लिया जाता है। उनके पाँच कहानी संग्रह प्रकाशित हुए हैं - छाया, प्रतिध्वनि, आंधी, आकाशदीप और इन्द्रजाल। कुल मिलाकर 69 कहानियाँ इनमें संकलित हैं। प्रसाद जी की कहानियों में अनुभूति की तीव्रता, काव्यात्मकता, प्रेम का उदात्त स्वरूप, प्रकृति निरूपण एवं कल्पना की प्रचुरता विद्यमान है। उनकी कुछ कहानियों में ऐतिहासिक देशकाल एवं वातावरण की सफल प्रस्तुति की गई है। अतीत गौरव, स्वप्निल भावुकता एवं कल्पना की ऊंची उड़ान उनकी कहानियों की विशेषता मानी जाती है। प्रसाद ने उच्चकोटि की नारी चरित्र अपनी कहानियों में प्रस्तुत किए हैं। प्रेम, करुणा, त्याग, बलिदान और देशप्रेम से भरे हुए उनके निश्चल चरित्र पाठकों पर अपनी अमिट छाप छोड़ते हैं। मन की गहरी परतों को खोलने का उद्देश्य लेकर चलने वाली कहानियों की शुरुआत वस्तुतः हिन्दी में प्रसाद की कहानियों से होती है। प्रसाद की उल्लेखनीय कहानियाँ हैं - पुरस्कार, इन्द्रजाल, आकाशदीप, ममता, देवरथ, मधुआ, बेदी, प्रतिध्वनि, आंधी तथा सालवती आदि।

SubQuestion No : 18

Q.18 प्रसाद की कहानियों के चरित्र किस प्रकार के हैं ?

Comprehension:

दिए गए गद्यांश को ध्यानपूर्वक पढ़कर पूछे गए प्रश्नों के सर्वाधिक उपयुक्त उत्तर वाले विकल्प को चुनिए -

प्रेमचंदयुगीन कथाकारों में जयशंकर प्रसाद का नाम बड़े आदर से लिया जाता है। उनके पाँच कहानी संग्रह प्रकाशित हुए हैं - छाया, प्रतिध्वनि, आंधी, आकाशदीप और इन्द्रजाल। कुल मिलाकर 69 कहानियाँ इनमें संकलित हैं। प्रसाद जी की कहानियों में अनुभूति की तीव्रता, काव्यात्मकता, प्रेम का उदात्त स्वरूप, प्रकृति निरूपण एवं कल्पना की प्रचुरता विद्यमान है। उनकी कुछ कहानियों में ऐतिहासिक देशकाल एवं वातावरण की सफल प्रस्तुति की गई है। अतीत गौरव, स्वप्निल भावुकता एवं कल्पना की ऊंची उड़ान उनकी कहानियों की विशेषता मानी जाती है। प्रसाद ने उच्चकोटि की नारी चरित्र अपनी कहानियों में प्रस्तुत किए हैं। प्रेम, करुणा, त्याग, बलिदान और देशप्रेम से भरे हुए उनके निश्चल चरित्र पाठकों पर अपनी अमिट छाप छोड़ते हैं। मन की गहरी परतों को खोलने का उद्देश्य लेकर चलने वाली कहानियों की शुरुआत वस्तुतः हिन्दी में प्रसाद की कहानियों से होती है। प्रसाद की उल्लेखनीय कहानियाँ हैं - पुरस्कार, इन्द्रजाल, आकाशदीप, ममता, देवरथ, मधुआ, बेदी, प्रतिध्वनि, आंधी तथा सालवती आदि।

SubQuestion No : 19

Q.19 प्रसाद जी के कुल कितने कहानी संकलन प्रकाशित हुए ?

Comprehension:

दिए गए गद्यांश को ध्यानपूर्वक पढ़कर पूछे गए प्रश्नों के सर्वाधिक उपयुक्त उत्तर वाले विकल्प को चुनिए -

प्रेमचंदयुगीन कथाकारों में जयशंकर प्रसाद का नाम बड़े आदर से लिया जाता है। उनके पाँच कहानी संग्रह प्रकाशित हुए हैं - छाया, प्रतिध्वनि, आंधी, आकाशदीप और इन्द्रजाल। कुल मिलाकर 69 कहानियाँ इनमें संकलित हैं। प्रसाद जी की कहानियों में अनुभूति की तीव्रता, काव्यात्मकता, प्रेम का उदात्त स्वरूप, प्रकृति निरूपण एवं कल्पना की प्रचुरता विद्यमान है। उनकी कुछ कहानियों में ऐतिहासिक देशकाल एवं वातावरण की सफल प्रस्तुति की गई है। अतीत गौरव, स्वप्निल भावुकता एवं कल्पना की ऊंची उड़ान उनकी कहानियों की विशेषता मानी जाती है। प्रसाद ने उच्चकोटि की नारी चरित्र अपनी कहानियों में प्रस्तुत किए हैं। प्रेम, करुणा, त्याग, बलिदान और देशप्रेम से भरे हुए उनके निश्चल चरित्र पाठकों पर अपनी अमिट छाप छोड़ते हैं। मन की गहरी परतों को खोलने का उद्देश्य लेकर चलने वाली कहानियों की शुरुआत वस्तुतः हिन्दी में प्रसाद की कहानियों से होती है। प्रसाद की उल्लेखनीय कहानियाँ हैं - पुरस्कार, इन्द्रजाल, आकाशदीप, ममता, देवरथ, मधुआ, बेदी, प्रतिध्वनि, आंधी तथा सालवती आदि।

SubQuestion No : 20

Q.20 'आदर' का विलोम शब्द क्या होगा ?