



GOVT. OF NCT OF DELHI
Delhi Subordinate Services Selection Board
FC-18, Institutional Area, Karkardooma, Delhi – 110092.
www.dsssb.delhigovt.nic.in

Participant Name	DHIRAJ KUMAR
Test Center Name	Aadarsh Pariksha Kendra CENTER B - Gate No 2 - Noida Sector 64
Test Date	25/04/2026
Test Time	1:00 PM - 3:00 PM
Subject	Multi Tasking Staff

Section : General intelligence and Reasoning Ability

Q.1 इस प्रश्न में, एक कथन के बाद दो निष्कर्ष दिए गए हैं। दिए गए कथन के आधार पर यह ज्ञात कीजिए कि कौन-सा/से निष्कर्ष सत्य है/हैं।

कथन : $D < G < E > A > M$

निष्कर्ष:

I. $M < E$

II. $D < A$

Ans 1. केवल I सत्य है

2. I और II, दोनों सत्य हैं

3. न तो I और न ही II सत्य है

4. केवल II सत्य है

Q.2 दिए गए कथनों और निष्कर्षों को ध्यानपूर्वक पढ़िए। यह मानते हुए कि कथनों में दी गई जानकारी सत्य है, भले ही वह सामान्य रूप से ज्ञात तथ्यों से भिन्न प्रतीत होती हो, तय कीजिए कि दिए गए निष्कर्षों में से कौन-से निष्कर्ष कथनों का तार्किक रूप से अनुसरण करते हैं।

कथन:

कुछ पेंच, ड्रिलर हैं।

सभी हथौड़े, ड्रिलर हैं।

निष्कर्ष:

(I) कुछ पेंच, हथौड़े हैं।

(II) सभी ड्रिलर, हथौड़े हैं।

Ans 1. निष्कर्ष (I) और (II) दोनों अनुसरण करते हैं।

2. केवल निष्कर्ष (II) अनुसरण करता है।

3. न तो निष्कर्ष (I) और न ही (II) अनुसरण करता है।

4. केवल निष्कर्ष (I) अनुसरण करता है।

Q.3 निम्नलिखित श्रृंखला का संदर्भ लीजिए और दिए गए प्रश्न का उत्तर दीजिए। (सभी संख्याएँ केवल एकल अंकीय संख्याएँ हैं) गिनती केवल बाएँ से दाएँ की जानी चाहिए।

(बाएँ) 1 3 7 1 4 7 3 6 9 1 2 6 9 5 8 1 7 5 6 1 4 8 2 8 3 1 5 (दाएँ)

ऐसे कितने विषम अंक हैं, जिनमें से प्रत्येक के ठीक पहले एक सम अंक है और ठीक बाद एक विषम अंक है?

Ans 1. तीन

2. एक

3. तीन से अधिक

4. दो

Q.4 निम्नलिखित श्रृंखला का संदर्भ लीजिए तथा नीचे दिए गए प्रश्न का उत्तर दीजिए (सभी संख्याएं केवल एकल-अंकीय संख्याएं हैं)। गणना केवल बाएं से दाएं की जानी है।

(बाएं) 5 5 4 4 4 3 5 5 5 5 4 3 5 6 6 7 6 6 7 7 7 4 5 5 4 (दाएं)

ऐसे कितने विषम अंक हैं, जिनमें से प्रत्येक के ठीक पहले एक सम अंक है और ठीक बाद में एक विषम अंक है?

- Ans
- 1. दो
 - 2. चार
 - 3. तीन
 - 4. पाँच

Q.5 A, B, C, D, E, F और G एक गोल मेज के परितः केंद्र की ओर अभिमुख होकर बैठे हैं। E, G के ठीक बाईं ओर पड़ोस में बैठा है। F, E के बाईं ओर दूसरे स्थान पर बैठा है। A और B का निकटतम पड़ोसी C है। D, B के दाईं ओर दूसरे स्थान पर बैठा है। F के बाईं ओर से गिनने पर A और F के बीच कितने व्यक्ति बैठे हैं?

- Ans
- 1. दो
 - 2. चार
 - 3. एक
 - 4. तीन

Q.6 P, Q, R, S, T, U और V में से प्रत्येक की परीक्षा सोमवार से शुरू होकर रविवार को समाप्त होने वाले एक ही सप्ताह के अलग-अलग दिन है। R की परीक्षा शुक्रवार को है। P की परीक्षा के बाद केवल पांच व्यक्तियों की परीक्षा है। U की परीक्षा, V की परीक्षा के ठीक बाद लेकिन R की परीक्षा से पहले है। Q और R की परीक्षाओं के बीच केवल एक व्यक्ति की परीक्षा है। T की परीक्षा शनिवार को नहीं है। V और S की परीक्षाओं के बीच कितने व्यक्तियों की परीक्षा है?

- Ans
- 1. एक
 - 2. चार
 - 3. तीन
 - 4. दो

Q.7 एक निश्चित कूट भाषा में,
A x B का अर्थ है कि 'A, B की माता है'
A - B का अर्थ है कि 'A, B का पति है'
A / B का अर्थ है कि 'A, B की बहन है'

उपरोक्त के आधार पर, यदि 'P x Q - R x S / T' है, तो P का T से क्या संबंध है?

- Ans
- 1. पिता की बहन
 - 2. पिता की माता
 - 3. माता की माता
 - 4. पुत्र की पुत्री

Q.8 इस प्रश्न में, एक कथन दिया गया है और उसके बाद दो निष्कर्ष दिए गए हैं। दिए गए कथन के आधार पर ज्ञात कीजिए, कि कौन-सा निष्कर्ष सत्य है।

कथन : $A < B < C = D < E = F$

निष्कर्ष:

I. $A < F$

II $C = F$

- Ans
- 1. केवल I सत्य है
 - 2. न तो I और न ही II सत्य है।
 - 3. केवल II सत्य है
 - 4. I और II दोनों सत्य हैं

Q.9 निम्नलिखित श्रृंखला का संदर्भ लीजिए और प्रश्न का उत्तर दीजिए (सभी संख्याएं केवल एकल अंकीय संख्याएं हैं। गिनती बाएं से दाएं की जानी है।)
(बाएं) 4 9 8 5 1 6 4 5 9 6 5 3 4 9 6 2 9 4 8 5 1 1 8 4 1 5 7 (दाएं)
ऐसी कितनी विषम संख्याएं हैं, जिनमें से प्रत्येक के ठीक पहले एक विषम संख्या है और ठीक बाद भी एक विषम संख्या है?

- Ans 1. 4
 2. 2
 3. 1
 4. 3

Q.10 निम्नलिखित संख्या-प्रतीक श्रृंखला का संदर्भ लीजिए तथा दिए गए प्रश्न का उत्तर दीजिए। गिनती केवल बाएं से दाएं की जानी चाहिए।

(बाएं) 6 % 4 5 8 @ 8 3 % 4 € & 7 1 2 2 \$ 3 6 £ 6 € (दाएं)

ऐसे कितने प्रतीक हैं, जिनमें से प्रत्येक के ठीक पहले एक संख्या है और ठीक बाद में भी एक संख्या है?

- Ans 1. 4
 2. 5
 3. 6
 4. 7

Q.11 किसी निश्चित कूट भाषा में, 'RAVE' को '1967' के रूप में कूटबद्ध किया जाता है और 'VALE' को '6789' के रूप में कूटबद्ध किया जाता है। दी गई कूट भाषा में 'L' का कूट क्या होगा?

- Ans 1. 9
 2. 6
 3. 7
 4. 8

Q.12 सभी 59 लोग उत्तर की ओर अभिमुख होकर एक पंक्ति में खड़े हैं। GH दाएं छोर से 26वें स्थान पर है, जबकि KL बाएं छोर से 25वें स्थान पर है। GH और KL के बीच कितने लोग हैं?

- Ans 1. 7
 2. 8
 3. 5
 4. 10

Q.13 सात व्यक्ति E, F, G, H, S, T और U एक पंक्ति में उत्तर की ओर अभिमुख होकर बैठे हैं। T और E के बीच केवल तीन व्यक्ति बैठे हैं। S, E के ठीक बाएं पड़ोस में बैठा है। F के दाएं कोई नहीं बैठा है। F और S के बीच केवल दो व्यक्ति बैठे हैं। U, G के ठीक दाएं पड़ोस में बैठा है। H और U के बीच कितने व्यक्ति बैठे हैं?

- Ans 1. चार
 2. एक
 3. तीन
 4. दो

Q.14 P, Q का भाई है। Q, H का पिता है। H, I की पुत्री है। P का I से क्या संबंध है?

- Ans 1. पति का भाई
 2. पिता का भाई
 3. पत्नी का भाई
 4. माता का भाई

Q.15 एक निश्चित कूट भाषा में, 'WAKE' को '2560' के रूप में तथा 'CAKE' को '6075' के रूप में कूटबद्ध किया जाता है। दी गई कूट भाषा में 'W' का कूट क्या होगा?

- Ans
- 1. 6
 - 2. 2
 - 3. 5
 - 4. 0

Q.16 निम्नलिखित अक्षर-प्रतीक श्रृंखला का संदर्भ लीजिए और उसके बाद दिए गए प्रश्न का उत्तर दीजिए। गणना केवल बाएं से दाएं की जानी है।

(बाएं) £ Q & R G K % @ U \$ D C & Ω T Y E A B * # V (दाएं)

ऐसे कितने प्रतीक हैं, जिनमें से प्रत्येक के ठीक पहले एक अक्षर है और ठीक बाद में भी एक अक्षर है?

- Ans
- 1. दो
 - 2. एक
 - 3. एक भी नहीं
 - 4. तीन

Q.17 P, Q, R, S, T, U और V में से प्रत्येक की परीक्षा सोमवार से शुरू होकर रविवार को समाप्त होने वाले एक ही सप्ताह के अलग-अलग दिन है। T की परीक्षा से पहले केवल तीन व्यक्तियों की परीक्षा है। R और T की परीक्षाओं के बीच केवल दो व्यक्तियों की परीक्षा है। Q की परीक्षा, U की परीक्षा के ठीक बाद है लेकिन R की परीक्षा से पहले है। S की परीक्षा, T की परीक्षा से ठीक पहले है लेकिन P की परीक्षा के बाद है। V की परीक्षा मंगलवार को नहीं है। U और P के बीच कितने व्यक्तियों की परीक्षा है?

- Ans
- 1. एक
 - 2. तीन
 - 3. दो
 - 4. चार

Q.18 सात डिब्बे A, E, I, O, U, P और Q एक के ऊपर एक रखे गए हैं, लेकिन जरूरी नहीं कि वे इसी क्रम में रखे गए हों।

P को E के ठीक ऊपर रखा गया है। U को I के ठीक ऊपर रखा गया है। O के ऊपर केवल एक डिब्बा A रखा गया है। P के ऊपर केवल दो डिब्बे रखे गए हैं। U को नीचे से तीसरे स्थान पर नहीं रखा गया है। Q और A के बीच कितने डिब्बे रखे गए हैं?

- Ans
- 1. एक
 - 2. तीन
 - 3. दो
 - 4. चार

Q.19 निम्नलिखित संख्या, प्रतीक श्रृंखला का संदर्भ लीजिए और प्रश्न का उत्तर दीजिए। गणना केवल बाएं से दाएं की जानी है। सभी संख्याएं एकल-अंकीय संख्याएं हैं।

(बाएं) 1 # 3 + 6 9 4 \$ 2 * 7 8 Ω 5 & % (दाएं)

ऐसे कितने प्रतीक हैं, जिनमें से प्रत्येक के ठीक पहले एक प्रतीक है और ठीक बाद एक संख्या है?

- Ans
- 1. तीन
 - 2. एक
 - 3. दो
 - 4. एक भी नहीं

Q.20 एक निश्चित कूट भाषा में, 'TASK' को '5791' के रूप में कूटबद्ध किया जाता है और 'ASKE' को '9871' के रूप में कूटबद्ध किया जाता है। दी गई कूट भाषा में 'E' के लिए कूट क्या है?

- Ans
- 1. 7
 - 2. 1
 - 3. 9
 - 4. 8

Section : General intelligence and Reasoning Ability1

Q.1 यदि जल स्रोत को X-Y के अनुदिश रखा जाता है, जैसा कि चित्र में दिखाया गया है, तो दिए गए विकल्पों में से कौन-सा विकल्प दी गई आकृति का जल प्रतिबिंब होगा?



Ans

1. P Y 8 d w f
2. P Y 8 q w f
3. P Y M P 8 t
4. P Y 8 q M t

Q.2 दिए गए कथनों और निष्कर्षों को ध्यानपूर्वक पढ़िए। आपको दिए गए कथनों को सत्य मानना होगा, भले ही वे सामान्यतः ज्ञात तथ्यों से भिन्न प्रतीत होते हों। आपको यह तय करना होगा कि कौन सा/से निष्कर्ष दिए गए कथनों का तार्किक रूप से अनुसरण करता/करते है/हैं।

कथन: सभी हथौड़ा, चाकू हैं। सभी हथौड़ा, छेनी हैं।

निष्कर्ष (I) : कुछ चाकू, छेनी हैं।

निष्कर्ष (II) : सभी छेनी, हथौड़ा हैं।

Ans

1. केवल निष्कर्ष (II) अनुसरण करता है
2. न तो निष्कर्ष (I) और न ही (II) अनुसरण करता है
3. निष्कर्ष (I) और (II), दोनों अनुसरण करते हैं
4. केवल निष्कर्ष (I) अनुसरण करता है

Q.3 दी गई श्रृंखला में '?' के स्थान पर क्या आना चाहिए?
100 95 90 85 80 ?

Ans

1. 76
2. 74
3. 73
4. 75

Q.4 यदि '+' और '-' को परस्पर बदल दिया जाए तथा 'x' और '+' को परस्पर बदल दिया जाए, तो निम्नलिखित समीकरण में '?' के स्थान पर क्या आएगा?
 $45 - 10 \times 5 + 3 \div 4 = ?$

Ans

1. 34
2. 31
3. 33
4. 35

Q.5 अंग्रेजी वर्णमाला क्रम के आधार पर, निम्नलिखित चार अक्षर-समूह युग्मों में से तीन किसी निश्चित तरीके से एकसमान हैं और इस प्रकार वे एक गुण बनाते हैं। कौन-सा अक्षर-समूह युग्म, उस गुण से संबंधित नहीं है? (नोट: असंगत अक्षर-समूह युग्म, व्यंजनों/स्वरो की संख्या या उनकी स्थिति पर आधारित नहीं है।)

Ans

1. FI - GJ
2. UX - VY
3. AC - BE
4. KN - LO

Q.6 उस युग्म का चयन कीजिए, जो नीचे दिए गए दो युग्मों के समुच्चय के समान पैटर्न का अनुसरण करता है। दोनों युग्म एक ही पैटर्न का अनुसरण करते हैं।

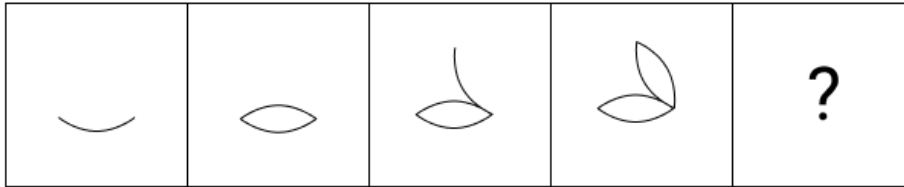
FIJ-KNO
TWX-YBC

- Ans
- 1. LNN-PST
 - 2. LOP-QTU
 - 3. LOP-PTT
 - 4. LNN-QTU

Q.7 यदि संख्या 7193524 के प्रत्येक सम अंक में 2 जोड़ दिया जाए तथा प्रत्येक विषम अंक में से 1 घटा दिया जाए, तो इस प्रकार बनी नई संख्या के सबसे बड़े अंक और सबसे छोटे अंक में कितना अंतर होगा? (विषम/सम अंकों का निर्धारण, संख्या में अंकों की स्थिति के आधार पर नहीं किया जाना चाहिए।)


- Ans
- 1. 4
 - 2. 2
 - 3. 6
 - 4. 8

Q.8 दिए गए विकल्पों में से उस आकृति की पहचान कीजिए, जिसे '?' के स्थान पर रखने पर श्रृंखला तार्किक रूप से पूर्ण हो जाएगी।



Ans

1.




2.



3.



4.



Q.9 उस युग्म का चयन कीजिए जो नीचे दिए गए दो युग्मों द्वारा अनुसरण किए गए पैटर्न के समान पैटर्न का अनुसरण करता है। दोनों युग्म समान पैटर्न का अनुसरण करते हैं।

VZA-WAB

QUV-RVW

- Ans
- 1. VYY-VZA
 - 2. VYY-WAB
 - 3. RVW-SWX
 - 4. VZA-VAA

Q.10 निम्नलिखित श्रृंखला में '?' के स्थान पर क्या आएगा?

6, 14, 30, 62, 126, ?

- Ans
- 1. 254
 - 2. 252
 - 3. 248
 - 4. 250

Q.11 निम्नलिखित संख्या-युग्मों में, पहली संख्या पर निश्चित गणितीय संक्रियाएं करने पर दूसरी संख्या प्राप्त होती है। X और Y को किन संख्याओं द्वारा प्रतिस्थापित किया जाना चाहिए ताकि :: के बाईं ओर की दो संख्याओं द्वारा अनुसरण किया गया पैटर्न, :: के दाईं ओर की दो संख्याओं द्वारा अनुसरण किए गए पैटर्न के समान हो?

(नोट: संख्याओं को उनके घटक अंकों में तोड़े बिना संक्रियाएं पूर्ण संख्याओं पर की जानी चाहिए। उदाहरण के लिए, 13 लीजिए - 13 पर संक्रियाएं, जैसे 13 में जोड़ना/घटाना/गुणा करना, आदि की जा सकती हैं। 13 को 1 और 3 में तोड़ना तथा फिर 1 और 3 पर गणितीय संक्रियाएं करने की अनुमति नहीं है।)

X : 73 :: 55 : Y

- Ans
- 1. X = 23, Y = 105
 - 2. X = 13, Y = 165
 - 3. X = 33, Y = 175
 - 4. X = 13, Y = 155

Q.12 यदि '+' और 'x' को परस्पर बदल दिया जाए तथा '-' और '÷' को परस्पर बदल दिया जाए, तो निम्नलिखित समीकरण में प्रश्न-चिह्न (?) के स्थान पर क्या आएगा?

$108 - 12 \times 6 + 2 \div 18 = ?$

- Ans
- 1. 3
 - 2. 9
 - 3. 0
 - 4. 5

Q.13 उस समुच्चय का चयन कीजिए जिसमें संख्याएँ उसी प्रकार संबंधित हैं, जिस प्रकार निम्नलिखित समुच्चयों की संख्याएँ संबंधित हैं।

(नोट: संख्याओं को उनके घटक अंकों में तोड़े बिना, पूर्ण संख्याओं पर संक्रियाएँ की जानी चाहिए। उदाहरण के लिए 13 लीजिए, 13 पर संक्रियाएँ, जैसे कि 13 में जोड़ना/घटाना/गुणा करना आदि, की जा सकती है। 13 को 1 और 3 में तोड़ना तथा फिर 1 और 3 पर गणितीय संक्रियाएँ करने की अनुमति नहीं है।)

(71, 86, 61)

(93, 108, 83)

- Ans
- 1. (104, 119, 94)
 - 2. (82, 97, 62)
 - 3. (55, 65, 45)
 - 4. (122, 127, 102)

Q.14 अंग्रेजी वर्णानुक्रम पर आधारित निम्नलिखित चार अक्षर समूहों में से तीन अक्षर समूह किसी निश्चित तरीके से समान हैं और इसलिए एक ग्रुप बनाते हैं। कौन-सा अक्षर समूह, उस ग्रुप से संबंधित नहीं है?
(नोट: असंगत अक्षर समूह, अक्षर समूह में व्यंजनों/स्वरों की संख्या या उनकी स्थिति पर आधारित नहीं है)

- Ans
- 1. MQP
 - 2. QUT
 - 3. GKJ
 - 4. VRS

Q.15 दी गई श्रृंखला में '?' के स्थान पर क्या आना चाहिए?
10, 21, 37, 58, 84, ?

- Ans
- 1. 105
 - 2. 108
 - 3. 115
 - 4. 118

Q.16 अंग्रेजी वर्णमाला क्रम के आधार पर, निम्नलिखित चार अक्षर-समूह युग्मों में से तीन एक निश्चित तरीके से एकसमान हैं और इस प्रकार वे एक ग्रुप बनाते हैं। कौन-सा अक्षर-समूह युग्म, उस ग्रुप से संबंधित नहीं है?
(नोट: असंगत अक्षर-समूह युग्म, उसमें व्यंजनों/स्वरों की संख्या या उनकी स्थिति पर आधारित नहीं है।)

- Ans
- 1. NR - QU
 - 2. MQ - PT
 - 3. LP - OS
 - 4. OP - SR

Q.17 उस युग्म का चयन कीजिए, जो नीचे दिए गए दो युग्मों के समुच्चय के समान पैटर्न का अनुसरण करता है। दोनों युग्म एक ही पैटर्न का अनुसरण करते हैं।

EDF-DCE
BAC-AZB

- Ans
- 1. XWY-WVX
 - 2. XVW-VUW
 - 3. XWY-VVW
 - 4. XVW-WVX

Q.18 यदि संख्या 693245 के प्रत्येक सम अंक में 2 जोड़ा जाए तथा प्रत्येक विषम अंक में से 3 घटाया जाए, तो इस प्रकार निर्मित संख्या में सबसे बड़े और सबसे छोटे अंक का योगफल कितना होगा?

- Ans
- 1. 4
 - 2. 10
 - 3. 8
 - 4. 6

Q.19 यदि 'A' का अर्थ '+' है, 'B' का अर्थ 'x' है, 'C' का अर्थ '+' है तथा 'D' का अर्थ '-' है, तो निम्नलिखित समीकरण में प्रश्न-चिह्न '?' के स्थान पर क्या आएगा?
15 A 5 C 9 B 17 D 14 = ?

- Ans
- 1. 141
 - 2. 143
 - 3. 144
 - 4. 142

Q.20 उस समुच्चय का चयन कीजिए जिसमें संख्याएं उसी प्रकार संबंधित हैं जिस प्रकार निम्नलिखित समुच्चयों की संख्याएं संबंधित हैं।
(नोट: संख्याओं को उनके घटक अंकों में तोड़े बिना संक्रियाएं, केवल पूर्ण संख्याओं पर की जानी चाहिए।
उदाहरण के लिए, 13 लीजिए - 13 पर संक्रियाएं, जैसे 13 में जोड़ना/घटाना/गुणा करना, आदि की जा सकती हैं।
13 को 1 और 3 में तोड़ना तथा फिर 1 और 3 पर गणितीय संक्रियाएं करने की अनुमति नहीं है।)

(36, 33.9, 31.8)
(53, 50.9, 48.8)

- Ans
- 1. (44, 42.9, 41.8)
 - 2. (65, 62.9, 60.8)
 - 3. (79, 75.9, 74.8)
 - 4. (23, 20.9, 16.8)

Section : General Awareness

Q.1 कोलंबो में भारत और पाकिस्तान के बीच ICC पुरुष T20 विश्व कप 2026 के मुकाबले के दौरान, 15 फरवरी 2026 को अपने प्रदर्शन के लिए निम्नलिखित में से किस क्रिकेट खिलाड़ी को 'प्लेयर ऑफ द मैच' से सम्मानित किया गया था?

- Ans
- 1. जसप्रीत बुमराह
 - 2. बाबर आजम
 - 3. सूर्य कुमार यादव
 - 4. ईशान किशन

Q.2 संयुक्त राष्ट्र विकास कार्यक्रम (UNDP) द्वारा परिकल्पित मानव विकास सूचकांक (HDI) की गणना में निम्नलिखित में से कौन-सा पहलू शामिल है?

- Ans
- 1. अस्पतालों की संख्या
 - 2. कुल जनसंख्या का आकार
 - 3. रोजगार दर
 - 4. स्कूली शिक्षा के औसत वर्ष

Q.3 जनवरी 2026 में खेलो इंडिया विंटर गेम्स का पहला चरण कहाँ आयोजित किया गया था?

- Ans
- 1. हिमाचल प्रदेश
 - 2. जम्मू और कश्मीर
 - 3. लद्दाख
 - 4. उत्तराखंड

Q.4 राष्ट्रीय प्रौद्योगिकी दिवस 2025 की आधिकारिक थीम निम्न में से किसके द्वारा घोषित की गई?

- Ans
- 1. इलेक्ट्रॉनिक्स और सूचना प्रौद्योगिकी मंत्रालय, भारत सरकार
 - 2. रक्षा अनुसंधान एवं विकास संगठन, भारत सरकार
 - 3. प्रौद्योगिकी विकास बोर्ड के अंतर्गत विज्ञान और प्रौद्योगिकी विभाग, भारत सरकार
 - 4. शिक्षा मंत्रालय, भारत सरकार

Q.5 दक्षिणी क्षेत्रीय भाषा केंद्र (SRLC), जो प्रमुख दक्षिण भारतीय भाषाओं में पाठ्यक्रम प्रदान करता है, किस शहर में स्थित है?

- Ans
- 1. चेन्नई
 - 2. हैदराबाद
 - 3. मैसूर
 - 4. बेंगलुरु

Q.6 मंगल पांडे ने किस सेना में सिपाही के रूप में कार्य किया?

- Ans
- 1. भारतीय राष्ट्रीय सेना
 - 2. ब्रिटिश ईस्ट इंडिया कंपनी की सेना
 - 3. मराठा सेना
 - 4. मुगल सेना

Q.7 फरवरी 2026 में, अग्नि-III मिसाइल का सफल परीक्षण-फायरिंग किस भारतीय राज्य में हुआ?

- Ans
- 1. गुजरात
 - 2. आंध्र प्रदेश
 - 3. ओडिशा
 - 4. राजस्थान

Q.8 फरवरी 2026 में, केंद्रीय मंत्रिमंडल ने निम्नलिखित में से किस राज्य का नाम बदलने के प्रस्ताव को मंजूरी दी?

- Ans
- 1. उड़ीसा
 - 2. केरल
 - 3. पंजाब
 - 4. पश्चिम बंगाल

Q.9 स्पोर्ट्सटार एसेस अवार्ड्स 2025 में, निम्नलिखित में से किस टीम को संयुक्त रूप से नेशनल टीम ऑफ द ईयर के रूप में सम्मानित किया गया?

- Ans
- 1. भारतीय पुरुष और महिला शतरंज टीम
 - 2. भारतीय पुरुष और महिला हॉकी टीम
 - 3. भारतीय पुरुष और महिला क्रिकेट टीम
 - 4. भारतीय पुरुष और महिला बैडमिंटन टीम

Q.10 PDI = व्यक्तिगत आय (PI) - व्यक्तिगत कर भुगतान - गैर-कर भुगतान के सूत्र में PDI का पूर्ण रूप क्या है?

- Ans
- 1. Private Disposable Income (प्राइवेट डिस्पोजेबल इनकम)
 - 2. Personal Disposable Income (पर्सनल डिस्पोजेबल इनकम)
 - 3. Private Direct Income (प्राइवेट डायरेक्ट इनकम)
 - 4. Personal Direct Income (पर्सनल डायरेक्ट इनकम)

Q.11 कौन-सा उपाय भारत में ग्रामीण गरीबी के दीर्घकालिक संरचनात्मक कारणों को सबसे प्रत्यक्ष रूप से संबोधित करता है?

- Ans
- 1. खाद्य सब्सिडी में वृद्धि
 - 2. अल्पकालिक नकदी अंतरण
 - 3. सिंचाई कवरेज का विस्तार
 - 4. शिक्षा और कौशल विकास में सुधार

Q.12 भारत में जीवन बीमा कंपनियों, सामान्य बीमा कंपनियों और बीमा मध्यस्थों को कौन-सा सांविधिक प्राधिकरण विनियमित और पर्यवेक्षित करता है?

- Ans
- 1. NABARD
 - 2. SEBI
 - 3. RBI
 - 4. IRDAI

Q.13 जलियाँवाला बाग हत्याकांड की जांच के लिए नियुक्त हंटर समिति की रिपोर्ट की व्यापक रूप से आलोचना क्यों हुई थी?

- Ans
- 1. पंजाब से ब्रिटिश सैनिकों की पूर्ण वापसी की सिफारिश की
 - 2. जनरल डायर के कार्यों को न्यायोचित ठहराया और दमनकारी उपायों का समर्थन किया
 - 3. भारत के लिए तत्काल स्वतंत्रता की माँग की
 - 4. सभी प्रांतों में मार्शल लॉ समाप्त कर दिया

Q.14 फरवरी 2026 में शुरू की गई, मोबाइल क्वालिटी कंट्रोल वैन मुख्यतः _____ में सुधार करने में सहायक सिद्ध होगी।

- Ans
- 1. राजमार्ग निर्माण मानक
 - 2. रेलवे अवसंरचना
 - 3. शहरी मेट्रो तंत्र
 - 4. विमानपत्तन सुरक्षा

Q.15 भारतीय रिजर्व बैंक द्वारा वाणिज्यिक बैंकों से अतिरिक्त तरलता को अवशोषित करने की दर क्या कहलाती है?

- Ans
- 1. रिवर्स रेपो दर
 - 2. रेपो दर
 - 3. बैंक दर
 - 4. पॉलिसी दर

Q.16 उस मिशन का नाम क्या है, जिसमें इसरो (ISRO) अंतरिक्ष यात्री शुभांशु शुक्ला गए थे?

- Ans
- 1. एक्सिओम-4 (Axiom-4)
 - 2. स्पेसX-7 (SpaceX-7)
 - 3. गगनयान-1 (Gaganyaan-1)
 - 4. एक्सिओन-3 (Axiom-3)

Q.17 निम्नलिखित में से किस वित्तीय मध्यस्थ समिति में सामान्यतः 15 से 20 स्थानीय महिलाएँ होती हैं, जो अल्पावधि के लिए एक साथ आती हैं और अपनी व्यावसायिक आवश्यकताओं के लिए एक साझा कोष निर्मित करती हैं?

- Ans
- 1. ग्रामीण महिला समूह
 - 2. स्वयं सहायता समूह
 - 3. संयुक्त देयता समूह
 - 4. ग्रामीण सहकारी समूह

Q.18 जॉर्ज पंचम (George V) ने किस वर्ष ब्रिटिश भारत की राजधानी को कलकत्ता से दिल्ली स्थानांतरित करने की घोषणा की थी?

- Ans
- 1. 1905
 - 2. 1909
 - 3. 1919
 - 4. 1911

Q.19 1857 के बाद अंग्रेजों ने अपनी सेना की संरचना में किस प्रकार परिवर्तन किया?

- Ans
- 1. उन्होंने केवल अवध और बिहार से भर्ती की।
 - 2. उन्होंने भारतीय सैनिकों की संख्या में वृद्धि की
 - 3. उन्होंने भारतीय सैनिकों का अनुपात कम किया और यूरोपीय सैनिकों की संख्या बढ़ाई
 - 4. उन्होंने सेना को पूरी तरह से भंग कर दिया

Q.20 1902 में बंगाल में 'शारीरिक संस्कृति आंदोलन' की स्थापना किसने की थी, जो बाद में 'अनुशीलन समिति' के रूप में विकसित हुआ?

- Ans
- 1. सतीश चंद्र बोस
 - 2. अरबिंदो घोष
 - 3. बरिंद्र कुमार घोष
 - 4. सूर्य सेन

Q.1 इनमें से कौन-सा प्रायद्वीपीय पठार (Peninsular Plateau) का हिस्सा है?

- Ans
- 1. सतपुड़ा पर्वतमाला
 - 2. गंगा के मैदान
 - 3. ब्रह्मपुत्र घाटी
 - 4. कश्मीर घाटी

Q.2 भारतीय संविधान के अनुसार, कौन-सा मौलिक कर्तव्य नागरिकों को अंधविश्वासों पर प्रश्न उठाने और तार्किक चिंतन के लिए प्रोत्साहित करता है?

- Ans
- 1. वैज्ञानिक दृष्टिकोण, मानववाद और ज्ञानार्जन तथा सुधार की भावना का विकास करना
 - 2. भारत की संप्रभुता, एकता और अखंडता की रक्षा करना और उसे अक्षुण्ण रखना
 - 3. हमारी सामाजिक संस्कृति की गौरवशाली परंपरा का महत्व समझना और उसका परिरक्षण करना
 - 4. भारत के सभी लोगों में समरसता और समान भ्रातृत्व की भावना का निर्माण करना

Q.3 भारत के उत्तरी रेलवे जोन का मुख्यालय कहां है?

- Ans
- 1. कोलकाता
 - 2. पटना
 - 3. नई दिल्ली
 - 4. लखनऊ

Q.4 2011 की जनगणना के अनुसार, किस धार्मिक समुदाय ने इस अवधि (2001-2011) के दौरान सर्वाधिक दशकीय वृद्धि दर दर्ज की थी?

- Ans
- 1. हिंदू
 - 2. ईसाई
 - 3. मुसलमान
 - 4. सिख

Q.5 तमिलनाडु में कौन-सा यूनेस्को स्थल अपने तटीय मंदिरों और प्राचीन मूर्तियों के लिए जाना जाता है?

- Ans
- 1. महाबलिपुरम
 - 2. कांचीपुरम
 - 3. बृहदीश्वर मंदिर
 - 4. मीनाक्षी मंदिर

Q.6 निम्नलिखित में से कौन-सा शब्द, किसी विशिष्ट लोकस (locus) पर जीन के विभिन्न रूपों को संदर्भित करता है?

- Ans
- 1. युग्मविकल्पी
 - 2. गुणसूत्र
 - 3. जीनोम
 - 4. लक्षणप्ररूप

Q.7 चाय उत्पादन के लिए प्रसिद्ध जलपाईगुड़ी जिला, भारत के किस राज्य में स्थित है?

- Ans
- 1. तमिलनाडु
 - 2. असम
 - 3. पश्चिम बंगाल
 - 4. कर्नाटक

Q.8 पौष मेला भारत के निम्नलिखित में से किस राज्य का एक प्रसिद्ध त्योहार है, जो अपने लोक संगीत और बाउल गायकों के लिए जाना जाता है?

- Ans
- 1. ओडिशा
 - 2. पश्चिम बंगाल
 - 3. महाराष्ट्र
 - 4. गुजरात

Q.9 निम्नलिखित में से किस पोषक तत्व की कमी के परिणामस्वरूप, मनुष्यों की अस्थियाँ और दांत कमजोर हो सकते हैं?

- Ans
- 1. कैल्शियम
 - 2. प्रोटीन
 - 3. विटामिन A
 - 4. आयरन

Q.10 जयपुर में हवा महल का निर्माण किसने करवाया था?

- Ans
- 1. महाराजा सवाई जय सिंह
 - 2. महाराजा सवाई प्रताप सिंह
 - 3. महाराजा राम सिंह
 - 4. महाराजा माधो सिंह

Q.11 बौद्ध, हिंदू और जैन स्थापत्य एवं कलात्मक विरासत के लिए प्रसिद्ध अजंता और एलोरा के शिलाखंड काटकर निर्मित किए गए गुफा परिसर, भारत के किस क्षेत्र में स्थित हैं?

- Ans
- 1. हिमाचल प्रदेश का उत्तरी हिमालय क्षेत्र
 - 2. ओडिशा का पूर्वी तटीय क्षेत्र
 - 3. उत्तर प्रदेश का इंडो-गंगा मैदानी क्षेत्र
 - 4. महाराष्ट्र का पश्चिमी दक्कन क्षेत्र

Q.12 Which of the following is the phenomenon that results in the alteration of DNA sequences and consequently leads to changes in the genotype and phenotype of an organism?

- Ans
- 1. Fertilization
 - 2. Cloning
 - 3. Mutation
 - 4. Crossing Over

Q.13 पादपों में निम्नलिखित में से कौन-सा विशिष्ट ऊतक, मुख्य रूप से मूलों से पादप के ऊपरी भागों तक जल और खनिजों के परिवहन के लिए उत्तरदायी है?

- Ans
- 1. मृदूतक (Parenchyma)
 - 2. जाइलम (Xylem)
 - 3. फ्लोएम (Phloem)
 - 4. बाह्यत्वचा (Epidermis)

Q.14 हिमालय पर्वत श्रृंखला, निम्नलिखित में से किस राज्य से होकर गुजरती है?

- Ans
- 1. ओडिशा
 - 2. गुजरात
 - 3. हिमाचल प्रदेश
 - 4. तमिलनाडु

Q.15 एक वैज्ञानिक एक नई औषधि बनाना चाहता है जो DNA प्रतिकृति (replication) की प्रक्रिया को लक्षित करती है। प्रभावी होने के लिए, इस औषधि को कोशिका के किस घटक के साथ परस्पर क्रिया करनी चाहिए?

- Ans
- 1. राइबोसोम
 - 2. कोशिका-भित्ति
 - 3. लाइसोसोम
 - 4. केंद्रक

Q.16 भारतीय संविधान के निम्नलिखित में से किस अनुच्छेद में, 'शिक्षा के अधिकार' के प्रावधान का उल्लेख किया गया है?

- Ans
- 1. 19A
 - 2. 19
 - 3. 21A
 - 4. 20

Q.17 भारतीय संविधान का कौन-सा अनुच्छेद उच्च न्यायालयों को मौलिक अधिकारों के प्रवर्तन और किसी अन्य उद्देश्य के लिए रिट जारी करने का अधिकार प्रदान करता है?

- Ans
- 1. अनुच्छेद 228
 - 2. अनुच्छेद 223
 - 3. अनुच्छेद 229
 - 4. अनुच्छेद 226

Q.18 निम्नलिखित में से कौन-सा बौद्ध उत्सव, विशेष रूप से बोधगया में बोधि वृक्ष के नीचे गौतम बुद्ध द्वारा ज्ञानोदय (बोधि) की स्मृति में मनाया जाता है?

- Ans
- 1. बुद्ध पूर्णिमा
 - 2. नवरोज
 - 3. खोरदाद साल
 - 4. धम्म चक्र प्रवर्तन दिवस

Q.19 भारत के संविधान के अनुच्छेद 58 के अनुसार, भारत के राष्ट्रपति के रूप में निर्वाचित होने वाले किसी व्यक्ति के लिए, निम्नलिखित में से कौन-सी संवैधानिक योग्यता नहीं है?

- Ans
- 1. भारत का नागरिक होना चाहिए
 - 2. लोकसभा सदस्य के रूप में चुनाव के लिए योग्य होना चाहिए
 - 3. केंद्र या राज्य सरकार के अंतर्गत कोई लाभकारी पद नहीं होना चाहिए
 - 4. 30 वर्ष की आयु पूरी होनी चाहिए

Q.20 निम्नलिखित में से कौन, भारतीय संसद का अभिन्न अंग है/हैं?

- Ans
- 1. सभी राज्यों के मुख्यमंत्री
 - 2. भारत का मुख्य न्यायाधीश
 - 3. सभी राज्यों के राज्यपाल
 - 4. भारत का राष्ट्रपति

Section : Arithmetical and Numerical Ability

Q.1 एक किताब की कीमत ₹7,200 है। इस किताब की कीमत में पहले 18% कमी की गई और एक महीने बाद, किताब की कीमत में नई कीमत की 12% वृद्धि की गई। किताब की अंतिम कीमत ज्ञात कीजिए।

- Ans
- 1. ₹6,002.48
 - 2. ₹6,600.48
 - 3. ₹6,612.48
 - 4. ₹6,062.48

Q.2 $(-40) + (-11) \div (-3) \times 6$ का मान ज्ञात कीजिए।

- Ans
- 1. -20
 - 2. -19
 - 3. -18
 - 4. -21

Q.3 13 संख्याओं का औसत 21 है। यदि प्रत्येक संख्या को 6 से गुणा किया जाए, तो नया औसत कितना होगा?

Ans 1. 126

2. 21

3. 13

4. 6

Q.4 $\sqrt{561 + \sqrt{209 + \sqrt{302 - 46}}}$ को सरल कीजिए।

Ans 1. 28

2. 22

3. 26

4. 24

Q.5 13 संख्याओं का औसत 21 है। यदि प्रत्येक संख्या को 8 से गुणा किया जाए, तो नया औसत कितना होगा?

Ans 1. 13

2. 21

3. 8

4. 168

Q.6 किसी संख्या का 20%, 580 के 20% से 150 अधिक है, तो वह संख्या ज्ञात कीजिए।

Ans 1. 1380

2. 1430

3. 1180

4. 1330

Q.7 ₹1,500 पर 5% प्रति माह की दर से 5 महीने का साधारण ब्याज (₹ में) ज्ञात कीजिए।

Ans 1. 125

2. 375

3. 31.25

4. 62.50

Q.8 A student scored 75, 80, and 85 in three subjects, each carrying different weightages of 2, 3, and 5, respectively. What is the weighted average score?

Ans 1. 85

2. 81.5

3. 80

4. 83.5

Q.9 निम्नलिखित तालिका का अध्ययन कीजिए और उस पर आधारित प्रश्न का उत्तर दीजिए।
नीचे दी गई तालिका एक कंपनी द्वारा छह वर्षों में निर्मित और बेची गई किसी उत्पाद की इकाइयों की संख्या दर्शाती है।

वर्ष	निर्मित यूनिट की संख्या (1000 में)	बेची गई इकाइयों की संख्या (1000 में)
2013	3550	2250
2014	3450	3210
2015	5560	2560
2016	5640	2800
2017	5850	3650
2018	4250	3250

वर्ष 2013 और 2018 में बेची गई इकाइयों की कुल संख्या और वर्ष 2017 में निर्मित इकाइयों की संख्या का अनुपात कितना है?

- Ans
- 1. 110:119
 - 2. 112:117
 - 3. 110:117
 - 4. 121:129

Q.10 एक निर्माता एक उत्पाद को थोक विक्रेता को 47% लाभ पर बेचता है। थोक विक्रेता, इसे खुदरा विक्रेता को 60% लाभ पर बेचता है, और खुदरा विक्रेता इसे ग्राहक को 25% लाभ पर बेचता है। यदि ग्राहक ₹441 का भुगतान करता है, तो निर्माता के लिए लागत मूल्य (₹ में) ज्ञात कीजिए।

- Ans
- 1. ₹149
 - 2. ₹152
 - 3. ₹147
 - 4. ₹150

Q.11 एक शहर की जनसंख्या 48,000 है और इसमें प्रतिवर्ष जन्म के कारण 3% की वृद्धि और प्रवास के कारण 2% की वृद्धि होती है। तीसरे वर्ष में जनसंख्या में कितनी वृद्धि होगी?

- Ans
- 1. 2,646
 - 2. 2,656
 - 3. 2,556
 - 4. 2,516

Q.12 किसी संख्या का 20%, 570 के 20% से 220 अधिक है, तो वह संख्या ज्ञात कीजिए।

- Ans
- 1. 1520
 - 2. 1670
 - 3. 1770
 - 4. 1720

Q.13 एक शहर की जनसंख्या 50,000 है। यह 5% वार्षिक दर से घटती है। 2 वर्ष बाद जनसंख्या कितनी होगी?

- Ans
- 1. 43,920
 - 2. 44,920
 - 3. 45,125
 - 4. 46,920

Q.14 ₹121/kg के मूल्य वाली चाय को ₹151/kg की मूल्य वाली चाय के साथ किस अनुपात में मिलाया जाए, ताकि ₹136/kg का मिश्रण प्राप्त हो सके?

- Ans
- 1. 3:5
 - 2. 1:2
 - 3. 1:1
 - 4. 4:3

Q.15 एक निर्माता एक उत्पाद को थोक विक्रेता को 40% लाभ पर बेचता है। थोक विक्रेता इसे खुदरा विक्रेता को 25% लाभ पर बेचता है, और खुदरा विक्रेता इसे ग्राहक को 25% लाभ पर बेचता है। यदि ग्राहक ₹140 का भुगतान करता है, तो निर्माता के लिए लागत मूल्य (₹ में) ज्ञात कीजिए।

- Ans
- 1. ₹63
 - 2. ₹64
 - 3. ₹62
 - 4. ₹67

Q.16 दो संख्याओं का म.स.प. (HCF) और ल.स.प. (LCM) क्रमशः 76 और 456 है। यदि उनमें से एक संख्या 152 है, तो दूसरी संख्या ज्ञात कीजिए।

- Ans
- 1. 112
 - 2. 76
 - 3. 228
 - 4. 152

Q.17 यदि $x = \sqrt{1^2 + 2^2 + 3^2 + 4^2 + 5^2}$ और $y = \sqrt{1 + 2 + 3 + 4}$ है, तो $\sqrt{x^2 + y^2 - 1}$ का मान ज्ञात कीजिए।

- Ans
- 1. 6
 - 2. 7
 - 3. 8
 - 4. 5

Q.18 दी गई तालिका में चार विद्यार्थियों द्वारा पाँच विषयों में प्राप्त अंक दर्शाए गए हैं। प्रत्येक विषय के लिए पूर्णांक 100 हैं। तालिका का अध्ययन कीजिए और इसके आधार पर प्रश्न का उत्तर दीजिए।

विषय	अंग्रेजी	हिंदी	गणित	विज्ञान	कला
विद्यार्थी					
प्रिया	80	90	75	90	90
पारुल	85	100	80	85	95
प्रियंका	90	95	70	80	80
प्रीति	95	100	65	90	85

कला विषय में सभी विद्यार्थियों द्वारा प्राप्त अंकों का औसत प्रतिशत कितना है?

- Ans
- 1. 92%
 - 2. 78%
 - 3. 82.5%
 - 4. 87.5%

Q.19 एक शहर की जनसंख्या वर्ष 2005 में 1,50,000 थी। अगले वर्ष इसमें 12% की वृद्धि हुई, लेकिन एक महामारी के कारण उसके अगले वर्ष इसमें 8% की कमी हो गई। वर्ष 2007 में इसकी जनसंख्या कितनी थी?

- Ans
- 1. 1,62,300
 - 2. 1,54,560
 - 3. 1,65,560
 - 4. 1,52,680

Q.20 एक परीक्षा में, पूर्णांक 120 में से, B को 50 अंक प्राप्त हुए, जबकि A को 80 अंक प्राप्त हुए। A के अंक, B के अंकों का कितने प्रतिशत थे?

- Ans
- 1. 120%
 - 2. 160%
 - 3. 66.67%
 - 4. 62.5%

Section : Arithmetical and Numerical Ability1

Q.1 एक टैंक को भरने के लिए दो नल हैं, जबकि उसे खाली करने के लिए एक तीसरा नल है। जब तीसरा नल बंद किया जाता है, तो टैंक क्रमशः 16 मिनट और 18 मिनट में भर जाता है। यदि तीनों नलों को खोल दिए जाएं, तो टैंक को भरने में 24 मिनट का समय लगता है। यदि पहले दो नल बंद कर दिए जाएं, तो तीसरा नल टैंक को कितने समय में खाली कर देगा, जब वह पूर्णतः भरा हो?

- Ans
- 1. $13\frac{1}{11}$ मिनट
 - 2. $11\frac{3}{7}$ मिनट
 - 3. $10\frac{2}{3}$ मिनट
 - 4. $12\frac{4}{9}$ मिनट

Q.2 नल M एक टंकी को 6 घंटे में भर सकता है और नल N उसी टंकी को 15 घंटे में भर सकता है। नल M और नल N दोनों मिलकर उसी टंकी को कितने घंटे में भर सकते हैं?

- Ans
- 1. $4\frac{2}{7}$
 - 2. $4\frac{6}{7}$
 - 3. $3\frac{2}{7}$
 - 4. $3\frac{5}{7}$

Q.3 दो स्टेशनों के बीच की दूरी 200 km है। एक ट्रेन जाते समय यह दूरी 40 km/hr की चाल से तय करती है, और लौटते समय यह दूरी पिछली चाल की $\frac{3}{2}$ चाल से तय करती है। ट्रेन की औसत चाल (km/hr में) कितनी है?

- Ans
- 1. 42
 - 2. 48
 - 3. 46
 - 4. 44

Q.4 यदि $a : b = 6 : 11$ और $b : c = 4 : 9$ है, तो $a : b : c$ ज्ञात कीजिए।

- Ans
- 1. 24:44:99
 - 2. 12:22:33
 - 3. 24:44:19
 - 4. 12:22:189

Q.5 प्रिया को ₹2500 अंकित मूल्य वाले एक ग्राइंडर पर 44% की छूट प्राप्त होती है। क्रेडिट कार्ड से भुगतान करने पर उसे छूट के बाद प्राप्त मूल्य पर 13% की अन्य छूट मिलती है। वह कितना (₹ में) भुगतान करती है?

- Ans
- 1. 1215
 - 2. 1219
 - 3. 1220
 - 4. 1218

Q.6 हरीश और विनीत, IIM, बेंगलोर से कोयंबटूर की ओर क्रमशः 80 km/h और 120 km/h की चाल से चलना शुरू करते हैं। यदि विनीत, हरीश से 100 मिनट पहले कोयंबटूर पहुँचता है, तो IIM, बेंगलोर और कोयंबटूर के बीच की दूरी ज्ञात कीजिए।

- Ans
- 1. 400 km
 - 2. 515 km
 - 3. 415 km
 - 4. 450 km

Q.7 12%, 13% और 14% की क्रमिक छूटों के बराबर एकल छूट ज्ञात कीजिए। (अपने उत्तर को दो दशमलव स्थानों तक पूर्णांकित करें।)

- Ans
- 1. 36.36%
 - 2. 34.16%
 - 3. 33.33%
 - 4. 39.39%

Q.8 एक फर्नीचर विक्रेता स्टूल को ₹476 में बेचकर 19% लाभ अर्जित करता है और अलमारी को ₹4,683 में बेचकर 75% लाभ अर्जित करता है। यदि वह स्टूल को ₹338 में बेचता है, तो उसे अलमारी को न्यूनतम किस कीमत पर बेचना चाहिए जिससे संपूर्ण लेन-देन में कोई हानि न हो?

- Ans
- 1. ₹2,735
 - 2. ₹2,738
 - 3. ₹2,740
 - 4. ₹2,741

Q.9 एक ट्रेन रेलवे ट्रैक के अनुदिश चल रहे दो व्यक्तियों को ओवरटेक करती है। पहला व्यक्ति 9 km/hr की चाल से चल रहा है, जबकि दूसरा व्यक्ति 10.8 km/hr की चाल से चल रहा है। ट्रेन उन्हें क्रमशः 8.4 सेकंड और 8.5 सेकंड में ओवरटेक करती है। यदि दोनों व्यक्ति ट्रेन की दिशा में चल रहे हैं, तो ट्रेन की चाल क्या होगी?

- Ans
- 1. 172 km/hr
 - 2. 156 km/hr
 - 3. 148 km/hr
 - 4. 162 km/hr

Q.10 एक बेलन का वक्र पृष्ठीय क्षेत्रफल 880 cm^2 है। यदि त्रिज्या 7 cm है, तो ऊँचाई ज्ञात कीजिए। ($\pi = \frac{22}{7}$ का उपयोग कीजिए)

- Ans
- 1. 20 cm
 - 2. 10 cm
 - 3. 15 cm
 - 4. 22 cm

Q.11 यदि x, y के व्युत्क्रमानुपाती है, तो $x = 2$ होने पर $y = 4$ होता है। $y = 16$ होने पर x का मान ज्ञात कीजिए।

- Ans
- 1. 0.5
 - 2. 2
 - 3. 1
 - 4. 1.5

Q.12 एक मोटर कार 60 km/h की चाल से चलना शुरू करती है और प्रत्येक दो घंटे में इसकी चाल 10 km/h बढ़ जाती है। प्रथम चार घंटों में कार की औसत चाल (km/h में) ज्ञात कीजिए।

- Ans
- 1. 68
 - 2. 65
 - 3. 64
 - 4. 60

Q.13 किसी वस्तु को 25% की छूट पर बेचने के बाद प्राप्त लाभ प्रतिशत 25% है। वस्तु पर मूल्य कितने प्रतिशत (दशमलव के दो स्थानों तक पूर्णांकित) बढ़ाकर अंकित किया गया था।

- Ans
- 1. 58.87%
 - 2. 66.67%
 - 3. 72.45%
 - 4. 61.25%

Q.14 दो पाइप एक टैंक को क्रमशः 12 और 18 मिनट में भर सकते हैं, और पाइप C टैंक को 4 गैलन प्रति मिनट खाली कर सकता है। तीनों पाइप एक साथ खोले जाने पर टैंक को 8 मिनट में भर सकते हैं। टैंक की धारिता ज्ञात कीजिए।

- Ans
- 1. 288 गैलन
 - 2. 268 गैलन
 - 3. 258 गैलन
 - 4. 208 गैलन

Q.15 यदि एक बड़े संवृत घनाभाकार जल टंकी की लंबाई, चौड़ाई और ऊंचाई का अनुपात 6:5:4 है और यदि इसका संपूर्ण पृष्ठीय क्षेत्रफल $33,300 \text{ m}^2$ है, तो इसका आयतन ज्ञात कीजिए।

- Ans
- 1. 5,04,000 m³
 - 2. 4,55,500 m³
 - 3. 4,55,000 m³
 - 4. 4,05,000 m³

Q.16 एक खोखले गोलाकार कोश की बाह्य त्रिज्या 14 cm है और आंतरिक त्रिज्या 7 cm है। कोश निर्माण हेतु आवश्यक सामग्री का आयतन (cm³ में, निकटतम पूर्णांक तक पूर्णांकित) ज्ञात कीजिए। ($\pi = 22/7$ का उपयोग कीजिए)

- Ans
- 1. 11,061
 - 2. 10,261
 - 3. 10,061
 - 4. 11,261

Q.17 एक स्कूल में, दो पाइप L और M एक टैंक को क्रमशः 80 मिनट और 40 मिनट में भरते हैं। यदि अकेले M को आधा समय तथा फिर L और M दोनों को एक साथ उपयोग किया जाए, तो खाली टैंक को पूरा भरने में कितने मिनट लगेंगे?

- Ans
- 1. 40 मिनट
 - 2. 32 मिनट
 - 3. 36 मिनट
 - 4. 50 मिनट

Q.18 यदि $A:B = 2:3$ और $B:C = 4:5$ है, $(A^2 + B^2):(A^2 + C^2):(B^2 + C^2)$ का मान ज्ञात कीजिए।

- Ans
- 1. 12:18:19
 - 2. 169:201:274
 - 3. 123:136:148
 - 4. 208:289:369

Q.19 60 लीटर मिश्रण में दूध और पानी का अनुपात 7 : 5 है। मिश्रण में इस अनुपात को 1 : 1 करने के लिए मिलाए जाने वाले अतिरिक्त पानी की मात्रा ज्ञात कीजिए।

- Ans
- 1. 11 लीटर
 - 2. 5 लीटर
 - 3. 10 लीटर
 - 4. 8 लीटर

Q.20 7 cm त्रिज्या और 10 cm ऊंचाई वाले एक बेलन का आयतन ज्ञात कीजिए। ($\pi = \frac{22}{7}$ लीजिए)

- Ans
- 1. 1540 cm³
 - 2. 1320 cm³
 - 3. 1610 cm³
 - 4. 1510 cm³

Section : Test of English Language and Comprehension

Q.1 Choose the appropriate alternative to complete the sentence.

_____ being good at drawing, she is good at singing too.

- Ans
- 1. Apart from
 - 2. Instead of
 - 3. In place of
 - 4. In spite of

Q.2 A sentence is divided into the following different segments. Rearrange all the segments to form a coherent sentence.

the museum (O) / is open (P) / after renovation (Q) / for the tourists again (R) / only on weekends (S)

- Ans
- 1. QOPRS
 - 2. ROSQP
 - 3. SROQP
 - 4. PRSQO

Q.3 Choose the most grammatically correct sentence.917

- Ans
- 1. The students participated jolly in the event.
 - 2. The students participated in the event joyingly.
 - 3. The students joyfully participated in the event.
 - 4. The students participated joyfully in the event.

Q.4 Select the most appropriate option to fill in the blank.
My elder brother is interested _____ learning languages.

- Ans
- 1. with
 - 2. to
 - 3. for
 - 4. in

Q.5 Choose the most appropriate option that fits grammatically and contextually.

After half _____ hour, the strange black aeroplane was still there in front of me in the clouds.

1864

- Ans
- 1. a
 - 2. the
 - 3. an
 - 4. no article required

Q.6 Select the most appropriate option to fill in the blank.

The doctor explained the diagnosis _____, helping the patient understand the treatment plan.

- Ans
- 1. obscurely
 - 2. contemptuously
 - 3. lucidly
 - 4. ambiguously

Q.7 In the given question, a statement divided into different segments is given. The first segment is fixed, rearrange the other segments to form a coherent statement. The integration of concepts from psychology, / Like selfish genes and neo-Darwinism, has (P) / Reinforced the assumption that human nature (Q) / Economics, and biology, particularly theories (R) / Is inherently competitive, cruel, and selfish (S)

- Ans
- 1. RSPQ
 - 2. QPSR
 - 3. SQPR
 - 4. RPQS

Q.8 Select the most appropriate option to fill in the blanks.

In a challenging project, _____ team worked together, where the communication was clear, _____ roles were defined and the cooperation was essential for success.

- Ans
- 1. an; No article required
 - 2. No article required; the
 - 3. the; No article required
 - 4. the; the

Q.9 Select the most appropriate option to fill in the blank.

The _____ half of the twenty-first century saw huge growth in the feminist movement.⁴⁸¹

- Ans
- 1. latest
 - 2. late
 - 3. later
 - 4. latter

Q.10 Choose the most appropriate option that fits grammatically and contextually.

_____ few moments later, we all lifted our _____ eyes.

- Ans
- 1. No article required, the
 - 2. The, the
 - 3. A, no article required
 - 4. The, an

Q.11 Fill in the blank with the most suitable option.

I don't want my dignity for money. 1136

- Ans
- 1. to lose
 - 2. to loose
 - 3. loose
 - 4. lose

Q.12 Identify the correct verb form to complete the sentence meaningfully:
Neither of the players _____ willing to admit their mistake.

- Ans
- 1. is
 - 2. were
 - 3. are
 - 4. have been

Q.13 In the questions given below, a part of the sentence is italicised and underlined.
Below are given alternatives to the italicised part which may improve the sentence.
Choose the correct alternative. If there is no error select 'No correction required'.

A fawn can sometimes be strongest than a dead dog.392

- Ans
- 1. So strong than
 - 2. The strongest
 - 3. No correction required
 - 4. Stronger than

Q.14 Select the most appropriate option to fill in the blank.

_____ knowledge is a dangerous thing.

- Ans
- 1. Few
 - 2. A little
 - 3. The less
 - 4. A few

Q.15 Choose the best option to complete the sentence.

I have _____ old laptop that I want to sell.1957

- Ans
- 1. the
 - 2. no change required
 - 3. an
 - 4. a

Comprehension:

Read the passage carefully and answer the questions that follow.

Different systems of medicine are practised to treat illness and maintain health. Each follows its own principles and methods, yet they all aim to reduce suffering and improve well-being across diverse populations. Some approaches depend mainly on synthetic drugs and advanced technology, while others rely on natural remedies and traditional healing practices passed down through generations. Every system has its own strengths and limitations. Certain methods may provide quick relief, especially in acute conditions, while others focus on building natural resistance and long-term health. Natural treatments are often considered gentle, though they may take longer to show results, whereas modern treatments act faster but must be used carefully due to possible side effects. Since people have varying needs and beliefs, they may seek suitable forms of treatment. Understanding these medical disciplines therefore helps individuals make informed choices about maintaining health and managing illness more effectively.

SubQuestion No : 16

Q.16 What is the overall tone of the passage?

Comprehension:

Read the passage carefully and answer the questions that follow.

Different systems of medicine are practised to treat illness and maintain health. Each follows its own principles and methods, yet they all aim to reduce suffering and improve well-being across diverse populations. Some approaches depend mainly on synthetic drugs and advanced technology, while others rely on natural remedies and traditional healing practices passed down through generations. Every system has its own strengths and limitations. Certain methods may provide quick relief, especially in acute conditions, while others focus on building natural resistance and long-term health. Natural treatments are often considered gentle, though they may take longer to show results, whereas modern treatments act faster but must be used carefully due to possible side effects. Since people have varying needs and beliefs, they may seek suitable forms of treatment. Understanding these medical disciplines therefore helps individuals make informed choices about maintaining health and managing illness more effectively.

SubQuestion No : 17

Q.17 Identify the central theme of the passage from the given options?

Comprehension:

Read the passage carefully and answer the questions that follow.

Different systems of medicine are practised to treat illness and maintain health. Each follows its own principles and methods, yet they all aim to reduce suffering and improve well-being across diverse populations. Some approaches depend mainly on synthetic drugs and advanced technology, while others rely on natural remedies and traditional healing practices passed down through generations. Every system has its own strengths and limitations. Certain methods may provide quick relief, especially in acute conditions, while others focus on building natural resistance and long-term health. Natural treatments are often considered gentle, though they may take longer to show results, whereas modern treatments act faster but must be used carefully due to possible side effects. Since people have varying needs and beliefs, they may seek suitable forms of treatment. Understanding these medical disciplines therefore helps individuals make informed choices about maintaining health and managing illness more effectively.

SubQuestion No : 18

Q.18 Which option correctly reflects the structure of the passage?

Comprehension:

Read the passage carefully and answer the questions that follow.

Different systems of medicine are practised to treat illness and maintain health. Each follows its own principles and methods, yet they all aim to reduce suffering and improve well-being across diverse populations. Some approaches depend mainly on synthetic drugs and advanced technology, while others rely on natural remedies and traditional healing practices passed down through generations. Every system has its own strengths and limitations. Certain methods may provide quick relief, especially in acute conditions, while others focus on building natural resistance and long-term health. Natural treatments are often considered gentle, though they may take longer to show results, whereas modern treatments act faster but must be used carefully due to possible side effects. Since people have varying needs and beliefs, they may seek suitable forms of treatment. Understanding these medical disciplines therefore helps individuals make informed choices about maintaining health and managing illness more effectively.

SubQuestion No : 19

Q.19 What does the passage specifically suggest about people's choice of treatment?

Comprehension:

Read the passage carefully and answer the questions that follow.

Different systems of medicine are practised to treat illness and maintain health. Each follows its own principles and methods, yet they all aim to reduce suffering and improve well-being across diverse populations. Some approaches depend mainly on synthetic drugs and advanced technology, while others rely on natural remedies and traditional healing practices passed down through generations. Every system has its own strengths and limitations. Certain methods may provide quick relief, especially in acute conditions, while others focus on building natural resistance and long-term health. Natural treatments are often considered gentle, though they may take longer to show results, whereas modern treatments act faster but must be used carefully due to possible side effects. Since people have varying needs and beliefs, they may seek suitable forms of treatment. Understanding these medical disciplines therefore helps individuals make informed choices about maintaining health and managing illness more effectively.

SubQuestion No : 20

Q.20 Which statement is explicitly stated in the passage?

Section : Test of English Language and Comprehension1

Q.1 Rectify the error in the sentence by choosing the correct spelling of the incorrectly spelt word.

Sheetal became indispensable for the organization she worked for.

- Ans
- 1. indispenicable
 - 2. indispensable
 - 3. indespensable
 - 4. indispensabl

Q.2 Select the most appropriate synonym of the given word.

Turbulent

- Ans
- 1. Tranquil
 - 2. Chaotic
 - 3. Sanguine
 - 4. Eloquent

Q.3 Choose the option that means the same as the underlined proverb.

Mala decided to accept a less paying job in India instead of waiting for an appointment in the US, because she felt that a bird in hand is worth two in bush.

- Ans
- 1. It is better to work in one's own country than to go to US.
 - 2. It is easy to hold a single bird in hand than holding two birds.
 - 3. Two birds in bush are protected by forest department.
 - 4. What you already have is more valuable than what you might get, even if it is more.

Q.4 Select the word which means the same as the group of words underlined.

The expedition members finally found a place that gives temporary shelter and protection from rain, wind, or danger after hours of trekking through the forest.

- Ans
- 1. Boundary
 - 2. Refuge
 - 3. Route
 - 4. Destination

Q.5 Select the wrongly spelt word.

- Ans
- 1. Eccentric
 - 2. Appearance
 - 3. Proffesional
 - 4. Questionnaire

Q.6 Select the most appropriate antonym of the given word.

RELUCTANT

- Ans
- 1. Indecisive
 - 2. Enthusiastic
 - 3. Pensive
 - 4. Cautious

Q.7 Choose the correct option that best expresses the meaning of the given proverb.
An idle brain is the devil's workshop -

- Ans
- 1. When one has nothing to do, one is not likely to get into trouble
 - 2. When one has something to do, one is not likely to get into trouble
 - 3. When one has something to do, one is more likely to get into trouble
 - 4. When one has nothing to do, one is more likely to get into trouble

Q.8 Choose the word that is opposite in meaning to the given word.
Ascend

- Ans
- 1. Commend
 - 2. Amend
 - 3. Descend
 - 4. Climb

Q.9 In the question given below, out of four alternatives, choose the one that can be substituted for the given phrase/sentence.

One who comes as a settler into a foreign country.

- Ans
- 1. migrant
 - 2. immigrant
 - 3. emigrant
 - 4. refugee

Q.10 Choose the option most similar in meaning to the given word.

Pernicious

- Ans
- 1. Harmless
 - 2. Helpful
 - 3. Peaceful
 - 4. Deadly

Q.11 In the question given below, out of four alternatives, choose the one that can be substituted for the given phrase/sentence.

One who has belief in the existence of God

- Ans
- 1. Disciple
 - 2. Devotee
 - 3. Theist
 - 4. Atheist

Q.12 Choose the correct option that best expresses the meaning of the given proverb.

Don't count your chickens before they hatch.

- Ans
- 1. Chickens are actually very difficult to count.
 - 2. Don't assume something will happen before it actually does.
 - 3. Always expect the worst outcome no matter how hard you try.
 - 4. It is advisable to make plans for the future based on predictions.

Q.13 Choose the one-word substitute for 'a person who studies weather and atmospheric conditions'.

- Ans**
- 1. Meteorologist
 - 2. Biologist
 - 3. Astronomer
 - 4. Geologist

Q.14 Choose the most appropriate meaning of the given proverb:

"Haste makes waste."

- Ans**
- 1. Slow actions are wasteful.
 - 2. Rushing to complete tasks increases efficiency.
 - 3. Being hasty saves time.
 - 4. Hurrying leads to mistakes.

Q.15 Parts of a sentence are given below in jumbled order. Arrange the parts in the correct order to form a meaningful sentence.

- P. one country to another in search of food
- Q. and shelter, and for breeding
- R. mammals and birds move from
- S. with a change in season, many

- Ans**
- 1. QPRS
 - 2. RSPQ
 - 3. SRPQ
 - 4. PSRQ

Comprehension:

Read the following passage and answer the questions given below-

After his conquest of Kalinga, Emperor Ashoka witnessed such destruction and suffering that he underwent a profound transformation. The bloodshed haunted him. Choosing peace over war, Ashoka embraced Buddhism and devoted his reign to nonviolence, public welfare, and moral governance. He issued edicts carved on pillars and rocks across his empire—written in Prakrit using Brahmi script—spreading messages of compassion, tolerance, and respect for all religions. These inscriptions spoke not of military triumphs, but of planting trees, building hospitals, and treating even prisoners humanely. Ashoka became one of the earliest known rulers to promote ethical conduct as state policy. His ideals were so forward-thinking that India later adopted his emblem—the four lions—as its national symbol. Today, Ashoka stands not only as a powerful monarch but as a moral visionary. His reign marked a rare moment in history when power bowed to principle, and stone carried the weight of conscience instead of conquest.

SubQuestion No : 16

Q.16 What is Ashoka's connection to modern India?

Comprehension:

Read the following passage and answer the questions given below-

After his conquest of Kalinga, Emperor Ashoka witnessed such destruction and suffering that he underwent a profound transformation. The bloodshed haunted him. Choosing peace over war, Ashoka embraced Buddhism and devoted his reign to nonviolence, public welfare, and moral governance. He issued edicts carved on pillars and rocks across his empire—written in Prakrit using Brahmi script—spreading messages of compassion, tolerance, and respect for all religions. These inscriptions spoke not of military triumphs, but of planting trees, building hospitals, and treating even prisoners humanely. Ashoka became one of the earliest known rulers to promote ethical conduct as state policy. His ideals were so forward-thinking that India later adopted his emblem—the four lions—as its national symbol. Today, Ashoka stands not only as a powerful monarch but as a moral visionary. His reign marked a rare moment in history when power bowed to principle, and stone carried the weight of conscience instead of conquest.

SubQuestion No : 17

Q.17 What does the passage suggest about Ashoka's rule?

Comprehension:

Read the following passage and answer the questions given below-

After his conquest of Kalinga, Emperor Ashoka witnessed such destruction and suffering that he underwent a profound transformation. The bloodshed haunted him. Choosing peace over war, Ashoka embraced Buddhism and devoted his reign to nonviolence, public welfare, and moral governance. He issued edicts carved on pillars and rocks across his empire—written in Prakrit using Brahmi script—spreading messages of compassion, tolerance, and respect for all religions. These inscriptions spoke not of military triumphs, but of planting trees, building hospitals, and treating even prisoners humanely. Ashoka became one of the earliest known rulers to promote ethical conduct as state policy. His ideals were so forward-thinking that India later adopted his emblem—the four lions—as its national symbol. Today, Ashoka stands not only as a powerful monarch but as a moral visionary. His reign marked a rare moment in history when power bowed to principle, and stone carried the weight of conscience instead of conquest.

SubQuestion No : 18

Q.18 What does “stone carried the weight of conscience” imply?

Comprehension:

Read the following passage and answer the questions given below-

After his conquest of Kalinga, Emperor Ashoka witnessed such destruction and suffering that he underwent a profound transformation. The bloodshed haunted him. Choosing peace over war, Ashoka embraced Buddhism and devoted his reign to nonviolence, public welfare, and moral governance. He issued edicts carved on pillars and rocks across his empire—written in Prakrit using Brahmi script—spreading messages of compassion, tolerance, and respect for all religions. These inscriptions spoke not of military triumphs, but of planting trees, building hospitals, and treating even prisoners humanely. Ashoka became one of the earliest known rulers to promote ethical conduct as state policy. His ideals were so forward-thinking that India later adopted his emblem—the four lions—as its national symbol. Today, Ashoka stands not only as a powerful monarch but as a moral visionary. His reign marked a rare moment in history when power bowed to principle, and stone carried the weight of conscience instead of conquest.

SubQuestion No : 19

Q.19 What structural method does the passage use?

Comprehension:

Read the following passage and answer the questions given below-

After his conquest of Kalinga, Emperor Ashoka witnessed such destruction and suffering that he underwent a profound transformation. The bloodshed haunted him. Choosing peace over war, Ashoka embraced Buddhism and devoted his reign to nonviolence, public welfare, and moral governance. He issued edicts carved on pillars and rocks across his empire—written in Prakrit using Brahmi script—spreading messages of compassion, tolerance, and respect for all religions. These inscriptions spoke not of military triumphs, but of planting trees, building hospitals, and treating even prisoners humanely. Ashoka became one of the earliest known rulers to promote ethical conduct as state policy. His ideals were so forward-thinking that India later adopted his emblem—the four lions—as its national symbol. Today, Ashoka stands not only as a powerful monarch but as a moral visionary. His reign marked a rare moment in history when power bowed to principle, and stone carried the weight of conscience instead of conquest.

SubQuestion No : 20

Q.20 What is the real-world take away from the passage?

Section : Test of Hindi Language and Comprehension

**Q.1 निम्नलिखित अर्थ के लिए उचित मुहावरे का चयन करें -
'असंभव कार्य करना'**

- Ans**
- 1. बिधाता का अक्षर होना
 - 2. बाल से बारीक होना
 - 3. मिट्टी का माधो होना
 - 4. बालू से तेल निकालना

Q.2 'जो स्त्री विद्वान हो' वाक्यांश के लिए सार्थक शब्द होगा-

- Ans**
- 1. विद्वान
 - 2. ज्ञानी
 - 3. स्त्रीवादी
 - 4. विदुषी

- Q.3 निम्नलिखित विकल्पों में से अतिरिक्त वाक्य का चयन करें।
अ. सांप्रदायिकता सदा संस्कृति की दुहाई दिया करती है।
ब. हिन्दू अपनी संस्कृति को कयामत तक सुरक्षित रखना चाहता है, मुसलमान अपनी संस्कृति को।
स. लेकिन कोई भी संस्कृति मानवता से बढ़कर नहीं है।
द. जहाँ मानवता है वही श्रेष्ठ संस्कृति है।
र. भाषा का समाज से घनिष्ठ संबंध होता है।

- Ans 1. स
 2. ब
 3. र
 4. अ

- Q.4 निम्नलिखित वाक्यों में से अतिरिक्त वाक्य की पहचान करें।

- Ans 1. उन्हें जब फल निकट ज्ञात होता है, तब उनका उत्साह बढ़ जाता है।
 2. और उन्हें जब फल दूर ज्ञात होता है, तब उनका उत्साह कम हो जाता है।
 3. जो पुरुष फल की मात्रा कामना से ही कर्म करते हैं।
 4. आम का फल प्रायः गर्मी में प्राप्त होता है।

- Q.5 'अपनी करनी पार उतरनी' का अर्थ है

- Ans 1. अपनी परिस्थिति से संतुष्ट रहना
 2. अपनी इज्जत अपने हाथ
 3. पूर्ण स्वतंत्र होना
 4. अपना किया काम ही फलदायक होता है

- Q.6 निम्नलिखित वाक्य को ध्यानपूर्वक पढ़ें और वाक्य में त्रुटि की पहचान कर वाक्य शुद्ध करें।
इस गर्मी में भी जाने का मन कहीं नहीं करता है।

- Ans 1. इस गर्मी में कहीं भी जाने का मन नहीं करता है।
 2. इस में कहीं भी जाने करता का मन नहीं गर्मी है।
 3. गर्मी में इस कहीं भी मन जाने का नहीं करता है।
 4. इस जाने का गर्मी में कहीं भी नहीं करता मन है।

- Q.7 निम्नलिखित वाक्य के शुद्ध रूप का चयन करें।
वह सभी धोखेबाज़ लोग हैं।

- Ans 1. वह सभ के सब धोखेबाज़ हैं।
 2. वे सब लोग धोखेबाज़ से हैं।
 3. वे सभी लोग धोखेबाज़ हैं।
 4. वो सभी लोग धोखेबाज़ नहीं हैं।

- Q.8 विशेषण के आधार पर वाक्य पूर्ण कीजिए।
आज का मौसम बहुत _____ है।

- Ans 1. सुहावना
 2. शौर्य वान
 3. ज्ञानवर्धक
 4. बलवान

- Q.9 क्रिया के आधार पर वाक्य पूर्ण कीजिए।
हमें समय पर भोजन _____ चाहिए।

- Ans 1. जीना
 2. रोना
 3. आना
 4. करना

Q.10 'दूसरे की विवाहित स्त्री' वाक्यांश के लिए एक शब्द होगा-

- Ans 1. अन्योद्धा
 2. प्रौढ़ा
 3. विवाहिता
 4. अभिसारिका

Q.11 निम्न विकल्पों में उचित विकल्प का चयन कर वाक्य पूर्ण करें -.....दूर मत जाना।

- Ans 1. प्रतिदिन
 2. बार- बार
 3. बहुत
 4. सवेरे

Q.12 कृपया करके उसे यह काम करने दें। वाक्य में अशुद्ध अंश है -

- Ans 1. काम करने दें।
 2. करके
 3. उसे यह
 4. कृपया

Q.13 निम्नलिखित वाक्य खंड को क्रम में लिखें -

- 1.में बसी घाटियाँ
- 2.शांति और सौंदर्य का
- 3.हिमालय की गोद
- 4.अनुपम संगम हैं

- Ans 1. 2314
 2. 3124
 3. 3142
 4. 4213

Q.14 उपयुक्त 'क्रिया' का प्रयोग कर दिये गये वाक्य को पूर्ण कीजिए-
'रिया कंघी से अपने बालहै।'

- Ans 1. बिगाड़ती
 2. काटती
 3. सुलझाती
 4. उलझाती

Q.15 रोहन मिठाई _____ है। रिक्त स्थान के लिए उचित क्रिया है-

- Ans 1. खाता
 2. खाती
 3. खा
 4. खाते

Comprehension:

गद्यांश के आधार पर अग्रलिखित प्रश्नों के उत्तर दीजिए।

भारतीय लोकसाहित्य की परम्परा अति प्राचीन है। विविध वैदिक प्रसंग पुराणों में विकसित होकर प्रकट हुए हैं। वेदों में सफल जीवनयात्रा के लिए जो मार्ग प्रदर्शित किया गया है, पुराणों में उसी पथ का समुचित अनुसरण करने वाले चरित्र चित्रित हुए हैं। इस प्रकार पुरातन एवं उच्च सिद्धान्तों ने सजीव चित्रों का रूप धारण करके जीवन और ज्योति का प्रकाशन किया है जो सर्व साधारण के लिए बड़ा उपयोगी एवं महत्वपूर्ण है। अति प्राचीन अनुश्रुतियाँ भारत के लोक जीवन में प्रवेश करके यहाँ की प्रजा के लिए पथप्रदर्शन का कार्य भी करती चली आ रही है। युग-युग के इस सक्रमण से स्थान एवं काल के अनुसार भारतीय अनुश्रुतियों में रूप परिवर्तन भी हुआ है। जो स्वाभाविक है। यही कारण है कि भारत के एक निरक्षर प्रजाजन के ज्ञानकोष में भी कई वस्तुएँ ऐसी प्राप्त होती हैं जिनका सम्बन्ध वेदकालीन परम्परा से जुड़ा हुआ मिलता है। यह भारतीय जनजीवन एवं लोकसंस्कृति की महिमा है।

SubQuestion No : 16

Q.16 गद्यांश का उपयुक्त शीर्षक क्या हो सकता है ?

Comprehension:

गद्यांश के आधार पर अग्रलिखित प्रश्नों के उत्तर दीजिए।

भारतीय लोकसाहित्य की परम्परा अति प्राचीन है। विविध वैदिक प्रसंग पुराणों में विकसित होकर प्रकट हुए हैं। वेदों में सफल जीवनयात्रा के लिए जो मार्ग प्रदर्शित किया गया है, पुराणों में उसी पथ का समुचित अनुसरण करने वाले चरित्र चित्रित हुए हैं। इस प्रकार पुरातन एवं उच्च सिद्धान्तों ने सजीव चित्रों का रूप धारण करके जीवन और ज्योति का प्रकाशन किया है जो सर्व साधारण के लिए बड़ा उपयोगी एवं महत्वपूर्ण है। अति प्राचीन अनुश्रुतियाँ भारत के लोक जीवन में प्रवेश करके यहाँ की प्रजा के लिए पथप्रदर्शन का कार्य भी करती चली आ रही है। युग-युग के इस सक्रमण से स्थान एवं काल के अनुसार भारतीय अनुश्रुतियों में रूप परिवर्तन भी हुआ है। जो स्वाभाविक है। यही कारण है कि भारत के एक निरक्षर प्रजाजन के ज्ञानकोष में भी कई वस्तुएँ ऐसी प्राप्त होती हैं जिनका सम्बन्ध वेदकालीन परम्परा से जुड़ा हुआ मिलता है। यह भारतीय जनजीवन एवं लोकसंस्कृति की महिमा है।

SubQuestion No : 17

Q.17 पुराणों में किस पथ का समुचित अनुसरण मिलता है ?

Comprehension:

गद्यांश के आधार पर अग्रलिखित प्रश्नों के उत्तर दीजिए।

भारतीय लोकसाहित्य की परम्परा अति प्राचीन है। विविध वैदिक प्रसंग पुराणों में विकसित होकर प्रकट हुए हैं। वेदों में सफल जीवनयात्रा के लिए जो मार्ग प्रदर्शित किया गया है, पुराणों में उसी पथ का समुचित अनुसरण करने वाले चरित्र चित्रित हुए हैं। इस प्रकार पुरातन एवं उच्च सिद्धान्तों ने सजीव चित्रों का रूप धारण करके जीवन और ज्योति का प्रकाशन किया है जो सर्व साधारण के लिए बड़ा उपयोगी एवं महत्वपूर्ण है। अति प्राचीन अनुश्रुतियाँ भारत के लोक जीवन में प्रवेश करके यहाँ की प्रजा के लिए पथप्रदर्शन का कार्य भी करती चली आ रही है। युग-युग के इस सक्रमण से स्थान एवं काल के अनुसार भारतीय अनुश्रुतियों में रूप परिवर्तन भी हुआ है। जो स्वाभाविक है। यही कारण है कि भारत के एक निरक्षर प्रजाजन के ज्ञानकोष में भी कई वस्तुएँ ऐसी प्राप्त होती हैं जिनका सम्बन्ध वेदकालीन परम्परा से जुड़ा हुआ मिलता है। यह भारतीय जनजीवन एवं लोकसंस्कृति की महिमा है।

SubQuestion No : 18

Q.18 'लोक' का विलोम शब्द क्या है ?

Comprehension:

गद्यांश के आधार पर अग्रलिखित प्रश्नों के उत्तर दीजिए।

भारतीय लोकसाहित्य की परम्परा अति प्राचीन है। विविध वैदिक प्रसंग पुराणों में विकसित होकर प्रकट हुए हैं। वेदों में सफल जीवनयात्रा के लिए जो मार्ग प्रदर्शित किया गया है, पुराणों में उसी पथ का समुचित अनुसरण करने वाले चरित्र चित्रित हुए हैं। इस प्रकार पुरातन एवं उच्च सिद्धान्तों ने सजीव चित्रों का रूप धारण करके जीवन और ज्योति का प्रकाशन किया है जो सर्व साधारण के लिए बड़ा उपयोगी एवं महत्वपूर्ण है। अति प्राचीन अनुश्रुतियाँ भारत के लोक जीवन में प्रवेश करके यहाँ की प्रजा के लिए पथप्रदर्शन का कार्य भी करती चली आ रही है। युग-युग के इस सक्रमण से स्थान एवं काल के अनुसार भारतीय अनुश्रुतियों में रूप परिवर्तन भी हुआ है। जो स्वाभाविक है। यही कारण है कि भारत के एक निरक्षर प्रजाजन के ज्ञानकोष में भी कई वस्तुएँ ऐसी प्राप्त होती हैं जिनका सम्बन्ध वेदकालीन परम्परा से जुड़ा हुआ मिलता है। यह भारतीय जनजीवन एवं लोकसंस्कृति की महिमा है।

SubQuestion No : 19

Q.19 पुरातन एवं उच्च सिद्धान्तों के सजीव चित्रों का रूप धारण करने से क्या हुआ है ?

Comprehension:

गद्यांश के आधार पर अग्रलिखित प्रश्नों के उत्तर दीजिए।

भारतीय लोकसाहित्य की परम्परा अति प्राचीन है। विविध वैदिक प्रसंग पुराणों में विकसित होकर प्रकट हुए हैं। वेदों में सफल जीवनयात्रा के लिए जो मार्ग प्रदर्शित किया गया है, पुराणों में उसी पथ का समुचित अनुसरण करने वाले चरित्र चित्रित हुए हैं। इस प्रकार पुरातन एवं उच्च सिद्धान्तों ने सजीव चित्रों का रूप धारण करके जीवन और ज्योति का प्रकाशन किया है जो सर्व साधारण के लिए बड़ा उपयोगी एवं महत्वपूर्ण है। अति प्राचीन अनुश्रुतियाँ भारत के लोक जीवन में प्रवेश करके यहाँ की प्रजा के लिए पथप्रदर्शन का कार्य भी करती चली आ रही है। युग-युग के इस सक्रमण से स्थान एवं काल के अनुसार भारतीय अनुश्रुतियों में रूप परिवर्तन भी हुआ है। जो स्वाभाविक है। यही कारण है कि भारत के एक निरक्षर प्रजाजन के ज्ञानकोष में भी कई वस्तुएँ ऐसी प्राप्त होती हैं जिनका सम्बन्ध वेदकालीन परम्परा से जुड़ा हुआ मिलता है। यह भारतीय जनजीवन एवं लोकसंस्कृति की महिमा है।

SubQuestion No : 20

Q.20 भारतीय लोक साहित्य की परंपरा है-

Section : Test of Hindi Language and Comprehension1

Q.1 'रंग', 'जाति', 'अक्षर' के लिए अनेकार्थी शब्द है-

- Ans
- 1. वेद
 - 2. बल
 - 3. धर्म
 - 4. वर्ण

Q.2 निम्नलिखित विकल्पों में से अर्ध का तद्भव शब्द पहचानें।

- Ans
- 1. अँधा
 - 2. आधा
 - 3. वृत्त
 - 4. आगे

Q.3 दिये गये वाक्य के किस भाग में त्रुटि है ?
वर्तमान समय में विज्ञान और प्रौद्योगिकी के क्षेत्र में अदभूत प्रगति हुई है।

- Ans
- 1. विज्ञान और प्रौद्योगिकी
 - 2. प्रगति हुई है।
 - 3. के क्षेत्र में अदभूत
 - 4. वर्तमान समय में

Q.4 निम्नलिखित में कौन-सा वाक्य अशुद्ध है?

- Ans
- 1. पत्र किसके नाम पर लिखा गया है।
 - 2. भारत एक समृद्धिशाली देश है।
 - 3. इसका तात्कालिक प्रभाव पड़ा।
 - 4. एक रुपये में कितने पैसे होते हैं?

Q.5 'मेघ' का पर्यायवाची है -

- Ans
- 1. अंबुद
 - 2. नीरधि
 - 3. पयोधि
 - 4. पयोनिधि

Q.6 'थाली का बैंगन होना' लोकोक्ति का उचित अर्थ है -

- Ans
- 1. स्थिर बुद्धि न रखनेवाला व्यक्ति
 - 2. व्यर्थ का ढोंग रखनेवाला व्यक्ति
 - 3. स्थिर बुद्धि वाला व्यक्ति
 - 4. अशिक्षित व्यक्ति का ऊँची-ऊँची बातें करना

Q.7 निम्न विकल्पों में से 'अरविन्द' का अर्थ होगा -

- Ans
- 1. अपूर्व
 - 2. कमल
 - 3. रसाल
 - 4. धूसर

Q.8 निम्न में से किस समूह के सभी शब्द 'आँख' के पर्याय हैं-

- Ans
- 1. दृग, अक्षि, बाजि
 - 2. नेत्र, चक्षु, अंशु
 - 3. लोचन, अंबक, अरुक्ष
 - 4. नयन, विलोचन, चक्षु

Q.9 'सप्तशती', 'आमलक' किस प्रकार के शब्द हैं -

- Ans
- 1. विदेशज
 - 2. तत्सम
 - 3. तद्धव
 - 4. देशज

Q.10 "लकीर का फकीर होना" मुहावरे का सही अर्थ है -

- Ans
- 1. अपने को महान समझना
 - 2. पुरानी प्रथा पर ही चलना
 - 3. लकीर पीटते रहना
 - 4. लकीर को पकड़ कर बैठ जाना

Q.11 निम्न विकल्पों में वाक्य के रेखांकित शब्द में शुद्ध वर्तनी का चयन करें-
अपराल्ण के बाद सूर्य अस्ताचलगामी होने लगता है।

- Ans
- 1. अपरान्ह
 - 2. अपराह्न
 - 3. अप्रान्ह
 - 4. अपरल्ल

Q.12 'इष्ट' का एक अर्थ है-

- Ans
- 1. घड़ा
 - 2. धनुष
 - 3. जीवन
 - 4. ध्येय

Q.13 मुहावरे और उनके अर्थ के आधार पर कौन - सा युग्म उचित नहीं है-

- Ans
- 1. अन्न लगना - स्वस्थ रहना
 - 2. अब - तब होना - स्वावलंबी होना
 - 3. अक्ल पर पत्थर पड़ना - बुद्धि भ्रष्ट होना
 - 4. ईद का चाँद होना - बहुत दिनों बाद दीखना

Q.14 निम्नलिखित में से कौन-सा शब्द 'देवता' का पर्यायवाची नहीं है?

- Ans
- 1. दास
 - 2. अमर
 - 3. सुर
 - 4. देव

Q.15 निम्न विकल्पों में वाक्य के रेखांकित शब्द में शुद्ध वर्तनी का चयन करें-
महादेवी एक उच्च कोटि की कवियत्री थी।

- Ans
- 1. कवित्री
 - 2. कवियत्री
 - 3. कवयित्री
 - 4. कवयत्री

Comprehension:

निम्नलिखित गद्यांश को पढ़कर दिए गए प्रश्नों के उत्तर दीजिए:

क्रोध शांति भंग करने वाला मनोविकार है। एक का क्रोध दूसरे में भी क्रोध का ही संचार करता है। धर्म, नीति और शिष्टाचार तीनों में क्रोध के विरोध का उपदेश पाया जाता है। संत लोग तो खलों के दुर्वचन सहते ही हैं, दुनियादार लोग भी न जाने कितनी ऊँची-नीची पचाते हैं। सभ्यता के व्यवहार में भी क्रोध नहीं तो क्रोध के चिह्न दबाए जाते हैं। इस प्रकार का प्रतिबंध समाज की सुख-शांति के लिए परम आवश्यक है। पर इस प्रतिबंध की भी सीमा है। यह परपीड़कोन्मुख क्रोध तक नहीं पहुंचता। पंचतंत्र और हितोपदेश में ऐसी बहुत सारी कहानियाँ हैं जिनमें कहानीकार ने यह दर्शाया है कि क्रोध नाश का कारण है। क्रोधी व्यक्ति, जिस पर क्रोध करता है, उसे भी क्रुद्ध कर देता है। इससे शांति भंग होती है और यह कभी-कभी नाश का कारण भी बनता है। सभी शास्त्रों में इस पर नियंत्रण की बात कही गई है; परंतु यह एक सीमा तक ही आवश्यक है।

SubQuestion No : 16

Q.16 गद्यांश का सबसे उपयुक्त शीर्षक बताइए-

Comprehension:

निम्नलिखित गद्यांश को पढ़कर दिए गए प्रश्नों के उत्तर दीजिए:

क्रोध शांति भंग करने वाला मनोविकार है। एक का क्रोध दूसरे में भी क्रोध का ही संचार करता है। धर्म, नीति और शिष्टाचार तीनों में क्रोध के विरोध का उपदेश पाया जाता है। संत लोग तो खलों के दुर्वचन सहते ही हैं, दुनियादार लोग भी न जाने कितनी ऊँची-नीची पचाते हैं। सभ्यता के व्यवहार में भी क्रोध नहीं तो क्रोध के चिह्न दबाए जाते हैं। इस प्रकार का प्रतिबंध समाज की सुख-शांति के लिए परम आवश्यक है। पर इस प्रतिबंध की भी सीमा है। यह परपीड़कोन्मुख क्रोध तक नहीं पहुंचता। पंचतंत्र और हितोपदेश में ऐसी बहुत सारी कहानियाँ हैं जिनमें कहानीकार ने यह दर्शाया है कि क्रोध नाश का कारण है। क्रोधी व्यक्ति, जिस पर क्रोध करता है, उसे भी क्रुद्ध कर देता है। इससे शांति भंग होती है और यह कभी-कभी नाश का कारण भी बनता है। सभी शास्त्रों में इस पर नियंत्रण की बात कही गई है; परंतु यह एक सीमा तक ही आवश्यक है।

SubQuestion No : 17

Q.17 लेखक के अनुसार क्रोध क्या है?

Comprehension:

निम्नलिखित गद्यांश को पढ़कर दिए गए प्रश्नों के उत्तर दीजिए:

क्रोध शांति भंग करने वाला मनोविकार है। एक का क्रोध दूसरे में भी क्रोध का ही संचार करता है। धर्म, नीति और शिष्टाचार तीनों में क्रोध के विरोध का उपदेश पाया जाता है। संत लोग तो खलों के दुर्वचन सहते ही हैं, दुनियादार लोग भी न जाने कितनी ऊँची-नीची पचाते हैं। सभ्यता के व्यवहार में भी क्रोध नहीं तो क्रोध के चिह्न दबाए जाते हैं। इस प्रकार का प्रतिबंध समाज की सुख-शांति के लिए परम आवश्यक है। पर इस प्रतिबंध की भी सीमा है। यह परपीड़कोन्मुख क्रोध तक नहीं पहुंचता। पंचतंत्र और हितोपदेश में ऐसी बहुत सारी कहानियाँ हैं जिनमें कहानीकार ने यह दर्शाया है कि क्रोध नाश का कारण है। क्रोधी व्यक्ति, जिस पर क्रोध करता है, उसे भी क्रुद्ध कर देता है। इससे शांति भंग होती है और यह कभी-कभी नाश का कारण भी बनता है। सभी शास्त्रों में इस पर नियंत्रण की बात कही गई है; परंतु यह एक सीमा तक ही आवश्यक है।

SubQuestion No : 18

Q.18 गद्यांश का केंद्रीय विषय पहचानें-

Comprehension:

निम्नलिखित गद्यांश को पढ़कर दिए गए प्रश्नों के उत्तर दीजिए:

क्रोध शांति भंग करने वाला मनोविकार है। एक का क्रोध दूसरे में भी क्रोध का ही संचार करता है। धर्म, नीति और शिष्टाचार तीनों में क्रोध के विरोध का उपदेश पाया जाता है। संत लोग तो खलों के दुर्वचन सहते ही हैं, दुनियादार लोग भी न जाने कितनी ऊँची-नीची पचाते हैं। सभ्यता के व्यवहार में भी क्रोध नहीं तो क्रोध के चिह्न दबाए जाते हैं। इस प्रकार का प्रतिबंध समाज की सुख-शांति के लिए परम आवश्यक है। पर इस प्रतिबंध की भी सीमा है। यह परपीड़कोन्मुख क्रोध तक नहीं पहुंचता। पंचतंत्र और हितोपदेश में ऐसी बहुत सारी कहानियाँ हैं जिनमें कहानीकार ने यह दर्शाया है कि क्रोध नाश का कारण है। क्रोधी व्यक्ति, जिस पर क्रोध करता है, उसे भी क्रुद्ध कर देता है। इससे शांति भंग होती है और यह कभी-कभी नाश का कारण भी बनता है। सभी शास्त्रों में इस पर नियंत्रण की बात कही गई है; परंतु यह एक सीमा तक ही आवश्यक है।

SubQuestion No : 19

Q.19 गद्यांश के अनुसार क्रोध के विरोध का उपदेश कहाँ नहीं पाया जाता?

Comprehension:

निम्नलिखित गद्यांश को पढ़कर दिए गए प्रश्नों के उत्तर दीजिए:

क्रोध शांति भंग करने वाला मनोविकार है। एक का क्रोध दूसरे में भी क्रोध का ही संचार करता है। धर्म, नीति और शिष्टाचार तीनों में क्रोध के विरोध का उपदेश पाया जाता है। संत लोग तो खलों के दुर्वचन सहते ही हैं, दुनियादार लोग भी न जाने कितनी ऊँची-नीची पचाते हैं। सभ्यता के व्यवहार में भी क्रोध नहीं तो क्रोध के चिह्न दबाए जाते हैं। इस प्रकार का प्रतिबंध समाज की सुख-शांति के लिए परम आवश्यक है। पर इस प्रतिबंध की भी सीमा है। यह परपीड़कोन्मुख क्रोध तक नहीं पहुंचता। पंचतंत्र और हितोपदेश में ऐसी बहुत सारी कहानियाँ हैं जिनमें कहानीकार ने यह दर्शाया है कि क्रोध नाश का कारण है। क्रोधी व्यक्ति, जिस पर क्रोध करता है, उसे भी क्रुद्ध कर देता है। इससे शांति भंग होती है और यह कभी-कभी नाश का कारण भी बनता है। सभी शास्त्रों में इस पर नियंत्रण की बात कही गई है; परंतु यह एक सीमा तक ही आवश्यक है।

SubQuestion No : 20

Q.20 'क्रोध नाश का कारण है।' रेखांकित शब्द का विलोम है-