



GOVT. OF NCT OF DELHI
Delhi Subordinate Services Selection Board
FC-18, Institutional Area, Karkardooma, Delhi – 110092.
www.dsssb.delhigovt.nic.in

Participant Name	Vimlesh Kumar Tripathi
Test Center Name	Aadarsh Pariksha Kendra CENTER B - Gate No 2 - Noida Sector 64
Test Date	25/03/2026
Test Time	5:00 PM - 7:00 PM
Subject	Multi Tasking Staff

Section : General intelligence and Reasoning Ability

Q.1 एक निश्चित कूट भाषा में,

A + B का अर्थ है कि 'A, B की माता है।'

A - B का अर्थ है कि 'A, B का भाई है।'

A x B का अर्थ है कि 'A, B की पत्नी है।'

A ÷ B का अर्थ है कि 'A, B का पिता है।'

उपरोक्त आधार पर, यदि 'R + Y ÷ H - S x L' है, तो R का L से क्या संबंध है?

- Ans
- 1. पत्नी की माता
 - 2. पत्नी के पिता की बहन
 - 3. पत्नी की बहन
 - 4. पत्नी के पिता की माता

Q.2 एक निश्चित कूट भाषा में, 'PING' को '4217' और 'GROW' को '6438' के रूप में कूटबद्ध किया जाता है। दी गई कूट भाषा में 'G' का कूट क्या होगा?

- Ans
- 1. 4
 - 2. 7
 - 3. 6
 - 4. 8

Q.3 निम्नलिखित अक्षर और प्रतीक श्रृंखला का संदर्भ लीजिए तथा नीचे दिए गए प्रश्न का उत्तर दीजिए। गणना केवल बाएं से दाएं की जानी है।

(बाएं) J W J # ^ + / A + W L T X V J T % F \ T @ (दाएं)

ऐसे कितने अक्षर हैं जिनमें से प्रत्येक के ठीक पहले एक अक्षर और ठीक बाद में एक प्रतीक है?

- Ans
- 1. तीन
 - 2. शून्य
 - 3. दो
 - 4. एक

Q.4 एक निश्चित कूट भाषा में, 'CALM' को '5327' और 'LAME' को '5317' के रूप में कूटबद्ध किया जाता है। दी गई कूट भाषा में 'E' के लिए कूट क्या होगा?

- Ans
- 1. 5
 - 2. 1
 - 3. 2
 - 4. 3

Q.5 एक कथन के बाद दो निष्कर्ष दिए गए हैं। दिए गए कथन के आधार पर यह ज्ञात कीजिए कि कौन-से निष्कर्ष सत्य हैं।

कथन: $L \leq B > Q > D = S$

निष्कर्ष:

I. $L < Q$

II. $S < B$

- Ans
- 1. केवल II सत्य है
 - 2. न तो I और न ही II सत्य है
 - 3. केवल I सत्य है
 - 4. I और II दोनों सत्य हैं

Q.6 एक कथन के बाद दो निष्कर्ष दिए गए हैं। दिए गए कथन के आधार पर यह ज्ञात कीजिए कि कौन-से निष्कर्ष सत्य हैं।

कथन: $L > B > D < S \leq Q$

निष्कर्ष:

I. $D < Q$

II. $S < L$

- Ans
- 1. केवल I सत्य है
 - 2. I और II दोनों सत्य हैं
 - 3. केवल II सत्य है
 - 4. न तो I और न ही II सत्य है

Q.7 निम्नलिखित अक्षर श्रृंखला का संदर्भ लीजिए और उसके बाद दिए गए प्रश्न का उत्तर दीजिए।

(बाएं) OKLOIUHNBGTEDCIOKOLPYHBTGTEFTGVGUJI (दाएं)

ऐसे कितने व्यंजन हैं, जिनमें से प्रत्येक के ठीक पहले एक स्वर है और ठीक बाद में भी एक स्वर है?

- Ans
- 1. 2
 - 2. 3
 - 3. 6
 - 4. 5

Q.8 L, M, N, R, S और T एक ही भवन के छह अलग-अलग तलों पर रहते हैं। भवन में सबसे नीचे वाले तल का क्रमांक 1 है, उसके ऊपर वाले तल का क्रमांक 2 है, और इसी प्रकार सबसे ऊपर वाले तल का क्रमांक 6 है। M के ऊपर कोई नहीं रहता है। M, T से ठीक एक तल ऊपर रहता है। L के नीचे केवल N रहता है। S एक सम क्रमांक वाले तल पर रहता है। R के नीचे कितने व्यक्ति रहते हैं?

- Ans
- 1. एक
 - 2. चार
 - 3. तीन
 - 4. दो

Q.9 A, B, C, J, K, L और I, एक गोल मेज के परितः उसके केंद्र की ओर अभिमुख होकर बैठे हैं। C के बाएं से गिनती करने पर, K और C के बीच केवल एक व्यक्ति बैठा है। L, J के दाएं तीसरे स्थान पर बैठा है। I, A के बाएं तीसरे स्थान पर बैठा है। L, I के ठीक दाएं पड़ोस में बैठा है। B, I का निकटतम पड़ोसी नहीं है। B के दाएं से गिनती करने पर, B और C के बीच कितने व्यक्ति बैठे हैं?

- Ans
- 1. चार
 - 2. एक
 - 3. दो
 - 4. तीन

Q.10 निम्नलिखित श्रृंखला का संदर्भ लीजिए और उसके बाद प्रश्न का उत्तर दीजिए।
(बाएं) FREIDNSHIPISBOONFROGMETOOOFDCXGHF (दाएं)
श्रृंखला के दाएं छोर से सातवें अक्षर और बाएं छोर से छठे अक्षर के बीच अंग्रेजी वर्णानुक्रम में कितने अक्षर होते हैं?

- Ans
- 1. नौ
 - 2. आठ
 - 3. छह
 - 4. सात

Q.11 दिए गए कथनों और निष्कर्षों को ध्यान से पढ़िए। यह मानते हुए कि कथनों में दी गई जानकारी सत्य है, भले ही यह सामान्यतः ज्ञात तथ्यों से भिन्न प्रतीत होती हो, तब कीजिए कि दिए गए निष्कर्षों में से कौन-से निष्कर्ष, दिए गए कथनों का तार्किक रूप से अनुसरण करते हैं।

कथन:

सभी किसान, शिक्षक हैं।

सभी शिक्षक, दंत चिकित्सक हैं।

निष्कर्ष:

I) कोई दंत चिकित्सक, किसान नहीं हैं।

II) कुछ दंत चिकित्सक, किसान हैं।

- Ans
- 1. केवल निष्कर्ष (I) अनुसरण करता है।
 - 2. न तो निष्कर्ष (I) और न ही (II) अनुसरण करता है।
 - 3. केवल निष्कर्ष (II) अनुसरण करता है।
 - 4. निष्कर्ष (I) और (II) दोनों अनुसरण करते हैं।

Q.12 सात व्यक्ति, E, F, G, W, X, Y और Z, एक पंक्ति में उत्तर की ओर अभिमुख होकर बैठे हैं। Y के दाएं कोई नहीं बैठा है। Y और E के बीच केवल तीन व्यक्ति बैठे हैं। E और W के बीच केवल दो व्यक्ति बैठे हैं। F, X के बाएं से तीसरे स्थान पर बैठा है। Z, X के ठीक दाएं पड़ोस में बैठा है। G और W के बीच कितने व्यक्ति बैठे हैं?

- Ans
- 1. तीन
 - 2. एक
 - 3. चार
 - 4. दो

Q.13 In a certain code language,
A + B means 'A is the daughter of B',
A # B means 'A is the father of B',
A x B means 'A is the son of B',
A & B means 'A is the sister of B'.

Based on the above, how is S related to T if 'S x G # J & K + T'?

- Ans
- 1. Father
 - 2. Son
 - 3. Brother
 - 4. Husband

Q.14 निम्नलिखित अक्षर, प्रतीक श्रृंखला का संदर्भ लीजिए और दिए गए प्रश्न का उत्तर दीजिए। गिनती केवल बाएं से दाएं की जानी है।

(बाएं) L © * % £ # A \$ J Z % £ C © * V @ E P € Q E (दाएं)

ऐसे कितने प्रतीक हैं, जिनमें से प्रत्येक के ठीक पहले एक अक्षर और ठीक बाद एक प्रतीक है?

- Ans
- 1. 3
 - 2. 5
 - 3. 4
 - 4. 2

Q.15 निम्नलिखित अक्षर श्रृंखला का संदर्भ लीजिए और दिए गए प्रश्न का उत्तर दीजिए।
(बाएं) J K N M Y T G V F R S C D E T X C D W M N B H G F L P F Q Z R (दाएं)
दाएं छोर से चौथे और बाएं छोर से चौथे अक्षर के बीच अंग्रेजी वर्णमाला क्रम में कितने व्यंजन हैं?

- Ans
- 1. 7
 - 2. 6
 - 3. 8
 - 4. 5

Q.16 सात डिब्बे W, X, Y, Z, G, H और I एक के ऊपर एक रखे गए हैं, लेकिन जरूरी नहीं कि इसी क्रम में रखे गए हों। G और I के बीच केवल चार डिब्बे रखे गए हैं। G के ऊपर केवल W रखा गया है। Y और X के बीच केवल दो डिब्बे रखे गए हैं। Z के ठीक ऊपर H रखा गया है। H के ठीक ऊपर X नहीं रखा गया है। ऊपर से चौथा डिब्बा कौन-सा है?

- Ans
- 1. G
 - 2. X
 - 3. I
 - 4. H

Q.17 L, M, N, R, S और T एक ही भवन के छह अलग-अलग तलों पर रहते हैं। भवन में सबसे नीचे वाले तल का क्रमांक 1 है, उसके ऊपर वाले तल का क्रमांक 2 है, और इसी प्रकार सबसे ऊपर वाले तल का क्रमांक 6 है। R के नीचे केवल S रहता है। N के ऊपर केवल L रहता है। N के ठीक नीचे T रहता है। L और M के बीच कितने व्यक्ति रहते हैं?

- Ans
- 1. एक
 - 2. चार
 - 3. तीन
 - 4. दो

Q.18 सात डिब्बे W, X, Y, Z, G, H और I एक के ऊपर एक रखे गए हैं, लेकिन जरूरी नहीं कि इसी क्रम में रखे गए हों। H के ऊपर केवल I रखा गया है। G के नीचे केवल तीन डिब्बे रखे गए हैं। G और Z के बीच केवल दो डिब्बे रखे गए हैं। W, Y के नीचे किसी स्थान पर और X के ऊपर किसी स्थान पर रखा गया है। नीचे से दूसरे स्थान पर कौन-सा डिब्बा रखा गया है?

- Ans
- 1. Y
 - 2. W
 - 3. X
 - 4. Z

Q.19 किसी निश्चित कूट भाषा में, 'TAPE' को '7523' के रूप में कूटबद्ध किया जाता है और 'PING' को '4136' के रूप में कूटबद्ध किया जाता है। दी गई कूट भाषा में 'P' का कूट क्या है?

- Ans
- 1. 3
 - 2. 4
 - 3. 1
 - 4. 5

Q.20 निम्नलिखित अक्षर और प्रतीक श्रृंखला का संदर्भ लीजिए और उसके बाद दिए गए प्रश्न का उत्तर दीजिए। गिनती केवल बाएं से दाएं की जानी है।

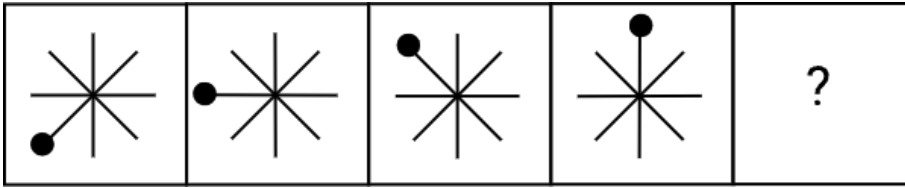
(बाएं) = & B & F C R R V B X + L H \ ^ R J L B & (दाएं)

ऐसे कितने प्रतीक हैं जिनमें से प्रत्येक के ठीक पहले एक अक्षर और ठीक बाद में भी एक अक्षर है?

- Ans
- 1. दो
 - 2. एक
 - 3. चार
 - 4. तीन

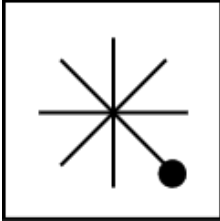
Section : General intelligence and Reasoning Ability1

Q.1 दिए गए विकल्पों में से उस आकृति की पहचान कीजिए, जिसे '?' के स्थान पर रखने पर यह श्रृंखला तार्किक रूप से पूर्ण हो जाएगी।

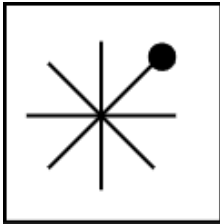


Ans

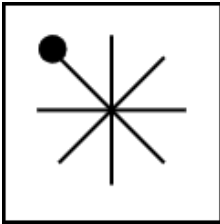
✗ 1.



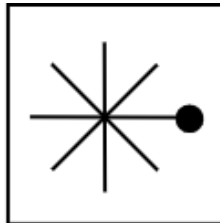
✓ 2.



✗ 3.



✗ 4.



Q.2 यदि M का अर्थ + है, N का अर्थ - है, O का अर्थ - है और P का अर्थ \times है, तो निम्नलिखित समीकरण में प्रश्न-चिह्न (?) के स्थान पर क्या आएगा?

$$15 P 4 N 20 M 5 O 12 = ?$$

Ans

✓ 1. 52

✗ 2. 54

✗ 3. 48

✗ 4. 60

Q.3 अंग्रेजी वर्णमाला क्रम के आधार पर, निम्नलिखित चार अक्षर-समूह युग्मों में से तीन एक निश्चित तरीके से एकसमान हैं और इस प्रकार वे एक ग्रुप बनाते हैं। कौन-सा अक्षर-समूह युग्म उस ग्रुप से संबंधित नहीं है? (नोट: असंगत अक्षर-समूह युग्म, उसमें व्यंजनों/स्वरों की संख्या या उनकी स्थिति पर आधारित नहीं है।)

- Ans
- 1. TW - RU
 - 2. MP - KN
 - 3. QT - LP
 - 4. OR - MP

Q.4 उस समुच्चय का चयन करें जिसमें संख्याएँ उसी प्रकार से संबंधित हैं जिस प्रकार से निम्नलिखित समुच्चयों की संख्याएँ संबंधित हैं।

(नोट: संख्याओं को उनके घटक अंकों में तोड़े बिना संक्रियाएँ केवल पूर्ण संख्याओं पर की जानी चाहिए। उदाहरण के लिए, 13 लीजिए - 13 पर संक्रियाएँ, जैसे 13 में जोड़ना/घटाना/गुणा करना, की जा सकती हैं। 13 को 1 और 3 में तोड़ना तथा फिर 1 और 3 पर गणितीय संक्रियाएँ करने की अनुमति नहीं है।)

(48,78,130)
(78,99,181)

- Ans
- 1. (76,40,120)
 - 2. (57,9,160)
 - 3. (91,3,102)
 - 4. (27,19,90)

Q.5 विकल्पों में दी गई आकृतियों में उस आकृति की पहचान कीजिए जिसे '?' के स्थान पर रखने पर श्रृंखला तार्किक रूप से पूर्ण हो जाएगी।

#	@	#	@	☆	@
@	%	☆	#		?
☆	☆	%	%	%	#

Ans

1.

☆	%
@	#

2.

☆	
%	@
	#

3.

#	
☆	%
	@

4.

@	
%	☆
	#

Q.6 दी गई श्रृंखला में '?' के स्थान पर क्या आना चाहिए?

72, 77, 82, ?, 92, 97

- Ans 1. 87
 2. 91
 3. 85
 4. 89

Q.7 यदि A का अर्थ + है, B का अर्थ \times है, C का अर्थ + है, और D का अर्थ - है, तो निम्नलिखित समीकरण में प्रश्न-चिह्न (?) के स्थान पर क्या आएगा?

24 A 6 C 24 D 3 B 4 = ?

- Ans 1. 18
 2. 16
 3. 12
 4. 15

Q.8 यदि संख्या 9738462 के प्रत्येक विषम अंक में से 2 घटाया जाए और प्रत्येक सम अंक में 1 जोड़ा जाए, तो बाईं ओर से दूसरे और दाईं ओर से दूसरे अंकों का योगफल कितना होगा?

- Ans 1. 12
 2. 6
 3. 7
 4. 8

Q.9 अंग्रेजी वर्णमाला क्रम के आधार पर, निम्नलिखित चार अक्षर-समूह युग्मों में से तीन एक निश्चित तरीके से एकसमान हैं और इस प्रकार वे एक गुप बनाते हैं। कौन-सा अक्षर-समूह युग्म उस गुप से संबंधित नहीं है? (नोट: असंगत अक्षर-समूह युग्म, उसमें व्यंजनों/स्वरों की संख्या या उनकी स्थिति पर आधारित नहीं है।)

- Ans 1. AB - EF
 2. GH-KL
 3. TZ - AB
 4. RS-VW

Q.10 अंग्रेजी वर्णमाला क्रम के आधार पर, निम्नलिखित चार अक्षर-समूहों में से तीन एक निश्चित तरीके से एकसमान हैं और इस प्रकार वे एक गुप बनाते हैं। कौन-सा अक्षर-समूह उस गुप से संबंधित नहीं है?

(नोट: असंगत अक्षर-समूह, उसमें व्यंजनों/स्वरों की संख्या या उनकी स्थिति पर आधारित नहीं है।)

- Ans 1. OTQ
 2. LQN
 3. FKH
 4. CJK

Q.11 अंग्रेजी वर्णमाला क्रम के आधार पर, एक निश्चित तरीके से LAWG का संबंध NXYD से है। उसी प्रकार, PDIR का संबंध RAKO से है। समान तर्क का अनुसरण करते हुए, QKYF का संबंध निम्नलिखित में से किससे है?

- Ans 1. TIBD
 2. SHAC
 3. UGZB
 4. TGBC

Q.12 दी गई श्रृंखला में '?' के स्थान पर क्या आना चाहिए?

39 40 43 48 55 ?

- Ans 1. 67
 2. 69
 3. 61
 4. 64

Q.13 उस युग्म का चयन कीजिए जो नीचे दिए गए दोनों युग्मों के समान पैटर्न का अनुसरण करता है। दिए गए दोनों युग्म समान पैटर्न का अनुसरण करते हैं।

LJN : KIM

IGK : HFJ

- Ans
- 1. AXA : YWA
 - 2. AYC : YXA
 - 3. NLP : MKO
 - 4. AXA : ZXB

Q.14 उस समुच्चय का चयन कीजिए जिसमें संख्याएं उसी प्रकार संबंधित हैं जिस प्रकार निम्नलिखित समुच्चयों की संख्याएं संबंधित हैं।

(नोट: गणितीय संक्रियाएं, संख्याओं को उनके घटक अंकों में तोड़े बिना, पूर्ण संख्याओं पर की जानी चाहिए। उदाहरण के लिए 13 को लीजिए - 13 पर गणितीय संक्रियाएं जैसे कि 13 को जोड़ना/घटाना/गुणा करना, आदि किया जा सकता है। 13 को 1 और 3 में तोड़ना और फिर 1 और 3 पर गणितीय संक्रियाएं करने की अनुमति नहीं है।)

(70,40,170)

(11,53,-20)

- Ans
- 1. (35,83,12)
 - 2. (12,15,0)
 - 3. (1,38,-32)
 - 4. (86,32,226)

Q.15 निम्नलिखित समीकरण में '+' और '-' को आपस में बदल देने पर तथा 'x' और '÷' को आपस में बदल देने पर '?' के स्थान पर क्या आएगा?

$$16 \div 2 + 8 \times 4 - 5 = ?$$

- Ans
- 1. 37
 - 2. 39
 - 3. 35
 - 4. 33

Q.16 अंग्रेजी वर्णमाला क्रम के आधार पर, किसी निश्चित तरीके से, FING का संबंध DGLE से है। उसी तरीके से, XAFY का संबंध VYDW से है। समान तर्क का अनुसरण करते हुए, RUZS का संबंध निम्नलिखित में से किस विकल्प से है?

- Ans
- 1. PXDS
 - 2. PSXQ
 - 3. PLOI
 - 4. PQSX

Q.17 यदि 'Q' का अर्थ 'x' है, 'R' का अर्थ '+' है, 'S' का अर्थ '-' है और 'T' का अर्थ '÷' है, तो निम्नलिखित समीकरण में प्रश्न-चिह्न '?' के स्थान पर क्या आएगा?

$$15Q2S5T5R7 = ?$$

- Ans
- 1. 36
 - 2. 33
 - 3. 31
 - 4. 38

Q.18 दिए गए कथनों और निष्कर्षों को ध्यान से पढ़ें। यह मानते हुए कि कथनों में दी गई जानकारी सत्य है, भले ही वह सामान्य रूप से ज्ञात तथ्यों से भिन्न प्रतीत होती हो, तय करें कि दिए गए निष्कर्षों में से कौन-से निष्कर्ष कथनों का तार्किक रूप से अनुसरण करते हैं।

कथन:

कुछ कुकी, चिप्स हैं।
सभी चिप्स, डोनट्स हैं।

निष्कर्ष:

(I) कोई डोनट, कुकी नहीं है।
(II) कुछ डोनट, कुकी हैं।

- Ans
- ✓ 1. केवल निष्कर्ष (II) अनुसरण करता है।
 - ✗ 2. निष्कर्ष (I) और निष्कर्ष (II) दोनों अनुसरण करते हैं।
 - ✗ 3. केवल निष्कर्ष (I) अनुसरण करता है।
 - ✗ 4. न तो निष्कर्ष (I) और न ही निष्कर्ष (II) अनुसरण करता है।

Q.19 दी गई श्रृंखला में '?' के स्थान पर क्या आना चाहिए?

31 43 60 82 109 ?

- Ans
- ✓ 1. 141
 - ✗ 2. 134
 - ✗ 3. 121
 - ✗ 4. 128

Q.20 उस समुच्चय का चयन कीजिए, जिसमें संख्याएं उसी प्रकार से संबंधित हैं जिस प्रकार निम्नलिखित समुच्चयों की संख्याएं संबंधित हैं।

(नोट: संख्याओं को उनके घटक अंकों में तोड़े बिना संक्रियाएं केवल पूर्ण संख्याओं पर की जानी चाहिए। उदाहरण के लिए, 13 लीजिए - 13 पर संक्रियाएं, जैसे 13 में जोड़ना/घटाना/गुणा करना, की जा सकती हैं। 13 को 1 और 3 में तोड़ना तथा फिर 1 और 3 पर गणितीय संक्रियाएं करने की अनुमति नहीं है।)

(48,15,29)
(33,25,4)

- Ans
- ✗ 1. (131,59,38)
 - ✓ 2. (111,33,74)
 - ✗ 3. (111,82,85)
 - ✗ 4. (121,42,95)

Section : General Awareness

Q.1 किस पहल का उद्देश्य 2024 तक सभी ग्रामीण घरों को कार्यशील घरेलू नल कनेक्शन प्रदान करना है?

- Ans
- ✓ 1. जल जीवन मिशन
 - ✗ 2. मिशन शक्ति
 - ✗ 3. स्वच्छ भारत मिशन
 - ✗ 4. स्टार्टअप इंडिया

Q.2 किसके नेतृत्व में राज्य-अपहरण नीति (Doctrine of Lapse) को शुरू किया गया और 1848 से 1856 के बीच भारतीय राज्यों को अपने अधीन करने के लिए इसका व्यापक रूप से उपयोग किया गया?

- Ans
- ✗ 1. लॉर्ड कैनिंग (Land Canning)
 - ✗ 2. लॉर्ड वेलेस्ली (Lord Wellesley)
 - ✗ 3. लॉर्ड कार्नवालिस (Lord Cornwallis)
 - ✓ 4. लॉर्ड डलहौजी (Lord Dalhousie)

Q.3 जब व्यक्ति अस्थायी रूप से नौकरियों के बीच में होते हैं या नए रोजगार की तलाश की प्रक्रिया में होते हैं, तो इससे उत्पन्न होने वाली बेरोजगारी को क्या कहा जाता है?

- Ans
- 1. मौसमी बेरोजगारी
 - 2. संरचनात्मक बेरोजगारी
 - 3. घर्षणात्मक बेरोजगारी
 - 4. चक्रीय बेरोजगारी

Q.4 NABARD के सहयोग से, किस क्षेत्रीय ग्रामीण बैंक ने 2026 में भारत की प्रथम पूर्ण रूप से सौर ऊर्जा संचालित ATM वैन, जिसका नाम "TGB ऑन व्हील्स" है, को ग्रामीण और दूरदराज के क्षेत्रों में निर्बाध बैंकिंग सेवाएं प्रदान करने के लिए पेश किया?

- Ans
- 1. बंगिया ग्रामीण विकास बैंक
 - 2. त्रिपुरा ग्रामीण बैंक
 - 3. असम ग्रामीण विकास बैंक
 - 4. मणिपुर ग्रामीण बैंक

Q.5 भारत में अहिंसक विरोध प्रदर्शन, दांडी मार्च की शुरुआत कहां से की गई?

- Ans
- 1. अहमदाबाद
 - 2. खेड़ा
 - 3. बॉम्बे
 - 4. चंपारण

Q.6 1929 में भारतीय राष्ट्रीय कांग्रेस के किस अधिवेशन में औपचारिक रूप से 'पूर्ण स्वराज' (पूर्ण स्वतंत्रता) की मांग की घोषणा की गई थी?

- Ans
- 1. कराची सत्र
 - 2. लाहौर सत्र
 - 3. कलकत्ता सत्र
 - 4. मद्रास सत्र

Q.7 भारत में 2025 पुरुष हॉकी एशिया कप का आयोजन कहां हुआ था?

- Ans
- 1. जयपुर
 - 2. राजगीर
 - 3. चेन्नई
 - 4. नई दिल्ली

Q.8 महाकुंभ 2025 के दौरान भाषिणी-संचालित कुंभ सहायक चैटबॉट (Bhashini-powered Kumbh Sah'AI'yak Chatbot) की क्या भूमिका थी?

- Ans
- 1. इसने AI-संचालित परामर्शों के माध्यम से तीर्थयात्रियों को स्वास्थ्य संबंधी सलाह प्रदान की।
 - 2. इसने AI-आधारित मार्ग योजना का उपयोग करके तीर्थयात्रियों के लिए परिवहन सेवाओं का समन्वय किया।
 - 3. इसने ऑनलाइन इवेंट में भाग लेने के लिए लाइव वीडियो फीड स्ट्रीम की।
 - 4. इससे रियल टाइम में अनुवाद, वॉइस आधारित खोज और पाए सेवाएं और बहुभाषी सहायता संभव हो पाई।

Q.9 भारत में ग्रामीण वित्तपोषण प्रणाली से जुड़ी सभी एजेंसियों की गतिविधियों के समन्वय के लिए 1982 में किस संस्था को शीर्ष निकाय के रूप में स्थापित किया गया था?

- Ans
- 1. भारतीय स्टेट बैंक
 - 2. भारतीय रिजर्व बैंक
 - 3. राष्ट्रीय आवास बैंक
 - 4. राष्ट्रीय कृषि और ग्रामीण विकास बैंक

Q.10 किसी देश द्वारा किसी निर्दिष्ट अवधि के दौरान निर्यात की गई वस्तुओं के मूल्य और आयात की गई वस्तुओं के मूल्य के बीच के अंतर को किस शब्द द्वारा संदर्भित किया जाता है?

- Ans
- 1. व्यापार शेष
 - 2. भुगतान शेष
 - 3. पूंजी खाता
 - 4. चालू खाता

Q.11 रानी लक्ष्मीबाई 1857 के विद्रोह के निम्नलिखित में से किस केंद्र से संबंधित थीं?

- Ans
- 1. आरा
 - 2. झांसी
 - 3. लखनऊ
 - 4. बरेली

Q.12 द्वितीय खेलो इंडिया पैरा गेम्स 2025 का आयोजन कब हुआ था?

- Ans
- 1. 1-8 अप्रैल, 2025
 - 2. 10-17 फरवरी, 2025
 - 3. 5-12 मई, 2025
 - 4. 20-27 मार्च, 2025

Q.13 जवाहरलाल नेहरू, किस वर्ष अखिल भारतीय कांग्रेस कमेटी के महासचिव बने थे?

- Ans
- 1. 1911
 - 2. 1923
 - 3. 1925
 - 4. 1909

Q.14 सितंबर 2025 में भारत के 15वें उपराष्ट्रपति के रूप में किसे चुना गया?

- Ans
- 1. जगदीप धनखड़
 - 2. सी. पी. राधाकृष्णन
 - 3. बी. सुदर्शन रेड्डी
 - 4. मल्लिकार्जुन खड़गे

Q.15 देवनागरी लिपि में लिखी जाने वाली कौन-सी भारतीय भाषा, विश्व में सबसे व्यापक रूप से बोली जाने वाली भाषाओं में से एक है और भारत की राजभाषा है?

- Ans
- 1. बंगाली, पश्चिम बंगाल से
 - 2. गुजराती, गुजरात से
 - 3. मराठी, महाराष्ट्र से
 - 4. हिंदी, उत्तरी भारत से

Q.16 वर्ष 2026 की शुरुआत में घोषित की गई कौन-सी नई अनुसंधान अवसरचना पहल का उद्देश्य भारत में 133-बिलियन डॉलर क्वांटम कंप्यूटर विकसित करना है?

- Ans
- 1. अमरावती क्वांटम वैली पहल
 - 2. भारतीय उन्नत रोबोटिक्स कार्यक्रम
 - 3. राष्ट्रीय AI सुपरकंप्यूटिंग मिशन
 - 4. भारत सेमीकंडक्टर अनुसंधान हब

Q.17 यदि किसी देश की जनसंख्या में उसके GDP की तुलना में अधिक तेजी से वृद्धि हो रही है, तो उस देश के प्रति व्यक्ति आय पर संभावित प्रभाव क्या होगा?

- Ans
- 1. यह GDP की वृद्धि दर के बराबर हो जाएगी।
 - 2. इसमें वृद्धि होगी।
 - 3. यह समान रहेगी।
 - 4. इसमें हास होगा।

Q.18 31 दिसंबर 2025 को शुरू की गई मार्केट एक्सेस सपोर्ट (MAS) योजना का उद्देश्य निम्नलिखित में से किसका समर्थन करना है?

- Ans
- 1. शहरी आवास विकासकर्ताओं
 - 2. भारतीय निर्यातकों
 - 3. भारतीय आयातकों
 - 4. कॉलेज स्कॉलरशिप प्राप्तकर्ताओं

Q.19 नवंबर 2025 में, किस स्थान पर पहली बार इंडियन पिकलबॉल नेशनल्स प्रतियोगिता आयोजित की गई थी?

- Ans
- 1. बेंगलुरु
 - 2. अंबाला
 - 3. अहमदाबाद
 - 4. राजगीर

Q.20 VB-G RAM G प्रति वर्ष कितने दिनों के ग्रामीण रोजगार की गारंटी देता है?

- Ans
- 1. 175
 - 2. 100
 - 3. 125
 - 4. 150

Section : General Awareness1

Q.1 निम्नलिखित में से कौन-सी संरचनात्मक विशेषता, स्टेरॉयड को अन्य लिपिड से पृथक करती है?

- Ans
- 1. इनमें केवल एक वलय होता है।
 - 2. ये पूरी तरह से वसीय अम्लों से बने होते हैं।
 - 3. इनमें किसी भी वलय संरचना का अभाव होता है।
 - 4. इनमें चार-संलयित वलय संरचना होती है।

Q.2 निम्नलिखित में से कौन-सा भारतीय राज्य, कॉफी की रोपण खेती के लिए प्रसिद्ध है?

- Ans
- 1. हरियाणा
 - 2. गुजरात
 - 3. कर्नाटक
 - 4. पंजाब

Q.3 निम्नलिखित में से किस पोषक तत्व को सूक्ष्म पोषक तत्व के रूप में वर्गीकृत किया गया है?

- Ans
- 1. विटामिन
 - 2. प्रोटीन
 - 3. वसा
 - 4. कार्बोहाइड्रेट

Q.4 भारत में महायान बौद्ध स्थलों को पूर्व के हीनयान (थेरवाद) स्थलों से सबसे स्पष्ट रूप से पृथक करने वाली वास्तुपरक विशेषता कौन-सी है?

- Ans
- 1. पूजा के लिए स्थापित बुद्ध की विशाल मानवरूपी छवि
 - 2. मूर्तिकलात्मक सज्जा से रहित सादे स्तूपों का विशेष उपयोग
 - 3. बोधिसत्व आकृतियों का पूर्ण अभाव
 - 4. स्मारकों के अंदर और बाहर किसी भी पत्थर की नक्काशी का अभाव

Q.13 द्विबीजपत्री तने में संवहनी ऊतकों की व्यवस्था कैसी होती है?

- Ans
- 1. वलय रूपित
 - 2. अरीय व्यवस्था
 - 3. प्रकीर्ण बंडल
 - 4. तारा रूपित

Q.14 हुमायूँ का मकबरा किस शहर में है, जिसे प्रायः ताजमहल का पूर्ववर्ती माना जाता है?

- Ans
- 1. जयपुर
 - 2. लाहौर
 - 3. दिल्ली
 - 4. आगरा

Q.15 किशोरावस्था की शुरुआत में, तीव्र शारीरिक विकास मुख्य रूप से कौन-से पदार्थों की बढ़ी हुई गतिविधि के कारण होता है?

- Ans
- 1. हार्मोन
 - 2. प्रोटीन
 - 3. विटामिन
 - 4. एंजाइम

Q.16 निम्नलिखित में से किस कवि को शास्त्रीय कन्नड़ साहित्य की आधारशिला माना जाता है, जिन्होंने रामायण का एक संस्करण लिखा है?

- Ans
- 1. आदिकवि पम्पा
 - 2. भवभूति
 - 3. कालिदास
 - 4. तुलसीदास

Q.17 बिहार में लाल ईट के खंडहरों और मठवासीय संरचनाओं के लिए प्रसिद्ध प्राचीन बौद्ध विश्वविद्यालय स्थल का बौद्ध धर्म के प्रसार में प्रमुख योगदान था। यह कौन-सा स्थल है?

- Ans
- 1. राजगीर
 - 2. विक्रमशिला
 - 3. सारनाथ
 - 4. नालंदा

Q.18 निम्नलिखित में से कौन-सा राज्य, ज्वार का प्रमुख उत्पादक राज्य नहीं है?

- Ans
- 1. मध्य प्रदेश
 - 2. कर्नाटक
 - 3. महाराष्ट्र
 - 4. असम

Q.19 निम्नलिखित में से कौन-सी नदी, विशाल भारतीय मैदानों (Great Indian Plains) में गंगा की प्रमुख सहायक नदी है?

- Ans
- 1. कृष्णा
 - 2. गोदावरी
 - 3. नर्मदा
 - 4. यमुना

Q.20 भारतीय संविधान का कौन-सा भाग पंचायती राज व्यवस्था से संबंधित है?

- Ans
- 1. भाग IV
 - 2. भाग IX
 - 3. भाग VII
 - 4. भाग XI

Section : Arithmetical and Numerical Ability

Q.1 एक बेकर ने कुकीज़ के दो बैच बनाए। पहले बैच में 10 कुकीज़ हैं, जिनमें से प्रत्येक का वजन 30 ग्राम है और दूसरे बैच में 20 कुकीज़ हैं जिनमें से प्रत्येक का वजन 36 ग्राम है। संयुक्त रूप से एक कुकीज़ का औसत वजन कितना है?

- Ans
- 1. 28 ग्राम
 - 2. 34 ग्राम
 - 3. 35 ग्राम
 - 4. 30 ग्राम

Q.2 $\left(\frac{3}{5} + 0.25\right)^2 - \frac{1}{4}$ को सरलीकृत कीजिए।

- Ans
- 1. $\frac{169}{400}$
 - 2. $\frac{189}{400}$
 - 3. $\frac{279}{400}$
 - 4. $\frac{289}{400}$

Q.3 ₹12,500 पर 12% वार्षिक दर से 2 वर्षों के लिए चक्रवृद्धि ब्याज कितना होगा, जबकि ब्याज वार्षिक रूप से संयोजित होता है?

- Ans
- 1. ₹3,810
 - 2. ₹3,900
 - 3. ₹3,180
 - 4. ₹3,090

Q.4

वर्ग	बारंबारता
10-20	10
20-30	20
30-40	10
40-50	30

दिए गए आंकड़ों का माध्य ज्ञात कीजिए।

(अपने उत्तर को दशमलव के दो स्थानों तक पूर्णांकित कीजिए।)

- Ans
- 1. 35.55
 - 2. 33.57
 - 3. 32.50
 - 4. 30.60

Q.5 किसी टेबल लेंप की कीमत में पहले 8% की वृद्धि होती है और फिर 12% की कमी होती है। कीमत में कुल प्रतिशत परिवर्तन कितना होगा?

- Ans
- 1. 4.96% कमी
 - 2. 4% कमी
 - 3. 4% वृद्धि
 - 4. 4.96% वृद्धि

Q.6 एक दुकानदार को ₹63 प्रति kg और ₹133 प्रति kg मूल्य वाली दो किस्मों के गेहूं को किस अनुपात में मिलाना चाहिए ताकि यदि वह मिश्रण को ₹138 प्रति kg की दर से बेचे, तो उसे 50% का लाभ प्राप्त हो?

- Ans
- 1. 41:29
 - 2. 51:26
 - 3. 45:23
 - 4. 49:39

Q.7 साधारण ब्याज की किस वार्षिक ब्याज दर (प्रतिशत में, दशमलव के बाद दो स्थानों तक पूर्णांकित) पर कोई धनराशि 6 वर्षों में स्वयं की दोगुनी हो जाएगी?

- Ans
- 1. 16.67
 - 2. 18.67
 - 3. 33.34
 - 4. 14.67

Q.8 यदि 12 विद्यार्थी एक स्कूल को 20 दिनों में सजा सकते हैं, तो 8 विद्यार्थियों को उसी स्कूल को सजाने में कितने दिन लगेंगे?

- Ans
- 1. 28
 - 2. 30
 - 3. 32
 - 4. 25

Q.9 सबसे छोटा अंक x (जहां $0 \leq x \leq 9$) ज्ञात कीजिए, जिससे संख्या $234x6$, 3 से विभाज्य हो।

- Ans
- 1. 3
 - 2. 0
 - 3. 1
 - 4. 2

Q.10 55 लीटर के मिश्रण में दूध और पानी का अनुपात 3 : 2 है। इस अनुपात को 1:1 बनाने के लिए मिश्रण में पानी की कितनी मात्रा (लीटर में) मिलानी होगी?

- Ans
- 1. 13
 - 2. 15
 - 3. 11
 - 4. 9

Q.11 एक आदमी ने एक घोड़ा और एक गाड़ी ₹3000 में खरीदी। उसने घोड़े को 20% लाभ पर और गाड़ी को 10% हानि पर बेचा, जिससे कुल मिलाकर उसे 2% का लाभ प्राप्त हुआ। घोड़े का क्रय मूल्य ज्ञात कीजिए।

- Ans
- 1. ₹1200
 - 2. ₹1500
 - 3. ₹1600
 - 4. ₹1300

Q.12 साहिल अपनी आय का 20% किराए पर, 35% उपयोगिताओं पर, 20% शिक्षा पर व्यय करता है और शेष राशि की बचत करता है। यदि कुल बचत ₹16,000 है, तो कुल आय की गणना कीजिए।

- Ans
- 1. ₹67,000
 - 2. ₹70,000
 - 3. ₹60,000
 - 4. ₹64,000

Q.13 तालिका का अध्ययन कीजिए और नीचे दिए गए प्रश्न का उत्तर दीजिए।

नीचे दी गई तालिका में एक कंपनी के विभिन्न विभागों में कार्यरत कर्मचारियों की संख्या दर्शाई गई है।

विभाग	कर्मचारियों की संख्या का बंटन प्रतिशत
उत्पादन	35%
HR	10%
IT	15%
विपणन	20%
लेखा	20%

यदि कंपनी में कुल 4000 कर्मचारी हैं, तो विपणन और मानव संसाधन (HR) विभागों में कर्मचारियों की संख्या में कितना अंतर है?

- Ans
- 1. 300
 - 2. 400
 - 3. 800
 - 4. 200

Q.14 एक विद्यार्थी के अंक गलती से 40 के बजाय 26 दर्ज कर दिए गए। इसके कारण, कक्षा के औसत अंकों में $\frac{7}{5}$ की कमी हो गई। कक्षा में विद्यार्थियों की संख्या कितनी है?

- Ans
- 1. 4
 - 2. 11
 - 3. 9
 - 4. 10

Q.15 $\frac{1}{0.8} - \frac{1}{5.6}$ का मान ज्ञात कीजिए।

- Ans
- 1. $\frac{15}{14}$
 - 2. $\frac{13}{15}$
 - 3. $\frac{14}{15}$
 - 4. $\frac{11}{15}$

Q.16 आनंद के पास ₹1,722 थे। उसने इस धनराशि को अपने दो पुत्रों - अनिल और अशोक - के बीच विभाजित किया तथा उनसे अपने-अपने शेरों को 10% वार्षिक ब्याज की दर पर निवेश करने के लिए कहा, जहाँ ब्याज वार्षिक रूप से संयोजित होता है। यह देखा गया कि अनिल को 14 वर्ष के बाद और अशोक को 15 वर्ष के बाद प्राप्त धनराशि बराबर थी। आनंद द्वारा अनिल को दी गई धनराशि (₹ में) ज्ञात कीजिए।

- Ans
- 1. 752
 - 2. 820
 - 3. 920
 - 4. 902

Q.17 कोई विक्रेता, एक रुपये में 20 नींबू खरीदता है। 100% लाभ प्राप्त करने के लिए उसे एक रुपये में कितने नींबू बेचने होंगे?

- Ans
- 1. 12
 - 2. 10
 - 3. 14
 - 4. 11

Q.18 लक्ष्मीनारायण ने एक निश्चित राशि 8% वार्षिक चक्रवृद्धि ब्याज दर पर जमा की, जहां ब्याज वार्षिक रूप से संयोजित होता है। 2 वर्ष के अंत में, उसे कुल ₹11,664 प्राप्त हुए। लक्ष्मीनारायण द्वारा जमा की गई राशि ज्ञात कीजिए।

- Ans
- 1. ₹10,400
 - 2. ₹9,600
 - 3. ₹10,000
 - 4. ₹9,700

Q.19 महेश के वेतन में पहले 37% की कटौती की गई और बाद में 48% की वृद्धि की गई। उसका अंतिम वेतन उसके प्रारंभिक वेतन की तुलना में कितने प्रतिशत कम था?

- Ans
- 1. 37%
 - 2. 17.76%
 - 3. 6.76%
 - 4. 48%

Q.20 लकड़ी की एक छड़ी की लंबाई में पहले 20% की कमी की जाती है; फिर परिणामी लंबाई में 30% की कमी की जाती है। लकड़ी की छड़ी की लंबाई में समय प्रतिशत परिवर्तन कितना है?

- Ans
- 1. 42%, कमी
 - 2. 44%, कमी
 - 3. 42%, वृद्धि
 - 4. 44%, वृद्धि

Section : Arithmetical and Numerical Ability1

Q.1 प्रियंका कुल दूरी का 1/4 भाग 30 km/hr की चाल से, अगला 1/4 भाग 25 km/hr की चाल से, उसके बाद का 1/4 भाग 40 km/hr की चाल से और अंतिम 1/4 भाग 60 km/hr की चाल से तय करती है। संपूर्ण यात्रा के लिए प्रियंका की औसत चाल ज्ञात कीजिए। (उत्तर को दशमलव के दो स्थानों तक पूर्णांकित कीजिए।)

- Ans
- 1. 26.48 km/hr
 - 2. 32.64 km/hr
 - 3. 30.45 km/hr
 - 4. 34.78 km/hr

Q.2 एक टैंक को दो पाइपों द्वारा 6 घंटे में भरा जा सकता है। यदि पहला पाइप टैंक को 12 घंटे में भरता है, तो दूसरे पाइप द्वारा टैंक को भरने में कितना समय लगेगा?

- Ans
- 1. 12 घंटे
 - 2. 10 घंटे
 - 3. 24 घंटे
 - 4. 18 घंटे

Q.3 किसी उत्पाद का अंकित मूल्य ₹100 है। यदि उस पर 20%, 25% और 30% की क्रमिक छूट दी जाती है, तो उत्पाद के अंतिम विक्रय मूल्य (₹ में) की गणना कीजिए।

- Ans
- 1. 42
 - 2. 46
 - 3. 40
 - 4. 44

Q.4 किसी वर्ग का क्षेत्रफल 1.96 m^2 है। इसका परिमाण (m में) कितना होगा?

- Ans
- 1. 4.2
 - 2. 5.6
 - 3. 3.6
 - 4. 4.8

Q.5 राहुल और बिराज की आय का अनुपात 5 : 7 है और उनके व्यय का अनुपात 3 : 4 है। यदि राहुल ₹3,000 की बचत करता है और बिराज, राहुल से ₹2,000 अधिक की बचत करता है, तो बिराज की आय (₹ में) ज्ञात कीजिए।

- Ans
- 1. 28,000
 - 2. 21,000
 - 3. 14,000
 - 4. 7,000

Q.6 दो संख्याएँ एक तीसरी संख्या से क्रमशः 28% और 24% कम हैं। पहली दो संख्याओं का अनुपात ज्ञात कीजिए।

- Ans
- 1. 1 : 3
 - 2. 11 : 12
 - 3. 18 : 19
 - 4. 21 : 23

Q.7 एक ठेकेदार 100 दिनों में एक घर बनाने का ठेका लेता है। वह इसके लिए 100 व्यक्तियों को नियुक्त करता है। हालाँकि, 50 दिनों के बाद उसे पता चलता है कि अभी तक काम का केवल 40% ही पूरा हुआ है। समय पर काम पूरा करने के लिए कितने और व्यक्तियों को नियुक्त करने की आवश्यकता होगी?

- Ans
- 1. 45
 - 2. 55
 - 3. 65
 - 4. 50

Q.8 तीन-स्तरीय आपूर्ति श्रृंखला में, एक निर्माता किसी निश्चित लागत पर एक टेबल बनाता है। निर्माता फिर टेबल को थोक विक्रेता को 30% लाभ मार्जिन पर बेचता है। इसके बाद, थोक विक्रेता टेबल को एक खुदरा विक्रेता को ₹1300 में 25% लाभ मार्जिन पर बेच देता है। अंत में, खुदरा विक्रेता टेबल को अंतिम उपभोक्ता को 30% लाभ मार्जिन पर बेचता है। निर्माता का लागत मूल्य, खुदरा विक्रेता के टेबल के विक्रय मूल्य से ₹(800 + R) कम है। R और 18 का महत्तम समापवर्तक (HCF) ज्ञात कीजिए।

- Ans
- 1. 9
 - 2. 1
 - 3. 2
 - 4. 18

Q.9 एक आयत की लंबाई 28 cm है और चौड़ाई 14 cm है। 14 cm भुजाओं में से किसी एक भुजा से एक अर्धवृत्त बाह्यतः संलग्न है, जिसका व्यास आयत की चौड़ाई के बराबर है। परिणामी आकृति की परिधि ज्ञात कीजिए। ($\pi = \frac{22}{7}$ का उपयोग कीजिए)

- Ans
- 1. 97 cm
 - 2. 88 cm
 - 3. 83 cm
 - 4. 92 cm

Q.10 एक समलंब की समांतर भुजाएँ 8 cm और 14 cm हैं। समांतर भुजाओं के बीच की दूरी, एक समबाहु त्रिभुज की भुजा के बराबर है, जिसका परिमाण 102 cm है। समलंब का क्षेत्रफल ज्ञात कीजिए।

- Ans
- 1. 264 cm²
 - 2. 254 cm²
 - 3. 304 cm²
 - 4. 374 cm²

Q.11 निम्नलिखित में से सबसे छोटे अनुपात का चयन करें।

- Ans
- 1. 2 : 3
 - 2. 2 : 5
 - 3. 5 : 9
 - 4. 7 : 10

Q.12 14 मिनट में, एक बाल्टी का $\frac{7}{10}$ भाग भर जाता है। शेष बाल्टी को भरने में कितना समय (मिनट में) लगेगा?

- Ans
- 1. 1.12
 - 2. 6
 - 3. 10
 - 4. 8

Q.13 दो पाइप एक टैंक को भर रहे हैं। पहला पाइप टैंक को 8 घंटे में भर सकता है, और दूसरा पाइप इसे 12 घंटे में भर सकता है। यदि दोनों पाइप एक साथ खोल दिए जाएं, तो टैंक को भरने में कितना समय लगेगा?

- Ans
- 1. 4.8 घंटे
 - 2. 5.8 घंटे
 - 3. 2.4 घंटे
 - 4. 4.2 घंटे

Q.14 किसी व्यक्ति की दो क्रमिक वर्षों की आय का अनुपात 2 : 3 है, और व्यय का अनुपात 4 : 5 है। उसने शेष राशि बचत के रूप में जमा की। द्वितीय वर्ष में उसकी आय ₹60,000 है और प्रथम वर्ष में उसका व्यय ₹30,000 है। दोनों वर्षों के लिए उसकी कुल बचत ज्ञात कीजिए।

- Ans
- 1. ₹32,500
 - 2. ₹22,000
 - 3. ₹25,000
 - 4. ₹28,000

Q.15 राशि एक निश्चित चाल से स्थान A से 5 km दूर स्थित स्थान B तक चलना शुरू करती है। शशि भी उसी समय B से A तक एक निश्चित चाल से चलना शुरू करती है। यदि वे दोनों आधे घंटे बाद मिलते हैं, और शशि को A तक पहुंचने में, राशि को B तक पहुंचने की तुलना में 25 मिनट अधिक लगते हैं, तो शशि की चलने की चाल (km/h में) ज्ञात कीजिए।

- Ans
- 1. 3
 - 2. 5
 - 3. 6
 - 4. 4

Q.16 यदि एक दुकानदार किसी वस्तु पर 40% और 20% की दो क्रमिक छूटें देता है, तो दुकानदार द्वारा दी जा सकने वाली समतुल्य एकल छूट ज्ञात कीजिए।

- Ans
- 1. 50%
 - 2. 48%
 - 3. 51%
 - 4. 52%

Q.17 एक व्यापारी अपने माल पर क्रय मूल्य से 20% अधिक मूल्य अंकित करता है और उस पर 13% की छूट देता है। यदि उसे x% का लाभ होता है, तो x का मान ज्ञात कीजिए।

- Ans
- 1. 5.4
 - 2. 6.4
 - 3. 4.4
 - 4. 3.4

Q.18 उस बेलनाकार पात्र का आयतन (cm^3 में) कितना होगा, जिसका आधार व्यास 8 cm और ऊंचाई 70 cm है?
($\pi = \frac{22}{7}$ लीजिए)

- Ans
- 1. 3250
 - 2. 3520
 - 3. 2530
 - 4. 2350

Q.19 दो रेलगाड़ियाँ एक ही दिशा में 88 km/hr और 73 km/hr की चाल से चल रही हैं। दोनों रेलगाड़ियों के बीच सापेक्ष चाल कितनी है?

- Ans
- 1. 125 km/hr
 - 2. 91 km/hr
 - 3. 15 km/hr
 - 4. 161 km/hr

Q.20 200 m लंबी एक ट्रेन विपरीत दिशा में चल रही 150 m लंबी दूसरी ट्रेन से मिलती है। यदि उनकी चालें क्रमशः 36 km/hr और 54 km/hr हैं, तो वे एक-दूसरे को कितने सेकंड में पूरी तरह से पार कर लेंगी?

- Ans
- 1. 18 सेकंड
 - 2. 12 सेकंड
 - 3. 14 सेकंड
 - 4. 16 सेकंड

Section : Test of English Language and Comprehension

Q.1 Select the most appropriate set of articles to fill in the blanks.

A chef cooked biryani in a clay pot with ___ assortment of spices, using an heirloom recipe as a guest waited with ___ eager smile and a plate in hand.

- Ans
- 1. an ; the
 - 2. the ; an
 - 3. an ; an
 - 4. a ; an

Q.2 Read the following group of sentences. The first and last sentences (1 and 6) are fixed. Rearrange the remaining sentences (A, B, C, and D) in the correct order to form a meaningful paragraph.

1. Our visit to the Eiffel Tower was unforgettable.
- A. The elevator ride offered breathtaking views of Paris.
- B. First, we queued for tickets and booked a guide, excited for the experience.
- C. On reaching the top, we took memorable photographs.
- D. The guide shared fascinating facts about the tower's history.
6. We left with cherished memories and a deeper appreciation for Paris.

- Ans
- 1. BDAC
 - 2. ABCD
 - 3. CBDA
 - 4. ACBD

Q.3 Select the most appropriate article for the blank in the sentence given below.

_____ majestic peaks were covered with snow. 1509

- Ans
- 1. A
 - 2. The
 - 3. An
 - 4. No article required

Q.4 Complete the given sentence, choosing your answer from the options provided.

My aunt _____ a three-tiered cake every Christmas.

- Ans
- 1. cooks
 - 2. fries
 - 3. bakes
 - 4. throws

Q.5 Select the most appropriate option to fill in the blank.

The researcher spoke _____ about the fragile state of coral reefs, emphasising the urgent need for conservation.

- Ans
- 1. earnestly
 - 2. nervously
 - 3. impatiently
 - 4. rarely

Q.6 Parts of a sentence are given below in jumbled order. Arrange the parts in the correct order to form a meaningful sentence.

P- of a show is judged by its theme
Q- the effectiveness
R- of the audience
S- and by its relation to the needs

- Ans
- 1. RQSP
 - 2. SPRQ
 - 3. QPSR
 - 4. QSRP

Q.7 Select the most appropriate option to fill in the blank.

The research was conducted _____, adhering to the highest ethical standards.

- Ans
- 1. carelessly
 - 2. negligently
 - 3. hurriedly
 - 4. scrupulously

Q.8 Complete the sentence with the correct adverb.

He responded to the rude comment _____, not letting his emotions show.

- Ans
- 1. impulsively
 - 2. dramatically
 - 3. angrily
 - 4. indifferently

Q.9 Choose the word that best completes the sentence.

The new drug was put _____ the market after being approved by the government.⁴⁴⁹⁹

- Ans
- 1. of
 - 2. on
 - 3. from
 - 4. among

Q.10 Complete the following sentence using the most appropriate option:

Pollution levels the city have risen dramatically.

- Ans
- 1. for
 - 2. at
 - 3. in
 - 4. over

Q.11 A sentence with a grammatical error is given. Identify the error and then from the given options, select the sentence which is error free and grammatically correct.

You must commit the poem by memory.

4116

- Ans
- 1. You must commit the poem in memory.
 - 2. You must commit the poem with memory.
 - 3. You must commit the poem to memory.
 - 4. You must commit the poem from memory.

Q.12 Choose a word or phrase to replace the underlined word in the following sentence in order to correct it.

The parents waited cheerfully for the news of their missing son.2568

- Ans
- 1. anxiously
 - 2. accidentally
 - 3. voluntarily
 - 4. extensively

Q.13 Choose a word or phrase to replace the underlined word in the following sentence in order to correct it.

They were adequately, though not frankly, provided for in their new flat but they kept complaining.2569

- Ans
- 1. amply
 - 2. abruptly
 - 3. surprisingly
 - 4. meticulously

Q.14 Select the most appropriate article to fill in the blank. If no article is needed, select 'No article required'.

In the field of environmental science, discussions about ____ Amazon rainforest often focus on its crucial role in regulating the Earth's climate.

- Ans
- 1. an
 - 2. the
 - 3. a
 - 4. No article required

Q.15 Complete the sentence by selecting the correct option given below.

India is one of ____ most industrialized countries in Asia.

1600

- Ans
- 1. the
 - 2. an
 - 3. a
 - 4. it

Comprehension:

Read the passage carefully and answer the questions that are given below.

Water is an essential natural resource, yet it is becoming increasingly scarce in many parts of the world. Due to rapid population growth, pollution, and the effects of climate change, billions of people face daily challenges in accessing clean and safe drinking water. According to the United Nations, this crisis is expected to worsen unless immediate action is taken.

The consequences of water scarcity are severe and far-reaching. It leads to the spread of diseases, poor sanitation, and reduced agricultural productivity. Environmental damage such as the drying up of rivers and wetlands also affects biodiversity and increases the risk of natural disasters like droughts and floods.

Addressing this issue requires both individual and collective efforts. People can conserve water by using it responsibly at home, fixing leaks, and supporting sustainable gardening practices. Governments must implement strong water policies and promote fair distribution to ensure clean water is available for future generations.

SubQuestion No : 16

Q.16 Select an appropriate title for this passage from the given options.

Comprehension:

Read the passage carefully and answer the questions that are given below.

Water is an essential natural resource, yet it is becoming increasingly scarce in many parts of the world. Due to rapid population growth, pollution, and the effects of climate change, billions of people face daily challenges in accessing clean and safe drinking water. According to the United Nations, this crisis is expected to worsen unless immediate action is taken.

The consequences of water scarcity are severe and far-reaching. It leads to the spread of diseases, poor sanitation, and reduced agricultural productivity. Environmental damage such as the drying up of rivers and wetlands also affects biodiversity and increases the risk of natural disasters like droughts and floods.

Addressing this issue requires both individual and collective efforts. People can conserve water by using it responsibly at home, fixing leaks, and supporting sustainable gardening practices. Governments must implement strong water policies and promote fair distribution to ensure clean water is available for future generations.

SubQuestion No : 17

Q.17 What is the main idea of the passage?

Comprehension:

Read the passage carefully and answer the questions that are given below.

Water is an essential natural resource, yet it is becoming increasingly scarce in many parts of the world. Due to rapid population growth, pollution, and the effects of climate change, billions of people face daily challenges in accessing clean and safe drinking water. According to the United Nations, this crisis is expected to worsen unless immediate action is taken.

The consequences of water scarcity are severe and far-reaching. It leads to the spread of diseases, poor sanitation, and reduced agricultural productivity. Environmental damage such as the drying up of rivers and wetlands also affects biodiversity and increases the risk of natural disasters like droughts and floods.

Addressing this issue requires both individual and collective efforts. People can conserve water by using it responsibly at home, fixing leaks, and supporting sustainable gardening practices. Governments must implement strong water policies and promote fair distribution to ensure clean water is available for future generations.

SubQuestion No : 18

Q.18 Identify the structure of the passage.

Comprehension:

Read the passage carefully and answer the questions that are given below.

Water is an essential natural resource, yet it is becoming increasingly scarce in many parts of the world. Due to rapid population growth, pollution, and the effects of climate change, billions of people face daily challenges in accessing clean and safe drinking water. According to the United Nations, this crisis is expected to worsen unless immediate action is taken.

The consequences of water scarcity are severe and far-reaching. It leads to the spread of diseases, poor sanitation, and reduced agricultural productivity. Environmental damage such as the drying up of rivers and wetlands also affects biodiversity and increases the risk of natural disasters like droughts and floods.

Addressing this issue requires both individual and collective efforts. People can conserve water by using it responsibly at home, fixing leaks, and supporting sustainable gardening practices. Governments must implement strong water policies and promote fair distribution to ensure clean water is available for future generations.

SubQuestion No : 19

Q.19 Select the correct antonym of the given word from the passage.

Dispensable

Comprehension:

Read the passage carefully and answer the questions that are given below.

Water is an essential natural resource, yet it is becoming increasingly scarce in many parts of the world. Due to rapid population growth, pollution, and the effects of climate change, billions of people face daily challenges in accessing clean and safe drinking water. According to the United Nations, this crisis is expected to worsen unless immediate action is taken.

The consequences of water scarcity are severe and far-reaching. It leads to the spread of diseases, poor sanitation, and reduced agricultural productivity. Environmental damage such as the drying up of rivers and wetlands also affects biodiversity and increases the risk of natural disasters like droughts and floods.

Addressing this issue requires both individual and collective efforts. People can conserve water by using it responsibly at home, fixing leaks, and supporting sustainable gardening practices. Governments must implement strong water policies and promote fair distribution to ensure clean water is available for future generations.

SubQuestion No : 20

Q.20 Select the correct antonym of the given word from the passage.

Degrade

Section : Test of English Language and Comprehension1

Q.1 Choose the correct SYNONYM of the given word.

Detrimental

- Ans**
- 1. Impartial
 - 2. Damaging
 - 3. Benign
 - 4. Biased

Q.2 Choose the correct option.

One who does not believe in God is a/an _____.

- Ans**
- 1. monotheist
 - 2. theist
 - 3. skeptic
 - 4. atheist

Q.3 Choose the correct one-word substitution for the given sentence.

A person who draws maps

- Ans**
- 1. Calligrapher
 - 2. Topographer
 - 3. Geographer
 - 4. Cartographer

Q.4 Choose the correct one-word substitution for the given sentence.

A person who opposes war or the use of military force

- Ans**
- 1. Pessimist
 - 2. Activist
 - 3. Anarchist
 - 4. Pacifist

Q.5 Select the most appropriate meaning of the following proverb.

Fortune favours the brave.

- Ans
- 1. Fortune always supports those who wait uncomplainingly.
 - 2. Bravery and confidence are more important than wisdom.
 - 3. Fortune is always prejudiced towards those who are brave.
 - 4. Those who take risks and act boldly are more likely to succeed.

Q.6 Identify the antonym of "disguised".

- Ans
- 1. Treat
 - 2. Ordinary
 - 3. Exposed
 - 4. Explained

Q.7 Rectify the sentence by selecting the correct spelling of the highlighted word from the options provided.

She is a **conscienteous** researcher who meticulously verifies every detail of her experiments.

- Ans
- 1. consenteous
 - 2. consienteous
 - 3. conscientious
 - 4. consciuntuous

**Q.8 Select the most appropriate meaning of the proverb:
Variety is the spice of life**

- Ans
- 1. Diversity makes life more interesting and enjoyable
 - 2. Changing your daily habits leads to better outcomes
 - 3. Adding different experiences improve one's routine
 - 4. Exploring new opportunities brings satisfaction

Q.9 Select the most appropriate meaning of the proverb.

Learn to walk before you run

- Ans
- 1. Master the basics before attempting more complex tasks.
 - 2. It's better to be patient and take small steps towards success.
 - 3. Be careful when learning new and challenging things.
 - 4. You should practice running before walking to be successful.

Q.10 A sentence divided into different segments (P, Q, R, and S) is given. Rearrange the segments to form a coherent sentence.

(P) to learn new skills
(Q) many students
(R) attend workshops
(S) each year.

- Ans
- 1. S P Q R
 - 2. R S Q P
 - 3. P Q S R
 - 4. Q R P S

Q.11 Select the most appropriate meaning of the given proverb.

Too many cooks spoil the broth

- Ans
- 1. Broth is difficult to prepare
 - 2. Too many people involved in a task can ruin it
 - 3. Cooking is best done alone
 - 4. Large groups make better decisions

Q.12 Identify the synonym of the underlined word.

The old building looked quite dilapidated.

- Ans
- 1. Spacious
 - 2. Modern
 - 3. Ruined
 - 4. Decorated

Q.13 Select the most appropriate synonym of the given word.

Opulent

- Ans
- 1. Destitute
 - 2. Genuine
 - 3. Graceful
 - 4. Lavish

Q.14 Identify the incorrectly spelt word in the given sentence.

A connoisseur of Renaissance art, she could identify a forgery with remarkable alacrity.

- Ans
- 1. connoisseur
 - 2. remarkable
 - 3. forgery
 - 4. alacrity

Q.15 Choose the correct option.

Fear of heights is known as _____.

- Ans
- 1. hydrophobia
 - 2. xenophobia
 - 3. claustrophobia
 - 4. acrophobia

Comprehension:

Read the given passage carefully and answer the questions that follow.

Sociologists argue that domestic labor—tasks like caregiving and household management—occupies a strange place in our world. These activities are essential for society to function, yet they remain "invisible" in economic reports. Because this work is often unpaid and mostly performed by women, it is systematically undervalued. This creates a social imbalance: we treat paid office work as "real" productivity while treating home labor as secondary.

Public policy is slowly changing to address this. Government programs like parental leave and childcare subsidies show that attitudes are shifting. However, many policies still fail because they assume every family follows a traditional structure. Cultural norms also play a role. Media representations often praise caregiving as a "moral virtue" or a "kind act," but they rarely frame it as a skilled job requiring expertise and intelligence.

Reframing domestic labor means recognizing its true social value. It is not just a personal task; it is a contribution that sustains families and communities. If we value care as much as we value wages, we can challenge inequality and redefine what it means to contribute to society.

SubQuestion No : 16

Q.16 Which title best reflects the passage?

Comprehension:

Read the given passage carefully and answer the questions that follow.

Sociologists argue that domestic labor—tasks like caregiving and household management—occupies a strange place in our world. These activities are essential for society to function, yet they remain "invisible" in economic reports. Because this work is often unpaid and mostly performed by women, it is systematically undervalued. This creates a social imbalance: we treat paid office work as "real" productivity while treating home labor as secondary. Public policy is slowly changing to address this. Government programs like parental leave and childcare subsidies show that attitudes are shifting. However, many policies still fail because they assume every family follows a traditional structure. Cultural norms also play a role. Media representations often praise caregiving as a "moral virtue" or a "kind act," but they rarely frame it as a skilled job requiring expertise and intelligence. Reframing domestic labor means recognizing its true social value. It is not just a personal task; it is a contribution that sustains families and communities. If we value care as much as we value wages, we can challenge inequality and redefine what it means to contribute to society.

SubQuestion No : 17

Q.17 What fact is stated in the passage?

Comprehension:

Read the given passage carefully and answer the questions that follow.

Sociologists argue that domestic labor—tasks like caregiving and household management—occupies a strange place in our world. These activities are essential for society to function, yet they remain "invisible" in economic reports. Because this work is often unpaid and mostly performed by women, it is systematically undervalued. This creates a social imbalance: we treat paid office work as "real" productivity while treating home labor as secondary. Public policy is slowly changing to address this. Government programs like parental leave and childcare subsidies show that attitudes are shifting. However, many policies still fail because they assume every family follows a traditional structure. Cultural norms also play a role. Media representations often praise caregiving as a "moral virtue" or a "kind act," but they rarely frame it as a skilled job requiring expertise and intelligence. Reframing domestic labor means recognizing its true social value. It is not just a personal task; it is a contribution that sustains families and communities. If we value care as much as we value wages, we can challenge inequality and redefine what it means to contribute to society.

SubQuestion No : 18

Q.18 What inference can be drawn about the way the economy is currently defined?

Comprehension:

Read the given passage carefully and answer the questions that follow.

Sociologists argue that domestic labor—tasks like caregiving and household management—occupies a strange place in our world. These activities are essential for society to function, yet they remain "invisible" in economic reports. Because this work is often unpaid and mostly performed by women, it is systematically undervalued. This creates a social imbalance: we treat paid office work as "real" productivity while treating home labor as secondary. Public policy is slowly changing to address this. Government programs like parental leave and childcare subsidies show that attitudes are shifting. However, many policies still fail because they assume every family follows a traditional structure. Cultural norms also play a role. Media representations often praise caregiving as a "moral virtue" or a "kind act," but they rarely frame it as a skilled job requiring expertise and intelligence. Reframing domestic labor means recognizing its true social value. It is not just a personal task; it is a contribution that sustains families and communities. If we value care as much as we value wages, we can challenge inequality and redefine what it means to contribute to society.

SubQuestion No : 19

Q.19 How does the author structure the argument?

Comprehension:

Read the given passage carefully and answer the questions that follow.

Sociologists argue that domestic labor—tasks like caregiving and household management—occupies a strange place in our world. These activities are essential for society to function, yet they remain "invisible" in economic reports. Because this work is often unpaid and mostly performed by women, it is systematically undervalued. This creates a social imbalance: we treat paid office work as "real" productivity while treating home labor as secondary. Public policy is slowly changing to address this. Government programs like parental leave and childcare subsidies show that attitudes are shifting. However, many policies still fail because they assume every family follows a traditional structure. Cultural norms also play a role. Media representations often praise caregiving as a "moral virtue" or a "kind act," but they rarely frame it as a skilled job requiring expertise and intelligence. Reframing domestic labor means recognizing its true social value. It is not just a personal task; it is a contribution that sustains families and communities. If we value care as much as we value wages, we can challenge inequality and redefine what it means to contribute to society.

SubQuestion No : 20

Q.20 The tone of the passage is best described as:

Section : Test of Hindi Language and Comprehension

Q.1 मोहन ने किताब को संदूक में.....दिया ।
उपर्युक्त वाक्य में रिक्त स्थान की पूर्ति के लिए उचित क्रिया शब्द का चयन करें-

- Ans 1. दिखाना
 2. रख
 3. आना
 4. समझ

Q.2 निम्नलिखित मुहावरे के सही अर्थ की पहचान कीजिए -
कदम गाड़ कर बैठना

- Ans 1. ढीठ होना
 2. अडिग होना
 3. बदतमीजी करना
 4. आश्चर्यचकित रहना

Q.3 निम्नलिखित वाक्यांश के लिए सार्थक शब्द बताएं -
'जहाँ नाटक खेला जाता है'

- Ans 1. सिनेमा
 2. मैदान
 3. नेपथ्य
 4. रंगमंच

Q.4 दिए गए वाक्यों में अतिरिक्त वाक्य का चुनाव करें-

- Ans 1. स्वयं से स्वयं का उद्धार कर अपने जीवन का पथ प्रशस्त करें।
 2. मानव को अपना उद्धार स्वयं करना चाहिए।
 3. सांसारिक बुराइयों के निवारणार्थ अपने दुर्गुणों से उद्धार की जरूरत है।
 4. चतुर्दिक अज्ञान का आवरण होने से वैयक्तिक और सामाजिक जीवन विषाक्त हो जाता है।

Q.5 डॉक्टर मरीजदवाई दे रहा है ।
उपर्युक्त वाक्य में रिक्त स्थान की पूर्ति के लिए उचित कारक शब्द का चयन करें-

- Ans 1. में
 2. पर
 3. को
 4. से

Q.6 निम्नलिखित विकल्पों में से उपयुक्त क्रिया का चयन कर रिक्त स्थान की पूर्ति कीजिए-
'उस बहादुर सैनिक ने कहा कि मैं भले _____ जाऊँगा, लेकिन मेरा देश कभी नहीं झुकेगा।

- Ans 1. पीस
 2. मर
 3. मारना
 4. घिस

Q.7 निम्नलिखित मुहावरे का अर्थ बताएं -
'बड़े घर की हवा खाना'

- Ans 1. जेल जाना
 2. भेद खोलना
 3. कलंक लगना
 4. सरल काम

Q.8 तुम्हारे घर बिल्ली है ।
उपर्युक्त वाक्य में रिक्त स्थान की पूर्ति के लिए उचित कारक शब्द का चयन करें-

- Ans
- 1. के
 - 2. में
 - 3. ने
 - 4. नी

Q.9 निम्नलिखित वाक्य को ध्यानपूर्वक पढ़ें और वाक्य में त्रुटि की पहचान कर वाक्य शुद्ध करें।

आज फिल्म दिनों बाद के सभी साथ बहुत लोग में बैठ कर परिवार देख रहे हैं।

- Ans
- 1. आज बहुत दिनों बाद परिवार के सभी लोग साथ में बैठ कर फिल्म देख रहे हैं।
 - 2. आज रहे हैं बहुत लोग दिनों परिवार के सभी साथ में बैठ बाद कर फिल्म देख।
 - 3. आज के बहुत दिनों बाद रहे परिवार साथ में बैठ फिल्म देख कर सभी लोग हैं।
 - 4. दिनों बाद सभी लोग साथ परिवार के में बैठ आज बहुत कर फिल्म देख रहे हैं।

Q.10 दिए गए वाक्यों के लिखने का सही क्रम चुनें-
(1) सीता का विवाह हुए एक साल हो गए थे।
(2) इस बीच वह बस दो बार ही मायके लौटी थी।
(3) भरे-पूरे परिवार में वह सुखी थी।
(4) उसका पति उससे बहुत प्रसन्न था।

- Ans
- 1. 1432
 - 2. 4213
 - 3. 3241
 - 4. 2314

Q.11 सुमन हमेशा रहती है।
उपर्युक्त वाक्य में रिक्त स्थान की पूर्ति के लिए उचित विशेषण शब्द का चयन करें-

- Ans
- 1. लंबी
 - 2. नया
 - 3. प्रसन्न
 - 4. दस

Q.12 दिए गये वाक्य का शुद्ध रूप क्या है?
आपकी वाणी में माधुर्यता है।

- Ans
- 1. आपकी वाणी में माधुर्यत है।
 - 2. माधुर्यता आपकी वाणी में है।
 - 3. आपकी माधुर्य में वाणी है।
 - 4. आपकी वाणी में माधुर्य है।

Q.13 दिए गए वाक्यों में अतिरिक्त वाक्य का चुनाव करें-

- Ans
- 1. श्रेष्ठता निरंतर संघर्ष से अर्जित की गई मान्यता है।
 - 2. श्रेष्ठता कोई जन्मजात विशेषाधिकार नहीं है।
 - 3. श्रेष्ठता सुविधा के मार्ग से नहीं, अपितु चुनौतियों को स्वीकार करने से जन्म लेती है।
 - 4. परिस्थितियों के प्रति मनुष्य की दृष्टि उसकी नियति की गति निर्धारित करती है।

Q.14 निम्न वाक्यांश के लिए सार्थक शब्द अंकित कीजिए।

जो बहुत थोड़ा जानता हो-

- Ans
- 1. विज्ञ
 - 2. प्रज्ञ
 - 3. विध्न
 - 4. अल्पज्ञ

Comprehension:

निम्नलिखित गद्यांश को ध्यानपूर्वक पढ़कर पूछे गए प्रश्नों के लिए सही विकल्प चुनकर लिखें -

यदि हमारे वृक्ष स्वस्थ हैं तो निश्चित मानिए हम भी स्वस्थ हैं। हमें तो प्राणवायु उन्हीं से मिलती है। हम कार्बन डाइ आक्साइड छोड़ते हैं या उन्हें देते हैं और वे बदले में ऑक्सीजन देते हैं, जो हमारे जीवन की हर गतिविधि के लिए आवश्यक है। हमारे स्वास्थ्य का हर बिंदु ऑक्सीजन की उपलब्धता से अनुप्राणित है। भले ही यह बात हमें कल्पना लोक की लगती हो, लेकिन वृक्ष वैज्ञानिक प्रामाणिकता भी रखती है, इसमें रत्ती भर भी संदेह करने की गुंजाइश नहीं है। हम यदि अपने आस-पास खड़े वृक्षों की रक्षा का जिम्मा अपने कंधों पर उठा लें तो निश्चित मानिए हमने अपने स्वास्थ्य को लंबे समय तक स्वस्थ रखने की गारंटी प्राप्त कर ली है। वृक्षों की रक्षा में ही हमारे जीवन की सुरक्षा का राज छिपा है। कहा जाता है "एक स्वस्थ मन हजारों सोने के सिंहासनों से कहीं अधिक मूल्यवान होता है क्योंकि स्वस्थ मन ही समाज और स्वस्थ देश की रचना करने में समर्थ है। कुत्सित विचारों वाले लोग अपना जीवन तो चला सकते हैं, लेकिन समाज और देश को नहीं चला सकते। करोड़ों परिवारों के सुनहरे भविष्य के बारे में वही चिंतन, मनन और सृजन कर सकता है, जो व्यर्थ के लालच, लोभ और षड्यंत्रों से मुक्त हो और जिस पर किसी भी प्रकार का कोई अनुचित दबाव न हो।"

SubQuestion No : 20

Q.20 कौन जीवन को चला सकता है, पर समाज व देश को नहीं-

Section : Test of Hindi Language and Comprehension1

Q.1 निम्नलिखित में से कौन सा एक वाक्य वर्तनी की दृष्टि से अशुद्ध है?

- Ans
- 1. वह ज्ञानी नहीं है।
 - 2. पहलाद भगवान का भक्त था।
 - 3. तुम्हें पाकर मैं बहुत खुश हूँ।
 - 4. राम ने मर्यादा की रक्षा की।

Q.2 निम्न शब्द का अनेकार्थी शब्द चुनिए।
अम्बर

- Ans
- 1. प्रकाश
 - 2. आकाश
 - 3. अवकाश
 - 4. पाताल

Q.3 मंगनी का पर्यायवाची शब्द नहीं होगा -

- Ans
- 1. सगाई
 - 2. फलदान
 - 3. रघुवर
 - 4. वाग्दान

Q.4 निम्नलिखित वाक्य में अशुद्ध शब्द की पहचान कीजिए-
ज्ञानि व्यक्ति सदैव विनम्र होता है और अपने ज्ञान का अहंकार नहीं करता।

- Ans
- 1. ज्ञानि
 - 2. अहंकार
 - 3. व्यक्ति
 - 4. विनम्र

Q.5 निम्नलिखित वाक्य में अशुद्ध शब्द की पहचान कीजिए-
वे अभ्यर्थी, जो परीक्षा में उत्तीर्ण हो चुके हैं और जिन्होंने आवश्यक दस्तावेज़ पूरे कर दिए हैं, अंतिम साक्षात्कार के लिए आमंत्रित किए जाएंगे।

- Ans
- 1. उत्तीर्ण
 - 2. साक्षात्कार
 - 3. अभ्यर्थी
 - 4. आमंत्रित

Q.6 दिए गए विकल्पों में से तद्भव शब्द का चयन कीजिए।

- Ans
- 1. गर्त
 - 2. ग्रंथि
 - 3. गात्र
 - 4. गँवार

Q.7 निम्नलिखित लोकोक्ति का अर्थ बताएं -
'आगे कुआ, पीछे खाई'

- Ans
- 1. सदैव आनंद मनाना
 - 2. दिखावटी रोना
 - 3. दोनों ओर मुसीबत होना
 - 4. मूर्ख धनवान

Q.8 'शाश्वत' शब्द का उचित विलोम शब्द पहचानें।

- Ans
- 1. आकर्ष
 - 2. मुक्ति
 - 3. भोर
 - 4. क्षणिक

Q.9 निम्नलिखित मुहावरे का अर्थ बताएं -
'बाल की खाल उतारना'

- Ans
- 1. बहुत छानबीन करना
 - 2. झूठी बात उड़ाना
 - 3. काम बिगाड़ना
 - 4. निर्दोष मुक्त होना

Q.10 निम्न शब्द का विलोम शब्द चुनिए।
आघात

- Ans
- 1. प्रतिघात
 - 2. कुंवारी
 - 3. अनावश्यक
 - 4. कुमारी

Q.11 निम्नलिखित वाक्य में अशुद्ध शब्द की पहचान कीजिए-
मैं अपने गुरु के मार्गदर्शन से अनुग्रहित महसूस करता हूँ।

- Ans
- 1. महसूस
 - 2. गुरु
 - 3. मार्गदर्शन
 - 4. अनुग्रहित

Q.12 दिए गए विकल्पों में से अनेकार्थी शब्द 'शिव' का एक अर्थ कौन-सा है?

- Ans
- 1. अवकाश
 - 2. प्रकृति
 - 3. कल्याण
 - 4. असमान

Q.13 'अवनत' का विलोम शब्द होगा-

- Ans
- 1. विनीत
 - 2. विनत
 - 3. नम्र
 - 4. उन्नत

Q.14 निम्नलिखित मुहावरे के सही अर्थ की पहचान कीजिए-
'खोपड़ी पर खड़ा होना'

- Ans
- 1. असंतुलित हो जाना
 - 2. सावधानी बरतना
 - 3. सभ्यतापूर्ण व्यवहार करना
 - 4. बिल्कुल पास खड़ा हो जाना

