



GOVT. OF NCT OF DELHI  
Delhi Subordinate Services Selection Board  
FC-18, Institutional Area, Karkardooma, Delhi – 110092.  
[www.dsssb.delhigovt.nic.in](http://www.dsssb.delhigovt.nic.in)

Participant Name	NIKHIL KUMAR
Test Center Name	Aadarsh Pariksha Kendra CENTER B - Gate No 2 - Noida Sector 64
Test Date	15/03/2026
Test Time	9:00 AM - 11:00 AM
Subject	Multi Tasking Staff

Section : General intelligence and Reasoning Ability

Q.1 निम्नलिखित अक्षर और प्रतीक श्रृंखला का संदर्भ लीजिए तथा नीचे दिए गए प्रश्न का उत्तर दीजिए। गिनती बाएं से दाएं की जानी है। सभी संख्याएं एकल-अंकीय संख्याएं हैं।

(बाएं) # 6 9 2 + 4 3 8 \* 1 @ 5 % 7 Ω & (दाएं)

ऐसे कितने प्रतीक हैं, जिनमें से प्रत्येक के ठीक पहले एक संख्या है और ठीक बाद में भी एक अन्य संख्या है?

- Ans
- 1. चार
  - 2. एक
  - 3. दो
  - 4. तीन

Q.2 एक निश्चित कूट भाषा में, 'BUSY' को '7523' के रूप में कूटबद्ध किया जाता है और 'YOLK' को '4136' के रूप में कूटबद्ध किया जाता है। दी गई कूट भाषा में 'Y' के लिए कूट क्या है?

- Ans
- 1. 1
  - 2. 3
  - 3. 5
  - 4. 7

Q.3 निम्नलिखित अक्षर, प्रतीक श्रृंखला का संदर्भ लीजिए और दिए गए प्रश्न का उत्तर दीजिए। गिनती केवल बाएँ से दाएँ की जानी चाहिए।

(बाएँ) H G Q E G Q Q J \$ \ N X H P Y \ S N ^ \ D (दाएँ)

ऐसे कितने अक्षर हैं, जिनमें से प्रत्येक के ठीक पहले एक प्रतीक है और ठीक बाद भी एक अक्षर है?

- Ans
- 1. चार
  - 2. एक
  - 3. दो
  - 4. तीन

- Q.4 एक निश्चित कूट भाषा में,  
A + B का अर्थ है कि 'A, B की बहन है',  
A - B का अर्थ है कि 'A, B का भाई है',  
A x B का अर्थ है कि 'A, B की पत्नी है' और  
A ÷ B का अर्थ है कि 'A, B का पिता है'।

उपरोक्त के आधार पर, यदि 'Z - M + U x K ÷ L' है, तो Z का L से क्या संबंध है?

- Ans  1. माता के पिता  
 2. भाई  
 3. माता का भाई  
 4. पिता

- Q.5 A, B, C, D, E, F और G एक गोल मेज के परितः उसके केंद्र की ओर अभिमुख होकर बैठे हैं।  
F के दाएं से गिनने पर F और C के बीच केवल दो व्यक्ति बैठे हैं। C और G के बीच केवल दो व्यक्ति बैठे हैं। F और A के बीच केवल तीन व्यक्ति बैठे हैं। E, B के ठीक बाएं पड़ोस में बैठा है।  
B के दाएं से गिनने पर B और A के बीच कितने व्यक्ति बैठे हैं?

- Ans  1. 3  
 2. 1  
 3. 4  
 4. 2

- Q.6 किसी निश्चित कूट भाषा में, 'JUGS' को '7039' के रूप में कूटबद्ध किया जाता है और 'GUST' को '0789' के रूप में कूटबद्ध किया जाता है। दी गई कूट भाषा में 'T' का कूट क्या है?

- Ans  1. 0  
 2. 7  
 3. 9  
 4. 8

- Q.7 निम्नलिखित अक्षर और प्रतीक श्रृंखला का संदर्भ लीजिए और उसके बाद दिए गए प्रश्न का उत्तर दीजिए।

(बाएं) ~ B Ω E % G & H @ J ^ L £ M \* P \$ S # U T (दाएं)

यदि सभी अक्षरों को श्रृंखला से हटा दिया जाता है, तो निम्नलिखित में से कौन-सा, बाएं से चौथे स्थान पर होगा?

- Ans  1. \$  
 2. \*  
 3. Ω  
 4. &

- Q.8 J, K की बहन है। K, L का पुत्र है। M, J की माता है। N, K की पुत्री है। M का N से क्या संबंध है?

- Ans  1. पिता की बहन  
 2. माता की माता  
 3. माता की बहन  
 4. पिता की माता

- Q.9 निम्नलिखित श्रृंखला का संदर्भ लीजिए और नीचे दिए गए प्रश्न का उत्तर दीजिए। (सभी संख्याएं केवल एक अंक वाली संख्याएं हैं। गणना केवल बाएं से दाएं की जानी है।)

(बाएं) 4 8 7 6 9 3 5 7 2 4 6 8 3 9 8 6 7 4 5 6 1 2 5 9 4 (दाएं)

ऐसे कितने सम अंक हैं जिनमें से प्रत्येक के ठीक पहले एक विषम अंक और ठीक बाद एक सम अंक भी है?

- Ans  1. तीन  
 2. एक  
 3. दो  
 4. चार

Q.10 उत्तर की ओर अभिमुख होकर बैठे विद्यार्थियों की एक पंक्ति में, अंजली दाएँ छोर से 22वें और बाएँ छोर से 9वें स्थान है। पंक्ति में कुल कितने विद्यार्थी हैं?

- Ans
- 1. 31
  - 2. 29
  - 3. 32
  - 4. 30

Q.11 निम्नलिखित अक्षर, प्रतीक श्रृंखला का संदर्भ लीजिए और उसके बाद प्रश्न का उत्तर दीजिए। गणना केवल बाएं से दाएं की जानी है।

(बाएं) £ A \* U € \$ K @ J & B © P % € H @ € \$ £ E € (दाएं)

ऐसे कितने प्रतीक हैं, जिनमें से प्रत्येक के ठीक पहले एक अक्षर है और ठीक बाद भी एक अक्षर है?

- Ans
- 1. 4
  - 2. 3
  - 3. 6
  - 4. 5

Q.12 इस प्रश्न में, एक कथन के बाद दो निष्कर्ष दिए गए हैं। दिए गए कथन के आधार पर यह ज्ञात कीजिए कि कौन-सा निष्कर्ष सत्य है।

कथन:  $A > B = C < D \leq E$

निष्कर्ष:

I.  $C < E$

II.  $B > D$

- Ans
- 1. I और II दोनों सत्य हैं।
  - 2. न तो I और न ही II सत्य है।
  - 3. केवल I सत्य है।
  - 4. केवल II सत्य है।

Q.13 A, B, C, D, E और F एक ही इमारत की छह अलग-अलग मंजिलों पर रहते हैं। इमारत की सबसे निचली मंजिल का क्रमांक 1 है, उसके ऊपर वाली मंजिल का क्रमांक 2 है, और इसी तरह सबसे ऊपरी मंजिल का क्रमांक 6 है। F के नीचे केवल तीन लोग रहते हैं। D और F के बीच केवल दो लोग रहते हैं। A, E के ठीक नीचे रहता है, लेकिन उसकी मंजिल का क्रमांक सम नहीं है। B सम क्रमांक वाली मंजिल पर नहीं रहता है। C और A के बीच कितने लोग रहते हैं?

- Ans
- 1. एक
  - 2. तीन
  - 3. दो
  - 4. चार

Q.14 उत्तर की ओर अभिमुख होकर बैठे 30 विद्यार्थियों की एक पंक्ति में, यदि राज दाएँ छोर से 10वें स्थान पर है, तो पंक्ति में बाएँ छोर से उसका स्थान क्या है?

- Ans
- 1. 19वां
  - 2. 21वां
  - 3. 22वां
  - 4. 20वां

Q.15 एक कथन और उसके बाद दो निष्कर्ष दिए गए हैं। दिए गए कथन के आधार पर ज्ञात कीजिए कि कौन-सा/से निष्कर्ष सत्य है/हैं।

कथन:  $L < G < U > M > S$

निष्कर्ष:

I.  $S < U$

II.  $L < M$

- Ans
- 1. न तो I और न ही II सत्य है
  - 2. I और II दोनों सत्य हैं
  - 3. केवल II सत्य है
  - 4. केवल I सत्य है

Q.16 सात बॉक्स A, B, C, D, E, F और G, एक के ऊपर एक रखे गए हैं, लेकिन जरूरी नहीं कि इसी क्रम में रखे गए हों। F के ऊपर केवल चार बॉक्स रखे गए हैं। G के नीचे केवल चार बॉक्स रखे गए हैं। E और G के बीच केवल एक बॉक्स रखा गया है। D को B के ऊपर लेकिन F के नीचे रखा गया है। C को A के नीचे नहीं रखा गया है। A और D के बीच कितने बॉक्स रखे गए हैं?

- Ans
- 1. तीन
  - 2. दो
  - 3. एक
  - 4. चार

Q.17 दिए गए कथनों और निष्कर्षों को ध्यानपूर्वक पढ़ें। यह मानते हुए कि कथनों में दी गई जानकारी सत्य है, भले ही वह सामान्य रूप से ज्ञात तथ्यों से भिन्न प्रतीत होती हो, तय करें कि दिए गए निष्कर्षों में से कौन-से निष्कर्ष, कथनों का तार्किक रूप से अनुसरण करते हैं।

कथन:

कुछ चाक, पेंसिल हैं।

सभी पेंसिल, मार्कर हैं।

निष्कर्ष:

(I) कुछ मार्कर, चाक हैं।

(II) कोई भी मार्कर, चाक नहीं है।

- Ans
- 1. न तो निष्कर्ष I और न ही II अनुसरण करता है।
  - 2. निष्कर्ष I और II दोनों अनुसरण करते हैं।
  - 3. केवल निष्कर्ष I अनुसरण करता है।
  - 4. केवल निष्कर्ष II अनुसरण करता है।

Q.18 किसी निश्चित कूट भाषा में, 'HATS' को '7039' के रूप में कूटबद्ध किया जाता है और 'TASK' को '0789' के रूप में कूटबद्ध किया जाता है। दी गई कूट भाषा में 'K' का कूट क्या है?

- Ans
- 1. 9
  - 2. 7
  - 3. 8
  - 4. 0

Q.19 छह मित्र J, K, L, M, U और V एक गोल मेज के परितः केंद्र की ओर अभिमुख होकर बैठे हैं। J के बाएं से गिनने पर L और J के बीच केवल एक व्यक्ति बैठा है। M, U के बाएं से दूसरे स्थान पर बैठा है। V, U के ठीक दाएं पड़ोस में बैठा है। V, L के बाएं से दूसरे स्थान पर बैठा है। K के दाएं से गिनने पर K और M के बीच कितने व्यक्ति बैठे हैं?

- Ans
- 1. एक भी नहीं
  - 2. तीन
  - 3. एक
  - 4. दो

Q.20 उस विकल्प का चयन करें जो दिए गए शब्दों के सही क्रम को दर्शाता है, जैसे कि वे अंग्रेजी शब्दकोश में दिखाई देते हैं।

1. Adjusted
2. Attend
3. Assert
4. Assigned
5. Annotate

Ans  1. 4, 2, 3, 1, 5  
 2. 4, 1, 2, 3, 5  
 3. 1, 4, 2, 3, 5  
 4. 1, 5, 3, 4, 2

Section : General intelligence and Reasoning Ability1

Q.1 निम्नलिखित समीकरण में '+' और '-' को आपस में बदल देने पर तथा 'x' और '÷' को आपस में बदल देने पर '?' के स्थान पर क्या आएगा?

$$18 + 6 \div 2 \times 4 - 5 = ?$$

Ans  1. 24  
 2. 18  
 3. 20  
 4. 22

Q.2 यदि '-' और '÷' को परस्पर बदल दिया जाए, तो निम्नलिखित समीकरण में प्रश्न-चिन्ह (?) के स्थान पर क्या आएगा?

$$20 - 4 \div 2 + 3 = ?$$

Ans  1. 6  
 2. 11  
 3. 13  
 4. 3

Q.3 उस समुच्चय का चयन करें जिसमें संख्याएँ उसी प्रकार से संबंधित हैं जिस प्रकार निम्नलिखित समुच्चयों की संख्याएँ संबंधित हैं।

(नोट: संख्याओं को उनके घटक अंकों में तोड़े बिना संक्रियाएँ पूर्ण संख्याओं पर ही की जानी चाहिए। उदाहरण के लिए, 13 लीजिए - 13 में जोड़ना/से घटाना/से गुणा करना आदि जैसी संक्रियाएँ की जा सकती हैं। 13 को 1 और 3 में तोड़ना तथा 1 और 3 पर गणितीय संक्रियाएँ करना अनुमत नहीं है।)

(14, 51)

(18, 67)

Ans  1. (21, 79)  
 2. (25, 90)  
 3. (37, 141)  
 4. (13, 49)

Q.4 दिए गए कथनों और निष्कर्षों को ध्यान से पढ़ें। यह मानते हुए कि कथनों में दी गई जानकारी सत्य है, भले ही वह सामान्य रूप से ज्ञात तथ्यों से भिन्न प्रतीत होती हो, तय करें कि दिए गए निष्कर्षों में से कौन-से निष्कर्ष कथनों का तार्किक रूप से अनुसरण करते हैं।

कथन:

कुछ चील, ड्रम हैं।

कोई भी पत्थर, ड्रम नहीं है।

निष्कर्ष:

(I): कोई भी चील, पत्थर नहीं है।

(II): कुछ पत्थर, चील हैं।

Ans  1. न तो निष्कर्ष (I) और न ही निष्कर्ष (II) अनुसरण करता है

2. केवल निष्कर्ष (I) अनुसरण करता है

3. निष्कर्ष (I) और (II) दोनों अनुसरण करते हैं

4. केवल निष्कर्ष (II) अनुसरण करता है

Q.5 उस विकल्प आकृति का चयन कीजिए, जिसमें दी गई आकृति (X) उसके भाग के रूप में अंतर्निहित है (घूर्णन की अनुमति नहीं है)।



(X)

Ans

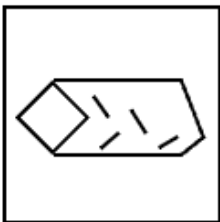
1.



2.



3.



4.



Q.6 अंग्रेजी वर्णानुक्रम के आधार पर, किसी प्रकार MGTB का संबंध QKXF से है। उसी प्रकार, CWJR का संबंध GANV से है। समान तर्क का अनुसरण करते हुए, OIVD का संबंध निम्नलिखित में से किससे है?

- Ans
- 1. SXDE
  - 2. SMZH
  - 3. SZHN
  - 4. SXZA

Q.7 एक निश्चित प्रकार से GD 15 का संबंध HA 4 से है। उसी प्रकार से, MF 20 का संबंध NC 9 से है। समान तर्क का अनुसरण करते हुए, IQ 25 का संबंध निम्नलिखित में से किससे है?

- Ans
- 1. JN 14
  - 2. KL 11
  - 3. JK 12
  - 4. JK 13

Q.8 अंग्रेजी वर्णानुक्रम पर आधारित निम्नलिखित चार अक्षर समूहों में से तीन अक्षर समूह किसी प्रकार समान हैं और इसलिए एक ग्रुप बनाते हैं। वह कौन-सा अक्षर समूह है जो उस ग्रुप से संबंधित नहीं है?  
(नोट: असंगत अक्षर समूह, अक्षर समूह में व्यंजनों/स्वरों की संख्या या उनकी स्थिति पर आधारित नहीं है)

- Ans
- 1. XRL
  - 2. TNH
  - 3. PJD
  - 4. MHB

Q.9 यदि जल स्रोत को चित्रानुसार X-Y के अनुदिश रखा जाए, तो दिए गए विकल्पों में से कौन-सी आकृति, चित्र में दी गई आकृति का जल प्रतिबिंब होगी?



- Ans
- 1. 6TLeP&
  - 2. 6TeP&
  - 3. 6TLeP&
  - 4. 6TLeP&

Q.10 दी गई श्रृंखला में '?' के स्थान पर क्या आना चाहिए?

62 93 124 155 186 ?

- Ans
- 1. 217
  - 2. 216
  - 3. 215
  - 4. 218

Q.11 उस समुच्चय का चयन कीजिए जिसमें संख्याएँ उसी प्रकार संबंधित हैं जिस प्रकार निम्नलिखित समुच्चयों की संख्याएँ संबंधित हैं।

(नोट: संख्याओं को उनके घटक अंकों में तोड़े बिना संक्रियाएँ केवल पूर्ण संख्याओं पर की जानी चाहिए। उदाहरण के लिए, 13 लीजिए - 13 पर संक्रियाएँ, जैसे 13 में जोड़ना/घटाना/गुणा करना, की जा सकती हैं। 13 को 1 और 3 में तोड़ना तथा फिर 1 और 3 पर गणितीय संक्रियाएँ करने की अनुमति नहीं है।)

(91,19,18)  
(85,1,21)

- Ans
- 1. (103,23,20)
  - 2. (67,19,2)
  - 3. (91,23,22)
  - 4. (19,11,87)

Q.12 अंग्रेजी वर्णमाला क्रम पर आधारित, निम्नलिखित चार अक्षर-समूह युग्मों में से तीन एक निश्चित प्रकार से समान हैं और इस प्रकार वे एक गुप बनाते हैं। कौन-सा अक्षर-समूह युग्म, उस गुप से संबंधित नहीं है?  
(नोट: असंगत अक्षर-समूह युग्म, व्यंजनों/स्वरों की संख्या या उनकी स्थिति पर आधारित नहीं है।)

- Ans
- 1. WY-QR
  - 2. PR-JK
  - 3. UW-OP
  - 4. FH-ZE

Q.13 अंग्रेजी वर्णानुक्रम के आधार पर, किसी प्रकार LMIM का संबंध KLHL से है। उसी प्रकार, QRNR का संबंध PQMQ से है। समान तर्क का अनुसरण करते हुए, ABXB का संबंध निम्नलिखित में से किससे है?

- Ans
- 1. ZBVW
  - 2. ZZVA
  - 3. ZAVA
  - 4. ZAWA

Q.14 यदि 'A' का अर्थ '+' है, 'B' का अर्थ 'x' है, 'C' का अर्थ '+' है तथा 'D' का अर्थ '-' है, तो निम्नलिखित समीकरण में प्रश्न-चिह्न '?' के स्थान पर क्या आएगा?

$$205 D 18 C 350 A 50 B 13 = ?$$

- Ans
- 1. 273
  - 2. 277
  - 3. 278
  - 4. 279

Q.15 यदि संख्या 973457674297 में प्रत्येक विषम अंक से 2 घटाया जाए और प्रत्येक सम अंक में 2 जोड़ा जाए, तो बाएं से दूसरे और दाएं से दूसरे अंकों का योग क्या होगा?

- Ans
- 1. 10
  - 2. 14
  - 3. 12
  - 4. 16

Q.16 दी गई श्रृंखला में '?' के स्थान पर क्या आना चाहिए?

$$110, 113, 116, 119, ?, 125$$

- Ans
- 1. 123
  - 2. 120
  - 3. 122
  - 4. 124

Q.17 अंग्रेजी वर्णमाला क्रम पर आधारित, निम्नलिखित चार अक्षर-समूहों में से तीन एक निश्चित तरीके से एकसमान हैं और इस प्रकार एक गुप बनाते हैं। कौन-सा अक्षर-समूह उस गुप से संबंधित नहीं है?  
(नोट: असंगत अक्षर-समूह, व्यंजनों/स्वरों की संख्या या उनकी स्थिति पर आधारित नहीं है।)

- Ans
- 1. OQT
  - 2. DFI
  - 3. TYY
  - 4. KMP

Q.18 दी गई श्रृंखला में प्रश्न-चिह्न (?) के स्थान पर क्या आना चाहिए?

$$12 20 36 60 92 ?$$

- Ans
- 1. 130
  - 2. 135
  - 3. 132
  - 4. 140

Q.19 यदि संख्या 6541387 के प्रत्येक अंक को बाएं से दाएं आरोही क्रम में व्यवस्थित किया जाए, तो मूल संख्या की तुलना में कितने अंकों की स्थिति अपरिवर्तित रहेगी?

- Ans
- 1. एक भी नहीं
  - 2. दो
  - 3. तीन
  - 4. एक

Q.20 उस समुच्चय का चयन कीजिए जिसमें संख्याएँ उसी प्रकार संबंधित हैं जिस प्रकार निम्नलिखित समुच्चय की संख्याएँ संबंधित हैं।  
(नोट: संख्याओं को उनके घटक अंकों में तोड़े बिना, पूर्ण संख्याओं पर संक्रियाएँ की जानी चाहिए। उदाहरण के लिए 13 को लीजिए - 13 पर संक्रियाएँ जैसे कि 13 में जोड़ना/घटाना/गुणा करना आदि 13 पर की जा सकती हैं। 13 को 1 व 3 में तोड़ना और फिर 1 व 3 पर गणितीय संक्रियाएँ करने की अनुमति नहीं है।)

(21,20,39)  
(20,19,37)

- Ans
- 1. (12,1,9)
  - 2. (7,23,62)
  - 3. (12,2,24)
  - 4. (25,2,19)

Section : General Awareness

Q.1 निम्नलिखित में से किस घटना के बाद ब्रिटिश सरकार ने पंजाब के अधिकांश हिस्से में मार्शल लॉ लागू कर दिया था?

- Ans
- 1. गदर षड्यंत्र
  - 2. चोरी चौरा घटना
  - 3. जलियांवाला बाग हत्याकांड
  - 4. स्वर्ण मंदिर आक्रमण

Q.2 2026 के विधानसभा चुनावों से पहले तमिलनाडु के मुख्यमंत्री ने किस योजना के अंतर्गत 1.31 करोड़ महिला लाभार्थियों के प्रत्येक के बैंक खातों में ₹5,000 जमा किए थे?

- Ans
- 1. कलैग्नार मगलीर उरीमई थोगई (Kalaigñar Magalir Urimai Thogai)
  - 2. मनरेगा (MNREGA)
  - 3. आयुष्मान भारत (Ayushman Bharat)
  - 4. पीएम-किसान (PM-Kisan)

Q.3 निम्नलिखित में से कौन-सा, स्व-रोजगार का एक रूप है?

- Ans
- 1. निजी विद्यालय में शिक्षक के रूप में कार्य करना
  - 2. बैंक में कार्य करना
  - 3. निर्माण कार्य में दैनिक वेतनभोगी कर्मचारी के रूप में कार्य करना
  - 4. अपनी सिलाई की दुकान चलाना

Q.4 निम्नलिखित में से किसे विस्तारित ग्रामीण अधिनियम के तहत रोजगार प्रोत्साहन प्रदान करने के लिए विस्तारित किया गया था, जिसने MGNREGA को प्रतिस्थापित किया?

- Ans
- 1. कौशल भारत मिशन
  - 2. अटल पेंशन योजना
  - 3. VB-G RAM G अधिनियम, 2025
  - 4. जन धन योजना

Q.5 बॉम्बे में प्रार्थना समाज की स्थापना किस वर्ष हुई थी?

- Ans
- 1. 1829
  - 2. 1859
  - 3. 1867
  - 4. 1864

Q.6 2025 में किस भारतीय शतरंज खिलाड़ी ने FIDE महिला विश्व कप जीता था?

- Ans
- 1. हरिका द्रोणावल्ली
  - 2. हम्पी कोनेरू
  - 3. तानिया सचदेव
  - 4. दिव्या देशमुख

Q.7 अप्रैल 2023 में किस अम्ब्रेला कार्यक्रम के अंतर्गत समावेशी आजीविका योजना (SAY) लागू हुई थी?

- Ans
- 1. प्रधानमंत्री आवास योजना-ग्रामीण
  - 2. दीनदयाल अन्वयोदय योजना - राष्ट्रीय ग्रामीण आजीविका मिशन
  - 3. महात्मा गांधी राष्ट्रीय ग्रामीण रोजगार गारंटी अधिनियम
  - 4. प्रधानमंत्री कौशल विकास योजना

Q.8 2017 में शुरू की गई भारतमाला परियोजना मुख्यतः \_\_\_\_\_ के विकास पर केंद्रित है।

- Ans
- 1. राष्ट्रीय राजमार्ग सड़क कॉरिडोर
  - 2. अंतर्राष्ट्रीय हवाई अड्डा अवसंरचना प्रणालियों
  - 3. राष्ट्रीय रेलवे परिवहन नेटवर्क
  - 4. प्रमुख समुद्री पत्तन अवसंरचना प्रणालियों

Q.9 भारतीय रिज़र्व बैंक की मौद्रिक नीति में, रेपो दर का उपयोग मुख्य रूप से निम्नलिखित में से किस उद्देश्य के लिए किया जाता है?

- Ans
- 1. गैर-बैंकिंग वित्तीय कंपनियों (NBFCs) को मुद्रा और धन जारी करना
  - 2. सरकारी प्रतिभूतियों के एवज में वाणिज्यिक बैंकों को संपार्श्विक के रूप में ऋण देना
  - 3. बाजार में विदेशी मुद्रा के प्रवाह को विनियमित करना
  - 4. वाणिज्यिक बैंकों को दीर्घकालिक ऋण सुविधा प्रदान करना

Q.10 निम्नलिखित में से किस पावरलिफ्टर ने खेलो इंडिया पैरा गेम्स, 2025 में 45 kg वर्ग में 101 kg वजन उठाकर राष्ट्रीय रिकॉर्ड तोड़ा?

- Ans
- 1. सोनम पाटिल
  - 2. शीतल देवी
  - 3. जसप्रीत कौर
  - 4. खुशबू गिल

Q.11 जून 2025 में लॉन्च किया गया कौन-सा भारतीय चैटबॉट, 13 भारतीय भाषाओं में टेक्स्ट और वॉयस इंटरैक्शन को सपोर्ट करता है और इसे स्मार्टफोन उपयोग के लिए डिज़ाइन किया गया है?

- Ans
- 1. मित्र
  - 2. आशा
  - 3. माया
  - 4. कृति

Q.12 1897 में रामकृष्ण मिशन की स्थापना का श्रेय किस आध्यात्मिक नेता को दिया जाता है?

- Ans
- 1. स्वामी शिवानन्द
  - 2. परमहंस योगानन्द
  - 3. श्री अरविंद घोष
  - 4. स्वामी विवेकानंद

Q.13 इंटरनेशनल कॉन्फ्रेंस ऑन ग्रीन हाइड्रोजन (ICGH-2025) कब आयोजित किया गया था?

- Ans
- 1. जुलाई 2025
  - 2. दिसंबर 2025
  - 3. अक्टूबर 2025
  - 4. नवंबर 2025

Q.14 हैदराबाद में आयोजित 2025 एलीट वूमन बॉक्सिंग टूर्नामेंट में 75kg वर्ग में स्वर्ण पदक जीतने वाली भारतीय महिला मुक्केबाज कौन थी?

- Ans
- 1. लवलीना बोरगोहेन (Lovlina Borgohain)
  - 2. स्वीटी बूरा (Saweety Boora)
  - 3. निकहत ज़रीन (Nikhat Zareen)
  - 4. सिमरनजीत कौर (Simranjit Kaur)

Q.15 फरवरी 1856 में अवध राज्य को धीरे-धीरे कमजोर करने और अंततः उस पर कब्जा करने के लिए अंग्रेजों द्वारा कौन-सी विशिष्ट नीति अपनाई गई थी?

- Ans
- 1. व्यपगत नीति
  - 2. रैयतवाड़ी व्यवस्था
  - 3. स्थायी बंदोबस्त
  - 4. सहायक संधि

Q.16 सकल राष्ट्रीय उत्पाद (GNP) में से मूल्यहास को घटाने के बाद क्या प्राप्त होता है?

- Ans
- 1. निवल देशीय उत्पाद
  - 2. व्यक्तिगत आय
  - 3. निवल राष्ट्रीय उत्पाद
  - 4. राष्ट्रीय प्रयोज्य आय

Q.17 प्राचीन बांग्ला के सबसे पुराने विद्यामन नमूने, जिनमें लुईपा, कहनपा और भुसुकुपा जैसे बौद्ध सिद्धाचार्यों द्वारा रचित 47 आध्यात्मिक भजन शामिल हैं, को सामूहिक रूप से किस नाम से जाना जाता है?

- Ans
- 1. गीतगोविन्द
  - 2. मंगलकाव्य
  - 3. चर्यापद
  - 4. गाथासप्तशती

Q.18 जुलाई 2025 में निम्नलिखित में से कौन-सा स्टील्थ फ्रिगेट (stealth frigate), भारतीय नौसेना में शामिल (कमीशन) किया गया?

- Ans
- 1. सह्याद्री
  - 2. विराट
  - 3. उदयगिरी
  - 4. शिवालिक

Q.19 निम्नलिखित में से कौन-सा, GDP की गणना में शामिल नहीं है?

- Ans
- 1. सरकारी सेवाएं
  - 2. मध्यवर्ती वस्तुएं
  - 3. वस्तुओं का निर्यात
  - 4. अंतिम उपभोक्ता वस्तुएं

Q.20 ब्रिटिश ईस्ट इंडिया कंपनी द्वारा नियुक्त 'रेजिडेंट्स' की मुख्य भूमिका क्या थी?

- Ans
- 1. भारतीय स्मारकों और स्थापत्य सर्वेक्षणों की रक्षा करना
  - 2. ईस्ट इंडिया कंपनी के संरक्षण में विद्यालयों में अंग्रेजी पढ़ाना
  - 3. ईस्ट इंडिया कंपनी के उपनिवेशों में स्थानीय सामाजिक मामलों का प्रबंधन करना
  - 4. रियासतों में ईस्ट इंडिया कंपनी के राजनीतिक या वाणिज्यिक हितों की पूर्ति करना

Section : General Awareness1

Q.1 निम्नलिखित में से कौन-सा विटामिन वसा में विलेय होता है?

- Ans  1. विटामिन K  
 2. विटामिन B6  
 3. विटामिन B12  
 4. विटामिन C

Q.2 Replenishment of soil takes place by:

- Ans  1. Primary Consumers  
 2. Decomposers  
 3. Producers  
 4. Parasites

Q.3 अखिल भारतीय उच्च शिक्षा सर्वेक्षण (AISHE) 2020-2021 के अनुसार, निम्नलिखित में से किस राज्य को नामांकित विद्यार्थियों की संख्या के मामले में शीर्ष राज्य के रूप में दर्ज किया गया था?

- Ans  1. तमिलनाडु  
 2. उत्तर प्रदेश  
 3. महाराष्ट्र  
 4. पश्चिम बंगाल

Q.4 देवगढ़, एरण, नचना-कुठार और उदयगिरि किस क्षेत्र के महत्वपूर्ण मंदिर स्थल हैं?

- Ans  1. तमिलनाडु  
 2. मध्य प्रदेश  
 3. केरल  
 4. गुजरात

Q.5 निम्नलिखित कथनों पर विचार करें और सही विकल्प चुनें।

कथन 1: आदिम निर्वाह कृषि में किसान मुख्य रूप से बाजार में बेचने के लिए फसलें उगाते हैं।  
कथन 2: आदिम कृषि का मुख्य उद्देश्य किसान के परिवार की आवश्यकताओं को पूरा करना है।

- Ans  1. केवल कथन 2 सही है  
 2. दोनों कथन गलत हैं  
 3. दोनों कथन सही हैं  
 4. केवल कथन 1 सही है

Q.6 भारत के मुख्य न्यायाधीश और सर्वोच्च न्यायालय तथा उच्च न्यायालयों के अन्य न्यायाधीशों की नियुक्ति, जो भारत के मुख्य न्यायाधीश और आवश्यक समझे जाने के अनुसार अन्य न्यायाधीशों से अनिवार्य परामर्श के बाद की जाती है, भारत के किस सांविधानिक प्राधिकरण/प्राधिकारी द्वारा की जाती है?

- Ans  1. मंत्रिपरिषद  
 2. भारत के राष्ट्रपति  
 3. भारत के प्रधानमंत्री  
 4. भारत के मुख्य न्यायाधीश

Q.7 73वें संविधान संशोधन के अंतर्गत पंचायती राज व्यवस्था के संदर्भ में, निम्नलिखित में से कौन-सा कथन सही है?

- Ans  1. इसमें पंचायत सदस्यों के प्रत्यक्ष चुनाव के साथ तीन स्तरीय संरचना का प्रावधान है।  
 2. इसमें अप्रत्यक्ष चुनाव के साथ दो स्तरीय संरचना का प्रावधान है।  
 3. इसमें राज्य सरकार द्वारा मनोनीत जिला स्तरीय निकाय का प्रावधान है।  
 4. इसमें सभी स्तरों पर अप्रत्यक्ष चुनाव के साथ तीन स्तरीय संरचना का प्रावधान है।

Q.8 लोसर उत्सव के बारे में निम्नलिखित में से कौन-सा कथन सही है?

- Ans
- 1. यह गुजरात में मनाया जाने वाला प्रकाश का त्योहार है।
  - 2. यह दक्षिण भारत का फसल उत्सव है।
  - 3. यह तिब्बती नव वर्ष का प्रतीक है।
  - 4. यह मुख्य रूप से तटीय क्षेत्रों में मनाया जाने वाला वसंत उत्सव है।

Q.9 दक्षिण भारत में मंदिर वास्तुकला की कौन-सी शैली लोकप्रिय है?

- Ans
- 1. नागर
  - 2. द्रविड़
  - 3. वेसर
  - 4. सर्वतोभद्र

Q.10 भारत के किस क्षेत्र में लौह और इस्पात उद्योगों का संकेंद्रण सबसे अधिक है?

- Ans
- 1. पश्चिमी घाट
  - 2. छोटानागपुर पठार
  - 3. आंध्र प्रदेश के तटीय क्षेत्र
  - 4. दक्कन का पठार

Q.11 पाणिनि की अष्टाध्यायी और कात्यायन के वार्तिकों पर विस्तृत और प्रामाणिक टीका, 'महाभाष्य' की रचना किस प्राचीन भारतीय विद्वान ने की थी?

- Ans
- 1. पतंजलि
  - 2. कात्यायन
  - 3. भर्तृहरि
  - 4. पाणिनि

Q.12 भारतीय संविधान के किस अनुच्छेद के अंतर्गत कानून द्वारा स्थापित प्रक्रिया के सिवाय किसी व्यक्ति को उसके जीवन या व्यक्तिगत स्वतंत्रता से वंचित नहीं किया जाएगा?

- Ans
- 1. अनुच्छेद 14
  - 2. अनुच्छेद 19
  - 3. अनुच्छेद 32
  - 4. अनुच्छेद 21

Q.13 भारत के पश्चिमी तटीय राज्यों में से किस राज्य की तटरेखा सबसे लंबी है?

- Ans
- 1. महाराष्ट्र
  - 2. केरल
  - 3. गोवा
  - 4. गुजरात

Q.14 अच्छे स्वास्थ्य के लिए अनिवार्य सभी पोषक प्रदान करने वाले आहार को \_\_\_\_\_ कहा जाता है।

- Ans
- 1. संतुलित आहार
  - 2. उपचारार्थ आहार
  - 3. क़ैश आहार
  - 4. कच्चा खाद्य आहार

Q.15 भारी वर्षा के लिए जानी जाने वाली गारो-खासी-जयंतिया पहाड़ियाँ किस राज्य में स्थित हैं?

- Ans
- 1. मेघालय
  - 2. असम
  - 3. नागालैंड
  - 4. अरुणाचल प्रदेश

Q.16 निम्नलिखित में से कौन-सा निकाय, भारत में पंचायती राज संस्थाओं के लिए चुनाव आयोजित करता है?

- Ans
- 1. राज्य निर्वाचन आयोग
  - 2. राज्य सरकार
  - 3. लोकसभा
  - 4. भारत निर्वाचन आयोग

Q.17 भारत में शास्त्रीय भाषा के रूप में मान्यता प्राप्त कौन-सी भाषा, अपने प्राचीन ग्रंथ "तिरुक्कुरल" के लिए प्रसिद्ध है, जो तिरुवल्लुवर द्वारा लिखित नीतिशास्त्र और नैतिकता पर लिखे गए द्विपदों का संग्रह है?

- Ans
- 1. कन्नड़, जो कर्नाटक में प्रमुख है
  - 2. तेलुगु, जिसका उपयोग आंध्र प्रदेश में किया जाता है
  - 3. तमिल, जो दक्षिण भारत में व्यापक रूप से बोली जाती है
  - 4. संस्कृत, जो अपने धार्मिक ग्रंथों के लिए जानी जाती है

Q.18 1976 में 42वें संशोधन द्वारा भारतीय संविधान में कितने मूल कर्तव्यों को जोड़ा गया था?

- Ans
- 1. 13
  - 2. 10
  - 3. 8
  - 4. 11

Q.19 एक ही जीन के विभिन्न रूपों को क्या कहते हैं?

- Ans
- 1. युग्म विकल्पी
  - 2. लक्षण प्ररूप
  - 3. जीनप्ररूप
  - 4. गुणसूत्र

Q.20 किस प्रकार का ऊतक आंतरिक अंगों के अस्तर का निर्माण करता है और यह अवशोषण और स्रवण में सहायक होता है?

- Ans
- 1. पेशी ऊतक
  - 2. उपकला ऊतक
  - 3. तंत्रिका ऊतक
  - 4. संयोजी ऊतक

#### Section : Arithmetical and Numerical Ability

Q.1 एक विक्रेता को एक रुपये में 29 चॉकलेट बेचने पर 80% का लाभ होता है। उसने एक रुपये में कितनी चॉकलेट खरीदी थीं?

- Ans
- 1. 52.5
  - 2. 50.2
  - 3. 52.2
  - 4. 50.5

Q.2 एक आयत की लंबाई में 28% की वृद्धि की जाती है, जबकि उसकी चौड़ाई में 13% की कमी की जाती है। आयत के क्षेत्रफल में प्रतिशत वृद्धि ज्ञात कीजिए।

- Ans
- 1. 11.36%
  - 2. 11.25%
  - 3. 12.45%
  - 4. 10.09%

Q.3  $\sqrt[3]{24\sqrt{2^{-5}\sqrt{4^3}}}$  को सरल कीजिए।

- Ans
- 1.  $\sqrt{2}$
  - 2.  $2^{-1}$
  - 3.  $\sqrt[3]{2}$
  - 4. 2

Q.4 60 लीटर दूध और जल के मिश्रण में, दूध और जल का अनुपात 2 : 1 है। इस अनुपात को 1 : 1 बनाने के लिए कितना जल मिलाना होगा?

- Ans
- 1. 18 लीटर
  - 2. 30 लीटर
  - 3. 25 लीटर
  - 4. 20 लीटर

Q.5 96 लीटर के एक बर्तन में जूस और जल के मिश्रण का अनुपात 5 : 7 है। मिश्रण में से 60 लीटर जूस निकाल लिया जाता है और उसमें उतना ही शुद्ध जल मिला दिया जाता है। जूस और जल का नया अनुपात ज्ञात कीजिए।

- Ans
- 1. 5 : 17
  - 2. 5 : 21
  - 3. 5 : 27
  - 4. 5 : 12

Q.6 कितने वर्ष में ₹9600 की धनराशि पर 6% वार्षिक ब्याज दर से साधारण ब्याज के रूप में ₹720 प्राप्त होता है?

- Ans
- 1. 1.25
  - 2. 0.25
  - 3. 2.25
  - 4. 2.5

Q.7 एक परिवार में मासिक व्यय को निम्नलिखित रूप से विभाजित किया जाता है।

1. भोजन: ₹9,600
2. किराया: ₹12,800
3. अन्य व्यय: ₹6,400

कुल व्यय का कितने प्रतिशत भोजन पर व्यय होता है?

- Ans
- 1.  $33\frac{2}{3}\%$
  - 2. 34%
  - 3.  $33\frac{1}{3}\%$
  - 4.  $32\frac{1}{4}\%$

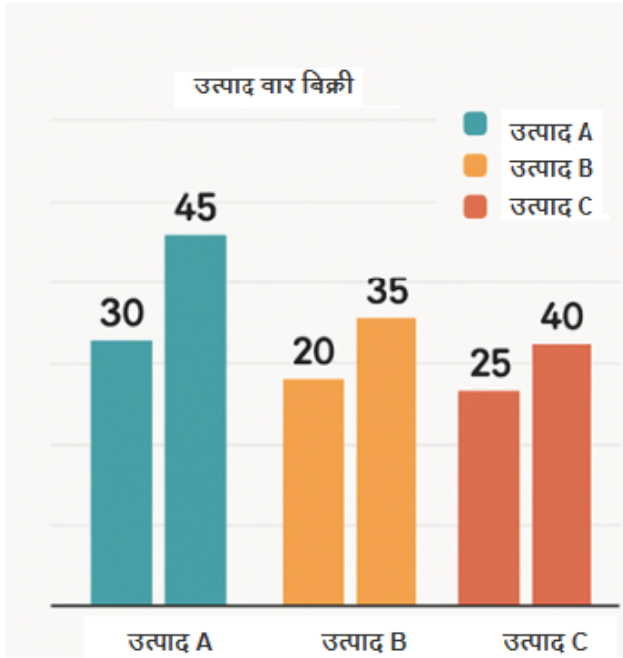
Q.8 महेश ने 8% वार्षिक चक्रवृद्धि ब्याज पर एक निश्चित राशि जमा की जिस पर ब्याज वार्षिक रूप से संयोजित होता है। 2 वर्ष के अंत में, उसे प्राप्त कुल राशि ₹85,293 थी। महेश द्वारा जमा की गई राशि ज्ञात कीजिए।

- Ans
- 1. ₹73,014
  - 2. ₹73,101
  - 3. ₹73,125
  - 4. ₹73,483

Q.9 एक व्यक्ति दो कुर्सियाँ ₹1,440 प्रत्येक के हिसाब से बेचता है। एक कुर्सी पर उसे 20% लाभ होता है और दूसरी कुर्सी पर 20% हानि होती है। इन दोनों लेन-देन में उसका कुल हानि/लाभ (₹ में) ज्ञात कीजिए।

- Ans
- 1. ₹110 का लाभ
  - 2. ₹140 का लाभ
  - 3. ₹122 की हानि
  - 4. ₹120 की हानि

Q.10 ग्राफ में तीन उत्पादों (उत्पाद A, उत्पाद B, उत्पाद C) की बिक्री को दो वर्षों (वर्ष 1 और वर्ष 2) के दौरान दर्शाया गया है। उत्पाद का पहला बार, वर्ष 1 को और दूसरा बार, वर्ष 2 को दर्शाता है। ग्राफ का अध्ययन कीजिए और दिए गए प्रश्न का उत्तर दीजिए।



वर्ष 1 में सभी उत्पादों की कुल बिक्री और वर्ष 2 में उत्पादों की कुल बिक्री का अनुपात ज्ञात कीजिए।

- Ans
- 1. 5 : 8
  - 2. 8 : 9
  - 3. 6 : 7
  - 4. 25 : 38

Q.11 व्यंजक  $3\{-4 \times 0.125 + \frac{1}{4} \times 2^3 + 2 \times (-2) \div (-4)\}$  का मान ज्ञात कीजिए।

- Ans
- 1. 15
  - 2. 7.5
  - 3. 5.5
  - 4. 1.5

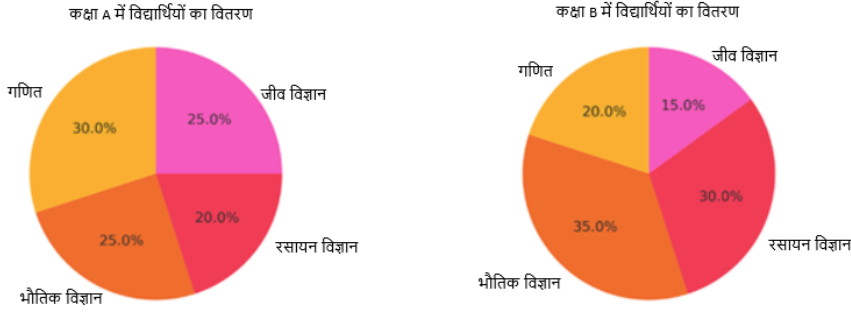
Q.12 एक शहर की जनसंख्या 20,000 है। इसमें प्रत्येक वर्ष 5% की वृद्धि होती है। 2 वर्ष बाद जनसंख्या कितनी होगी?

- Ans
- 1. 22,050
  - 2. 22,505
  - 3. 22,005
  - 4. 22,500

Q.13 एक शिक्षक के पास तीन कक्षाएँ हैं जिनमें विद्यार्थियों के औसत अंक क्रमशः 80, 85 और 90 हैं तथा विद्यार्थियों की संख्या क्रमशः 25, 30 और 45 है। भारत औसत अंक कितना है?

- Ans
- 1. 85.5
  - 2. 87
  - 3. 86.5
  - 4. 86

Q.14 नीचे दिए गए चार्ट दो कक्षाओं (A और B) में विभिन्न विषयों में विद्यार्थियों के वितरण को दर्शाते हैं। चार्ट का अध्ययन कीजिए और प्रश्न का उत्तर दीजिए।



यदि कक्षा A और कक्षा B में विद्यार्थियों की संख्या बराबर है, तो कक्षा A से कक्षा B में किस विषय में प्रतिशत वृद्धि सबसे अधिक हुई?

- Ans
- 1. रसायन विज्ञान
  - 2. भौतिक विज्ञान
  - 3. गणित
  - 4. जीव विज्ञान

Q.15 कार्तिक के पास ₹1,722 हैं। उसने इस धनराशि को अपने दो पुत्रों, ईशान और कृष के बीच विभाजित किया और उनसे अपने-अपने हिस्से की धनराशि को 10% वार्षिक चक्रवृद्धि ब्याज दर से निवेश करने के लिए कहा जिस पर ब्याज वार्षिक रूप से संयोजित होता है। 12 वर्ष के बाद ईशान को प्राप्त धनराशि और 13 वर्ष के बाद कृष को प्राप्त धनराशि बराबर थी। कार्तिक ने ईशान को कितनी धनराशि (₹ में) दी थी?

- Ans
- 1. 920
  - 2. 902
  - 3. 820
  - 4. 752

Q.16 किसी व्यक्ति की आय और व्यय का अनुपात 7 : 3 है। यदि उसका व्यय ₹21,000 है, तो उसकी बचत ज्ञात कीजिए।

- Ans
- 1. ₹28,500
  - 2. ₹27,000
  - 3. ₹27,500
  - 4. ₹28,000

Q.17 यदि एक संख्या में 20% की वृद्धि की जाती है, तो वह 540 हो जाती है। मूल संख्या क्या थी?

- Ans
- 1. 480
  - 2. 470
  - 3. 450
  - 4. 460

Q.18  $0.75 + \frac{3}{0.4}$  को सरल कीजिए।

- Ans
- 1. 7.75
  - 2. 6.5
  - 3. 8.25
  - 4. 9.25

Q.19 BODMAS का प्रयोग करके  $156 + [7 \times (1 - 4 + 8)] \div 5$  का मान ज्ञात कीजिए।

- Ans
- 1. 161
  - 2. 162
  - 3. 163
  - 4. 160

Q.20 एक विद्यार्थी ने तीन विषयों में क्रमशः 1, 2 और 3 भार (weights) के साथ 70, 80 और 90 अंक प्राप्त किए। भारित औसत (दशमलव के दो स्थानों तक पूर्णांकित) ज्ञात कीजिए।

- Ans
- 1. 84.34
  - 2. 83.33
  - 3. 82.22
  - 4. 85.45

Section : Arithmetical and Numerical Ability1

Q.1 एक क्षेत्र समद्विबाहु त्रिभुज के आकार का है जिसकी बराबर भुजाएँ 34 m और तीसरी भुजा 32 m है। इसका क्षेत्रफल ( $m^2$  में) ज्ञात कीजिए।

- Ans
- 1. 420
  - 2. 450
  - 3. 430
  - 4. 480

Q.2 किसी वर्ष की शुरुआत में A ने ₹36,000 की पूंजी से एक व्यवसाय शुरू किया, और चार महीने बाद B, ₹48,000 की पूंजी के साथ उसके साथ शामिल हो गया। वर्ष के अंत में, उन्हें लाभ को किस अनुपात में शेयर करना चाहिए?

- Ans
- 1. 3 : 2
  - 2. 12 : 11
  - 3. 9 : 8
  - 4. 5 : 3

Q.3 तीन श्रमिक A, B और C एक कार्य को क्रमशः 10 दिन, 15 दिन और 20 दिन में पूरा कर सकते हैं। यदि A पहले 5 दिन अकेले कार्य करता है, और फिर B और C मिलकर कार्य पूरा होने तक कार्य जारी रखते हैं, तो कार्य कुल कितने दिनों में पूरा हो जाएगा?

- Ans
- 1.  $7\frac{4}{13}$
  - 2.  $7\frac{2}{13}$
  - 3.  $8\frac{4}{13}$
  - 4.  $8\frac{5}{13}$

Q.4 एक दुकानदार दो क्रमिक छूट देना चाहता है जिससे कुल छूट 49% हो। यदि पहली छूट 32% है, तो दूसरी छूट कितनी होनी चाहिए?

- Ans
- 1. 25%
  - 2. 22%
  - 3. 27%
  - 4. 24%

Q.5 एक व्यापारी किसी वस्तु का अंकित मूल्य उसके क्रय मूल्य से 10% अधिक निर्धारित करता है और फिर अंकित मूल्य पर 20% की छूट देता है। उसके लाभ या हानि का वास्तविक प्रतिशत कितना है?

- Ans
- 1. 10% लाभ
  - 2. 12% लाभ
  - 3. 20% हानि
  - 4. 12% हानि

Q.6 5 पेन और 7 नोटबुक का मूल्य ₹250 है। यदि एक पेन और एक नोटबुक के मूल्य का अनुपात 3 : 5 है, तो 2 पेन और 3 नोटबुक का कुल मूल्य ज्ञात कीजिए।

- Ans
- 1. ₹105
  - 2. ₹100
  - 3. ₹80
  - 4. ₹90

Q.7 पाइप A एक पानी की टंकी को 12 घंटे में भर सकता है, और पाइप B उसे 20 घंटे में खाली कर सकता है। यदि दोनों पाइप एक साथ खोले जाएं, तो टंकी कितने समय (घंटों में) में भर जाएगी?

- Ans
- 1. 26
  - 2. 28
  - 3. 24
  - 4. 30

Q.8 एक साइकिल चालक 30 km की दूरी 20 km/hr की चाल से, फिर 40 km की दूरी 40 km/hr की चाल से और अंत में 50 km की दूरी 50 km/hr की चाल से तय करता है। पूरी यात्रा के लिए उसकी औसत चाल कितनी है? (दो दशमलव स्थानों तक पूर्णांकित कीजिए।)

- Ans
- 1. 35.29 km/hr
  - 2. 34.29 km/hr
  - 3. 34.45 km/hr
  - 4. 35.39 km/hr

Q.9 एक दुकानदार ने ₹100 में बिस्किट के 8 पैकेट खरीदे।  $33\frac{1}{3}\%$  का लाभ अर्जित करने के लिए उसे ₹100 में बिस्किट के कितने पैकेट बेचने होंगे?

- Ans
- 1. 6 पैकेट
  - 2. 5 पैकेट
  - 3. 4 पैकेट
  - 4. 7 पैकेट

Q.10 एक बेलन के आधार का क्षेत्रफल, उसके संपूर्ण पृष्ठीय क्षेत्रफल का  $\frac{1}{14}$  है। बेलन के संपूर्ण पृष्ठीय क्षेत्रफल और वक्र पृष्ठीय क्षेत्रफल का अनुपात ज्ञात कीजिए।

- Ans
- 1. 8 : 7
  - 2. 7 : 6
  - 3. 3 : 2
  - 4. 5 : 6

Q.11 8 cm त्रिज्या और 20 cm ऊंचाई वाले एक ठोस धात्विक बेलन को पिघलाकर 4 cm त्रिज्या के कितने ठोस गोले बनाए जा सकते हैं?

- Ans
- 1. 12
  - 2. 21
  - 3. 15
  - 4. 18

Q.12 दो ट्रेनों, जिनकी लंबाई 240 m और 300 m हैं, क्रमशः 63 km/hr और 81 km/hr की चाल से विपरीत दिशा में चल रही हैं। उन्हें एक दूसरे को पार करने में लगने वाला समय (सेकंड में) ज्ञात कीजिए।

- Ans
- 1. 11.5
  - 2. 14.5
  - 3. 13.5
  - 4. 12.5

Q.13 निम्नलिखित में से कौन-सी एकल छूट, 13% और 18% की क्रमिक छूट के बराबर है?

- Ans
- 1. 28.66 %
  - 2. 29.78 %
  - 3. 27.48 %
  - 4. 26.54 %

Q.14 360 m लंबी एक ट्रेन 240 m लंबे प्लेटफॉर्म को 30 सेकंड में पार करती है। फिर वह उसी दिशा में चल रहे एक व्यक्ति को 20 सेकंड में पार करती है। व्यक्ति की चाल ज्ञात कीजिए।

- Ans
- 1. 5 m/s
  - 2. 4 m/s
  - 3. 3 m/s
  - 4. 2 m/s

Q.15 शहर A से शहर B तक की एक यात्रा में 90 km/h की चाल से 5 घंटे 40 मिनट लगते हैं। यदि चाल 30 m/s हो जाए, तो कितने घंटे लगेंगे?

- Ans
- 1.  $3\frac{13}{18}$
  - 2.  $2\frac{13}{18}$
  - 3.  $5\frac{13}{18}$
  - 4.  $4\frac{13}{18}$

Q.16 दो संख्याएँ, 1 : 2 के अनुपात में हैं। यदि दोनों संख्याओं में 24 जोड़ दिया जाए, तो उनका अनुपात 11 : 16 हो जाता है। बड़ी संख्या ज्ञात कीजिए।

- Ans
- 1. 60
  - 2. 20
  - 3. 30
  - 4. 40

Q.17 एक इनलेट और एक आउटलेट पाइप एक साथ मिलकर किसी टंकी को 12 घंटे में भर सकते हैं। यदि अकेले आउटलेट पाइप टंकी को 24 घंटे में खाली कर सकता है, तो अकेले इनलेट पाइप टंकी के 50 % भाग को कितने घंटे में भर सकता है?

- Ans
- 1. 8
  - 2. 10
  - 3. 6
  - 4. 4

Q.18 एक निश्चित संख्या में ठोस शंकुकार वस्तुओं, जिसमें से प्रत्येक की त्रिज्या 5 cm और ऊँचाई 8 cm है, को पिघलाकर एकल बेलनाकार वस्तु बनाई जाती है जिसकी त्रिज्या और ऊँचाई दोनों 20 cm के बराबर हैं। इस बेलनाकार वस्तु को बनाने के लिए कितनी शंकुकार वस्तुओं को पिघलाया गया था?

- Ans
- 1. 145
  - 2. 90
  - 3. 105
  - 4. 120

Q.19 A और B क्रमशः ₹12,000 और ₹18,000 का निवेश करके एक साझेदारी में प्रवेश करते हैं। 6 महीने बाद C, ₹24,000 के निवेश के साथ साझेदारी में शामिल हो जाता है। वर्ष के अंत में, कुल लाभ ₹54,000 प्राप्त होता है। लाभ में C का हिस्सा (दशमलव के बाद दो स्थानों तक) कितना है?

- Ans
- 1. ₹17,128.57
  - 2. ₹14,728.57
  - 3. ₹16,228.57
  - 4. ₹15,428.57

Q.20 पाइप A एक टंकी को 16 घंटे में भर सकता है, और पाइप B इसे 24 घंटे में भर सकता है। एक आउटलेट पाइप C भरी हुई टंकी को 32 घंटे में खाली कर सकता है। तीनों पाइप एक साथ खोले जाते हैं, लेकिन 4 घंटे बाद पाइप C बंद कर दिया जाता है। टंकी को पूरी तरह भरने में कुल कितना समय लगेगा?

- Ans
- 1. 9.6 घंटे
  - 2. 10.6 घंटे
  - 3. 9.8 घंटे
  - 4. 10.8 घंटे

Section : Test of English Language and Comprehension

Q.1 Select the correct option to replace the underlined word in the sentence.

They abandoned the opportunity to collaborate with such a prestigious firm.

- Ans
- 1. deprived
  - 2. declined
  - 3. delayed
  - 4. criticized

Q.2 Which of the following words completes the statement and makes a grammatically and contextually correct sentence?

"The \_\_\_ student received a scholarship."<sup>4618</sup>

- Ans
- 1. tumultuous
  - 2. metallic
  - 3. diligent
  - 4. tropical

Q.3 Choose the appropriate word to complete the sentence from the following.

The answer to this question lies \_\_\_ the first paragraph of the passage.

- Ans
- 1. by
  - 2. on
  - 3. within
  - 4. at

Q.4 A sentence with a grammatical error is given. Identify the error and select the sentence which is error-free and grammatically correct.

Mr. Roger sat below the table and called for breakfast.4130

- Ans
- 1. Mr. Roger sat at the table and called for breakfast.
  - 2. Mr. Roger sat from the table and called for breakfast.
  - 3. Mr. Roger sat under the table and called for breakfast.
  - 4. Mr. Roger sat in the table and called for breakfast.

Q.5 A sentence is divided into the following different segments. Rearrange all the segments to form a coherent sentence.

by disrupting natural processes, (A) / the stability of the environment (B) / pollution threatens the balance of ecosystems (C) / endangering wildlife, and undermining (D)

- Ans
- 1. BCDA
  - 2. DCAB
  - 3. CADB
  - 4. ABCD

Q.6 Rectify the sentence by selecting the appropriate substitute for the underlined word from the given options.

She once visits the local library to find new books and enjoy some quiet reading time.3464

- Ans
- 1. often
  - 2. little
  - 3. suddenly
  - 4. some

Q.7 Select the most appropriate option to fill in the blanks.

\_\_\_ Thar Desert and \_\_\_ Arabian Desert are known for their extreme temperatures and arid climates.

- Ans
- 1. The; the
  - 2. The; an
  - 3. A; an
  - 4. A; the

Q.8 Select the most appropriate option to fill in the blank and complete the given sentence.

\_\_\_\_\_ towns in our country have such beautiful gardens as Jaipur has.

- Ans
- 1. The little
  - 2. The few
  - 3. A little
  - 4. Few

Q.9 Fill in the blank choosing the right one from the given options:

Hari's father is \_\_\_ engineer.1375

- Ans
- 1. a
  - 2. the
  - 3. no article
  - 4. an

Q.10 Complete the sentence by choosing the correct adjective.

I haven't seen Mr. Peter for ..... days.278

- Ans
- 1. obvious
  - 2. first
  - 3. several
  - 4. maximum

Q.11 Rectify the given sentence by choosing the correct option.

We were driving into a parking space when a car sudden pulled in in front of us.2922

- Ans
- 1. We were driving into a parking space, a car sudden pull in in front of us.
  - 2. We were driving into a parking space when a car most suddenly pulled in in front of us.
  - 3. We were driving into a parking space when a car suddenly pulled in in front of us.
  - 4. We were driving into a parking space, a car more suddenly pulled in in front of us.

Q.12 Parts of a sentence are given below in jumbled order. Arrange the parts in the correct order to form a meaningful sentence.

P- and not in a closed cavity  
Q- a well-ventilated space  
R- it is better to keep  
S- the refrigerator in

- Ans
- 1. PQRS
  - 2. SPRQ
  - 3. QPSR
  - 4. RSQP

Q.13 Select the most appropriate article to fill in the blank. If no article is needed, select 'No article required'.

I saw a cat in the garden. \_\_\_\_\_ cat was running behind a butterfly.

- Ans
- 1. A
  - 2. An
  - 3. The
  - 4. No article required

Q.14 Select the most appropriate option to fill in the blanks.

Among the three brothers, he is the \_\_\_\_\_.

- Ans
- 1. bravest
  - 2. braver
  - 3. much brave
  - 4. more brave

Q.15 Select the most appropriate article to fill in the blank. If no article is needed, select 'No article required'.

A woman is walking on \_\_\_\_ road with a puppy.

- Ans
- 1. a
  - 2. No article required
  - 3. the
  - 4. an

**Comprehension:**

Read the given passage and answer the questions that follow.

Venezuela, a nation once synonymous with immense oil wealth, currently navigates a complex socio-economic landscape. Possessing the world's largest proven oil reserves, the country initially experienced periods of significant prosperity and rapid modernization. However, over-reliance on a single commodity—petroleum—created a precarious "petro-state" vulnerable to global market fluctuations. When oil prices plummeted and internal systemic inefficiencies surfaced, the economy entered a period of hyperinflation and contraction.

This paradox of being resource-rich yet economically strained has prompted a massive humanitarian shift, with millions of citizens migrating in search of stability. Despite these hardships, Venezuela remains a cultural powerhouse, boasting diverse landscapes from the Andes Mountains to the Caribbean coast. The current climate is one of resilience and transformation, as the nation seeks to recalibrate its domestic policies and international relations.

**SubQuestion No : 16**

**Q.16 Which of the following would be the most academically appropriate title for this passage?**

**Comprehension:**

Read the given passage and answer the questions that follow.

Venezuela, a nation once synonymous with immense oil wealth, currently navigates a complex socio-economic landscape. Possessing the world's largest proven oil reserves, the country initially experienced periods of significant prosperity and rapid modernization. However, over-reliance on a single commodity—petroleum—created a precarious "petro-state" vulnerable to global market fluctuations. When oil prices plummeted and internal systemic inefficiencies surfaced, the economy entered a period of hyperinflation and contraction.

This paradox of being resource-rich yet economically strained has prompted a massive humanitarian shift, with millions of citizens migrating in search of stability. Despite these hardships, Venezuela remains a cultural powerhouse, boasting diverse landscapes from the Andes Mountains to the Caribbean coast. The current climate is one of resilience and transformation, as the nation seeks to recalibrate its domestic policies and international relations.

**SubQuestion No : 17**

**Q.17 Which of the following options best describes the overall tone of the passage?**

**Comprehension:**

Read the given passage and answer the questions that follow.

Venezuela, a nation once synonymous with immense oil wealth, currently navigates a complex socio-economic landscape. Possessing the world's largest proven oil reserves, the country initially experienced periods of significant prosperity and rapid modernization. However, over-reliance on a single commodity—petroleum—created a precarious "petro-state" vulnerable to global market fluctuations. When oil prices plummeted and internal systemic inefficiencies surfaced, the economy entered a period of hyperinflation and contraction.

This paradox of being resource-rich yet economically strained has prompted a massive humanitarian shift, with millions of citizens migrating in search of stability. Despite these hardships, Venezuela remains a cultural powerhouse, boasting diverse landscapes from the Andes Mountains to the Caribbean coast. The current climate is one of resilience and transformation, as the nation seeks to recalibrate its domestic policies and international relations.

**SubQuestion No : 18**

**Q.18 According to the passage, what is the primary cause of Venezuela's "precarious" economic position?**

**Comprehension:**

Read the given passage and answer the questions that follow.

Venezuela, a nation once synonymous with immense oil wealth, currently navigates a complex socio-economic landscape. Possessing the world's largest proven oil reserves, the country initially experienced periods of significant prosperity and rapid modernization. However, over-reliance on a single commodity—petroleum—created a precarious "petro-state" vulnerable to global market fluctuations. When oil prices plummeted and internal systemic inefficiencies surfaced, the economy entered a period of hyperinflation and contraction.

This paradox of being resource-rich yet economically strained has prompted a massive humanitarian shift, with millions of citizens migrating in search of stability. Despite these hardships, Venezuela remains a cultural powerhouse, boasting diverse landscapes from the Andes Mountains to the Caribbean coast. The current climate is one of resilience and transformation, as the nation seeks to recalibrate its domestic policies and international relations.

**SubQuestion No : 19**

**Q.19 Based on the passage, what can be inferred about the "Paradox of Plenty"?**

## Comprehension:

Read the given passage and answer the questions that follow.

Venezuela, a nation once synonymous with immense oil wealth, currently navigates a complex socio-economic landscape. Possessing the world's largest proven oil reserves, the country initially experienced periods of significant prosperity and rapid modernization. However, over-reliance on a single commodity—petroleum—created a precarious "petro-state" vulnerable to global market fluctuations. When oil prices plummeted and internal systemic inefficiencies surfaced, the economy entered a period of hyperinflation and contraction.

This paradox of being resource-rich yet economically strained has prompted a massive humanitarian shift, with millions of citizens migrating in search of stability. Despite these hardships, Venezuela remains a cultural powerhouse, boasting diverse landscapes from the Andes Mountains to the Caribbean coast. The current climate is one of resilience and transformation, as the nation seeks to recalibrate its domestic policies and international relations.

### SubQuestion No : 20

**Q.20** Choose the word from the passage that serves as an antonym for "Fragility".

### Section : Test of English Language and Comprehension1

**Q.1** Choose the correct one-word substitute for the following.

**Surgical removal of all or part of a limb**

- Ans**
- 1. Ammunition
  - 2. Emancipation
  - 3. Amputation
  - 4. Annihilation

**Q.2** A sentence is divided into the following different segments. Rearrange all the segments to form a coherent sentence.

through scientific principles, helping us (A) / Physics explains the mysteries of the universe (B) / understand the fundamental laws that (C) / govern matter, energy, space, and time (D)

- Ans**
- 1. ABDC
  - 2. BACD
  - 3. CBDA
  - 4. DCBA

**Q.3** Identify the antonym of "evanescent".

- Ans**
- 1. Mortal
  - 2. Permanent
  - 3. Temporary
  - 4. Short

**Q.4** What does the proverb 'A stitch in time saves nine' mean?

- Ans**
- 1. It is useless to repair old things.
  - 2. You should never fix anything yourself.
  - 3. Sewing is an important skill.
  - 4. Delaying work increases difficulty later.

**Q.5** What does the proverb 'A watched pot never boils' mean?

- Ans**
- 1. You should always watch your food while cooking.
  - 2. Boiling water is dangerous if left alone.
  - 3. Staring at something makes it cook faster.
  - 4. Time feels slower when you're impatient or waiting.

**Q.6 Which of the following words is the correct substitute for the word segment given?**

**Causing harm to living things**

- Ans**
- 1. advantageous
  - 2. advocating
  - 3. deleterious
  - 4. advancing

**Q.7 Select the most appropriate meaning of the given proverb.**

**A stitch in time saves nine.**

- Ans**
- 1. It is better to deal with problems immediately.
  - 2. Early risers seldom get the warmth.
  - 3. It is better to repair the clothes timely.
  - 4. We should not wear old clothes.

**Q.8 Identify the misspelt word in the given sentence.**

**Overall, the myraid benefits of vigorous exercise far outweigh the risks.**

- Ans**
- 1. outweigh
  - 2. vigorous
  - 3. myraid
  - 4. benefits

**Q.9 Choose the appropriate word from the options to substitute the given group of words.**

**A medicine that kills insects**

- Ans**
- 1. Fungicide
  - 2. Herbicide
  - 3. Larvicide
  - 4. Insecticide

**Q.10 Select the wrongly spelt word.**

- Ans**
- 1. Pernicious
  - 2. Auger
  - 3. Garbled
  - 4. Bulwerk

**Q.11 Select the most appropriate synonym of the given word.**

**Melancholy**

- Ans**
- 1. Jubilant
  - 2. Cheerful
  - 3. Elated
  - 4. Depressed

**Q.12 Choose the correct one-word substitute for the following.**

**A place that provides refuge protection or safety especially to someone who has left a country or place for political reasons**

- Ans**
- 1. Country
  - 2. House
  - 3. Shelter
  - 4. Asylum

**Q.13 Select the most appropriate ANTONYM of the given word.**

**Pandemonium**<sup>91</sup>

- Ans**
- 1. Tranquillity
  - 2. Bedlam
  - 3. Maelstrom
  - 4. Armistice

**Q.14 Find out the antonym of "acquiescent".**

- Ans**
- 1. resistant
  - 2. obvious
  - 3. acquire
  - 4. temporary

**Q.15 Select the most appropriate meaning of the following proverb.**

**The squeaky wheel gets the grease.**

- Ans**
- 1. Noisy wheels need to be fixed with grease to move smoothly.
  - 2. People who are weak and vulnerable grab attention faster.
  - 3. People who complain the loudest are more likely to get attention.
  - 4. Problems that are more challenging receive priority first.

**Comprehension:**

Read the below passage carefully and answer the questions that follow.

My grandfather keeps a modest vegetable plot behind the house, bordered by uneven bricks and a wire fence. To strangers it appears ordinary, yet to him it is a laboratory of memory. Each seed packet carries a story: beans traded with a neighbour, chillies saved from a festival dish, coriander brought years ago from a distant town. He wakes before sunrise to loosen soil with a short hoe, humming tunes older than the radio. I once asked why he refused chemical fertilisers when quicker methods existed. He replied that patience flavours food more deeply than haste. Watching him measure rainwater and compost scraps, I realise gardening is his quiet conversation with time. Harvest days are celebrated modestly, with neighbours receiving baskets tied by twine. Nothing is wasted, not even wilted leaves, which return to the earth as mulch. Through this small patch, he teaches sustainability without speeches, demonstrating that care for soil becomes care for community.

**SubQuestion No : 16**

**Q.16 Identify the suitable title for the passage.**

**Comprehension:**

Read the below passage carefully and answer the questions that follow.

My grandfather keeps a modest vegetable plot behind the house, bordered by uneven bricks and a wire fence. To strangers it appears ordinary, yet to him it is a laboratory of memory. Each seed packet carries a story: beans traded with a neighbour, chillies saved from a festival dish, coriander brought years ago from a distant town. He wakes before sunrise to loosen soil with a short hoe, humming tunes older than the radio. I once asked why he refused chemical fertilisers when quicker methods existed. He replied that patience flavours food more deeply than haste. Watching him measure rainwater and compost scraps, I realise gardening is his quiet conversation with time. Harvest days are celebrated modestly, with neighbours receiving baskets tied by twine. Nothing is wasted, not even wilted leaves, which return to the earth as mulch. Through this small patch, he teaches sustainability without speeches, demonstrating that care for soil becomes care for community.

**SubQuestion No : 17**

**Q.17 Identify the facts given in the passage.**

**Comprehension:**

Read the below passage carefully and answer the questions that follow.

My grandfather keeps a modest vegetable plot behind the house, bordered by uneven bricks and a wire fence. To strangers it appears ordinary, yet to him it is a laboratory of memory. Each seed packet carries a story: beans traded with a neighbour, chillies saved from a festival dish, coriander brought years ago from a distant town. He wakes before sunrise to loosen soil with a short hoe, humming tunes older than the radio. I once asked why he refused chemical fertilisers when quicker methods existed. He replied that patience flavours food more deeply than haste. Watching him measure rainwater and compost scraps, I realise gardening is his quiet conversation with time. Harvest days are celebrated modestly, with neighbours receiving baskets tied by twine. Nothing is wasted, not even wilted leaves, which return to the earth as mulch. Through this small patch, he teaches sustainability without speeches, demonstrating that care for soil becomes care for community.

**SubQuestion No : 18**

**Q.18 Identify the central theme of the passage.**

**Comprehension:**

Read the below passage carefully and answer the questions that follow.

My grandfather keeps a modest vegetable plot behind the house, bordered by uneven bricks and a wire fence. To strangers it appears ordinary, yet to him it is a laboratory of memory. Each seed packet carries a story: beans traded with a neighbour, chillies saved from a festival dish, coriander brought years ago from a distant town. He wakes before sunrise to loosen soil with a short hoe, humming tunes older than the radio. I once asked why he refused chemical fertilisers when quicker methods existed. He replied that patience flavours food more deeply than haste. Watching him measure rainwater and compost scraps, I realise gardening is his quiet conversation with time. Harvest days are celebrated modestly, with neighbours receiving baskets tied by twine. Nothing is wasted, not even wilted leaves, which return to the earth as mulch. Through this small patch, he teaches sustainability without speeches, demonstrating that care for soil becomes care for community.

**SubQuestion No : 19**

**Q.19 The most appropriate connection to a real-life situation is:**

**Comprehension:**

Read the below passage carefully and answer the questions that follow.

My grandfather keeps a modest vegetable plot behind the house, bordered by uneven bricks and a wire fence. To strangers it appears ordinary, yet to him it is a laboratory of memory. Each seed packet carries a story: beans traded with a neighbour, chillies saved from a festival dish, coriander brought years ago from a distant town. He wakes before sunrise to loosen soil with a short hoe, humming tunes older than the radio. I once asked why he refused chemical fertilisers when quicker methods existed. He replied that patience flavours food more deeply than haste. Watching him measure rainwater and compost scraps, I realise gardening is his quiet conversation with time. Harvest days are celebrated modestly, with neighbours receiving baskets tied by twine. Nothing is wasted, not even wilted leaves, which return to the earth as mulch. Through this small patch, he teaches sustainability without speeches, demonstrating that care for soil becomes care for community.

**SubQuestion No : 20**

**Q.20 Identify the tone of the passage.**

**Section : Test of Hindi Language and Comprehension**

**Q.1** दिए गए वाक्यों के लिखने का सही क्रम चुनें-

- (1) विज्ञान समाज के लिए वरदान भी है और अभिशाप भी।
- (2) इसका विवेकपूर्ण उपयोग हमारी जिम्मेदारी है।
- (3) यदि इसका सही उपयोग न हो तो यह विनाश भी करता है।
- (4) परमाणु ऊर्जा इसका सबसे बड़ा उदाहरण है।

**Ans** ✓ 1. 1234

✗ 2. 2341

✗ 3. 1423

✗ 4. 2143

**Q.2** निम्नलिखित विकल्पों में से अतिरिक्त वाक्य का चयन कीजिए-

- Ans**
- ✗ 1. विष्णु प्रभाकर का नाटक 'डॉक्टर' एक मनोवैज्ञानिक रचना है।
  - ✗ 2. 'अंजो दीदी' उपेन्द्रनाथ अशक की सर्वाधिक प्रौढ़ नाटकीय कृति है।
  - ✗ 3. भारतेन्दु युग में हिन्दी नाटक जीवन के यथार्थ से जुड़ कर नई दिशा की ओर उन्मुख हुआ।
  - ✓ 4. 'दिनमान' हिन्दी की एक बहुत ही महत्वपूर्ण राजनीतिक पत्रिका थी।

- Q.3 दिए गए वाक्यों के लिखने का सही क्रम चुनें-  
(1)वे आत्म-प्रचार से दूर ही रहते थे।  
(2)अरविन्द जी सतत् काव्य रचना में रत रहे।  
(3)उन्होंने स्वाध्याय द्वारा काव्य-विषयक ज्ञान विकसित किया।  
(4)वह कवि सम्मेलनों में भी भाग नहीं लेते थे।

- Ans  1. 3412  
 2. 3124  
 3. 4231  
 4. 2314

- Q.4 'मान का पान हीरा समान' कहावत का अर्थ है-

- Ans  1. पान खाना सम्मान का सूचक है  
 2. हीरे का मोल सम्मान से बढ़कर होता है  
 3. सम्मान का मोल हीरे से बढ़कर होता है  
 4. सम्मान से दी गयी थोड़ी वस्तु भी बहुत है

- Q.5 "जिसका वर्णन न हो सके"- वाक्यांश के लिए एक शब्द क्या होगा?

- Ans  1. अद्वितीय  
 2. अवर्णनीय  
 3. अनिर्वाच्य  
 4. अद्भुत

- Q.6 निम्नलिखित विकल्पों में से सही विशेषण का चयन कर रिक्त स्थान की पूर्ति कीजिए -  
'अंग्रेज़ भारत में \_\_\_ बनकर आए थे।'

- Ans  1. लुटेरा  
 2. काला  
 3. कायर  
 4. ठंडा

- Q.7 निम्न वाक्य को क्रियार्थक शब्द से पूर्ण करें -  
अपने माता पिता का \_\_\_ मानो ।

- Ans  1. बात  
 2. कहना  
 3. सुनना  
 4. पढ़ना

- Q.8 निम्नलिखित शब्द के लिए वाक्यांश बताएं -  
'सप्ताह'

- Ans  1. सभ्य होने की अवस्था  
 2. बहुत पढ़ी लिखी स्त्री  
 3. पंद्रह दिन की अवधि  
 4. सात दिनों की अवधि

- Q.9 निम्नलिखित विकल्पों में से शुद्ध वाक्य का चयन कीजिए-

- Ans  1. भारतीय संगीत की इतिहास अधिकतर संगीतघरानों का इतिहास हैं।  
 2. भारतिय संगित का इतिहास अधिकतर संगीतघरानों का इतिहास है।  
 3. भारतीय संगीत का इतिहास अधिकतर संगीतघरानों का इतिहास है।  
 4. भारतीय संगीत का इतिहास अधीकतर संगितघरानो की इतिहास है।

Q.10 निम्नलिखित विकल्पों में से उपयुक्त क्रिया का चयन कर वाक्य को पूर्ण कीजिए-  
'आज मेरे दोस्त ने पक्षियों के एक घोंसला को \_\_\_ दिया है।'

- Ans
- 1. जुड़वा
  - 2. उजाड़
  - 3. मुस्कुरा
  - 4. मुड़वा

Q.11 'भूँह में राम बगल में छुरी' लोकोक्ति का सही अर्थ है -

- Ans
- 1. सुनवाई न होना
  - 2. ऊपर से मित्र, भीतर से शत्रु
  - 3. बेकार देखल देना
  - 4. बेमेल काम करना

Q.12 निम्नलिखित विकल्पों में से सही क्रिया-विशेषण का चयन कर रिक्त स्थान की पूर्ति कीजिए-  
'राहुल \_\_\_ सुबह सैर करने जाता है।'

- Ans
- 1. वृथा
  - 2. प्रत्यक्ष
  - 3. प्रायः
  - 4. अप्रत्यक्ष

Q.13 दिए गए वाक्यों में से अतिरिक्त वाक्य का चयन करें-

- Ans
- 1. विद्यालय के भौतिक संसाधनों का उपयोग बालकों के विकास में प्रत्यक्ष एवं अप्रत्यक्ष रूप में किया जाता है।
  - 2. इसलिये प्रधानाध्यापक एवं विद्यालय प्रबन्ध समिति का यह दायित्व है कि वह भौतिक संसाधनों का अनुरक्षण करे।
  - 3. खेल बालक के सर्वांगीण विकास में सहायक होते हैं।
  - 4. विद्यालय के भौतिक संसाधनों के अन्तर्गत विद्यालय भवन, पुस्तकालय, प्रयोगशाला, शिक्षण अधिगम सामग्री आदि सम्मिलित किये जाते हैं।

Q.14 दिए गए वाक्यों के लिखने का सही क्रम चुनें-

- (1) कल्था खैर की लकड़ी का सत्त्व निकाल कर बनता है।
- (2) खदिर या खैर के पेड़ों की लकड़ी को नन्हे-नन्हे टुकड़े करके उबाला जाता है।
- (3) उस रस को छानकर अन्य रसायनों के साथ जमाया जाता है।
- (4) कल्थे की ये टिकियां वर्षों तक रखी जा सकती हैं।

- Ans
- 1. 4123
  - 2. 1234
  - 3. 3142
  - 4. 2134

Q.15 निम्नलिखित विकल्पों में से उपयुक्त क्रिया का चयन कर वाक्य को पूर्ण कीजिए-  
'इस सिपाही ने एक चोर को \_\_\_ है।'

- Ans
- 1. गढ़ा
  - 2. गिराया
  - 3. पकड़ा
  - 4. दबाया

### Comprehension:

निम्नलिखित गद्यांश के आधार पर पूछे गए प्रश्नों के सही विकल्प का चयन कीजिए-

महात्मा गाँधी अपना काम अपने हाथ से करने पर बल देते थे। वे प्रत्येक आश्रमवासी से आशा करते थे कि वह अपने शरीर से संबंधित प्रत्येक कार्य, सफाई तक स्वयं करेगा। उनका कहना था कि जो श्रम नहीं करता है, वह पाप करता है और पाप का अन्न खाता है। ऋषि-मुनियों ने कहा है- बिना श्रम किए जो भोजन करता है, वह वस्तुतः चोर है। महात्मा गाँधी का समस्त जीवन-दर्शन श्रम-सापेक्ष था। उनका समस्त अर्थशास्त्र यही बताता था कि प्रत्येक उपभोक्ता को उत्पादनकर्ता होना चाहिए। उनकी नीतियों की उपेक्षा करने के परिणाम हम आज भी भोग रहे हैं। न गरीबी कम होती नज़र आ रही है, न बेरोजगारी पर नियंत्रण हो पा रहा है और न ही अपराधों की वृद्धि पर नियंत्रण हमारे वश की बात हो रही है। दक्षिण कोरिया वासियों ने श्रमदान करके ऐसे श्रेष्ठ भवनों का निर्माण किया है, जिनसे किसी को भी ईर्ष्या हो सकती है।

### SubQuestion No : 16

Q.16 उपर्युक्त गद्यांश के भाव और विचारों के अनुरूप सबसे उपयुक्त शीर्षक कौन-सा होगा?

### Comprehension:

निम्नलिखित गद्यांश के आधार पर पूछे गए प्रश्नों के सही विकल्प का चयन कीजिए-

महात्मा गाँधी अपना काम अपने हाथ से करने पर बल देते थे। वे प्रत्येक आश्रमवासी से आशा करते थे कि वह अपने शरीर से संबंधित प्रत्येक कार्य, सफाई तक स्वयं करेगा। उनका कहना था कि जो श्रम नहीं करता है, वह पाप करता है और पाप का अन्न खाता है। ऋषि-मुनियों ने कहा है- बिना श्रम किए जो भोजन करता है, वह वस्तुतः चोर है। महात्मा गाँधी का समस्त जीवन-दर्शन श्रम-सापेक्ष था। उनका समस्त अर्थशास्त्र यही बताता था कि प्रत्येक उपभोक्ता को उत्पादनकर्ता होना चाहिए। उनकी नीतियों की उपेक्षा करने के परिणाम हम आज भी भोग रहे हैं। न गरीबी कम होती नज़र आ रही है, न बेरोजगारी पर नियंत्रण हो पा रहा है और न ही अपराधों की वृद्धि पर नियंत्रण हमारे वश की बात हो रही है। दक्षिण कोरिया वासियों ने श्रमदान करके ऐसे श्रेष्ठ भवनों का निर्माण किया है, जिनसे किसी को भी ईर्ष्या हो सकती है।

### SubQuestion No : 17

Q.17 उपर्युक्त गद्यांश का केंद्रीय विषय क्या है?

### Comprehension:

निम्नलिखित गद्यांश के आधार पर पूछे गए प्रश्नों के सही विकल्प का चयन कीजिए-

महात्मा गाँधी अपना काम अपने हाथ से करने पर बल देते थे। वे प्रत्येक आश्रमवासी से आशा करते थे कि वह अपने शरीर से संबंधित प्रत्येक कार्य, सफाई तक स्वयं करेगा। उनका कहना था कि जो श्रम नहीं करता है, वह पाप करता है और पाप का अन्न खाता है। ऋषि-मुनियों ने कहा है- बिना श्रम किए जो भोजन करता है, वह वस्तुतः चोर है। महात्मा गाँधी का समस्त जीवन-दर्शन श्रम-सापेक्ष था। उनका समस्त अर्थशास्त्र यही बताता था कि प्रत्येक उपभोक्ता को उत्पादनकर्ता होना चाहिए। उनकी नीतियों की उपेक्षा करने के परिणाम हम आज भी भोग रहे हैं। न गरीबी कम होती नज़र आ रही है, न बेरोजगारी पर नियंत्रण हो पा रहा है और न ही अपराधों की वृद्धि पर नियंत्रण हमारे वश की बात हो रही है। दक्षिण कोरिया वासियों ने श्रमदान करके ऐसे श्रेष्ठ भवनों का निर्माण किया है, जिनसे किसी को भी ईर्ष्या हो सकती है।

### SubQuestion No : 18

Q.18 उपर्युक्त गद्यांश के आधार पर वास्तविक जीवन से कौन-सा निष्कर्ष सबसे अधिक संबंधित है?

### Comprehension:

निम्नलिखित गद्यांश के आधार पर पूछे गए प्रश्नों के सही विकल्प का चयन कीजिए-

महात्मा गाँधी अपना काम अपने हाथ से करने पर बल देते थे। वे प्रत्येक आश्रमवासी से आशा करते थे कि वह अपने शरीर से संबंधित प्रत्येक कार्य, सफाई तक स्वयं करेगा। उनका कहना था कि जो श्रम नहीं करता है, वह पाप करता है और पाप का अन्न खाता है। ऋषि-मुनियों ने कहा है- बिना श्रम किए जो भोजन करता है, वह वस्तुतः चोर है। महात्मा गाँधी का समस्त जीवन-दर्शन श्रम-सापेक्ष था। उनका समस्त अर्थशास्त्र यही बताता था कि प्रत्येक उपभोक्ता को उत्पादनकर्ता होना चाहिए। उनकी नीतियों की उपेक्षा करने के परिणाम हम आज भी भोग रहे हैं। न गरीबी कम होती नज़र आ रही है, न बेरोजगारी पर नियंत्रण हो पा रहा है और न ही अपराधों की वृद्धि पर नियंत्रण हमारे वश की बात हो रही है। दक्षिण कोरिया वासियों ने श्रमदान करके ऐसे श्रेष्ठ भवनों का निर्माण किया है, जिनसे किसी को भी ईर्ष्या हो सकती है।

### SubQuestion No : 19

Q.19 उपर्युक्त गद्यांश के आधार पर सबसे उपयुक्त निष्कर्ष कौन-सा है?

### Comprehension:

निम्नलिखित गद्यांश के आधार पर पूछे गए प्रश्नों के सही विकल्प का चयन कीजिए-

महात्मा गाँधी अपना काम अपने हाथ से करने पर बल देते थे। वे प्रत्येक आश्रमवासी से आशा करते थे कि वह अपने शरीर से संबंधित प्रत्येक कार्य, सफाई तक स्वयं करेगा। उनका कहना था कि जो श्रम नहीं करता है, वह पाप करता है और पाप का अन्न खाता है। ऋषि-मुनियों ने कहा है- बिना श्रम किए जो भोजन करता है, वह वस्तुतः चोर है। महात्मा गाँधी का समस्त जीवन-दर्शन श्रम-सापेक्ष था। उनका समस्त अर्थशास्त्र यही बताता था कि प्रत्येक उपभोक्ता को उत्पादनकर्ता होना चाहिए। उनकी नीतियों की उपेक्षा करने के परिणाम हम आज भी भोग रहे हैं। न गरीबी कम होती नज़र आ रही है, न बेरोजगारी पर नियंत्रण हो पा रहा है और न ही अपराधों की वृद्धि पर नियंत्रण हमारे वश की बात हो रही है। दक्षिण कोरिया वासियों ने श्रमदान करके ऐसे श्रेष्ठ भवनों का निर्माण किया है, जिनसे किसी को भी ईर्ष्या हो सकती है।

### SubQuestion No : 20

Q.20 उपर्युक्त गद्यांश का प्रमुख भाव क्या है?

### Section : Test of Hindi Language and Comprehension1

Q.1 दिए गए विकल्पों में से अनेकार्थी शब्द 'गो' का एक अर्थ कौन-सा है?

- Ans
- ✓ 1. आँख
  - ✗ 2. वस्त्र
  - ✗ 3. छप्पर
  - ✗ 4. परदा

Q.2 निम्नलिखित मुहावरे के सही अर्थ का चयन कीजिए-  
'काफूर होना'

- Ans
- ✗ 1. दुखी होना
  - ✗ 2. डर जाना
  - ✗ 3. क्रोधित होना
  - ✓ 4. भाग जाना

Q.3 वर्तनी के आधार पर दिए गए वाक्य के किस भाग में त्रुटि है?  
सांप्रदायिक सौहाद देश की प्रगति के लिए आवश्यक है।

- Ans
- 1. सौहाद
  - 2. सांप्रदायिक
  - 3. देश की प्रगति
  - 4. के लिए आवश्यक है

Q.4 निम्न विकल्पों में तद्धव शब्द चुनिए ।

- Ans
- 1. घंटिका
  - 2. चूर्ण
  - 3. घंटी
  - 4. जंबू

Q.5 निम्न में से 'गहरा' शब्द का विलोम शब्द कौन-सा है?

- Ans
- 1. पतन
  - 2. सरल
  - 3. उपरोक्त
  - 4. छिछला

Q.6 'वा सोने को जा रिए जिससे फाटे कान' लोकोक्ति का सही अर्थ क्या होगा?

- Ans
- 1. माने तो आदर नहीं तो उपेक्षा
  - 2. बराबर का मेल हो जाता है
  - 3. कीमती चीज़ भी यदि दुख देती है तो त्याज्य है
  - 4. बेकार का नखरा

Q.7 निम्नलिखित विकल्पों में से शुद्ध वर्तनी वाले वाक्य का चयन करें -

- Ans
- 1. तुम लोग अपने-अपने घर जाओ।
  - 2. तुम लोग अपने-अपने घर जाओ।
  - 3. तूम लोग अपने-अपने घर जाओ।
  - 4. तुम लोग अपने-अपने घर जायो।

Q.8 निम्न शब्द का पर्यायवाची शब्द चुनिए ।  
कमल

- Ans
- 1. संजीव
  - 2. वासुदेव
  - 3. राजीव
  - 4. सरिता

Q.9 'रंग लाना' मुहावरे का सही अर्थ क्या होगा?

- Ans
- 1. सुधार करना
  - 2. रोमांच होना
  - 3. चले जाना
  - 4. हालत पैदा करना

Q.10 निम्नलिखित वाक्यांश में अनेकार्थि शब्द पहचानिए।  
'उसने सबके सामने पानी उतार दिया'

- Ans
- 1. उतार दिया
  - 2. सबके सामने
  - 3. सामने पानी
  - 4. पानी

Q.11 दिए गए वाक्य के किस भाग में त्रुटि है?  
मानव सभ्यता के आरंभिक काल में संयुक्त परिवार की प्रथा थी।

- Ans
- 1. आरंभिक काल में
  - 2. की प्रथा थी।
  - 3. संयुक्त परिवार
  - 4. मानव सभ्यता के

Q.12 निम्न शब्द का पर्यायवाची शब्द चुनिए।  
उपालंभ

- Ans
- 1. निकेतन
  - 2. नीला
  - 3. आशंका
  - 4. शिकायत

Q.13 निम्नलिखित में से कौन-सा एक पर्याय युग्म अशुद्ध है?

- Ans
- 1. सरस्वती - शारदा
  - 2. वृक्ष - पुंज
  - 3. पृथ्वी - धरा
  - 4. पक्षी - खग

Q.14 निम्नलिखित वाक्य के किस भाग में वर्तनी की त्रुटि है?  
पुस्तक के आरंभ में विषय का संक्षिप्त परिचय दिया गया है।

- Ans
- 1. पुस्तक के आरंभ
  - 2. संक्षिप्त परिचय
  - 3. दिया गया है।
  - 4. में विषय का

Q.15 दिए गये विकल्पों में से तत्सम शब्द चुनिए-

- Ans
- 1. कूदना
  - 2. कर्कट
  - 3. केवट
  - 4. केकड़ा

#### Comprehension:

निम्नलिखित गद्यांश के आधार पर पूछे गए प्रश्नों के सही विकल्प का चयन कीजिए-

जो समझता है कि वह दूसरों का उपकार कर रहा है वह अबोध है, जो समझता है कि दूसरे उसका उपकार कर रहे हैं वह भी बुद्धिहीन है। कौन किसका उपकार करता है, कौन किसका उपकार कर रहा है? मनुष्य केवल जी रहा है, अपनी इच्छा से नहीं, इतिहास विधाता की योजना के अनुसार। किसी को उससे सुख मिल जाये, बहुत अच्छी बात है, नहीं मिल सका, कोई बात नहीं, परंतु उसे अभिमान नहीं होना चाहिए। सुख पहुँचाने का अभिमान यदि गलत है, तो दुख पहुँचाने का अभिमान तो नितांत गलत है। दुख और सुख तो मन के विकल्प हैं। सुखी वह है जिसका मन वश में है, दुखी वह है जिसका मन परवश है। परवश होने का अर्थ है- खुशामद करना, दाँत निपोरना, चाटुकारिता, जी हुजूरी। जिसका मन अपने वश में नहीं है, वही दूसरे के मन का छंदावर्तन करता है, अपने को छिपाने के लिए मिथ्या आडंबर रचता है, दूसरों को फँसाने के लिए जाल बिछाता है।

#### SubQuestion No : 16

Q.16 प्रस्तुत गद्यांश के केंद्रीय भाव को ध्यान में रखते हुए इसका सबसे सटीक शीर्षक क्या होगा?

#### Comprehension:

निम्नलिखित गद्यांश के आधार पर पूछे गए प्रश्नों के सही विकल्प का चयन कीजिए-

जो समझता है कि वह दूसरों का उपकार कर रहा है वह अबोध है, जो समझता है कि दूसरे उसका उपकार कर रहे हैं वह भी बुद्धिहीन है। कौन किसका उपकार करता है, कौन किसका उपकार कर रहा है? मनुष्य केवल जी रहा है, अपनी इच्छा से नहीं, इतिहास विधाता की योजना के अनुसार। किसी को उससे सुख मिल जाये, बहुत अच्छी बात है, नहीं मिल सका, कोई बात नहीं, परंतु उसे अभिमान नहीं होना चाहिए। सुख पहुँचाने का अभिमान यदि गलत है, तो दुख पहुँचाने का अभिमान तो नितांत गलत है। दुख और सुख तो मन के विकल्प हैं। सुखी वह है जिसका मन वश में है, दुखी वह है जिसका मन परवश है। परवश होने का अर्थ है- खुशामद करना, दाँत निपोरना, चाटुकारिता, जी हुजूरी। जिसका मन अपने वश में नहीं है, वही दूसरे के मन का छंदावर्तन करता है, अपने को छिपाने के लिए मिथ्या आडंबर रचता है, दूसरों को फँसाने के लिए जाल बिछाता है।

#### SubQuestion No : 17

Q.17 लेखक के अनुसार वास्तविक रूप से 'सुखी' व्यक्ति कौन है?

**Comprehension:**

निम्नलिखित गद्यांश के आधार पर पूछे गए प्रश्नों के सही विकल्प का चयन कीजिए-

जो समझता है कि वह दूसरों का उपकार कर रहा है वह अबोध है, जो समझता है कि दूसरे उसका उपकार कर रहे हैं वह भी बुद्धिहीन है। कौन किसका उपकार करता है, कौन किसका उपकार कर रहा है? मनुष्य केवल जी रहा है, अपनी इच्छा से नहीं, इतिहास विधाता की योजना के अनुसार। किसी को उससे सुख मिल जाये, बहुत अच्छी बात है, नहीं मिल सका, कोई बात नहीं, परंतु उसे अभिमान नहीं होना चाहिए। सुख पहुँचाने का अभिमान यदि गलत है, तो दुख पहुँचाने का अभिमान तो नितांत गलत है। दुख और सुख तो मन के विकल्प हैं। सुखी वह है जिसका मन वश में है, दुखी वह है जिसका मन परवश है। परवश होने का अर्थ है- खुशामद करना, दाँत निपोरना, चाटुकारिता, जी हजूरी। जिसका मन अपने वश में नहीं है, वही दूसरे के मन का छंदावर्तन करता है, अपने को छिपाने के लिए मिथ्या आडंबर रचता है, दूसरों को फँसाने के लिए जाल बिछाता है।

**SubQuestion No : 18**

**Q.18** गद्यांश में 'परवश' होने का क्या अर्थ बताया गया है?

**Comprehension:**

निम्नलिखित गद्यांश के आधार पर पूछे गए प्रश्नों के सही विकल्प का चयन कीजिए-

जो समझता है कि वह दूसरों का उपकार कर रहा है वह अबोध है, जो समझता है कि दूसरे उसका उपकार कर रहे हैं वह भी बुद्धिहीन है। कौन किसका उपकार करता है, कौन किसका उपकार कर रहा है? मनुष्य केवल जी रहा है, अपनी इच्छा से नहीं, इतिहास विधाता की योजना के अनुसार। किसी को उससे सुख मिल जाये, बहुत अच्छी बात है, नहीं मिल सका, कोई बात नहीं, परंतु उसे अभिमान नहीं होना चाहिए। सुख पहुँचाने का अभिमान यदि गलत है, तो दुख पहुँचाने का अभिमान तो नितांत गलत है। दुख और सुख तो मन के विकल्प हैं। सुखी वह है जिसका मन वश में है, दुखी वह है जिसका मन परवश है। परवश होने का अर्थ है- खुशामद करना, दाँत निपोरना, चाटुकारिता, जी हजूरी। जिसका मन अपने वश में नहीं है, वही दूसरे के मन का छंदावर्तन करता है, अपने को छिपाने के लिए मिथ्या आडंबर रचता है, दूसरों को फँसाने के लिए जाल बिछाता है।

**SubQuestion No : 19**

**Q.19** लेखक ने उपकार या अपकार करने वाले को 'अबोध' या 'बुद्धिहीन' क्यों कहा है?

**Comprehension:**

निम्नलिखित गद्यांश के आधार पर पूछे गए प्रश्नों के सही विकल्प का चयन कीजिए-

जो समझता है कि वह दूसरों का उपकार कर रहा है वह अबोध है, जो समझता है कि दूसरे उसका उपकार कर रहे हैं वह भी बुद्धिहीन है। कौन किसका उपकार करता है, कौन किसका उपकार कर रहा है? मनुष्य केवल जी रहा है, अपनी इच्छा से नहीं, इतिहास विधाता की योजना के अनुसार। किसी को उससे सुख मिल जाये, बहुत अच्छी बात है, नहीं मिल सका, कोई बात नहीं, परंतु उसे अभिमान नहीं होना चाहिए। सुख पहुँचाने का अभिमान यदि गलत है, तो दुख पहुँचाने का अभिमान तो नितांत गलत है। दुख और सुख तो मन के विकल्प हैं। सुखी वह है जिसका मन वश में है, दुखी वह है जिसका मन परवश है। परवश होने का अर्थ है- खुशामद करना, दाँत निपोरना, चाटुकारिता, जी हजूरी। जिसका मन अपने वश में नहीं है, वही दूसरे के मन का छंदावर्तन करता है, अपने को छिपाने के लिए मिथ्या आडंबर रचता है, दूसरों को फँसाने के लिए जाल बिछाता है।

**SubQuestion No : 20**

**Q.20** लेखक के अनुसार, जो व्यक्ति दूसरों को फँसाने के लिए 'जाल बिछाता है' या 'मिथ्या आडंबर' रचता है, उसकी मानसिक स्थिति कैसी होती है?