



GOVT. OF NCT OF DELHI
Delhi Subordinate Services Selection Board
FC-18, Institutional Area, Karkardooma, Delhi – 110092.
www.dsssb.delhigovt.nic.in

| | |
|------------------|---|
| Participant Name | SHIMLA MEENA |
| Test Center Name | Adarsh Pariksha Kendra CENTER A - Gate No 1 - Noida Sector 64 |
| Test Date | 13/05/2026 |
| Test Time | 9:00 AM - 11:00 AM |
| Subject | Multi Tasking Staff |

Section : General intelligence and Reasoning Ability

- Q.1 सात बक्से A, B, C, P, Q, R और S एक के ऊपर एक रखे गए हैं, लेकिन जरूरी नहीं है कि इसी क्रम में रखे गए हों।
P के ऊपर कोई बक्सा नहीं रखा गया है। P और R के बीच केवल तीन बक्से रखे गए हैं। C और B के बीच केवल एक बक्सा रखा गया है। B को R के ठीक ऊपर रखा गया है।
C और S के बीच केवल तीन बक्से रखे गए हैं। Q को A के ऊपर किसी स्थान पर रखा गया है।
Q के नीचे दूसरे स्थान पर कौन-सा बक्सा रखा गया है?

- Ans 1. R
 2. P
 3. A
 4. C

- Q.2 किसी निश्चित कूट भाषा में,
A + B का अर्थ है कि 'A, B की माता है',
A - B का अर्थ है कि 'A, B का भाई है',
A x B का अर्थ है कि 'A, B की पत्नी है',
A % B का अर्थ है कि 'A, B का पिता है',
A # B का अर्थ है कि 'A, B की पुत्री है'।

यदि 'T # P + R % L - N' है, तो ऊपर दी गई जानकारी के आधार पर P का N से क्या संबंध है?

- Ans 1. पिता की बहन
 2. पुत्र की पुत्री
 3. पिता की माता
 4. माता का पिता

- Q.3 छह व्यक्ति - D, E, F, G, O और P एक गोल मेज के परितः, केंद्र की ओर अभिमुख होकर बैठे हैं। E के दाईं ओर से गिनने पर, E और P के बीच केवल तीन व्यक्ति बैठे हैं। D के बाईं ओर से दूसरे स्थान पर E बैठा है। G, F के दाईं ओर से दूसरे स्थान पर बैठा है। P और D दोनों का निकटतम पड़ोसी F है। O के बाईं ओर से गिनने पर, O और F के बीच कितने व्यक्ति बैठे हैं?

- Ans 1. चार
 2. दो
 3. एक
 4. तीन

Q.4 सात बॉक्स - C, D, E, U, V, W और X एक के ऊपर एक रखे गए हैं, लेकिन आवश्यक नहीं कि इसी क्रम में हों। W के नीचे केवल तीन बॉक्स रखे गए हैं। W और U के बीच केवल दो बॉक्स रखे गए हैं। C के ऊपर केवल V को रखा गया है। X को E के नीचे किसी स्थान पर और D के ऊपर किसी स्थान पर रखा गया है। कौन-सा बॉक्स सबसे नीचे से दूसरे स्थान पर रखा गया है?

- Ans
- 1. W
 - 2. V
 - 3. D
 - 4. C

Q.5 इस प्रश्न में, एक कथन के बाद दो निष्कर्ष दिए गए हैं। ज्ञात कीजिए कि दिए गए कथन के आधार पर कौन-सा/से निष्कर्ष सत्य है/हैं।

कथन:

$$F > R > K < Z \leq L$$

निष्कर्ष:

I. $K < L$

II. $Z < F$

- Ans
- 1. केवल II सत्य है
 - 2. न तो I और न ही II सत्य है
 - 3. केवल I सत्य है
 - 4. I और II दोनों सत्य हैं

Q.6 निम्नलिखित अक्षर और प्रतीक श्रृंखला का संदर्भ लीजिए और दिए गए प्रश्न का उत्तर दीजिए। गिनती केवल बाएँ से दाएँ की जानी चाहिए।

(बाएँ) ? & T K ? Q Z % + X = + G U N R O D / (दाएँ)

ऐसे कितने प्रतीक हैं, जिनमें से प्रत्येक के ठीक पहले एक अक्षर है और ठीक बाद भी एक अक्षर है?

- Ans
- 1. दो
 - 2. चार
 - 3. तीन
 - 4. एक

Q.7 दिए गए कथनों और निष्कर्षों को ध्यान से पढ़ें। आपको दिए गए कथनों को सत्य मानना है, भले ही वे सामान्य रूप से ज्ञात तथ्यों से भिन्न प्रतीत होते हैं। आपको यह तय करना है कि दिए गए कथनों से तार्किक रूप से कौन सा निष्कर्ष निकलता है।

कथन:

कुछ चप्पलें, कुर्सियाँ हैं।

सभी कुर्सियाँ, फ्लिप-फ्लॉप हैं।

निष्कर्ष (I): कुछ चप्पलें, फ्लिप-फ्लॉप हैं।

निष्कर्ष (II): सभी फ्लिप-फ्लॉप, कुर्सियाँ हैं।

- Ans
- 1. निष्कर्ष (I) और (II) दोनों अनुसरण करते हैं
 - 2. न तो निष्कर्ष (I) और न ही (II) अनुसरण करता है
 - 3. केवल निष्कर्ष (I) अनुसरण करता है
 - 4. केवल निष्कर्ष (II) अनुसरण करता है

Q.8 किसी निश्चित कूट भाषा में, 'he fixes toy' को 'ms ji zs' के रूप में कूटबद्ध किया जाता है और 'like toy car' को 'nw ky ms' के रूप में कूटबद्ध किया जाता है। दी गई भाषा में 'toy' को किस प्रकार कूटबद्ध किया जाएगा?

- Ans
- 1. ji
 - 2. zs
 - 3. ky
 - 4. ms

Q.9 सात बॉक्स - S, T, U, V, W, X और Y एक के ऊपर एक रखे गए हैं, लेकिन आवश्यक नहीं कि वे इसी क्रम में हों। U के ऊपर केवल T को रखा गया है। U और W के बीच केवल दो बॉक्स रखे गए हैं। केवल V को S के नीचे रखा गया है। Y को W के ठीक ऊपर नहीं रखा गया है। X और V के बीच कितने बॉक्स रखे गए हैं?

- Ans
- 1. एक
 - 2. दो
 - 3. चार
 - 4. तीन

Q.10 किसी निश्चित कूट भाषा में,
A + B का अर्थ है कि 'A, B की माता है',
A - B का अर्थ है कि 'A, B का भाई है',
A x B का अर्थ है कि 'A, B की पत्नी है',
A # B का अर्थ है कि 'A, B की पुत्री है'।

यदि 'L # V - D # E' है, तो ऊपर दी गई जानकारी के आधार पर L का E से क्या संबंध है?

- Ans
- 1. पति का भाई
 - 2. पति की बहन
 - 3. पुत्र की पुत्री
 - 4. भाई की पत्नी

Q.11 निम्नलिखित अक्षर और प्रतीक श्रृंखला का संदर्भ लीजिए और दिए गए प्रश्न का उत्तर दीजिए। गिनती केवल बाएँ से दाएँ की जानी चाहिए।

(बाएँ) \$ C * \$ \$ * F F H & @ S G X P K K K A (दाएँ)

ऐसे कितने अक्षर हैं जिनके ठीक पहले एक प्रतीक है और ठीक बाद में एक अक्षर भी है?

- Ans
- 1. तीन
 - 2. एक
 - 3. दो
 - 4. चार

Q.12 निम्नलिखित संख्या श्रृंखला का संदर्भ लीजिए और दिए गए प्रश्न का उत्तर दीजिए। (सभी संख्याएं केवल एकल अंकीय संख्याएं हैं)। गिनती केवल बाएँ से दाएँ की जानी चाहिए।

(बाएँ) 8 5 3 2 1 6 3 7 9 3 2 7 4 8 2 1 9 5 3 7 2 8 1 9 3 2 6 8 3 2 5 (दाएँ)

ऐसे कितने विषम अंक हैं, जिनमें से प्रत्येक के ठीक पहले एक सम अंक है और ठीक बाद में एक विषम अंक है?

- Ans
- 1. एक
 - 2. तीन से अधिक
 - 3. दो
 - 4. तीन

Q.13 छह मित्र, B, C, D, E, T और U, एक गोल मेज के परितः उसके केंद्र की ओर अभिमुख होकर बैठे हैं। T के दाईं ओर से गिनने पर, T और C के बीच केवल दो व्यक्ति बैठे हैं। E के दाईं ओर गिनने पर, D और E के बीच केवल दो व्यक्ति बैठे हैं। C, E के ठीक दाईं ओर पड़ोस में बैठा है। U, C के ठीक दाईं ओर पड़ोस में बैठा है। B के दाईं ओर से गिनने पर, B और U के बीच कितने व्यक्ति बैठे हैं?

- Ans
- 1. एक
 - 2. तीन
 - 3. दो
 - 4. चार

Q.14 किसी निश्चित कूट भाषा में, 'light is beautiful' को 'un oh eu' के रूप में और 'use the light' को 'oh vs fg' के रूप में कूटबद्ध किया जाता है। दी गई भाषा में 'light' को कैसे कूटबद्ध किया जाएगा? (सभी कूट दो-अक्षरों वाले कूट हैं)

- Ans
- 1. un
 - 2. oh
 - 3. eu
 - 4. fg

Q.15 शब्द BURGHERSHIP में प्रत्येक स्वर को अंग्रेजी वर्णमाला क्रम में उसके ठीक बाद आने वाले अक्षर से बदल दिया जाता है और प्रत्येक व्यंजन को अंग्रेजी वर्णमाला क्रम में उसके पहले आने वाले दूसरे अक्षर से बदल दिया जाता है। इस प्रकार बने अक्षरों के समूह में निम्नलिखित में से कौन-सा अक्षर ठीक दो बार आएगा?

- Ans
- 1. N
 - 2. J
 - 3. P
 - 4. F

Q.16 निम्नलिखित अक्षर और प्रतीक श्रृंखला का संदर्भ लीजिए तथा दिए गए प्रश्न का उत्तर दीजिए। गणना केवल बाएं से दाएं की जानी है।

(बाएं) N L + W J D E * O G A E D C / W R A = (दाएं)

ऐसे कितने अक्षर हैं जिनमें से प्रत्येक के ठीक पहले एक प्रतीक है और ठीक बाद एक अक्षर भी है?

- Ans
- 1. तीन
 - 2. चार
 - 3. एक
 - 4. दो

Q.17 एक निश्चित कूट भाषा में, 'DESK' को '1738' के रूप में कूटबद्ध किया जाता है और 'SURF' को '5974' के रूप में कूटबद्ध किया जाता है। दी गई भाषा में 'S' को किस प्रकार कूटबद्ध किया जाएगा?

- Ans
- 1. 5
 - 2. 7
 - 3. 4
 - 4. 1

Q.18 शब्द 'MOANED' में प्रत्येक स्वर को अंग्रेजी वर्णमाला क्रम में उससे ठीक पहले आने वाले अक्षर से बदल दिया जाता है, और प्रत्येक व्यंजन को अंग्रेजी वर्णमाला क्रम में उसके ठीक बाद आने वाले अक्षर से बदल दिया जाता है। इस प्रकार बने अक्षरों के समूह में निम्नलिखित में से कौन-सा अक्षर ठीक दो बार आएगा?

- Ans
- 1. E
 - 2. D
 - 3. M
 - 4. N

Q.19 इस प्रश्न में, एक कथन के बाद दो निष्कर्ष दिए गए हैं। ज्ञात कीजिए कि दिए गए कथन के आधार पर कौन-सा/से निष्कर्ष सत्य है/हैं।

कथन:

$R < Z > K > L \leq F$

निष्कर्ष:

I. $F < Z$

II. $R < L$

- Ans
- 1. केवल II सत्य है
 - 2. न तो I और न ही II सत्य है
 - 3. I और II दोनों सत्य हैं
 - 4. केवल I सत्य है

Q.20 सात बॉक्स - C, D, E, U, V, W और X एक के ऊपर एक रखे गए हैं, लेकिन आवश्यक नहीं कि वे इसी क्रम में हों।
E और W के बीच केवल दो बॉक्स रखे गए हैं। केवल V को X के ऊपर रखा गया है। W के नीचे कोई बॉक्स नहीं रखा गया है। D को C के नीचे किसी स्थान पर लेकिन U के ऊपर किसी स्थान पर रखा गया है।
कौन-सा बॉक्स U के ऊपर तीसरे स्थान पर रखा है?

- Ans
- 1. X
 - 2. D
 - 3. C
 - 4. W

Section : General intelligence and Reasoning Ability1

Q.1 अंग्रेजी वर्णानुक्रम के आधार पर, एक निश्चित तरीके से UAVT का संबंध YEZX से है। उसी तरीके से, YNDP का संबंध CRHT से है। समान तर्क का अनुसरण करते हुए, AHRK का संबंध निम्नलिखित में से किससे है?

- Ans
- 1. ELVO
 - 2. EMVO
 - 3. ELWP
 - 4. FMWP

Q.2 निम्नलिखित संख्या-युग्मों में, पहली संख्या पर कुछ गणितीय संक्रियाएं लागू करके दूसरी संख्या प्राप्त की जाती है। उस युग्म का चयन कीजिए, जिसमें संख्याएं उसी प्रकार संबंधित हों, जिस प्रकार निम्न युग्मों की संख्याएं हैं।
(नोट: संख्याओं को उनके घटक अंकों में तोड़ें बिना, संक्रियाएं पूर्ण संख्याओं पर की जानी चाहिए। उदाहरण के लिए, 13 लीजिए - 13 पर संक्रियाएं, जैसे जोड़ना/घटाना/गुणा करना आदि, की जा सकती हैं। 13 को 1 और 3 में तोड़ना तथा फिर 1 और 3 पर गणितीय संक्रियाएं करने की अनुमति नहीं है।)

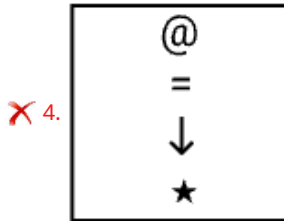
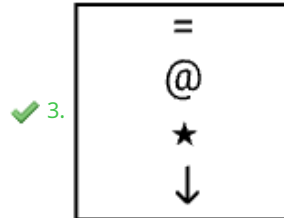
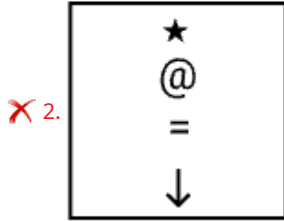
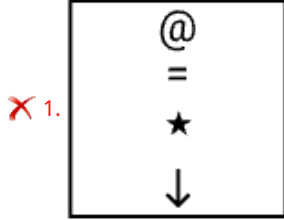
185, 310
204, 329

- Ans
- 1. 192, 327
 - 2. 216, 342
 - 3. 224, 359
 - 4. 208, 333

Q.3 विकल्पों में दी गई उस आकृति को पहचानिए, जिसे '?' के स्थान पर रखने पर यह शृंखला तार्किक रूप से पूरी हो जाएगी।

| | | | | |
|------------------|------------------|------------------|------------------|---|
| = @ ★ ↓ | ↓ = @ ★ | ★ ↓ = @ | @ ★ ↓ = | ? |
|------------------|------------------|------------------|------------------|---|

Ans



Q.4 अंग्रेजी वर्णमाला क्रम के आधार पर, एक निश्चित तरीके से, MURV का संबंध JROS से है। उसी प्रकार से, AIFJ का संबंध XFCG से है। समान तर्क का अनुसरण करते हुए, RZWA का संबंध निम्नलिखित में से किस विकल्प से है?

- Ans
- ✗ 1. OTYU
 - ✗ 2. OWER
 - ✗ 3. OWTY
 - ✓ 4. OWTX

Q.5 यदि संख्या 352875456352 के प्रत्येक विषम अंक में 1 जोड़ा जाए तथा प्रत्येक सम अंक में से 2 घटाया जाए, तो इस प्रकार बनी नई संख्या में बाएँ से दूसरे और दाएँ से दूसरे अंकों का योगफल कितना होगा?

- Ans
- ✗ 1. 9
 - ✗ 2. 14
 - ✓ 3. 12
 - ✗ 4. 10

Q.6 यदि '+' और '-' को आपस में बदल दिया जाए, और 'x' और '+' को आपस में बदल दिया जाए, निम्नलिखित समीकरण में '?' के स्थान पर क्या आएगा?

$$70 \div 2 + 150 \times 3 - 8 = ?$$

- Ans
- 1. 98
 - 2. 118
 - 3. 108
 - 4. 78

Q.7 निम्नलिखित संख्या-युग्मों में, पहली संख्या पर एक निश्चित गणितीय संक्रिया करके पर दूसरी संख्या प्राप्त की गई है। उस संख्या-युग्म का चयन कीजिए जिसमें संख्याएं उसी प्रकार संबंधित हैं जिस प्रकार निम्नलिखित युग्मों की संख्याएं संबंधित हैं।

(नोट: संख्याओं को उनके घटक अंकों में तोड़े बिना, पूर्ण संख्याओं पर संक्रियाएं की जानी चाहिए। उदाहरण के लिए 13 लीजिए, 13 पर संक्रियाएं, जैसे कि 13 में जोड़ना/घटाना/गुणा करना आदि, की जा सकती हैं। 13 को 1 और 3 में तोड़ना तथा फिर 1 और 3 पर गणितीय संक्रियाएं करने की अनुमति नहीं है।)

27, 110
34, 138

- Ans
- 1. 71, 284
 - 2. 51, 205
 - 3. 62, 250
 - 4. 54, 210

Q.8 अंग्रेजी वर्णमाला क्रम पर आधारित, एक निश्चित तरीके से AERT का संबंध CGTV से है। उसी प्रकार IMZB का संबंध KOBD से है। समान तर्क का अनुसरण करते हुए, OSFH का संबंध निम्नलिखित में से किस विकल्प से है?

- Ans
- 1. QHUI
 - 2. QHUI
 - 3. QGHY
 - 4. QUHJ

Q.9 अंग्रेजी वर्णमाला क्रम के आधार पर, निम्नलिखित चार अक्षर-समूह युग्मों में से तीन एक निश्चित तरीके से समान हैं और इस प्रकार एक ग्रुप बनाते हैं। कौन-सा अक्षर-समूह युग्म, उस ग्रुप से संबंधित नहीं है?

(नोट: असंगत अक्षर-समूह युग्म, व्यंजनों/स्वरों की संख्या या उनकी स्थिति पर आधारित नहीं है।)

- Ans
- 1. QS-TV
 - 2. MO-OT
 - 3. CE-FH
 - 4. VX-YA

Q.10 अंग्रेजी वर्णानुक्रम के आधार पर, निम्नलिखित चार अक्षर-समूहों में से तीन किसी निश्चित तरीके से एकसमान हैं और इस प्रकार एक ग्रुप बनाते हैं। कौन-सा अक्षर-समूह, उस ग्रुप से संबंधित नहीं है?

(नोट: असंगत अक्षर-समूह, व्यंजनों/स्वरों की संख्या या उनकी स्थिति पर आधारित नहीं है।)

- Ans
- 1. IKH
 - 2. VXU
 - 3. SUR
 - 4. PRQ

Q.11 यदि 'A' का अर्थ '+' है, 'B' का अर्थ '-' है, 'C' का अर्थ 'x' है और 'D' का अर्थ '+' है, तो निम्नलिखित समीकरण में प्रश्न-चिह्न '?' के स्थान पर क्या आएगा?

$$22 A 56 D 7 B 3 C 6 = ?$$

- Ans
- 1. 25
 - 2. 22
 - 3. 23
 - 4. 12

Q.12 निम्नलिखित संख्या-युग्मों में, पहली संख्या पर एक निश्चित गणितीय संक्रिया करके दूसरी संख्या प्राप्त की गई है। उस संख्या-युग्म का चयन कीजिए जिसमें संख्याएं उसी प्रकार संबंधित हैं जिस प्रकार निम्नलिखित युग्मों की संख्याएं संबंधित हैं।
(नोट: संख्याओं को उनके घटक अंकों में तोड़े बिना, पूर्ण संख्याओं पर संक्रियाएं की जानी चाहिए। उदाहरण के लिए 13 लीजिए, 13 पर संक्रियाएं, जैसे कि 13 में जोड़ना/घटाना/गुणा करना, आदि की जा सकती हैं। 13 को 1 और 3 में तोड़ना तथा फिर 1 और 3 पर गणितीय संक्रियाएं करने की अनुमति नहीं है।)

37, 187

46, 232

Ans 1. 82, 412

2. 71, 555

3. 96, 916

4. 47, 685

Q.13 यदि 'A' का अर्थ '+' है, 'B' का अर्थ 'x' है, 'C' का अर्थ '-' है और 'D' का अर्थ '/' है, तो निम्नलिखित समीकरण में प्रश्नचिह्न '?' के स्थान पर क्या आएगा?

78 C 14 B 7 D 246 A 6=?

Ans 1. 145

2. 130

3. 135

4. 140

Q.14 दिए गए कथनों और निष्कर्षों को ध्यानपूर्वक पढ़ें। यह मानते हुए कि कथनों में दी गई जानकारी सत्य है, भले ही वह सामान्यतः ज्ञात तथ्यों से भिन्न प्रतीत होती हो। आपको यह तय करना है कि दिए गए निष्कर्षों में से कौन-से निष्कर्ष, कथनों का तार्किक रूप से अनुसरण करते हैं।

कथन: सभी फूलगोभी, टमाटर हैं। सभी फूलगोभी, आड़ू हैं।

निष्कर्ष (I): कुछ टमाटर, आड़ू हैं।

निष्कर्ष (II): सभी आड़ू, फूलगोभी हैं।

Ans 1. न तो निष्कर्ष (I) और न ही निष्कर्ष (II) अनुसरण करता है

2. केवल निष्कर्ष (I) अनुसरण करता है

3. केवल निष्कर्ष (II) अनुसरण करता है

4. निष्कर्ष (I) और निष्कर्ष (II) दोनों अनुसरण करते हैं

Q.15 दी गई श्रृंखला में '?' के स्थान पर क्या आना चाहिए?

120, 320, 570, 870, 1220, 1620, ?

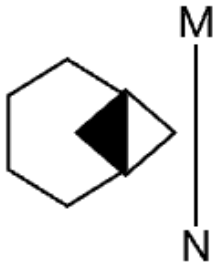
Ans 1. 2070

2. 2120

3. 2220

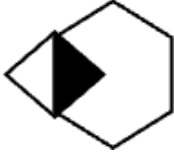
4. 2170

Q.16 जब दर्पण को नीचे दिखाए अनुसार MN पर रखा जाए तो दी गई आकृति के सही दर्पण प्रतिबिंब का चयन कीजिए।

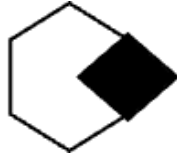


Ans

✓ 1.



✗ 2.



✗ 3.



✗ 4.



Q.17 यदि 'A' का अर्थ '+' है, 'B' का अर्थ '-' है, 'C' का अर्थ 'x' है और 'D' का अर्थ '+' है, तो निम्नलिखित समीकरण में प्रश्न-चिह्न '?' के स्थान पर क्या आएगा?

$$21 B 45 D 3 A 10 C 2 = ?$$

Ans

✗ 1. 21

✗ 2. 22

✓ 3. 26

✗ 4. 19

Q.18 अंग्रेजी वर्णानुक्रम के आधार पर, निम्नलिखित चार अक्षर-समूह युग्मों में से तीन किसी निश्चित तरीके से एकसमान हैं और इस प्रकार एक गुप बनाते हैं। कौन-सा अक्षर-समूह युग्म, उस गुप से संबंधित नहीं है? (नोट: असंगत अक्षर-समूह युग्म, व्यंजनों/स्वरों की संख्या या उनकी स्थिति पर आधारित नहीं है।)

Ans

✗ 1. QN - KH

✗ 2. MJ - GD

✗ 3. UR - OL

✓ 4. IF - CA

Q.19 दी गई श्रृंखला में प्रश्न-चिह्न (?) के स्थान पर क्या आना चाहिए?

$$82 \ 91 \ 75 \ 100 \ 64 \ ?$$

Ans

✗ 1. 117

✗ 2. 110

✓ 3. 113

✗ 4. 121

Q.20 प्रश्न-चिन्ह (?) के स्थान पर क्या आना चाहिए?

0, 25, 55, 90, 130, ?

- Ans
- 1. 180
 - 2. 165
 - 3. 170
 - 4. 175

Section : General Awareness

Q.1 विकासशील देशों में कल्याण के माप के रूप में सकल घरेलू उत्पाद के उपयोग करने की एक प्रमुख सीमा निम्नलिखित में से कौन-सी है?

- Ans
- 1. सकल घरेलू उत्पाद में मुद्देतर आर्थिक विनिमय शामिल नहीं होते हैं।
 - 2. सकल घरेलू उत्पाद में कुछ उत्पादक गतिविधियों की उपेक्षा की जा सकती है।
 - 3. सकल घरेलू उत्पाद में अनैपचारिक क्षेत्रक गतिविधियां शामिल होती हैं।
 - 4. सकल घरेलू उत्पाद में समग्र आर्थिक संवृद्धि को कम आंका जाता है।

Q.2 निम्नलिखित में से किस राज्य में दिसंबर 2024 में 86वीं सीनियर राष्ट्रीय बैडमिंटन चैंपियनशिप आयोजित की गई थी?

- Ans
- 1. उत्तर प्रदेश
 - 2. ओडिशा
 - 3. कर्नाटक
 - 4. पश्चिम बंगाल

Q.3 होला मोहल्ला, एक तीन-दिवसीय उत्सव, जिसमें युद्ध-कौशल के प्रदर्शन, नकली लड़ाइयाँ तथा वीरता और अनुशासन का प्रदर्शन किया जाता है, को किस प्रकार के उत्सव के रूप में मनाया गया?

- Ans
- 1. मानसून उत्सव (monsoon festival)
 - 2. वसंत पुष्प उत्सव (spring flower festival)
 - 3. मार्शल उत्सव (martial festival)
 - 4. फसल उत्सव (harvest festival)

Q.4 जुलाई 2025 में, किस संगठन के वैज्ञानिकों ने पश्चिम बंगाल में मकड़ी के अंडों पर परजीवी ततैया की चार नई प्रजातियों की खोज की घोषणा की?

- Ans
- 1. भारतीय प्राणी सर्वेक्षण (ZSI)
 - 2. भारतीय वन्यजीव संस्थान (WII)
 - 3. भारतीय कृषि अनुसंधान परिषद (ICAR)
 - 4. भारतीय वनस्पति सर्वेक्षण (BSI)

Q.5 'मेरा गाँव मेरी धरोहर' पहल को 2025 में किस राष्ट्रीय मिशन के तहत लागू किया गया?

- Ans
- 1. राष्ट्रीय ग्रामीण विरासत योजना (National Rural Heritage Plan)
 - 2. राष्ट्रीय सांस्कृतिक मानचित्रण मिशन (National Mission on Cultural Mapping)
 - 3. डिजिटल भारत सांस्कृतिक परियोजना (Digital Bharat Cultural Project)
 - 4. ग्राम सांस्कृतिक पुनर्जागरण कार्यक्रम (Village Cultural Renaissance Programme)

Q.6 कीनेसियन (Keynesian) राजकोषीय नीति के अनुसार, जब कोई सरकार सड़कों और पुलों जैसी बुनियादी सुविधाओं के निर्माण पर मुद्रा खर्च करती है, तो देश की आय और रोज़गार पर इसका सबसे संभावित प्रभाव क्या होता है?

- Ans
- 1. आय और रोज़गार, दोनों में वृद्धि की अपेक्षा होती है।
 - 2. आय को प्रभावित किए बिना केवल रोज़गार बढ़ता है।
 - 3. रोज़गार बढ़ता है, लेकिन आय अपरिवर्तित रहती है।
 - 4. आय बढ़ती है, लेकिन रोज़गार घटता है।

Q.7 1922 में असहयोग आंदोलन को वापस लेने का तात्कालिक कारण क्या था?

- Ans
- 1. गांधी की गिरफ्तारी
 - 2. साइमन आयोग का आगमन
 - 3. चोरी चौरा घटना
 - 4. जलियांवाला बाग नरसंहार

Q.8 1987 में NABARD द्वारा शुरू किए गए 'एक्शन रिसर्च प्रोग्राम' के संदर्भ में MYRADA का पूरा नाम क्या है?

- Ans
- 1. Microfinance and Rural Development Association (माइक्रोफाइनेंस और रूरल डेवलपमेंट एसोसिएशन)
 - 2. Mysore Resettlement and Development Agency (मैसूर रिसेटलमेंट एंड डेवलपमेंट एजेंसी)
 - 3. Mysore Rural and Development Agency (मैसूर रूरल एंड डेवलपमेंट एजेंसी)
 - 4. Madras Research and Development Alliance (मद्रास रिसर्च और डेवलपमेंट एलायंस)

Q.9 माइक्रोफाइनेंस संस्थान का प्राथमिक कार्य क्या है?

- Ans
- 1. निम्न आय वाले समूहों को लघु ऋण और वित्तीय सेवाएं प्रदान करना
 - 2. वित्तीय प्रणाली में बैंकिंग परिचालन को विनियमित करना
 - 3. स्थापित व्यवसायों को बड़े कॉर्पोरेट ऋण प्रदान करना
 - 4. उच्च आय वाले व्यक्तियों को बीमा कवरेज प्रदान करना

Q.10 दिसंबर 2025 में आयोजित 5वीं नेशनल फिनस्विमिंग चैंपियनशिप में किस राज्य ने लगातार पाँचवाँ राष्ट्रीय खिताब जीतकर रिकॉर्ड बनाया?

- Ans
- 1. उत्तर प्रदेश
 - 2. कर्नाटक
 - 3. महाराष्ट्र
 - 4. पश्चिम बंगाल

Q.11 ICC U-19 महिला T20 विश्व कप 2025 में 'प्लेयर ऑफ़ द टूर्नामेंट' किसे घोषित किया गया?

- Ans
- 1. वैष्णवी शर्मा (Vaishnavi Sharma)
 - 2. जी. कमलिनी (G Kamalini)
 - 3. गोंगाडी त्रिशा (Gongadi Trisha)
 - 4. सानिका चल्के (Sanika Chalke)

Q.12 1943 में पूर्वी एशिया पहुँचने के बाद सुभाष चंद्र बोस किस संगठन के अध्यक्ष बने?

- Ans
- 1. ऑल इंडिया मुस्लिम लीग
 - 2. इंडियन नेशनल कांग्रेस
 - 3. कांग्रेस सोशलिस्ट पार्टी
 - 4. इंडियन इंडिपेंडेंस लीग

Q.13 जल आपूर्ति, सीवर व्यवस्था, शहरी परिवहन और हरित स्थानों जैसी आवश्यक सेवाओं तक उन्नत पहुंच के माध्यम से शहरी जीवन को बेहतर बनाने के लिए भारत में अटल कायाकल्प और शहरी परिवर्तन मिशन (AMRUT) कब शुरू किया गया था?

- Ans
- 1. 2025
 - 2. 2022
 - 3. 2015
 - 4. 2018

Q.14 ब्रिटिश सरकार द्वारा साइमन कमीशन की नियुक्ति किस वर्ष की गई थी?

- Ans
- 1. 1924
 - 2. 1930
 - 3. 1935
 - 4. 1927

Q.15 प्रेस की स्वतंत्रता सहित सामाजिक और राजनीतिक सुधारों की वकालत करने के लिए समाचार पत्र 'संवाद कौमुदी' (Sambad Kaumudi) का प्रकाशन किसने किया?

- Ans
- 1. ईश्वर चंद्र विद्यासागर
 - 2. सुरेंद्रनाथ बनर्जी
 - 3. बाल गंगाधर तिलक
 - 4. राजाराम मोहन राय

Q.16 30 जून 2025 को, किस भारतीय राज्य ने शहरी निर्धन महिलाओं को डिजिटल सेवा प्रदाताओं के रूप में सशक्त बनाने के लिए 'डिजी-लक्ष्मी' योजना की शुरुआत की है?

- Ans
- 1. कर्नाटक
 - 2. ओडिशा
 - 3. आंध्र प्रदेश
 - 4. तेलंगाना

Q.17 किस एजेंसी ने 12-दिवसीय 'साइबर सुरक्षा' बहु-चरणीय साइबर सिक्योरिटी प्रशिक्षण अभ्यास शुरू किया?

- Ans
- 1. इंडियन कंप्यूटर इमरजेंसी रिस्पॉन्स टीम (Indian Computer Emergency Response Team)
 - 2. नेशनल साइबर कोऑर्डिनेशन सेंटर (National Cyber Coordination Centre)
 - 3. इंडियन साइबरक्राइम कोऑर्डिनेशन सेंटर (Indian Cybercrime Coordination Centre)
 - 4. डिफेंस साइबर एजेंसी (Defence Cyber Agency)

Q.18 भारत में राष्ट्रीय मतदाता दिवस 2026 की थीम क्या थी?

- Ans
- 1. प्राउड टू पार्टिसिपेट (Proud to Participate)
 - 2. एवरी वोट काउंट्स (Every Vote Counts)
 - 3. एम्पावरिंग डेमोक्रेसी (Empowering Democracy)
 - 4. माई इंडिया, माई वोट (My India, My Vote)

Q.19 1857 के विद्रोह के दौरान संबलपुर में किस क्षेत्र के गोंड जमींदार विशेष रूप से सक्रिय थे?

- Ans
- 1. कोलेबिरा और कोडाबागा
 - 2. रांची और चाईबासा
 - 3. जशपुर और रायगढ़
 - 4. उमरकोट और नबरंगपुर

Q.20 भारत सरकार द्वारा सामुदायिक विकास कार्यक्रम (CDP) कब शुरू किया गया था?

- Ans
- 1. 1958
 - 2. 1955
 - 3. 1952
 - 4. 1965

Section : General Awareness1

Q.1 जब कोई चींटी काटती है, तो वह त्वचा में फॉर्मिक अम्ल डाल देती है। इस अम्ल के प्रभाव को निम्नलिखित में से किसका प्रयोग करके उदासीन किया जा सकता है?

- Ans
- 1. बेकिंग सोडा
 - 2. ज्वारीय लवण
 - 3. सिरका
 - 4. नींबू का रस

Q.2 माता-पिता से विरासत में मिले लक्षण _____ में संग्रहित होते हैं।

- Ans
- 1. सूत्रकणिका (Mitochondria)
 - 2. गुणसूत्रों (Chromosomes)
 - 3. राइबोसोम (Ribosomes)
 - 4. नाभिक (Nuclei)

Q.3 1992 में 71वें संविधान संशोधन के माध्यम से निम्नलिखित में से किस भाषा को सम्मिलित नहीं किया गया था?

- Ans
- 1. कोंकणी
 - 2. संथाली
 - 3. मणिपुरी
 - 4. नेपाली

Q.4 भारत के संविधान में 42वें संवैधानिक संशोधन अधिनियम, 1976 द्वारा अंतर्निहित मौलिक कर्तव्य किस अनुच्छेद के अंतर्गत आते हैं?

- Ans
- 1. अनुच्छेद 368A
 - 2. अनुच्छेद 19A
 - 3. अनुच्छेद 51A
 - 4. अनुच्छेद 32A

Q.5 संविधान (91वां संशोधन) अधिनियम, 2003 द्वारा किस अनुच्छेद में खंड 1A जोड़ा गया, जो प्रधानमंत्री सहित मंत्रिपरिषद के आकार को सीमित करता है?

- Ans
- 1. अनुच्छेद 61
 - 2. अनुच्छेद 89
 - 3. अनुच्छेद 55
 - 4. अनुच्छेद 75

Q.6 एसिटिक एनहाइड्राइड के साथ ग्लूकोज के ऐसीटिलन से कितने हाइड्रॉक्सिल समूहों की उपस्थिति की पुष्टि होती है?

- Ans
- 1. चार
 - 2. छह
 - 3. तीन
 - 4. पाँच

Q.7 संवैधानिक उपचारों का अधिकार नागरिकों को निम्नलिखित में से कौन-सा अधिकार प्रदान करता है?

- Ans
- 1. मौलिक अधिकारों के प्रवर्तन के लिए अदालत का रुख करने का
 - 2. संविधान में संशोधन का
 - 3. सीधे संसद से संपर्क का
 - 4. विदेशी अदालतों से कानूनी सहायता लेने का

Q.8 भारत में किस प्रकार की कृषि की विशेषता, प्रति इकाई भूमि पर श्रम और निवेश (input) का अत्यधिक उपयोग है?

- Ans
- 1. व्यापक वाणिज्यिक कृषि श्रेणी
 - 2. गहन निर्वाह कृषि श्रेणी
 - 3. बागान कृषि श्रेणी
 - 4. स्थानांतरी कृषि श्रेणी

Q.9 राज्य सभा का सभापति _____ होता है।

- Ans
- 1. प्रधानमंत्री
 - 2. राष्ट्रपति
 - 3. अध्यक्ष
 - 4. उपराष्ट्रपति

Q.10 निम्नलिखित में से कौन-सा शहर ऐतिहासिक रूप से सूती कपड़ा मिलों के सबसे बड़े संकेंद्रण (largest concentration) से संबंधित है, जिसने इसकी औद्योगिक प्रमुखता में योगदान दिया है?

- Ans
- 1. मुंबई
 - 2. कोयंबटूर
 - 3. सूरत
 - 4. दिल्ली

Q.11 नीलगिरि पहाड़ियाँ निम्नलिखित में से किन दो राज्यों में फैली हुई हैं?

- Ans
- 1. राजस्थान और मध्य प्रदेश
 - 2. महाराष्ट्र और राजस्थान
 - 3. तमिलनाडु और केरल
 - 4. महाराष्ट्र और गुजरात

Q.12 2011 की जनगणना के अनुसार, भारत में कुल हिंदू जनसंख्या कितनी थी?

- Ans
- 1. 90.83 करोड़
 - 2. 78.69 करोड़
 - 3. 96.63 करोड़
 - 4. 79.80 करोड़

Q.13 विशाल भारतीय मरुस्थल में वार्षिक वर्षा कितनी होती है?

- Ans
- 1. 25 से 35 mm
 - 2. 15 cm से कम
 - 3. 15-25 mm
 - 4. 35-50 mm

Q.14 निम्नलिखित में से कौन-सा, प्राचीन भारतीय स्मारक अपनी विशाल ग्रेनाइट संरचना और एकात्मक नदी प्रतिमा और भव्य मंदिर शिखर के लिए विख्यात है?

- Ans
- 1. बृहदेश्वर मंदिर
 - 2. अशोक स्तंभ
 - 3. शोर मंदिर
 - 4. पंच रथ

Q.15 बुद्ध और महावीर ने अपनी शिक्षाएं किस भाषा समूह से संबंधित बोलियों में प्रदान कीं?

- Ans
- 1. मराठी
 - 2. प्राकृत
 - 3. असमिया
 - 4. हिंदी

Q.16 मंदिर वास्तुकला की वेसर शैली में, गर्भगृह का शिखर नागर शैली के _____ को द्रविड़ शैली के _____ अभिलक्षणों के साथ जोड़ता है।

- Ans
- 1. मंडप गलियारे; प्राकार चारदीवारी
 - 2. वक्ररेखीय शिखर; पिरामिडनुमा विमान
 - 3. अमलका डिस्क; पानी की टंकी
 - 4. गोपुरम खड़ी सीढ़ियों; जगती मंच

Q.17 यदि राष्ट्रपति द्वारा किसी विधेयक (धन विधेयक के अतिरिक्त) को पुनर्विचार के लिए संसद को वापस भेजा जाता है और सदन द्वारा उसे दोबारा पारित कर दिया जाता है, तो ऐसी स्थिति में राष्ट्रपति को क्या करना चाहिए?

- Ans
- 1. अनुमति को रोक देना चाहिए
 - 2. विधेयक पर अनुमति देनी चाहिए
 - 3. आगे के संशोधनों का सुझाव देना चाहिए
 - 4. विधेयक को पुनः वापस भेज देना चाहिए

Q.18 मेयोनेज़ (mayonnaise) बनाते समय, अंडे की ज़र्दी का उपयोग मुख्य रूप से एक पायसीकारक (emulsifier) के तौर पर किया जाता है। एक पायसीकारक की रासायनिक भूमिका क्या है?

- Ans
- 1. स्टार्च मिलाकर द्रव की स्थानता बढ़ाना
 - 2. तेल में मौजूद सुगंध यौगिकों को रासायनिक रूप से बदलना
 - 3. दो अमिश्रणीय द्रवों के मिश्रण को स्थिर करना
 - 4. शर्करा को क्रिस्टलीकृत करना और धुंधलापन रोकना

Q.19 गंगा, यमुना, गोदावरी और शिप्रा नदियों के तट पर चार अलग-अलग स्थानों पर समय-समय पर आयोजित होने वाले और लंबी अवधि तक बड़ी संख्या में तपस्वियों और तीर्थयात्रियों के एकत्र होने वाले निम्नलिखित धार्मिक मेलों में से किसे विश्व का सबसे लंबा धार्मिक मेला माना जाता है?

- Ans
- 1. श्रावणी मेला
 - 2. कुंभ मेला
 - 3. पुष्कर मेला
 - 4. गंगा सागर मेला

Q.20 अधिकांश फलों और दही जैसे कुछ डेयरी उत्पादों का तीखा, खट्टा स्वाद _____ की उपस्थिति के कारण होता है।

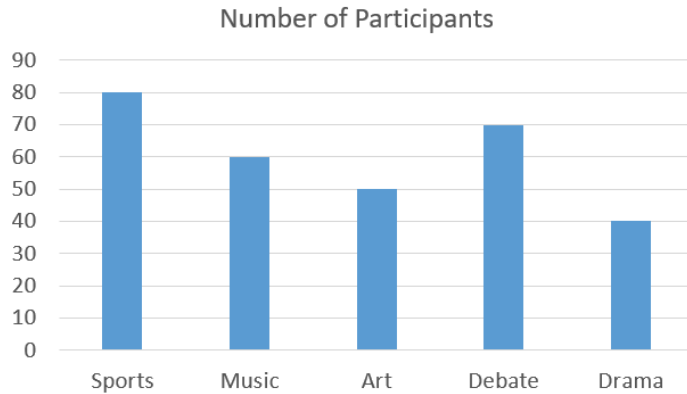
- Ans
- 1. वसा अम्ल
 - 2. कार्बोहाइड्रेट
 - 3. ऐमीनो अम्ल
 - 4. कार्बनिक अम्ल

Section : Arithmetical and Numerical Ability

Q.1 यदि किसी टी-शर्ट की मूल कीमत ₹1,199 है और अब सेल में इसकी कीमत ₹999 है, तो कीमत में प्रतिशत कमी (एक दशमलव स्थान तक पूर्णांकित) क्या है?

- Ans
- 1. 12.5%
 - 2. 14.8%
 - 3. 13.4%
 - 4. 16.7%

Q.2 वाद-विवाद और नाटक में भाग लेने वाले विद्यार्थियों की कुल संख्या कितनी है?

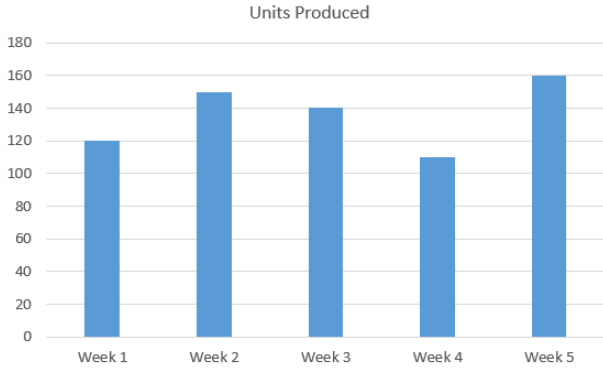


संदर्भ:

Number of Participants - प्रतिभागियों की संख्या, Sports - खेल, Music - संगीत, Art - कला, Debate - वाद-विवाद, Drama - नाटक

- Ans
- 1. 70
 - 2. 110
 - 3. 140
 - 4. 120

Q.3 यदि किसी फैक्ट्री का लक्ष्य प्रत्येक सप्ताह न्यूनतम 130 इकाइयों का उत्पादन करना है, तो फैक्ट्री ने कितने सप्ताह में यह लक्ष्य पूरा किया या लक्ष्य से अधिक उत्पादन किया?



संदर्भ:

Units Produced - उत्पादित इकाइयाँ, Week 1 - सप्ताह 1, Week 2 - सप्ताह 2, Week 3 - सप्ताह 3, Week 4 - सप्ताह 4, Week 5 - सप्ताह 5

- Ans
- 1. 5 सप्ताह
 - 2. 2 सप्ताह
 - 3. 3 सप्ताह
 - 4. 4 सप्ताह

Q.4 ₹3,000 की धनराशि 10% वार्षिक चक्रवृद्धि ब्याज दर पर कितने समय में ₹3,630 हो जाएगी, जहाँ ब्याज वार्षिक रूप से संयोजित होता है?

- Ans
- 1. 3 वर्ष
 - 2. $3\frac{1}{2}$ वर्ष
 - 3. $1\frac{1}{2}$ वर्ष
 - 4. 2 वर्ष

Q.5 दो विद्यार्थी एक परीक्षा में उपस्थित हुए। उनमें से एक ने दूसरे से 4 अंक अधिक प्राप्त किए और उसके अंक दोनों के द्वारा प्राप्त अंकों के योगफल के 68% थे। उसके द्वारा प्राप्त अंकों का योगफल (दशमलव के दो स्थानों तक पूर्णांकित) ज्ञात कीजिए।

- Ans
- 1. 11.11
 - 2. 7.11
 - 3. 15.11
 - 4. 12.11

Q.6 एक व्यक्ति के पास तीन प्रकार के गेहूँ हैं जिनकी कीमत क्रमशः ₹30, ₹40 और ₹50 प्रति kg है। वह उन्हें 2 : 3 : 5 के अनुपात में मिलाता है। परिणामी मिश्रण की प्रति kg कीमत ज्ञात कीजिए।

- Ans
- 1. ₹43
 - 2. ₹42
 - 3. ₹41
 - 4. ₹40

Q.7 8 संख्याओं का औसत 37 है। यदि प्रत्येक संख्या में से 6 घटा दिया जाए, तो नया औसत क्या होगा?

- Ans
- 1. 37
 - 2. 31
 - 3. 25
 - 4. 8

Q.8 किसी आयत की लंबाई और चौड़ाई में क्रमशः 12% और 5% की वृद्धि की जाती है। आयत के क्षेत्रफल में कितने प्रतिशत की वृद्धि होगी?

- Ans
- 1. 17.5%
 - 2. 17.4%
 - 3. 17.6%
 - 4. 17.7%

Q.9 कितनी धनराशि (₹ में) 4% वार्षिक साधारण ब्याज दर पर 6 वर्षों में ₹3,720 हो जाएगी?

- Ans
- 1. 15,500
 - 2. 3,000
 - 3. 3,050
 - 4. 2,950

Q.10 $\frac{5^{28} \times 7^3 \times 119 \times 3^{25}}{15^{25} \times 17}$ का मान ज्ञात कीजिए।

- Ans
- 1. 309456
 - 2. 315982
 - 3. 300125
 - 4. 312098

Q.11 34, 38 और 46 का लघुत्तम समापवर्त्य (LCM) ज्ञात कीजिए।

- Ans
- 1. 15000
 - 2. 14858
 - 3. 15856
 - 4. 14786

Q.12 एक व्यापारी अपने माल को क्रय मूल्य से 46% अधिक पर अंकित करता है और उस पर 9% की छूट देता है। यदि उसे x% का लाभ होता है, तो x का मान कितना होगा?

- Ans
- 1. 33.86
 - 2. 31.86
 - 3. 32.86
 - 4. 34.86

Q.13 प्रथम 10 प्राकृतिक संख्याओं का औसत ज्ञात कीजिए।

- Ans
- 1. 6
 - 2. 6.5
 - 3. 5
 - 4. 5.5

Q.14 ₹10,00,000 की धनराशि किसी निश्चित वार्षिक चक्रवृद्धि ब्याज दर पर 3 वर्षों में ₹16,01,613 हो जाती है, जहां ब्याज वार्षिक रूप से संयोजित होता है। वार्षिक ब्याज दर ज्ञात कीजिए।

- Ans
- 1. 17%
 - 2. 14%
 - 3. 15%
 - 4. 18%

Q.15 एक व्यापारी अपने माल को क्रय मूल्य से 45% अधिक अंकित करता है और उस पर 18% की छूट देता है। यदि उसे x% का लाभ प्राप्त होता है, तो x का मान ज्ञात कीजिए।

- Ans
- 1. 19.9
 - 2. 18.9
 - 3. 17.9
 - 4. 20.9

Q.16 58 आमों की कीमत ₹870 है। 22 आमों की कीमत कितनी होगी?

- Ans
- 1. ₹280
 - 2. ₹420
 - 3. ₹330
 - 4. ₹380

Q.17 एक आयत की लंबाई और चौड़ाई में क्रमशः 35% और 18% की वृद्धि की जाती है। आयत का क्षेत्रफल कितने प्रतिशत बढ़ जाएगा?

- Ans
- 1. 59.3%
 - 2. 56.3%
 - 3. 57.3%
 - 4. 54.3%

Q.18 दो कक्षाओं के विद्यार्थियों के औसत अंक क्रमशः 20 और 35 हैं, संयुक्त रूप से दोनों कक्षाओं के विद्यार्थियों के औसत अंक 25 है। कक्षाओं में विद्यार्थियों का अनुपात ज्ञात कीजिए।

- Ans
- 1. 2:1
 - 2. 2:3
 - 3. 1:2
 - 4. 3:1

Q.19 ₹2,500 की राशि 2% वार्षिक चक्रवृद्धि ब्याज पर निवेश की जाती है, जहां ब्याज वार्षिक रूप से संयोजित होता है। यदि राशि बढ़कर ₹2,601 हो जाती है, तो निवेश का समय ज्ञात कीजिए।

- Ans
- 1. 1.5 वर्ष
 - 2. 2.5 वर्ष
 - 3. 1 वर्ष
 - 4. 2 वर्ष

Q.20 $\frac{(477 \div 9 \times 8 + 18)}{a} = 6^2 \div 5 + 5.8$ व्यंजक में 'a' का मान ज्ञात कीजिए।

- Ans
- 1. 35
 - 2. 37
 - 3. 41
 - 4. 34

Section : Arithmetical and Numerical Ability1

Q.1 8 cm, 4 cm और 6 cm विमाओं वाले एक ठोस घनाभ को पिघलाकर, समान आकार के 24 छोटे ठोस घन बनाए जाने हैं। प्रत्येक घन का पृष्ठीय क्षेत्रफल कितना होगा?

- Ans
- 1. 24 cm²
 - 2. 12 cm²
 - 3. 8 cm²
 - 4. 4 cm²

Q.2 9 cm त्रिज्या वाले धातु के एक ठोस गोले को पिघलाकर 6 cm त्रिज्या वाला एक ठोस शंकु बनाया जाता है। शंकु की ऊंचाई ज्ञात कीजिए।

- Ans
- 1. 81 cm
 - 2. 54 cm
 - 3. 63 cm
 - 4. 27 cm

Q.3 P की धनराशि का $\frac{1}{8}$ वां भाग, Q की धनराशि के $\frac{1}{10}$ वें भाग के बराबर है। यदि उनकी धनराशि का संकलन ₹1125 है, तो उनकी धनराशि का अंतर ज्ञात कीजिए।

- Ans
- 1. ₹148
 - 2. ₹166
 - 3. ₹125
 - 4. ₹204

Q.4 110 m और 90 m लंबाई वाली दो रेलगाड़ियां समांतर पटरियों पर एक ही दिशा में क्रमशः 35 km/hr और 40 km/hr की चाल से चल रही हैं। तेज चलने वाली रेलगाड़ी को दूसरी रेलगाड़ी को पूरी तरह से पार करने में कितना समय लगेगा?

- Ans
- 1. 154 सेकंड
 - 2. 148 सेकंड
 - 3. 158 सेकंड
 - 4. 144 सेकंड

Q.5 किसी वस्तु का अंकित मूल्य उसके क्रय मूल्य से 12% अधिक है। यदि इसे 6% की छूट पर बेचा जाता है, तो लाभ या हानि प्रतिशत ज्ञात कीजिए।

- Ans
- 1. हानि 5.20%
 - 2. हानि 5.28%
 - 3. लाभ 5.28%
 - 4. लाभ 5.20%

Q.6 L, M और N ने एक व्यवसाय में ₹1,50,000 का निवेश किया। L ने M से ₹12,000 अधिक और M ने N से ₹15,000 अधिक निवेश किया। कुल लाभ ₹2,80,000 में से L को प्राप्त होने वाला हिस्सा ज्ञात कीजिए।

- Ans
- 1. ₹68,200
 - 2. ₹1,04,500
 - 3. ₹96,200
 - 4. ₹1,17,600

Q.7 किसी उत्पाद पर 93% का लाभ होता है। यदि क्रय मूल्य और विक्रय मूल्य को परस्पर बदल दिया जाए, तो बिक्री पर होने वाला हानि प्रतिशत (दशमलव के ठीक दो स्थानों तक) कितना होगा?

- Ans
- 1. 48.19%
 - 2. 45.46%
 - 3. 48.24%
 - 4. 47.73%

Q.8 42 km/hr की चाल से चलते हुए एक बस 140 मीटर आगे उसी दिशा में चल रहे एक ट्रक को 36 सेकंड में ओवरटेक कर लेती है। ट्रक की चाल ज्ञात कीजिए।

- Ans
- 1. 27 km/hr
 - 2. 30 km/hr
 - 3. 28 km/hr
 - 4. 25 km/hr

Q.9 किसी बेलनाकार पात्र के आधार की परिधि 132 cm है और इसकी ऊंचाई 50 cm है। इसमें कितने लीटर जल रखा जा सकता है?

$$\left(\pi = \frac{22}{7} \text{ का उपयोग कीजिए}\right)$$

- Ans
- 1. 69.3
 - 2. 67.9
 - 3. 77.7
 - 4. 71.6

Q.10 180 m और 160 m लंबी दो ट्रेनें समांतर पटरियों पर एक दूसरे की ओर क्रमशः 95 km/hr और 85 km/hr की चाल से गतिमान हैं। यदि वे 110 m की दूरी पर हैं, तो कितने सेकंड बाद वे एक दूसरे को पार करेंगी?

- Ans
- 1. 12
 - 2. 10
 - 3. 9
 - 4. 14

Q.11 यदि किसी महाविद्यालय से 6,450 अभ्यर्थी CAT की परीक्षा में सम्मिलित होते हैं तथा उस परीक्षा में छात्र और छात्राओं का अनुपात 29 : 14 था, तो उस महाविद्यालय से परीक्षा में सम्मिलित होने वाले छात्रों की संख्या ज्ञात कीजिए।

- Ans
- 1. 4368
 - 2. 4341
 - 3. 4350
 - 4. 4363

Q.12 24.5 cm त्रिज्या वाले एक ठोस अर्धगोले को पिघलाकर 10.5 cm त्रिज्या वाले छोटे अर्धगोले बनाए जाते हैं। पूर्णतः निर्मित छोटे अर्धगोले की संख्या ज्ञात कीजिए।

- Ans
- 1. 15
 - 2. 13
 - 3. 14
 - 4. 12

Q.13 T और P एक साथ मिलकर किसी कार्य को 12 दिनों में पूरा कर सकते हैं। अकेले T को उस कार्य को पूरा करने में अकेले P द्वारा उसे पूरा करने में लगने वाले समय से दोगुना समय लगता है। अकेले T को उस कार्य को पूरा करने में कितने दिन लगेंगे?

- Ans
- 1. 15
 - 2. 18
 - 3. 36
 - 4. 25

Q.14 A एक कार्य को 18 दिनों में पूरा कर सकता है, और B उसी कार्य को 10 दिनों में पूरा कर सकता है। C की मदद से उन्होंने कार्य को 3 दिनों में पूरा कर लिया। तो, C अकेले उसी कार्य को कितने दिनों में पूरा कर सकता है?

- Ans
- 1. $5\frac{5}{8}$ दिन
 - 2. $11\frac{5}{8}$ दिन
 - 3. $7\frac{5}{8}$ दिन
 - 4. $14\frac{5}{8}$ दिन

Q.15 एक व्यापारी ने सेल के समय रेडीमेड कपड़ों की अंकित कीमत पर 30% की छूट देने की घोषणा की है। यदि कोई खरीदार ₹408 की छूट चाहता है, तो उसे कितनी शर्ट खरीदनी चाहिए, जिनमें से प्रत्येक की अंकित कीमत ₹340 हो?

- Ans
- 1. 4
 - 2. 5
 - 3. 2
 - 4. 3

Q.16 अकेले कार्य करते हुए A, B, C और D किसी कार्य को क्रमशः 5 दिन, 6 दिन, 8 दिन और 10 दिन में पूरा कर सकते हैं। उन्होंने एकांतर दिन पर बारी-बारी से कार्य करने का निर्णय लिया, कार्य शुरी होता है, जिसमें पहले दिन B कार्य करता है, दूसरे दिन D कार्य करता है, तीसरे दिन A कार्य करता है, चौथे दिन C कार्य करता है, पांचवें दिन फिर से B कार्य करता है और इसी प्रकार आगे कार्य जारी रहता है। कार्य कितने दिन में पूरा होगा?

- Ans
- 1. $8\frac{19}{21}$ दिन
 - 2. $6\frac{17}{24}$ दिन
 - 3. $7\frac{12}{23}$ दिन
 - 4. $5\frac{12}{19}$ दिन

Q.17 दो स्थानों A और B के बीच की दूरी 440 km है। 6:00 a.m. पर एक ट्रेन स्थान A से 50 km/h की चाल से और 7:00 a.m. पर दूसरी ट्रेन स्थान B से 80 km/h की चाल से एक-दूसरे की ओर चलना शुरू करती है। वे किस समय मिलेंगी?

- Ans
- 1. 11:20 am
 - 2. 10:00 am
 - 3. 11:35 am
 - 4. 10:40 am

Q.18 किसी उत्पाद पर अर्जित होने वाला लाभ 75% है। यदि क्रय मूल्य और विक्रय मूल्य को आपस में बदल दिया जाए, तो बिक्री पर होने वाली हानि का प्रतिशत (दशमलव के दो स्थानों तक) ज्ञात कीजिए।

- Ans
- 1. 42.86%
 - 2. 41.44%
 - 3. 40.01%
 - 4. 45.05%

Q.19 यदि $(x + 2)$, $(x - 3)$, और $5x$ का चतुर्थानुपाती 20 है, तो x का धनात्मक मान ज्ञात कीजिए।

- Ans
- 1. 2
 - 2. 4
 - 3. 8
 - 4. 16

Q.20 A किसी कार्य को अकेले 20 दिनों में पूरा कर सकता है और B उसी कार्य को अकेले 30 दिनों में खराब कर सकता है। यदि दोनों एकांतर दिनों (अर्थात् A विषम दिनों पर और B सम दिनों पर कार्य करता है) पर कार्य करते हैं, तो यह कार्य पहली बार कितने दिनों में पूरा होगा?

- Ans
- 1. 110
 - 2. 105
 - 3. 120
 - 4. 115

Section : Test of English Language and Comprehension

Q.1 Complete the sentence with the suitable word.

She was awarded a grant ____ her groundbreaking research in renewable energy.

- Ans
- 1. on
 - 2. by
 - 3. for
 - 4. to

Q.2 Select the most appropriate option from the given alternatives to fill in the blank.

The white people _____ needed a team leader who would free them.433

- Ans
- 1. nearly
 - 2. slightly
 - 3. fairly
 - 4. badly

Q.3 Select the most appropriate option to fill in the blank and complete the given sentence.

He _____ me a window of opportunity so that I could take action and progress in life.

- Ans
- 1. validated
 - 2. provided
 - 3. signed
 - 4. ordered

Q.4 Fill in the blank with the most appropriate article. If no article is needed, choose 'no article required'.

We visited _____ Louvre when we went to Paris last summer.

- Ans
- 1. a
 - 2. an
 - 3. no article required
 - 4. the

Q.5 Choose the most appropriate option to fill in the blank.

She _____ by the end of the next month.

800

- Ans
- 1. will have graduated
 - 2. graduate
 - 3. have graduated
 - 4. had graduated

Q.6 Identify the error in the sentence and select the best correction. If there is no error, select 'No correction required'.

He was chosen to lead the project because of his expertise. 2166

- Ans
- 1. No correction required.
 - 2. He had chosen to lead the project because of his expertise.
 - 3. He was chosen to lead the project because of his expert.
 - 4. He has chosen to lead the project because of his expertise.

Q.7 The given sentence has an error. Select the option that rectifies the error.

The children played joyful in the park.860

- Ans
- 1. The children played most joyful in the park.
 - 2. The children played more joyful in the park.
 - 3. The children played joyfull in the park.
 - 4. The children played joyfully in the park.

Q.8 In the given question, a statement divided into different segments is given. Rearrange all the segments to form a coherent statement.

hanging down his head(A)/ clear his debts(B) /he could not(C)/ answered that(D)/ Smith(E)

- Ans
- 1. DABCE
 - 2. EACBD
 - 3. EADCB
 - 4. DAECB

Q.9 Fill in the blank with the most appropriate article. If no article is needed, choose 'No article required'.

___ Prime Minister addressed the nation last night.

- Ans
- 1. A
 - 2. No article required
 - 3. The
 - 4. An

Q.10 Choose the most appropriate option to complete the given sentence.

The ancient ruins were remarkably ____, considering they had survived centuries of natural disasters.

- Ans
- 1. feeble
 - 2. intact
 - 3. deteriorated
 - 4. fragile

Q.11 Fill in the blank with the most suitable article:

I have not seen ___ Pyramids of Egypt.¹¹⁰⁸

- Ans
- 1. no article required
 - 2. an
 - 3. the
 - 4. a

Q.12 Choose the correct option to complete the sentence.

There was ___ hour left before the train arrived.

- Ans
- 1. an
 - 2. a
 - 3. the
 - 4. no article

Q.13 Select the option that rectifies the highlighted part of the given sentence.

She sings **more sweet than** her sister.

- Ans
- 1. more sweetly than
 - 2. very sweetly than
 - 3. most sweet than
 - 4. much sweet than

Q.14 In the given question, a statement divided into different segments is given.
Rearrange all the segments to form a coherent statement:

- (P) every child must
- (Q) of giving up at least one of the bad habits
- (R) take a resolution
- (S) such as getting up late, biting nails, etc.

3812

- Ans**
- 1. RSQP
 - 2. SPRQ
 - 3. QPRS
 - 4. PRQS

Q.15 Select the most appropriate option to fill in the blank.

He is _____ absent from work, which is why he has been suspended for a fortnight. 2387

- Ans**
- 1. nearly
 - 2. almost
 - 3. hardly
 - 4. often

Comprehension:

Read the passage carefully and answer the questions that follow.

Deglaciation, the retreat and disappearance of glaciers worldwide, serves as a visible indicator of climate change with consequences extending far beyond mountain regions. Alpine glaciers, which have persisted for millennia, are shrinking rapidly, with some projections suggesting complete disappearance within decades. These ice masses regulate river flows in downstream regions, releasing meltwater gradually through summer months when precipitation is scarce. Communities and agriculture dependent on this reliable water supply face uncertain futures as glaciers diminish. The loss of reflective ice surfaces reduces Earth's albedo, meaning more solar radiation is absorbed rather than reflected back into space, creating another positive feedback loop accelerating warming. Glacial lakes forming behind unstable moraine dams pose flood risks to downstream populations. Tourism economies built around glacial landscapes confront the loss of their primary attractions. Furthermore, deglaciation reveals landscapes unseen for thousands of years, exposing archaeological artifacts and, to the concern of scientists, potentially viable ancient microorganisms.

SubQuestion No : 16

Q.16 Select the most appropriate title for the passage.

Comprehension:

Read the passage carefully and answer the questions that follow.

Deglaciation, the retreat and disappearance of glaciers worldwide, serves as a visible indicator of climate change with consequences extending far beyond mountain regions. Alpine glaciers, which have persisted for millennia, are shrinking rapidly, with some projections suggesting complete disappearance within decades. These ice masses regulate river flows in downstream regions, releasing meltwater gradually through summer months when precipitation is scarce. Communities and agriculture dependent on this reliable water supply face uncertain futures as glaciers diminish. The loss of reflective ice surfaces reduces Earth's albedo, meaning more solar radiation is absorbed rather than reflected back into space, creating another positive feedback loop accelerating warming. Glacial lakes forming behind unstable moraine dams pose flood risks to downstream populations. Tourism economies built around glacial landscapes confront the loss of their primary attractions. Furthermore, deglaciation reveals landscapes unseen for thousands of years, exposing archaeological artifacts and, to the concern of scientists, potentially viable ancient microorganisms.

SubQuestion No : 17

Q.17 Identify the fact stated in the passage.

Comprehension:

Read the passage carefully and answer the questions that follow.

Deglaciation, the retreat and disappearance of glaciers worldwide, serves as a visible indicator of climate change with consequences extending far beyond mountain regions. Alpine glaciers, which have persisted for millennia, are shrinking rapidly, with some projections suggesting complete disappearance within decades. These ice masses regulate river flows in downstream regions, releasing meltwater gradually through summer months when precipitation is scarce. Communities and agriculture dependent on this reliable water supply face uncertain futures as glaciers diminish. The loss of reflective ice surfaces reduces Earth's albedo, meaning more solar radiation is absorbed rather than reflected back into space, creating another positive feedback loop accelerating warming. Glacial lakes forming behind unstable moraine dams pose flood risks to downstream populations. Tourism economies built around glacial landscapes confront the loss of their primary attractions. Furthermore, deglaciation reveals landscapes unseen for thousands of years, exposing archaeological artifacts and, to the concern of scientists, potentially viable ancient microorganisms.

SubQuestion No : 18

Q.18 Mention the fact given in the passage.

Comprehension:

Read the passage carefully and answer the questions that follow.

Deglaciation, the retreat and disappearance of glaciers worldwide, serves as a visible indicator of climate change with consequences extending far beyond mountain regions. Alpine glaciers, which have persisted for millennia, are shrinking rapidly, with some projections suggesting complete disappearance within decades. These ice masses regulate river flows in downstream regions, releasing meltwater gradually through summer months when precipitation is scarce. Communities and agriculture dependent on this reliable water supply face uncertain futures as glaciers diminish. The loss of reflective ice surfaces reduces Earth's albedo, meaning more solar radiation is absorbed rather than reflected back into space, creating another positive feedback loop accelerating warming. Glacial lakes forming behind unstable moraine dams pose flood risks to downstream populations. Tourism economies built around glacial landscapes confront the loss of their primary attractions. Furthermore, deglaciation reveals landscapes unseen for thousands of years, exposing archaeological artifacts and, to the concern of scientists, potentially viable ancient microorganisms.

SubQuestion No : 19

Q.19 Identify the inference drawn from the passage.

Comprehension:

Read the passage carefully and answer the questions that follow.

Deglaciation, the retreat and disappearance of glaciers worldwide, serves as a visible indicator of climate change with consequences extending far beyond mountain regions. Alpine glaciers, which have persisted for millennia, are shrinking rapidly, with some projections suggesting complete disappearance within decades. These ice masses regulate river flows in downstream regions, releasing meltwater gradually through summer months when precipitation is scarce. Communities and agriculture dependent on this reliable water supply face uncertain futures as glaciers diminish. The loss of reflective ice surfaces reduces Earth's albedo, meaning more solar radiation is absorbed rather than reflected back into space, creating another positive feedback loop accelerating warming. Glacial lakes forming behind unstable moraine dams pose flood risks to downstream populations. Tourism economies built around glacial landscapes confront the loss of their primary attractions. Furthermore, deglaciation reveals landscapes unseen for thousands of years, exposing archaeological artifacts and, to the concern of scientists, potentially viable ancient microorganisms.

SubQuestion No : 20

Q.20 Identify the tone of the passage.

Section : Test of English Language and Comprehension1

Q.1 What does the proverb "there's no smoke without fire" mean?

- Ans**
- 1. Fires are dangerous
 - 2. Rumors are often based on truth
 - 3. Gossiping is harmful
 - 4. Smoke is a sign of fire

Q.2 Parts of a sentence are given below in jumbled order. Arrange the parts in the correct order to form a meaningful sentence.

- A. actions are not taken**
- B. increasing deforestation rates could lead**
- C. and climate systems if immediate**
- D. to irreversible damage to biodiversity**

- Ans**
- 1. A, B, C, D
 - 2. C, D, B, A
 - 3. D, C, B, A
 - 4. B, D, C, A

Q.3 What does the proverb "haste makes waste" mean?

- Ans**
- 1. Hurry up and finish.
 - 2. Rushing leads to mistakes.
 - 3. It's better to be late than to do a bad job.
 - 4. One should always finish tasks quickly.

Q.4 A word segment has been highlighted in the given sentence. Select the CORRECT option that shows the most appropriate one-word substitute for the highlighted segment.

Paleontologists spent years painstakingly digging away to unearth the dinosaur bones from the rocky deposit.

- Ans
- 1. destroying
 - 2. excavating
 - 3. analysing
 - 4. transporting

Q.5 Correct the error in the sentence by choosing the correct spelling option.
The principal described the new employee as conscscientious and hard working.

- Ans
- 1. conscientious
 - 2. concientious
 - 3. conscscientiouss
 - 4. consceintious

Q.6 A word segment has been highlighted in the given sentence. Select the CORRECT option that shows the most appropriate one-word substitute for the highlighted segment.

The scientist meticulously examined the data, searching for any hidden pieces of evidence or indicative signs that could explain the anomaly.

- Ans
- 1. data
 - 2. clues
 - 3. inventions
 - 4. theories

Q.7 In the following question choose the word opposite in meaning to the given word.

DISTRAUGHT

- Ans
- 1. tormented
 - 2. bewildered
 - 3. unruffled
 - 4. distracted

Q.8 Select the wrongly spelt word from the words given below.

- Ans
- 1. beseigement
 - 2. invasion
 - 3. grimace
 - 4. resilience

Q.9 In the given question, choose the word which is opposite in meaning to the given word.

Garrulous

- Ans
- 1. Thrifty
 - 2. Succinct
 - 3. Talkative
 - 4. Confident

Q.10 In the following question choose the word opposite in meaning to the given word.

CONCILIATE

- Ans
- 1. intervene
 - 2. soothe
 - 3. incite
 - 4. mediate

Q.11 Choose the correct meaning of the given proverb.

Cross the stream where it is shallowest.

- Ans
- 1. Do things in the most difficult possible way.
 - 2. Learn how to cross a stream.
 - 3. Do things in the easiest possible way.
 - 4. Never do easy things in tough time.

Q.12 Choose the option which is opposite in meaning to the given word.

Curtail

- Ans
- 1. Praise
 - 2. Diminish
 - 3. Lengthen
 - 4. Complete

Q.13 In the question given below, out of four alternatives, choose the one which can be substituted for the underlined segment.

As a person who is genuinely interested in the welfare and emancipation of women, she worked tirelessly to challenge societal norms that limit women's opportunities.

- Ans
- 1. sexist
 - 2. liberal
 - 3. feminist
 - 4. physicist

Q.14 Select the most appropriate meaning of the given proverb.

A bird in hand is worth two in the bush.⁶⁵

- Ans
- 1. Always aim for more success.
 - 2. Value the present over the uncertain future.
 - 3. Take risk for higher rewards.
 - 4. Hope for better opportunities.

Q.15 Select the most appropriate one-word substitute for the underlined segment in the given sentence.

Looking through old photographs often brings about a sentimental longing for the past that many people cherish.

- Ans
- 1. nostalgia
 - 2. apathy
 - 3. melancholy
 - 4. reminiscence

Comprehension:

Read the passage and answer the questions.

In the vibrant city of Elmsford, the annual Art and Culture Festival draws artists and visitors from all corners of the world. This lively event showcases a rich tapestry of artistic expression, ranging from traditional paintings and folk crafts to contemporary installations and digital media displays. Streets transform into open-air galleries where murals, sculptures, and creative exhibits capture the imagination of passersby. Street performers captivate audiences with music, dance, and theatrical acts, while interactive workshops and seminars offer valuable learning opportunities for aspiring artists and students. Visitors can observe live demonstrations, engage with creators, and explore diverse artistic techniques. The festival not only celebrates the diversity of global art but also promotes cultural exchange and mutual understanding among communities. Families stroll through colourful stalls, tasting international cuisine and experiencing cultures through art, music, and storytelling. The Elmsford Art and Culture Festival stands as a testament to the unifying power of creativity and the shared human experience.

SubQuestion No : 16

Q.16 What is the main purpose of the Elmsford Art and Culture Festival?

Comprehension:

Read the passage and answer the questions.

In the vibrant city of Elmsford, the annual Art and Culture Festival draws artists and visitors from all corners of the world. This lively event showcases a rich tapestry of artistic expression, ranging from traditional paintings and folk crafts to contemporary installations and digital media displays. Streets transform into open-air galleries where murals, sculptures, and creative exhibits capture the imagination of passersby. Street performers captivate audiences with music, dance, and theatrical acts, while interactive workshops and seminars offer valuable learning opportunities for aspiring artists and students. Visitors can observe live demonstrations, engage with creators, and explore diverse artistic techniques. The festival not only celebrates the diversity of global art but also promotes cultural exchange and mutual understanding among communities. Families stroll through colourful stalls, tasting international cuisine and experiencing cultures through art, music, and storytelling. The Elmsford Art and Culture Festival stands as a testament to the unifying power of creativity and the shared human experience.

SubQuestion No : 17

Q.17 What would be an appropriate title for the passage?

Comprehension:

Read the passage and answer the questions.

In the vibrant city of Elmsford, the annual Art and Culture Festival draws artists and visitors from all corners of the world. This lively event showcases a rich tapestry of artistic expression, ranging from traditional paintings and folk crafts to contemporary installations and digital media displays. Streets transform into open-air galleries where murals, sculptures, and creative exhibits capture the imagination of passersby. Street performers captivate audiences with music, dance, and theatrical acts, while interactive workshops and seminars offer valuable learning opportunities for aspiring artists and students. Visitors can observe live demonstrations, engage with creators, and explore diverse artistic techniques. The festival not only celebrates the diversity of global art but also promotes cultural exchange and mutual understanding among communities. Families stroll through colourful stalls, tasting international cuisine and experiencing cultures through art, music, and storytelling. The Elmsford Art and Culture Festival stands as a testament to the unifying power of creativity and the shared human experience.

SubQuestion No : 18

Q.18 What can be inferred about the attendees' experience at the festival?

Comprehension:

Read the passage and answer the questions.

In the vibrant city of Elmsford, the annual Art and Culture Festival draws artists and visitors from all corners of the world. This lively event showcases a rich tapestry of artistic expression, ranging from traditional paintings and folk crafts to contemporary installations and digital media displays. Streets transform into open-air galleries where murals, sculptures, and creative exhibits capture the imagination of passersby. Street performers captivate audiences with music, dance, and theatrical acts, while interactive workshops and seminars offer valuable learning opportunities for aspiring artists and students. Visitors can observe live demonstrations, engage with creators, and explore diverse artistic techniques. The festival not only celebrates the diversity of global art but also promotes cultural exchange and mutual understanding among communities. Families stroll through colourful stalls, tasting international cuisine and experiencing cultures through art, music, and storytelling. The Elmsford Art and Culture Festival stands as a testament to the unifying power of creativity and the shared human experience.

SubQuestion No : 19

Q.19 What is the tone of the passage?

Comprehension:

Read the passage and answer the questions.

In the vibrant city of Elmsford, the annual Art and Culture Festival draws artists and visitors from all corners of the world. This lively event showcases a rich tapestry of artistic expression, ranging from traditional paintings and folk crafts to contemporary installations and digital media displays. Streets transform into open-air galleries where murals, sculptures, and creative exhibits capture the imagination of passersby. Street performers captivate audiences with music, dance, and theatrical acts, while interactive workshops and seminars offer valuable learning opportunities for aspiring artists and students. Visitors can observe live demonstrations, engage with creators, and explore diverse artistic techniques. The festival not only celebrates the diversity of global art but also promotes cultural exchange and mutual understanding among communities. Families stroll through colourful stalls, tasting international cuisine and experiencing cultures through art, music, and storytelling. The Elmsford Art and Culture Festival stands as a testament to the unifying power of creativity and the shared human experience.

SubQuestion No : 20

Q.20 What is the antonym of the word 'vibrant' as used in the passage?

Section : Test of Hindi Language and Comprehension

Q.1 निम्नलिखित में से अतिरिक्त वाक्य वाले विकल्प को चुनिए-

- Ans
- 1. जीवन में संकट आते हैं तो मनुष्य की हिम्मत की परीक्षा होती है।
 - 2. कमल सूर्य की चिलचिलाती धूप को तो सह लेता है किंतु बर्फ पड़ने पर जल जाता है।
 - 3. आज बाजार में नई तकनीक के कारण व्यापार बहुत तेज़ी से बढ़ रहा है।
 - 4. कठिनाइयों का सामना कर जो व्यक्ति डगमगाता नहीं, वही विजेता कहलाता है।

Q.2 'शरणागत की रक्षा करने वाला' वाक्यांश के लिए एक सार्थक शब्द कौनसा है?

- Ans
- 1. लवण
 - 2. पीलतापन
 - 3. रक्षक
 - 4. प्रणतपाल

Q.3 निम्नलिखित वाक्य के रिक्त स्थान में उचित क्रिया की पूर्ति कीजिए -
'_____ से आदमी बीमार हो जाता है।'

- Ans
- 1. पाए जाना
 - 2. विचरण करना
 - 3. खाए जाना
 - 4. भूखे रहने

Q.4 नीचे दिए वाक्य में रिक्त-स्थान भरने के लिए उचित क्रिया विशेषण चुनिए-
छात्र सर्वेक्षण के लिए _____ गया।

- Ans
- 1. यहीं
 - 2. क्यों
 - 3. चला
 - 4. घर-घर

Q.5 नीचे दिए गए वाक्य खंडों को सही क्रम में व्यवस्थित कीजिए-

1. देखकर
2. आदरपूर्वक
3. मुझे
4. युवक ने
5. नमस्कार किया

- Ans
- 1. 25431
 - 2. 42531
 - 3. 31254
 - 4. 31425

Q.6 निम्नलिखित वाक्यों में से अतिरिक्त वाक्य की पहचान करें।

- Ans
- 1. जलवायु परिवर्तन से पृथ्वी का तापमान लगातार बढ़ रहा है।
 - 2. ग्लोबल वार्मिंग मानव की संवेदना की सुंदर अभिव्यक्ति होती है।
 - 3. ग्लोबल वार्मिंग का प्रभाव पारिस्थितिक तंत्र पर पड़ रहा है।
 - 4. हिमखंड पिघल रहे हैं और समुद्र का जलस्तर बढ़ रहा है।

Q.7 'केवल दूध पर जीवित रहने वाला' वाक्यांश के लिए एक सार्थक शब्द कौनसा है?

- Ans
- 1. पायिनिधी
 - 2. पयोहारी
 - 3. पायोकारी
 - 4. पायिकारी

Q.8 निम्नलिखित लोकोक्ति का अर्थ बताइए -
आँख का अंधा गाँठ का पूरा

- Ans
- 1. केवल शारीरिक दुर्बल होना
 - 2. वह व्यक्ति जो मूर्ख किन्तु धनी हो।
 - 3. धनवान किन्तु निडर व्यक्ति
 - 4. बहुत व्यावसायिक प्रज्ञा वाला व्यक्ति

Q.9 नीचे दिए गए वाक्य खंडों को सही क्रम में व्यवस्थित कीजिए-

1. की ओर
2. जा रहा था
3. पीछे
4. दौड़ता
5. उसका मन

- Ans
- 1. 42531
 - 2. 31425
 - 3. 54231
 - 4. 53142

Q.10 निम्न विकल्पों में से उचित विकल्प का चयन कर वाक्य पूर्ति करें -
शेर है।

- Ans
- 1. छींकता
 - 2. बोलता
 - 3. रेंगता
 - 4. दहाड़ता

Q.11 नीचे दिए गए वाक्य के किस भाग में अशुद्धि है?
कल प्रधानमंत्री ने पटना में भाषण बोला।

- Ans
- 1. भाषण
 - 2. बोला
 - 3. पटना में
 - 4. कल प्रधानमंत्री ने

Q.12 दिए गए वाक्य में उचित कारक का चयन करके रिक्त स्थान की पूर्ति करें -

राहुल ने फुटपाथ _____ फल की दुकान लगाई।

- Ans
- 1. को
 - 2. से
 - 3. पर
 - 4. ने

Q.13 निम्नलिखित वाक्य को उचित गुणवाचक विशेषण द्वारा पूर्ण करें।

मैं _ पलंग लाया हूँ, इस पर तुम सोना।

- Ans
- 1. अभी
 - 2. यहाँ
 - 3. एक
 - 4. बड़ा

Q.14 'सवा सोलह आने सही' मुहावरे का सही अर्थ है-

- Ans
- 1. बुद्धि भ्रष्ट होना
 - 2. पूरे तौर पर ठीक
 - 3. स्तब्ध होना
 - 4. काफी प्रयत्न करना

Q.15 नीचे दिए विकल्पों में से शुद्ध वाक्य चुनिए-

- Ans
- 1. शब्द केवल संकेत मात्र ही हैं।
 - 2. शब्द मात्र केवल संकेत हैं।
 - 3. शब्द केवल संकेत हैं।
 - 4. शब्द केवल संकेत मात्र हैं।

Comprehension:

गद्यांश के आधार पर अग्रलिखित प्रश्नों के उत्तर दीजिए।

राष्ट्रीय प्रतीक अशोक स्तंभ में देखा जा सकता है कि चार एशियाई शेर अपना पिछला हिस्सा जोड़कर चार दिशाओं में एक साथ खड़े हैं। यह न सिर्फ देश की सभी राष्ट्रीय ताकतों के एकजुट होकर भारतीय महाशक्ति बनने का स्वप्न है, बल्कि ये चार शेर, चार चीजों-ताकत, साहस, स्वाभिमान और आत्मविश्वास की ओर भी संकेत करते हैं। समग्रतः संदेश यह है कि अपनी विशिष्ट भावनाओं के बावजूद चारों दिशाओं में एक समान सौहार्द का विस्तार करो। रेशमी कपड़े पर तिरंगे के रंग चटक होते गए हैं, पर सोचा जा सकता है कि उन रंगों का अर्थ धुंधला हुआ है या निखरा है। दुनिया के 93 प्रतिशत देश स्वाधीनता दिवस मनाते हैं, क्योंकि वे गुलाम थे। सात प्रतिशत देश नहीं मनाते, क्योंकि वे गुलाम नहीं थे। इन सात प्रतिशत देशों का राष्ट्रीय दिवस वस्तुतः उन देशों में नागरिकता अर्जन का दिवस है।¹⁷⁷⁶

SubQuestion No : 16

Q.16 गद्यांश का उचित शीर्षक क्या हो सकता है-777

Comprehension:

गद्यांश के आधार पर अग्रलिखित प्रश्नों के उत्तर दीजिए।

राष्ट्रीय प्रतीक अशोक स्तंभ में देखा जा सकता है कि चार एशियाई शेर अपना पिछला हिस्सा जोड़कर चार दिशाओं में एक साथ खड़े हैं। यह न सिर्फ देश की सभी राष्ट्रीय ताकतों के एकजुट होकर भारतीय महाशक्ति बनने का स्वप्न है, बल्कि ये चार शेर, चार चीजों-ताकत, साहस, स्वाभिमान और आत्मविश्वास की ओर भी संकेत करते हैं। समग्रतः संदेश यह है कि अपनी विशिष्ट भावनाओं के बावजूद चारों दिशाओं में एक समान सौहार्द का विस्तार करो। रेशमी कपड़े पर तिरंगे के रंग चटक होते गए हैं, पर सोचा जा सकता है कि उन रंगों का अर्थ धुंधला हुआ है या निखरा है। दुनिया के 93 प्रतिशत देश स्वाधीनता दिवस मनाते हैं, क्योंकि वे गुलाम थे। सात प्रतिशत देश नहीं मनाते, क्योंकि वे गुलाम नहीं थे। इन सात प्रतिशत देशों का राष्ट्रीय दिवस वस्तुतः उन देशों में नागरिकता अर्जन का दिवस है।¹⁷⁷⁶

SubQuestion No : 17

Q.17 'स्वाधीनता' का विलोम शब्द क्या होगा-778

Comprehension:

गद्यांश के आधार पर अग्रलिखित प्रश्नों के उत्तर दीजिए।

राष्ट्रीय प्रतीक अशोक स्तंभ में देखा जा सकता है कि चार एशियाई शेर अपना पिछला हिस्सा जोड़कर चार दिशाओं में एक साथ खड़े हैं। यह न सिर्फ देश की सभी राष्ट्रीय ताकतों के एकजुट होकर भारतीय महाशक्ति बनने का स्वप्न है, बल्कि ये चार शेर, चार चीजों-ताकत, साहस, स्वाभिमान और आत्मविश्वास की ओर भी संकेत करते हैं। समग्रतः संदेश यह है कि अपनी विशिष्ट भावनाओं के बावजूद चारों दिशाओं में एक समान सौहार्द का विस्तार करो। रेशमी कपड़े पर तिरंगे के रंग चटक होते गए हैं, पर सोचा जा सकता है कि उन रंगों का अर्थ धुंधला हुआ है या निखरा है। दुनिया के 93 प्रतिशत देश स्वाधीनता दिवस मनाते हैं, क्योंकि वे गुलाम थे। सात प्रतिशत देश नहीं मनाते, क्योंकि वे गुलाम नहीं थे। इन सात प्रतिशत देशों का राष्ट्रीय दिवस वस्तुतः उन देशों में नागरिकता अर्जन का दिवस है।¹⁷⁷⁶

SubQuestion No : 18

Q.18 ताकत, साहस, स्वाभिमान और आत्मविश्वास की ओर संकेत कौन करता है-779

Comprehension:

गद्यांश के आधार पर अग्रलिखित प्रश्नों के उत्तर दीजिए।

राष्ट्रीय प्रतीक अशोक स्तंभ में देखा जा सकता है कि चार एशियाई शेर अपना पिछला हिस्सा जोड़कर चार दिशाओं में एक साथ खड़े हैं। यह न सिर्फ देश की सभी राष्ट्रीय ताकतों के एकजुट होकर भारतीय महाशक्ति बनने का स्वप्न है, बल्कि ये चार शेर, चार चीजों-ताकत, साहस, स्वाभिमान और आत्मविश्वास की ओर भी संकेत करते हैं। समग्रतः संदेश यह है कि अपनी विशिष्ट भावनाओं के बावजूद चारों दिशाओं में एक समान सौहार्द का विस्तार करो। रेशमी कपड़े पर तिरंगे के रंग चटक होते गए हैं, पर सोचा जा सकता है कि उन रंगों का अर्थ धुंधला हुआ है या निखरा है। दुनिया के 93 प्रतिशत देश स्वाधीनता दिवस मनाते हैं, क्योंकि वे गुलाम थे। सात प्रतिशत देश नहीं मनाते, क्योंकि वे गुलाम नहीं थे। इन सात प्रतिशत देशों का राष्ट्रीय दिवस वस्तुतः उन देशों में नागरिकता अर्जन का दिवस है।¹⁷⁷⁶

SubQuestion No : 19

Q.19 दुनिया के कुछ देशों में नागरिकता अर्जन का दिवस क्यों मनाया जाता है-780

Comprehension:

गद्यांश के आधार पर अग्रलिखित प्रश्नों के उत्तर दीजिए।

राष्ट्रीय प्रतीक अशोक स्तंभ में देखा जा सकता है कि चार एशियाई शेर अपना पिछला हिस्सा जोड़कर चार दिशाओं में एक साथ खड़े हैं। यह न सिर्फ देश की सभी राष्ट्रीय ताकतों के एकजुट होकर भारतीय महाशक्ति बनने का स्वप्न है, बल्कि ये चार शेर, चार चीजों-ताकत, साहस, स्वाभिमान और आत्मविश्वास की ओर भी संकेत करते हैं। समग्रतः संदेश यह है कि अपनी विशिष्ट भावनाओं के बावजूद चारों दिशाओं में एक समान सौहार्द का विस्तार करो। रेशमी कपड़े पर तिरंगे के रंग चटक होते गए हैं, पर सोचा जा सकता है कि उन रंगों का अर्थ धुंधला हुआ है या निखरा है। दुनिया के 93 प्रतिशत देश स्वाधीनता दिवस मनाते हैं, क्योंकि वे गुलाम थे। सात प्रतिशत देश नहीं मनाते, क्योंकि वे गुलाम नहीं थे। इन सात प्रतिशत देशों का राष्ट्रीय दिवस वस्तुतः उन देशों में नागरिकता अर्जन का दिवस है।¹⁷⁷⁶

SubQuestion No : 20

Q.20 'दिवस' - शब्द का पर्यायवाची क्या होगा-781

Section : Test of Hindi Language and Comprehension1

Q.1 अवरोह का विलोम शब्द पहचानें।

- Ans**
- 1. अर्जन
 - 2. अभिज्ञ
 - 3. आंतर
 - 4. आरोह

Q.2 दिए गए वाक्य के किस भाग में त्रुटि है?

- Ans**
- 1. हर एक ने
 - 2. रखी थी।
 - 3. टोपियाँ
 - 4. पहन

Q.3 दिये गये वाक्य के किस भाग में त्रुटि है-

शिक्षा, मानव के जीवन के साथ -साथ उसके चरित्र निर्माण में भी एक महत्वपूर्ण भूमिका निभाती है।

- Ans**
- 1. के साथ -साथ उसके
 - 2. शिक्षा, मानव के जीवन
 - 3. चरित्र निर्माण में भी
 - 4. एक महत्वपूर्ण भूमिका निभाती है।

Q.4 कौन सा शब्द तत्सम है ?

- Ans**
- 1. सात
 - 2. कंगन
 - 3. गाय
 - 4. मस्तक

Q.5 दिए गए वाक्य के किस भाग में त्रुटि है?
उसने चमड़े के तरह-तरह के जुते खरीदे

- Ans
- 1. खरीदे
 - 2. के जुते
 - 3. उसने चमड़े
 - 4. के तरह-तरह

Q.6 दिए गए वाक्य के किस भाग में त्रुटि है?

- Ans
- 1. पर्वती
 - 2. होती है।
 - 3. क्षेत्रों में
 - 4. बहुत ठंड

Q.7 'क्षुद्र' शब्द का अनेकार्थक चुनिए।

- Ans
- 1. नीच
 - 2. गंदा
 - 3. नष्ट
 - 4. बाण

Q.8 प्रणेता का पर्यायवाची होगा।

- Ans
- 1. नामवर
 - 2. प्रस्थान
 - 3. उद्योग
 - 4. रचयिता

Q.9 नीचे दिए विकल्पों में से कौन-सा शब्द 'तीर' का पर्यायवाची नहीं है?

- Ans
- 1. किनारा
 - 2. तट
 - 3. कूल
 - 4. पैना

Q.10 गाँव का तत्सम रूप क्या होगा?

- Ans
- 1. ग्राम
 - 2. ग्रामीण
 - 3. गँवार
 - 4. ग्रहण

Q.11 निम्नलिखित लोकोक्ति का अर्थ बताइए -
अशरफियाँ लूटें और कोयले पर छाप

- Ans
- 1. सोने के मूल्य का निरंतर गिरते चले जाना
 - 2. कोयले के आगामी महत्व को बहुत पहले ही पहचान लेना
 - 3. मूल्यवान वस्तु के स्थान पर सस्ती वस्तु की ओर ध्यान देना
 - 4. बिना सोचे समझे छापेमारी करना और सत्ता के अनुसार काम करना

Q.12 इनमें से कौन-सा अर्थ 'सारंग' शब्द से नहीं निकलता है?

- Ans
- 1. सर्प
 - 2. मोर
 - 3. हिरन
 - 4. घर

Q.13 'घर खीर तो बाहर भी खीर' लोकोक्ति का अर्थ है-

- Ans
- 1. उत्तम वस्तु वह भी अधिक
 - 2. अलग-अलग मत रखना
 - 3. सम्पन्नता में सर्वत्र प्रतिष्ठा मिलती है
 - 4. समान व्यवहार करना

Q.14 निम्नलिखित मुहावरे का अर्थ बताइए -
अथ से इति तक

- Ans
- 1. खाली बैठे रहना
 - 2. देर तक किसी को चाहना
 - 3. शुरू से अन्त तक
 - 4. संग लगे रहना

Q.15 'छुटकारा' का विलोम शब्द है -

- Ans
- 1. कष्ट
 - 2. मुसीबत
 - 3. बंधन
 - 4. पराजित

Comprehension:

दिये गये गद्यांश को पढ़कर निम्नलिखित प्रश्नों का उत्तर दीजिये -

परम्परा और संस्कृति पर्यायवाची शब्द नहीं हैं, हालाँकि सामान्य व्यवहार में दोनों का प्रयोग एक ही अर्थ को ध्वनित करने के लिए किया जाता है संस्कृति अधिक व्यापक अवधारणा है, परम्पराएँ उसकी अपेक्षा दीर्घजीवी धाराएँ और उपधाराएँ होती हैं परम्पराएँ किसी भी संस्कृति की बुनावट के लिए आवश्यक हैं, किन्तु उनसे ही पूरी संस्कृति को नहीं समझा जा सकता है परम्पराएँ जातीय स्मृति का अंग होती हैं, किन्तु उनका चुनाव समाज स्वयं जीवन के बदलते सन्दर्भों और तात्कालिक आवश्यकताओं को ध्यान में रखकर करता है नयी व्याख्याएँ उनके आयाम को बदल देती हैं विशेष स्थितियों में जातीय विस्मृति भी आवश्यक हो जाती है ऐसे भी उदाहरण हैं कि पुरानी परम्पराएँ भुला दी गयीं और उनके स्थान पर नयी परम्पराएँ गढ़ी गयीं एकवचन परंपरा शब्द का प्रयोग भी भ्रामक है छोटे-छोटे कबीलों में भी स्थान, गोत्र और वंश के आधार पर परम्पराओं में अंतर पाया जाता है संश्लिष्ट और जटिल संरचना की संस्कृतियों में परम्पराओं के भेद और भी महत्वपूर्ण होते हैं स्थानीय, क्षेत्रीय और राष्ट्रीय सन्दर्भों में उनके रूप भिन्न होते हैं उनमें निश्चित अंतः संबंध होते हैं, पर प्रत्येक की अलग-अलग पहचान भी संभव होती है जीवन के अनेक पक्षों और बड़े समाजों में उनकी उपस्थिति अनिवार्य होती है

SubQuestion No : 16

Q.16 उक्त गद्यांश का उपयुक्त शीर्षक होगा -

Comprehension:

दिये गये गद्यांश को पढ़कर निम्नलिखित प्रश्नों का उत्तर दीजिये -

परम्परा और संस्कृति पर्यायवाची शब्द नहीं हैं, हालाँकि सामान्य व्यवहार में दोनों का प्रयोग एक ही अर्थ को ध्वनित करने के लिए किया जाता है संस्कृति अधिक व्यापक अवधारणा है, परम्पराएँ उसकी अपेक्षा दीर्घजीवी धाराएँ और उपधाराएँ होती हैं परम्पराएँ किसी भी संस्कृति की बुनावट के लिए आवश्यक हैं, किन्तु उनसे ही पूरी संस्कृति को नहीं समझा जा सकता है परम्पराएँ जातीय स्मृति का अंग होती हैं, किन्तु उनका चुनाव समाज स्वयं जीवन के बदलते सन्दर्भों और तात्कालिक आवश्यकताओं को ध्यान में रखकर करता है नयी व्याख्याएँ उनके आयाम को बदल देती हैं विशेष स्थितियों में जातीय विस्मृति भी आवश्यक हो जाती है ऐसे भी उदाहरण हैं कि पुरानी परम्पराएँ भुला दी गयीं और उनके स्थान पर नयी परम्पराएँ गढ़ी गयीं एकवचन परंपरा शब्द का प्रयोग भी भ्रामक है छोटे-छोटे कबीलों में भी स्थान, गोत्र और वंश के आधार पर परम्पराओं में अंतर पाया जाता है संश्लिष्ट और जटिल संरचना की संस्कृतियों में परम्पराओं के भेद और भी महत्वपूर्ण होते हैं स्थानीय, क्षेत्रीय और राष्ट्रीय सन्दर्भों में उनके रूप भिन्न होते हैं उनमें निश्चित अंतः संबंध होते हैं, पर प्रत्येक की अलग-अलग पहचान भी संभव होती है जीवन के अनेक पक्षों और बड़े समाजों में उनकी उपस्थिति अनिवार्य होती है

SubQuestion No : 17

Q.17 परम्पराएँ किसका अंग होती हैं ?

Comprehension:

दिये गये गद्यांश को पढ़कर निम्नलिखित प्रश्नों का उत्तर दीजिये -

परम्परा और संस्कृति पर्यायवाची शब्द नहीं हैं, हालाँकि सामान्य व्यवहार में दोनों का प्रयोग एक ही अर्थ को ध्वनित करने के लिए किया जाता है संस्कृति अधिक व्यापक अवधारणा है, परम्पराएँ उसकी अपेक्षा दीर्घजीवी धाराएँ और उपधाराएँ होती हैं परम्पराएँ किसी भी संस्कृति की बुनावट के लिए आवश्यक हैं, किन्तु उनसे ही पूरी संस्कृति को नहीं समझा जा सकता है परम्पराएँ जातीय स्मृति का अंग होती हैं, किन्तु उनका चुनाव समाज स्वयं जीवन के बदलते सन्दर्भों और तात्कालिक आवश्यकताओं को ध्यान में रखकर करता है नयी व्याख्याएँ उनके आयाम को बदल देती हैं विशेष स्थितियों में जातीय विस्मृति भी आवश्यक हो जाती है ऐसे भी उदाहरण हैं कि पुरानी परम्पराएँ भुला दी गयीं और उनके स्थान पर नयी परम्पराएँ गढ़ी गयीं एकवचन परंपरा शब्द का प्रयोग भी भ्रामक है छोटे-छोटे कबीलों में भी स्थान, गोत्र और वंश के आधार पर परम्पराओं में अंतर पाया जाता है संश्लिष्ट और जटिल संरचना की संस्कृतियों में परम्पराओं के भेद और भी महत्वपूर्ण होते हैं स्थानीय, क्षेत्रीय और राष्ट्रीय सन्दर्भों में उनके रूप भिन्न होते हैं उनमें निश्चित अंतः संबंध होते हैं, पर प्रत्येक की अलग-अलग पहचान भी संभव होती है जीवन के अनेक पक्षों और बड़े समाजों में उनकी उपस्थिति अनिवार्य होती है

SubQuestion No : 18

Q.18 एकवचन में परम्परा शब्द का प्रयोग कैसा है ?

Comprehension:

दिये गये गद्यांश को पढ़कर निम्नलिखित प्रश्नों का उत्तर दीजिये -

परम्परा और संस्कृति पर्यायवाची शब्द नहीं हैं, हालाँकि सामान्य व्यवहार में दोनों का प्रयोग एक ही अर्थ को ध्वनित करने के लिए किया जाता है संस्कृति अधिक व्यापक अवधारणा है, परम्पराएँ उसकी अपेक्षा दीर्घजीवी धाराएँ और उपधाराएँ होती हैं परम्पराएँ किसी भी संस्कृति की बुनावट के लिए आवश्यक हैं, किन्तु उनसे ही पूरी संस्कृति को नहीं समझा जा सकता है परम्पराएँ जातीय स्मृति का अंग होती हैं, किन्तु उनका चुनाव समाज स्वयं जीवन के बदलते सन्दर्भों और तात्कालिक आवश्यकताओं को ध्यान में रखकर करता है नयी व्याख्याएँ उनके आयाम को बदल देती हैं विशेष स्थितियों में जातीय विस्मृति भी आवश्यक हो जाती है ऐसे भी उदाहरण हैं कि पुरानी परम्पराएँ भुला दी गयीं और उनके स्थान पर नयी परम्पराएँ गढ़ी गयीं एकवचन परंपरा शब्द का प्रयोग भी भ्रामक है छोटे-छोटे कबीलों में भी स्थान, गोत्र और वंश के आधार पर परम्पराओं में अंतर पाया जाता है संश्लिष्ट और जटिल संरचना की संस्कृतियों में परम्पराओं के भेद और भी महत्वपूर्ण होते हैं स्थानीय, क्षेत्रीय और राष्ट्रीय सन्दर्भों में उनके रूप भिन्न होते हैं उनमें निश्चित अंतः संबंध होते हैं, पर प्रत्येक की अलग-अलग पहचान भी संभव होती है जीवन के अनेक पक्षों और बड़े समाजों में उनकी उपस्थिति अनिवार्य होती है

SubQuestion No : 19

Q.19 किस आधार पर परम्पराओं में अंतर माना जाता है ?

Comprehension:

दिये गये गद्यांश को पढ़कर निम्नलिखित प्रश्नों का उत्तर दीजिये -

परम्परा और संस्कृति पर्यायवाची शब्द नहीं हैं, हालाँकि सामान्य व्यवहार में दोनों का प्रयोग एक ही अर्थ को ध्वनित करने के लिए किया जाता है संस्कृति अधिक व्यापक अवधारणा है, परम्पराएँ उसकी अपेक्षा दीर्घजीवी धाराएँ और उपधाराएँ होती हैं परम्पराएँ किसी भी संस्कृति की बुनावट के लिए आवश्यक हैं, किन्तु उनसे ही पूरी संस्कृति को नहीं समझा जा सकता है परम्पराएँ जातीय स्मृति का अंग होती हैं, किन्तु उनका चुनाव समाज स्वयं जीवन के बदलते सन्दर्भों और तात्कालिक आवश्यकताओं को ध्यान में रखकर करता है नयी व्याख्याएँ उनके आयाम को बदल देती हैं विशेष स्थितियों में जातीय विस्मृति भी आवश्यक हो जाती है ऐसे भी उदाहरण हैं कि पुरानी परम्पराएँ भुला दी गयीं और उनके स्थान पर नयी परम्पराएँ गढ़ी गयीं एकवचन परंपरा शब्द का प्रयोग भी भ्रामक है छोटे-छोटे कबीलों में भी स्थान, गोत्र और वंश के आधार पर परम्पराओं में अंतर पाया जाता है संश्लिष्ट और जटिल संरचना की संस्कृतियों में परम्पराओं के भेद और भी महत्वपूर्ण होते हैं स्थानीय, क्षेत्रीय और राष्ट्रीय सन्दर्भों में उनके रूप भिन्न होते हैं उनमें निश्चित अंतः संबंध होते हैं, पर प्रत्येक की अलग-अलग पहचान भी संभव होती है जीवन के अनेक पक्षों और बड़े समाजों में उनकी उपस्थिति अनिवार्य होती है

SubQuestion No : 20

Q.20 संस्कृति कैसी अवधारण है ?