



GOVT. OF NCT OF DELHI  
Delhi Subordinate Services Selection Board  
FC-18, Institutional Area, Karkardooma, Delhi – 110092.  
[www.dsssb.delhigovt.nic.in](http://www.dsssb.delhigovt.nic.in)

Participant Name	Sandeep Atal
Test Center Name	Aadarsh Pariksha Kendra CENTER C - Gate No 2 - Noida Sector 64
Test Date	09/05/2026
Test Time	9:00 AM - 11:00 AM
Subject	Multi Tasking Staff

Section : General intelligence and Reasoning Ability

Q.1 इस प्रश्न में, एक कथन के बाद I और II से क्रमांकित दो निष्कर्ष दिए गए हैं। ज्ञात कीजिए कि दिए गए कथनों के आधार पर कौन-सा/से निष्कर्ष सत्य है/हैं।

कथन :  $K = L < M < N \geq Q$

निष्कर्ष:

I.  $Q < L$

II.  $K < N$

Ans  1. केवल II सत्य है

2. केवल I सत्य है

3. न तो I और न ही II सत्य है

4. I और II, दोनों सत्य हैं

Q.2 यदि SAUNTED शब्द के प्रत्येक अक्षर को अंग्रेजी वर्णमाला क्रम में व्यवस्थित किया जाए, तो कितने अक्षरों की स्थिति अपरिवर्तित रहेगी?

Ans  1. एक की भी नहीं

2. एक

3. दो

4. तीन

Q.3 यदि GARNISH शब्द के प्रत्येक अक्षर को अंग्रेजी वर्णानुक्रम में व्यवस्थित किया जाए, तो कितने अक्षरों की स्थिति अपरिवर्तित रहेगी?

Ans  1. दो

2. तीन

3. एक

4. एक की भी नहीं

Q.4 एक निश्चित कूट भाषा में, 'WRAP' को '8651' के रूप में कूटबद्ध किया जाता है और 'PEAR' को '9158' के रूप में कूटबद्ध किया जाता है। दी गई कूट भाषा में 'E' के लिए कूट क्या होगा?

Ans  1. 6

2. 9

3. 5

4. 1

Q.5 सात बॉक्स A, B, C, D, E, F और G एक के ऊपर एक रखे गए हैं, लेकिन ज़रूरी नहीं है कि वे इसी क्रम में रखे गए हों।  
C को नीचे से दूसरे स्थान पर रखा गया है। C और F के बीच केवल तीन बॉक्स रखे गए हैं। A को C के नीचे किसी एक स्थान पर रखा गया है। F और G के बीच केवल D को रखा गया है। B को F के ऊपर किसी एक स्थान पर रखा गया है।  
F के ऊपर कितने बॉक्स रखे गए हैं?

- Ans  1. 1  
 2. 3  
 3. 4  
 4. 2

Q.6 एक निश्चित कूट भाषा में,  
A + B का अर्थ है कि 'A, B का पुत्र है'  
A - B का अर्थ है कि 'A, B का भाई है'  
A x B का अर्थ है कि 'A, B की पत्नी है'  
A ÷ B का अर्थ है कि 'A, B का पिता है'  
उपरोक्त के आधार पर, यदि 'T x G - D + M ÷ K' है, तो T का K से क्या संबंध है?

- Ans  1. भाई की पुत्री  
 2. पुत्री  
 3. पत्नी  
 4. भाई की पत्नी

Q.7 निम्नलिखित संख्या-प्रतीक शृंखला का संदर्भ लीजिए और दिए गए प्रश्न का उत्तर दीजिए। गिनती केवल बाएँ से दाएँ की जानी चाहिए। (नोट: सभी संख्याएँ केवल एकल-अंकीय संख्याएँ हैं)  
(बाएँ) 7 £ # 2 \* \$ # % \* 7 \* 4 8 £ \* & 9 £ @ £ 5 1 (दाएँ)  
ऐसी कितनी संख्याएँ हैं, जिनमें से प्रत्येक के ठीक पहले एक प्रतीक है और ठीक बाद में भी एक प्रतीक है?

- Ans  1. 5  
 2. 4  
 3. 2  
 4. 3

Q.8 इस प्रश्न में, एक कथन के बाद दो निष्कर्ष दिए गए हैं। ज्ञात कीजिए कि दिए गए कथन के आधार पर कौन-सा/से निष्कर्ष सत्य है/हैं।

कथन :  $C < R > A = D > E$

निष्कर्ष:

I.  $E < R$

II.  $C \leq D$

- Ans  1. न तो I और न ही II सत्य है  
 2. केवल II सत्य है  
 3. I और II, दोनों सत्य हैं  
 4. केवल I सत्य है

Q.9 नीचे दी गई अक्षर शृंखला का संदर्भ लीजिए और दिए गए प्रश्न का उत्तर दीजिए। गणना केवल बाएँ से दाएँ ही की जानी है।

(बाएँ) W F V N J O L K M G T R D C X F T Y U V G F B N H T R G N M K P (दाएँ)

ऐसे कितने व्यंजन हैं, जिनमें से प्रत्येक के ठीक पहले एक स्वर और ठीक बाद में एक व्यंजन है?

- Ans  1. 4  
 2. 3  
 3. 2  
 4. 1

Q.10 E, F, G, H, Q, R और S एक गोल मेज के परितः उसके केंद्र की ओर अभिमुख होकर बैठे हैं। G के दाईं ओर से गिनने पर, G और S के बीच केवल दो व्यक्ति बैठे हैं। S के दाईं ओर से गिनने पर, S और F के बीच केवल दो व्यक्ति बैठे हैं। Q के बाईं ओर से गिनने पर, G और Q के बीच केवल तीन व्यक्ति बैठे हैं। E, R के बाईं ओर ठीक पड़ोस में बैठा है। H के बाईं ओर तीसरे स्थान पर कौन बैठा है?

- Ans
- 1. G
  - 2. E
  - 3. R
  - 4. Q

Q.11 E, F, G, H, Q, R और S एक गोल मेज के परितः केंद्र की ओर अभिमुख होकर बैठे हैं। Q और H दोनों का निकटतम पड़ोसी S है। H, F के बाएँ तीसरे स्थान पर बैठा है। G, F के बाएँ पड़ोस में बैठा है। E, H का निकटतम पड़ोसी नहीं है। R के बाएँ तीसरे स्थान पर कौन बैठा है?

- Ans
- 1. G
  - 2. E
  - 3. H
  - 4. Q

Q.12 यदि शब्द 'HAYWIRE' के प्रत्येक अक्षर को अंग्रेजी वर्णमाला के क्रम में व्यवस्थित किया जाए, तो कितने अक्षरों की स्थिति अपरिवर्तित रहेगी?

- Ans
- 1. दो
  - 2. एक
  - 3. एक की भी नहीं
  - 4. तीन

Q.13 निम्नलिखित अक्षर और प्रतीक श्रृंखला का संदर्भ लीजिए तथा दिए गए प्रश्न का उत्तर दीजिए। गिनती केवल बाएँ से दाएँ की जानी चाहिए।

(बाएँ) & A Ω D \* N % U J \$ C @ R # F ~ E £ Z K (दाएँ)

ऐसे कितने अक्षर हैं, जिनमें से प्रत्येक के ठीक पहले एक प्रतीक है और ठीक बाद एक अक्षर है?

- Ans
- 1. दो
  - 2. चार
  - 3. तीन
  - 4. एक

Q.14 एक निश्चित कूट भाषा में,

A + B का अर्थ है कि 'A, B की माता है'

A - B का अर्थ है कि 'A, B का भाई है'

A x B का अर्थ है कि 'A, B की पत्नी है'

A ÷ B का अर्थ है कि 'A, B का पिता है'

उपरोक्त के आधार पर, यदि 'T + G - D x M ÷ K' है, तो T का K से क्या संबंध है?

- Ans
- 1. माता की बहन
  - 2. माता की माता
  - 3. पिता की बहन
  - 4. पिता की माता

Q.15 सात बॉक्स, A, B, C, D, E, F और G, एक के ऊपर एक रखे गए हैं, लेकिन जरूरी नहीं है कि वे इसी क्रम में रखे गए हों।

B के नीचे केवल 1 बॉक्स रखा गया है। A और C के बीच केवल 2 बॉक्स रखे गए हैं। E और F के बीच केवल 3 बॉक्स रखे गए हैं। C को F के ठीक ऊपर रखा गया है। G को D के ऊपर रखा गया है। A को B के नीचे रखा गया है।

D के ऊपर कितने बॉक्स रखे गए हैं?

- Ans
- 1. 2
  - 2. 4
  - 3. 1
  - 4. 3

Q.16 एक निश्चित कूट भाषा में, 'CARD' को '5491' के रूप में और 'CARE' को '6945' के रूप में कूटबद्ध किया जाता है। दी गई कूट भाषा में 'E' के लिए कूट क्या है?

- Ans
- 1. 1
  - 2. 5
  - 3. 4
  - 4. 6

Q.17 दिए गए कथनों और निष्कर्षों को ध्यानपूर्वक पढ़ें। यह मानते हुए कि कथनों में दी गई जानकारी सत्य है, भले ही वह सामान्यतः ज्ञात तथ्यों से भिन्न प्रतीत होती हो, तय करें कि दिए गए निष्कर्षों में से कौन-से निष्कर्ष, कथनों का तार्किक रूप से अनुसरण करते हैं।

**कथन:**

कुछ गुलाब, सूरजमुखी हैं।

कोई भी सूरजमुखी, गेंदा नहीं है।

**निष्कर्ष:**

(I) : कुछ गेंदा, गुलाब हैं।

(II) : कोई भी सूरजमुखी, गुलाब नहीं है।

- Ans
- 1. केवल निष्कर्ष (II) अनुसरण करता है
  - 2. निष्कर्ष (I) और निष्कर्ष (II) दोनों अनुसरण करते हैं
  - 3. न तो निष्कर्ष (I) और न ही निष्कर्ष (II) अनुसरण करता है
  - 4. केवल निष्कर्ष (I) अनुसरण करता है

Q.18 श्याम, अपनी कक्षा में शीर्ष से 15वें स्थान पर है और नीचे से 17वें स्थान पर है। उसकी कक्षा में कितने विद्यार्थी हैं?

- Ans
- 1. 28
  - 2. 31
  - 3. 30
  - 4. 29

Q.19 एक निश्चित कूट भाषा में, 'ZEST' को '2514' के रूप में कूटबद्ध किया जाता है और 'SENT' को '9425' के रूप में कूटबद्ध किया जाता है। दी गई कूट भाषा में 'N' के लिए कूट क्या होगा?

- Ans
- 1. 1
  - 2. 9
  - 3. 2
  - 4. 4

Q.20 उत्तर दिशा की ओर अभिमुख 57 विद्यार्थियों की एक पंक्ति में, अवन दाएं छोर से 5वें स्थान पर है। यदि चान, अवन के बाएं से 19वें स्थान पर है, तो पंक्ति के बाएं छोर से चान का स्थान कौन-सा है?

- Ans
- 1. 22वां
  - 2. 34वां
  - 3. 32वां
  - 4. 33वां

Section : General intelligence and Reasoning Ability1

Q.1 अंग्रेजी वर्णमाला क्रम के आधार पर, निम्नलिखित चार अक्षर-समूह युग्मों में से तीन एक निश्चित तरीके से एकसमान हैं और इस प्रकार वे एक ग्रुप बनाते हैं। कौन-सा अक्षर-समूह युग्म उस ग्रुप से संबंधित नहीं है? (नोट: असंगत अक्षर-समूह युग्म, उसमें व्यंजनों/स्वरों की संख्या या उनकी स्थिति पर आधारित नहीं है।)

- Ans
- 1. MN-PQ
  - 2. CD-GH
  - 3. RS-UV
  - 4. BC-EF

Q.2 दी गई श्रृंखला में ? के स्थान पर क्या आना चाहिए?  
2 9 13 31 57 ?

- Ans
- 1. 119
  - 2. 117
  - 3. 118
  - 4. 120

Q.3 उस युग्म का चयन कीजिए, जो नीचे दिए गए दो युग्मों के समुच्चय के समान पैटर्न का अनुसरण करता है। दोनों युग्म एक ही पैटर्न का अनुसरण करते हैं।

VZV-YCY  
TXT-WAW

- Ans
- 1. MQM-OTO
  - 2. MQM-PTP
  - 3. MPK-PTP
  - 4. MPK-OSO

Q.4 दिए गए कथनों और निष्कर्षों को ध्यानपूर्वक पढ़ें। यह मानते हुए कि कथनों में दी गई जानकारी सत्य है, भले ही वह सामान्यतः ज्ञात तथ्यों से भिन्न प्रतीत होती हो, तय करें कि दिए गए निष्कर्षों में से कौन-से निष्कर्ष, कथनों का तार्किक रूप से अनुसरण करते हैं।

कथन: सभी कच्ची, पाइप-रिच हैं। सभी पाइप-रिच, हथौड़े हैं।

निष्कर्ष I: कोई भी हथौड़ा, कच्ची नहीं है।

निष्कर्ष II: कुछ हथौड़े, कच्ची हैं।

- Ans
- 1. केवल निष्कर्ष (I) अनुसरण करता है
  - 2. न तो निष्कर्ष (I) और न ही निष्कर्ष (II) अनुसरण करता है
  - 3. केवल निष्कर्ष (II) अनुसरण करता है
  - 4. निष्कर्ष (I) और निष्कर्ष (II) दोनों अनुसरण करते हैं

Q.5 निम्नलिखित श्रृंखला में, कौन-सी संख्या प्रश्न-चिह्न (?) को प्रतिस्थापित करेगी?  
15 16 24 51 115 ?

- Ans
- 1. 240
  - 2. 220
  - 3. 250
  - 4. 230

Q.6 यदि 'A' का अर्थ '+' है, 'B' का अर्थ 'x' है, 'C' का अर्थ '-' है और 'D' का अर्थ '-' है, तो निम्नलिखित समीकरण में प्रश्न-चिह्न '?' के स्थान पर क्या आएगा?

14 D 26 A 13 C 8 B 9 = ?

- Ans
- 1. 82
  - 2. 81
  - 3. 83
  - 4. 84

Q.7 यदि संख्या 9532846 के प्रत्येक विषम अंक से 2 घटाया जाए और प्रत्येक सम अंक में 1 जोड़ा जाए, तो बाईं ओर से दूसरे अंक और दाईं ओर से दूसरे अंक का योगफल कितना होगा?

- Ans
- 1. 7
  - 2. 8
  - 3. 9
  - 4. 6

Q.8 अंग्रेजी वर्णमाला क्रम के आधार पर एक निश्चित तरीके से, ALGT का संबंध EPKX से है। उसी प्रकार, QBWJ का संबंध UFAN से है। समान तर्क का अनुसरण करते हुए, CNIV का संबंध निम्नलिखित में से किस विकल्प से है?

- Ans
- 1. GRBH
  - 2. GRMZ
  - 3. GRMK
  - 4. GRMI

Q.9 उस समुच्चय का चयन करें, जिसमें संख्याएं उसी प्रकार से संबंधित हैं जिस प्रकार निम्नलिखित समुच्चयों की संख्याएं संबंधित हैं।  
(नोट: संख्याओं को उनके घटक अंकों में तोड़े बिना, पूर्ण संख्याओं पर संक्रियाएं की जानी चाहिए। उदाहरण के लिए 13 लीजिए, 13 पर संक्रियाएं जैसे कि 13 में जोड़ना/घटाना/गुणा करना, किया जा सकता है। 13 को 1 और 3 में तोड़ना तथा फिर 1 और 3 पर गणितीय संक्रियाएं करने की अनुमति नहीं है।)

(5, 13, 17)  
(11, 31, 35)

- Ans
- 1. (14, 40, 44)
  - 2. (13, 37, 33)
  - 3. (17, 25, 29)
  - 4. (9, 29, 33)

Q.10 उस युग्म का चयन कीजिए जो नीचे दिए गए दो युग्मों द्वारा अनुसरण किए गए पैटर्न के समान पैटर्न का अनुसरण करता है। दोनों युग्म समान पैटर्न का अनुसरण करते हैं।

NKM-LIK  
ROQ-PMO

- Ans
- 1. EAB-CZB
  - 2. EBD-BZA
  - 3. EBD-CZB
  - 4. EAB-BYA

Q.11 उस समुच्चय का चयन करें, जिसमें संख्याएं उसी प्रकार से संबंधित हैं जिस प्रकार निम्नलिखित समुच्चयों की संख्याएं संबंधित हैं।  
(नोट: संख्याओं को उनके घटक अंकों में तोड़े बिना, पूर्ण संख्याओं पर संक्रियाएं की जानी चाहिए। उदाहरण के लिए 13 लीजिए, 13 पर संक्रियाएं जैसे कि 13 में जोड़ना/घटाना/गुणा करना, किया जा सकता है। 13 को 1 और 3 में तोड़ना तथा फिर 1 और 3 पर गणितीय संक्रियाएं करने की अनुमति नहीं है।)

(15, 19, 71)  
(16, 17, 79)

- Ans
- 1. (18, 1, 107)
  - 2. (18, 55, 83)
  - 3. (19, 22, 32)
  - 4. (24, 29, 135)

Q.12 यदि 'E' का अर्थ '+' है, 'F' का अर्थ '-' है, 'G' का अर्थ '+' है और 'H' का अर्थ 'x' है, तो निम्नलिखित समीकरण में प्रश्न-चिह्न (?) के स्थान पर क्या आएगा?

15 G 3 E 9 H 3 F 15 = ?

- Ans
- 1. 15
  - 2. 17
  - 3. 16
  - 4. 11

Q.13 अंग्रेजी वर्णमाला क्रम के आधार पर, निम्नलिखित चार में से तीन किसी निश्चित तरीके से एक समान हैं और इस प्रकार एक ग्रुप बनाते हैं। कौन-सा, उस ग्रुप से संबंधित नहीं है?

(नोट: असंगत अक्षर-समूह, अक्षर-समूह में व्यंजनों/स्वरों की संख्या या उनकी स्थिति पर आधारित नहीं है।)

- Ans
- 1. JD-GK
  - 2. NH-KP
  - 3. LF-IM
  - 4. PJ-MQ

Q.14 उस समुच्चय का चयन कीजिए जिसमें संख्याएँ उसी प्रकार संबंधित हैं जिस प्रकार निम्नलिखित समुच्चयों की संख्याएँ संबंधित हैं।

(नोट: संख्याओं को उसके घटक अंकों में तोड़े बिना, संक्रियाएँ पूर्ण संख्याओं पर की जानी चाहिए। उदाहरण के लिए 13 को लीजिए - 13 पर संक्रियाएँ जैसे कि 13 में जोड़ना / घटाना / गुणा करना आदि 13 पर की जा सकती हैं। 13 को 1 व 3 में तोड़ना और फिर 1 व 3 पर गणितीय संक्रियाएँ करने की अनुमति नहीं है।)

(15, 6, 15)

(18, 9, 21)

- Ans
- 1. (30, 21, 39)
  - 2. (11, 2, 11)
  - 3. (22, 13, 29)
  - 4. (7, 16, 35)

Q.15 यदि '+' और '-' को परस्पर बदल दिया जाए तथा 'x' और '+' को परस्पर बदल दिया जाए, तो निम्नलिखित समीकरण में '?' के स्थान पर क्या आएगा?

$$8 \div 7 + 16 \times 4 - 10 = ?$$

- Ans
- 1. 56
  - 2. 68
  - 3. 62
  - 4. 72

Q.16 दी गई श्रृंखला में '?' के स्थान पर क्या आना चाहिए?

$$45, 53, 69, 93, 125, ?$$

- Ans
- 1. 163
  - 2. 161
  - 3. 167
  - 4. 165

Q.17 अंग्रेजी वर्णमाला क्रम के आधार पर, निम्नलिखित चार अक्षर-समूह युग्मों में से तीन एक निश्चित तरीके से समान हैं और इस प्रकार एक ग्रुप बनाते हैं। कौन-सा अक्षर-समूह युग्म, उस ग्रुप से संबंधित नहीं है?

(नोट: असंगत अक्षर-समूह युग्म, व्यंजनों/स्वरों की संख्या या उनकी स्थिति पर आधारित नहीं है।)

- Ans
- 1. DZ-LE
  - 2. NJ-VO
  - 3. FV-NG
  - 4. EA-MF

Q.18 यदि '+' और '-' को परस्पर बदल दिया जाए तथा 'x' और '+' को परस्पर बदल दिया जाए, तो निम्नलिखित समीकरण में '?' के स्थान पर क्या आएगा?

$$25 \div 5 + 9 \times 3 - 7 = ?$$

- Ans
- 1. 119
  - 2. 129
  - 3. 122
  - 4. 112

Q.19 उस विकल्प आकृति का चयन कीजिए, जो पैटर्न को पूर्ण करने के लिए नीचे दी गई आकृति में प्रश्न-चिह्न (?) के स्थान पर आएगी।



Ans

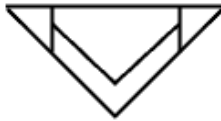
1.



2.



3.

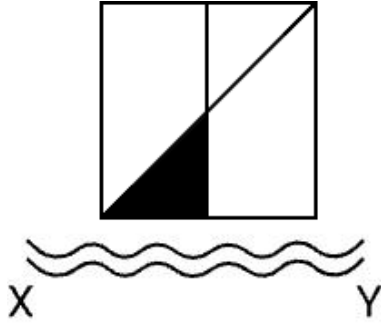


4.



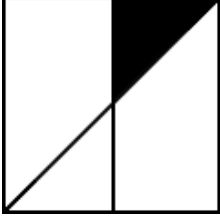
Blackbook

Q.20 यदि जल स्रोत को X-Y के अनुदिश रखा जाए, जैसा कि आकृति में दर्शाया गया है, तो दिए गए विकल्पों में से कौन-सा विकल्प दी गई आकृति का जल प्रतिबिंब होगा?



Ans

1.




2.



3.



4.



Section : General Awareness

Q.1 राष्ट्रीय आय लेखांकन में 'मूल्यहास' शब्द क्या संदर्भित करता है?

Ans

1. व्यवसायों पर अधिरोपित कर

2. अवसंरचना पर सरकारी व्यय

3. भूमि से अर्जित आय

4. समय के साथ स्थायी परिसंपत्तियों के मूल्य में कमी

Q.2 अवंतीपोरा के त्वाल में भारतीय सुरक्षा बलों द्वारा शुरू किया गया 'ऑपरेशन नादेर' किससे संबंधित है?

Ans

1. एक मानवीय सहायता मिशन

2. एक सैन्य प्रशिक्षण अभ्यास

3. एक सीमा निगरानी पहल

4. एक संयुक्त आतंकवाद-रोधी अभियान

Q.3 बैंकों द्वारा दिए गए उधार के माध्यम से किस प्रकार का जमा सृजित होता है?

- Ans
- 1. बैंकों द्वारा दिए गए उधार के माध्यम से सृजित द्वितीयक जमा
  - 2. दीर्घकालिक बचत के लिए रखा गया सावधि जमा
  - 3. दैनिक लेन-देन के लिए उपयोग किया जाने वाला चालू जमा
  - 4. आम जनता से प्राप्त प्राथमिक जमा

Q.4 राजा राम मोहन राय का मानना था कि हिंदुओं के सभी प्रमुख प्राचीन ग्रंथ एकेश्वरवाद का उपदेश देते थे और बहुदेववाद का विरोध करते थे। बहुदेववाद का अर्थ है \_\_\_\_\_ ।

- Ans
- 1. एक से अधिक पत्नियां होना
  - 2. एक से अधिक देवताओं में विश्वास
  - 3. एक से अधिक धर्मों का अनुसरण करना
  - 4. एक से अधिक गुरुओं का पालन करना

Q.5 अप्रैल 2025 में किन संगठनों ने संयुक्त रूप से मल्टी-कोर फाइबर पर भारत के पहले क्वांटम की डिस्ट्रीब्यूशन (Quantum Key Distribution) का परीक्षण किया था?

- Ans
- 1. भारतीय अंतरिक्ष अनुसंधान संगठन (ISRO) और प्रगत संगणन विकास केंद्र (C-DAC)
  - 2. सेंटर फॉर डेवलपमेंट ऑफ़ टेलीमैटिक्स (C-DOT) और स्टारलाइट टेक्नोलॉजीज़ लिमिटेड
  - 3. भारतीय प्रौद्योगिकी संस्थान दिल्ली (IIT दिल्ली) और रिलायंस जियो
  - 4. रक्षा अनुसंधान एवं विकास संगठन (DRDO) और भारतनेट

Q.6 1857 के विद्रोह के दौरान, शाह मल ने क्षेत्र पर नियंत्रण करने के पश्चात अंग्रेज अधिकारी के बंगले को किसमें परिवर्तित कर दिया था?

- Ans
- 1. भंडारण डिपो (A storage depot)
  - 2. व्यापारियों के लिए मिलन स्थल (A meeting place for traders)
  - 3. सैन्य मुख्यालय (A military headquarters)
  - 4. न्याय भवन (A hall of justice)

Q.7 हरमनप्रीत कौर को 2026 में भारत में किस नागरिक पुरस्कार से सम्मानित किया गया था?

- Ans
- 1. अर्जुन पुरस्कार
  - 2. भारत रत्न
  - 3. पद्म भूषण
  - 4. पद्म श्री

Q.8 अप्रैल 2025 में, विस्डेन अल्मनैक (Wisden Almanack) 2025 में किन दो भारतीय क्रिकेटरों को लीडिंग क्रिकेटर के रूप में नामित किया गया था?

- Ans
- 1. के. एल. राहुल और दीप्ति शर्मा
  - 2. ऋषभ पंत और शेफाली वर्मा
  - 3. जसप्रीत बुमराह और स्मृति मंधाना
  - 4. विराट कोहली और हरमनप्रीत कौर

Q.9 निम्नलिखित में से कौन-से कथन सत्य हैं?

- A. भारत में CRR का निर्धारण RBI द्वारा किया जाता है।  
B. RBI, मुद्रा की पूर्ति को विनियमित करने के लिए खुला बाजार संचालन करता है।

- Ans
- 1. केवल A
  - 2. न तो A और न ही B
  - 3. केवल B
  - 4. A और B, दोनों

Q.10 कृषि क्षेत्र में जीविका के व्यवहार्य साधनों की कमी और मौसमी बेरोजगारी के कारण ग्रामीण आबादी का शहरों की ओर संचलन का वर्णन करने के लिए अर्थशास्त्रियों द्वारा किस पद का प्रयोग किया जाता है?

- Ans
- 1. संकटपूर्ण प्रवासन (Distress Migration)
  - 2. शहरी कर्षण कारक (Urban Pull Factors)
  - 3. प्रतिगामी प्रवासन (Reverse Migration)
  - 4. स्वैच्छिक पुनःस्थानन (Voluntary Relocation)

Q.11 ब्रिटिश भारत में पंजाब के निम्नलिखित लेफ्टिनेंट गवर्नरों में से कौन, जलियांवाला बाग हत्याकांड (1919) के दौरान उक्त पद पर पदासीन थे?

- Ans
- 1. सर विलियम मैकवर्थ यंग (Sir William Mackworth Young)
  - 2. सर लुइस विलियम डेन (Sir Louis William Dane)
  - 3. सर माइकल ओ' डायर (Sir Micheal O' Dwyer)
  - 4. थॉमस गॉर्डन वॉकर (Thomas Gordon Walker)

Q.12 ICC में 19-19 क्रिकेट वर्ल्ड कप 2026 के फाइनल में 'प्लेयर ऑफ द मैच' का पुरस्कार किसने जीता?

- Ans
- 1. अर्जुन तेंदुलकर
  - 2. मुशीर खान
  - 3. यश धुल
  - 4. वैभव सूर्यवंशी

Q.13 उत्पादन बढ़ने पर कौन-सी लागत सतत रूप से घटती जाती है?

- Ans
- 1. औसत स्थिर लागत
  - 2. सीमांत लागत
  - 3. परिवर्ती लागत
  - 4. कुल लागत

Q.14 उग्रवादी नेताओं द्वारा अपनी माँगें मनवाने के लिए निम्नलिखित में से किस तरीके को प्राथमिकता दी गई थी?

- Ans
- 1. प्राधिकारियों को याचिकाएं सौंपना
  - 2. ब्रिटिश अंतरात्मा से अपील करना
  - 3. खुला आंदोलन और जन दबाव
  - 4. संवाद के माध्यम से सुधारों की मांग करना

Q.15 निम्नलिखित में से कौन, मानव विकास को अधिक सटीकता से मापता है?

- Ans
- 1. साक्षरता दर और प्रति व्यक्ति आय
  - 2. रक्षा व्यय
  - 3. कुल जनसंख्या आकार
  - 4. प्राकृतिक संसाधन भंडार

Q.16 जनवरी 2026 में, पेंशन भुगतान ऑर्डर (PPO) और जीवन प्रमाण पत्र सेवाओं को सुगम बनाने के लिए संपन्न (SAMPANN) पोर्टल को किस डिजिटल प्लेटफॉर्म के साथ एकीकृत किया गया था?

- Ans
- 1. भारत क्यूआर (Bharat QR)
  - 2. डिजिलॉकर (DigiLocker)
  - 3. ई-नाम (eNAM)
  - 4. उमंग (UMANG)

Q.17 चंद्रशेखर आज़ाद के नेतृत्व में, सितंबर 1928 में दिल्ली के फिरोज शाह कोटला मैदान में निम्नलिखित में से कौन-कौन मिले और उन्होंने हिंदुस्तान रिपब्लिकन एसोसिएशन को पुनर्गठित करके हिंदुस्तान सोशलिस्ट रिपब्लिकन एसोसिएशन (HSRA) बनाया?

- I. शिव वर्मा
- II. भगत सिंह
- III. सुखदेव
- IV. सी.आर. दास

- Ans
- 1. केवल III और IV
  - 2. केवल II, III और IV
  - 3. केवल II और IV
  - 4. केवल I, II और III

Q.18 नवंबर 2025 में नई दिल्ली में वार्षिक टेक फेस्ट को संबोधित करते हुए, केंद्रीय विज्ञान और प्रौद्योगिकी राज्य मंत्री द्वारा की गई घोषणा के अनुसार, पेटेंट फाइलिंग के क्षेत्र में भारत ने वैश्विक स्तर पर कौन-सा स्थान प्राप्त किया है?

- Ans
- 1. दसवां
  - 2. चौथा
  - 3. छठा
  - 4. आठवां

Q.19 नरसिंह मेहता (नरसी मेहता) किस भाषा से संबंधित हैं?

- Ans
- 1. गुजराती
  - 2. मराठी
  - 3. पंजाबी
  - 4. असमिया

Q.20 सितंबर 2025 में भारत के उपराष्ट्रपति के रूप में किसे चुना गया?

- Ans
- 1. सी. पी. राधाकृष्णन
  - 2. ओम बिड़ला
  - 3. जगदीप धनखड़
  - 4. एम. वैकैया नायडू

#### Section : General Awareness 1

Q.1 44वें संशोधन अधिनियम द्वारा निम्नलिखित में से किस मौलिक अधिकार को संविधान से हटा दिया गया?

- Ans
- 1. धर्म का अधिकार
  - 2. शिक्षा का अधिकार
  - 3. संपत्ति का अधिकार
  - 4. समानता का अधिकार

Q.2 एक किशोर को बार-बार मांसपेशियों में ऐंठन की समस्या होती है और उसे अपने आहार में बदलाव करने की सलाह दी जाती है। इस समस्या के मूल कारण, पोषक तत्वों की कमी को दूर करने के लिए कौन-सा आहार संबंधी बदलाव सबसे उपयुक्त होगा?

- Ans
- 1. प्रोटीन-युक्त खाद्य पदार्थों जैसे कम वसा वाले लाल मांस का सेवन बढ़ाना
  - 2. ब्रेड और चावल जैसे कार्बोहाइड्रेट-युक्त खाद्य पदार्थों का सेवन बढ़ाना
  - 3. पोटैशियम, कैल्शियम और मैग्नीशियम युक्त खाद्य पदार्थों का सेवन बढ़ाना
  - 4. मक्खन और तेल जैसे वसा-युक्त खाद्य पदार्थों का सेवन बढ़ाना

Q.3 भारत के सर्वोच्च न्यायालय द्वारा व्यक्तिगत स्वतंत्रता के भाग के रूप में मान्यता प्राप्त विदेश यात्रा करने का व्यक्ति का अधिकार, भारत के संविधान के किस अनुच्छेद के अंतर्गत संरक्षित है?

- Ans
- 1. अनुच्छेद 22
  - 2. अनुच्छेद 21
  - 3. अनुच्छेद 14
  - 4. अनुच्छेद 19(1)(d)

Q.4 75-दिवसीय त्योहार 'बस्तर दशहरा' निम्नलिखित में से किस राज्य में मनाया जाता है?

- Ans
- 1. राजस्थान
  - 2. केरल
  - 3. छत्तीसगढ़
  - 4. गोवा

Q.5 निम्नलिखित में से कौन-सा भोजन संबंधी एक विकार है, जो नियमित रूप से अधिक खाने (bouts of overeating) के बाद स्वयं-प्रेरित वमन द्वारा अभिलक्षित होती है तथा शरीर के वजन के बारे में अत्यधिक चिंतित रहने से संबंधित है?

- Ans
- 1. अटैक्सिया (Ataxia)
  - 2. बुलिमिया (Bulimia)
  - 3. डिस्टोनिया (Dystonia)
  - 4. मायस्थेनिया (Myasthenia)

Q.6 यदि पुरुष और महिला दोनों की जनसंख्या में आनुपातिक रूप से वृद्धि होती है, तो निम्नलिखित में से कौन-सा जनसांख्यिकीय सूचक अपरिवर्तित रहेगा?

- Ans
- 1. जन्म दर
  - 2. औसत आयु
  - 3. जनसंख्या घनत्व
  - 4. लिंगानुपात

Q.7 भारत में स्वर्णिम चतुर्भुज राजमार्ग परियोजना, निम्नलिखित में से किन शहरों को जोड़ती है?

- Ans
- 1. दिल्ली, मुंबई, चेन्नई और कोलकाता
  - 2. दिल्ली, हैदराबाद, बेंगलुरु और कोलकाता
  - 3. दिल्ली, गुवाहाटी, इम्फाल और अगरतला
  - 4. मुंबई, चेन्नई, कोलकाता और अहमदाबाद

Q.8 वाघोरा नदी किस प्रसिद्ध बौद्ध गुफा परिसर से संबंधित है?

- Ans
- 1. एलोरा गुफाएं
  - 2. अजंता गुफाएं
  - 3. कार्ला गुफाएं
  - 4. नासिक गुफाएं

Q.9 अंबुबाची मेला निम्नलिखित में से किस मंदिर से संबंधित है?

- Ans
- 1. कामाख्या मंदिर
  - 2. वैष्णो देवी मंदिर
  - 3. मीनाक्षी मंदिर
  - 4. कालीघाट मंदिर

Q.10 निम्नलिखित में से कौन-सा यौगिक सामान्यतः चाय में पाया जाता है जो मृदु उद्दीपक के रूप में कार्य करता है और मूत्रल प्रभाव डाल सकता है?

- Ans
- 1. ऐट्रोपिन
  - 2. थियोब्रोमीन
  - 3. कैप्सेसिन
  - 4. सोलानीन

Q.11 किस वर्ष लक्कादीव, मिनिक्ॉय और अमीनदीवी द्वीप समूह का आधिकारिक रूप से नाम बदलकर लक्षद्वीप कर दिया गया था?

- Ans
- 1. 1973
  - 2. 1987
  - 3. 1956
  - 4. 1961

Q.12 पंचायती राज का कौन-सा स्तर जमीनी स्तर पर लोगों से सीधे तौर पर जुड़ा हुआ है?

- Ans
- 1. पंचायत समिति
  - 2. जिला कलेक्टर
  - 3. जिला परिषद
  - 4. ग्राम पंचायत

Q.13 भगोरिया उत्सव, मुख्य रूप से किस भारतीय राज्य में भील जनजाति द्वारा पारंपरिक नृत्यों के साथ मनाया जाता है?

- Ans
- 1. मध्य प्रदेश
  - 2. राजस्थान
  - 3. महाराष्ट्र
  - 4. आंध्र प्रदेश

Q.14 भारत के सर्वोच्च न्यायालय के पास उन मामलों में विशेष परामर्शदायी अधिकारिता है, जिन्हें भारत के राष्ट्रपति द्वारा \_\_\_\_\_ के अंतर्गत विशेष रूप से उसे संदर्भित किया जा सकता है।

- Ans
- 1. संविधान के अनुच्छेद 226
  - 2. संविधान के अनुच्छेद 131
  - 3. संविधान के अनुच्छेद 136
  - 4. संविधान के अनुच्छेद 143

Q.15 निम्नलिखित में से किस नदी को बार-बार आने वाली बाढ़ और नदी के मार्ग में बार-बार होने वाले परिवर्तन के कारण 'बिहार का शोक' कहा जाता है?

- Ans
- 1. गंडक
  - 2. सोन
  - 3. गंगा
  - 4. कोशी

Q.16 निम्नलिखित में से किस भाषा को 2024 में शास्त्रीय भाषा के रूप में मान्यता दी गई थी?

- Ans
- 1. हिंदी
  - 2. बंगाली
  - 3. पंजाबी
  - 4. उर्दू

Q.17 जिला परिषद किस स्तर पर कार्य करती है?

- Ans
- 1. ग्राम
  - 2. जिला
  - 3. राज्य
  - 4. ब्लॉक

Q.18 निम्नलिखित में से कौन-सी उपास्थिसम पेटिका है, जो ध्वनि उत्पादन में सहायता करती है और इसलिए इसे ध्वनि पेटिका भी कहा जाता है?

- Ans
- 1. कर्णावर्त (Cochlea)
  - 2. ग्रसनी (Pharynx)
  - 3. कंठ (Larynx)
  - 4. कॉर्निया (Cornea)

Q.19 सीमा सड़क संगठन द्वारा निर्मित और मनाली को लाहौल-स्पीति घाटी से जोड़ने वाली किस सुरंग को, 09 फरवरी 2022 को वर्ल्ड बुक ऑफ रिकॉर्ड्स UK द्वारा आधिकारिक तौर पर "10,000 फीट से अधिक ऊंचाई पर स्थित विश्व की सबसे लंबी राजमार्ग सुरंग" के रूप में प्रमाणित किया गया था?

- Ans
- 1. अनाक्कमपोयिल-कल्लाडी-मेप्पडी सुरंग
  - 2. अटल सुरंग
  - 3. चेंनानी-नाशरी सुरंग
  - 4. जवाहर सुरंग

Q.20 निम्नलिखित में से कौन-सा पोषक, हमारे आहार में अल्प मात्रा में आवश्यक होता है और उनकी हीनता विशिष्ट रोगों का कारण बनती है?

- Ans
- 1. पॉलिसैकेराइड
  - 2. विटामिन
  - 3. प्रोटीन
  - 4. लिपिड

Section : Arithmetical and Numerical Ability

Q.1 निम्नलिखित संख्याओं का औसत ज्ञात कीजिए।  
12, 24, 36, 42, 52, 63, 75 और 56

- Ans
- 1. 43
  - 2. 45
  - 3. 48
  - 4. 42

Q.2 वर्तमान से सात वर्ष पहले, A, B और C की औसत आयु 43 वर्ष थी। वर्तमान से सात वर्ष बाद, A और C की औसत आयु 41 वर्ष होगी। वर्तमान से छह वर्ष बाद B की आयु (वर्ष में) कितनी होगी?

- Ans
- 1. 88
  - 2. 89
  - 3. 93
  - 4. 90

Q.3 ₹62,000 के एक निवेश में पहले वर्ष में 10% की कमी आई और दूसरे वर्ष में 12% की वृद्धि हुई। दो वर्ष की अवधि के अंत में निवेश का मूल्य कितना था?

- Ans
- 1. ₹61,496
  - 2. ₹63,696
  - 3. ₹62,486
  - 4. ₹62,496

Q.4 निम्नलिखित का मान ज्ञात कीजिए।

$$\frac{1}{\left(\frac{2}{3}\right) + \left(\frac{7}{9}\right)} \div \frac{4}{14}$$

Ans

✓ 1.  $2\frac{11}{26}$

✗ 2.  $2\frac{9}{26}$

✗ 3.  $2\frac{4}{13}$

✗ 4.  $2\frac{5}{13}$

Q.5 12, 44 और 68 का HCF ज्ञात कीजिए।

Ans

✓ 1. 4

✗ 2. 6

✗ 3. 2

✗ 4. 3

Q.6 किसी संख्या में पहले 40% की वृद्धि की जाती है और फिर 5% की कमी की जाती है। परिणाम 133 प्राप्त होता है। मूल संख्या ज्ञात कीजिए।

Ans

✗ 1. 90

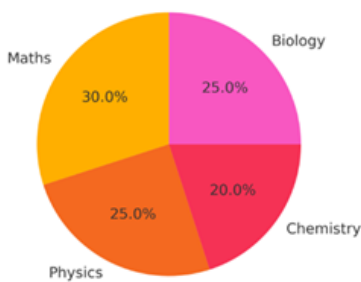
✓ 2. 100

✗ 3. 110

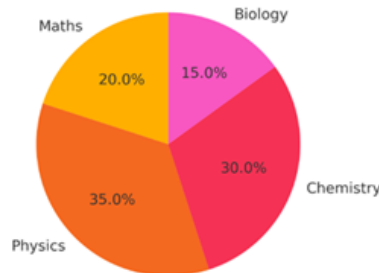
✗ 4. 120

Q.7 निम्नांकित पाई चार्ट में दो कक्षाओं (A और B) में विभिन्न विषयों में विद्यार्थियों के वितरण को दर्शाया गया है। पाई चार्ट का अध्ययन करें और दिए गए प्रश्न का उत्तर दें।

Distribution of Students in Class A



Distribution of Students in Class B



संदर्भ:- कक्षा A में विद्यार्थियों का वितरण = Distribution of Students in Class A, कक्षा B में विद्यार्थियों का वितरण = Distribution of Students in Class B, गणित = Maths, जीवविज्ञान = Biology, रसायन विज्ञान = Chemistry, भौतिक विज्ञान = Physics

कक्षा 'A' में 200 विद्यार्थी हैं और कक्षा 'B' में 300 विद्यार्थी हैं। दोनों कक्षाओं में गणित पढ़ने वाले विद्यार्थियों की संख्या में कितना अंतर है?

Ans

✓ 1. 0

✗ 2. 40

✗ 3. 25

✗ 4. 10

Q.8 ₹7,70,000 की राशि 2% वार्षिक दर पर 1 वर्ष के लिए निवेश की जाती है, जिसपर ब्याज अर्धवार्षिक रूप से संयोजित होता है। वर्ष के अंत में अर्जित चक्रवृद्धि ब्याज कितना होगा?

- Ans
- 1. ₹16044
  - 2. ₹16611
  - 3. ₹13849
  - 4. ₹15477

Q.9 ₹1,800 पर 3% की मासिक दर से 2 महीने का साधारण ब्याज (₹ में) ज्ञात कीजिए।

- Ans
- 1. 18
  - 2. 108
  - 3. 27
  - 4. 9

Q.10 निम्नलिखित तालिका का अध्ययन कीजिए और नीचे दिए गए प्रश्न का उत्तर दीजिए।  
यह तालिका पांच वर्षों में तीन राज्यों में चावल के उत्पादन को (मिलियन टन में) दर्शाती है।

राज्य	वर्ष				
	2018	2019	2020	2021	2022
P	6.3	5.8	7.1	5.6	3.4
Q	5.7	3.4	4.2	3.5	3.9
R	4.8	3.9	4.7	6.9	5.7

दिए गए वर्षों में राज्य R में चावल का औसत उत्पादन (मिलियन टन में) कितना है?

- Ans
- 1. 4.8
  - 2. 5.7
  - 3. 3.9
  - 4. 5.2

Q.11 अब से नौ वर्ष पहले, A, B और C की औसत आयु 19 वर्ष थी। अब से नौ वर्ष बाद, A और C की औसत आयु 33 वर्ष होगी। अब से पांच वर्ष बाद B की आयु (वर्षों में) कितनी होगी?

- Ans
- 1. 41
  - 2. 45
  - 3. 39
  - 4. 40

Q.12 एक संख्या में पहले 80% की वृद्धि की जाती है और फिर 25% की कमी की जाती है। इस प्रकार परिणाम 135 प्राप्त होता है। मूल संख्या ज्ञात कीजिए।

- Ans
- 1. 110
  - 2. 100
  - 3. 90
  - 4. 120

Q.13 यदि ब्याज वार्षिक रूप से संयोजित होता है, तो चक्रवृद्धि ब्याज की किस दर पर एक निश्चित राशि 2 वर्षों में स्वयं की 47 गुना हो जाएगी? (उत्तर को दशमलव के एक स्थान तक पूर्णांकित करें)

- Ans
- 1. 585.6%
  - 2. 589.9%
  - 3. 578.2%
  - 4. 594.4%

Q.14 एक व्यापारी को ₹900 में एक शर्ट बेचने पर 10% की हानि होती है। यदि उसे शर्ट को ₹1390 में बेचने पर x% का लाभ अर्जित होता है, तो x का मान ज्ञात कीजिए।

- Ans
- 1. 39
  - 2. 29
  - 3. 54
  - 4. 49

Q.15 निम्नलिखित का मान ज्ञात कीजिए।

$$\frac{1}{\left(\frac{7}{8}\right) + \left(\frac{5}{7}\right)} \div \frac{7}{19}$$

- Ans
- 1.  $1\frac{65}{89}$
  - 2.  $1\frac{62}{89}$
  - 3.  $1\frac{62}{91}$
  - 4.  $1\frac{63}{89}$

Q.16 किसी निश्चित मूलधन पर 2 वर्षों के लिए 5% वार्षिक ब्याज दर से चक्रवृद्धि ब्याज (वार्षिक रूप से संयोजित) और साधारण ब्याज के बीच का अंतर ₹25 है। मूलधन ज्ञात कीजिए।

- Ans
- 1. ₹9,000
  - 2. ₹10,000
  - 3. ₹8,000
  - 4. ₹12,000

Q.17 किसी वस्तु को ₹120 में बेचने पर एक व्यक्ति को 40% की हानि होती है। 28% का लाभ अर्जित करने के लिए उसे वह वस्तु किस कीमत (₹ में) पर बेचनी चाहिए?

- Ans
- 1. 276
  - 2. 256
  - 3. 266
  - 4. 246

Q.18 एक किराना व्यापारी को ₹75 प्रति kg और ₹105 प्रति kg वाली दालों की दो किस्मों को किस अनुपात में मिलाना चाहिए, ताकि उसे ₹85 प्रति kg मूल्य वाला मिश्रण प्राप्त हो सके?

- Ans
- 1. 2:1
  - 2. 4:3
  - 3. 3:2
  - 4. 1:2

Q.19 लैपटॉप के मूल्य में जनवरी में 25% हुई और फरवरी में फिर 20% की वृद्धि हुई। कुल प्रतिशत वृद्धि ज्ञात कीजिए।

- Ans
- 1. 45%
  - 2. 60%
  - 3. 50%
  - 4. 55%

Q.20 यदि  $X - 34 = 5 \times \sqrt{8 + \sqrt{1 + 27 \times 29}}$  है, तो  $\sqrt{X}$  का मान ज्ञात कीजिए।

- Ans
- 1. 10
  - 2. 5
  - 3. 1
  - 4. 8

Section : Arithmetical and Numerical Ability1

Q.1 किसी उत्पाद पर 8% का लाभ प्राप्त होता है। यदि क्रय मूल्य और विक्रय मूल्य को परस्पर प्रतिस्थापित कर दिया जाए, तो विक्रय पर होने वाली हानि का प्रतिशत (दो दशमलव स्थानों तक पूर्णांकित) ज्ञात कीजिए।

- Ans
- 1. 7.41%
  - 2. 9.69%
  - 3. 10.21%
  - 4. 7.93%

Q.2 एक नाव 13 घंटे में 40 km धारा की विपरीत दिशा में और 60 km धारा की दिशा में यात्रा करती है। यह 16 घंटे में 50 km धारा की विपरीत दिशा में और 72 km धारा की दिशा में यात्रा करती है। शांत जल में नाव की चाल ज्ञात कीजिए।

- Ans
- 1. 6.5 km/hr
  - 2. 8.5 km/hr
  - 3. 7.5 km/hr
  - 4. 9.5 km/hr

Q.3 A और B के पास कुल ₹7,200 हैं, जो 7 : 5 के अनुपात में हैं। A अपनी धनराशि का  $\frac{1}{7}$  वाँ हिस्सा B को देता है और फिर B अपनी धनराशि का  $\frac{1}{5}$  वाँ हिस्सा A को देता है। A और B की धनराशियों का नया अनुपात क्या होगा?

- Ans
- 1. 2 : 3
  - 2. 4 : 3
  - 3. 3 : 2
  - 4. 3 : 4

Q.4 एक स्टार्टअप में, टीम के सदस्य A, B और C मिलकर कार्य करते हुए एक सॉफ्टवेयर मॉड्यूल को 10 दिनों में पूरा कर सकते हैं। C अकेले उसी कार्य को 20 दिनों में और A अकेले उसे 40 दिनों में पूरा कर सकता है। 4 दिनों तक साथ कार्य करने के बाद, B टीम छोड़ देता है। शेष कार्य को पूरा करने में A और C को कितने अतिरिक्त दिन लगेंगे?

- Ans
- 1. 7 दिन
  - 2. 5 दिन
  - 3. 8 दिन
  - 4. 6 दिन

Q.5 एक कार 72 km/hr की एकसमान चाल से यात्रा करती है। ज्ञात कीजिए कि वह 45 सेकंड में कितनी दूरी तय करेगी।

- Ans
- 1. 800 मीटर
  - 2. 900 मीटर
  - 3. 1,000 मीटर
  - 4. 1,200 मीटर

Q.6 यदि बाह्य त्रिज्या R और आंतरिक त्रिज्या r वाले एक खोखले गोले का पृष्ठीय क्षेत्रफल S है, तो निम्न में से कौन-सा व्यंजक, S को सही ढंग से निरूपित करता है?

- Ans
- 1.  $2\pi(R^2 - r^2)$
  - 2.  $4\pi(R^2 - r^2)$
  - 3.  $4\pi(R^2 + r^2)$
  - 4.  $2\pi(R^2 + r^2)$

Q.7 कोई विक्रेता एक शर्ट का अंकित मूल्य ₹1,200 निर्धारित करता है और अंकित मूल्य पर 20% की छूट प्रदान करता है। शर्ट का विक्रय मूल्य ज्ञात कीजिए।

- Ans
- 1. ₹980
  - 2. ₹890
  - 3. ₹960
  - 4. ₹840

Q.8 लाभ को दो साझेदारों, X और Y के बीच 4 : 5 के अनुपात में बाँटा जाता है। यदि कुल अर्जित लाभ ₹3,42,000 है, तो Y का हिस्सा ज्ञात कीजिए।

- Ans
- 1. ₹1,85,000
  - 2. ₹1,90,000
  - 3. ₹1,80,000
  - 4. ₹1,95,000

Q.9 किसी उत्पाद पर 31% का लाभ प्राप्त होता है। यदि क्रय मूल्य और विक्रय मूल्य को परस्पर प्रतिस्थापित कर दिया जाए, तो विक्रय पर होने वाली हानि का प्रतिशत (दो दशमलव स्थानों तक पूर्णांकित) ज्ञात कीजिए।

- Ans
- 1. 21.84%
  - 2. 25.42%
  - 3. 23.64%
  - 4. 23.66%

Q.10 कोई कार, शहर A से शहर B तक कुल 240 km की दूरी तय करती है। पहले 90 km के लिए, यह 60 km/h की चाल से चलती है। अगले 90 km के लिए, यह 45 km/h की चाल से चलती है। शेष दूरी के लिए, यह 40 km/h की चाल से चलती है। यात्रा के दौरान यह 1 घंटा विराम भी करती है। विराम सहित संपूर्ण यात्रा के लिए कार की औसत चाल कितनी है?

- Ans
- 1. 35 km/h
  - 2. 50 km/h
  - 3. 40 km/h
  - 4. 45 km/h

Q.11 एक घनाकार गिफ्ट बॉक्स की भुजा की लंबाई 15 cm है। यदि एक दुकानदार ऐसे 10 बॉक्सों को एक बड़े घनाकार कार्टन में पैक करना चाहता है, तो उस कार्टन के लिए आवश्यक न्यूनतम आयतन ( $\text{cm}^3$  में) कितना होगा?

- Ans
- 1.  $22500 \text{ cm}^3$
  - 2.  $33750 \text{ cm}^3$
  - 3.  $45000 \text{ cm}^3$
  - 4.  $15000 \text{ cm}^3$

Q.12 1 एक इलेक्ट्रिक पंप एक टैंक को 5 घंटे में भर सकता है। टैंक में रिसाव के कारण, टैंक को भरने में  $7\frac{1}{2}$  घंटे लगे। यदि टैंक भरा हुआ है, तो रिसाव द्वारा खाली होने में कितना समय (घंटों में) लगेगा?

- Ans
- 1. 16
  - 2. 10
  - 3. 12
  - 4. 15

Q.13 एक समांतर चतुर्भुज का परिमाण 200 cm है और उसकी एक भुजा 60 cm है। यदि उसके एक विकर्ण की माप 80 cm है, तो इस समांतर चतुर्भुज का क्षेत्रफल ( $\text{cm}^2$  में) ज्ञात कीजिए।

- Ans
- 1.  $600\sqrt{15}$
  - 2.  $550\sqrt{15}$
  - 3.  $625\sqrt{15}$
  - 4.  $580\sqrt{15}$

Q.14 एक इलेक्ट्रिक राइड-शेयर कार कम ट्रैफिक के कारण अपनी आधी यात्रा 90 km/h की चाल से तय करती है और शेष आधी यात्रा ट्रैफिक जाम के दौरान 45 km/h की चाल से तय करती है। संपूर्ण यात्रा के लिए औसत चाल ज्ञात कीजिए।

- Ans
- 1. 64.25 km/h
  - 2. 65 km/h
  - 3. 60 km/h
  - 4. 62.5 km/h

Q.15 एक खुदरा विक्रेता ₹2,000 मूल्य वाली वस्तु पर 10%, 20% और 25% की तीन क्रमिक छूट प्रदान करता है। अंतिम विक्रय मूल्य ज्ञात कीजिए।

- Ans
- 1. ₹1,100
  - 2. ₹1,200
  - 3. ₹1,300
  - 4. ₹1,080

Q.16 एक शंकु की त्रिज्या  $r$  इकाई और ऊंचाई  $h$  इकाई है। यदि त्रिज्या को घटाकर  $r/2$  इकाई कर दिया जाए और ऊंचाई को दोगुना करके  $2h$  इकाई कर दिया जाए, तो नए आयतन और मूल आयतन का अनुपात ज्ञात कीजिए।

- Ans
- 1. 1:2
  - 2. 1:1
  - 3. 1:4
  - 4. 2:1

Q.17 माना 0.6, 1.5 और 3.4 का चतुर्थानुपाती  $x$  है। माना 5, 8 और 25 का चतुर्थानुपाती  $y$  है। प्रारंभिक मूल्य ₹(15x + 4y) वाली वस्तु में 20% की वृद्धि के पश्चात उसका अंतिम मूल्य ज्ञात कीजिए।

- Ans
- 1. ₹ 360
  - 2. ₹ 385
  - 3. ₹ 315
  - 4. ₹ 345

Q.18 A और B की आय का अनुपात 4 : 5 है। उनके व्यय का अनुपात 3 : 4 है। A और B प्रत्येक ₹2000 की बचत करते हैं। B की आय ज्ञात कीजिए।

- Ans
- 1. ₹8000
  - 2. ₹12000
  - 3. ₹10000
  - 4. ₹9000

Q.19 यदि तीन श्रमिक किसी कार्य को छह दिन में पूरा कर सकते हैं और चौथा श्रमिक उसी कार्य को अकेले 12 दिन में पूरा कर सकता है, तो चारों को साथ मिलकर उस कार्य को पूरा करने में कितना समय लगेगा?

- Ans
- 1. 4.5 दिन
  - 2. 4 दिन
  - 3. 3 दिन
  - 4. 5 दिन

Q.20 2 पुरुषों और 3 लड़कों का एक समूह किसी कार्य को 10 दिनों में पूरा कर सकता है, जबकि 3 पुरुषों और 2 लड़कों का एक अन्य समूह उसी कार्य को 8 दिनों में समाप्त कर सकता है। 2 पुरुषों और 1 लड़के को उसी कार्य को पूरा करने में कितने दिन लगेंगे?

- Ans
- 1. 11.5 दिन
  - 2. 13 दिन
  - 3. 12.5 दिन
  - 4. 10 दिन

Section : Test of English Language and Comprehension

Q.1 Complete the sentence by choosing correct option.

She is kind \_\_\_\_\_ the poor.4028

- Ans
- 1. for
  - 2. to
  - 3. towards
  - 4. at

Q.2 Select the most appropriate option to fill in the blank.

The \_\_\_\_\_ smell of freshly baked cookies filled the entire house.

- Ans
- 1. sweet
  - 2. sour
  - 3. bitter
  - 4. pungent

Q.3 Complete the sentence by choosing the correct option.

The Times is the ..... powerful newspaper in England.3999

- Ans
- 1. more
  - 2. much
  - 3. most
  - 4. enough

Q.4 Select the most appropriate option to fill in the blanks.

He listened carefully to \_\_\_\_ instructions before starting \_\_\_\_ task.99

- Ans
- 1. No article required, a
  - 2. a, the
  - 3. the, the
  - 4. an, a

Q.5 Complete the sentence by choosing the correct option.

The pen is ..... than the sword.4003

- Ans
- 1. strong
  - 2. mightier
  - 3. sharper
  - 4. harder

Q.6 Complete the sentence given below with the most suitable option.

Sooraj plays \_\_\_\_\_ tabla really well.

1315

- Ans
- 1. No article needed
  - 2. a
  - 3. the
  - 4. an

Q.7 Choose the correct adverb to complete the sentence.

His interest in the project was \_\_\_\_\_ increasing over time.142

- Ans
- 1. Steadily more
  - 2. Steadily
  - 3. More steady
  - 4. Steadily most

Q.8 In the given question, a statement divided into different segments is given. Rearrange the segments to form a coherent statement.

exploring its cultural, medical, and gendered dimensions(A)/the complexities of endometriosis (B)/delves into(C)/ the research by Dr. Nidhi(D)5330

- Ans
- 1. CDAB
  - 2. CDBA
  - 3. DCBA
  - 4. ABCD

Q.9 Identify the error in the following sentence and choose the correct revision from the given options.

She go to school every day.

- Ans
- 1. She goes to school every day.
  - 2. She have gone to school every day.
  - 3. She going to school every day.
  - 4. She is go to school every day.

Q.10 Complete the following sentence by choosing the appropriate option relating to the use of articles.

\_\_\_\_\_ clothes hung out to dry were taken and sent to \_\_\_\_\_ presser for ironing.1368

- Ans
- 1. No article required, the
  - 2. The, the
  - 3. The, no article required
  - 4. No article required, no article required

Q.11 Correct the following sentence by replacing the underlined segment from the options given.

Rohit said, "It's probably too late to call Janvi. Do you think she'll go to bed already?"

- Ans
- 1. have been gone
  - 2. have gone
  - 3. has gone
  - 4. be going

Q.12 Fill in the blank choosing the right one from the given options:

Hema sat on \_\_\_ beach thinking about her future.1385

- Ans
- 1. the
  - 2. no article
  - 3. an
  - 4. a

Q.13 Complete the sentence by choosing the correct option.

He \_\_\_ down several children.

- Ans
- 1. knock
  - 2. had knock
  - 3. knocked
  - 4. have knock

Q.14 In the given question, a statement divided into different segments is given. The first segment is fixed. Rearrange the remaining segments to form a coherent sentence.

(A) Although the district administration had allocated substantial funds for road repair,

(B) because contractors submitted inflated estimates that went unverified by supervising engineers

(C) which resulted in visible deterioration of newly constructed stretches within a single monsoon season

(D) the actual work executed on ground fell far short of the approved project specifications

- Ans
- 1. ADCB
  - 2. ACBD
  - 3. ADBC
  - 4. ABCD

Q.15 Select the most appropriate option to fill in the blank.

A cycle and sometime an auto rickshaw \_\_\_ his means of transportation for reaching school.

- Ans
- 1. was
  - 2. are
  - 3. am
  - 4. is

### Comprehension:

Read the given passage and answer the questions that follow.

Women played a vital role in India's fight for independence. From leading protests to supporting underground movements, their contribution was both brave and inspiring. Leaders like Sarojini Naidu, Kasturba Gandhi, and Aruna Asaf Ali took part in mass movements such as the Non-Cooperation Movement and the Quit India Movement. Many women also faced imprisonment for speaking out against British rule. They spread patriotic ideas through speeches, writings, and public gatherings. Some, like Rani Lakshmi Bai and Captain Lakshmi Sehgal, even took up arms in earlier and later phases of the struggle. Despite social restrictions, women from all regions and communities came forward to join the national cause. Their efforts not only helped achieve freedom but also challenged traditional gender roles. The freedom struggle thus became a turning point, showing that women could lead and sacrifice equally with men in shaping India's future.

### SubQuestion No : 16

Q.16 Which of the following women leaders is mentioned in the passage?

**Comprehension:**

Read the given passage and answer the questions that follow.

Women played a vital role in India's fight for independence. From leading protests to supporting underground movements, their contribution was both brave and inspiring. Leaders like Sarojini Naidu, Kasturba Gandhi, and Aruna Asaf Ali took part in mass movements such as the Non-Cooperation Movement and the Quit India Movement. Many women also faced imprisonment for speaking out against British rule. They spread patriotic ideas through speeches, writings, and public gatherings. Some, like Rani Lakshmibai and Captain Lakshmi Sehgal, even took up arms in earlier and later phases of the struggle. Despite social restrictions, women from all regions and communities came forward to join the national cause. Their efforts not only helped achieve freedom but also challenged traditional gender roles. The freedom struggle thus became a turning point, showing that women could lead and sacrifice equally with men in shaping India's future.

**SubQuestion No : 17**

**Q.17 What type of movements did women participate in?**

**Comprehension:**

Read the given passage and answer the questions that follow.

Women played a vital role in India's fight for independence. From leading protests to supporting underground movements, their contribution was both brave and inspiring. Leaders like Sarojini Naidu, Kasturba Gandhi, and Aruna Asaf Ali took part in mass movements such as the Non-Cooperation Movement and the Quit India Movement. Many women also faced imprisonment for speaking out against British rule. They spread patriotic ideas through speeches, writings, and public gatherings. Some, like Rani Lakshmibai and Captain Lakshmi Sehgal, even took up arms in earlier and later phases of the struggle. Despite social restrictions, women from all regions and communities came forward to join the national cause. Their efforts not only helped achieve freedom but also challenged traditional gender roles. The freedom struggle thus became a turning point, showing that women could lead and sacrifice equally with men in shaping India's future.

**SubQuestion No : 18**

**Q.18 Select the most appropriate title for the passage.**

**Comprehension:**

Read the given passage and answer the questions that follow.

Women played a vital role in India's fight for independence. From leading protests to supporting underground movements, their contribution was both brave and inspiring. Leaders like Sarojini Naidu, Kasturba Gandhi, and Aruna Asaf Ali took part in mass movements such as the Non-Cooperation Movement and the Quit India Movement. Many women also faced imprisonment for speaking out against British rule. They spread patriotic ideas through speeches, writings, and public gatherings. Some, like Rani Lakshmibai and Captain Lakshmi Sehgal, even took up arms in earlier and later phases of the struggle. Despite social restrictions, women from all regions and communities came forward to join the national cause. Their efforts not only helped achieve freedom but also challenged traditional gender roles. The freedom struggle thus became a turning point, showing that women could lead and sacrifice equally with men in shaping India's future.

**SubQuestion No : 19**

**Q.19 What is implied about women's leadership in the struggle?**

**Comprehension:**

Read the given passage and answer the questions that follow.

Women played a vital role in India's fight for independence. From leading protests to supporting underground movements, their contribution was both brave and inspiring. Leaders like Sarojini Naidu, Kasturba Gandhi, and Aruna Asaf Ali took part in mass movements such as the Non-Cooperation Movement and the Quit India Movement. Many women also faced imprisonment for speaking out against British rule. They spread patriotic ideas through speeches, writings, and public gatherings. Some, like Rani Lakshmibai and Captain Lakshmi Sehgal, even took up arms in earlier and later phases of the struggle. Despite social restrictions, women from all regions and communities came forward to join the national cause. Their efforts not only helped achieve freedom but also challenged traditional gender roles. The freedom struggle thus became a turning point, showing that women could lead and sacrifice equally with men in shaping India's future.

**SubQuestion No : 20**

**Q.20 Which of the following is the most appropriate antonym of "traditional"?**

Section : **Test of English Language and Comprehension1**

Q.1 Select the word which means the same as the group of words underlined.

The chairperson checked that the minimum number of members required for a meeting to be officially conducted was present before calling the session to order.

- Ans
- 1. delegation
  - 2. quorum
  - 3. agenda
  - 4. majority

Q.2 Out of the given options, select the one which best expresses the meaning of the given word.

Jaded

- Ans
- 1. thrilled
  - 2. lively
  - 3. energized
  - 4. tired

Q.3 Select the most appropriate synonym of the word given below:  
Astute

- Ans
- 1. perceptive
  - 2. sluggish
  - 3. naive
  - 4. careless

Q.4 Choose the option that best expresses the meaning of the given proverb.

A penny saved is a penny earned

- Ans
- 1. Spending money leads to wealth.
  - 2. Money has no value if not spent.
  - 3. Saving money is important for future needs.
  - 4. Earning money is easier than saving it.

Q.5 Substitute one word for the given segment by choosing from the following options.

One who despises people or humanity in general

- Ans
- 1. Humanitarian
  - 2. Philanthropist
  - 3. Altruist
  - 4. Misanthrope

Q.6 Identify the incorrectly spelt word.

- Ans
- 1. Occassion
  - 2. Omission
  - 3. Procession
  - 4. Possession

Q.7 Choose the correct meaning of the given proverb.

Do good and forget.

- Ans
- 1. Do good things without expecting anything in exchange.
  - 2. Do good things and never forget them.
  - 3. Forget doing good things when necessary.
  - 4. Don't remember what you have done.

Q.8 Choose the word opposite in meaning to the given word.

Vivacious

- Ans
- 1. Energetic
  - 2. Indolent
  - 3. Vibrant
  - 4. Irrelevant

Q.9 In the following question, four words are given out of which one word is correctly spelt. Select the correctly spelt word.

- Ans
- 1. Luietenent
  - 2. Lieutenant
  - 3. Luetetant
  - 4. Leiutenant

Q.10 A statement divided into different segments is given. Rearrange all the segments to form a coherent statement.

A. Today, her unique foldable miniature Durga idols have a customer base in places like Australia, Canada and Europe.

B. Additionally, she also runs a school that teaches idol-making and aims to pass on this centuries-old craft to the coming generations.

C. Despite society's resistance for a woman to make idols, Mala Pal from this area jumped at the opportunity to help her brother after her father passed away.

D. In Kolkata's famed potter's quarter Kumartuli, the business of making idols has long been male-dominated and hundreds of idols are made and shipped to the city and suburbs from its lanes.

- Ans
- 1. DCAB
  - 2. ABCD
  - 3. BADC
  - 4. CDAB

Q.11 Select the word which means the same as the group of words given.

Having an eager and often selfish desire especially for material possessions

- Ans
- 1. Greedy
  - 2. Cheerful
  - 3. Judicious
  - 4. Unfortunate

Q.12 Identify the most appropriate meaning of the word Sycophancy.

- Ans
- 1. Love
  - 2. Flattery
  - 3. Admiration
  - 4. Affection

**Q.13** In the following question, a proverb has been given, followed by some alternatives.

Choose the one that best expresses the meaning of the given proverb.

"Gossip is the lifeblood of society"

- Ans**
- 1. Gossip should be avoided at all costs
  - 2. Gossip is harmful to relationships
  - 3. Informal talk often keeps people socially connected
  - 4. Society functions best in silence

**Q.14** Choose the correct meaning of the proverb given below.

where there's a will, there's a way.

- Ans**
- 1. Plans are useless without money
  - 2. People with determination can overcome obstacles
  - 3. People often get lost without direction
  - 4. You should always take the easy path

**Q.15** Choose the correct one-word substitute for the following phrase.

The thing that can be felt or touched

- Ans**
- 1. Palpable
  - 2. Pandemic
  - 3. Panchromatic
  - 4. Paltry

**Comprehension:**

Read the passage carefully and answer the questions that follow.

When we talk about how films convey meaning we tend to refer to acting, music, dialogue, props and narrative developments, but often forgotten is the visual essence of a film itself, which is the cutting together of moving images – “motion pictures” – each one carefully tailored to meet a particular need or purpose. Most films and many important scenes within them open with an establishing shot. Typically this shot precedes our introduction to the main characters by presenting us with the locale in which the scene's action or dialogue is about to occur. Occasionally, however, a director will use an establishing shot with another goal in mind. An opening view of a thousand soldiers parading in synchronized fashion might have little to reveal about the film's geography, for example, but it does inform the audience that ideas about discipline and conformity are likely to arise in the material that follows.

**SubQuestion No : 16**

**Q.16** What does the phrase “motion pictures” in the passage emphasize?

**Comprehension:**

Read the passage carefully and answer the questions that follow.

When we talk about how films convey meaning we tend to refer to acting, music, dialogue, props and narrative developments, but often forgotten is the visual essence of a film itself, which is the cutting together of moving images – “motion pictures” – each one carefully tailored to meet a particular need or purpose. Most films and many important scenes within them open with an establishing shot. Typically this shot precedes our introduction to the main characters by presenting us with the locale in which the scene's action or dialogue is about to occur. Occasionally, however, a director will use an establishing shot with another goal in mind. An opening view of a thousand soldiers parading in synchronized fashion might have little to reveal about the film's geography, for example, but it does inform the audience that ideas about discipline and conformity are likely to arise in the material that follows.

**SubQuestion No : 17**

**Q.17** What is one possible alternative use of an establishing shot mentioned in the passage?

**Comprehension:**

Read the passage carefully and answer the questions that follow.

When we talk about how films convey meaning we tend to refer to acting, music, dialogue, props and narrative developments, but often forgotten is the visual essence of a film itself, which is the cutting together of moving images – “motion pictures” – each one carefully tailored to meet a particular need or purpose. Most films and many important scenes within them open with an establishing shot. Typically this shot precedes our introduction to the main characters by presenting us with the locale in which the scene's action or dialogue is about to occur. Occasionally, however, a director will use an establishing shot with another goal in mind. An opening view of a thousand soldiers parading in synchronized fashion might have little to reveal about the film's geography, for example, but it does inform the audience that ideas about discipline and conformity are likely to arise in the material that follows.

**SubQuestion No : 18**

**Q.18** What is the most appropriate title for the passage?

### Comprehension:

Read the passage carefully and answer the questions that follow.

When we talk about how films convey meaning we tend to refer to acting, music, dialogue, props and narrative developments, but often forgotten is the visual essence of a film itself, which is the cutting together of moving images – “motion pictures” – each one carefully tailored to meet a particular need or purpose. Most films and many important scenes within them open with an establishing shot. Typically this shot precedes our introduction to the main characters by presenting us with the locale in which the scene’s action or dialogue is about to occur. Occasionally, however, a director will use an establishing shot with another goal in mind. An opening view of a thousand soldiers parading in synchronized fashion might have little to reveal about the film’s geography, for example, but it does inform the audience that ideas about discipline and conformity are likely to arise in the material that follows.

#### SubQuestion No : 19

Q.19 Which of the following best summarizes the passage?

### Comprehension:

Read the passage carefully and answer the questions that follow.

When we talk about how films convey meaning we tend to refer to acting, music, dialogue, props and narrative developments, but often forgotten is the visual essence of a film itself, which is the cutting together of moving images – “motion pictures” – each one carefully tailored to meet a particular need or purpose. Most films and many important scenes within them open with an establishing shot. Typically this shot precedes our introduction to the main characters by presenting us with the locale in which the scene’s action or dialogue is about to occur. Occasionally, however, a director will use an establishing shot with another goal in mind. An opening view of a thousand soldiers parading in synchronized fashion might have little to reveal about the film’s geography, for example, but it does inform the audience that ideas about discipline and conformity are likely to arise in the material that follows.

#### SubQuestion No : 20

Q.20 What can be inferred from the passage?

### Section : Test of Hindi Language and Comprehension

Q.1 दिए गए विकल्पों में से शुद्ध वाक्य का विकल्प चुनें -

Ans ✓ 1. यह काम आप पर निर्भर है।

✗ 2. यह काम आपमें निर्भर रहता है।

✗ 3. यह काम आपसे निर्भर होता है।

✗ 4. यह काम आपमें निर्भर है।

Q.2 निम्नलिखित विकल्पों में से अतिरिक्त वाक्य का चयन करें-

Ans ✓ 1. ताराचंद ने भक्ति आन्दोलन को इस्लाम की देन बताया है |

✗ 2. भक्ति की इसी सहजता और सरलता ने सिद्धो-नाथो की तुलना में आलवारों को कहीं अधिक लोकप्रियता दी |

✗ 3. आलवारों की भक्ति भावावेशमय भक्ति थी |

✗ 4. आलवारों ने सामूहिक उपासना पद्धति को अपनाया |

Q.3 नीचे दिए गए वाक्य को ध्यानपूर्वक पढ़िए और रिक्त स्थान की पूर्ति उचित कारक से करें।

“गाँव के बच्चे खेल \_\_\_ मैदान में जमा हो गए थे और खुशी से चिल्ला रहे थे।”

Ans ✓ 1. के

✗ 2. में

✗ 3. से

✗ 4. पर

Q.4 निम्नलिखित में से अतिरिक्त वाक्य वाले विकल्प का चयन कीजिए।

Ans ✓ 1. मेरा छोटा भाई बहुत नटखट है और दिन भर खेलता रहता है।

✗ 2. पार्क में बीचों-बीच एक बहुत बड़ा और गोल चबूतरा बना है।

✗ 3. पेज पर रखे हुए चौकोर डिब्बे में मेरी पसंद की मिठाई है।

✗ 4. दीवार पर टंगी तिकोनी घड़ी देखने में बहुत ही आकर्षक लगती है।

Q.5 निम्नलिखित वाक्य में उचित कारक का प्रयोग कर वाक्य पूर्ण करें-  
'पापा मिठाई खाई '

- Ans
- 1. पर
  - 2. को
  - 3. में
  - 4. ने

Q.6 निम्नलिखित वाक्य में उचित कारक का प्रयोग कर वाक्य पूर्ण करें-  
'मैंने थोबी कपड़े दिए '

- Ans
- 1. को
  - 2. की
  - 3. ने
  - 4. पर

Q.7 निम्नलिखित वाक्यों में से शुद्ध वाक्य को चुनिए -

- Ans
- 1. रमेश जेल में बुरी तरह अस्वस्थ है ।
  - 2. पति - पत्नी आई हैं ।
  - 3. एक चाय का प्याला लाओ ।
  - 4. नरेश बहुत सज्जन व्यक्ति हैं ।

Q.8 दिए गए विकल्पों में से निम्नलिखित मुहावरे का सटीक अर्थ चुनिए।  
'बीड़ा उठाना'

- Ans
- 1. दुर्गति करना
  - 2. तैयार होना
  - 3. ज़िम्मेदारी लेना
  - 4. जी ललचाना

Q.9 निम्न में से 'जिसका कोई शत्रु न हो' वाक्यांश के लिए सार्थक शब्द कौन-सा है ?

- Ans
- 1. अजमुख
  - 2. अजीज़
  - 3. अजातशत्रु
  - 4. अजायब

Q.10 'आशा से बहुत अधिक'  
उपर्युक्त वाक्यांश के लिए एक सार्थक शब्द चुनें-

- Ans
- 1. आश्चर्य
  - 2. ऊसर
  - 3. आशातीत
  - 4. आवधिक

Q.11 निम्नलिखित वाक्यों में उनके प्रथम तथा अंतिम अंश संख्या 1 और 6 के अंतर्गत दिए गए हैं। बीच वाले चार अंश (य),(र),(ल),(व) के अंतर्गत बिना क्रम के हैं। चारों अंशों को उचित क्रमानुसार व्यवस्थित कर सही विकल्प चुनिए।  
(1) विज्ञान और तकनीकी के इस आधुनिक युग ने  
(य) पारिस्थितिकी संतुलन के समक्ष ऐसी गंभीर चुनौतियाँ  
(र) जहाँ एक ओर मानवीय जीवन को अत्यंत सुगम बनाया है  
(ल) उत्पन्न कर दी हैं जिनका सामना करना अब संपूर्ण मानवता हेतु  
(व) वहीं दूसरी ओर अनियंत्रित उपभोगवाद और विलासिता ने  
(6) एक अत्यंत कठिन और अनिवार्य चुनौती बन गया है।

- Ans
- 1. व य र ल
  - 2. र व य ल
  - 3. य र ल व
  - 4. ल र य व

Q.12 मैं कलम .....लिख रही हूँ।  
उपर्युक्त वाक्य में उचित स्थान की पूर्ति के लिए उचित कारक शब्द का चयन करें -

- Ans
- 1. पर
  - 2. ने
  - 3. से
  - 4. की

Q.13 दिए गए वाक्य में उचित विशेषण का प्रयोग कर वाक्य पूर्ण करें-  
'शहर के हिस्से में नया अस्पताल बन रहा है।'

- Ans
- 1. स्वस्थ
  - 2. मासिक
  - 3. पश्चिमी
  - 4. मीठे

Q.14 निम्नलिखित में से किस लोकोक्ति का अर्थ संगत नहीं है?

- Ans
- 1. रस्सी जल गई पर एँठन न गई - बड़ी-बड़ी कल्पना करना
  - 2. मुँह में राम बगल में छुरी - धोखेबाजी करना
  - 3. सिर मुड़ाते ही ओले पड़े - कार्य शुरू करते ही विघ्न आना
  - 4. आप भला तो जग भला - भले आदमी को सब भले ही लगते हैं

Q.15 नीचे दिए गए वाक्य खंडों को सही क्रम में व्यवस्थित कीजिए-

1. और
2. थी
3. एक शानदार
4. खुबसूरत औरत
5. उसकी पत्नी

- Ans
- 1. 53142
  - 2. 54213
  - 3. 42513
  - 4. 31425

#### Comprehension:

प्रस्तुत गद्यांश के आधार पर प्रश्नों के उत्तर दें।

भुवनेश्वर कटक जैसी संस्कृति की पहचान बनाना तो दूर, अपने राजनीतिक पहचान को भी कायम करने में सफल नहीं हो रहा था। राजधानी की पहचान एक गरीब राज्य शहर के रूप में ही थी। पर पिछले सप्ताह बीजू पटनायक एयरपोर्ट पर उतरते ही आधुनिक भव्यता की अनुभूति हुई। इन दिनों राष्ट्रीय एकता की अनुभूति कराते हैं फर्श। एक प्रकार की टाइल्स से सजाए जा रहे हैं तमाम फर्श। टॉयलेट के रख-रखाव पर भी अधिक खर्च किया जा रहा है। वहाँ भी सजावट में राष्ट्रीय एकता झलकती है। एयरपोर्ट से बाहर निकलने पर भव्यता का एहसास हुआ। नई-नई कंपनियों की एयरकंडीशंड डेरों बड़ी-बड़ी गाड़ियाँ थीं। परंतु एयरपोर्ट के अहाते से बाहर निकलते ही सुदामा की मानसिकता में आ गई मैं। नजरें घुमा-घुमाकर देख रही थी। अपने साथ बैठी उड़िया महिलाओं से पूछ रही थी- "क्या हो गया भुवनेश्वर को? इतना भव्य लग रहा है शहर?" वे तो वहीं रहती हैं। क्रमशः आए बदलाव को देखती पहचानती रहीं, उन्हें क्यों अचंभा हो? पर मुझे अचंभित देखकर वे भी प्रसन्न हो गईं। आखिर उनके राजधानी शहर की प्रशंसा जो हो रही थी। उस सौंदर्य की शल्य चिकित्सा करने लगी मैं।

#### SubQuestion No : 16

Q.16 उपरोक्त गद्यांश हेतु उचित शीर्षक का चयन करें।

#### Comprehension:

प्रस्तुत गद्यांश के आधार पर प्रश्नों के उत्तर दें।

भुवनेश्वर कटक जैसी संस्कृति की पहचान बनाना तो दूर, अपने राजनीतिक पहचान को भी कायम करने में सफल नहीं हो रहा था। राजधानी की पहचान एक गरीब राज्य शहर के रूप में ही थी। पर पिछले सप्ताह बीजू पटनायक एयरपोर्ट पर उतरते ही आधुनिक भव्यता की अनुभूति हुई। इन दिनों राष्ट्रीय एकता की अनुभूति कराते हैं फर्श। एक प्रकार की टाइल्स से सजाए जा रहे हैं तमाम फर्श। टॉयलेट के रख-रखाव पर भी अधिक खर्च किया जा रहा है। वहाँ भी सजावट में राष्ट्रीय एकता झलकती है। एयरपोर्ट से बाहर निकलने पर भव्यता का एहसास हुआ। नई-नई कंपनियों की एयरकंडीशंड डेरों बड़ी-बड़ी गाड़ियाँ थीं। परंतु एयरपोर्ट के अहाते से बाहर निकलते ही सुदामा की मानसिकता में आ गई मैं। नजरें घुमा-घुमाकर देख रही थी। अपने साथ बैठी उड़िया महिलाओं से पूछ रही थी- "क्या हो गया भुवनेश्वर को? इतना भव्य लग रहा है शहर?" वे तो वहीं रहती हैं। क्रमशः आए बदलाव को देखती पहचानती रहीं, उन्हें क्यों अचंभा हो? पर मुझे अचंभित देखकर वे भी प्रसन्न हो गईं। आखिर उनके राजधानी शहर की प्रशंसा जो हो रही थी। उस सौंदर्य की शल्य चिकित्सा करने लगी मैं।

#### SubQuestion No : 17

Q.17 उपरोक्त गद्यांश के आधार पर निम्नलिखित में से कौन-सा वाक्य असत्य है?

### Comprehension:

प्रस्तुत गद्यांश के आधार पर प्रश्नों के उत्तर दें।

भुवनेश्वर कटक जैसी संस्कृति की पहचान बनाना तो दूर, अपने राजनीतिक पहचान को भी कायम करने में सफल नहीं हो रहा था। राजधानी की पहचान एक गरीब राज्य शहर के रूप में ही थी। पर पिछले सप्ताह बीजू पटनायक एयरपोर्ट पर उतरते ही आधुनिक भव्यता की अनुभूति हुई। इन दिनों राष्ट्रीय एकता की अनुभूति कराते हैं फर्श। एक प्रकार की टाइल्स से सजाए जा रहे हैं तमाम फर्श। टॉयलेट के रख-रखाव पर भी अधिक खर्च किया जा रहा है। वहाँ भी सजावट में राष्ट्रीय एकता झलकती है। एयरपोर्ट से बाहर निकलने पर भव्यता का एहसास हुआ। नई-नई कंपनियों की एयरकंडीशंड डेरों बड़ी-बड़ी गाड़ियाँ थीं। परंतु एयरपोर्ट के अहाते से बाहर निकलते ही सुदामा की मानसिकता में आ गई मैं। नजरें घुमा-घुमाकर देख रही थी। अपने साथ बैठी उड़िया महिलाओं से पूछ रही थी- "क्या हो गया भुवनेश्वर को? इतना भव्य लग रहा है शहर?" वे तो वहीं रहती हैं। क्रमशः आए बदलाव को देखती पहचानती रहीं, उन्हें क्यों अचंभा हो? पर मुझे अचंभित देखकर वे भी प्रसन्न हो गईं। आखिर उनके राजधानी शहर की प्रशंसा जो हो रही थी। उस सौंदर्य की शल्य चिकित्सा करने लगी मैं।

### SubQuestion No : 18

Q.18 गद्यांश के आधार पर उत्तर दें।

भुवनेश्वर शहर की तुलना किस शहर से की गयी है?

### Comprehension:

प्रस्तुत गद्यांश के आधार पर प्रश्नों के उत्तर दें।

भुवनेश्वर कटक जैसी संस्कृति की पहचान बनाना तो दूर, अपने राजनीतिक पहचान को भी कायम करने में सफल नहीं हो रहा था। राजधानी की पहचान एक गरीब राज्य शहर के रूप में ही थी। पर पिछले सप्ताह बीजू पटनायक एयरपोर्ट पर उतरते ही आधुनिक भव्यता की अनुभूति हुई। इन दिनों राष्ट्रीय एकता की अनुभूति कराते हैं फर्श। एक प्रकार की टाइल्स से सजाए जा रहे हैं तमाम फर्श। टॉयलेट के रख-रखाव पर भी अधिक खर्च किया जा रहा है। वहाँ भी सजावट में राष्ट्रीय एकता झलकती है। एयरपोर्ट से बाहर निकलने पर भव्यता का एहसास हुआ। नई-नई कंपनियों की एयरकंडीशंड डेरों बड़ी-बड़ी गाड़ियाँ थीं। परंतु एयरपोर्ट के अहाते से बाहर निकलते ही सुदामा की मानसिकता में आ गई मैं। नजरें घुमा-घुमाकर देख रही थी। अपने साथ बैठी उड़िया महिलाओं से पूछ रही थी- "क्या हो गया भुवनेश्वर को? इतना भव्य लग रहा है शहर?" वे तो वहीं रहती हैं। क्रमशः आए बदलाव को देखती पहचानती रहीं, उन्हें क्यों अचंभा हो? पर मुझे अचंभित देखकर वे भी प्रसन्न हो गईं। आखिर उनके राजधानी शहर की प्रशंसा जो हो रही थी। उस सौंदर्य की शल्य चिकित्सा करने लगी मैं।

### SubQuestion No : 19

Q.19 निम्नलिखित विकल्पों में से कौन-सा विकल्प अनुभूति शब्द का पर्यायवाची शब्द नहीं है?

### Comprehension:

प्रस्तुत गद्यांश के आधार पर प्रश्नों के उत्तर दें।

भुवनेश्वर कटक जैसी संस्कृति की पहचान बनाना तो दूर, अपने राजनीतिक पहचान को भी कायम करने में सफल नहीं हो रहा था। राजधानी की पहचान एक गरीब राज्य शहर के रूप में ही थी। पर पिछले सप्ताह बीजू पटनायक एयरपोर्ट पर उतरते ही आधुनिक भव्यता की अनुभूति हुई। इन दिनों राष्ट्रीय एकता की अनुभूति कराते हैं फर्श। एक प्रकार की टाइल्स से सजाए जा रहे हैं तमाम फर्श। टॉयलेट के रख-रखाव पर भी अधिक खर्च किया जा रहा है। वहाँ भी सजावट में राष्ट्रीय एकता झलकती है। एयरपोर्ट से बाहर निकलने पर भव्यता का एहसास हुआ। नई-नई कंपनियों की एयरकंडीशंड डेरों बड़ी-बड़ी गाड़ियाँ थीं। परंतु एयरपोर्ट के अहाते से बाहर निकलते ही सुदामा की मानसिकता में आ गई मैं। नजरें घुमा-घुमाकर देख रही थी। अपने साथ बैठी उड़िया महिलाओं से पूछ रही थी- "क्या हो गया भुवनेश्वर को? इतना भव्य लग रहा है शहर?" वे तो वहीं रहती हैं। क्रमशः आए बदलाव को देखती पहचानती रहीं, उन्हें क्यों अचंभा हो? पर मुझे अचंभित देखकर वे भी प्रसन्न हो गईं। आखिर उनके राजधानी शहर की प्रशंसा जो हो रही थी। उस सौंदर्य की शल्य चिकित्सा करने लगी मैं।

### SubQuestion No : 20

Q.20 निम्नलिखित विकल्पों में से कौन-सा विकल्प शहर शब्द का विलोम शब्द है?

### Section : Test of Hindi Language and Comprehension1

Q.1 नीचे दिए गए विकल्पों में तत्सम-तद्भव शब्दों के युग्म हैं, गलत युग्म की पहचान करें -

- Ans
- 1. स्वप्न - सपना
  - 2. ईर्ष्या - रीस
  - 3. लौह - लोहा
  - 4. रात्रि - राज्ञी

Q.2 'मुर्गी को तकवे का घास भी बहुत है' लोकोक्ति का सही अर्थ क्या होगा

- Ans
- 1. मुफ्त का माल सभी ले लेते हैं
  - 2. कमजोर आदमी थोड़ा सा कष्ट भी नहीं सह सकता
  - 3. सुधार के बजाय बिगाड़ होता गया
  - 4. जो चीज़ नहीं रही उसकी प्रशंसा

Q.3 'मदन' का पर्यायवाची शब्द होगा -

- Ans
- 1. कामदेव
  - 2. केशव
  - 3. माधव
  - 4. विभु

Q.4 'कनक' शब्द के लिए सही अनेकार्थी समूह कौन सा है?

- Ans
- 1. कीर्ति, कान्ति, हल्दी
  - 2. श्रेष्ठ, टैक्स, टेसू
  - 3. सूर्य, किरण, चमक
  - 4. टेसू, खजूर, धतूरा

Q.5 'कठोर' का विलोम शब्द है?

- Ans
- 1. सुधा
  - 2. गरल
  - 3. मृदु
  - 4. वक्र

Q.6 नीचे दिए गए वाक्य के किस भाग में वर्तनी संबंधी अशुद्धि है? इस प्रकार यथेष्ट लाभ नहीं होगा।

- Ans
- 1. लाभ नहीं
  - 2. यथेष्ट
  - 3. इस प्रकार
  - 4. होगा।

Q.7 निम्नलिखित वाक्य के रेखांकित शब्द की वर्तनी अशुद्धि है, शब्द की शुद्ध वर्तनी बताएं - 'इस पुस्तक का शारंश लिखो।'

- Ans
- 1. सरांश
  - 2. शारंष
  - 3. सारांश
  - 4. क्षरांश

Q.8 'ईर्ष्या' शब्द का उचित पर्यायवाची शब्द पहचानें।

- Ans
- 1. तत्पर
  - 2. उत्थान
  - 3. मत्सर
  - 4. निमित्त

Q.9 'पीठ' का तत्सम पहचानें-

- Ans
- 1. पीट
  - 2. पृष्ठ
  - 3. पठन
  - 4. प्रीत

Q.10 "दमन" का विलोम शब्द कौनसा है?

- Ans
- 1. अधिकार
  - 2. नियंत्रण
  - 3. उत्पीड़न
  - 4. उद्धार

Q.11 'घास काटना' मुहावरे का सही अर्थ क्या होगा?

- Ans
- 1. पास तक न आने देना
  - 2. मुसीबत में फँस जाना
  - 3. चापलूसी करना
  - 4. फूहड़ काम करना

Q.12 'चुल्लू भर पानी में डूब मरो' लोकोक्ति का सही अर्थ क्या होगा?

- Ans
- 1. बुरे काम का बुरा फल
  - 2. तुम्हें शर्म होनी चाहिए
  - 3. अभी कसर है
  - 4. हर चीज़ का कारण अवश्य होता है

Q.13 निम्नलिखित वाक्य के किस शब्द में वर्तनी से संबंधित त्रुटि है?  
'पहाड़ की चड़ाई पर एक मंदिर है।'

- Ans
- 1. मंदिर
  - 2. एक
  - 3. पहाड़
  - 4. चड़ाई

Q.14 नीचे दिए गए शब्दों में से एक अनेकार्थी शब्द है -

- Ans
- 1. खराब
  - 2. शीतल
  - 3. सब
  - 4. व्यापक

Q.15 निम्नलिखित वाक्यों में त्रुटि पहचानकर शुद्ध वाक्य का चयन करें-

- Ans
- 1. उज्ज्वल चाँदनी में सैर का आनंद आता है।
  - 2. उज्जल चाँदनी में सैर का आनंद आता है।
  - 3. उज्जावल चाँदनी में सैर का आनंद आता है।
  - 4. उज्वल चाँदनी में सैर का आनंद आता है।

#### Comprehension:

प्रस्तुत गद्यांश के आधार पर प्रश्नों के उत्तर दें।

भुवनेश्वर भी चंडीगढ़ की तर्ज पर बना राजधानी शहर है, परंतु भुवनेश्वर अपने रूप-स्वरूप से अपने वजूद का प्रदर्शन नहीं करता था। किसी राज्य की राजधानी में रहने का आभास नहीं होता था। सड़कें टूटी-फूटी, सड़कों के किनारे छोटी-छोटी ग्रामीण चीजों की दुकानें दिखती थीं। सड़कों पर जानवर भी घूमते हुए। स्टेट गेस्ट हाउस में ठहरिए तो मानो किसी किसान परिवार के यहाँ से भोजन बनकर आया हो। साफ-सफाई भी वैसी ही जैसी किसी मध्यमवर्गीय किसान परिवार में ठहरे हों। बिहार, बंगाल और उड़ीसा मिलकर एक राज्य था। 1912 में विभाजन हुआ। बंगाल अलग हुआ। 1935 में उड़ीसा भी बिहार से अलग हुआ। बँटवारे के बाद सँभलने में समय लगता है। कोई दो भाई हों या दो राज्य। सच तो यह है कि राज्यों का बँटवारा बराबर-बराबर नहीं होता। उत्तर प्रदेश से उत्तराखंड, मध्य प्रदेश से छत्तीसगढ़ और बिहार से झारखंड के निकलने पर ऐसा ही लगता है कि तीन बड़े राज्यों के एक-एक भाग अलग कर दिए गए हों। तीन नए राज्यों को अपनी पहचान बनाने में समय लगा है। यहाँ के बाशिंदों को भी अपने भिन्न अस्तित्व का एहसास जमाने में समय लगता है।

#### SubQuestion No : 16

Q.16 उपरोक्त गद्यांश हेतु उचित शीर्षक का चयन करें।

#### Comprehension:

प्रस्तुत गद्यांश के आधार पर प्रश्नों के उत्तर दें।

भुवनेश्वर भी चंडीगढ़ की तर्ज पर बना राजधानी शहर है, परंतु भुवनेश्वर अपने रूप-स्वरूप से अपने वजूद का प्रदर्शन नहीं करता था। किसी राज्य की राजधानी में रहने का आभास नहीं होता था। सड़कें टूटी-फूटी, सड़कों के किनारे छोटी-छोटी ग्रामीण चीजों की दुकानें दिखती थीं। सड़कों पर जानवर भी घूमते हुए। स्टेट गेस्ट हाउस में ठहरिए तो मानो किसी किसान परिवार के यहाँ से भोजन बनकर आया हो। साफ-सफाई भी वैसी ही जैसी किसी मध्यमवर्गीय किसान परिवार में ठहरे हों। बिहार, बंगाल और उड़ीसा मिलकर एक राज्य था। 1912 में विभाजन हुआ। बंगाल अलग हुआ। 1935 में उड़ीसा भी बिहार से अलग हुआ। बँटवारे के बाद सँभलने में समय लगता है। कोई दो भाई हों या दो राज्य। सच तो यह है कि राज्यों का बँटवारा बराबर-बराबर नहीं होता। उत्तर प्रदेश से उत्तराखंड, मध्य प्रदेश से छत्तीसगढ़ और बिहार से झारखंड के निकलने पर ऐसा ही लगता है कि तीन बड़े राज्यों के एक-एक भाग अलग कर दिए गए हों। तीन नए राज्यों को अपनी पहचान बनाने में समय लगा है। यहाँ के बाशिंदों को भी अपने भिन्न अस्तित्व का एहसास जमाने में समय लगता है।

#### SubQuestion No : 17

Q.17 उपरोक्त गद्यांश के आधार पर निम्नलिखित में से कौन-सा वाक्य असत्य है?

#### Comprehension:

प्रस्तुत गद्यांश के आधार पर प्रश्नों के उत्तर दें।

भुवनेश्वर भी चंडीगढ़ की तर्ज पर बना राजधानी शहर है, परंतु भुवनेश्वर अपने रूप-स्वरूप से अपने वजूद का प्रदर्शन नहीं करता था। किसी राज्य की राजधानी में रहने का आभास नहीं होता था। सड़कें टूटी-फूटी, सड़कों के किनारे छोटी-छोटी ग्रामीण चीजों की दुकानें दिखती थीं। सड़कों पर जानवर भी घूमते हुए। स्टेट गेस्ट हाउस में ठहरिए तो मानो किसी किसान परिवार के यहाँ से भोजन बनकर आया हो। साफ-सफाई भी वैसी ही जैसी किसी मध्यमवर्गीय किसान परिवार में ठहरे हों। बिहार, बंगाल और उड़ीसा मिलकर एक राज्य था। 1912 में विभाजन हुआ। बंगाल अलग हुआ। 1935 में उड़ीसा भी बिहार से अलग हुआ। बँटवारे के बाद सँभलने में समय लगता है। कोई दो भाई हों या दो राज्य। सच तो यह है कि राज्यों का बँटवारा बराबर-बराबर नहीं होता। उत्तर प्रदेश से उत्तराखंड, मध्य प्रदेश से छत्तीसगढ़ और बिहार से झारखंड के निकलने पर ऐसा ही लगता है कि तीन बड़े राज्यों के एक-एक भाग अलग कर दिए गए हों। तीन नए राज्यों को अपनी पहचान बनाने में समय लगा है। यहाँ के बाशिंदों को भी अपने भिन्न अस्तित्व का एहसास जमाने में समय लगता है।

#### SubQuestion No : 18

Q.18 गद्यांश के आधार पर उत्तर दें।

निम्न में से कौनसा राज्य बिहार से अलग नहीं हुआ है?

**Comprehension:**

प्रस्तुत गद्यांश के आधार पर प्रश्नों के उत्तर दें।

भुवनेश्वर भी चंडीगढ़ की तर्ज पर बना राजधानी शहर है, परंतु भुवनेश्वर अपने रूप-स्वरूप से अपने वजूद का प्रदर्शन नहीं करता था। किसी राज्य की राजधानी में रहने का आभास नहीं होता था। सड़कें टूटी-फूटी, सड़कों के किनारे छोटी-छोटी ग्रामीण चीजों की दुकानें दिखती थीं। सड़कों पर जानवर भी घूमते हुए। स्टेट गेस्ट हाउस में ठहरिए तो मानो किसी किसान परिवार के यहाँ से भोजन बनकर आया हो। साफ-सफाई भी वैसी ही जैसी किसी मध्यमवर्गीय किसान परिवार में ठहरे हों। बिहार, बंगाल और उड़ीसा मिलकर एक राज्य था। 1912 में विभाजन हुआ। बंगाल अलग हुआ। 1935 में उड़ीसा भी बिहार से अलग हुआ। बँटवारे के बाद सँभलने में समय लगता है। कोई दो भाई हों या दो राज्य। सच तो यह है कि राज्यों का बँटवारा बराबर-बराबर नहीं होता। उत्तर प्रदेश से उत्तराखंड, मध्य प्रदेश से छत्तीसगढ़ और बिहार से झारखंड के निकलने पर ऐसा ही लगता है कि तीन बड़े राज्यों के एक-एक भाग अलग कर दिए गए हों। तीन नए राज्यों को अपनी पहचान बनाने में समय लगा है। यहाँ के बाशिंदों को भी अपने भिन्न अस्तित्व का एहसास जमाने में समय लगता है।

**SubQuestion No : 19**

**Q.19 निम्नलिखित विकल्पों में से कौन-सा विकल्प जानवर शब्द का पर्यायवाची शब्द नहीं है?**

**Comprehension:**

प्रस्तुत गद्यांश के आधार पर प्रश्नों के उत्तर दें।

भुवनेश्वर भी चंडीगढ़ की तर्ज पर बना राजधानी शहर है, परंतु भुवनेश्वर अपने रूप-स्वरूप से अपने वजूद का प्रदर्शन नहीं करता था। किसी राज्य की राजधानी में रहने का आभास नहीं होता था। सड़कें टूटी-फूटी, सड़कों के किनारे छोटी-छोटी ग्रामीण चीजों की दुकानें दिखती थीं। सड़कों पर जानवर भी घूमते हुए। स्टेट गेस्ट हाउस में ठहरिए तो मानो किसी किसान परिवार के यहाँ से भोजन बनकर आया हो। साफ-सफाई भी वैसी ही जैसी किसी मध्यमवर्गीय किसान परिवार में ठहरे हों। बिहार, बंगाल और उड़ीसा मिलकर एक राज्य था। 1912 में विभाजन हुआ। बंगाल अलग हुआ। 1935 में उड़ीसा भी बिहार से अलग हुआ। बँटवारे के बाद सँभलने में समय लगता है। कोई दो भाई हों या दो राज्य। सच तो यह है कि राज्यों का बँटवारा बराबर-बराबर नहीं होता। उत्तर प्रदेश से उत्तराखंड, मध्य प्रदेश से छत्तीसगढ़ और बिहार से झारखंड के निकलने पर ऐसा ही लगता है कि तीन बड़े राज्यों के एक-एक भाग अलग कर दिए गए हों। तीन नए राज्यों को अपनी पहचान बनाने में समय लगा है। यहाँ के बाशिंदों को भी अपने भिन्न अस्तित्व का एहसास जमाने में समय लगता है।

**SubQuestion No : 20**

**Q.20 निम्नलिखित विकल्पों में से कौन-सा विकल्प बाशिंदे शब्द का उचित शब्दार्थ है?**