



GOVT. OF NCT OF DELHI
Delhi Subordinate Services Selection Board
FC-18, Institutional Area, Karkardooma, Delhi – 110092.
www.dsssb.delhigovt.nic.in

Participant Name	HIMANSHU
Test Center Name	Aadarsh Pariksha Kendra CENTER B - Gate No 2 - Noida Sector 64
Test Date	05/05/2026
Test Time	1:00 PM - 3:00 PM
Subject	Multi Tasking Staff

Section : General intelligence and Reasoning Ability

Q.1 नीचे दी गई अक्षर श्रृंखला का संदर्भ लीजिए और उसके बाद दिए गए प्रश्न का उत्तर दीजिए। (गिनती केवल बाएँ से दाएँ की जानी चाहिए।)

(बाएँ) L W X W X J S I X D V H T T Z B R P C W B (दाएँ)

ऐसे कितने व्यंजन हैं, जिनमें से प्रत्येक के ठीक पहले एक व्यंजन है और ठीक बाद में एक स्वर है?

- Ans
- 1. दो
 - 2. एक
 - 3. एक भी नहीं
 - 4. दो से अधिक

Q.2 निम्नलिखित अक्षर-प्रतीक श्रृंखला का संदर्भ लीजिए और दिए गए प्रश्न का उत्तर दीजिए। गिनती केवल बाएँ से दाएँ की जानी चाहिए।

(बाएँ) V E # & W \$ F * & B H % Z # € D & % B € & E (दाएँ)

ऐसे कितने अक्षर हैं, जिनमें से प्रत्येक के ठीक पहले एक अक्षर है और ठीक बाद में एक प्रतीक है?

- Ans
- 1. 3
 - 2. 1
 - 3. 0
 - 4. 2

Q.3 E, F, G, H, Q, R और S एक गोल मेज के परितः केंद्र की ओर अभिमुख होकर बैठे हैं। Q के बाईं ओर से गिनती करने पर, Q और F के बीच केवल तीन व्यक्ति बैठे हैं। H के दाईं ओर से गिनती करने पर, S और H के बीच केवल तीन व्यक्ति बैठे हैं। R, S के ठीक दाईं ओर पड़ोस में बैठा है। H और F दोनों का निकटतम पड़ोसी G है। E के बाईं ओर दूसरे स्थान पर कौन बैठा है?

- Ans
- 1. R
 - 2. F
 - 3. Q
 - 4. G

Q.4 नीचे दी गई अक्षर श्रृंखला का संदर्भ लीजिए और प्रश्न का उत्तर दीजिए। (गणना केवल बाएँ से दाएँ ही की जानी है)

(बाएँ) Q U B R F T S G H X V N U K I M A Z D E L O (दाएँ)

ऐसे कितने व्यंजन हैं, जिनमें से प्रत्येक के ठीक पहले एक स्वर और ठीक बाद में भी एक स्वर है?

- Ans
- 1. एक
 - 2. दो
 - 3. तीन
 - 4. चार

Q.5 सात बॉक्स, A, B, C, D, E, F और G, एक के ऊपर एक रखे गए हैं, लेकिन ज़रूरी नहीं कि वे इसी क्रम में रखे गए हों।

A के नीचे ठीक 3 बॉक्स और D के ऊपर ठीक 4 बॉक्स रखे गए हैं। F को C के ठीक ऊपर और E को C के ठीक नीचे रखा गया है। G को B के नीचे रखा गया है।

C के नीचे कितने बॉक्स रखे गए हैं?

- Ans
- 1. 2
 - 2. 5
 - 3. 3
 - 4. 4

Q.6 एक निश्चित कूट भाषा में, 'GROW' को '2597' के रूप में और 'ROWS' को '8725' के रूप में कूटबद्ध किया जाता है। दी गई कूट भाषा में 'S' के लिए कूट क्या है?

- Ans
- 1. 8
 - 2. 5
 - 3. 9
 - 4. 2

Q.7 सात बॉक्स D, E, F, G, O, P और Q एक के ऊपर एक रखे गए हैं, लेकिन ज़रूरी नहीं कि वे इसी क्रम में हों। Q को F के ठीक ऊपर रखा गया है। O को D के ठीक ऊपर रखा गया है। G के ऊपर केवल P को रखा गया है। Q के ऊपर केवल दो बॉक्स रखे गए हैं। O को नीचे से तीसरे स्थान पर नहीं रखा गया है। E और P के बीच कितने बॉक्स रखे गए हैं?

- Ans
- 1. एक
 - 2. तीन
 - 3. दो
 - 4. चार

Q.8 इस प्रश्न में, एक कथन के बाद दो निष्कर्ष दिए गए हैं। दिए गए कथन के आधार पर ज्ञात कीजिए कि निम्नलिखित में से कौन-सा/से निष्कर्ष सत्य है/हैं।

कथन : $N > E > W = S \leq Y$

निष्कर्ष :

I. $Y > W$

II. $N > Y$

- Ans
- 1. न तो I और न ही II सत्य है
 - 2. केवल I सत्य है
 - 3. I और II दोनों सत्य है
 - 4. केवल II सत्य है

Q.9 निम्नलिखित श्रृंखला का संदर्भ लीजिए और प्रश्न का उत्तर दीजिए। (सभी संख्याएँ केवल एकल अंकीय हैं। गणना केवल बाएँ से दाएँ की जानी है।)
(बाएँ) 5 6 7 9 3 2 8 6 5 6 7 4 6 1 2 3 9 2 5 6 7 8 6 7 (दाएँ)
ऐसे कितने विषम अंक हैं, जिनमें से प्रत्येक के ठीक पहले एक पूर्ण वर्ग और ठीक बाद में एक सम अंक है? (नोट: 1 भी एक पूर्ण वर्ग है)

Ans 1. एक
 2. चार
 3. दो
 4. तीन

Q.10 60 व्यक्ति एक पंक्ति में उत्तर की ओर अभिमुख होकर खड़े हैं। रिधम दाएँ छोर से 31वें स्थान पर है, जबकि पुकार बाएँ छोर से 5वें स्थान पर है। रिधम और पुकार के बीच कितने व्यक्ति हैं?

Ans 1. 20
 2. 21
 3. 23
 4. 24

Q.11 किसी निश्चित कूट भाषा में, 'COME' को '5317' और 'EARS' को '2458' के रूप में कूटबद्ध किया जाता है। दी गई कूट भाषा में 'E' का कूट क्या होगा?

Ans 1. 7
 2. 5
 3. 8
 4. 2

Q.12 E, F, G, H, Q, R और S एक गोल मेज के परितः केंद्र की ओर अभिमुख होकर बैठे हैं। G के दाईं ओर से गिनती करने पर, G और E के बीच केवल एक व्यक्ति बैठा है। E के दाईं ओर से गिनती करने पर, E और F के बीच केवल एक व्यक्ति बैठा है। G के बाईं ओर से गिनती करने पर, G और Q के बीच केवल एक व्यक्ति बैठा है। F के बाईं ओर से गिनती करने पर, S और F के बीच केवल दो व्यक्ति बैठे हैं। Q के बाईं ओर से गिनती करने पर, R और Q के बीच केवल एक व्यक्ति बैठा है। H के दाईं ओर तीसरे स्थान पर कौन बैठा है?

Ans 1. R
 2. E
 3. S
 4. Q

Q.13 एक निश्चित कूट भाषा में, NSQE को 165 के रूप में कूटबद्ध किया जाता है और XIJA को 132 के रूप में कूटबद्ध किया जाता है। दी गई भाषा में PEYO के लिए कूट क्या है?

Ans 1. 183
 2. 188
 3. 179
 4. 170

Q.14 एक निश्चित कूट भाषा में,
A + B का अर्थ है कि 'A, B का पुत्र है'
A - B का अर्थ है कि 'A, B का भाई है'
A # B का अर्थ है कि 'A, B की पत्नी है'
A % B का अर्थ है कि 'A, B का पिता है'
उपरोक्त के आधार पर, यदि 'D-R+T#K' है, तो D का K से क्या संबंध है?

Ans 1. पिता
 2. पुत्र
 3. भाई
 4. पति

Q.15 एक निश्चित कूट भाषा में,
A + B का अर्थ है कि 'A, B की माता है',
A - B का अर्थ है कि 'A, B का भाई है',
A # B का अर्थ है कि 'A, B की पुत्री है' और
A % B का अर्थ है कि 'A, B का पिता है'।
उपरोक्त के आधार पर यदि 'V % Q + T # K' है, तो V का K से क्या संबंध है?

- Ans
- 1. पुत्र की पत्नी
 - 2. पत्नी का पिता
 - 3. पुत्री की पुत्री
 - 4. माता का पिता

Q.16 इस प्रश्न में, एक कथन के बाद दो निष्कर्ष दिए गए हैं, जिन्हें I और II क्रमांकित किया गया है। दिए गए कथन के आधार पर ज्ञात कीजिए कि कौन-से निष्कर्ष सत्य हैं।

कथन: $K \geq L > M = N > Q$

निष्कर्ष:

I. $Q > L$

II. $K \leq N$

- Ans
- 1. I और II दोनों सत्य हैं
 - 2. केवल II सत्य है
 - 3. केवल I सत्य है
 - 4. न तो I और न ही II सत्य है

Q.17 दिए गए कथनों और निष्कर्षों को ध्यानपूर्वक पढ़ें। यह मानते हुए कि कथनों में दी गई जानकारी सत्य है, भले ही वह सामान्यतः ज्ञात तथ्यों से भिन्न प्रतीत होती हो, तय करें कि दिए गए निष्कर्षों में से कौन-से निष्कर्ष, कथनों का तार्किक रूप से अनुसरण करते हैं।

कथन:

कुछ हीटर, ओवन हैं।

कोई भी ओवन, रेफ्रिजरेटर नहीं है।

निष्कर्ष:

(I): सभी ओवन, रेफ्रिजरेटर हैं।

(II): कुछ हीटर, रेफ्रिजरेटर हैं।

- Ans
- 1. न तो निष्कर्ष (I) और न ही निष्कर्ष (II) अनुसरण करता है
 - 2. केवल निष्कर्ष (II) अनुसरण करता है
 - 3. केवल निष्कर्ष (I) अनुसरण करता है
 - 4. निष्कर्ष (I) और निष्कर्ष (II) दोनों अनुसरण करते हैं

Q.18 D, E, F, G, M, N और O में से प्रत्येक की परीक्षा सोमवार से शुरू होकर रविवार को समाप्त होने वाले एक ही सप्ताह के अलग-अलग दिन है। O और N के बीच केवल तीन व्यक्तियों की परीक्षा है। G और E के बीच केवल तीन व्यक्तियों की परीक्षा है। M की परीक्षा F से पहले किसी दिन और D के बाद किसी दिन है। केवल E की परीक्षा N के बाद है। O के बाद कितने व्यक्तियों की परीक्षा है?

- Ans
- 1. तीन
 - 2. पांच
 - 3. एक
 - 4. चार

Q.19 निम्नलिखित अक्षर श्रृंखला का संदर्भ लीजिए और दिए गए प्रश्न का उत्तर दीजिए। (गिनती केवल बाएं से दाएं की जानी चाहिए)

(बाएं) Q T P J G D A Z C B M E U W Y I S F K X V N (दाएं)

ऐसे कितने स्वर हैं, जिनमें से प्रत्येक के ठीक पहले एक व्यंजन है और ठीक बाद में भी एक व्यंजन है?

- Ans
- 1. चार
 - 2. दो
 - 3. तीन
 - 4. एक

Q.20 यदि शब्द REAVING के प्रत्येक अक्षर को अंग्रेजी वर्णानुक्रम में व्यवस्थित किया जाए, तो कितने अक्षरों की स्थिति अपरिवर्तित रहेगी?

- Ans
- 1. एक भी नहीं
 - 2. तीन
 - 3. दो
 - 4. एक

Section : General intelligence and Reasoning Ability1

Q.1 अंग्रेजी वर्णमाला क्रम के आधार पर, निम्नलिखित चार अक्षर-समूह युग्मों में से तीन एक निश्चित तरीके से एकसमान हैं और इस प्रकार वे एक ग्रुप बनाते हैं। कौन-सा अक्षर-समूह युग्म उस ग्रुप से संबंधित नहीं है? (नोट: असंगत अक्षर-समूह युग्म, उसमें व्यंजनों/स्वरों की संख्या या उनकी स्थिति पर आधारित नहीं है।)

- Ans
- 1. TO-JH
 - 2. QL-GE
 - 3. UP-KI
 - 4. RM-GH

Q.2 यदि 'A' का अर्थ '+' है, 'B' का अर्थ 'x' है, 'C' का अर्थ '+' है और 'D' का अर्थ '-' है, तो निम्नलिखित समीकरण में प्रश्न-चिह्न '?' के स्थान पर क्या आएगा?

$$13 C 4 D 36 A 40 B 30 = ?$$

- Ans
- 1. -12
 - 2. -10
 - 3. -8
 - 4. -9

Q.3 अंग्रेजी वर्णमाला क्रम के आधार पर, निम्नलिखित चार अक्षर-समूह युग्मों में से तीन एक निश्चित तरीके से एकसमान हैं और इस प्रकार वे एक ग्रुप बनाते हैं। कौन-सा अक्षर-समूह युग्म उस ग्रुप से संबंधित नहीं है? (नोट: असंगत अक्षर-समूह युग्म, उसमें व्यंजनों/स्वरों की संख्या या उनकी स्थिति पर आधारित नहीं है।)

- Ans
- 1. UV-QP
 - 2. BC-XW
 - 3. YZ-VT
 - 4. TU-PO

Q.4 अंग्रेजी वर्णमाला के क्रम के आधार पर CDFT का संबंध एक निश्चित प्रकार से EFHV से है। उसी प्रकार, KLN B का संबंध MNP D से है। समान तर्क का अनुसरण करते हुए, QRTH का संबंध निम्नलिखित विकल्पों में से किससे है?

- Ans
- 1. STVJ
 - 2. STJU
 - 3. STRE
 - 4. STVH

Q.5 उस समुच्चय का चयन कीजिए जिसमें संख्याएं उसी प्रकार संबंधित हैं जिस प्रकार निम्नलिखित समुच्चयों की संख्याएं संबंधित हैं।
(नोट: गणितीय संक्रियाएं, संख्याओं को उनके घटक अंकों में तोड़े बिना, पूर्ण संख्याओं पर की जानी चाहिए। उदाहरण के लिए 13 को लीजिए - 13 पर गणितीय संक्रियाएं जैसे कि 13 को जोड़ना/घटाना/गुणा करना, आदि किया जा सकता है। 13 को 1 और 3 में तोड़ना और फिर 1 और 3 पर गणितीय संक्रियाएं करने की अनुमति नहीं है।)

(15,19,34)

(13,16,29)

- Ans
- 1. (5,18,13)
 - 2. (6,14,20)
 - 3. (2,7,27)
 - 4. (14,11,15)

Q.6 अंग्रेजी वर्णमाला क्रम के आधार पर, निम्नलिखित चार अक्षर-समूहों में से तीन एक निश्चित तरीके से एकसमान हैं और इस प्रकार वे एक ग्रुप बनाते हैं। कौन-सा अक्षर-समूह उस ग्रुप से संबंधित नहीं है?
(नोट: असंगत अक्षर-समूह, व्यंजनों/स्वरों की संख्या या उनकी स्थिति पर आधारित नहीं है।)

- Ans
- 1. PTV
 - 2. XBD
 - 3. OSU
 - 4. FKM

Q.7 कौन-सी संख्या, निम्नलिखित श्रृंखला में प्रश्न-चिह्न (?) के स्थान पर आएगी?
7 34 135 404 807 ?

- Ans
- 1. 806
 - 2. 804
 - 3. 807
 - 4. 805

Q.8 यदि संख्या 8279456 के प्रत्येक विषम अंक में से 1 घटाया जाए और प्रत्येक सम अंक में 1 जोड़ा जाए, तो बाईं ओर से दूसरे अंक और दाईं ओर से दूसरे अंक का योगफल कितना होगा?

- Ans
- 1. 7
 - 2. 5
 - 3. 6
 - 4. 8

Q.9 उस युग्म का चयन कीजिए जो नीचे दिए गए दो युग्मों द्वारा अनुसरण किए गए पैटर्न के समान पैटर्न का अनुसरण करता है। दोनों युग्म समान पैटर्न का अनुसरण करते हैं।

LIE-CZV

ROK-IFB

- Ans
- 1. CYT-TQM
 - 2. CZV-TQM
 - 3. CYT-SPL
 - 4. CZV-SQL

Q.10 यदि 'A' का अर्थ '+' है, 'B' का अर्थ 'x' है, 'C' का अर्थ '+' है तथा 'D' का अर्थ '-' है, तो निम्नलिखित समीकरण में प्रश्न-चिह्न '?' के स्थान पर क्या आएगा?

19 D 24 A 6 C 4 B 2 = ?

- Ans
- 1. 21
 - 2. 24
 - 3. 23
 - 4. 22

Q.11 दिए गए कथनों और निष्कर्षों को ध्यानपूर्वक पढ़िए। यह मानते हुए कि कथनों में दी गई जानकारी सत्य है, भले ही वह सामान्य रूप से ज्ञात तथ्यों से भिन्न प्रतीत होती हो, तय कीजिए कि दिए गए निष्कर्षों में से कौन-से निष्कर्ष कथनों का तार्किक रूप से अनुसरण करते हैं।

कथन: सभी दीर्घवृत्त, वर्ग हैं। कुछ वृत्त, दीर्घवृत्त हैं।

निष्कर्ष (I): सभी वर्ग, दीर्घवृत्त हैं।

निष्कर्ष (II): कुछ वर्ग, वृत्त हैं।

- Ans
- 1. निष्कर्ष (I) और (II) दोनों अनुसरण करते हैं
 - 2. केवल निष्कर्ष (II) अनुसरण करता है
 - 3. न तो निष्कर्ष (I) और न ही (II) अनुसरण करता है
 - 4. केवल निष्कर्ष (I) अनुसरण करता है

Q.12 उस युग्म का चयन कीजिए, जो नीचे दिए गए दो युग्मों के समान पैटर्न का अनुसरण करता है। दोनों युग्म समान पैटर्न का अनुसरण करते हैं।

PTP-LPL

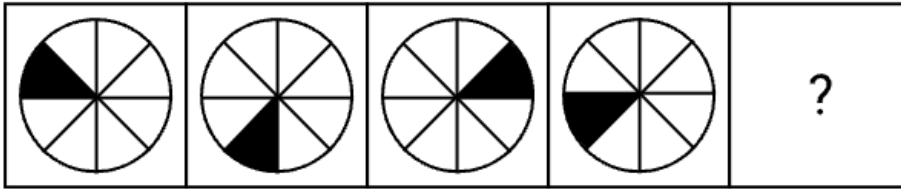
QUQ-MQM

- Ans
- 1. IMI-DID
 - 2. ILG-DHD
 - 3. IMI-EIE
 - 4. ILG-EIE

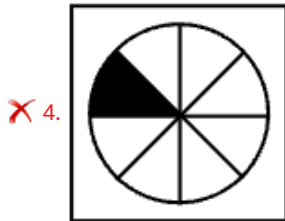
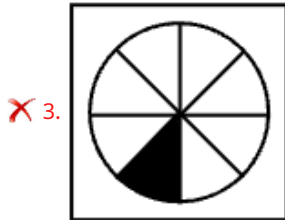
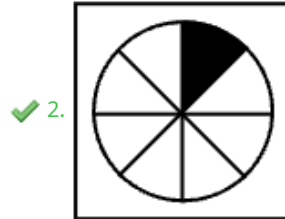
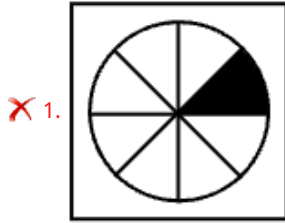
Q.13 निम्नलिखित श्रृंखला में प्रश्न-चिह्न (?) के स्थान पर कौन-सी संख्या आएगी?
13 49 85 121 157 ?

- Ans
- 1. 204
 - 2. 195
 - 3. 193
 - 4. 199

Q.14 दिए गए विकल्पों में से उस आकृति की पहचान कीजिए, जिसे (?) के स्थान पर रखे जाने से शृंखला तार्किक रूप से पूर्ण हो जाएगी।



Ans



Q.15 निम्नलिखित शृंखला में '?' के स्थान पर क्या आएगा?

117 132 149 164 181 ?

Ans ✗ 1. 195

✓ 2. 196

✗ 3. 198

✗ 4. 202

Q.16 यदि 'A' का अर्थ '+' है, 'B' का अर्थ 'x' है, 'C' का अर्थ '+' है तथा 'D' का अर्थ '-' है, तो निम्नलिखित समीकरण में प्रश्न-चिह्न '?' के स्थान पर क्या आएगा?

30 A 6 C 3 B 5 D 8 = ?

Ans ✗ 1. 10

✗ 2. 13

✗ 3. 11

✓ 4. 12

Q.17 यदि 'A' का अर्थ '+' है, 'B' का अर्थ 'x' है, 'C' का अर्थ '+' है और 'D' का अर्थ '-' है, तो निम्नलिखित समीकरण में प्रश्न-चिह्न '?' के स्थान पर क्या आएगा?

$$72 C 240 A 12 B 6 D 14 = ?$$

- Ans
- 1. 178
 - 2. 188
 - 3. 184
 - 4. 172

Q.18 निम्नलिखित संख्या-युग्मों में, पहली संख्या पर निश्चित गणितीय संक्रियाएँ करके दूसरी संख्या प्राप्त की जाती है। उस समुच्चय का चयन कीजिए जिसमें संख्याएँ उसी प्रकार से संबंधित हैं जिस प्रकार से निम्नलिखित समुच्चयों की संख्याएँ संबंधित हैं।

(नोट: संख्याओं को उनके घटक अंकों में तोड़े बिना संक्रियाएँ केवल पूर्ण संख्याओं पर की जानी है। उदाहरण के लिए, 13 लीजिए - 13 पर संक्रियाएँ, जैसे 13 में जोड़ना/घटाना/गुणा करना, की जा सकती हैं। 13 को 1 और 3 में तोड़ना और फिर 1 और 3 पर गणितीय संक्रियाएँ करने की अनुमति नहीं है।)

6, 23
9, 35

- Ans
- 1. 12, 43
 - 2. 11, 42
 - 3. 12, 42
 - 4. 11, 43

Q.19 निम्नलिखित संख्या-युग्मों में, पहली संख्या पर निश्चित गणितीय संक्रियाएँ करके दूसरी संख्या प्राप्त की जाती है। उस समुच्चय का चयन कीजिए जिसमें संख्याएँ उसी प्रकार से संबंधित हैं जिस प्रकार से निम्नलिखित समुच्चयों की संख्याएँ संबंधित हैं।

(नोट: संख्याओं को उनके घटक अंकों में तोड़े बिना संक्रियाएँ केवल पूर्ण संख्याओं पर की जानी है। उदाहरण के लिए, 13 लीजिए - 13 पर संक्रियाएँ, जैसे 13 में जोड़ना/घटाना/गुणा करना, की जा सकती हैं। 13 को 1 और 3 में तोड़ना और फिर 1 और 3 पर गणितीय संक्रियाएँ करने की अनुमति नहीं है।)

11, 56
13, 66

- Ans
- 1. 16, 80
 - 2. 17, 81
 - 3. 16, 81
 - 4. 17, 80

Q.20 नीचे दर्शाए अनुसार, दर्पण को 'PQ' पर रखे जाने पर दिए गए संयोजन के सही दर्पण प्रतिबिंब का चयन कीजिए।

P
|
BDJR5W
|
Q

Ans

- 1. BDRG2W
- 2. BD1R2W
- 3. BD1RW2
- 4. DB1R2W

Section : General Awareness

Q.1 एयरबस ने फरवरी 2026 में किस संस्थान में 'उत्कृष्टता केंद्र (Centre of Excellence - CoE)' का उद्घाटन किया?

- Ans
- 1. गति शक्ति विश्वविद्यालय, वडोदरा
 - 2. भारतीय अंतरिक्ष विज्ञान और प्रौद्योगिकी संस्थान, तिरुवनंतपुरम
 - 3. भारतीय प्रौद्योगिकी संस्थान, मद्रास
 - 4. राष्ट्रीय प्रौद्योगिकी संस्थान, सूरत

Q.2 निम्नलिखित में से कौन-सा, 1905 के बाद भारत में चरमपंथी राष्ट्रवाद के उदय में योगदान देने वाले प्रमुख कारकों में से एक था?

- Ans
- 1. भारतीय राष्ट्रीय कांग्रेस का गठन
 - 2. लखनऊ समझौता
 - 3. 1857 का विद्रोह
 - 4. बंगाल का विभाजन

Q.3 राष्ट्रीय खेल पुरस्कार 2025 में मेजर ध्यानचंद खेल रत्न पुरस्कार के लिए निम्नलिखित में से किसे नामांकित किया गया था?

- Ans
- 1. मनप्रीत सिंह
 - 2. हार्दिक सिंह
 - 3. हरमनप्रीत सिंह
 - 4. पी. आर. श्रीजेश

Q.4 महात्मा गांधी को सार्वजनिक संदेश में "राष्ट्रपिता" के रूप में संबोधित करने वाले पहले नेता कौन थे?

- Ans
- 1. जवाहरलाल नेहरू
 - 2. रवींद्रनाथ टैगोर
 - 3. सुभाष चंद्र बोस
 - 4. सरदार वल्लभभाई पटेल

Q.5 दिसंबर 2025 में भारत के मुख्य सूचना आयुक्त के रूप में किसे नियुक्त किया गया था?

- Ans
- 1. हीरालाल सामरिया
 - 2. विनोद कुमार तिवारी
 - 3. राज कुमार गोयल
 - 4. आनंदी रामलिंगम

Q.6 2026 में लॉन्च किया गया TD वैक्सीन निम्नलिखित में से किस सरकारी कार्यक्रम के अंतर्गत आपूर्ति किया जाएगा?

- Ans
- 1. राष्ट्रीय वेक्टर जनित रोग नियंत्रण कार्यक्रम
 - 2. राष्ट्रीय स्वास्थ्य मिशन
 - 3. सार्वभौमिक टीकाकरण कार्यक्रम
 - 4. आयुष्मान भारत

Q.7 निम्नलिखित में से कौन-सा, कारक लागत पर निवल राष्ट्रीय उत्पाद (NNP) के रूप में मापी गई राष्ट्रीय आय की गणना में शामिल नहीं होता है?

- Ans
- 1. विदेश से अर्जित निवल कारक आय
 - 2. उत्पादक सेवाओं के लिए कर्मचारियों द्वारा प्राप्त मजदूरी और वेतन
 - 3. उत्पादन में उनके योगदान के लिए मालिकों द्वारा अर्जित किराया, ब्याज और लाभ
 - 4. अंतिम वस्तुओं के उत्पादन में उपयोग की गई मध्यवर्ती वस्तुओं का मूल्य

Q.8 जुलाई 2024 तक की स्थिति के अनुसार, भारतीय संविधान की आठवीं अनुसूची में निम्नलिखित में से किस भाषा का उल्लेख नहीं है?

- Ans
- 1. कोंकणी
 - 2. मलयालम
 - 3. मारवाड़ी
 - 4. कश्मीरी

Q.9 एक किसान के पास एक ज़मीन है और वह दालों की जगह गेहूँ उगाना चुनता है। दालों से जो लाभ वह कमा सकता था, उसे अर्थशास्त्र में किस श्रेणी में रखा जाता है?

- Ans
- 1. निम्न लागत
 - 2. लेखांकन लागत
 - 3. अवसर लागत
 - 4. स्पष्ट लागत

Q.10 जनवरी 2026 में जारी किया गया शुभंकर "उदय (Udai)" किस राष्ट्रीय पहचान प्रणाली से संबंधित है?

- Ans
- 1. आधार
 - 2. ड्राइविंग लाइसेंस
 - 3. मतदाता ID
 - 4. PAN

Q.11 निम्नलिखित में से किस राजनीतिक दल का गठन मोतीलाल नेहरू और चित्तरंजन दास ने 1923 में किया था?

- Ans
- 1. स्वराज पार्टी
 - 2. भारतीय कम्युनिस्ट पार्टी
 - 3. गदर पार्टी
 - 4. भारतीय राष्ट्रीय कांग्रेस

Q.12 19वीं शताब्दी के दौरान भारत में निम्नलिखित में से किस आंदोलन का उद्देश्य सामाजिक सुधार और उत्थान था?

- Ans
- 1. खिलाफत आंदोलन
 - 2. स्वदेशी आंदोलन
 - 3. ब्रह्म समाज
 - 4. भारत छोड़ो आंदोलन

Q.13 मार्च 2026 में किस नई पहल ने राष्ट्रीय स्तर पर संरचित इंडोर ट्रैक एंड फील्ड प्रतियोगिता (indoor track and field competition) में भारत के औपचारिक प्रवेश को चिह्नित किया?

- Ans
- 1. भुवनेश्वर में राष्ट्रीय इंडोर एथलेटिक्स चैंपियनशिप
 - 2. त्रिवेंद्रम में इंडियन ओपन 400 m मीट
 - 3. राष्ट्रीय भाला फेंक दिवस प्रतियोगिता
 - 4. चंडीगढ़ में राष्ट्रीय ओपन रिले प्रतियोगिता

Q.14 निम्नलिखित में से कौन-सा, अनैच्छिक बेरोजगारी का एक उदाहरण है?

- Ans
- 1. शिक्षा के लिए विश्राम लेना
 - 2. सक्रिय रूप से काम की तलाश करना लेकिन खोजने में असमर्थ रहना
 - 3. कम वेतन के कारण काम करने से मना करना
 - 4. व्यक्तिगत कारणों के कारण नौकरी बदलना

Q.15 निम्नलिखित में से कौन-सी विशेषता आधुनिक अर्थव्यवस्था में विनिमय के माध्यम के रूप में वस्तु विनिमय की तुलना में धन को अधिक कुशल बनाती है?

- Ans
- 1. यह भविष्य की खरीदारी के लिए मूल्य के भंडार के रूप में कार्य करता है।
 - 2. इसे ब्याज अर्जित करने के लिए बैंकों में जमा किया जा सकता है।
 - 3. इससे इच्छाओं के दोहरे संयोग की आवश्यकता समाप्त हो जाती है
 - 4. इसका उपयोग सरकारें कर वसूलने के लिए कर सकती हैं।

Q.16 जुलाई 2025 में किस परियोजना ने CSIR-इंस्टीट्यूट ऑफ जीनोमिक्स एंड इंटीग्रेटिव बायोलॉजी (IGIB), नई दिल्ली में एक राष्ट्रीय बायोबैंक की स्थापना की?

- Ans
- 1. भारत जीनबैंक पहल
 - 2. जीनोम इंडिया मिशन
 - 3. इंडिया बायोटेक 2030 मिशन
 - 4. फेनोम इंडिया परियोजना

Q.17 निम्नलिखित में से किस आंदोलन ने भारतीय राष्ट्रीय आंदोलन में अतिवादी विचारधारा के व्यापक उदय को चिह्नित किया?

- Ans
- 1. असहयोग आंदोलन
 - 2. भारत छोड़ो आंदोलन
 - 3. स्वदेशी आंदोलन
 - 4. सविनय अवज्ञा आंदोलन

Q.18 चक्रीय बेरोजगारी प्रायः अर्थव्यवस्था के निम्नलिखित में से किस चरण से संबंधित है?

- Ans
- 1. आर्थिक विस्तार और वृद्धि की अवधि
 - 2. जनांकिकीय संक्रमण के चरण
 - 3. अर्थव्यवस्था में मंदी या मूल्यावसाद
 - 4. तकनीकी नवाचार के युग

Q.19 'श्रम-प्रधान उद्योग' पद निम्नलिखित में से किस प्रकार के उद्योग को संदर्भित करता है?

- Ans
- 1. मशीनरी में बड़े निवेश की आवश्यकता
 - 2. केवल निर्यात बाजारों पर फोकस
 - 3. आयातित कच्चे माल पर अत्यधिक निर्भरता
 - 4. मशीनरी की तुलना में अधिक संख्या में श्रमिकों का नियोजन

Q.20 अप्रैल 2025 में, निम्नलिखित में से किस भारतीय घुड़सवार एथलीट ने बेल्जियम में आयोजित एज़ेलहोफ़ CSI लियर प्रतियोगिता में स्वर्ण पदक जीता?

- Ans
- 1. श्रुति वीरा
 - 2. फौआद मिर्जा
 - 3. दिव्यकृति सिंह
 - 4. निहारिका सिंघानिया

Section : General Awareness1

Q.1 भारत के संविधान का निम्नलिखित में से कौन-सा अनुच्छेद केंद्र-राज्य और अंतर-राज्य विवादों में सर्वोच्च न्यायालय के आरंभिक अधिकारिता का प्रावधान करता है?

- Ans
- 1. अनुच्छेद 131
 - 2. अनुच्छेद 133
 - 3. अनुच्छेद 130
 - 4. अनुच्छेद 132

Q.2 निम्नलिखित में से किसे, एक महिला द्वारा अपने जीवनकाल में जन्म देने वाले बच्चों की औसत संख्या के रूप में परिभाषित किया गया है?

- Ans
- 1. अशोधित जन्म दर
 - 2. शिशु मृत्यु दर
 - 3. सहज संवृद्धि दर
 - 4. कुल जनन दर

Q.3 किस संवैधानिक संशोधन ने भारत में पंचायती राज व्यवस्था को मजबूत किया?

- Ans
- 1. 44वां संशोधन
 - 2. 73वां संशोधन
 - 3. 74वां संशोधन
 - 4. 42वां संशोधन

Q.4 केरल में विशु (Vishu) त्यौहार वर्ष के किस समय मनाया जाता है?

- Ans
- 1. शरद ऋतु में
 - 2. मानसून के बाद
 - 3. फसल कटाई के समय
 - 4. शीत ऋतु में

Q.5 आंध्र प्रदेश में कौन-सा स्थल, महाचैत्य और महत्वपूर्ण बौद्ध मूर्तियों के लिए प्रसिद्ध है?

- Ans
- 1. अमरावती
 - 2. गोली
 - 3. खापरा कोडिया
 - 4. सांची

Q.6 छत्तीसगढ़ के बस्तर जिले में, स्थानांतरी कृषि को स्थानीय रूप से _____ के नाम से जाना जाता है।

- Ans
- 1. पोडु
 - 2. झूम
 - 3. दीपा
 - 4. दहिया

Q.7 दो विषमयुग्मजी मटर के पौधों के बीच एक विशिष्ट मंडेलियन मोनोहाइब्रिड क्रॉस में, निम्नलिखित में से कौन-सा विकल्प संतति में प्रभावी और अप्रभावी फीनोटाइपिक लक्षणों के अपेक्षित अनुपात का सबसे अच्छा वर्णन करता है?

- Ans
- 1. 3:1
 - 2. 2:2
 - 3. 4:1
 - 4. 3:2

Q.8 एक विद्यार्थी सिख पूजास्थल में विभिन्न पृष्ठभूमि के लोगों को भोजन साझा करते हुए देखता है। यह किस प्रथा का प्रतिनिधित्व करता है?

- Ans
- 1. यह मंदिरों में संस्कार विधि के दौरान केवल पुजारियों द्वारा चढ़ाए गए चढ़ावे का प्रतिनिधित्व करता है
 - 2. यह प्रथा केवल एक ही जाति समूह तक सीमित है
 - 3. यह समता को बढ़ावा देने के लिए शुरू की गई लंगर की प्रथा को प्रदर्शित करता है
 - 4. यह एक ऐसा त्योहार है जिसमें भोजन केवल धनी लोगों को ही परोसा जाता है

Q.9 जैव-रासायनिक रूप से, Rh रक्त समूह प्रणाली के प्रतिजन किस प्रकार के वृहद्-अणु (Macromolecule) से बने होते हैं?

- Ans
- 1. प्रोटीन
 - 2. राइबोन्यूक्लिक अम्ल
 - 3. वसा
 - 4. कार्बोहाइड्रेट

Q.10 भारतीय संविधान के निम्नलिखित में से कौन-सा अनुच्छेद कुछ मामलों में गिरफ्तारी और हिरासत से सुरक्षा प्रदान करने से संबंधित है?

- Ans
- 1. अनुच्छेद 22
 - 2. अनुच्छेद 21
 - 3. अनुच्छेद 23
 - 4. अनुच्छेद 20

Q.11 पंजाब में फसल कटाई के मौसम के उपलक्ष्य में भांगड़ा और गिद्धा नृत्यों के साथ मनाया जाने वाला त्योहार कौन-सा है?

- Ans
- 1. ओणम
 - 2. पोंगल
 - 3. बिहू
 - 4. बैसाखी

Q.12 अत्यधिक उबाले गए अंडों में, सल्फर और ____ के बीच अभिक्रिया के कारण जर्दी (Yolk) की सतह पर हरित घूसर (कभी-कभी हरित-कृष्ण) रंग दिखाई देता है।

- Ans
- 1. पोटैशियम
 - 2. कैल्शियम
 - 3. सोडियम
 - 4. आयरन

Q.13 लघु हिमालय के अंतर्गत निम्नलिखित में से किस श्रेणी का पूर्व-पश्चिम विस्तार सर्वाधिक है?

- Ans
- 1. कराकोरम
 - 2. पीर पंजाल
 - 3. धौलाधर
 - 4. शिवालिक

Q.14 निम्नलिखित में से कौन सा स्मारक दिल्ली सल्तनत काल से संबंधित है और एक विशाल मीनार के साथ-साथ मेहराब और सुलेखीय सजावट जैसी प्रारंभिक भारत-इस्लामिक विशेषताओं द्वारा विशिष्ट है?

- Ans
- 1. दिल्ली का कुतुब मीनार परिसर
 - 2. बुलंद दरवाजा
 - 3. बीजापुर का गोल गुंबज
 - 4. आगरा में स्थित ताजमहल मकबरा

Q.15 भारत में सामान्यतः किस प्रकार के शैलों में पेट्रोलियम पाया जाता है?

- Ans
- 1. आग्नेय शैल
 - 2. ज्वालामुखी शैल
 - 3. तृतीयक काल की अवसादी शैल
 - 4. कायांतरित शैल

Q.16 कौन-सा प्रक्रम, रसोई घर में शर्करा से कैरामेल के विरचन के समय, शर्करा का तापन करने और उसके भूरे रंग में परिवर्तित होने पर सम्भूत रासायनिक परिवर्तनों का सर्वोत्तम ढंग से वर्णन करता है?

- Ans
- 1. रासायनिक परिवर्तन के बिना शर्करा का गलन
 - 2. शर्करा के ऊष्मीय अपघटन से कैरामेल का अभिरूपण
 - 3. शर्करा के किण्वन से ऐल्कोहॉल का उत्पादन
 - 4. शर्करा के ऊर्ध्वपातन से वाष्प का अभिरूपण

Q.17 आहार नाल का कौन-सा भाग, क्रमाकुंचन के माध्यम से खाद्य पदार्थ को मुख से आमाशय तक पहुँचाने का कार्य करता है?

- Ans
- 1. क्षुद्रांत्र (Small intestine)
 - 2. बृहदांत्र (Large intestine)
 - 3. ग्रसनी (Pharynx)
 - 4. ग्रासनली (Oesophagus)

Q.18 अंडमान और निकोबार द्वीप समूह, बंगाल की खाड़ी में भौगोलिक रूप से किस प्रकार वितरित हैं?

- Ans
- 1. एक विस्तृत क्षेत्र में फैले हुए और संख्या में अनेक
 - 2. एकल संहत स्थान पर एक साथ एक-दूसरे से सुसंकुलित
 - 3. भारत के पूर्वी और पश्चिमी दोनों तटों पर स्थित
 - 4. भारतीय मुख्य भूमि से प्रत्यक्ष रूप से जुड़े हुए

Q.19 भारत के संविधान के अनुसार, जैसा कि भारत के उच्चतम न्यायालय ने भारत संघ बनाम नवीन जिंदल (2004) मामले में निर्णय दिया है, निजी संपत्ति पर राष्ट्रीय ध्वज फहराना किस अनुच्छेद के तहत एक मौलिक अधिकार है?

- Ans
- 1. अनुच्छेद 19 (1)(a)
 - 2. अनुच्छेद 21
 - 3. अनुच्छेद 25
 - 4. अनुच्छेद 14

Q.20 उच्च न्यायालय द्वारा निम्नलिखित में से कौन-सा रिट, नागरिकों के अधिकारों के प्रवर्तन के लिए जारी किया जाता है?

- Ans
- 1. व्यादेश
 - 2. शपथपत्र
 - 3. समन
 - 4. बंदी प्रत्यक्षीकरण

Q.1 नीचे दी गई तालिका में चार विभिन्न क्षेत्रों में चार भिन्न उत्पादों P, Q, R और S के विक्रय को प्रदर्शित किया गया है।

क्षेत्र	P	Q	R	S
पूर्व	240	180	150	200
पश्चिम	120	180	200	160
उत्तर	180	160	150	200
दक्षिण	140	200	190	180

पश्चिम क्षेत्र में सभी उत्पादों का औसत विक्रय ज्ञात कीजिए।

- Ans
- 1. 155
 - 2. 148
 - 3. 165
 - 4. 178

Q.2 किसी वितरण केंद्र पर एक स्टोर मैनेजर एक उत्कृष्ट मिश्रण बनाने के लिए आटे की दो किस्मों को मिलाता है। किस्म A की कीमत ₹40/kg है और किस्म B की कीमत ₹70/kg है। यदि दोनों किस्मों को वजन के आधार पर समान अनुपात में मिलाया जाए, तो परिणामी मिश्रण का प्रति kg औसत मूल्य (₹ में) ज्ञात कीजिए।

- Ans
- 1. 65
 - 2. 60
 - 3. 70
 - 4. 55

Q.3 यदि ब्याज को वार्षिक रूप से संयोजित किया जाए, तो कोई धनराशि किस वार्षिक ब्याज दर पर 2 वर्ष में 43 गुनी हो जाएगी? (एक दशमलव स्थान तक पूर्णांकित कीजिए।)

- Ans
- 1. 562.4%
 - 2. 560.8%
 - 3. 546.5%
 - 4. 555.7%

Q.4 $\frac{1}{7}, \frac{2}{3}, \frac{4}{5}$ का महत्तम समापवर्तक (HCF) ज्ञात कीजिए।

- Ans
- 1. $\frac{1}{71}$
 - 2. $\frac{1}{49}$
 - 3. $\frac{1}{31}$
 - 4. $\frac{1}{105}$

Q.5 एक परिवार के पांच सदस्यों का औसत वजन (kg में) कितना होगा, जिनका वजन क्रमशः 40 kg, 49 kg, 57 kg, 70 kg और 39 kg है?

- Ans
- 1. 52
 - 2. 53
 - 3. 50
 - 4. 51

Q.6 एक व्यक्ति को ₹120 में किसी वस्तु को बेचने पर 35% की हानि होती है। 43% का लाभ अर्जित करने के लिए उसे वस्तु को किस कीमत (₹ में) पर बेचना चाहिए?

- Ans
- 1. 264
 - 2. 254
 - 3. 274
 - 4. 284

Q.7 तालिका का अध्ययन करें और उसके बाद दिए गए प्रश्न का उत्तर दें।

नीचे दी गई तालिका में किसी व्यक्ति की कुल मासिक आय का विभिन्न श्रेणियों में व्यय को दर्शाया गया है।

श्रेणी	राशि (₹ में)
किराना	12,000
परिवहन	7,000
किराया	21,000
निवेश	25,000
यात्रा	5,000

कुल आय का कितना प्रतिशत किराए पर खर्च होता है?

- Ans
- 1. 20%
 - 2. 30%
 - 3. 35%
 - 4. 25%

Q.8 अब से दो वर्ष पहले, A, B और C की औसत आयु 69 वर्ष थी। अब से दो वर्ष बाद, A और C की औसत आयु 80 वर्ष होगी। अब से पाँच वर्ष बाद B की आयु (वर्षों में) कितनी होगी?

- Ans
- 1. 58
 - 2. 62
 - 3. 65
 - 4. 57

Q.9 अजय की बिक्री में पहले वर्ष में 12% की और दूसरे वर्ष में 25% की वृद्धि हुई। यदि उसकी वर्तमान बिक्री ₹1,48,400 है, तो दो वर्ष पहले उसकी बिक्री (₹ में) कितनी थी?

- Ans
- 1. 1,06,000
 - 2. 1,03,200
 - 3. 1,08,720
 - 4. 1,02,500

Q.10 $3 \times (8 \times (4^2)) \div 16 + 79 - 70$ को सरल कीजिए।

- Ans
- 1. 42
 - 2. 31
 - 3. 33
 - 4. 36

Q.11 $\left(3\frac{3}{4}\left(3\frac{4}{5} \div 9\frac{1}{2}\right)\right)$ का मान ज्ञात कीजिए।

- Ans
- 1. $\frac{2}{3}$
 - 2. $\frac{2}{5}$
 - 3. $\frac{5}{2}$
 - 4. $\frac{3}{2}$

Q.12 संख्या 13.3 और 0.03 का LCM ज्ञात कीजिए।

- Ans
- 1. 0.399
 - 2. 39.9
 - 3. 3.99
 - 4. 399

Q.13 एक निर्माता एक उत्पाद को थोक विक्रेता को 36% लाभ पर बेचता है। थोक विक्रेता इसे खुदरा विक्रेता को 25% लाभ पर बेचता है, और खुदरा विक्रेता इसे ग्राहक को 40% लाभ पर बेचता है। यदि ग्राहक ₹833 का भुगतान करता है, तो निर्माता के लिए लागत मूल्य (₹ में) ज्ञात कीजिए।

- Ans
- 1. ₹350
 - 2. ₹347
 - 3. ₹351
 - 4. ₹352

Q.14 किसी संख्या में $33\frac{1}{2}\%$ की कमी करने पर, परिणाम 399 प्राप्त होता है। संख्या ज्ञात कीजिए।

- Ans
- 1. 1000
 - 2. 500
 - 3. 1200
 - 4. 600

Q.15 ₹P राशि पर 10% वार्षिक दर से 2 वर्षों के चक्रवृद्धि ब्याज (वार्षिक रूप से संयोजित) और साधारण ब्याज का अंतर ₹12 है। P का मान ज्ञात कीजिए।

- Ans
- 1. ₹1,000
 - 2. ₹1,400
 - 3. ₹1,100
 - 4. ₹1,200

Q.16 किसी संख्या में $87\frac{1}{2}\%$ की कमी करने पर 726 प्राप्त होता है। वह संख्या ज्ञात कीजिए।

- Ans
- 1. 5808
 - 2. 5908
 - 3. 6480
 - 4. 6280

Q.17 ₹1,500 की राशि पर 6% प्रति माह की दर से 7 महीनों के लिए साधारण ब्याज (₹ में) ज्ञात कीजिए।

- Ans
- 1. 52.50
 - 2. 630
 - 3. 90
 - 4. 45

Q.18 उस कस्बे की 3 वर्ष पूर्व और 2 वर्ष पूर्व की जनसंख्या में कितना अंतर होगा जिसकी वर्तमान जनसंख्या 1,00,000 है और इसमें प्रति वर्ष 25% की दर से वृद्धि हो रही है?

- Ans
- 1. 13,150
 - 2. 12,250
 - 3. 12,800
 - 4. 12,050

Q.19 अब से छह वर्ष पहले, A, B और C की औसत आयु 29 वर्ष थी। अब से छह वर्ष बाद, A और C की औसत आयु 29 वर्ष होगी। अब से पांच वर्ष बाद B की आयु (वर्षों में) कितनी होगी?

- Ans
- 1. 64
 - 2. 67
 - 3. 60
 - 4. 59

Q.20 किसी कस्बे की वर्तमान जनसंख्या 10,000 है। पहले वर्ष में यह 36% और दूसरे वर्ष में 70% बढ़ जाती है लेकिन तीसरे वर्ष में 5% घट जाती है। तीसरे वर्ष के अंत में कस्बे की जनसंख्या ज्ञात कीजिए।

- Ans
- 1. 21,959
 - 2. 21,964
 - 3. 21,968
 - 4. 21,957

Section : **Arithmetical and Numerical Ability1**

Q.1 एक बोतल का अंकित मूल्य ₹450 है। इस पर 12% की छूट दी जाती है। इसका विक्रय मूल्य (₹ में) ज्ञात कीजिए।

- Ans
- 1. 398
 - 2. 399
 - 3. 400
 - 4. 396

Q.2 एक दुकानदार एक घड़ी के अंकित मूल्य पर K% की छूट प्रदान करता है, फिर भी उसे 12% का लाभ प्राप्त होता है। यदि उसने घड़ी का अंकित मूल्य उसके क्रय मूल्य से 40% अधिक निर्धारित किया, तो K का मान ज्ञात कीजिए।

- Ans
- 1. 23
 - 2. 18
 - 3. 20
 - 4. 25

Q.3 13 cm त्रिज्या और 42 cm ऊंचाई वाले एक बेलन का आयतन (cm^3 में) ज्ञात कीजिए। ($\pi = 22/7$ का उपयोग कीजिए)

- Ans
- 1. 21345
 - 2. 20567
 - 3. 24300
 - 4. 22308

Q.4 समानांतर पटरियों पर विपरीत दिशाओं में चलने वाली समान लंबाई की दो रेलगाड़ियां प्लेटफॉर्म पर खड़े एक व्यक्ति को क्रमशः 15 सेकंड और 25 सेकंड में पार करती हैं। ज्ञात कीजिए कि उन्हें एक-दूसरे को पूरी तरह से पार करने में कितना समय लगेगा।

- Ans
- 1. 20.25 सेकंड
 - 2. 21.25 सेकंड
 - 3. 22.50 सेकंड
 - 4. 18.75 सेकंड

Q.5 राम और श्याम क्रमशः 12 km/h और 20 km/h की चाल से समान दूरी तय करते हैं। यदि राम को श्याम से 60 मिनट अधिक लगते हैं, तो प्रत्येक द्वारा तय की गई दूरी ज्ञात कीजिए।

- Ans
- 1. 25 km
 - 2. 40 km
 - 3. 30 km
 - 4. 35 km

Q.6 यदि 12 और 27 के बीच का माथ्यानुपाती p है, तो p का मान ज्ञात कीजिए।

- Ans
- 1. 15
 - 2. 20
 - 3. 16
 - 4. 18

Q.7 एक बेलन के आधार की त्रिज्या और ऊँचाई का योग 56 m है। यदि बेलन का संपूर्ण पृष्ठीय क्षेत्रफल 3696 m^2 है, तो ₹45 प्रति वर्ग मीटर की दर से इसके वक्र पृष्ठीय क्षेत्रफल को रंगने की लागत ज्ञात कीजिए ($\pi = \frac{22}{7}$ का प्रयोग करें)।

- Ans
- 1. ₹1,39,680
 - 2. ₹1,24,570
 - 3. ₹1,35,135
 - 4. ₹1,29,236

Q.8 27, 63 और 87 का चतुर्थानुपाती ज्ञात कीजिए।

- Ans
- 1. 118
 - 2. 203
 - 3. 189
 - 4. 243

Q.9 कोई कंपनी 8 श्रमिकों को एक प्रोजेक्ट देती है, जिसे 16 दिन के निर्धारित समय में पूरा करना है। 8 दिन तक कार्य करने के बाद, तकनीकी समस्याओं के कारण केवल आधा कार्य पूरा होता है। यदि टीम में 4 अतिरिक्त श्रमिक शामिल किए जाते हैं, तो शेष कार्य को पूरा करने में कितने और दिन लगेंगे?

- Ans
- 1. 4 दिन
 - 2. $5\frac{1}{3}$ दिन
 - 3. 8 दिन
 - 4. $5\frac{2}{3}$ दिन

Q.10 कोई कार 64 km/h की चाल से चलती है। इसे 384 km की दूरी को तय करने में कितना समय लगेगा?

- Ans
- 1. 3 घंटे
 - 2. 7 घंटे
 - 3. 5 घंटे
 - 4. 6 घंटे

Q.11 कोई निर्माता अपने विक्रय मूल्य को उत्पादन लागत से 50% अधिक निर्धारित करता है। यदि उत्पादन लागत में 5% की वृद्धि होती है और निर्माता अपने विक्रय मूल्य में 40% की वृद्धि करता है, तो नया लाभ प्रतिशत ज्ञात कीजिए।

- Ans
- 1. 99%
 - 2. 98%
 - 3. 100%
 - 4. 101%

Q.12 पाइप A, किसी टंकी को 12 घंटे में भरता है और पाइप B उसे 16 घंटे में भरता है। दोनों पाइपों को एक साथ खोला जाता है। कितने घंटे बाद पाइप B को बंद कर दिया जाना चाहिए, ताकि पूरी टंकी ठीक 9 घंटे में पूर्णतः भर जाए?

- Ans
- 1. 4 घंटे
 - 2. 6 घंटे
 - 3. 3 घंटे
 - 4. 5 घंटे

Q.13 दो समूह, समूह A और समूह B, मिलकर किसी परियोजना को 10 दिनों में पूरा कर सकते हैं। यदि समूह A अकेले इसे 15 दिनों में पूरा कर सकता है, तो समूह B को अकेले इसी परियोजना को पूरा करने में कितने दिन लगेंगे?

- Ans
- 1. 25 दिन
 - 2. 35 दिन
 - 3. 30 दिन
 - 4. 20 दिन

Q.14 निम्नलिखित अनुपातों को अवरोही क्रम में व्यवस्थित कीजिए।

- A) 91:92
- B) 82:83
- C) 101:103
- D) 95:96

- Ans
- 1. B-D-A-C
 - 2. D-A-B-C
 - 3. A-B-C-D
 - 4. C-A-B-D

Q.15 पाइप A एक टैंक को 12 घंटे में भर सकता है। टैंक के तीन-चौथाई भाग को भरने में पाइप A को कितने घंटे लगेंगे?

- Ans
- 1. 8 घंटे
 - 2. 7 घंटे
 - 3. 9 घंटे
 - 4. 10 घंटे

Q.16 किसी मिश्रण में ऐल्कोहॉल और जल का अनुपात 3 : 5 है। यदि 40 लीटर जल मिलाया जाए, तो यह अनुपात 3 : 7 हो जाता है। ऐल्कोहॉल की मूल मात्रा कितनी थी?

- Ans
- 1. 70 लीटर
 - 2. 65 लीटर
 - 3. 60 लीटर
 - 4. 75 लीटर

Q.17 किसी घनाभ की विमाएं 16 cm, 8 cm और 6 cm हैं। इसे पिघलाकर 4 cm भुजा वाले घन बनाए जाते हैं। ऐसे कितने घन बनेंगे?

- Ans
- 1. 8
 - 2. 12
 - 3. 10
 - 4. 15

Q.18 समान लंबाई की दो ट्रेनें एक पोल को क्रमशः 10 सेकंड और 15 सेकंड में पार करती हैं। तेज चाल वाली ट्रेन को समान दिशा में गतिमान धीमी चाल वाली ट्रेन को पूरी तरह से पार करने में कितना समय लगेगा?

- Ans
- 1. 24 सेकंड
 - 2. 15 सेकंड
 - 3. 36 सेकंड
 - 4. 60 सेकंड

Q.19 यदि एक लंब वृत्तीय शंकु के आधार की त्रिज्या 10.5 cm है और उसकी तिर्यक ऊँचाई 110.5 cm है, तो उसका वक्र पृष्ठीय क्षेत्रफल (cm^2 में) ज्ञात कीजिए।

$$\left(\pi = \frac{22}{7} \text{ लीजिए}\right)$$

- Ans
- 1. 3664.7
 - 2. 3456.4
 - 3. 3466.6
 - 4. 3646.5

Q.20 कोई व्यापारी, क्रय मूल्य पर अपने माल को 22% की हानि पर बेचता है, लेकिन 42% कम बाट का उपयोग करता है। उसका प्रतिशत लाभ या हानि कितना है (एक दशमलव स्थान तक पूर्णांकित कीजिए)?

- Ans
- 1. 34.5% लाभ
 - 2. 36.5% हानि
 - 3. 35.5% हानि
 - 4. 33.5% लाभ

Section : Test of English Language and Comprehension

Q.1 Fill in the blank with the correct option.

She has been working hard ___ improving her communication skills.4074

- Ans
- 1. for
 - 2. on
 - 3. by
 - 4. to

Q.2 Complete the given sentence with the appropriate article.

To comprehend ____ principles of relativity, one must grasp the fundamental concepts of space and time.

- Ans
- 1. a
 - 2. no article needed
 - 3. the
 - 4. an

Q.3 Select the most appropriate word for the blank in the sentence given below:

The dog _____ every night.

4320

- Ans
- 1. barks
 - 2. bark
 - 3. are barked
 - 4. were barking

Q.4 Fill in the blank with the most suitable article.

She wants to become ____ artist one day.1105

- Ans
- 1. the
 - 2. a
 - 3. an
 - 4. no article required

Q.5 Fill in the blank with the most suitable option.

I am lucky as I have _____ friend.

1179

- Ans
- 1. very an honest
 - 2. an very honest
 - 3. a very honest
 - 4. very honest

Q.6 Select the correct option to complete the following sentence.

A list of all the winners _____ on the board.

- Ans
- 1. have displayed
 - 2. are displayed
 - 3. is displayed
 - 4. is displaying

Q.7 There are four segments labelled P, Q, R, and S. Rearrange the segments to construct a meaningful sentence.

P. usually reserved for first-year-graduate students

Q. sits on the edge of a chair and speaks with wide-eyed enthusiasm

R. a senior molecular biologist at one of America's top research centers

S. in her basement office, Judith Campisi,

- Ans
- 1. SRQP
 - 2. RPQS
 - 3. SQPR
 - 4. RSQP

Q.8 Replace the underlined word with the correct option to make the sentence grammatically correct.

We travelled with train across the country to visit historical landmarks.

- Ans
- 1. from
 - 2. onto
 - 3. in
 - 4. by

Q.9 Fill in the blank with the most suitable article:

He offered ___ excuse for being late, but the manager was not convinced.1103

- Ans
- 1. an
 - 2. a
 - 3. the
 - 4. no article required

Q.10 Select the option that rectifies the incorrect use of adjective in the given sentence.

He is tall than his brother in the class.

- Ans
- 1. taller
 - 2. tallest
 - 3. more tall
 - 4. most tall

Q.11 Direction: In the given question, a statement divided into different segments is given. Rearrange all the segments to form a coherent statement.

A. project timeline the meeting / B. ended with everyone agreeing/ C. to the new proposal/ D. after a lengthy discussion/ E. about the5448

- Ans
- 1. A - B - C - D - E
 - 2. B - C - E - D - A
 - 3. D - A - B - E - C
 - 4. D - E - A - B - C

Q.12 Choose the word that best completes the sentence.
This exercise is _____ than the previous one.

- Ans
- 1. many challenges
 - 2. most challenge
 - 3. more challenging
 - 4. much challenger

Q.13 Choose the correct option to complete the sentence.

They enjoyed a ____ meal at the restaurant. 4056

- Ans
- 1. loud
 - 2. slow
 - 3. delicious
 - 4. horrid

Q.14 Select the option that will improve the highlighted part of the given sentence.

The professor asked a question that was **too difficult** than the one in the previous test.

- Ans
- 1. difficult
 - 2. most difficult
 - 3. more difficult
 - 4. much difficult

Q.15 Select the appropriate option to correct the sentence.

The confused-minded researcher deftly experimented with the concept of socio-metacognitive strategies, swiftly achieving remarkable success.

- Ans
- 1. The athletic-minded researcher deftly experimented with the concept of socio-metacognitive strategies, swiftly achieving remarkable success.
 - 2. The distracted-minded researcher deftly experimented with the concept of socio-metacognitive strategies, swiftly achieving remarkable success.
 - 3. The analytical-minded researcher deftly experimented with the concept of socio-metacognitive strategies, swiftly achieving remarkable success.
 - 4. The sluggish-minded researcher deftly experimented with the concept of socio-metacognitive strategies, swiftly achieving remarkable success.

Comprehension:

Read the passage carefully and select the most suitable option for each of the given questions.

Reading books offers more than just entertainment. They introduce us to new ideas, help us understand different cultures, and improve our language skills. Unlike watching videos, reading allows our imagination to fill in details and shapes our thinking. Recent surveys show that students who read regularly tend to score higher in language and writing tests. Reading also helps reduce stress by offering a calm escape from daily worries. While e-books are popular today, many people still prefer the feel of printed books. Developing a reading habit early in life builds focus and patience. Even reading for 20 minutes a day can make a big difference. Schools and parents play an important role by encouraging children to read beyond textbooks. In the end, books remain powerful tools to shape thoughtful and creative minds. Sharing books and discussing them with friends can further deepen understanding and enjoyment. Libraries, both physical and digital, offer countless choices for curious readers. Ultimately, reading enriches not just our knowledge, but our perspective on the world.

SubQuestion No : 16

Q.16 Which of the following is the most appropriate title for the passage?

Comprehension:

Read the passage carefully and select the most suitable option for each of the given questions.

Reading books offers more than just entertainment. They introduce us to new ideas, help us understand different cultures, and improve our language skills. Unlike watching videos, reading allows our imagination to fill in details and shapes our thinking. Recent surveys show that students who read regularly tend to score higher in language and writing tests. Reading also helps reduce stress by offering a calm escape from daily worries. While e-books are popular today, many people still prefer the feel of printed books. Developing a reading habit early in life builds focus and patience. Even reading for 20 minutes a day can make a big difference. Schools and parents play an important role by encouraging children to read beyond textbooks. In the end, books remain powerful tools to shape thoughtful and creative minds. Sharing books and discussing them with friends can further deepen understanding and enjoyment. Libraries, both physical and digital, offer countless choices for curious readers. Ultimately, reading enriches not just our knowledge, but our perspective on the world.

SubQuestion No : 17

Q.17 Which of the following is a factual statement from the passage?

Comprehension:

Read the passage carefully and select the most suitable option for each of the given questions.

Reading books offers more than just entertainment. They introduce us to new ideas, help us understand different cultures, and improve our language skills. Unlike watching videos, reading allows our imagination to fill in details and shapes our thinking. Recent surveys show that students who read regularly tend to score higher in language and writing tests. Reading also helps reduce stress by offering a calm escape from daily worries. While e-books are popular today, many people still prefer the feel of printed books. Developing a reading habit early in life builds focus and patience. Even reading for 20 minutes a day can make a big difference. Schools and parents play an important role by encouraging children to read beyond textbooks. In the end, books remain powerful tools to shape thoughtful and creative minds. Sharing books and discussing them with friends can further deepen understanding and enjoyment. Libraries, both physical and digital, offer countless choices for curious readers. Ultimately, reading enriches not just our knowledge, but our perspective on the world.

SubQuestion No : 18

Q.18 What is the tone of the passage?

Comprehension:

Read the passage carefully and select the most suitable option for each of the given questions.

Reading books offers more than just entertainment. They introduce us to new ideas, help us understand different cultures, and improve our language skills. Unlike watching videos, reading allows our imagination to fill in details and shapes our thinking. Recent surveys show that students who read regularly tend to score higher in language and writing tests. Reading also helps reduce stress by offering a calm escape from daily worries. While e-books are popular today, many people still prefer the feel of printed books. Developing a reading habit early in life builds focus and patience. Even reading for 20 minutes a day can make a big difference. Schools and parents play an important role by encouraging children to read beyond textbooks. In the end, books remain powerful tools to shape thoughtful and creative minds. Sharing books and discussing them with friends can further deepen understanding and enjoyment. Libraries, both physical and digital, offer countless choices for curious readers. Ultimately, reading enriches not just our knowledge, but our perspective on the world.

SubQuestion No : 19

Q.19 Which of the following best describes the structure of the passage?

Comprehension:

Read the passage carefully and select the most suitable option for each of the given questions.

Reading books offers more than just entertainment. They introduce us to new ideas, help us understand different cultures, and improve our language skills. Unlike watching videos, reading allows our imagination to fill in details and shapes our thinking. Recent surveys show that students who read regularly tend to score higher in language and writing tests. Reading also helps reduce stress by offering a calm escape from daily worries. While e-books are popular today, many people still prefer the feel of printed books. Developing a reading habit early in life builds focus and patience. Even reading for 20 minutes a day can make a big difference. Schools and parents play an important role by encouraging children to read beyond textbooks. In the end, books remain powerful tools to shape thoughtful and creative minds. Sharing books and discussing them with friends can further deepen understanding and enjoyment. Libraries, both physical and digital, offer countless choices for curious readers. Ultimately, reading enriches not just our knowledge, but our perspective on the world.

SubQuestion No : 20

Q.20 What is the central theme of the passage?

Q.1 Out of the four alternatives, choose the one that can be substituted for the given phrase/sentence.

A man whose wife is dead

- Ans
- 1. Widow
 - 2. Endower
 - 3. Widower
 - 4. Spinster

Q.2 In the following question, choose the correct meaning of the given proverb.

“All that glitters is not gold”

- Ans
- 1. What you see is always right
 - 2. Appearance may be deceptive
 - 3. All the shining metals do not cost high
 - 4. All that shines is valuable

Q.3 Select the synonym that best fits the word.

Cheerful

- Ans
- 1. Quiet
 - 2. Happy
 - 3. Sad
 - 4. Angry

Q.4 Choose the one-word substitution that best describes the highlighted segment given below.

Despite having great wealth, he was **extremely unwilling to spend money even on basic comforts.**

- Ans
- 1. Extravagant
 - 2. Lavish
 - 3. Parsimonious
 - 4. Generous

Q.5 What is the meaning of the phrase "Absence makes the heart grow fonder"?

- Ans
- 1. Distance can strengthen feelings
 - 2. Memories become clearer with time
 - 3. Being absent is beneficial for health
 - 4. Out of sight, out of mind

Q.6 Choose the word opposite in meaning to the given word.

BEDECKED -

- Ans
- 1. unadorned
 - 2. harnessed
 - 3. rigged
 - 4. accoutered

Q.7 Choose the word that is opposite in meaning to the given word:

GAIETY

- Ans
- 1. Misery
 - 2. Jubilance
 - 3. Costume
 - 4. Recreation

Q.8 Select the wrongly spelt word from the given options.

- Ans
- 1. Routine
 - 2. Metaphore
 - 3. Occasion
 - 4. Vivid

Q.9 There are four segments labelled P, Q, R, and S. Rearrange the segments and choose from the options the logical order of them to construct a meaningful sentence.

- P. the scientists as dedicated as monks in a 14th century monastery
- Q. because the eyes were on the star
- R. whose lives were being fulfilled
- S. when I visited Rock-feller institute, I found

- Ans
- 1. PSRQ
 - 2. QPSR
 - 3. SRQP
 - 4. SPRQ

Q.10 Recognise the spelling error in the following sentence by choosing the appropriate option.

Launching a new savings scheme, the president today said that stability and trust are the cornstones of enduring relationships.

- Ans
- 1. Launching
 - 2. cornstones
 - 3. enduring
 - 4. stabillity

Q.11 From the given options, choose the correct meaning of the given proverb.

“Death keeps no calendar”

- Ans
- 1. Death gives us warning
 - 2. Death follows a calendar
 - 3. Nobody knows when they will die
 - 4. Death is an unwanted guest

Q.12 Select the option that best explains the meaning of the given proverb:
An idle mind is the devil's workshop

- Ans
- 1. Rest is necessary for creativity
 - 2. Hard work always guarantees success
 - 3. Idleness often leads to mischief or wrongdoing
 - 4. Thinking too much creates confusion

Q.13 Select the word which means the same as the underlined group of words in the given sentence.

Scientists classify the bear as a/an animal that feeds on both plant matter and the flesh of other animals as part of its natural diet.

- Ans
- 1. omnivore
 - 2. herbivore
 - 3. grazer
 - 4. scavenger

Q.14 Out of the four alternatives, choose the one that can be substituted for the given phrase/sentence.

Art of beautiful handwriting

- Ans**
- 1. Cartography
 - 2. Calligraphy
 - 3. Ethnography
 - 4. Typography

Q.15 Select the most appropriate **ANTONYM** of the underlined word in the given sentence.

During the entire meeting, Ravi remained obstinate.

- Ans**
- 1. Pliant
 - 2. Headstrong
 - 3. Low-spirited
 - 4. Introspective

Comprehension:

Read the given passage and answer the questions that follow.

The nature of work has undergone significant change in recent decades, largely due to rapid technological advancement. Automation and digital tools have increased efficiency, but they have also altered the skills employers expect from workers. Routine tasks that once required human effort are now often performed by machines, shifting the demand for human resources toward analytical and creative abilities. As a result, lifelong learning has become essential rather than optional.

This transition has not affected all workers equally. While some benefit from flexible schedules and new opportunities, others face job insecurity and the pressure to retrain. Educational institutions therefore play a crucial role in preparing individuals for this evolving landscape by emphasising adaptability, problem-solving, and continuous skill development. In the long run, societies that invest in human capability rather than narrow job training are more likely to manage these changes successfully.

SubQuestion No : 16

Q.16 According to the passage, which of the following has altered the expectations of employers?

Comprehension:

Read the given passage and answer the questions that follow.

The nature of work has undergone significant change in recent decades, largely due to rapid technological advancement. Automation and digital tools have increased efficiency, but they have also altered the skills employers expect from workers. Routine tasks that once required human effort are now often performed by machines, shifting the demand for human resources toward analytical and creative abilities. As a result, lifelong learning has become essential rather than optional.

This transition has not affected all workers equally. While some benefit from flexible schedules and new opportunities, others face job insecurity and the pressure to retrain. Educational institutions therefore play a crucial role in preparing individuals for this evolving landscape by emphasising adaptability, problem-solving, and continuous skill development. In the long run, societies that invest in human capability rather than narrow job training are more likely to manage these changes successfully.

SubQuestion No : 17

Q.17 Select the most appropriate title for the passage.

Comprehension:

Read the given passage and answer the questions that follow.

The nature of work has undergone significant change in recent decades, largely due to rapid technological advancement. Automation and digital tools have increased efficiency, but they have also altered the skills employers expect from workers. Routine tasks that once required human effort are now often performed by machines, shifting the demand for human resources toward analytical and creative abilities. As a result, lifelong learning has become essential rather than optional.

This transition has not affected all workers equally. While some benefit from flexible schedules and new opportunities, others face job insecurity and the pressure to retrain. Educational institutions therefore play a crucial role in preparing individuals for this evolving landscape by emphasising adaptability, problem-solving, and continuous skill development. In the long run, societies that invest in human capability rather than narrow job training are more likely to manage these changes successfully.

SubQuestion No : 18

Q.18 Which type of tasks, according to the passage, are now often performed by machines?

Comprehension:

Read the given passage and answer the questions that follow.

The nature of work has undergone significant change in recent decades, largely due to rapid technological advancement. Automation and digital tools have increased efficiency, but they have also altered the skills employers expect from workers. Routine tasks that once required human effort are now often performed by machines, shifting the demand for human resources toward analytical and creative abilities. As a result, lifelong learning has become essential rather than optional.

This transition has not affected all workers equally. While some benefit from flexible schedules and new opportunities, others face job insecurity and the pressure to retrain. Educational institutions therefore play a crucial role in preparing individuals for this evolving landscape by emphasising adaptability, problem-solving, and continuous skill development. In the long run, societies that invest in human capability rather than narrow job training are more likely to manage these changes successfully.

SubQuestion No : 19

Q.19 Identify the tone of the passage.

Comprehension:

Read the given passage and answer the questions that follow.

The nature of work has undergone significant change in recent decades, largely due to rapid technological advancement. Automation and digital tools have increased efficiency, but they have also altered the skills employers expect from workers. Routine tasks that once required human effort are now often performed by machines, shifting the demand for human resources toward analytical and creative abilities. As a result, lifelong learning has become essential rather than optional.

This transition has not affected all workers equally. While some benefit from flexible schedules and new opportunities, others face job insecurity and the pressure to retrain. Educational institutions therefore play a crucial role in preparing individuals for this evolving landscape by emphasising adaptability, problem-solving, and continuous skill development. In the long run, societies that invest in human capability rather than narrow job training are more likely to manage these changes successfully.

SubQuestion No : 20

Q.20 Which of the following best captures the central theme of the passage?

Section : Test of Hindi Language and Comprehension

Q.1 नीचे दिए गए वाक्य खंडों को सही क्रम में व्यवस्थित कीजिए-

1. के कारण
2. रहा था
3. वह कुछ
4. जीना चढ़ने
5. हॉफ-सा

Ans 1. 41523

2. 35241

3. 41352

4. 25341

**Q.2 निम्न में से उपयुक्त 'विशेषण' का चयन कर दिए गए वाक्य को पूर्ण कीजिए।
'रोहन एकलड़का है।'**

Ans 1. चौरस

2. ईमानदार

3. ताज़ा

4. पीला

**Q.3 निम्नलिखित वाक्यांश के लिए सार्थक शब्द का चयन कीजिए।
'जिस स्त्री का पति जीवित हो'**

Ans 1. किशोरी

2. सुमुखी

3. सुहागिन

4. वीतरागी

Q.4 दिए गए प्रश्न में, विभिन्न खंडों में विभाजित एक कथन दिया गया है। एक सुसंगत कथन बनाने के लिए सभी खंडों को पुनर्व्यवस्थित करें।

कथा के(क)/ही मंगलाचरण (ख)/करने का (ग)/आरम्भ में (घ)/विधान होता है (ङ)

- Ans
- 1. ख,ग,क,घ,ङ
 - 2. क,घ,ग,ख, ङ
 - 3. क,घ,ख,ग,ङ
 - 4. ख,ग,ङ क,घ

Q.5 निम्नलिखित वाक्य के रिक्त स्थान में उचित 'क्रिया' की पूर्ति कीजिए-
'अध्यापक छात्रों से कविता _____ रहे हैं।'

- Ans
- 1. लिखवाता
 - 2. चलवाना
 - 3. पढ़वा
 - 4. सुनवाना

Q.6 निम्न में से 'ईद का चाँद होना' मुहावरे का सही अर्थ कौन-सा है?

- Ans
- 1. मर जाना
 - 2. बहुत दिनों पर दिखना
 - 3. सच कहना
 - 4. नियत बिगड़ना

Q.7 निम्न में से उपयुक्त 'कारक' चिह्न का चयन कर दिए गए वाक्य को पूर्ण कीजिए।
'अपाला गायत्रीबेटी है।'

- Ans
- 1. को
 - 2. हे
 - 3. की
 - 4. से

Q.8 निम्नलिखित विकल्पों में से तीन वाक्यों में सर्वनाम शब्दों के प्रयोग हुआ है, एक अतिरिक्त है, उसे बताएं-

- Ans
- 1. उसने आज स्कूल में नृत्य किया।
 - 2. वह साइकिल से स्कूल गया।
 - 3. तुम सोहन को खाना खिला दो।
 - 4. मीता ने सभी को भोजन दिया।

Q.9 निम्न में से उपयुक्त 'क्रिया-विशेषण' का चयन कर दिए गए वाक्य को पूर्ण कीजिए।
'राघवसे पढ़ रहा है।'

- Ans
- 1. अचानक
 - 2. जब कभी
 - 3. ज़ोर-ज़ोर
 - 4. घर- घर

Q.10 निम्न वाक्यों में से विषयवस्तु की दृष्टि से कौन-सा एक वाक्य अतिरिक्त है ?

- Ans
- 1. प्रारंभ में हिंदी फारसी और देवनागरी दोनों लिपियों में लिखी जाती थी।
 - 2. दक्खिनी हिंदी के मुसलमान कवियों ने हिंदी को एक विशिष्ट शैली में ढाला।
 - 3. 'हिंदी' शब्द का प्रयोग एक विशिष्ट शैली के अर्थ में भी होता है।
 - 4. क्या आप जानते हैं कि विज्ञान के अविष्कार से क्या-क्या हुआ इस संसार में ?

Q.11 'जो परलोक से सम्बन्धित हो' के लिए प्रयुक्त होने वाला शब्द कौन-सा है?

- Ans
- 1. इहलौकिक
 - 2. पारलौकिक
 - 3. लौकिक
 - 4. अलौकिक

Q.12 निम्नलिखित विकल्पों में से शुद्ध वाक्य का चयन कीजिए।

- Ans
- 1. कृपया खुले पैसे देने की कृपा करें।
 - 2. कृपया खुले पैसे दें।
 - 3. कृपया कर के खुले पैसे देने की कृपा करें।
 - 4. कृपया कर के खुले पैसे दें।

Q.13 निम्नलिखित वाक्य के व्यवस्थित रूप का चयन कीजिए।
'सखियों में कबीर की मिलता है सामाजिक पाखंडों पर कड़ा प्रहार।'

- Ans
- 1. मिलता है कड़ा प्रहार कबीर की सखियों में सामाजिक पाखंडों पर।
 - 2. कबीर की सखियों में सामाजिक पाखंडों पर कड़ा प्रहार मिलता है।
 - 3. सामाजिक पाखंडों पर कड़ा प्रहार है मिलता कबीर की सखियों में।
 - 4. कबीर की कड़ा प्रहार सखियों में सामाजिक पाखंडों पर मिलता है।

Q.14 सर्वोचित कारक चिह्न से दिये गये वाक्य का रिक्त स्थान पूर्ण करें--
अपने बड़ों का आदर करना अच्छे लोगों निशानी है।

- Ans
- 1. पर
 - 2. का
 - 3. को
 - 4. की

Q.15 'दो टूक बात करना' मुहावरे का अर्थ क्या होता है?

- Ans
- 1. कुछ न कहना
 - 2. अस्पष्ट कहना
 - 3. स्पष्ट कहना
 - 4. कम-कम बोलना

Comprehension:

दिए गए गद्यांश को ध्यानपूर्वक पढ़कर पूछे गए प्रश्नों के सर्वाधिक उपयुक्त उत्तर वाले विकल्प चुनाव कीजिए-

पर्यावरण हमारे जीवन का आधार है। यह हमें शुद्ध वायु, जल और भोजन प्रदान करता है। किंतु आज मानव की बढ़ती आवश्यकताओं और स्वार्थ के कारण पर्यावरण का संतुलन बिगड़ता जा रहा है। जंगलों की अंधाधुंध कटाई, प्रदूषण और प्राकृतिक संसाधनों का अत्यधिक उपयोग पर्यावरण को नुकसान पहुँचा रहे हैं। इसका परिणाम जलवायु परिवर्तन, ग्लोबल वार्मिंग और प्राकृतिक आपदाओं के रूप में सामने आ रहा है। यदि समय रहते हमने पर्यावरण संरक्षण के उपाय नहीं अपनाए, तो आने वाली पीढ़ियों को गंभीर समस्याओं का सामना करना पड़ेगा। हमें पेड़ लगाना, जल का संरक्षण करना और प्रदूषण को कम करने के लिए जागरूक होना चाहिए। पर्यावरण की रक्षा करना प्रत्येक नागरिक का कर्तव्य है, क्योंकि स्वस्थ पर्यावरण के बिना जीवन संभव नहीं है।

SubQuestion No : 16

Q.16 पर्यावरण का संतुलन क्यों बिगड़ रहा है?

Comprehension:

दिए गए गद्यांश को ध्यानपूर्वक पढ़कर पूछे गए प्रश्नों के सर्वाधिक उपयुक्त उत्तर वाले विकल्प चुनाव कीजिए-

पर्यावरण हमारे जीवन का आधार है। यह हमें शुद्ध वायु, जल और भोजन प्रदान करता है। किंतु आज मानव की बढ़ती आवश्यकताओं और स्वार्थ के कारण पर्यावरण का संतुलन बिगड़ता जा रहा है। जंगलों की अंधाधुंध कटाई, प्रदूषण और प्राकृतिक संसाधनों का अत्यधिक उपयोग पर्यावरण को नुकसान पहुँचा रहे हैं। इसका परिणाम जलवायु परिवर्तन, ग्लोबल वार्मिंग और प्राकृतिक आपदाओं के रूप में सामने आ रहा है। यदि समय रहते हमने पर्यावरण संरक्षण के उपाय नहीं अपनाए, तो आने वाली पीढ़ियों को गंभीर समस्याओं का सामना करना पड़ेगा। हमें पेड़ लगाना, जल का संरक्षण करना और प्रदूषण को कम करने के लिए जागरूक होना चाहिए। पर्यावरण की रक्षा करना प्रत्येक नागरिक का कर्तव्य है, क्योंकि स्वस्थ पर्यावरण के बिना जीवन संभव नहीं है।

SubQuestion No : 17

Q.17 निम्न में से कौन-सा पर्यावरण को नुकसान पहुँचाने वाला कारण है?

Comprehension:

दिए गए गद्यांश को ध्यानपूर्वक पढ़कर पूछे गए प्रश्नों के सर्वाधिक उपयुक्त उत्तर वाले विकल्प चुनाव कीजिए-

पर्यावरण हमारे जीवन का आधार है। यह हमें शुद्ध वायु, जल और भोजन प्रदान करता है। किंतु आज मानव की बढ़ती आवश्यकताओं और स्वार्थ के कारण पर्यावरण का संतुलन बिगड़ता जा रहा है। जंगलों की अंधाधुंध कटाई, प्रदूषण और प्राकृतिक संसाधनों का अत्यधिक उपयोग पर्यावरण को नुकसान पहुँचा रहे हैं। इसका परिणाम जलवायु परिवर्तन, ग्लोबल वार्मिंग और प्राकृतिक आपदाओं के रूप में सामने आ रहा है। यदि समय रहते हमने पर्यावरण संरक्षण के उपाय नहीं अपनाए, तो आने वाली पीढ़ियों को गंभीर समस्याओं का सामना करना पड़ेगा। हमें पेड़ लगाना, जल का संरक्षण करना और प्रदूषण को कम करने के लिए जागरूक होना चाहिए। पर्यावरण की रक्षा करना प्रत्येक नागरिक का कर्तव्य है, क्योंकि स्वस्थ पर्यावरण के बिना जीवन संभव नहीं है।

SubQuestion No : 18

Q.18 पर्यावरण असंतुलन का एक परिणाम क्या है?

Comprehension:

दिए गए गद्यांश को ध्यानपूर्वक पढ़कर पूछे गए प्रश्नों के सर्वाधिक उपयुक्त उत्तर वाले विकल्प चुनाव कीजिए-

पर्यावरण हमारे जीवन का आधार है। यह हमें शुद्ध वायु, जल और भोजन प्रदान करता है। किंतु आज मानव की बढ़ती आवश्यकताओं और स्वार्थ के कारण पर्यावरण का संतुलन बिगड़ता जा रहा है। जंगलों की अंधाधुंध कटाई, प्रदूषण और प्राकृतिक संसाधनों का अत्यधिक उपयोग पर्यावरण को नुकसान पहुँचा रहे हैं। इसका परिणाम जलवायु परिवर्तन, ग्लोबल वार्मिंग और प्राकृतिक आपदाओं के रूप में सामने आ रहा है। यदि समय रहते हमने पर्यावरण संरक्षण के उपाय नहीं अपनाए, तो आने वाली पीढ़ियों को गंभीर समस्याओं का सामना करना पड़ेगा। हमें पेड़ लगाना, जल का संरक्षण करना और प्रदूषण को कम करने के लिए जागरूक होना चाहिए। पर्यावरण की रक्षा करना प्रत्येक नागरिक का कर्तव्य है, क्योंकि स्वस्थ पर्यावरण के बिना जीवन संभव नहीं है।

SubQuestion No : 19

Q.19 हमें क्या करना चाहिए ताकि पर्यावरण की रक्षा हो सके?

Comprehension:

दिए गए गद्यांश को ध्यानपूर्वक पढ़कर पूछे गए प्रश्नों के सर्वाधिक उपयुक्त उत्तर वाले विकल्प चुनाव कीजिए-

पर्यावरण हमारे जीवन का आधार है। यह हमें शुद्ध वायु, जल और भोजन प्रदान करता है। किंतु आज मानव की बढ़ती आवश्यकताओं और स्वार्थ के कारण पर्यावरण का संतुलन बिगड़ता जा रहा है। जंगलों की अंधाधुंध कटाई, प्रदूषण और प्राकृतिक संसाधनों का अत्यधिक उपयोग पर्यावरण को नुकसान पहुँचा रहे हैं। इसका परिणाम जलवायु परिवर्तन, ग्लोबल वार्मिंग और प्राकृतिक आपदाओं के रूप में सामने आ रहा है। यदि समय रहते हमने पर्यावरण संरक्षण के उपाय नहीं अपनाए, तो आने वाली पीढ़ियों को गंभीर समस्याओं का सामना करना पड़ेगा। हमें पेड़ लगाना, जल का संरक्षण करना और प्रदूषण को कम करने के लिए जागरूक होना चाहिए। पर्यावरण की रक्षा करना प्रत्येक नागरिक का कर्तव्य है, क्योंकि स्वस्थ पर्यावरण के बिना जीवन संभव नहीं है।

SubQuestion No : 20

Q.20 'स्वार्थ' का विलोम शब्द क्या होगा?

Section : Test of Hindi Language and Comprehension1

Q.1 दिए गए विकल्पों में से शुद्ध वाक्य का चयन कीजिए -

- Ans 1. नारी की दशा से देश का दृष्टिकोण पता चलता है।
 2. नारी की दशा से देश का दषा पता चलता है।
 3. नारी की दशा से देश का दृष्टिकोन पता चलता है।
 4. नारी की दशा से देश का द्रष्टिकोण पता चलता है।

Q.2 दिए गए विकल्पों में से शुद्ध वाक्य का चुनाव करें -

- Ans 1. सरदार पटेल भारत के प्रथम गृहमंत्री थे।
 2. सरदार पटेल भारत के प्रथम ग्रहमंत्री थे।
 3. सरदार पटेल भारत के प्रथम गृहमंत्रि थे।
 4. सरदार पटेल भारत के प्रथम गृहामंत्री थे।

Q.3 'सामिष' शब्द का उचित विलोम शब्द पहचानें।

- Ans 1. सहित
 2. अभद्र
 3. निरामिष
 4. नियमित

Q.4 'आँखों में चर्बी चढ़ना' मुहावरे का अर्थ बताइए।

- Ans 1. आकाश से भूमि तक
 2. बहुत घमण्डी होना
 3. विपत्ति आना
 4. जीविका की चिन्ता होना

Q.5 'गरदन पर सवार होना' मुहावरे का अर्थ क्या होता है?

- Ans 1. सच्ची-सच्ची कह देना
 2. पीछा ही न छोड़ना
 3. सोच में पड़ना
 4. गुस्से से भर जाना

Q.6 दिए गए विकल्पों में से निम्नलिखित मुहावरे का सटीक अर्थ चुनिए।
'घाट-घाट का पानी पीना'

- Ans
- 1. अनुभवी होना
 - 2. चरित्रहीन होना
 - 3. घमंडी होना
 - 4. अनुभवहीन होना

Q.7 निम्न वाक्यों में से वर्तनी की दृष्टि से शुद्ध वाक्य का चयन कीजिए।

- Ans
- 1. उनके शासनकाल मे खूब दंगे हुए ।
 - 2. उनके शाशनकाल में खूब दंगे हुए ।
 - 3. उनके शासनकाल में खूब दंगे हुए ।
 - 4. उनके शसनकाल में खूब दंगे हुए ।

Q.8 दिए गए विकल्पों में से तत्सम-तद्भव शब्दों का कौन-सा युग्म गलत है?

- Ans
- 1. चूर्ण - चैत्र
 - 2. चंद्र - चाँद
 - 3. छत्र - छत
 - 4. चक्र - चक्का

Q.9 दिए गए विकल्पों में से शब्द 'अमर्त्य' का सही विलोम चुनें -

- Ans
- 1. मर्त्य
 - 2. निष्पक्ष
 - 3. स्वतंत्र
 - 4. नवल

Q.10 निम्नलिखित में से 'नंदोई' का तत्सम बताइए।

- Ans
- 1. ननांदृपति
 - 2. निर्वहण
 - 3. निघाति
 - 4. नखहरण

Q.11 दिए गए विकल्पों में से पर्यायवाची और उसके अर्थों का कौन - सा युग्म गलत है?

- Ans
- 1. अपराध - दोष
 - 2. अधीर - उतावला
 - 3. अपमान - अनादर
 - 4. अपना - पराया

Q.12 निम्नलिखित में से कौन-सा शब्द अनेकार्थी शब्द 'सरस' का अर्थ प्रकट नहीं करता?

- Ans
- 1. रसीला
 - 2. मनोहर
 - 3. कलह
 - 4. मधुर

Q.13 'मधु' शब्द का अनेकार्थी शब्द कौन-सा नहीं है?

- Ans
- 1. शहद
 - 2. पुष्परस
 - 3. प्रेम
 - 4. वसंत

Q.14 'पीयूष' का पर्यायवाची शब्द होगा -

- Ans
- 1. गरल
 - 2. अमृत
 - 3. सलिल
 - 4. उदक

Q.15 नीचे दिये गये वाक्य के किस अंश में त्रुटि है -
'रत्नावली ,नागानंद और प्रियदर्शका हर्ष की रचनाएँ हैं'

- Ans
- 1. प्रियदर्शका
 - 2. रचनाएँ
 - 3. रत्नावली
 - 4. नागानंद

Comprehension:

निम्नांकित प्रश्नों के उत्तर दिये गये गद्यांश के आधार पर दीजिए--

हिंदी कथा-साहित्य के इतिहास में मुंशी प्रेमचंद का आगमन युगांतकारी घटना थी। उन्होंने साहित्य को तिलिस्म और ऐयारी की काल्पनिक दुनिया से बाहर निकालकर जीवन की कठोर सच्चाइयों से जोड़ा। प्रेमचंद के लेखन का मूल आधार 'आदर्शोन्मुख यथार्थवाद' है, जहाँ वे समाज की कुरीतियों, निर्धनता और शोषण का नग्न चित्रण तो करते हैं, किंतु अंत में एक नैतिक विजय की ओर संकेत भी करते हैं। 'गोदान' जैसा कालजयी उपन्यास न केवल कृषक जीवन की त्रासदी है, बल्कि यह तत्कालीन सामंती व्यवस्था पर एक तीखा प्रहार भी है। प्रेमचंद ने अपनी कहानियों और उपन्यासों के माध्यम से दलितों, स्त्रियों और शोषित वर्ग की पीड़ा को स्वर दिया। उनकी भाषा अत्यंत सरल, मुहावरेदार और सजीव है, जो सीधे पाठक के हृदय को स्पर्श करती है। उन्होंने 'कलम के सिपाही' के रूप में आजीवन सामाजिक विषमता के विरुद्ध संघर्ष किया। उनके साहित्य का मुख्य उद्देश्य मनोरंजन मात्र नहीं, बल्कि समाज का बौद्धिक और नैतिक परिष्कार करना था।

SubQuestion No : 16

Q.16 इस गद्यांश के लिए सबसे उपयुक्त शीर्षक क्या होगा?

Comprehension:

निम्नांकित प्रश्नों के उत्तर दिये गये गद्यांश के आधार पर दीजिए--

हिंदी कथा-साहित्य के इतिहास में मुंशी प्रेमचंद का आगमन युगांतकारी घटना थी। उन्होंने साहित्य को तिलिस्म और ऐयारी की काल्पनिक दुनिया से बाहर निकालकर जीवन की कठोर सच्चाइयों से जोड़ा। प्रेमचंद के लेखन का मूल आधार 'आदर्शोन्मुख यथार्थवाद' है, जहाँ वे समाज की कुरीतियों, निर्धनता और शोषण का नग्न चित्रण तो करते हैं, किंतु अंत में एक नैतिक विजय की ओर संकेत भी करते हैं। 'गोदान' जैसा कालजयी उपन्यास न केवल कृषक जीवन की त्रासदी है, बल्कि यह तत्कालीन सामंती व्यवस्था पर एक तीखा प्रहार भी है। प्रेमचंद ने अपनी कहानियों और उपन्यासों के माध्यम से दलितों, स्त्रियों और शोषित वर्ग की पीड़ा को स्वर दिया। उनकी भाषा अत्यंत सरल, मुहावरेदार और सजीव है, जो सीधे पाठक के हृदय को स्पर्श करती है। उन्होंने 'कलम के सिपाही' के रूप में आजीवन सामाजिक विषमता के विरुद्ध संघर्ष किया। उनके साहित्य का मुख्य उद्देश्य मनोरंजन मात्र नहीं, बल्कि समाज का बौद्धिक और नैतिक परिष्कार करना था।

SubQuestion No : 17

Q.17 प्रेमचंद के लेखन की मुख्य विशेषता 'आदर्शोन्मुख यथार्थवाद' से क्या तात्पर्य है?

Comprehension:

निम्नांकित प्रश्नों के उत्तर दिये गये गद्यांश के आधार पर दीजिए--

हिंदी कथा-साहित्य के इतिहास में मुंशी प्रेमचंद का आगमन युगांतकारी घटना थी। उन्होंने साहित्य को तिलिस्म और ऐयारी की काल्पनिक दुनिया से बाहर निकालकर जीवन की कठोर सच्चाइयों से जोड़ा। प्रेमचंद के लेखन का मूल आधार 'आदर्शोन्मुख यथार्थवाद' है, जहाँ वे समाज की कुरीतियों, निर्धनता और शोषण का नग्न चित्रण तो करते हैं, किंतु अंत में एक नैतिक विजय की ओर संकेत भी करते हैं। 'गोदान' जैसा कालजयी उपन्यास न केवल कृषक जीवन की त्रासदी है, बल्कि यह तत्कालीन सामंती व्यवस्था पर एक तीखा प्रहार भी है। प्रेमचंद ने अपनी कहानियों और उपन्यासों के माध्यम से दलितों, स्त्रियों और शोषित वर्ग की पीड़ा को स्वर दिया। उनकी भाषा अत्यंत सरल, मुहावरेदार और सजीव है, जो सीधे पाठक के हृदय को स्पर्श करती है। उन्होंने 'कलम के सिपाही' के रूप में आजीवन सामाजिक विषमता के विरुद्ध संघर्ष किया। उनके साहित्य का मुख्य उद्देश्य मनोरंजन मात्र नहीं, बल्कि समाज का बौद्धिक और नैतिक परिष्कार करना था।

SubQuestion No : 18

Q.18 गद्यांश के अनुसार प्रेमचंद के साहित्य का मुख्य उद्देश्य क्या था?

Comprehension:

निम्नांकित प्रश्नों के उत्तर दिये गये गद्यांश के आधार पर दीजिए--

हिंदी कथा-साहित्य के इतिहास में मुंशी प्रेमचंद का आगमन युगांतकारी घटना थी। उन्होंने साहित्य को तिलिस्म और ऐयारी की काल्पनिक दुनिया से बाहर निकालकर जीवन की कठोर सच्चाइयों से जोड़ा। प्रेमचंद के लेखन का मूल आधार 'आदर्शोन्मुख यथार्थवाद' है, जहाँ वे समाज की कुरीतियों, निर्धनता और शोषण का नग्न चित्रण तो करते हैं, किंतु अंत में एक नैतिक विजय की ओर संकेत भी करते हैं। 'गोदान' जैसा कालजयी उपन्यास न केवल कृषक जीवन की त्रासदी है, बल्कि यह तत्कालीन सामंती व्यवस्था पर एक तीखा प्रहार भी है। प्रेमचंद ने अपनी कहानियों और उपन्यासों के माध्यम से दलितों, स्त्रियों और शोषित वर्ग की पीड़ा को स्वर दिया। उनकी भाषा अत्यंत सरल, मुहावरेदार और सजीव है, जो सीधे पाठक के हृदय को स्पर्श करती है। उन्होंने 'कलम के सिपाही' के रूप में आजीवन सामाजिक विषमता के विरुद्ध संघर्ष किया। उनके साहित्य का मुख्य उद्देश्य मनोरंजन मात्र नहीं, बल्कि समाज का बौद्धिक और नैतिक परिष्कार करना था।

SubQuestion No : 19

Q.19 'गोदान' उपन्यास को गद्यांश में किस रूप में रेखांकित किया गया है?

Comprehension:

निम्नांकित प्रश्नों के उत्तर दिये गये गद्यांश के आधार पर दीजिए--

हिंदी कथा-साहित्य के इतिहास में मुंशी प्रेमचंद का आगमन युगांतकारी घटना थी। उन्होंने साहित्य को तिलिस्म और ऐयारी की काल्पनिक दुनिया से बाहर निकालकर जीवन की कठोर सच्चाइयों से जोड़ा। प्रेमचंद के लेखन का मूल आधार 'आदर्शोन्मुख यथार्थवाद' है, जहाँ वे समाज की कुरीतियों, निर्धनता और शोषण का नग्न चित्रण तो करते हैं, किंतु अंत में एक नैतिक विजय की ओर संकेत भी करते हैं। 'गोदान' जैसा कालजयी उपन्यास न केवल कृषक जीवन की त्रासदी है, बल्कि यह तत्कालीन सामंती व्यवस्था पर एक तीखा प्रहार भी है। प्रेमचंद ने अपनी कहानियों और उपन्यासों के माध्यम से दलितों, स्त्रियों और शोषित वर्ग की पीड़ा को स्वर दिया। उनकी भाषा अत्यंत सरल, मुहावरेदार और सजीव है, जो सीधे पाठक के हृदय को स्पर्श करती है। उन्होंने 'कलम के सिपाही' के रूप में आजीवन सामाजिक विषमता के विरुद्ध संघर्ष किया। उनके साहित्य का मुख्य उद्देश्य मनोरंजन मात्र नहीं, बल्कि समाज का बौद्धिक और नैतिक परिष्कार करना था।

SubQuestion No : 20

Q.20 'युगांतकारी' शब्द का अर्थ गद्यांश के संदर्भ में क्या है?