



GOVT. OF NCT OF DELHI
Delhi Subordinate Services Selection Board
FC-18, Institutional Area, Karkardooma, Delhi – 110092.
www.dsssb.delhigovt.nic.in

Participant Name	Vineet Kumar
Test Center Name	Aadarsh Pariksha Kendra CENTER B - Gate No 2 - Noida Sector 64
Test Date	03/05/2026
Test Time	5:00 PM - 7:00 PM
Subject	Multi Tasking Staff

Section : General intelligence and Reasoning Ability

Q.1 इस प्रश्न में, एक कथन के बाद दो निष्कर्ष दिए गए हैं। ज्ञात कीजिए कि दिए गए कथन के आधार पर कौन-सा/से निष्कर्ष सत्य है/हैं।

कथन : $G < R < A \leq P > E$

निष्कर्ष:

I. $P > R$

II. $E \geq A$

- Ans
- 1. केवल II सत्य है
 - 2. न तो I और न ही II सत्य है
 - 3. I और II दोनों सत्य हैं
 - 4. केवल I सत्य है

Q.2 किसी निश्चित कूट भाषा में, 'HINT' को '5193' के रूप में कूटबद्ध किया जाता है और 'TINY' को '3157' के रूप में कूटबद्ध किया जाता है। दी गई कूट भाषा में 'Y' के लिए कूट क्या होगा?

- Ans
- 1. 5
 - 2. 7
 - 3. 9
 - 4. 1

Q.3 60 व्यक्ति एक पंक्ति में उत्तर की ओर अभिमुख होकर खड़े हैं। तरुण दाएं छोर से 40वें स्थान पर है, जबकि चेतन बाएं छोर से 26वें स्थान पर है। तरुण और चेतन के बीच कितने व्यक्ति हैं?

- Ans
- 1. 2
 - 2. 4
 - 3. 1
 - 4. 3

Q.4 एक पंक्ति में 98 व्यक्ति उत्तर दिशा की ओर अभिमुख होकर खड़े हैं। अवन बाईं ओर से 81वें स्थान पर है जबकि चान दाईं ओर से तीसरे स्थान पर है। अवन और चान के बीच कितने व्यक्ति हैं?

- Ans
- 1. 15
 - 2. 17
 - 3. 14
 - 4. 12

Q.5 एक निश्चित कूट भाषा में,
 A + B का अर्थ है कि 'A, B की माता है'
 A - B का अर्थ है कि 'A, B का भाई है'
 A x B का अर्थ है कि 'A, B की पत्नी है'
 A % B का अर्थ है कि 'A, B का पिता है'
 A # B का अर्थ है कि 'A, B की पुत्री है'
 उपरोक्त के आधार पर, यदि 'T # P x N % K x E' है, तो T का E से क्या संबंध है?

- Ans
- 1. भाई की पत्नी
 - 2. बहन का पति
 - 3. पत्नी की बहन
 - 4. पुत्र की पत्नी

Q.6 वह विकल्प का चयन कीजिए जो दिए गए शब्दों के सही क्रम को दर्शाता है, जैसा कि वे एक अंग्रेज़ी शब्दकोश में दिखाई देंगे।

1. Ephemeral
2. Escaping
3. Established
4. Employer
5. Elective

- Ans
- 1. 2, 1, 5, 4, 3
 - 2. 1, 2, 4, 3, 5
 - 3. 5, 4, 1, 2, 3
 - 4. 1, 2, 5, 4, 3

Q.7 निम्नलिखित अक्षर-प्रतीक श्रृंखला का संदर्भ लीजिए और दिए गए प्रश्न का उत्तर दीजिए। गिनती केवल बाएँ से दाएँ की जानी चाहिए।

(बाएँ) E % H & G U N = U + M @ & L B D # < F C > * Q % K (दाएँ)

ऐसे कितने प्रतीक हैं, जिनमें से प्रत्येक के ठीक पहले एक प्रतीक है और ठीक बाद में एक अक्षर है?

- Ans
- 1. एक
 - 2. चार
 - 3. दो
 - 4. तीन

Q.8 इस प्रश्न में, एक कथन के बाद दो निष्कर्ष दिए गए हैं। ज्ञात कीजिए कि दिए गए कथन के आधार पर कौन-सा/से निष्कर्ष सत्य है/हैं।

कथन : $A \geq M \leq P = L > E$

निष्कर्ष:

- I. $E \leq A$
- II. $L \geq M$

- Ans
- 1. न तो I और न ही II सत्य है
 - 2. I और II दोनों सत्य हैं
 - 3. केवल I सत्य है
 - 4. केवल II सत्य है

Q.9 शब्द FLOUNCE के प्रत्येक स्वर को अंग्रेज़ी वर्णमाला क्रम में उसके ठीक बाद वाले अक्षर से बदल दिया जाता है और प्रत्येक व्यंजन को अंग्रेज़ी वर्णमाला क्रम में उसके ठीक पहले वाले अक्षर से बदल दिया जाता है। इस प्रकार बने अक्षर-समूह में कितने स्वर हैं?

- Ans
- 1. 2
 - 2. 0
 - 3. 3
 - 4. 1

- Q.10 सात व्यक्ति A, B, C, D, E, F और G एक पंक्ति में उत्तर की ओर अभिमुख होकर बैठे हैं। E और D के बीच केवल तीन व्यक्ति बैठे हैं। G, D के ठीक बाईं ओर पड़ोस में बैठा है। C के दाईं ओर कोई नहीं बैठा है। C और G के बीच केवल दो व्यक्ति बैठे हैं। A, F के ठीक दाईं ओर पड़ोस में बैठा है। B के दाईं ओर कितने व्यक्ति बैठे हैं?
- Ans 1.3
 2.4
 3.2
 4.1
- Q.11 किसी निश्चित कूट भाषा में, 'HELP' को '9741' के रूप में कूटबद्ध किया जाता है और 'LEAP' को '6741' के रूप में कूटबद्ध किया जाता है। दी गई कूट भाषा में 'A' के लिए कूट क्या होगा?
- Ans 1.4
 2.9
 3.6
 4.1
- Q.12 सात बॉक्स, A, B, C, D, E, F और G, एक के ऊपर एक रखे गए हैं, लेकिन ज़रूरी नहीं कि वे इसी क्रम में रखे गए हों। C को B के ठीक ऊपर रखा गया है। A को E के ठीक ऊपर रखा गया है। B और E के बीच ठीक 1 बॉक्स रखा गया है। E को C के ऊपर रखा गया है। D के नीचे ठीक 1 बॉक्स रखा गया है। A या F को सबसे ऊपर नहीं रखा गया है। E के नीचे कितने बॉक्स रखे गए हैं?
- Ans 1.3
 2.2
 3.1
 4.4
- Q.13 निम्नलिखित प्रतीक, संख्या श्रृंखला का संदर्भ लीजिए और प्रश्न का उत्तर दीजिए। सभी संख्याएँ एकल अंकीय हैं। (बाएँ) # 3 4 * 1 6 8 \$ 9 5 2 Ω 7 + % (दाएँ)
यदि श्रृंखला से सभी प्रतीकों को हटा दिया जाए, तो निम्नलिखित में से कौन-सा दाईं ओर से सातवां होगा?
- Ans 1.6
 2.5
 3.1
 4.8
- Q.14 एक निश्चित कूट भाषा में, 'LEAP' को '9125' के रूप में और 'PILE' को '3952' के रूप में कूटबद्ध किया गया है। दी गई कूट भाषा में 'I' के लिए कूट क्या है?
- Ans 1.1
 2.3
 3.5
 4.2
- Q.15 नीचे दी गई अक्षर श्रृंखला का संदर्भ लीजिए और प्रश्न का उत्तर दीजिए। (गणना केवल बाएँ से दाएँ ही की जानी है)
(बाएँ) P Q W T A V A B T A X H L T O K W L X T S (दाएँ)
ऐसे कितने स्वर हैं, जिनमें से प्रत्येक के ठीक पहले एक व्यंजन और ठीक बाद में एक स्वर है?
- Ans 1. तीन
 2. एक
 3. एक भी नहीं
 4. दो

Q.16 दिए गए कथनों और निष्कर्षों को ध्यानपूर्वक पढ़िए। यह मानते हुए कि कथनों में दी गई जानकारी सत्य है, भले ही वह सामान्य रूप से ज्ञात तथ्यों से भिन्न प्रतीत होती हो, तय कीजिए कि दिए गए निष्कर्षों में से कौन-से निष्कर्ष कथनों का तार्किक रूप से अनुसरण करते हैं।

कथन: सभी कीवी, केले हैं। कोई नाशपाती, कीवी नहीं है।

निष्कर्ष (I): कुछ नाशपाती, केले हैं।

निष्कर्ष (II): कुछ केले, नाशपाती नहीं हैं।

- Ans
- 1. केवल निष्कर्ष (I) अनुसरण करता है
 - 2. केवल निष्कर्ष (II) अनुसरण करता है
 - 3. न तो निष्कर्ष (I) और न ही (II) अनुसरण करता है
 - 4. निष्कर्ष (I) और (II) दोनों अनुसरण करते हैं

Q.17 P, Q, R, S, X, Y और Z एक गोल मेज के परितः उसके केंद्र की ओर अभिमुख होकर बैठे हैं। X, S के ठीक दाईं ओर पड़ोस में बैठा है। Y, X के दाईं ओर चौथे स्थान पर बैठा है। R और Q का निकटतम पड़ोसी Z है। R, Y का निकटतम पड़ोसी नहीं है। P के दाईं ओर चौथे स्थान पर कौन बैठा है?

- Ans
- 1. Q
 - 2. Z
 - 3. Y
 - 4. X

Q.18 एक निश्चित कूट भाषा में,
A + B का अर्थ है कि 'A, B की माता है'
A - B का अर्थ है कि 'A, B का भाई है'
A # B का अर्थ है कि 'A, B की पुत्री है'
A % B का अर्थ है कि 'A, B का पिता है'
उपरोक्त के आधार पर, यदि 'E # V % Q + T' है, तो E का T से क्या संबंध है?

- Ans
- 1. बहन
 - 2. बहन की पुत्री
 - 3. माता की बहन
 - 4. माता का पिता

Q.19 शब्द FORAGE के प्रत्येक अक्षर को अंग्रेजी वर्णमाला क्रम में व्यवस्थित किया जाता है। इस प्रकार बने नए अक्षर-समूह में, बाईं ओर से दूसरे अक्षर और दाईं ओर से दूसरे अक्षर के बीच अंग्रेजी वर्णमाला क्रम में कितने अक्षर हैं?

- Ans
- 1. 14
 - 2. 9
 - 3. 12
 - 4. 16

Q.20 आदित्य अपनी कक्षा में शीर्ष से 35वें और नीचे से 25वें स्थान पर है। उसकी कक्षा में कुल कितने विद्यार्थी हैं?

- Ans
- 1. 59
 - 2. 57
 - 3. 60
 - 4. 58

Section : General intelligence and Reasoning Ability1

Q.1 यदि 'A' का अर्थ '+' है, 'B' का अर्थ 'x' है, 'C' का अर्थ '+' है और 'D' का अर्थ '-' है, तो निम्नलिखित समीकरण में प्रश्न-चिह्न '?' के स्थान पर क्या आएगा?

$$31 A 14 B 42 C 14 D 21 = ?$$

- Ans
- 1. 86
 - 2. 84
 - 3. 87
 - 4. 88

Q.2 निम्नलिखित संख्या-युग्मों में, पहली संख्या पर निश्चित गणितीय संक्रियाएँ करके दूसरी संख्या प्राप्त की जाती है। उस समुच्चय का चयन कीजिए जिसमें संख्याएँ उसी प्रकार से संबंधित हैं जिस प्रकार से निम्नलिखित समुच्चयों की संख्याएँ संबंधित हैं।

(नोट: संख्याओं को उनके घटक अंकों में तोड़े बिना संक्रियाएँ केवल पूर्ण संख्याओं पर की जानी है। उदाहरण के लिए, 13 लीजिए - 13 पर संक्रियाएँ, जैसे 13 में जोड़ना/घटाना/गुणा करना, की जा सकती हैं। 13 को 1 और 3 में तोड़ना और फिर 1 और 3 पर गणितीय संक्रियाएँ करने की अनुमति नहीं है।)

7, 29
11, 45

- Ans
- 1. 14, 53
 - 2. 13, 53
 - 3. 14, 52
 - 4. 13, 52

Q.3 उस युग्म का चयन कीजिए, जो नीचे दिए गए दो युग्मों के समान पैटर्न का अनुसरण करता है। दोनों युग्म समान पैटर्न का अनुसरण करते हैं।

DCA-CBZ
IHF-HGE

- Ans
- 1. FDA-EDB
 - 2. FDA-DCA
 - 3. FEC-DDA
 - 4. FEC-EDB

Q.4 यदि 'A' का अर्थ '+' है, 'B' का अर्थ 'x' है, 'C' का अर्थ '+' है और 'D' का अर्थ '-' है, तो निम्नलिखित समीकरण में प्रश्न-चिह्न '?' के स्थान पर क्या आएगा?

$$400 C 500 A 5 D 19 B 25 = ?$$

- Ans
- 1. 26
 - 2. 25
 - 3. 24
 - 4. 23

Q.5 नीचे दिए विकल्पों में दी गई उस आकृति को पहचानिए, जिसे प्रश्नवाचक चिह्न (?) के स्थान पर रखने पर शृंखला तार्किक रूप से पूरी हो जाएगी।

\triangle	$=$	$+$	\triangle	\triangle	$+$	$=$	\square	\triangle	$?$
$+$	\square	\square	$=$	$=$	\square	\square	$+$		

Ans

✗ 1.

$+$	\square
\triangle	$=$

✗ 2.

\triangle	\square
$+$	$=$

✗ 3.

\square	\triangle
$+$	$=$

✓ 4.

\square	$=$
$+$	\triangle

Q.6 यदि '+' और '-' को आपस में बदल दिया जाए तथा 'x' और '+' को आपस में बदल दिया जाए, तो निम्नलिखित समीकरण में प्रश्न-चिह्न (?) के स्थान पर क्या आएगा?

$$30 \div 5 + 12 \times 2 - 9 = ?$$

Ans ✗ 1. 159

✓ 2. 153

✗ 3. 171

✗ 4. 201

Q.7 अंग्रेजी वर्णमाला क्रम के आधार पर, निम्नलिखित चार अक्षर-समूह युग्मों में से तीन एक निश्चित तरीके से एकसमान हैं और इस प्रकार वे एक ग्रुप बनाते हैं। कौन-सा अक्षर-समूह युग्म उस ग्रुप से संबंधित नहीं है? (नोट: असंगत अक्षर-समूह युग्म, व्यंजनों/स्वरों की संख्या या उनकी स्थिति पर आधारित नहीं है।)

Ans ✓ 1. DI-AW

✗ 2. OT-LD

✗ 3. VA-SK

✗ 4. EJ-BT

Q.8 उस युग्म का चयन कीजिए जो नीचे दिए गए युग्मों के समान पैटर्न का अनुसरण करता है। दोनों युग्म समान पैटर्न का अनुसरण करते हैं।

NRV-SWA
RVZ-WAE

- Ans
- 1. CFI-HIP
 - 2. CFI-GKO
 - 3. CGK-HLP
 - 4. CGK-GLO

Q.9 दिए गए कथनों और निष्कर्षों को ध्यानपूर्वक पढ़िए। यह मानते हुए कि कथनों में दी गई जानकारी सत्य है, भले ही वह सामान्यतः ज्ञात तथ्यों से भिन्न प्रतीत होती हो, निश्चय कीजिए कि दिए गए निष्कर्षों में से कौन-से निष्कर्ष, कथनों का तार्किक रूप से अनुसरण करते हैं।

कथन: सभी फोर्क, जार हैं। कुछ फोर्क, टोपियाँ हैं।

निष्कर्ष:

(I): कुछ जार, टोपियाँ हैं।

(II): सभी टोपियाँ, फोर्क हैं।

- Ans
- 1. केवल निष्कर्ष (I) अनुसरण करता है
 - 2. केवल निष्कर्ष (II) अनुसरण करता है
 - 3. निष्कर्ष (I) और (II) दोनों अनुसरण करते हैं
 - 4. न तो निष्कर्ष (I) और न ही (II) अनुसरण करता है

Q.10 वर्णानुक्रम पर आधारित निम्नलिखित चार अक्षर समूहों में से तीन अक्षर समूह किसी निश्चित तरीके से समान हैं और इसलिए एक ग्रुप बनाते हैं। कौन-सा अक्षर समूह, उस ग्रुप से संबंधित नहीं है? (नोट: असंगत अक्षर समूह, व्यंजनों/स्वरों की संख्या या उनकी स्थिति पर आधारित नहीं है)

- Ans
- 1. CZA
 - 2. SOQ
 - 3. BXZ
 - 4. AWY

Q.11 यदि '+' और '-' को आपस में बदल दिया जाए तथा 'x' और '÷' को आपस में बदल दिया जाए, तो निम्नलिखित समीकरण में '?' के स्थान पर क्या आएगा?

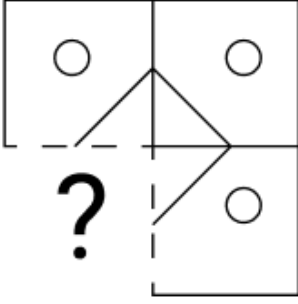
$$48 \times 6 \div 15 - 34 + 25 = ?$$

- Ans
- 1. 130
 - 2. 126
 - 3. 129
 - 4. 128

Q.12 अंग्रेजी वर्णमाला क्रम के आधार पर, एक निश्चित तरीके से OKNS का संबंध UQTY से है। उसी प्रकार से, LHKP का संबंध RNQV से है। समान तर्क का अनुसरण करते हुए, IEHM का संबंध निम्नलिखित में से किससे है?

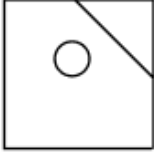
- Ans
- 1. OKSN
 - 2. KOSN
 - 3. OKNS
 - 4. KONS

Q.13 उस विकल्प आकृति का चयन करें जो पैटर्न को पूरा करने के लिए नीचे दी गई आकृति में प्रश्न-चिह्न (?) को प्रतिस्थापित करेगी।

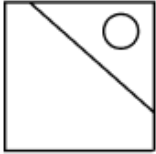


Ans

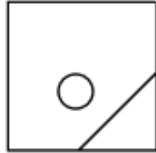
✓ 1.



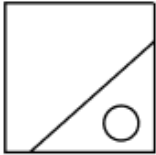
✗ 2.



✗ 3.



✗ 4.



Q.14 कौन-सी संख्या, निम्नलिखित श्रृंखला में प्रश्न-चिह्न (?) के स्थान पर आएगी?
14 15 32 99 ? 2005

Ans ✗ 1. 408

✓ 2. 400

✗ 3. 415

✗ 4. 405

Q.15 निम्नलिखित संख्या-युग्मों में, पहली संख्या पर कुछ गणितीय संक्रियाएँ करके दूसरी संख्या प्राप्त की जाती है। उस समुच्चय का चयन कीजिए जिसमें संख्याएँ उसी प्रकार से संबंधित हैं जिस प्रकार से निम्नलिखित समुच्चयों की संख्याएँ संबंधित हैं।

(नोट: संख्याओं को उनके घटक अंकों में तोड़े बिना संक्रियाएँ केवल पूर्ण संख्याओं पर की जानी है। उदाहरण के लिए, 13 लीजिए - 13 पर संक्रियाएँ, जैसे 13 में जोड़ना/घटाना/गुणा करना, की जा सकती हैं। 13 को 1 और 3 में तोड़ना और फिर 1 और 3 पर गणितीय संक्रियाएँ करने की अनुमति नहीं है।)

4, 23

7, 41

Ans ✗ 1. 10, 58

✗ 2. 11, 58

✗ 3. 11, 59

✓ 4. 10, 59

Q.16 कौन-सी संख्या, निम्नलिखित श्रृंखला में प्रश्न-चिह्न (?) के स्थान पर आएगी?

362 370 306 522 10 ?

- Ans
- 1. 1024
 - 2. 1013
 - 3. 1000
 - 4. 1010

Q.17 उस समुच्चय का चयन कीजिए जिसमें संख्याएं उसी प्रकार संबंधित हैं जिस प्रकार निम्नलिखित समुच्चयों की संख्याएं संबंधित हैं।

(नोट: गणितीय संक्रियाएं, संख्याओं को उनके घटक अंकों में तोड़े बिना, पूर्ण संख्याओं पर की जानी चाहिए। उदाहरण के लिए 13 को लीजिए - 13 पर गणितीय संक्रियाएं जैसे कि 13 को जोड़ना/घटाना/गुणा करना, आदि किया जा सकता है। 13 को 1 और 3 में तोड़ना और फिर 1 और 3 पर गणितीय संक्रियाएं करने की अनुमति नहीं है।)

(13, 12, 156)
(9, 15, 135)

- Ans
- 1. (12, 9, 118)
 - 2. (15, 13, 185)
 - 3. (16, 8, 128)
 - 4. (14, 11, 152)

Q.18 अंग्रेजी वर्णमाला क्रम के आधार पर, निम्नलिखित चार अक्षर-समूह युग्मों में से तीन एक निश्चित तरीके से एकसमान हैं और इस प्रकार वे एक गुप बनाते हैं। कौन-सा अक्षर-समूह युग्म उस गुप से संबंधित नहीं है? (नोट: असंगत अक्षर-समूह युग्म, व्यंजनों/स्वरों की संख्या या उनकी स्थिति पर आधारित नहीं है।)

- Ans
- 1. QT - RU
 - 2. JM - LN
 - 3. EH - FI
 - 4. SV - TW

Q.19 निम्नलिखित श्रृंखला में '?' के स्थान पर क्या आएगा?

54 47 40 33 26 ?

- Ans
- 1. 20
 - 2. 19
 - 3. 18
 - 4. 17

Q.20 यदि 'A' का अर्थ '+' है, 'B' का अर्थ 'x' है, 'C' का अर्थ '-' है और 'D' का अर्थ '÷' है, तो निम्नलिखित समीकरण में प्रश्न-चिह्न '?' के स्थान पर क्या आएगा?

16 B 8 D 14 C 24 A 8 = ?

- Ans
- 1. 115
 - 2. 117
 - 3. 118
 - 4. 119

Section : General Awareness

Q.1 वैश्विक मानव विकास रिपोर्ट तैयार करने के लिए कौन-सा संगठन उत्तरदायी है?

- Ans
- 1. अंतर्राष्ट्रीय मुद्रा कोष
 - 2. संयुक्त राष्ट्र विकास कार्यक्रम
 - 3. एशियाई विकास बैंक कार्यक्रम
 - 4. संयुक्त राष्ट्र पर्यावरण कार्यक्रम

Q.2 काजीरंगा राष्ट्रीय उद्यान किस प्रकार का विश्व धरोहर स्थल है?

- Ans
- 1. प्राकृतिक
 - 2. सांस्कृतिक
 - 3. ऐतिहासिक
 - 4. मिश्रित

Q.3 जनवरी 2026 में आयोजित लोकतंत्र और चुनाव प्रबंधन पर भारत अंतर्राष्ट्रीय सम्मेलन (IICDEM) 2026 में, भारत निर्वाचन आयोग ने चुनाव-संबंधी समेकित जानकारी और सेवाएँ प्रदान करने के लिए अभिकल्पित एक वन-स्टॉप डिजिटल प्लेटफॉर्म का शुभारंभ किया है। इस डिजिटल प्लेटफॉर्म का क्या नाम है?

- Ans
- 1. ECINET
 - 2. वोटरकनेक्ट (VoterConnect)
 - 3. इलेक्टोरलनेट (ElectoralNet)
 - 4. वोटसर्व (VoteServe)

Q.4 बैंकों द्वारा भारतीय रिज़र्व बैंक के पास रखे जाने वाले आवश्यक नकदी आरक्षित अनुपात (CRR) का मुख्य उद्देश्य क्या होता है?

- Ans
- 1. बैंकों की लाभप्रदता सुनिश्चित करना
 - 2. सरकार को ऋण उपलब्ध कराना
 - 3. मुद्रास्फीति दर की गणना करना
 - 4. बैंकिंग प्रणाली में तरलता को नियंत्रित करना

Q.5 किस भारतीय बैडमिंटन खिलाड़ी ने 2026 में थाईलैंड मास्टर्स टूर्नामेंट में अपना पहला BWF सुपर 300 खिताब जीता?

- Ans
- 1. साइना नेहवाल
 - 2. देविका सिहाग
 - 3. अश्विनी चालिहा
 - 4. पी. वी. सिंधु

Q.6 यदि किसी बेकरी में अधिक श्रमिक सम्मिलित होते हैं, परंतु ओवन की संख्या समान रहती है, तो किस प्रकार की उत्पादन लागत में वृद्धि होने की सबसे अधिक संभावना है?

- Ans
- 1. परिवर्ती लागत
 - 2. अवसर लागत
 - 3. अंतर्निहित लागत
 - 4. अपरिवर्ती लागत

Q.7 सितंबर 2025 में, भारत के 15वें उपराष्ट्रपति के रूप में किसने पदभार ग्रहण किया?

- Ans
- 1. जी. परमेश्वरन
 - 2. जगदीप धनखड़
 - 3. सी. पी. राधाकृष्णन
 - 4. बी. सुदर्शन रेड्डी

Q.8 अगस्त 2025 में, कैंसर के इलाज के लिए आर्टिफिशियल इंटेलिजेंस समाधानों को ₹1 करोड़ तक की धनराशि से वित्त पोषित करने के लिए कौन-सी अनुदान योजना शुरू की गई थी?

- Ans
- 1. मेड-एआई पहल (MED-AI Initiative)
 - 2. बायोहेल्थ मिशन (BioHealth Mission)
 - 3. कैच अनुदान कार्यक्रम (CATCH Grant Program)
 - 4. एआई-क्योर अनुदान योजना (AI-Cure Grant Scheme)

Q.9 निम्नलिखित में से कौन 2026 में ICC अंडर-19 पुरुष क्रिकेट विश्व कप के फाइनल में सर्वाधिक व्यक्तिगत स्कोर बनाने वाला रिकॉर्ड धारक बना?

- Ans
- 1. वैभव सूर्यवंशी
 - 2. कनिष्क चौहान
 - 3. अभिज्ञान कुंडू
 - 4. आयुष म्हात्रे

Q.10 स्वदेशी आंदोलन के दौरान बहिष्कार का मुख्य उद्देश्य क्या था?

- Ans
- 1. विदेशी निर्मित वस्तुओं को अस्वीकार करना
 - 2. औपनिवेशिक न्यायालयों का समर्थन करना
 - 3. विदेशी व्यापार को प्रोत्साहित करना
 - 4. ब्रिटिश शिक्षा को बढ़ावा देना

Q.11 जनवरी 2026 में लॉन्च किए गए PANKHUDI पोर्टल का उद्देश्य, निम्नलिखित में से कौन-सा लक्ष्य प्राप्त करना है?

- Ans
- 1. आधुनिक और प्रौद्योगिकी-आधारित पद्धतियों के माध्यम से कृषि उत्पादकता को बढ़ावा देना
 - 2. ग्रामीण और वंचित आबादी के लिए वित्तीय सेवाओं तक अभिगम्यता का विस्तार करना
 - 3. स्मार्ट सिटी पहलों के माध्यम से शहरी अवसंरचना और शासन में सुधार करना
 - 4. महिलाओं और बाल विकास पहलों में समन्वय और पारदर्शिता को प्रबल बनाना

Q.12 मार्च 2026 तक की स्थिति के अनुसार, निम्नलिखित में से कौन-सा संगठन प्रक्षेपण यानों (PSLV, GSLV, LVHM3) को अभिकल्पित करने, विकसित करने और प्रचालित करने के लिए तथा गगनयान प्रोग्राम समेत बड़े अंतरिक्ष मिशनों को पूरा करने के लिए उत्तरदायी है?

- Ans
- 1. भारतीय अंतरिक्ष अनुसंधान संगठन (ISRO)
 - 2. न्यूस्पेस इंडिया लिमिटेड (NSIL)
 - 3. रक्षा अनुसंधान एवं विकास संगठन (DRDO)
 - 4. इंडियन नेशनल सेंटर फॉर स्पेस प्रमोशन एंड ऑथराइजेशन (IN-SPACe)

Q.13 निम्नलिखित में से कौन-सी योजना 2010 में पूर्ववर्ती स्वर्णजयंती ग्रामीण स्वरोजगार योजना (SGSY) का पुनर्गठन करके मिशन-मोड योजना के रूप में शुरू की गई थी?

- Ans
- 1. प्रधानमंत्री जन धन योजना (PMJDY)
 - 2. प्रधानमंत्री आवास योजना (PMAY)
 - 3. महात्मा गांधी राष्ट्रीय ग्रामीण रोजगार गारंटी अधिनियम (MGNREGA)
 - 4. राष्ट्रीय ग्रामीण आजीविका मिशन (DAY-NRLM)

Q.14 1828 में ब्रह्म समाज की स्थापना किसने की थी, जिसने एक सर्वोच्च ईश्वर पर केंद्रित सार्वभौमिक आस्था का पक्ष-समर्थन किया था?

- Ans
- 1. ज्योतिबा फुले
 - 2. राजा राममोहन राय
 - 3. महादेव गोविंद रानाडे
 - 4. दयानंद सरस्वती

Q.15 छठे खेलो इंडिया शीतकालीन खेलों 2026 का आइस स्पोर्ट्स लेग कहाँ आयोजित किया गया था?

- Ans
- 1. गुलमर्ग
 - 2. मनाली
 - 3. जम्मू
 - 4. लेह, लद्दाख

Q.16 1857 में दिल्ली में हुए विद्रोह का नाममात्र और प्रतीकात्मक नेता कौन था?

- Ans
- 1. बख्त खान
 - 2. बहादुर शाह द्वितीय
 - 3. तात्या टोपे
 - 4. नाना साहब

Q.17 वर्ष 2025 में अधिनियमित किस अधिनियम ने MGNREGA को एक नए वैधानिक ढांचे से प्रतिस्थापित किया, जो विकसित भारत 2047 की परिकल्पना के अनुरूप है और ग्रामीण रोजगार गारंटी को प्रति परिवार 125 दिनों तक बढ़ा दिया है?

- Ans
- 1. ग्रामीण आजीविका और ग्रामीण परिसंपत्ति विकास अधिनियम, 2025
 - 2. विकसित भारत-G RAM G अधिनियम, 2025
 - 3. विकसित भारत-ग्रामीण रोजगार सुरक्षा अधिनियम, 2025
 - 4. राष्ट्रीय ग्रामीण रोजगार और अवसंरचना अधिनियम, 2025

Q.18 निम्नलिखित में से किस संगठन की स्थापना 1905 में राष्ट्रीय सेवा के लिए व्यक्तियों को प्रशिक्षित करने हेतु की गई थी?

- Ans
- 1. भारतीय राष्ट्रीय कांग्रेस
 - 2. आर्य समाज
 - 3. सर्वेंट्स ऑफ इंडिया सोसाइटी
 - 4. डेक्कन एजुकेशन सोसाइटी

Q.19 निम्नलिखित में से किसने सहमति आयु अधिनियम, 1891 (Age of Consent Act, 1891) के अधिनियमन में उल्लेखनीय योगदान दिया था?

- Ans
- 1. चौधरी रहमत अली
 - 2. बेहरामजी मालाबारी
 - 3. मुहम्मद इक़बाल
 - 4. लियाकत अली खान

Q.20 यदि किसी देश की GDP में वृद्धि होती है लेकिन विदेशों से प्राप्त उसकी निवल कारक आय अपरिवर्तित रहती है, तो अन्य सभी कारकों को अपरिवर्ती मानते हुए, उसकी GNP में क्या परिवर्तन होगा?

- Ans
- 1. GNP अपरिवर्तित रहेगी
 - 2. GNP में GDP के समान वृद्धि होगी
 - 3. GNP में कमी आएगी
 - 4. GNP अप्रत्याशित रूप से परिवर्तित होगी

Section : General Awareness1

Q.1 ऊर्जा सांख्यिकी भारत 2025 की रिपोर्ट के अनुसार, निम्नलिखित में से राज्यों के किस समूह का, मार्च 2024 तक की स्थिति के अनुसार भारत की कुल अनुमानित नवीकरणीय ऊर्जा क्षमता में 52% से अधिक योगदान है?

- Ans
- 1. राजस्थान, गुजरात, मध्य प्रदेश और तमिलनाडु
 - 2. महाराष्ट्र, कर्नाटक, आंध्र प्रदेश और तेलंगाना
 - 3. राजस्थान, महाराष्ट्र, गुजरात और कर्नाटक
 - 4. तमिलनाडु, आंध्र प्रदेश, गुजरात और कर्नाटक

Q.2 निम्नलिखित में से कौन-सी पृष्ठीय विशेषता भारत के थार मरुस्थल से सबसे विशिष्ट रूप से संबंधित है?

- Ans
- 1. बालू टिब्बों से आच्छादित तरंगित बलुआ मैदान
 - 2. बारहमासी जल निकासों वाली कच्छीय निम्नभूमि
 - 3. प्रकीर्ण बजरी वाले चट्टानी मैदान
 - 4. कंकड़ और चट्टानों वाला पथरीला मरुस्थल मैदान

Q.3 राष्ट्रीय स्वास्थ्य प्रोफाइल (2023) के अनुसार, 2017-2019 के दौरान भारत में निम्नलिखित में से कौन-सा रोग, सर्वाधिक मृत्यु का कारण बना?

- Ans
- 1. पाचन रोग
 - 2. दुर्मति और अन्य अर्बुद
 - 3. श्वसन रोग
 - 4. हृद् वाहिकीय रोग

Q.4 मानव अंतःसावी तंत्र में, हार्मोनल विनियमन में फीडबैक तंत्र से क्या तात्पर्य है?

- Ans
- 1. लक्षित ऊतकों से प्राप्त संकेतों द्वारा हार्मोन साव का नियमन
 - 2. किसी भी शारीरिक स्थिति में हार्मोन का अपरिवर्ती दर से साव
 - 3. ग्रंथियों के आकार के आधार पर निर्धारित हार्मोन का उत्पादन
 - 4. बिना किसी नियामक नियंत्रण के हार्मोनों का साव

Q.5 पादपों में प्रकाश संश्लेषण मुख्य रूप से कहाँ होता है?

- Ans
- 1. केवल तना ऊतकों में
 - 2. पर्ण कोशिकाओं के हरितलवकों में
 - 3. केवल पुष्पों में
 - 4. पादपों की जड़ों में

Q.6 अंतर्राष्ट्रीय नवीकरणीय ऊर्जा एजेंसी (IRENA) द्वारा प्रकाशित नवीकरणीय ऊर्जा सांख्यिकी 2024 के अनुसार, वैश्विक स्तर पर समग्र नवीकरणीय ऊर्जा स्थापित क्षमता में भारत का स्थान क्या है?

- Ans
- 1. पांचवां
 - 2. तीसरा
 - 3. चौथा
 - 4. छठा

Q.7 हालांकि भारतीय संविधान में मौलिक अधिकार मुख्यतः न्यायालयों द्वारा प्रवर्तनीय हैं, मौलिक कर्तव्यों का एक अद्वितीय पहलू क्या है?

- Ans
- 1. मौलिक कर्तव्यों के लिए न्यायालय से पूर्व अनुमोदन की आवश्यकता होती है।
 - 2. मौलिक कर्तव्य कानूनी रूप से प्रवर्तनीय होते हैं।
 - 3. मौलिक कर्तव्य संवैधानिक उपचार प्रदान करते हैं।
 - 4. मौलिक कर्तव्य कानूनी रूप से प्रवर्तनीय नहीं होते हैं।

Q.8 जब पादप के कलम को जल में रखा जाता है तो प्रायः तने से मूलें निकल आती हैं, जिससे पादप पोषक तत्वों को अवशोषित करता है। इन विकसित नए मूलों को क्या कहा जाता है?

- Ans
- 1. अवस्तंभ मूल
 - 2. झकड़ा मूल
 - 3. मूसला मूल
 - 4. अपस्थानिक मूल

Q.9 कौन-सी भारतीय भाषा, द्रविड़ भाषा परिवार से संबंधित है?

- Ans
- 1. मराठी
 - 2. तमिल
 - 3. हिंदी
 - 4. बंगाली

Q.10 निम्नलिखित में से कौन-सा क्षेत्र गुवाहाटी उच्च न्यायालय के क्षेत्रीय क्षेत्राधिकार के अंतर्गत नहीं आता है?

- Ans
- 1. सिक्किम राज्य
 - 2. नागालैंड राज्य
 - 3. मिजोरम राज्य
 - 4. असम राज्य

Q.11 न्याय के हित में, कौन-सा अनुच्छेद सर्वोच्च न्यायालय को एक उच्च न्यायालय से दूसरे उच्च न्यायालय में मामलों को स्थानांतरित करने की शक्ति देता है?

- Ans
- 1. अनुच्छेद 32
 - 2. अनुच्छेद 129
 - 3. अनुच्छेद 131
 - 4. अनुच्छेद 139A

Q.12 विटामिन E की कमी से मनुष्यों में सबसे अधिक कौन-सी स्वास्थ्य समस्या उत्पन्न होती है?

- Ans
- 1. नर और मादा में प्रजनन विफलता
 - 2. रिकेट्स जिससे अस्थियां कमजोर और निम्न खनिजयुक्त बनती हैं
 - 3. स्कर्वी जिससे मसूड़ों में रक्तस्राव होता है और घाव देर से भरते हैं
 - 4. रतौंधी जिससे मंद प्रकाश में देखने में कठिनाई होती है

Q.13 किन परिस्थितियों में आवागमन की स्वतंत्रता के अधिकार को प्रतिबंधित किया जा सकता है?

- Ans
- 1. सार्वजनिक व्यवस्था
 - 2. आंतरिक प्रवास
 - 3. आर्थिक स्थितियां
 - 4. धार्मिक मान्यताएं

Q.14 भारत में 2014 के आसपास, निम्नलिखित में से किस भाषा को शास्त्रीय भाषा का दर्जा दिया गया था?

- Ans
- 1. पंजाबी
 - 2. मराठी
 - 3. गुजराती
 - 4. ओडिया

Q.15 निम्नलिखित में से कौन-सी भाषा केरल की प्रमुख भाषा है?

- Ans
- 1. तमिल
 - 2. कन्नड़
 - 3. तेलुगु
 - 4. मलयालम

Q.16 भारत में, नर्मदा घाटी के ठीक दक्षिण में स्थित और दक्कन के पठार की उत्तरी सीमा बनाने वाली पर्वतमाला कौन-सी है?

- Ans
- 1. पश्चिमी घाट
 - 2. सतपुड़ा पर्वतमाला
 - 3. पूर्वी घाट
 - 4. अरावली पर्वतमाला

Q.17 गर्भगृह के ठीक सामने स्थित स्तंभों वाला हॉल, जिसका उपयोग सामूहिक पूजा और अनुष्ठानों के लिए किया जाता है, _____ कहलाता है और यह नागर और द्रविड़ दोनों मंदिरों की समान विशेषता है।

- Ans
- 1. अन्तराल (Antarala)
 - 2. मंडप (Mandapa)
 - 3. गोपुरम (Gopuram)
 - 4. जगमोहन (Jagamohana)

Q.18 निम्नलिखित में से कौन-सा न्यायालय अपनी भूभागीय अधिकारिता में कार्यरत अधीनस्थ न्यायालयों के निर्णयों के विरुद्ध अपील सुन सकता है?

- Ans
- 1. भारत के महान्यायवादी
 - 2. सर्वोच्च न्यायालय
 - 3. उच्च न्यायालय
 - 4. भारत के महान्यायवादी और सर्वोच्च न्यायालय दोनों

Q.19 राजा मान सिंह द्वारा कौन-सा किला बनाया गया था जो जयपुर में UNESCO विश्व धरोहर स्थल है?

- Ans
- 1. जैसलमेर किला
 - 2. चित्तौड़गढ़ किला
 - 3. आमेर किला
 - 4. लाल किला

Q.20 प्रकाश संश्लेषण की प्रक्रिया के दौरान, कार्बन डाइऑक्साइड के अंतर्ग्रहण और प्रकाश ऊर्जा को रासायनिक ऊर्जा में परिवर्तित करने के लिए पादप घटकों का कौन-सा युग्म सबसे आवश्यक है?

- Ans
- 1. रंध्र और हरितलवक जो मिलकर कार्य करते हैं
 - 2. उपत्वचा और तना जो जल की हानि को रोकते हैं
 - 3. शिराएँ और मूल रोम जो खनिजों का अवशोषण करते हैं
 - 4. दल (Petals) और बाह्यदल (Sepals) जो परागणकों को आकर्षित करते हैं

Section : Arithmetical and Numerical Ability

Q.1 निम्नलिखित में से कौन-सी संख्या 8 से पूरी तरह से विभाज्य है?

- Ans
- 1. 85332
 - 2. 58332
 - 3. 52832
 - 4. 82532

Q.2 किसी वस्तु को ₹120 में बेचने पर, एक व्यक्ति को 40% की हानि होती है। 15% का लाभ प्राप्त करने के लिए उसे इस वस्तु को किस कीमत (₹ में) पर बेचना चाहिए?

- Ans
- 1. 220
 - 2. 250
 - 3. 230
 - 4. 240

Q.3 एक धनराशि एक बैंक में जमा की जाती है जो 10% वार्षिक ब्याज दर प्रदान करता है। दो वर्षों में अर्जित ब्याज का निरपेक्ष अंतर, जब ब्याज क्रमशः वार्षिक और अर्ध-वार्षिक रूप से संयोजित होता है, ₹1376.50 है। जमा की गई धनराशि ज्ञात कीजिए। (अपना उत्तर निकटतम सौ रुपये में पूर्णांकित कीजिए)

- Ans
- 1. 2,75,000
 - 2. 2,25,000
 - 3. 2,00,000
 - 4. 2,50,000

Q.4 7 संख्याओं का औसत 59 है। यदि प्रत्येक संख्या में से 5 घटा दिया जाए, तो नया औसत कितना होगा?

- Ans
- 1. 7
 - 2. 49
 - 3. 54
 - 4. 59

Q.5 किसी संख्या में पहले 20% की वृद्धि की जाती है और फिर 10% की कमी की जाती है। इसका परिणाम 108 आता है। मूल संख्या ज्ञात कीजिए।

- Ans
- 1. 100
 - 2. 95
 - 3. 110
 - 4. 90

Q.6 वह अवधि (वर्ष में) ज्ञात कीजिए जिसमें ₹1,300 की राशि 20% वार्षिक साधारण ब्याज दर पर ₹2,340 हो जाएगी।

- Ans 1.4
 2.3
 3.6
 4.5

Q.7 नीचे दी गई तालिका में चार भिन्न क्षेत्रों में चार अलग-अलग उत्पादों P, Q, R और S की बिक्री दर्शाई गई है।

क्षेत्र	P	Q	R	S
पूर्व	240	180	150	200
पश्चिम	120	180	200	160
उत्तर	180	160	150	200
दक्षिण	140	200	190	180

सभी क्षेत्रों में उत्पाद R की कुल बिक्री कितनी है?

- Ans 1. 640
 2. 690
 3. 675
 4. 705

Q.8 वर्तमान से चार वर्ष पहले, A, B और C की औसत आयु 58 वर्ष थी। वर्तमान से चार वर्ष बाद, A और C की औसत आयु 73 वर्ष होगी। वर्तमान से छह वर्ष बाद, B की आयु (वर्षों में) कितनी होगी?

- Ans 1. 55
 2. 58
 3. 54
 4. 57

Q.9 एक शर्ट की कीमत में पहले 35% की वृद्धि की जाती है और फिर 20% की कमी की जाती है। इसकी कीमत में कुल प्रतिशत परिवर्तन कितना है?

- Ans 1. 8% की वृद्धि
 2. 8% की कमी
 3. 12% की कमी
 4. 12% की वृद्धि

Q.10 किसी कक्षा में 15 लड़कों के औसत अंक 60 हैं और 25 लड़कियों के औसत अंक 72 हैं। संपूर्ण कक्षा का औसत अंक ज्ञात कीजिए।

- Ans 1. 67.5
 2. 66
 3. 68
 4. 65.5

Q.11 निम्नलिखित बार ग्राफ एक सप्ताह के पांच दिनों में विभिन्न उपकरणों पर विद्यार्थियों के एक समूह के स्क्रीन टाइम घंटों को दर्शाता है।

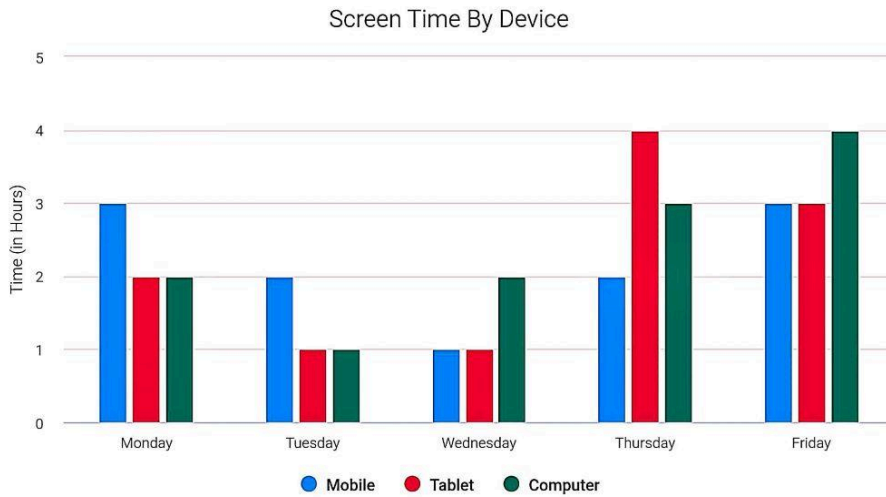


Image Reference:

डिवाइस द्वारा स्क्रीन टाइम = Screen Time by Device

समय (घंटों में) = Time (in hours)

सोमवार = Monday

मंगलवार = Tuesday

बुधवार = Wednesday

गुरुवार = Thursday

शुक्रवार = Friday

मोबाइल = Mobile

कंप्यूटर = Computer

टैबलेट = Tablet

सप्ताह के 5 दिनों के दौरान, कुल कितने घंटों तक मोबाइल देखा गया है?

- Ans
- ✓ 1.11 घंटे
 - ✗ 2.8 घंटे
 - ✗ 3.13 घंटे
 - ✗ 4.10 घंटे

Q.12 $\frac{(2^3 \times 3^4 \times 3^3)}{(2^1 \times 3^1 \times 3^2)}$ को सरल कीजिए।

- Ans
- ✓ 1.324
 - ✗ 2.364
 - ✗ 3.332
 - ✗ 4.323

Q.13 एक विद्यार्थी ने गणित में 90 अंक (भारांक 50%), विज्ञान में 70 अंक (भारांक 30%) और अंग्रेजी में 60 अंक (भारांक 20%) प्राप्त किए। विद्यार्थी का कुल भारित औसत अंक कितना है?

- Ans
- ✓ 1.78
 - ✗ 2.80
 - ✗ 3.75
 - ✗ 4.82

Q.14 24 और 99 के HCF और LCM का गुणनफल ज्ञात कीजिए।

- Ans
- 1. 2366
 - 2. 2386
 - 3. 2396
 - 4. 2376

Q.15 एक बैंक 6.5% वार्षिक चक्रवृद्धि ब्याज देता है, जिसकी गणना छमाही आधार पर की जाती है। एक ग्राहक एक वर्ष की प्रत्येक 1 जनवरी और प्रत्येक 1 जुलाई को ₹9,552 जमा करता है। वर्ष के अंत में, उसे ब्याज के रूप में कितनी राशि प्राप्त होगी? [उत्तर को दशमलव के 2 स्थानों तक पूर्णांकित करें।]

- Ans
- 1. ₹952.46
 - 2. ₹930.58
 - 3. ₹941.41
 - 4. ₹958.28

Q.16 एक व्यक्ति किसी फिन्टेक बचत योजना में ₹40,000 का निवेश करता है, जो 5% वार्षिक की दर से चक्रवृद्धि ब्याज प्रदान करती है, जहां ब्याज वार्षिक रूप से संयोजित होता है। यदि 3 वर्षों के अंत में प्राप्त कुल राशि ₹46,305 है, तो निवेश पर अर्जित कुल ब्याज (₹ में) कितना है?

- Ans
- 1. 6,400
 - 2. 6,305
 - 3. 6,100
 - 4. 6,500

Q.17 किसी वस्तु को ₹120 में बेचने पर एक व्यक्ति को 40% की हानि होती है। 26% का लाभ अर्जित करने के लिए उसे वह वस्तु किस मूल्य (₹ में) पर बेचनी चाहिए?

- Ans
- 1. 242
 - 2. 262
 - 3. 252
 - 4. 272

Q.18 9.90909... के समतुल्य भिन्न है।

- Ans
- 1. $\frac{99}{8}$
 - 2. $\frac{109}{11}$
 - 3. $\frac{100}{9}$
 - 4. $\frac{117}{5}$

Q.19 किसी संख्या में $87\frac{1}{2}\%$ की कमी करने पर 697 प्राप्त होता है। वह संख्या ज्ञात कीजिए।

- Ans
- 1. 6076
 - 2. 5576
 - 3. 5432
 - 4. 5836

Q.20 एक संख्या में पहले 20% की वृद्धि की जाती है और फिर 20% की कमी की जाती है। संख्या में शुद्ध प्रतिशत परिवर्तन कितना है?

- Ans
- 1. 4% की कमी
 - 2. 5% की कमी
 - 3. 3% की वृद्धि
 - 4. कोई परिवर्तन नहीं

Section : Arithmetical and Numerical Ability1

Q.1 यदि अंकित मूल्य पर, 35% की छूट तथा 20% और 15% की दो क्रमिक छूट के बाद विक्रय मूल्य का अंतर ₹90 है, तो अंकित मूल्य (₹ में) ज्ञात कीजिए।

- Ans
- 1. ₹2,800
 - 2. ₹3,000
 - 3. ₹2,000
 - 4. ₹2,400

Q.2 एक शंकु की त्रिज्या 7 cm और ऊंचाई 21 cm है। इसका आयतन ज्ञात कीजिए। ($\pi = 22/7$ मानिए)

- Ans
- 1. 1078 cm³
 - 2. 1708 cm³
 - 3. 1088 cm³
 - 4. 1178 cm³

Q.3 पाइप A किसी टैंक को 8 घंटे में भर सकता है, और पाइप B उसे 12 घंटे में भरा सकता है। दोनों पाइप एक साथ खोले जाते हैं, लेकिन 2 घंटे बाद, पाइप A को बंद कर दिया जाता है जबकि पाइप B को खुला रखा जाता है तथा 1 और घंटे बाद, पाइप C को खोला जाता है, जिसकी दक्षता, पाइप A से $33\frac{1}{3}\%$ कम होती है। पाइप B और पाइप C दोनों को एक साथ खोले जाने पर शेष टैंक को भरने में कितना समय लगेगा?

- Ans
- 1. 3.6 घंटे
 - 2. 3 घंटे
 - 3. 2 घंटे
 - 4. 2.8 घंटे

Q.4 एक जैसी 15 किताबों की कीमत ₹4,500 है। ऐसी ही 24 किताबों की कीमत ज्ञात कीजिए।

- Ans
- 1. ₹6,800
 - 2. ₹8,400
 - 3. ₹6,000
 - 4. ₹7,200

Q.5 16 और 144 के बीच माध्यानुपाती ज्ञात कीजिए।

- Ans
- 1. 56
 - 2. 64
 - 3. 48
 - 4. 42

Q.6 यदि $3.7 : 44.4 :: 5.2 : x$ है, तो x का मान ज्ञात कीजिए।

- Ans
- 1. 60.2
 - 2. 62.4
 - 3. 64.8
 - 4. 58.4

Q.7 किसी वस्तु का अंकित मूल्य ₹2000 है और उस पर 10% की छूट प्रदान की गई है। उसका विक्रय मूल्य ज्ञात कीजिए।

- Ans
- 1. ₹1800
 - 2. ₹1700
 - 3. ₹1850
 - 4. ₹1750

Q.8 4 श्रमिकों की एक टीम एक कार्य को 6 दिनों में पूरा कर सकती है। यदि केवल दो श्रमिक उपलब्ध हों, तो उन्हें उसी कार्य को पूरा करने में कितने दिन लगेंगे?

- Ans
- 1. 10 दिन
 - 2. 8 दिन
 - 3. 12 दिन
 - 4. 6 दिन

Q.9 तीन संख्याएं 2 : 3 : 4 अनुपात में हैं। यदि इनके वर्गों का योग 116 है, तो उन संख्याओं का योग कितना है?

- Ans
- 1. 20
 - 2. 15
 - 3. 9
 - 4. 18

Q.10 कोई बस, 120 km दूरी वाली यात्रा के पहले आधे भाग को 30 km/h की चाल से तय करती है। यदि संपूर्ण यात्रा के दौरान उसकी औसत चाल 45 km/h है, तो यात्रा के दूसरे आधे भाग के दौरान वह कितनी चाल बनाए रखती है?

- Ans
- 1. 40 km/h
 - 2. 60 km/h
 - 3. 90 km/h
 - 4. 50 km/h

Q.11 कोई आदमी, एकसमान चाल से किसी निश्चित दूरी को तय करता है। यदि उसकी चाल 8 km/h अधिक होती, तो उसे 2 घंटे कम लगते। यदि उसकी चाल 6 km/h कम होती, तो उसे 3 घंटे अधिक लगते। उसकी मूल चाल ज्ञात कीजिए।

- Ans
- 1. 25 km/h
 - 2. 18 Km/h
 - 3. 20 km/h
 - 4. 23 km/h

Q.12 रवि किसी कार्य को 20 दिनों में पूरा कर सकता है और श्याम उसी कार्य को 30 दिनों में पूरा कर सकता है। यदि वे दोनों मिलकर कार्य करें, तो कार्य कितने दिनों में पूरा हो जाएगा?

- Ans
- 1. 12 दिन
 - 2. 15 दिन
 - 3. 20 दिन
 - 4. 18 दिन

Q.13 6 व्यक्तियों का एक समूह किसी कार्य को 12 दिन में पूरा कर सकता है। यदि 4 दिन तक कार्य करने के बाद, 2 व्यक्ति कार्य छोड़ देते हैं, तो शेष कार्य को पूरा करने में कितने और दिन लगेंगे?

- Ans
- 1. 12 दिन
 - 2. 8 दिन
 - 3. 14 दिन
 - 4. 10 दिन

Q.14 रवि शहर A से शहर B तक 100 km की दूरी 40 km/h की चाल से तय करता है, फिर शहर B से शहर C तक 140 km की दूरी प्रारंभिक चाल की 1.5 गुना चाल से तय करता है। वापसी यात्रा में, वह 140 km की दूरी 40 km/h की चाल से और अंतिम 100 km की दूरी इस चाल की आधी चाल से तय करता है। पूरी यात्रा के लिए उसकी औसत चाल कितनी है?

- Ans
- 1. 60 km/h
 - 2. 56 km/h
 - 3. 36 km/h
 - 4. 48 km/h

Q.15 14 cm त्रिज्या और 32 cm लंबाई वाले तांबे के एक ठोस बेलन को पिघलाकर, 4 mm त्रिज्या वाले एकसमान बेलनाकार तार में ढाला जाता है। यदि कोई मशीन इस तार को 50 मीटर प्रति मिनट की दर से ढालती है, तो पूरे तार को ढालने में लगने वाला कुल समय ज्ञात कीजिए।

- Ans
- 1. 7.84 मिनट
 - 2. 8.16 मिनट
 - 3. 7.20 मिनट
 - 4. 6.42 मिनट

Q.16 एक कार 3 घंटे में 150 km की दूरी तय करती है। यदि कार अपनी चाल में 10 km/h की वृद्धि कर देती है, तो उसे समान दूरी तय करने में कितना समय लगेगा?

- Ans
- 1. 2.0 घंटे
 - 2. 3.0 घंटे
 - 3. 3.5 घंटे
 - 4. 2.5 घंटे

Q.17 किसी उत्पाद पर 61% का लाभ प्राप्त होता है। यदि क्रय मूल्य और विक्रय मूल्य को परस्पर बदल दिया जाए, तो बिक्री पर हानि प्रतिशत (दो दशमलव स्थानों तक पूर्णांकित) ज्ञात कीजिए।

- Ans
- 1. 36.11%
 - 2. 37.89%
 - 3. 38.76%
 - 4. 41.45%

Q.18 एक दीवार का आयतन $31,104 \text{ cm}^3$ है। इसकी ऊँचाई, इसकी चौड़ाई से छह गुनी है और इसकी लंबाई, इसकी ऊँचाई की आधी है। दीवार की चौड़ाई ज्ञात कीजिए।

- Ans
- 1. 14 cm
 - 2. 7 cm
 - 3. 11 cm
 - 4. 12 cm

Q.19 किसी शंकु की त्रिज्या 3.5 cm और तिर्यक ऊँचाई 15 cm है। इसका वक्र पृष्ठीय क्षेत्रफल ज्ञात कीजिए। ($\pi = 3.14$ लीजिए)

- Ans
- 1. 186.27 cm^2
 - 2. 164.85 cm^2
 - 3. 154.75 cm^2
 - 4. 144.23 cm^2

Q.20 एक पुस्तक दुकान का मालिक एक पुस्तक का मूल्य 40% अधिक अंकित करता है और फिर अंकित मूल्य पर 25% की छूट देता है। यदि दुकानदार फिर भी प्रत्येक पुस्तक पर ₹100 का लाभ अर्जित करता है, तो पुस्तक का क्रय मूल्य ज्ञात कीजिए।

- Ans
- 1. ₹2,500
 - 2. ₹2,200
 - 3. ₹2,000
 - 4. ₹1,800

Section : Test of English Language and Comprehension

Q.1 Complete the following sentence by using correct option.

Meera responded _____ to the criticism, maintaining her composure throughout the discussion.

- Ans
- 1. impulsively
 - 2. sarcastically
 - 3. defensively
 - 4. calmly

Q.2 The following sentence has been divided into different segments. Rearrange all the segments A - D, to form a coherent sentence.

(A) Mujib chased the thief across the roofs (B) although he was afraid of heights, (C) to nab him and retrieve the stolen jewels (D) of several houses, which helped the police⁵²¹⁹

- Ans
- 1. ACDB
 - 2. BADC
 - 3. ADCB
 - 4. CBAD

Q.3 Fill in the blank with a suitable article.

It was ___ honor to meet the soldiers at the Indian army camps.¹⁰⁶³

- Ans
- 1. no article
 - 2. a
 - 3. the
 - 4. an

Q.4 Identify the error in the following sentence and choose the correct revision from the given options.

He don't like chocolate.

- Ans
- 1. He don't likes chocolate.
 - 2. He haven't like chocolate.
 - 3. He doesn't like chocolate.
 - 4. He not likes chocolate.

Q.5 Choose the correct option to complete the sentence.

"Rohit faced a _____ challenge while implementing the new system."

- Ans
- 1. predictable
 - 2. formidable
 - 3. routine
 - 4. simple

Q.6 Rectify the sentence by selecting the correct option to replace the underlined word from the options given below.

Either the teacher or the students was responsible for cleaning the classroom.

- Ans
- 1. am
 - 2. are
 - 3. has been
 - 4. is

Q.7 Select the most appropriate word for the blank in the sentence given below:

She ___ breakfast when I arrived. 4473

- Ans
- 1. is eating
 - 2. are eating
 - 3. were eating
 - 4. was eating

Q.8 Select the most appropriate word for the blank in the sentence given below.

The ___ dog barked at the strangers approaching the house. 4389

- Ans
- 1. bright
 - 2. brave
 - 3. soft
 - 4. fluffy

Q.9 Rectify the sentence by selecting the correct option to replace the underlined word.

The secret was kept behind close friends to avoid any misunderstandings.4227

- Ans
- 1. among
 - 2. before
 - 3. of
 - 4. around

Q.10 Fill in the blank with the most suitable option.

Police are searching for _____ boy.

1181

- Ans
- 1. an eight-year-old
 - 2. some eight years old
 - 3. eight-year-old
 - 4. a eight-year-old

Q.11 Which of the following words completes the statement and makes a grammatically and contextually correct sentence?

Sanjukta wore a/an ___ dress to the party.

- Ans
- 1. sour
 - 2. vacant
 - 3. industrial
 - 4. elegant

Q.12 In the given question, a statement is divided into different segments. Rearrange all the segments to form a coherent statement.

of its global production (A)/ has led to an increase (B)/ in just over 20 years (C)/ the soaring demand for avocados (D)

- Ans
- 1. CADB
 - 2. ABCD
 - 3. DBAC
 - 4. BDAC

Q.13 Select the most appropriate option to fill in the blank.

After years of training, he finally earned ___ title of Grandmaster in chess.1394

- Ans
- 1. an
 - 2. the
 - 3. a
 - 4. none

Q.14 Choose the appropriate option to correct the sentence. The incorrect part of the sentence is highlighted in bold.

There isn't **less** food to last us all for the entire week.

- Ans
- 1. lots of
 - 2. most
 - 3. enough
 - 4. many

Q.15 Fill in the blank choosing the right one from the given options:

My uncle has an appointment with ___ Prime Minister of India.1386

- Ans
- 1. an
 - 2. a
 - 3. the
 - 4. no article

Comprehension:

Read the below passage carefully and answer the questions that follow.

Every evening the old railway platform glows with a peculiar charm that no timetable can measure. Commuters line the benches with tired shoulders, yet their faces soften as vendors light lanterns and brew tea in dented kettles. The air smells of cardamom and warm metal. A bookseller spreads second-hand paperbacks on a cloth, arranging them like fragile treasures. Children chase each other between pillars while grandparents guard luggage with watchful pride. Trains arrive with thunderous brakes, then depart, carrying fragments of conversation into darkness. Despite the noise, the platform fosters unexpected friendships; strangers exchange stories about missed connections and future plans. I often linger after my train has gone, simply to observe this temporary society forming and dissolving repeatedly. The place proves that travel is not merely movement between stations but a collection of brief human encounters that colour the journey more vividly than destinations themselves. It never feels ordinary.

SubQuestion No : 16

Q.16 Identify the suitable title for the passage.

Comprehension:

Read the below passage carefully and answer the questions that follow.

Every evening the old railway platform glows with a peculiar charm that no timetable can measure. Commuters line the benches with tired shoulders, yet their faces soften as vendors light lanterns and brew tea in dented kettles. The air smells of cardamom and warm metal. A bookseller spreads second-hand paperbacks on a cloth, arranging them like fragile treasures. Children chase each other between pillars while grandparents guard luggage with watchful pride. Trains arrive with thunderous brakes, then depart, carrying fragments of conversation into darkness. Despite the noise, the platform fosters unexpected friendships; strangers exchange stories about missed connections and future plans. I often linger after my train has gone, simply to observe this temporary society forming and dissolving repeatedly. The place proves that travel is not merely movement between stations but a collection of brief human encounters that colour the journey more vividly than destinations themselves. It never feels ordinary.

SubQuestion No : 17

Q.17 Identify the facts given in the passage.

Comprehension:

Read the below passage carefully and answer the questions that follow.

Every evening the old railway platform glows with a peculiar charm that no timetable can measure. Commuters line the benches with tired shoulders, yet their faces soften as vendors light lanterns and brew tea in dented kettles. The air smells of cardamom and warm metal. A bookseller spreads second-hand paperbacks on a cloth, arranging them like fragile treasures. Children chase each other between pillars while grandparents guard luggage with watchful pride. Trains arrive with thunderous brakes, then depart, carrying fragments of conversation into darkness. Despite the noise, the platform fosters unexpected friendships; strangers exchange stories about missed connections and future plans. I often linger after my train has gone, simply to observe this temporary society forming and dissolving repeatedly. The place proves that travel is not merely movement between stations but a collection of brief human encounters that colour the journey more vividly than destinations themselves. It never feels ordinary.

SubQuestion No : 18

Q.18 Identify the central theme of the passage.

Comprehension:

Read the below passage carefully and answer the questions that follow.

Every evening the old railway platform glows with a peculiar charm that no timetable can measure. Commuters line the benches with tired shoulders, yet their faces soften as vendors light lanterns and brew tea in dented kettles. The air smells of cardamom and warm metal. A bookseller spreads second-hand paperbacks on a cloth, arranging them like fragile treasures. Children chase each other between pillars while grandparents guard luggage with watchful pride. Trains arrive with thunderous brakes, then depart, carrying fragments of conversation into darkness. Despite the noise, the platform fosters unexpected friendships; strangers exchange stories about missed connections and future plans. I often linger after my train has gone, simply to observe this temporary society forming and dissolving repeatedly. The place proves that travel is not merely movement between stations but a collection of brief human encounters that colour the journey more vividly than destinations themselves. It never feels ordinary.

SubQuestion No : 19

Q.19 Identify the tone of the passage.

Comprehension:

Read the below passage carefully and answer the questions that follow.

Every evening the old railway platform glows with a peculiar charm that no timetable can measure. Commuters line the benches with tired shoulders, yet their faces soften as vendors light lanterns and brew tea in dented kettles. The air smells of cardamom and warm metal. A bookseller spreads second-hand paperbacks on a cloth, arranging them like fragile treasures. Children chase each other between pillars while grandparents guard luggage with watchful pride. Trains arrive with thunderous brakes, then depart, carrying fragments of conversation into darkness. Despite the noise, the platform fosters unexpected friendships; strangers exchange stories about missed connections and future plans. I often linger after my train has gone, simply to observe this temporary society forming and dissolving repeatedly. The place proves that travel is not merely movement between stations but a collection of brief human encounters that colour the journey more vividly than destinations themselves. It never feels ordinary.

SubQuestion No : 20

Q.20 Summarise the passage.

Section : Test of English Language and Comprehension1

Q.1 Choose the correct one-word substitute for the highlighted phrase.

The scientist used a (an) device that measures the humidity in the air during the experiment to ensure accurate results and monitor changes in moisture levels.

- Ans**
- 1. hygrometer
 - 2. altimeter
 - 3. barometer
 - 4. thermometer

Q.2 Select the most appropriate one-word substitute for the description provided below.

A person who cannot stop stealing things even if they can afford them

- Ans**
- 1. Thief
 - 2. Robber
 - 3. Burglar
 - 4. Kleptomaniac

Q.3 Identify the misspelt word among the four highlighted words in the sentence.

Straddling the 'consumer versus farmer' delimma is tricky, but some longer-term context can guide policymaking towards a nuanced rather than a knee-jerk approach.

- Ans
- 1. policymaking
 - 2. delimma
 - 3. straddling
 - 4. nuanced

Q.4 Out of the given options, select the one which best expresses the meaning of the given word.

Dainty

- Ans
- 1. Ugly
 - 2. Crude
 - 3. Elegant
 - 4. Tasteless

Q.5 The given sentence is divided into four segments. Select the option that has the segment with the grammatical error.

The film sparked (A) / a controvercal debate (B) / due to its portrayal (C) / of sensitive political issues. (D)

- Ans
- 1. A
 - 2. C
 - 3. B
 - 4. D

Q.6 Choose the suitable meaning of the given proverb.

A journey of a thousand miles begins with a single step

- Ans
- 1. Too many people involved can ruin good work.
 - 2. Careful people always think well before taking action.
 - 3. Great achievements always begin with small steps.
 - 4. True mastery always grows through patient practice.

Q.7 Select the most suitable meaning of the given word.

Copious

- Ans
- 1. Not as much as necessary
 - 2. Small in quantity or amount
 - 3. Not talking too much about yourself
 - 4. In large amounts

Q.8 Select the option that best explains the given proverb.
Make hay while the sun shines.

- Ans
- 1. Use opportunities while they are available.
 - 2. Work only when conditions are perfect.
 - 3. Success comes after long waiting.
 - 4. Good results depend on favorable weather.

Q.9 From the options given below, choose the correct word that is a synonym of the given word.

Vigilant

- Ans
- 1. Oblivious
 - 2. Remiss
 - 3. Negligent
 - 4. Heedful

Q.10 Select the most appropriate antonym for the word "Prudence."

- Ans
- 1. Caution
 - 2. Wisdom
 - 3. Recklessness
 - 4. Carefulness

Q.11 In the given question, a statement divided is into different segments. Rearrange all the segments to form a coherent statement.

about twenty to thirty minutes (A)/ can go a long way in (B)/ midday power naps for (C)/ helping boost productivity (D)

- Ans
- 1. CABD
 - 2. DBAC
 - 3. ADBC
 - 4. BACD

Q.12 Select the most appropriate one-word substitution for the description provided below.

A person who spends money in a careless and wasteful manner

- Ans
- 1. Debtor
 - 2. Economist
 - 3. Miser
 - 4. Spendthrift

Q.13 Out of the four alternatives, choose the option which correctly expresses the meaning of the given proverb.

"A leopard doesn't change its spots"

- Ans
- 1. People will always stay true to their inherent nature.
 - 2. Leopards are always spotted.
 - 3. People can change their fundamental nature.
 - 4. Some people can change their appearance but not their nature.

Q.14 Select the word which means the same as the underlined group of words in the given sentence.

The doctor diagnosed the patient with a condition in which a person is unable to fall or stay asleep at night despite feeling tired.

- Ans
- 1. anxiety
 - 2. fatigue
 - 3. lethargy
 - 4. insomnia

Q.15 Choose the most appropriate meaning of the idiom/proverb given below.

Rome wasn't built in a day.

- Ans**
- 1. It took many days to build Rome
 - 2. It takes many days to travel to Rome
 - 3. Building Rome was a difficult task
 - 4. Time is needed to do great or important things

Comprehension:

Read the passage carefully and answer the given questions.

Greed and poverty are often closely connected in society. While poverty reflects a lack of basic resources, greed represents an excessive desire for wealth and power. In many cases, the concentration of wealth in the hands of a few leads to unequal distribution, leaving a large section of society struggling to meet their basic needs. Greed can drive individuals and institutions to exploit resources without considering the consequences for others. This not only widens the gap between the rich and the poor but also creates social and economic imbalance. On the other hand, poverty limits opportunities, making it difficult for people to improve their living conditions. Efforts to reduce poverty require not only economic development but also ethical practices and fair distribution of resources. Encouraging social responsibility and reducing greed can contribute to a more just and balanced society. Thus, addressing greed is an important step towards reducing poverty and ensuring equality.

SubQuestion No : 16

Q.16 Which of the following is the most appropriate summary of the passage?

Comprehension:

Read the passage carefully and answer the given questions.

Greed and poverty are often closely connected in society. While poverty reflects a lack of basic resources, greed represents an excessive desire for wealth and power. In many cases, the concentration of wealth in the hands of a few leads to unequal distribution, leaving a large section of society struggling to meet their basic needs. Greed can drive individuals and institutions to exploit resources without considering the consequences for others. This not only widens the gap between the rich and the poor but also creates social and economic imbalance. On the other hand, poverty limits opportunities, making it difficult for people to improve their living conditions. Efforts to reduce poverty require not only economic development but also ethical practices and fair distribution of resources. Encouraging social responsibility and reducing greed can contribute to a more just and balanced society. Thus, addressing greed is an important step towards reducing poverty and ensuring equality.

SubQuestion No : 17

Q.17 Which of the following best reflects a real-life situation related to the passage?

Comprehension:

Read the passage carefully and answer the given questions.

Greed and poverty are often closely connected in society. While poverty reflects a lack of basic resources, greed represents an excessive desire for wealth and power. In many cases, the concentration of wealth in the hands of a few leads to unequal distribution, leaving a large section of society struggling to meet their basic needs. Greed can drive individuals and institutions to exploit resources without considering the consequences for others. This not only widens the gap between the rich and the poor but also creates social and economic imbalance. On the other hand, poverty limits opportunities, making it difficult for people to improve their living conditions. Efforts to reduce poverty require not only economic development but also ethical practices and fair distribution of resources. Encouraging social responsibility and reducing greed can contribute to a more just and balanced society. Thus, addressing greed is an important step towards reducing poverty and ensuring equality.

SubQuestion No : 18

Q.18 What is the most appropriate title for the passage?

Comprehension:

Read the passage carefully and answer the given questions.

Greed and poverty are often closely connected in society. While poverty reflects a lack of basic resources, greed represents an excessive desire for wealth and power. In many cases, the concentration of wealth in the hands of a few leads to unequal distribution, leaving a large section of society struggling to meet their basic needs. Greed can drive individuals and institutions to exploit resources without considering the consequences for others. This not only widens the gap between the rich and the poor but also creates social and economic imbalance. On the other hand, poverty limits opportunities, making it difficult for people to improve their living conditions. Efforts to reduce poverty require not only economic development but also ethical practices and fair distribution of resources. Encouraging social responsibility and reducing greed can contribute to a more just and balanced society. Thus, addressing greed is an important step towards reducing poverty and ensuring equality.

SubQuestion No : 19

Q.19 What is the structure of the passage?

Comprehension:

Read the passage carefully and answer the given questions.

Greed and poverty are often closely connected in society. While poverty reflects a lack of basic resources, greed represents an excessive desire for wealth and power. In many cases, the concentration of wealth in the hands of a few leads to unequal distribution, leaving a large section of society struggling to meet their basic needs. Greed can drive individuals and institutions to exploit resources without considering the consequences for others. This not only widens the gap between the rich and the poor but also creates social and economic imbalance. On the other hand, poverty limits opportunities, making it difficult for people to improve their living conditions. Efforts to reduce poverty require not only economic development but also ethical practices and fair distribution of resources. Encouraging social responsibility and reducing greed can contribute to a more just and balanced society. Thus, addressing greed is an important step towards reducing poverty and ensuring equality.

SubQuestion No : 20

Q.20 Which of the following is a fact mentioned in the passage?

Section : Test of Hindi Language and Comprehension

Q.1 'युद्ध करने की प्रबल इच्छा करने वाला'
उपर्युक्त वाक्यांश के लिए एक सार्थक शब्द चुनें-

- Ans
- 1. वज्रपाणि
 - 2. युद्धपोत
 - 3. युयुत्सा
 - 4. युयुत्सु

Q.2 निम्नलिखित वाक्य के रिक्त स्थानों की पूर्ति उचित कारक शब्दों के द्वारा कीजिए।
'सभी चार दिन _____ हैं चाँदनी, ये इमारतें, ये विज़ारतें
मुझे उस फ़कीर _____ शान दे कि ज़माना जिसकी मिसाल दे'

- Ans
- 1. से, को
 - 2. ने, से
 - 3. के लिए, में
 - 4. की, की

Q.3 निम्न वाक्यों में से पूर्ण रूप से शुद्ध वाक्य का चयन कीजिए।

- Ans
- 1. मैंने उनके एक रखा था सामने प्रस्ताव।
 - 2. मैंने उनके समने एक रखा था प्रस्ताव।
 - 3. मैंने उनके सामने एक प्रस्ताव रखा था।
 - 4. मैंने उनके सामने एक प्रस्ताव रखा था।

Q.4 निम्नलिखित वाक्य में शुद्ध वाक्य का चयन करें-

- Ans
- 1. बोलबाला है भारत में भ्रष्टाचार का आज सर्वत्र।
 - 2. आज सर्वत्र बोलबाला है भ्रष्टाचार का भारत में।
 - 3. भारत में का बोलबाला है भ्रष्टाचार आज सर्वत्र।
 - 4. भारत में आज सर्वत्र भ्रष्टाचार का बोलबाला है।

Q.5 निम्नलिखित में से अतिरिक्त वाक्य वाले विकल्प का चयन करें।

- Ans
- 1. आज पूरा दिन आसमान बिल्कुल साफ रहा लेकिन शाम को हल्की बारिश हो गई।
 - 2. हिमालय की ऊंची चोटियों और पवित्र गंगा नदी भारत की प्राकृतिक सुंदरता और गौरव को बढ़ाती हैं।
 - 3. भारत में विविधताओं के बावजूद एकता बनी हुई है।
 - 4. भारत एक अद्भुत देश है जहाँ विभिन्न धर्म और संस्कृतियों के लोग मिलजुल कर प्रेम से रहते हैं।

Q.6 राकेश बाजारहै।

उपर्युक्त वाक्य में रिक्त स्थान की पूर्ति के लिए उचित क्रिया शब्द का चयन करें-

- Ans
- 1. गया
 - 2. पढ़
 - 3. सोच
 - 4. रहना

Q.7 निम्नलिखित शब्दों को सही वाक्य क्रम में व्यवस्थित कीजिए -

1. नहीं
2. इन सब
3. जानते हैं
4. वह
5. बातों को

Ans 1. 42513

2. 31425

3. 25431

4. 41352

Q.8 निम्नलिखित वाक्य को उचित कारक द्वारा पूर्ण करें।
खिड़की __ पर्दा हटा दो, कमरे में गर्मी बहुत है।

Ans 1. की

2. के लिए

3. द्वारा

4. से

Q.9 मेरे मकान में.....दो कोठरियाँ हैं।
उपर्युक्त वाक्य में रिक्त स्थान की पूर्ति के लिए उचित क्रिया-विशेषण शब्द का चयन करें-

Ans 1. केवल

2. प्रतिदिन

3. जब

4. आज

Q.10 'आम के आम गुठलियों के दाम' लोकोक्ति का सही अर्थ क्या है ?

Ans 1. घाटा होना

2. अथाह लाभ

3. दोहरा लाभ

4. तिहरा लाभ

Q.11 निम्न में से 'अपने लगे तो देह में, औरों को लगे तो भीत में' लोकोक्ति का सही अर्थ कौन-सा है ?

Ans 1. दूसरे के कष्ट की परवाह न करना

2. जो अपनी चीज की रक्षा नहीं कर पाता, वह कष्ट उठाता है

3. झूठा आडम्बर रचने वाला

4. मनचाही चीज न पाने का अफसोस

Q.12 निम्नलिखित विकल्पों में से अतिरिक्त वाक्य का चयन करें-

Ans 1. कृषि के सूत्रधार किसान की अवस्था को जानना अत्यंत आवश्यक है।

2. भारतीय किसान का जीवन अत्यंत सरल और सीधा है।

3. देश की उन्नति किसान की उन्नति से जुड़ी हुई है।

4. देवनागरी लिपि में हिंदी भारत की राजकीय भाषा होगी।

Q.13 नीचे दिये गये वाक्यों में से शुद्ध वाक्य का चयन कीजिये.65

Ans 1. कुत्ता दौड़ रहे हैं

2. बिल्लियाँ छुपी हुई है

3. बच्चों पढ़ रहे हैं

4. ये लोग कहाँ जा रहे हैं ?

Q.14 'सरला गोरी है', इस वाक्य में रिक्त स्थान की पूर्ति के लिए उचित विशेषण शब्द चुनें -

- Ans
- 1. बड़ी
 - 2. बिलकुल
 - 3. अच्छी
 - 4. बहुत

Q.15 'जो कहा न जा सके' के लिए प्रयुक्त होने वाला शब्द कौन-सा है?

- Ans
- 1. नूतन
 - 2. अकथनीय
 - 3. अकथित
 - 4. मौलिक

Comprehension:

नीचे दिए गद्यांश को पढ़कर पूछे गए प्रश्नों के उत्तर दीजिए।

ज्ञान और विवेक को प्रायः एक ही मान लिया जाता है, किंतु इन दोनों में तात्त्विक अंतर है। ज्ञान सूचनाओं और तथ्यों का संग्रह मात्र है, जो हमें पुस्तकों, अनुभवों या शिक्षा से प्राप्त होता है। यह मस्तिष्क का विषय है और इसका विस्तार असीमित हो सकता है। इसके विपरीत, विवेक उस ज्ञान को सही समय, सही स्थान और सही उद्देश्य के लिए प्रयुक्त करने की कला है। यह ज्ञान का वह सार है जो अंतःकरण में बसता है। ज्ञान हमें शक्ति दे सकता है, किंतु विवेक उस शक्ति के सदुपयोग का मार्ग प्रशस्त करता है। विवेक के अभाव में ज्ञान एक दिशाहीन नौका के समान है, जो अपार क्षमता रखते हुए भी किसी चट्टान से टकराकर नष्ट हो सकती है। अतः, सच्ची शिक्षा का ध्येय केवल ज्ञान का संचय नहीं, अपितु विवेक का जागरण होना चाहिए। यह जागरण ही मनुष्य को वास्तविक अर्थों में शिक्षित बनाता है और उसे नैतिक संकटों से उबारता है।

SubQuestion No : 16

Q.16 गद्यांश के अंतिम वाक्य में प्रयुक्त शब्द 'ध्येय' का अर्थ क्या है?

Comprehension:

नीचे दिए गद्यांश को पढ़कर पूछे गए प्रश्नों के उत्तर दीजिए।

ज्ञान और विवेक को प्रायः एक ही मान लिया जाता है, किंतु इन दोनों में तात्त्विक अंतर है। ज्ञान सूचनाओं और तथ्यों का संग्रह मात्र है, जो हमें पुस्तकों, अनुभवों या शिक्षा से प्राप्त होता है। यह मस्तिष्क का विषय है और इसका विस्तार असीमित हो सकता है। इसके विपरीत, विवेक उस ज्ञान को सही समय, सही स्थान और सही उद्देश्य के लिए प्रयुक्त करने की कला है। यह ज्ञान का वह सार है जो अंतःकरण में बसता है। ज्ञान हमें शक्ति दे सकता है, किंतु विवेक उस शक्ति के सदुपयोग का मार्ग प्रशस्त करता है। विवेक के अभाव में ज्ञान एक दिशाहीन नौका के समान है, जो अपार क्षमता रखते हुए भी किसी चट्टान से टकराकर नष्ट हो सकती है। अतः, सच्ची शिक्षा का ध्येय केवल ज्ञान का संचय नहीं, अपितु विवेक का जागरण होना चाहिए। यह जागरण ही मनुष्य को वास्तविक अर्थों में शिक्षित बनाता है और उसे नैतिक संकटों से उबारता है।

SubQuestion No : 17

Q.17 "विवेक उस शक्ति के सदुपयोग का मार्ग प्रशस्त करता है।" - इस वाक्य में 'प्रशस्त' शब्द का पर्यायवाची क्या है?

Comprehension:

नीचे दिए गद्यांश को पढ़कर पूछे गए प्रश्नों के उत्तर दीजिए।

ज्ञान और विवेक को प्रायः एक ही मान लिया जाता है, किंतु इन दोनों में तात्त्विक अंतर है। ज्ञान सूचनाओं और तथ्यों का संग्रह मात्र है, जो हमें पुस्तकों, अनुभवों या शिक्षा से प्राप्त होता है। यह मस्तिष्क का विषय है और इसका विस्तार असीमित हो सकता है। इसके विपरीत, विवेक उस ज्ञान को सही समय, सही स्थान और सही उद्देश्य के लिए प्रयुक्त करने की कला है। यह ज्ञान का वह सार है जो अंतःकरण में बसता है। ज्ञान हमें शक्ति दे सकता है, किंतु विवेक उस शक्ति के सदुपयोग का मार्ग प्रशस्त करता है। विवेक के अभाव में ज्ञान एक दिशाहीन नौका के समान है, जो अपार क्षमता रखते हुए भी किसी चट्टान से टकराकर नष्ट हो सकती है। अतः, सच्ची शिक्षा का ध्येय केवल ज्ञान का संचय नहीं, अपितु विवेक का जागरण होना चाहिए। यह जागरण ही मनुष्य को वास्तविक अर्थों में शिक्षित बनाता है और उसे नैतिक संकटों से उबारता है।

SubQuestion No : 18

Q.18 गद्यांश में प्रयुक्त शब्द 'अभाव' का विलोम शब्द क्या है?

Comprehension:

नीचे दिए गद्यांश को पढ़कर पूछे गए प्रश्नों के उत्तर दीजिए।

ज्ञान और विवेक को प्रायः एक ही मान लिया जाता है, किंतु इन दोनों में तात्त्विक अंतर है। ज्ञान सूचनाओं और तथ्यों का संग्रह मात्र है, जो हमें पुस्तकों, अनुभवों या शिक्षा से प्राप्त होता है। यह मस्तिष्क का विषय है और इसका विस्तार असीमित हो सकता है। इसके विपरीत, विवेक उस ज्ञान को सही समय, सही स्थान और सही उद्देश्य के लिए प्रयुक्त करने की कला है। यह ज्ञान का वह सार है जो अंतःकरण में बसता है। ज्ञान हमें शक्ति दे सकता है, किंतु विवेक उस शक्ति के सदुपयोग का मार्ग प्रशस्त करता है। विवेक के अभाव में ज्ञान एक दिशाहीन नौका के समान है, जो अपार क्षमता रखते हुए भी किसी चट्टान से टकराकर नष्ट हो सकती है। अतः, सच्ची शिक्षा का ध्येय केवल ज्ञान का संचय नहीं, अपितु विवेक का जागरण होना चाहिए। यह जागरण ही मनुष्य को वास्तविक अर्थों में शिक्षित बनाता है और उसे नैतिक संकटों से उबारता है।

SubQuestion No : 19

Q.19 इस गद्यांश के लिए सर्वाधिक उपयुक्त शीर्षक क्या हो सकता है?

Comprehension:

नीचे दिए गद्यांश को पढ़कर पूछे गए प्रश्नों के उत्तर दीजिए।

ज्ञान और विवेक को प्रायः एक ही मान लिया जाता है, किंतु इन दोनों में तात्त्विक अंतर है। ज्ञान सूचनाओं और तथ्यों का संग्रह मात्र है, जो हमें पुस्तकों, अनुभवों या शिक्षा से प्राप्त होता है। यह मस्तिष्क का विषय है और इसका विस्तार असीमित हो सकता है। इसके विपरीत, विवेक उस ज्ञान को सही समय, सही स्थान और सही उद्देश्य के लिए प्रयुक्त करने की कला है। यह ज्ञान का वह सार है जो अंतःकरण में बसता है। ज्ञान हमें शक्ति दे सकता है, किंतु विवेक उस शक्ति के सदुपयोग का मार्ग प्रशस्त करता है। विवेक के अभाव में ज्ञान एक दिशाहीन नौका के समान है, जो अपार क्षमता रखते हुए भी किसी चट्टान से टकराकर नष्ट हो सकती है। अतः, सच्ची शिक्षा का ध्येय केवल ज्ञान का संचय नहीं, अपितु विवेक का जागरण होना चाहिए। यह जागरण ही मनुष्य को वास्तविक अर्थों में शिक्षित बनाता है और उसे नैतिक संकटों से उबारता है।

SubQuestion No : 20

Q.20 गद्यांश के अनुसार, ज्ञान को दिशाहीन नौका के समान कब बताया गया है?

Section : Test of Hindi Language and Comprehension1

Q.1 निम्नलिखित में से तत्सम शब्द कौन-सा है?

- Ans
- 1. बूँद
 - 2. गुहा
 - 3. भालू
 - 4. गुफा

Q.2 'कंठस्थ' शब्द का उचित विलोम शब्द पहचानें।

- Ans
- 1. स्थिर
 - 2. विस्मरण
 - 3. नगण्य
 - 4. वरिष्ठ

Q.3 'गीदड़ भभकी' मुहावरे का अर्थ क्या होता है?

- Ans
- 1. चतुराई करना
 - 2. काम साधना
 - 3. गलत बताना
 - 4. झूठी धमकी देना

Q.4 'ऋजु' का विलोम शब्द है?

- Ans
- 1. वक्र
 - 2. हलाहल
 - 3. गरल
 - 4. सरल

Q.5 दिए गए विकल्पों में से शुद्ध वाक्य का विकल्प चुनें -

- Ans
- 1. बचपन में नेहरुजी बड़े शर्मिले बालक थे।
 - 2. बचपन में नेहरुजी बड़े शर्मिले बालक थे।
 - 3. बचपन में नेहरुजी बड़े शर्मिले बालक थे।
 - 4. बचपन में नेहरुजी बड़े सर्मिले बालक थे।

Q.6 निम्नलिखित वाक्य में त्रुटिपूर्ण शब्द की पहचान कीजिए।

'सहानुभुति की इस व्यापकता से हमें प्रसन्न होना चाहिए या अप्रसन्न?'

- Ans
- 1. सहानुभुति
 - 2. प्रसन्न
 - 3. व्यापकता
 - 4. अप्रसन्न

Q.7 दिए गए विकल्पों में से शुद्ध वाक्य का चयन कीजिए-

- Ans 1. चेतक महाराणा प्रताप का घोड़ा था।
 2. चेतक महाड़ाणा प्रताप का घोड़ा था।
 3. चेतक महराना प्रताप का घोड़ा था।
 4. चेतक महाराना प्रताप का घोड़ा था।

Q.8 निम्नलिखित लोकोक्ति का अर्थ बताइए।
'सूरदास खल काली कामरि चढ़े न दुजौ रंग'

- Ans 1. दुष्ट व्यक्ति अपनी दुष्टता नहीं छोड़ता।
 2. कोई भी कार्य बिना एक प्रक्रिया और समय के पूर्ण नहीं होता।
 3. कुछ न होने पर भी बड़प्पन दिखाना।
 4. पर्याप्त समय लेकर किया गया कार्य अच्छा होता है।

Q.9 निम्न में से 'इंद्र' का पर्यायवाची शब्द कौन-सा है ?

- Ans 1. नारद
 2. विष्णु
 3. ब्रह्मा
 4. मघवा

Q.10 उत्ताल' शब्द के पर्यायवाची का चयन कीजिए-

- Ans 1. उत्पन्न
 2. उतावला
 3. उत्साह
 4. ऊँचा

Q.11 दिए गए विकल्पों में से निम्नलिखित लोकोक्ति का सटीक अर्थ चुनिए।
'सावन हरे न भादों सूखे'

- Ans 1. सब दिन एक सामान नहीं होंते
 2. समान गुण वाले व्यक्ति की संगति करना
 3. सब दिन एक सामान होते हैं
 4. सदा एक जैसा रहना

Q.12 दिए गए विकल्पों में से तद्भव शब्द का चयन कीजिए-

- Ans 1. कलेश
 2. आश्रय
 3. कपोत
 4. काक

Q.13 निम्न में से अनेकार्थी शब्द 'तड़प' का अर्थ कौन-सा है ?

- Ans 1. चमक
 2. प्रयोग
 3. नदी
 4. छौंक

Q.14 निम्नलिखित में से कौन सा शब्द 'काल' का अनेकार्थक नहीं है?

- Ans 1. मौत
 2. यमराज
 3. कपड़ा
 4. समय

Comprehension:

निम्नलिखित गद्यांश को ध्यानपूर्वक पढ़िए और उससे सम्बंधित प्रश्नों के उत्तर दीजिये -

पचास वर्ष से ऊपर था। तब भी वह युवकों से अधिक बलिष्ठ और दृढ़ था। चमड़े पर झुर्रियां नहीं पड़ी थीं वर्षा की झड़ी में, पूस की रातों की छाया में, कड़कती जेठ की धूप में, नंगे शरीर घूमने में वह सुख मानता था। उसकी चढ़ी मूछें, बिच्छू के डंक की तरह, देखने वालों की आँखों में चुभती थीं। उसका साँवला रंग साँप की तरह चिकना और चमकीला था। ईसा की अट्ठारहवीं शताब्दी के अंतिम भाग में वही काशी नहीं रह गई थी, जिसमें उपनिषद् के अजातशत्रु की परिषद् में ब्रह्मविद्या सीखने के लिए विद्वान ब्रह्मचारी आते थे गौतम बुद्ध और शंकराचार्य के धर्म-दर्शन के वाद-विवाद कई शताब्दियों से लगातार मन्दिरों और मठों के ध्वंश और तपस्वियों के वध के कारण, प्रायः बन्द से हो गये थे। यहाँ तक कि पवित्रता और छुआछूत में कट्टर वैष्णव धर्म भी उसे विश्रंखलता में, नवागन्तुक धर्मोन्माद में, अपनी असफलता देखकर काशी में अघोर रूप धारण कर रहा था। उसी समस्त न्याय और बुद्धिवाद को शस्त्र बल के सामने झुकते देखकर, काशी के विच्छिन्न और निराश नागरिक जीवन ने, एक नवीन सम्प्रदाय की सृष्टि की। वीरता जिसका धर्म था। अपनी बात पर मिटना, सिंहवृत्ति से जीविका ग्रहण करना, प्राण भिक्षा माँगने वाले कायरों तथा चोट खाकर गिरे हुए प्रतिद्वन्द्वी पर शस्त्र न उठाना, सताये हुए निर्बलों को सहायता देना और प्रत्येक क्षण प्राणों को हथेली पर लिए घूमना, उनका बाना था। उन्हें लोग काशी में गुण्डा कहते थे।

SubQuestion No : 20

Q.20 'विद्वान' का पर्यायवाची शब्द नहीं है-